

پری اپر پرائمری اسکالرشپ امتحان برائے پنجم جماعت، مئی 2021

نشست نمبر

0 2 0 2

سیٹ

A

پرچہ نمبر : II

میڈیم : اردو

وقت : 01 : 30 سے 03 : 00

کل صفحات : 32

مضمون : زبانِ سوّم (انگریزی) اور ذہنی آزمائش

کل نمبرات : 150

سوالیہ پرچہ حل کرنے سے پہلے دی گئی ہدایات کو غور سے پڑھیے۔

- (1) اس سوالیہ پرچہ کے دو حصے ہیں۔ حصہ ”I“ میں زبانِ سوّم (انگریزی) کے لیے 1 سے 25 اور حصہ ”II“ میں ذہنی آزمائش کے لیے 26 سے 75 ایسے کل 75 سوالات ہیں۔ تمام سوالات حل کرنا لازمی ہیں۔
- (2) ہر سوال کے لیے دو (2) نمبرات ہیں۔
- (3) سوالیہ پرچہ حل کرنے کے لیے کل 90 منٹ کا وقت دیا جائے گا۔
- (4) جواب کا اندراج کرنے کے لیے الگ سے جوابی پرچہ دیا گیا ہے۔ ہر سوال نمبر کے سامنے چار متبادلات کے لیے ترتیب وار چار دائرے دیے گئے ہیں۔ اس میں صحیح متبادل والے دائرہ کو دی گئی مثال کے مطابق رنگ بھرنا ہے۔
- مثال : سوال نمبر 6 کے صحیح جواب کا متبادل نمبر 2 ہو تو اسے اس طرح درج کریں :
- سوال نمبر 6 : ① ● ③ ④
- (5) ذیل کے مطابق درج کیے گئے جوابات قبول نہیں کیے جائیں گے۔
- ① X ② ③ ● ④ X
- (6) ہر سوال کے جواب کے لیے ایک سے زیادہ رنگے ہوئے دائرے، کانٹ چھاٹ کیے ہوئے جوابات قبول نہیں کیے جائیں گے۔
- (7) ایک مرتبہ درج کیا ہوا جواب تبدیل نہیں کیا جاسکے گا۔
- (8) متبادل دائروں کو بھرتے وقت صرف کالی (سیاہ) یا نیلی بال پین کا استعمال کریں۔ پینسل سے بھرے گئے جوابات ناقابل قبول ہوں گے۔
- (9) سوالیہ پرچہ میں ہر صفحہ کے نچلی جانب اور پرچہ کے آخری صفحے پر پرف کام کے لیے جگہ مہیا کی گئی ہے۔ اسی جگہ پر پرف کام کیا جائے۔
- (10) امتحان کے لیے وقت محدود ہے اس لیے اگر آپ کو کسی سوال کا جواب نہیں آتا ہو تو اگلا سوال حل کریں۔ آخر میں وقت بچنے پر بقیہ سوالات حل کرنے کی کوشش کریں۔
- (11) اگر کسی سوال میں خامی / غلطی ہو تو اس کی پوچھ تاچھ ’ سپروائزر ‘ یا ’ سینئر انچارج ‘ سے نہ کریں۔
- (12) سوال میں کوئی خامی / غلطی / اعتراض ہو تو اسکول یا سرپرست اس کی تحریری شکایت B. E. O. یا ایجوکیشن آفیسر کو نہ بھیجتے ہوئے براہ راست متعلقہ اسکول Login (لاگ ان) سے آن لائن بھیجیے۔
- (13) خامی / غلطی / اعتراض سے متعلق تحریری شکایت آن لائن روانہ کرنے کی مدت پریکٹس پریشرنگ کی ویب سائٹ پر جوابات شائع کرنے کے بعد دس دنوں تک رہے گی۔
- (14) طباعت کی غلطی یا دیگر وجوہات کی وجہ سے اگر سوال میں کوئی غلطی سرزد ہوگی تو ماہرین کی کمیٹی کی آراء کے مطابق مناسب کارروائی کی جائے گی۔
- (15) اردو زبان کے ساتھ انگریزی زبان میں سوالیہ پرچہ دیا گیا ہے۔ اردو زبان کے مشکوک سوالات کے لیے انگریزی زبان میں دیا ہوا سوال دیکھیے۔

**Section - I**

**Instructions for Q. 01 to Q. 03**

**Read the passage carefully and choose the correct options:**

A red traffic light is a warning that means STOP. It is not safe to cross the road until the green signal lights up. Start walking when green signal is on. In short, a red light is a warning to pay attention.

**01.** If Red : Stop then Green : ?

- |          |          |
|----------|----------|
| (1) Pay  | (2) Safe |
| (3) Walk | (4) Warn |

**02.** Find out the rhyming word from the passage for night.

- |            |           |
|------------|-----------|
| (1) eight  | (2) right |
| (3) slight | (4) light |

**03.** Select the correct adjective from the given passage.

- |                         |                           |
|-------------------------|---------------------------|
| (A) Red                 | (B) Green                 |
| (1) 'A' and 'B' correct | (2) 'B' correct           |
| (3) 'A' correct         | (4) 'A' and 'B' incorrect |

**04.** Select the set which has different sound

- (1) Camera, Castle, Cabbage, Cat
- (2) Hat, Handle, Hammer, Hand
- (3) Kitten, Kettle, Knife, Kingdom
- (4) Mat, Map, Man, Mango

**SPACE FOR ROUGH WORK**

05. Look at the greeting card. Read the message and choose the correct option.

**Dear Teacher,**  
We all love you and  
respect you very much.  
**Thank you**

- (1) Happy Independence Day                      (2) Happy Teacher's Day  
(3) Happy Mother's Day                         (4) Happy Diwali

06. Choose the mismatch pair from the given options.

- (1) deer - deer                                      (2) student - students  
(3) mouse - mice                                 (4) ox - oxes

07. Select the correct option for the given word

Lift :

- (1) the wall                                         (2) the farm  
(3) the river                                        (4) the box

08. Choose the correct pair from the given options.


Bear	Owl	Pig	Frog
roar	hoot	growl	squawk
(1)	(2)	(3)	(4)

09. Choose the correct ordinal number which comes after Eleven.

- (1) Tewflth                                         (2) Twvlfth  
(3) Twelfth                                        (4) Tweflth

**SPACE FOR ROUGH WORK**

10. Look at the picture and select the correct conversation which matches with the picture:



- (1) A : Please give us two full glasses of sugarcane juice.  
B : But Mamma, I want some ice in my juice.
- (2) A : Give me some tomatoes  
B : Where's your bag?
- (3) A : Do you like roasted two corn-cobs?  
B : Oh, I love them
- (4) A : Have you tried these cakes?  
B : This is a new cake shop

11. Choose the correct opposite words for 'a' and 'b'.

a	deep	×	?
b	ugly	×	?

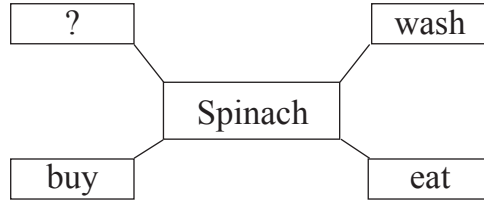
- (1) Top, Cute (2) Bottom, Sweet  
(3) Shallow, Beautiful (4) Fountain, Cruel

12. Choose the correct option of the following statement which indicates the correct time 'Rita wakes up early in the morning'

- (1) 7 p.m. (2) 7 a.m.  
(3) 3 p.m. (4) 12 noon

**SPACE FOR ROUGH WORK**

13. Complete the box by choosing the correct action word for the given word.



- (1) lump (2) scribble  
(3) wobble (4) cook

14. The sign  indicates

- (1) stop (2) turn right  
(3) go straight (4) turn left

15. Rearrange the numbers and make meaningful words.

v a f t i u r o e  
1 2 3 4 5 6 7 8 9

- (1) 3 2 1 8 6 7 5 4 9 (2) 3 1 2 8 7 6 5 4 9  
(3) 3 2 7 1 8 6 5 9 4 (4) 3 2 1 7 6 8 5 4 9

16. Solve the riddle

'I use a spanner and  
a screw - driver.

Who am I?'

- (1) mechanic (2) potter  
(3) milkman (4) farmer

17. Choose the correct option for the given word : Shape

- (1) high (2) low  
(3) fast (4) circle

**SPACE FOR ROUGH WORK**

18. Choose the correct 'Motto' from the given options

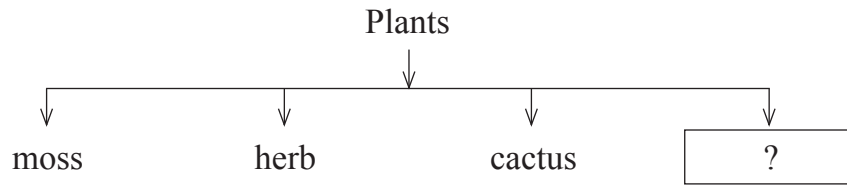
- (1) We'll all be quiet together                      (2) Give me a story book  
(3) Protect all plants                                      (4) Form groups of ten

19. Fill in the blank with the correct option.

He has bought ..... electric iron.


- (1) the    (2) an  
(3) no article    (4) a

20. Look at the diagram and choose the correct option.



- (1) stem    (2) thorn  
(3) vine    (4) grain

21. Look at the picture and select the correct expression






- (1) scared    (2) proud  
(3) shy    (4) sleepy

SPACE FOR ROUGH WORK

22. Look at the advertisement and choose the correct option

## Sunny Biscuit Shop

Buy two cream Biscuit Packets!  
Get one packet of chocolate Biscuit free!

Price Starting from 10 Rs. for one packet.

Khari Biscuits, Cream Biscuits  
Chocolate Cream Biscuits  
Almond Biscuits

You can buy ..... packets of cream biscuits and get ..... packet of chocolate biscuits.

- (1) 1, 1 (2) 1, 2  
(3) 2, 1 (4) 2, 0

23. How many capital letters should be in the given sentence.

i am sopan bhosale

- (1) 2 (2) 3  
(3) 4 (4) 1

24. Choose the correct option of punctuation mark for underlined sentence.

A : What's your name

B : Tell me your name, please

C : Chandrashekhar, You can call me Chandu

- (1) ? (2) .  
(3) ; (4) !

25. Choose the sentence which has correct punctuation marks.

- (1) Oh no! what shall I do now? (2) Oh, no? what shall I do now?  
(3) Oh, no! What shall I do now. (4) Oh, no! what shall I do now?

SPACE FOR ROUGH WORK

## SECTION-II

## INTELLIGENCE TEST

26. In the word 'EXTRAORDINARY', which is the letter at the 4th place to the right of the letter 'O'?

(1) X

(2) A

(3) T

(4) N

Q. 27 to Q. 31 Direction : Find the odd term.

27. (1) Moon

(2) Mars

(3) Jupiter

(4) Saturn

28. (1) 9

(2) 65

(3) 26

(4) 126

29. (1) 386

(2) 264

(3) 275

(4) 495

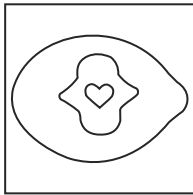
30. (1) Millenium

(2) Second

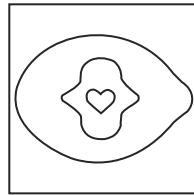
(3) Century

(4) Light year

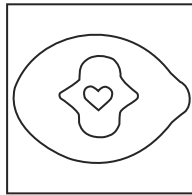
31.



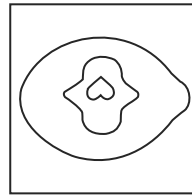
(1)



(2)



(3)



(4)

32. In the letter series "V, M, E, T, R, L, M, E, S, O, L, M, E, T, S, Q, V, M, E, O, L", how many times M is preceded by E and is immediately followed by T?

(1) 3

(2) 2

(3) 4

(4) 1

SPACE FOR ROUGH WORK



ABCDE	FGHIJ	KLMNO	PQRST	UVWXY
-------	-------	-------	-------	-------

**SECTION - II**

**ذہانت ٹیسٹ**

26. 'کشیدہ قامت' اس لفظ میں 'م' اس حرف کے دائیں جانب کا دوسرا حرف کونسا ہوگا؟

- (1) ت  
(2) ہ  
(3) ا  
(4) ق

سوال نمبر 27 تا 31 کے لیے ہدایت :- گروہ سے تعلق نہ رکھنے والا رکن پہچانیے۔

27. (1) چاند  
(2) مرتخ

(3) مشتری  
(4) زحل

28. (1) 9  
(2) 65

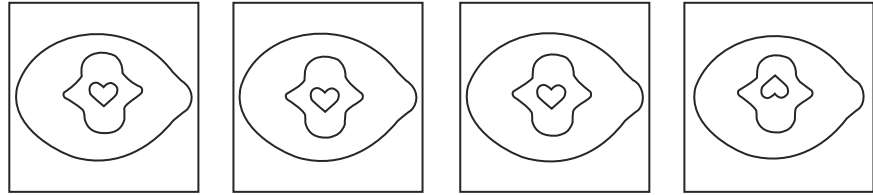
(3) 26  
(4) 126

29. (1) 386  
(2) 264

(3) 275  
(4) 495

30. (1) اکائی  
(2) سیٹھ

(3) ہزار  
(4) راھ



(1)

(2)

(3)

(4)

31

32. گلدان، افتادہ، بیزار، شیرخوار، آلام، بستر مرگ، غم زدہ، لعنت

مندرجہ بالا الفاظ میں مرکب الفاظ کتنے ہیں۔

(1) 6  
(2) 5

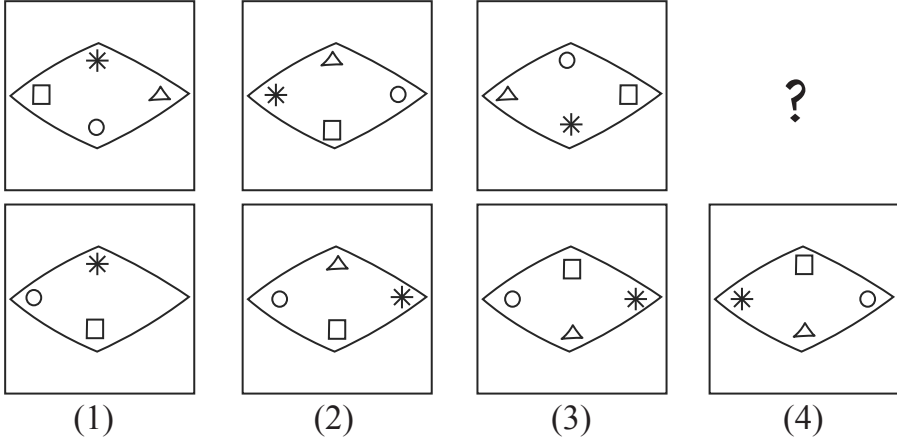
(3) 7  
(4) 4

رف کام کے لیے خالی جگہ

ABCDE	FGHIJ	KLMNO	PQRST	UVWXY
-------	-------	-------	-------	-------

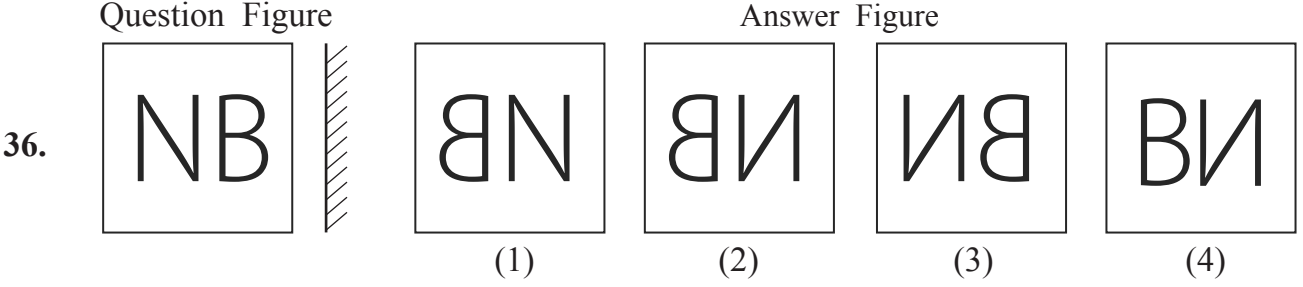
33. Find the correct alternative to replace the question mark in the series given below.  
 4, 7, 13, 25, 49, ?
- (1) 59 (2) 95  
 (3) 97 (4) 69

34. In the given figures there is a particular sequence. Identify the sequence and find the figure which will replace the question mark.



35. **6, 8, 7, 3, 5, 9, 4, 2, 1**
- In the number series by how much is the sum of prime numbers is more or less than the sum of composite numbers?
- (1) More by 10 (2) Less by 10  
 (3) Less by 9 (4) More by 9

**Q. 36 and Q. 37 : Direction :** Find out the mirror image of each of the following question figure from the alternatives given.



**SPACE FOR ROUGH WORK**

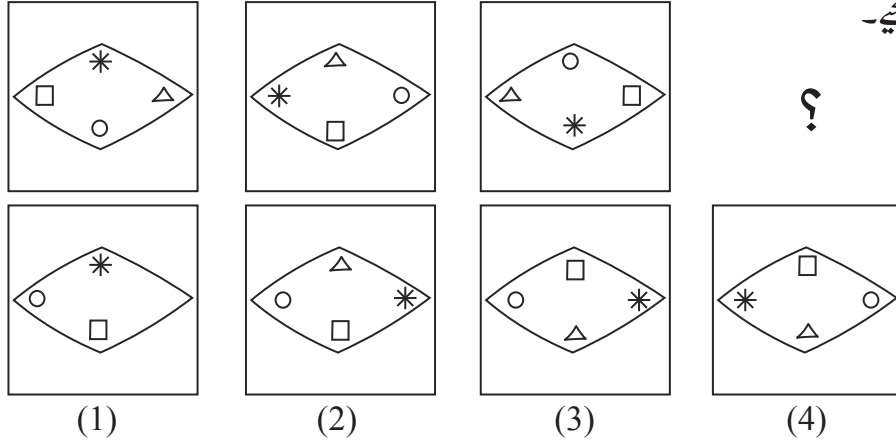
ABCDE	FGHIJ	KLMNO	PQRST	UVWXY
-------	-------	-------	-------	-------

33. ذیل کے عددی سلسلہ میں سوالیہ علامت کی جگہ آنے والا متبادل پہچانیے۔

4, 7, 13, 25, 49, ?

- (1) 59  
(2) 95  
(3) 97  
(4) 69

34. ذیل کے اشکال میں ایک خاص قسم کی ترتیب ہے۔ وہ ترتیب پہچان کر سوالیہ علامت کی جگہ کونسی شکل آئے گی؟ وہ متبادلات سے تلاش کیجیے۔



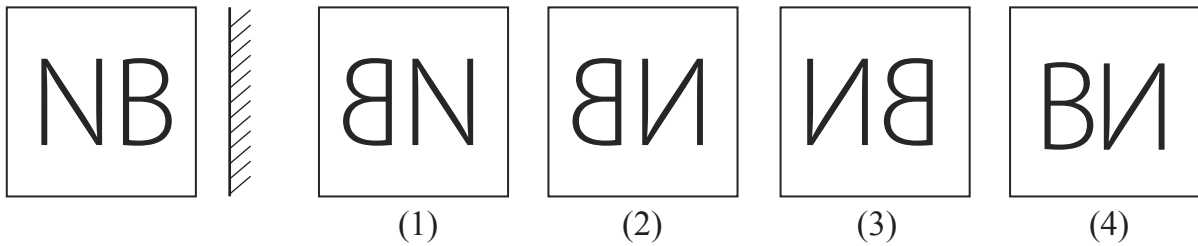
- (1) (2) (3) (4)

35. 6, 8, 7, 3, 5, 9, 4, 2, 1

مندرجہ بالا عددی سلسلہ میں مفرد اعداد کی کل حاصل جمع مرکب اعداد کی کل حاصل جمع سے کتنی کم یا زیادہ ہیں؟

- (1) 10 سے زیادہ  
(2) 10 سے کم  
(3) 9 سے کم  
(4) 9 سے زیادہ

سوال نمبر 36 اور 37 کے لیے ہدایت:- ذیل کی سوالیہ شکل کا آئینہ میں عکس کیسا دکھائی دے گا؟ وہ صحیح متبادل جوابی اشکال میں سے منتخب کیجیے۔  
سوالیہ شکل



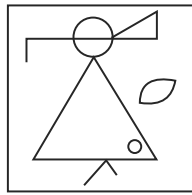

36

رف کام کے لیے خالی جگہ


Question Figure

Answer Figure


37.




(1)



(2)



(3)



(4)

38. In the given alphabetical series, which group of letters will occur at the place of question mark?

? MN ? NMM ? MNM ? N ? N

(1) MMNMM

(2) MNMNM

(3) MMNMN

(4) MNMMM

Q. 39 and Q. 40 : Direction : In each question a problem figure is held vertical above water surface. Identify its water reflection and select the correct alternative.

Question Figure

Answer Figure

39.




(1)



(2)



(3)

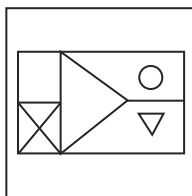
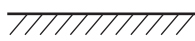
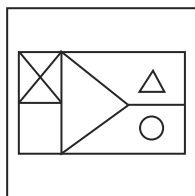


(4)

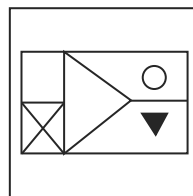
Question Figure

Answer Figure

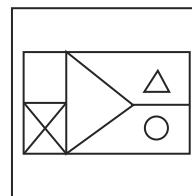
40.



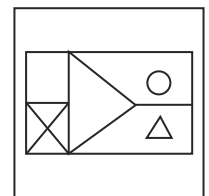
(1)



(2)



(3)




(4)

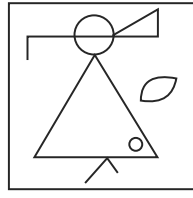
SPACE FOR ROUGH WORK

ABCDE	FGHIJ	KLMNO	PQRST	UVWXY
-------	-------	-------	-------	-------


سوالیہ شکل



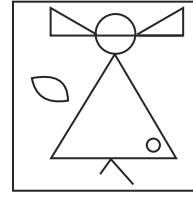
جوابی اشکال



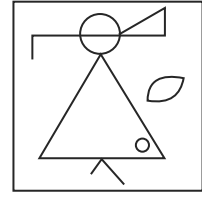
(1)



(2)



(3)



(4)

.37

.38 ذیل میں دیئے گئے انگریزی حروفنی سلسلہ میں سوالیہ علامت کی جگہ کونسے حروف کا گروہ آئے گا؟

? MN ? NMM ? MNM ? N ? N

MNMMN (2)

MMNMM (1)

MNMMM (4)

MMNMN (3)

سوال نمبر 39 اور 40 کے لیے ہدایت :- ذیل میں دیئے گئے سوالیہ شکل کو پانی میں کھڑا رکھا جائے تو اس کا پانی میں عکس کیسا دکھائی دے گا؟ وہ جوابی شکل متبادلات سے منتخب کیجیے۔

سوالیہ شکل



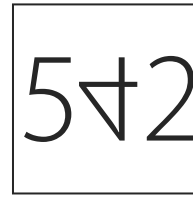
جوابی اشکال




(1)



(2)



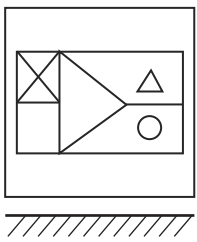
(3)



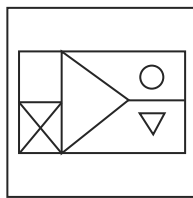
(4)

.39

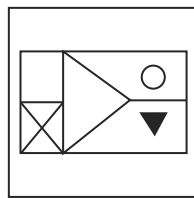
سوالیہ شکل



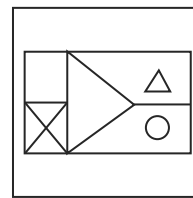
جوابی اشکال



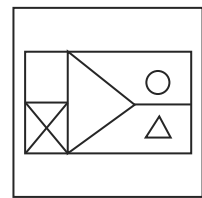
(1)



(2)



(3)



(4)

.40

رف کام کے لیے خالی جگہ

ABCDE	FGHIJ	KLMNO	PQRST	UVWXY
-------	-------	-------	-------	-------

41. Find the correct alternative to replace the question mark in the given number series.

13, 15, 19, 27, ?

- (1) 35 (2) 27  
(3) 32 (4) 30

42. **ABCDE FGHIJ KLMNO PQRST UVWXY**

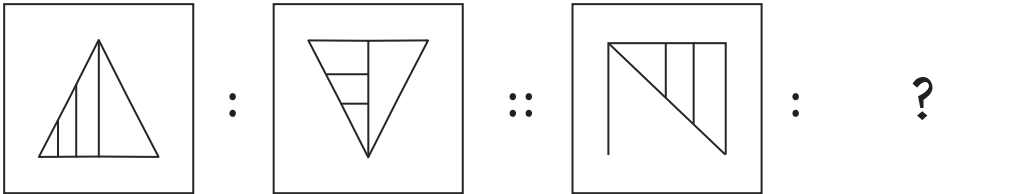
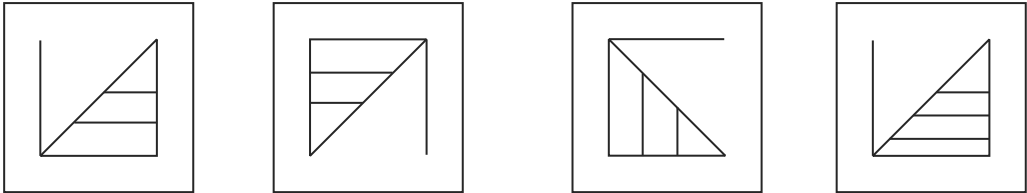
In the given alphabetical series, write the left adjacent letter, of the letter which is at seventh place from the right end?

- (1) E (2) T  
(3) R (4) Y

**Q. 43 to Q. 47 : Direction :** In the following questions, first pair has same relationship between first two terms. The same relation holds true for the second pair. Identify the relation and select the correct alternative.

43. Bhakri : Jowar :: Butter : ?

- (1) Sugarcane (2) Raw Mango  
(3) Milk (4) Bajra

44.  : 

(1) (2) (3) (4)

SPACE FOR ROUGH WORK

ABCDE	FGHIJ	KLMNO	PQRST	UVWXY
-------	-------	-------	-------	-------

41. ذیل کے عددی سلسلہ میں سوالیہ علامت کی جگہ کونسا متبادل آئے گا؟

13, 15, 19, 27, ?

- 27 (2) 35 (1)  
30 (4) 32 (3)

42. ABCDE FGHIJ KLMNO PQRST UVWXY

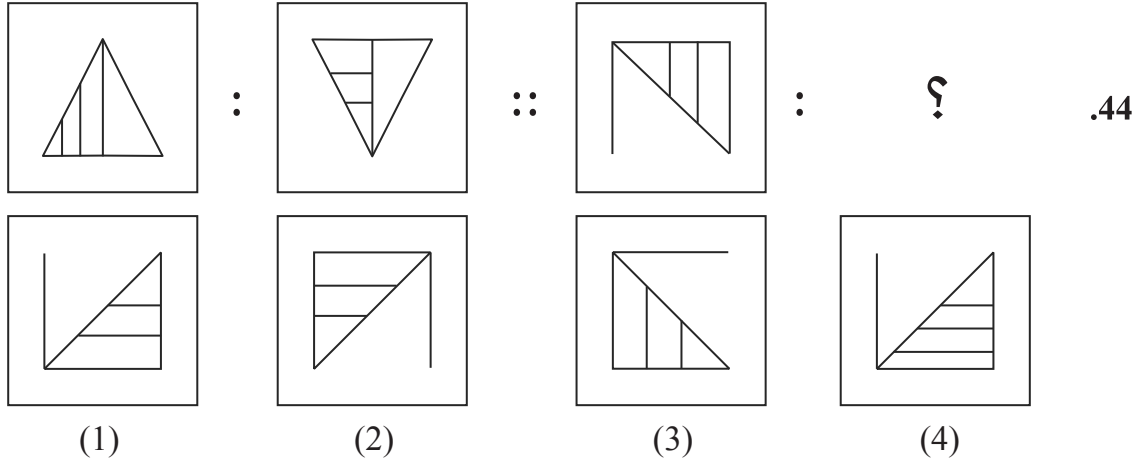
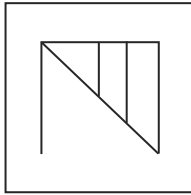
مندرجہ بالا حروفی سلسلہ میں دائیں جانب سے ساتویں حرف کے فوراً بعد آنے والا بائیں طرف کا حرف کونسا ہوگا؟

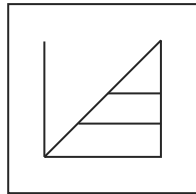
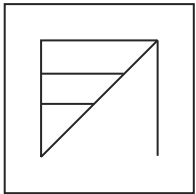
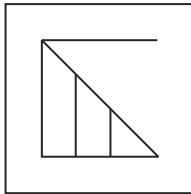
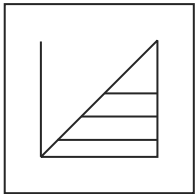
- T (2) E (1)  
Y (4) R (3)

سوال نمبر 43 تا 47 کے لیے ہدایت:- ذیل کے سوالوں میں پہلے اور دوسرے ارکان میں جو تعلق ہے، ویسا ہی تعلق تیسرے اور چوتھے ارکان میں ہیں۔ وہ تعلق پہچان کر سوالیہ علامت کی جگہ آنے والا متبادل منتخب کیجیے۔

43. ؟ : گھی :: جوار : روٹی

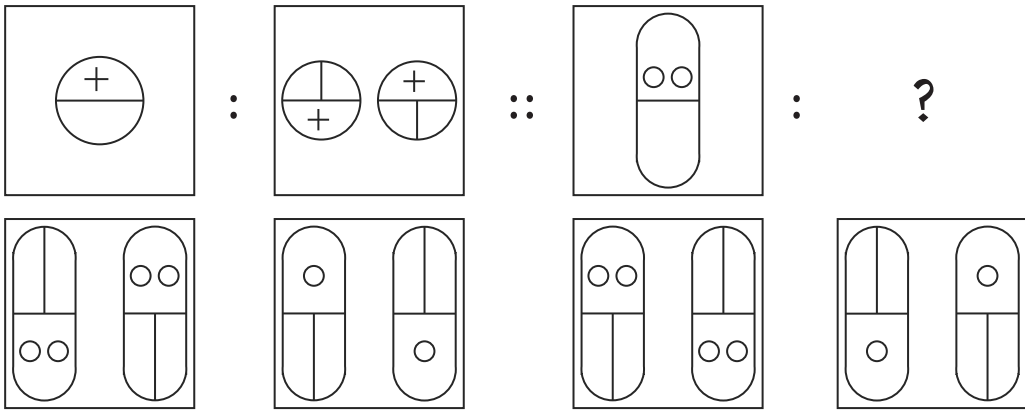
- (1) گنا  
(2) کیری  
(3) دودھ  
(4) باجرہ

44.  : ::  : ?

(1)  (2)  (3)  (4) 

رف کام کے لیے خالی جگہ

ABCDE	FGHIJ	KLMNO	PQRST	UVWXY
-------	-------	-------	-------	-------

45. 

(1) (2) (3) (4)

46.  $4 : 18 :: 6 :: ?$

- (1) 19  
(3) 18

- (2) 22  
(4) 27

47.  $26 : 38 :: 48 : ?$

- (1) 52  
(3) 48

- (2) 80  
(4) 64

48. Find the odd term in the given series.

3, 4, 6, 10, 22, 34

- (1) 6  
(3) 22

- (2) 10  
(4) 34

49. Swati is eight years older than Kranti. The sum of the present ages of both the girls is 44. Find the age of Swati eight years before?

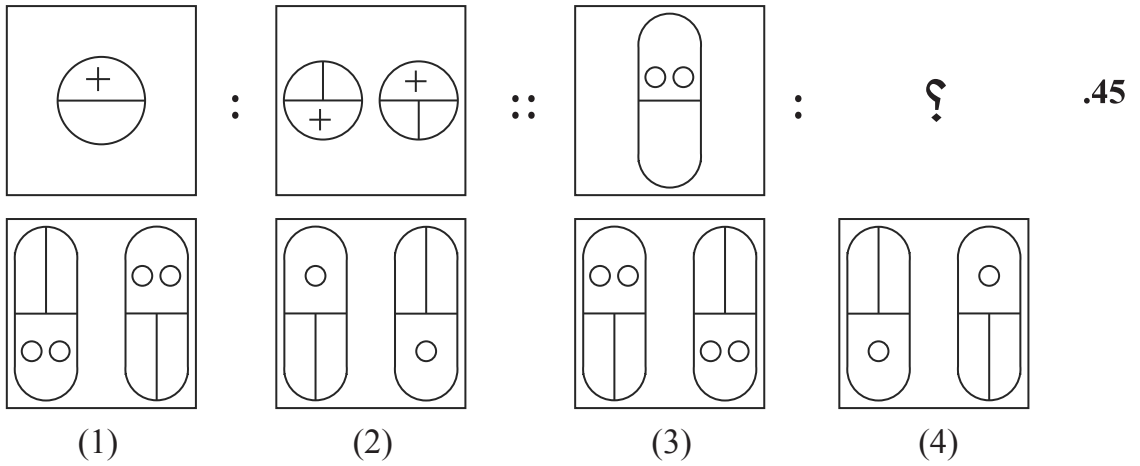
- (1) 52  
(3) 34

- (2) 36  
(4) 18

SPACE FOR ROUGH WORK



ABCDE	FGHIJ	KLMNO	PQRST	UVWXY
-------	-------	-------	-------	-------



.46

4 : 18 :: 6 : ?

22 (2) 19 (1)

27 (4) 18 (3)

.47

26 : 38 :: 48 : ?

80 (2) 52 (1)

64 (4) 48 (3)

.48

ذیل کے عددی سلسلہ میں غلط رکن پہچانیے۔

3, 4, 6, 10, 22, 34

10 (2) 6 (1)

34 (4) 22 (3)

.49

صبیحہ، کلثوم سے 8 سال بڑی ہے۔ ان دونوں کی موجودہ عمروں کا مجموعہ 44 سال ہیں۔ تو صبیحہ کی 8 سال پہلے کی عمر کتنے سال ہوگی؟

36 (2) 52 (1)

18 (4) 34 (3)

رف کام کے لیے خالی جگہ


ABCDE	FGHIJ	KLMNO	PQRST	UVWXY
-------	-------	-------	-------	-------

50. If Rat is called Cat, Cat is called Donkey, Donkey is called Dog, Dog is called Deer, Deer is called Human, Human is called Rabbit, Rabbit is called Calf then who is the most intelligent animal among them?





- (1) Human
- (2) Calf
- (3) Rabbit
- (4) Dog

**Q. 51 and Q. 52 : Direction :** Find out the figure which exactly matches with the question figure from the four alternative figures given below.

51. Question Figure

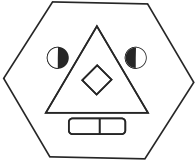


Answer Figure

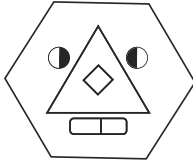
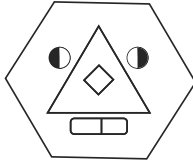
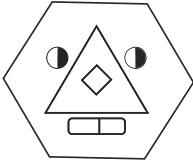
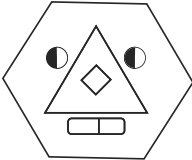


- (1)
- (2)
- (3)
- (4)

52. Question Figure



Answer Figure



- (1)
- (2)
- (3)
- (4)

53. In a shop, there are few sacks of Wheat, Jowar, Bajra, Tur, Sugar. The number of sacks of Sugar's is twice the total of all other sacks. All other sacks of grains are equal i.e. each of 12. Find out the total number of sacks in the shop?

- (1) 60
- (2) 144
- (3) 96
- (4) 180

SPACE FOR ROUGH WORK


ABCDE	FGHIJ	KLMNO	PQRST	UVWXY
-------	-------	-------	-------	-------

50. چوہے کو پیلی کہا جائے، پیلی کو گدھا کہا جائے، گدھے کو کُتّا کہا جائے، کُتے کو ہرن کہا جائے، ہرن کو انسان کہا جائے، انسان کو خرگوش کہا جائے، خرگوش کو پچھڑا کہا جائے تو سب سے عقلمند جاندار کون ہوگا؟

- (1) انسان  
(2) پچھڑا  
(3) خرگوش  
(4) کُتّا


سوال نمبر 51 اور 52 کے لیے ہدایت:- ذیل کی سوالیہ شکل سے ہوہو ملنے والی شکل متبادلات میں سے تلاش کیجیے۔

سوالیہ شکل




جوابی اشکال


51




(1)



(2)

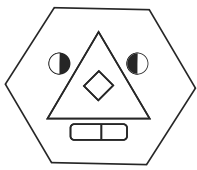


(3)



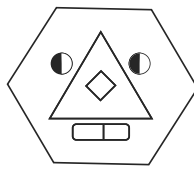
(4)

سوالیہ شکل

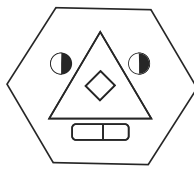


جوابی اشکال

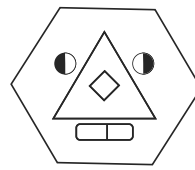
52



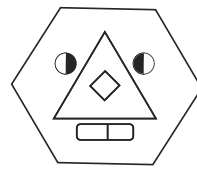
(1)



(2)



(3)



(4)

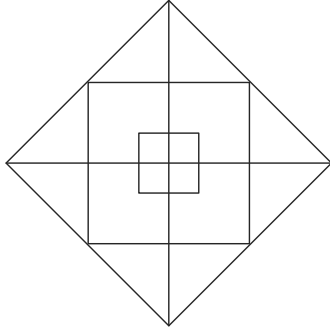
53. ایک دوکان میں گیہوں، جوار، باجرہ، تور، شکر کے کچھ بورے ہیں۔ اس میں شکر کے بورے دیگر اناج کے کل بوریوں کی تعداد کے دگنا سے زیادہ ہیں۔ اسی طرح شکر کے علاوہ دیگر تمام بوریاں یکساں یعنی ہر ایک 12 ہیں۔ تو دوکان میں اناج کی بوریوں کی کل تعداد کتنی ہیں؟

- (1) 60  
(2) 144  
(3) 96  
(4) 180

رف کام کے لیے خالی جگہ

ABCDE	FGHIJ	KLMNO	PQRST	UVWXY
-------	-------	-------	-------	-------

54. Find out the total numbers of squares present in the given figure.



- (1) 8
- (2) 9
- (3) 11
- (4) 12

**Q. 55 to Q. 59 : Direction :** In each of the following questions three words are given with some common relation. So their group is formed. Select a word from the alternatives given which has the same common feature of the given group.

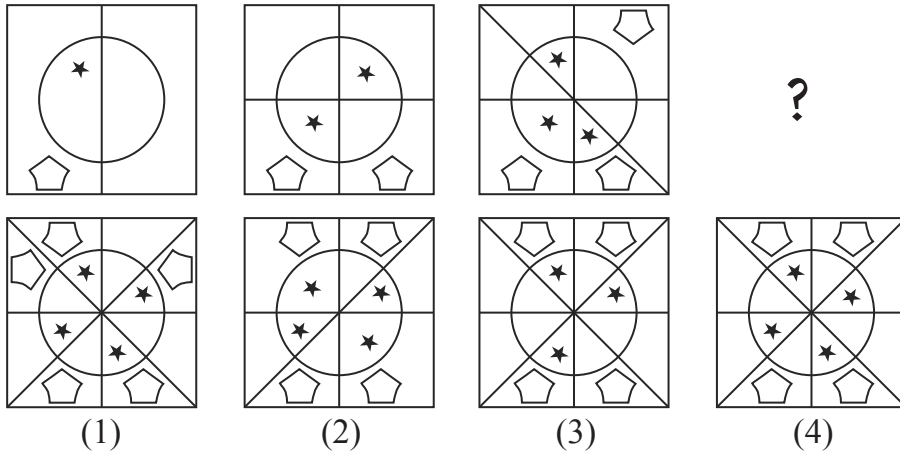
55. Sugar, Salt, Washing soda, \_\_\_\_\_

- (1) Alum powder
- (2) Turmeric powder
- (3) Oil
- (4) Sand

56. Onion, Garlic, Potato, \_\_\_\_\_

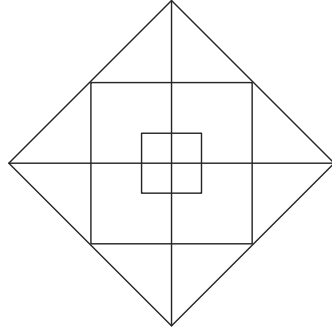
- (1) Sweet potato
- (2) Radish
- (3) Beet root
- (4) Ginger

57.



SPACE FOR ROUGH WORK

ABCDE	FGHIJ	KLMNO	PQRST	UVWXY
-------	-------	-------	-------	-------



54. ذیل کی شکل میں مربعوں کی کل تعداد کتنی ہے؟

- (1) 8  
(2) 9  
(3) 11  
(4) 12

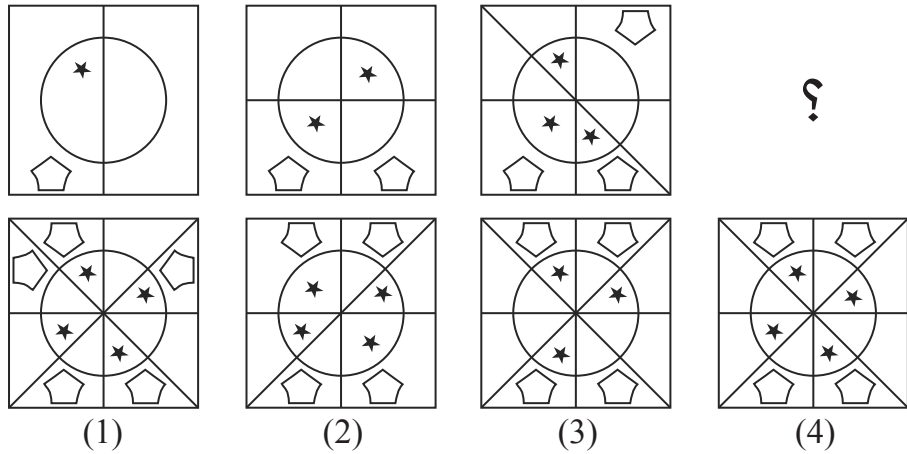
سوال نمبر 55 تا 59 کے لیے ہدایت:- سوالوں کے شروعات میں تین ارکان دیئے گئے ہیں۔ ان کی کچھ خصوصیات ہیں، جس کی وجہ سے ان کا ایک گروہ تیار ہوتا ہے۔ اس گروہ میں شامل ہونے والا رکن دیئے گئے متبادلات میں سے منتخب کیجیے۔

55. شکر، نمک، دھونے کا سوڈا، -----

- (1) پھٹکری کا برادہ  
(2) بلدی  
(3) تیل  
(4) ریت

56. پیاز، لہسن، آلو، -----

- (1) شکر قند  
(2) مولی  
(3) شنبجم  
(4) ادراک



57.

رف کام کے لیے خالی جگہ

ABCDE	FGHIJ	KLMNO	PQRST	UVWXY
-------	-------	-------	-------	-------

58.

			?
(1)	(2)	(3)	(4)

59. 3412, 4520, 2510, \_\_\_\_\_
- |          |          |
|----------|----------|
| (1) 1234 | (2) 2020 |
| (3) 5402 | (4) 4416 |

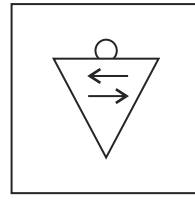
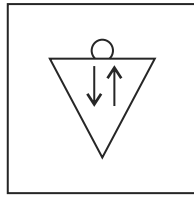
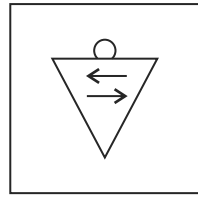
60. Find out the number of triangles in the given figure.

	(1) 14
	(2) 11
	(3) 10
	(4) 13

61. John and Mois are standing in a row. John is at 17<sup>th</sup> place from the beginning and 8<sup>th</sup> from back. On the other hand Mois is 6<sup>th</sup> from the beginning then what will be his position from back?
- |        |        |
|--------|--------|
| (1) 24 | (2) 19 |
| (3) 18 | (4) 17 |

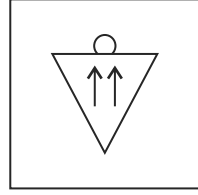
SPACE FOR ROUGH WORK

ABCDE	FGHIJ	KLMNO	PQRST	UVWXY
-------	-------	-------	-------	-------

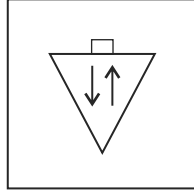


?

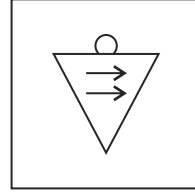
.58



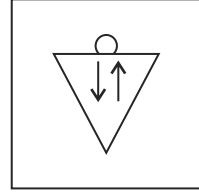
(1)



(2)



(3)



(4)


3412, 4520, 2510, ----- .59

2020 (2)

1234 (1)

4416 (4)

5402 (3)



.60 ذیل کی شکل میں مثلثوں کی کل تعداد کتنی ہیں؟

14 (1)

11 (2)

10 (3)

13 (4)

.61 جعفر اور مظہر ایک قطار میں کھڑے ہیں۔ جعفر کا آگے سے 17 واں اور پیچھے سے 8 واں نمبر ہے جبکہ مظہر کا اسی قطار میں

آگے سے چھٹا نمبر ہے، تو مظہر کا آخر سے کتنا نمبر ہوگا؟

19 (2)

24 (1)

17 (4)

18 (3)

رف کام کے لیے خالی جگہ

ABCDE	FGHIJ	KLMNO	PQRST	UVWXY
-------	-------	-------	-------	-------

62. Rashid is standing facing North East. He turned to his left 3 times in right angles. Which of the following directions will be there to his right?

- (1) South West (2) North West  
(3) North (4) North East

**Q. 63 and Q. 64 : Direction :** In the code language few numbers are denoted using symbols. Study them and find the correct alternative.

Numbers	0	1	2	3	4	5	6	7	8	9
Symbols	+	★	○	□	●	▽	×		@	△

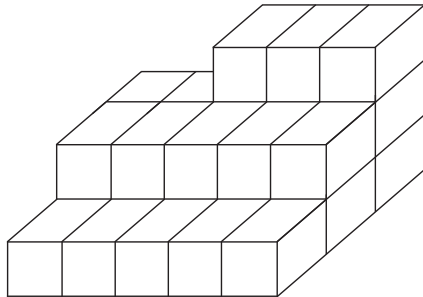
63. △ Subtract □ Multiply + Add ×

- (1) 12 (2) 15  
(3) 6 (4) 9

64. ▽ Add || Subtract △ Divide □

- (1) 9 (2) 8  
(3) 2 (4) 6

65. In the given figure, how many cubical boxes are there?



- (1) 13  
(2) 28  
(3) 18  
(4) 23

**SPACE FOR ROUGH WORK**



ABCDE	FGHIJ	KLMNO	PQRST	UVWXY
-------	-------	-------	-------	-------

62. رشید شمال مشرق کے جانب رخ کر کے کھڑا ہے۔ زاویہ قائمہ بناتے ہوئے بائیں جانب تین مرتبہ مڑنے پر اس کے دائیں ہاتھ کی جانب کونسی سمت ہوگی؟

- (1) جنوب مغرب  
(2) شمال مغرب  
(3) شمال  
(4) شمال مشرق

سوال نمبر 63 اور 64 کے لیے ہدایت:- ایک اشاراتی زبان میں ہندسوں کے لیے کچھ علامتیں دی گئی ہیں۔ اس کو ذہن میں رکھتے ہوئے مناسب جواب منتخب کیجیے۔

ہندسے	0	1	2	3	4	5	6	7	8	9
علامتیں	+	★	○	□	●	▽	×		@	△

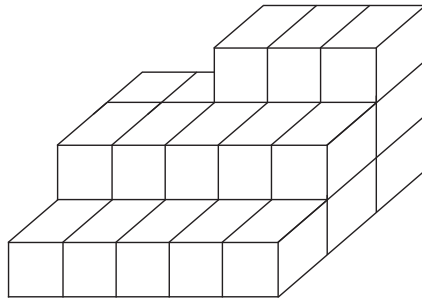
63.  $\Delta$  تفریق  $\square$  ضرب  $+$  جمع  $\times$

- (1) 12  
(2) 15  
(3) 6  
(4) 9

64.  $\square$  تقسیم  $\Delta$  تفریق  $||$  جمع  $\nabla$

- (1) 9  
(2) 8  
(3) 2  
(4) 6

65. ذیل کی شکل میں کل کتنے مکعبی گندے ہیں؟



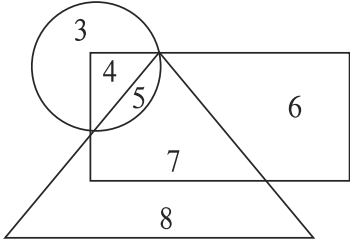
- (1) 13  
(2) 28  
(3) 18  
(4) 23

رف کام کے لیے خالی جگہ

ABCDE	FGHIJ	KLMNO	PQRST	UVWXY
-------	-------	-------	-------	-------

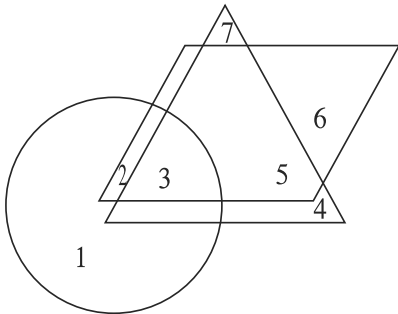
66. In the year 2017. Republic day was on Wednesday then in the same year Dr. Babasaheb Ambedkar Jayanti was on which day?
- (1) Saturday (2) Sunday  
(3) Thursday (4) Friday

67. Observe the venn diagram carefully and choose the correct answer from the alternatives for the questions given below.



What will be the difference between the sum of numbers that are only in rectangle and triangle to that of the numbers only in circle and rectangle?

- (1) 23 (2) 5  
(3) 6 (4) 2
68. The given figure shows the number of musicians in triangle, singers in rectangle and actors in circle. Observe the figure and answer the questions.



Find the number of people who are singers as well as musicians and actors?

- (1) 3 (2) 4  
(3) 5 (4) 2

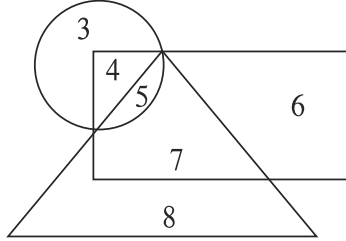
**SPACE FOR ROUGH WORK**

ABCDE	FGHIJ	KLMNO	PQRST	UVWXY
-------	-------	-------	-------	-------

66. 2017 میں یوم جمہوریہ بڈھ کے دن آیا تھا تو اسی سال ڈاکٹر بابا صاحب امبیڈکر جینتی کونسے دن آیا ہوگا؟

- (1) سنیچر  
(2) اتوار  
(3) جمعرات  
(4) جمعہ

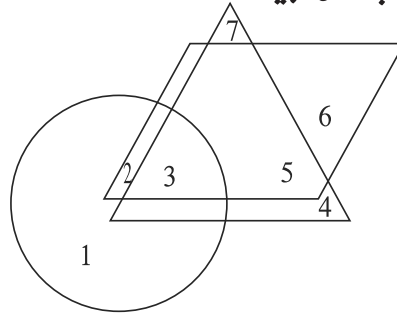
67. ذیل کا وین خاکہ بغور دیکھ کر ذیل کے سوالوں کے جواب متبادلات میں سے تلاش کیجیے۔



سوال : صرف مستطیل اور صرف مثلث میں آنے والے اعداد اور صرف دائرہ اور مستطیل میں آنے والے اعداد کے جمع کا فرق کتنا ہوگا؟

- (1) 23  
(2) 5  
(3) 6  
(4) 2

68. ذیل کے وین خاکے میں مثلث میں 'موسیقی کار'، ذواربعیۃ الاضلاع میں 'گلوکار'، دائرہ میں 'اداکار' کی تعداد ظاہر کی گئی ہے۔ اس کا مشاہدہ کر کے ذیل کے سوال کا جواب تلاش کیجیے۔



سوال : موسیقی کار، گلوکار اور اداکار ان تینوں میں مہارت رکھنے والوں کی کل تعداد کتنی ہیں؟

- (1) 3  
(2) 4  
(3) 5  
(4) 2

رف کام کے لیے خالی جگہ

ABCDE	FGHIJ	KLMNO	PQRST	UVWXY
-------	-------	-------	-------	-------

69. 1<sup>st</sup> February 2016 was Monday. What was the day on 1<sup>st</sup> February 2010?

- (1) Monday (2) Tuesday  
(3) Thursday (4) Friday

70. Select the number to replace the question mark.

4	14	49
9	18	36
16	?	25

- (1) 18 (2) 15  
(3) 30 (4) 20

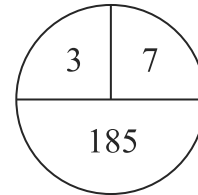
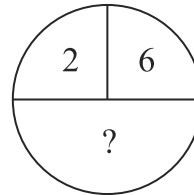
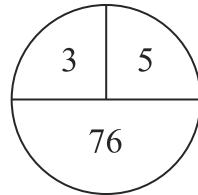
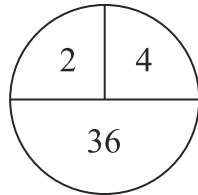
71. In a code language CAP = 341, PAN = 417, RAN = 197 is written like this. In the same language how will be the word CAR written?

- (1) 917 (2) 391  
(3) 471 (4) 734

72. In a code language 246 is written as 82448. How will 579 be written in the same code language?

- (1) 305690 (2) 356399  
(3) 355699 (4) 356345

73. Select the correct alternative to replace question mark.



- (1) 64 (2) 152  
(3) 224 (4) 112

**SPACE FOR ROUGH WORK**

ABCDE	FGHIJ	KLMNO	PQRST	UVWXY
-------	-------	-------	-------	-------

69. 1 فروری 2016 کو پیر کا دن تھا، تو 1 فروری 2010 کو کون سا دن ہوگا؟

- (1) پیر  
(2) منگل  
(3) جمعرات  
(4) جمعہ

70. سوالیہ علامت کی جگہ آنے والا عدد پہچانیے۔

4	14	49
9	18	36
16	?	25

- (1) 18  
(2) 15  
(3) 30  
(4) 20

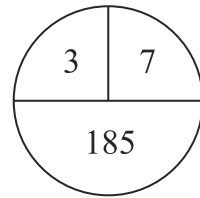
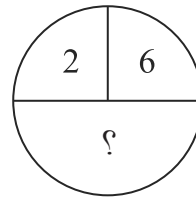
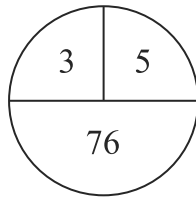
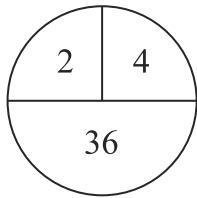
71. ایک اشاراتی زبان میں مدن = 417، سدن = 197، ومن = 341 لکھا جائے تو اسی زبان میں 'وسن' یہ لفظ کس طرح لکھا جائے گا؟

- (1) 917  
(2) 391  
(3) 471  
(4) 734

72. ایک اشاراتی زبان میں 246 یہ عدد 82448 لکھا جائے تو اسی زبان میں 579 یہ عدد کس طرح لکھا جائے گا؟

- (1) 305690  
(2) 356399  
(3) 355699  
(4) 356345

73. ذیل کی شکل میں سوالیہ علامت کی جگہ آنے والا عدد متبادلات میں سے تلاش کیجیے۔



- (1) 64  
(2) 152  
(3) 224  
(4) 112

رف کام کے لیے خالی جگہ

74. Grampanchayat has appealed the local people to contribute in the 'Jalyukta Shivaar' scheme. In this situation which action will be appropriate for Atharva?
- (1) Atharva will plan for an outing with family.
  - (2) Atharva will understand the importance of the scheme and will happily contribute.
  - (3) Atharva will tell people about the drawbacks of the scheme.
  - (4) Atharva will give excuse for an important work and will stay at home.
75. While going to school you see a magic show going on. Your friend Subhash insists you to see that. What will you do?
- (1) Leaving Subhash there, you will go to school.
  - (2) Take along Subhash to school.
  - (3) Tell Subhash the importance of studies and ask him to control the temptation for magic show.
  - (4) Complain to his parents that instead of going to school he keeps watching magic show.

**SPACE FOR ROUGH WORK**

ABCDE	FGHIJ	KLMNO	PQRST	UVWXY
-------	-------	-------	-------	-------

74. ”جل یگت شوار“ اس مہم کے تحت گرام پنچایت نے عوام کو خدمتِ خلق کی ترغیب دی۔ ایسے وقت میں جاوید کا کونسا عمل مناسب ہوگا؟

- (1) جاوید نے اپنے گھر والوں کے ساتھ باہر سیر و تفریح کے لیے جانے کا منصوبہ بنایا۔
- (2) جاوید محنت کی عظمت کو سمجھتے ہوئے خوشی سے مہم میں حصہ لے گا۔
- (3) ”جل یگت شوار“ اس مہم کے مضر اثرات سے لوگوں کو آگاہ کرے گا۔
- (4) ’ ضروری کام ہے‘ ایسا کہہ کر گھر ہی میں رہنا پسند کرے گا۔

75. مدرسہ جاتے وقت راستے میں جادو کا کھیل شروع ہے اور تمہارا دوست امجد تمہیں وہ دیکھنے کے لیے اسرار کرتا ہے۔ اس وقت تم کیا کرو گے؟

- (1) امجد کو وہیں چھوڑ کر اکیلے ہی مدرسہ چلے جاؤ گے۔
- (2) امجد کو کھینچ کر مدرسہ سے لے جاؤ گے۔
- (3) امجد کو تعلیم کی اہمیت بتا کر جادو کے کھیل سے رغبت کم کرنے کی صلاح دو گے۔
- (4) امجد کے گھر جا کر ”وہ مدرسہ نہ آ کر کھیل دیکھ رہا ہے“ ایسی شکایت اسکے والدین سے کرو گے۔

رف کام کے لیے خالی جگہ

رف کام کے لیے خالی جگہ