

نشست نمبر

--	--	--	--	--	--	--	--

0202

Set

A

Medium : Urdu

امتحان پرچہ نمبر II
صفحات : 32

زبان سوم اور ذہنی آزمائش
Third Language and
Intelligence Test

وقت : 1.30 To 3.00
کل مارکس : 150

- سوالیہ پرچہ کو حل کرنے سے پہلے برائے مہربانی ذیل کی ہدایات بغور پڑھیے۔
- (1) اس سوالیہ پرچے کے دو حصے ہیں۔ حصہ "I" میں زبان سوم (انگریزی) کے لئے 25 سوالات ہیں۔ حصہ II میں ذہنی آزمائش کے لئے 50 سوالات ہیں۔ اس طرح سوالیہ پرچے میں کل 75 سوالات ہیں۔ ہر سوال کو حل کرنا ضروری ہے۔
 - (2) ہر سوال کے 2 نمبرات ہیں۔
 - (3) سوالیہ پرچہ حل کرنے کے لئے کل 90 منٹ کا وقت دیا گیا ہے۔
 - (4) جواب کا اندراج کرنے کے لئے الگ سے جوابی پرچہ دیا گیا ہے۔ ہر سوال نمبر کے سامنے چار متبادلات کے لئے ترتیب وار چار دائرے دئے گئے ہیں۔ اُس میں صحیح متبادل والے دائرے کو دی گئی مثال کے مطابق رنگ بھرنا ہے۔
مثال : سوال نمبر 6 کے صحیح جواب کا متبادل نمبر 2 ہو تو اُسے اس طرح درج کریں:
- سوال نمبر 6 : (1) (2) (3) (4)
- (5) درج ذیل کے مطابق درج کئے گئے جوابات قبول نہیں کئے جائیں گے۔ اس طرح کے جواب کو 'صفر' نمبر دیا جائے گا۔
(1) (2) (3) (4)
 - (6) متبادل دائروں کو پھرتے وقت صرف کالی یا نیلی بال پین کا استعمال کریں۔ پینسل سے بھر گئے جوابات ناقابل قبول ہوں گے۔
 - (7) ایک بار درج کیا ہوا جواب تبدیل نہیں کیا جاسکے گا۔
 - (8) ہر سوال کے لئے ایک سے زیادہ بھرے ہوئے دائرے، کانٹ چھانٹ کئے ہوئے جوابات ناقابل قبول ہوں گے۔
 - (9) سوالیہ پرچے کے ہر صفحے پر فم کام کرنے کے لئے نیچے خالی جگہ رکھی گئی ہے اور آخری صفحہ پر اپنا فم کام وہیں پر کریں۔
 - (10) امتحان کے لئے وقت محدود ہونے کی وجہ سے اگر کسی سوال کا جواب نہیں آ رہا ہو تو آگے آنے والے سوالات کو حل کرنا شروع کر دیں۔ بعد میں اگر وقت بچتا ہے تو بقیہ سوالات کو حل کریں۔
 - (11) اگر کسی سوال میں کوئی غلطی رکمی کا احساس ہو تو اُس کے بارے میں سپر وائزر یا سینئر انچارج سے پوچھنا چھوڑنا چھوڑیں۔
 - (12) سوال میں کوئی غلطی رکمی راعترض کے بارے میں تحریری شکایت کسی سرپرست یا اسکول کی جانب سے ہو تو اُسے B.E.O. یا ایجوکیشن آفیسر کے پاس نہ بھیجتے ہوئے براہ راست پریکٹس پریشڈ کے نام راست رڈ اک ر ای۔ میل کے ذریعے روانہ کریں۔
 - (13) غلطی رکمی راعترض کے بارے میں عریضہ دینے کی مدت پریکٹس پریشڈ کی ویب سائٹ پر عارضی جوابی پرچے سناختے ہونے کے اندرون 10 یوم ہوگی۔ دی گئی مدت کے آخری دن تک وصول ہونے والی شکایت پر ہی غور کیا جائے گا۔
 - (14) طباعت کی غلطی یا دیگر وجوہات کی وجہ سے اگر سوال میں کوئی غلطی سرزد ہوگی تو ماہرین کی کمیٹی کی آراء کے مطابق اس سوال کو منسوخ کیا جائے گا۔

حصہ ۱

زبان سوم

Instructions for Q. No. 1 to Q. No. 3 :

Read the passage carefully and answer the following questions :

Vidya-Vardhini High School got the sports championship this year. The students were the toppers in 'Kho-Kho', 'Cricket', 'Athletics' and 'Football'. They also lifted the 'Swimming' trophy. City High Schools were runner-up. They lost the championship by two marks.

1. How many sports are mentioned in the above passage ?

- | | |
|----------|----------|
| (1) two | (2) four |
| (3) five | (4) six |

2. Find the opposite word for 'lost'.

- | | |
|------------|----------|
| (1) lifted | (2) won |
| (3) gain | (4) foot |

3. Friend : Friendship : : ? : Championship.

- | | |
|--------------|--------------|
| (1) City | (2) Cricket |
| (3) Vardhini | (4) Champion |

4. Read the following sentences. Choose one *correct* option which has proper position of comma.

- (1) If we go deep down, in the ocean there is no sunlight.
- (2) If we go deep down in the ocean, there is no sunlight.
- (3) If we go, deep down in the ocean, there is no sunlight.
- (4) If we go deep down in the ocean, there is no, sunlight.

5. Choose the *correct* comparison :

as slow as

- (1) butterfly
- (2) ice
- (3) bee
- (4) snail

6. Choose the *correct* punctuation mark for the given sentence :

It's 5 oclock.

- (1) Question mark
- (2) Apostrophe
- (3) Comma
- (4) Exclamatory mark

7. Choose the *correct* alternative.

The hut was the sea.

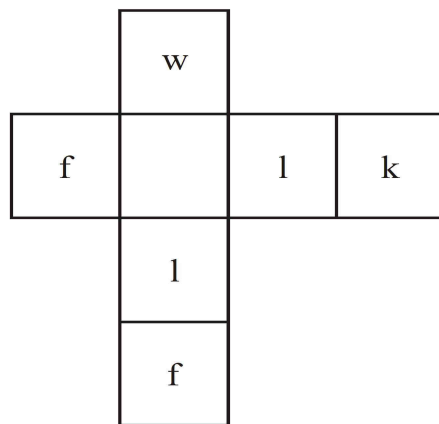
- (1) near
- (2) on
- (3) in
- (4) above

8. Read the following motto regarding tree plantation programme. Select the correct alternative to complete it.

Each one, one.

- (1) sleep
- (2) plant
- (3) jump
- (4) drink

9. Solve the following puzzle :




(1) e

(2) s

(3) a

(4) o

10. Find the hidden letter in the given picture :



(1) H

(2) k

(3) t

(4) Q

11. Choose the *correct* living place for 'pig' :

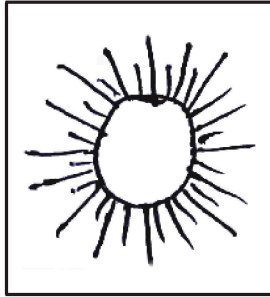
(1) kennel

(2) stable

(3) den

(4) sty

12. Select the *correct* rhyming word for the given object :



- (1) man (2) den
(3) fun (4) mud

13. Choose the mismatched pair of the following :

- (1) man-men (2) deer-deer
(3) leaf-leafs (4) ox-oxen

14. Select the *correct* option for seeking permission :

- (1) I am going for a picnic.
(2) Can I go for a picnic ?
(3) I am not going for a picnic
(4) I went for a picnic.

15. Find the odd word :

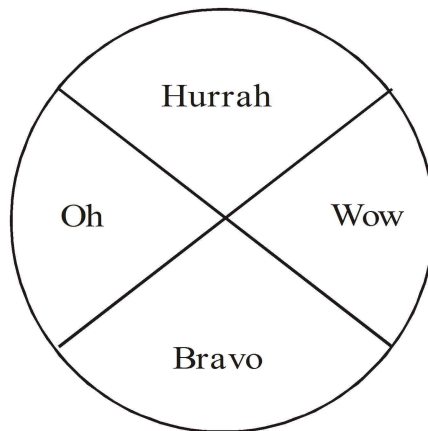
- (1) cabbage (2) ostrich
(3) radish (4) brinjal

16. Fill in the blank using the *correct* article :

Neha saw elephant in a zoo.

- (1) a (2) no article
(3) the (4) an

17. Read the words in the following diagram. Choose one *correct* punctuation mark.



- (1) full stop (2) comma
(3) exclamation mark (4) question mark

18. Choose the correct alternative.

1,000,000 = ?

- (1) ten thousand (2) one lakh
(3) a million (4) ten million

19. Select the *correct* option :

15 August is our day.

- (1) Republic (2) Independence
(3) Mothers' (4) Teachers'

20. Choose the *correct* greeting from the options.

Ajay was ill. Hrishikesh visited him in hospital. He said, “..... !” before leaving hospital.

- (1) Welcome
(2) Go to another doctor
(3) Congratulations
(4) Get well soon

21. By arranging the given words in alphabetical order, which word will be in the middle position ?

forehead, eyelid, eyebrow, eyelash, elbow

- (1) eyebrow (2) eyelid
(3) eyelash (4) elbow

22. Select the correct option :

The girl has a, in the given picture.



- | | |
|--------------------|--------------|
| (1) stomachache | (2) headache |
| (3) cough and cold | (4) fever |

23. The sun rises in the

- | | |
|----------------|----------------|
| (1) North-east | (2) South-east |
| (3) East | (4) West |

24. Solve the riddle :

I use a plough. I grow crops. Who am I ?

- | | |
|------------|-------------|
| (1) former | (2) founder |
| (3) framer | (4) farmer |

25. Choose the correct contracted form for the underlined words :

I will not come with you.

- | | |
|-----------|-------------|
| (1) wont' | (2) won't |
| (3) wo'nt | (4) willn't |

حصہ II

ذہنی آزمائش

26. 'و، د، ر، ن، ی، ب، ا، ن' حروف کی مدد سے ایک بامعنی لفظ بنائیے۔ تیار شدہ لفظ کے پہلے اور

آخری حرف سے تیار ہونے والے لفظ کا درج ذیل میں کون سا لفظ ہم معنی ہوگا؟

(1) رات (2) یوم

(3) صبح (4) خدا

27. دل پسند، خیر خواہ، گرد آلود، سہ منزلہ عمارت قدر دان، ان مرکب الفاظ میں کتنے جوڑ الفاظ ہیں:

(1) 11 (2) 12

(3) 10 (4) 13

کچے کام کے لئے جگہ

حرفی سلسلہ : ABCDE FGHIJ KLMNO PQRST UVWXY

900, 146, 222, 522, 105, 103, 154, 351, 133

.28

درج بالا عددی سلسلے میں 3 سے تقسیم ہونے والے اعداد کو چڑھتی ترتیب میں لکھا جائے تو درمیان میں کون سا عدد آئے گا؟

105 (2) 222 (1)

522 (4) 351 (3)

ABCDE FGHIJ KLMNO PQRST UVWXY

.29

درج بالا حروفی سلسلے میں سے دائیں جانب سے 25 واں، 12 واں، 22 واں، 18 واں حرف لے کر ایک بامعنی لفظ تیار کرے اور اُس کا پہلا حرف بتائیے:

N (2) A (1)

H (4) D (3)

سوال نمبر 30 تا 34 : گروہ میں شامل نہ ہونے والا رکن پہچانیے۔

مولی (2) آلو (1) .30

شکر قند (4) گاجر (3)

کچے کام کے لئے جگہ

حرفی سلسلہ : ABCDE FGHIJ KLMNO PQRST UVWXY

2(36)3 (2) 3(91)4 (1) .31

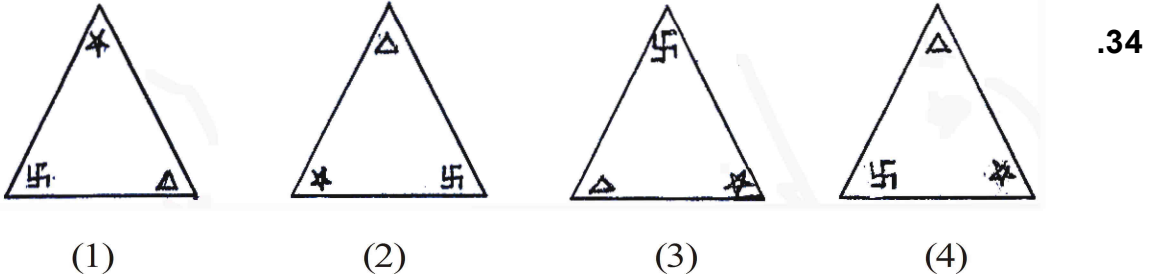
4(189)5 (4) 5(133)2 (3)

$\frac{10}{32}$ (2) $\frac{4}{10}$ (1) .32

$\frac{6}{16}$ (4) $\frac{8}{22}$ (3)

خورشید (2) مہتاب (1) .33

سورج (4) آفتاب (3)



کچے کام کے لئے جگہ

حرفی سلسلہ : ABCDE FGHIJ KLMNO PQRST UVWXYZ

35. درج ذیل عددی سلسلے میں سوالیہ نشان کی جگہ آنے والے متبادل کا انتخاب کیجئے۔

14, 19, 29, 40, 44, 52, 59, ?

67 (2) 75 (1)

73 (4) 70 (3)

36. ذیل کے عددی سلسلے میں غلط رکن پہچانیے :

14, 18, 26, 38, 62, 76, 102

38 (2) 26 (1)

102 (4) 76 (3)

37. درج ذیل کے حرفی سلسلے میں سوالیہ نشان کی جگہ الفاظ کا کون سا گروہ آئے گا؟

ACCADDDAEEEE ? ? ? FFFFFFFA

AFE (2) FAE (1)

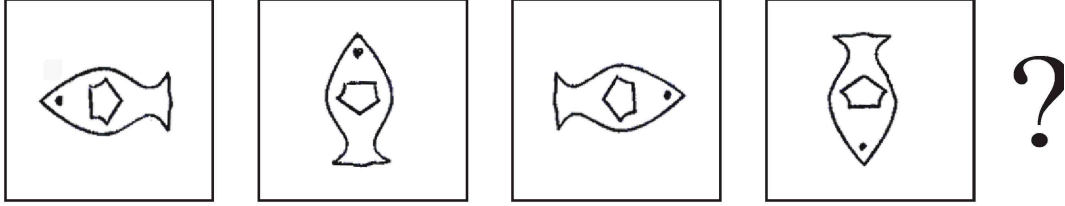
EEA (4) EAF (3)

کچے کام کے لئے جگہ

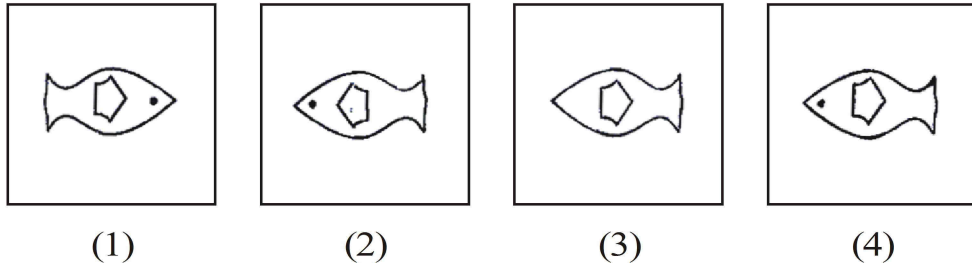
حرفی سلسلہ : ABCDE FGHIJ KLMNO PQRST UVWXY

38. درج ذیل شکلوں میں ایک خاص قسم کی ترتیب ہے۔ اُس ترکیب کو پہچان کر سوالیہ نشان کی جگہ کون سی شکل آئے گی؟ تلاش کیجئے۔

سوالیہ اشکال



متبادل اشکال



39. درج ذیل عددی سلسلے میں غلط رکن پہچانیے :

26, 37, 50, 63, 86, 109

37 (2)

86 (1)

109 (4)

63 (3)

کچے کام کے لئے جگہ

حرفی سلسلہ : ABCDE FGHIJ KLMNO PQRST UVWXY

40. اگر خط کو نقطہ کہا جائے، نقطے کو شعاع کہا جائے، شعاع کو مثلث کہا جائے، مثلث کو مربع کہا جائے،

مربع کو دائرہ کہا جائے اور دائرے کو مستطیل کہا جائے تو وتر کو کون سی شکل میں بنایا جاسکتا ہے؟

(1) مثلث (2) دائرہ

(3) مربع (4) مستطیل

41. ماں اور بیٹی کی آج کی عمروں کا مجموعہ 52 سال ہے اور ان کی عمروں میں 28 سال کا فرق ہے تو

بیٹی کی عمر 2 سال بعد کتنی ہوگی؟

(1) 10 (2) 12

(3) 14 (4) 16

کچے کام کے لئے جگہ

42. روزانہ ایک پرچے کے حساب سے پیر سے زباندانی کا امتحان شروع ہوا۔ مراٹھی اور انگریزی کے

پرچے کے درمیان ماحول کا مطالعہ - ۲ کا پرچہ تھا۔ انگریزی کے پرچے کے بعد ریاضی کا پرچہ تھا۔

ماحول کا مطالعہ - ۲ کے بعد تیسرے دن ماحول کا مطالعہ - ۱ کا پرچہ تھا، تو بتائیے ریاضی کا پرچہ کس

دن تھا؟

(1) منگل (2) بُدھ

(3) جمعرات (4) جمعہ

43. سلطانہ کی والدہ میری والدہ کو ماں کہتی ہے، تو بتائیے سلطانہ رشتے کے لحاظ سے میری کیا لگتی ہے؟


(1) خالہ (2) پھوپھی زاد بہن

(3) ماموں زاد بہن (4) بھانجی

کچے کام کے لئے جگہ

حرفی سلسلہ : ABCDE FGHIJ KLMNO PQRST UVWXY

44. ذیل کی شکل میں مثلثوں کی کل تعداد کتنی ہے؟



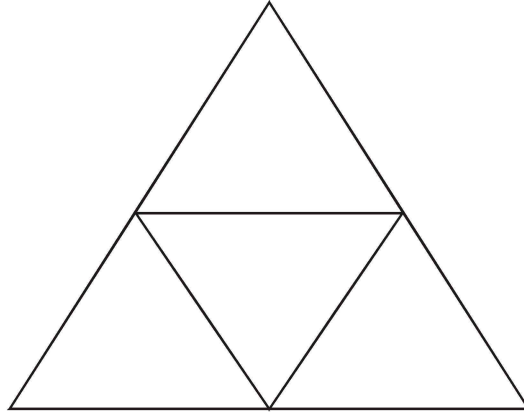
11 (2)

13 (1)

12 (4)

17 (3)

45. نیچے دی گئی شکل میں کل کتنے چوکون ہیں؟



5 (2)

6 (1)

3 (4)

4 (3)

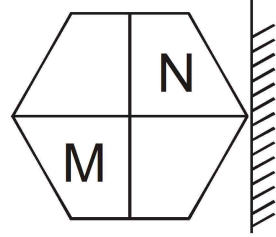
کچے کام کے لئے جگہ

حرفی سلسلہ : ABCDE FGHIJ KLMNO PQRST UVWXY

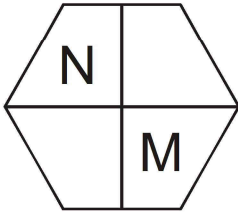
سوال نمبر 46 اور 47 : سوالات میں سوالیہ شکلوں کا عکس آئینے میں کس طرح نظر آئے گا؟ متبادل سے

پہچانیے۔

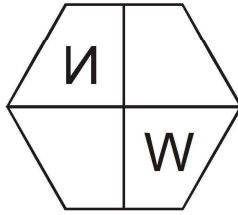
سوالیہ شکل .46



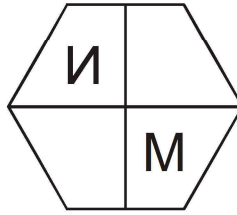
متبادل اشکال



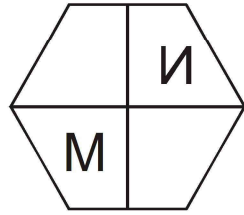
(1)



(2)



(3)



(4)

سوالیہ شکل

متبادل اشکال

.47



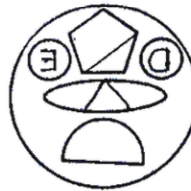
(1)



(2)



(3)



(4)

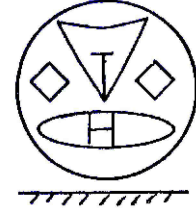
کچے کام کے لئے جگہ

حرفی سلسلہ : ABCDE FGHIJ KLMNO PQRST UVWXY

سوال نمبر 48 اور 49 : درج ذیل شکل کو پانی پر اگر کھڑا پکڑا جائے تو پانی میں اس کا عکس کیسا نظر آئے گا۔

جواب شکلوں میں سے پہچان کر لکھئے۔

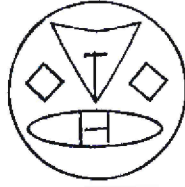
سوالیہ شکل .48



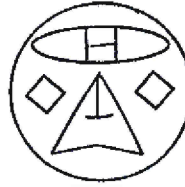
متبادل اشکال




(1)



(2)



(3)

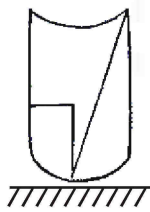


(4)

سوالیہ شکل

متبادل اشکال

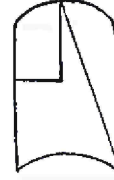
.49



(1)



(2)



(3)



(4)

کچے کام کے لئے جگہ

50. تعلیمی سیر کے دوران عبدالماجد قلعے کی دیوار پر اپنا نام گریڈ کرنے لگا۔ اس موقع پر آپ کیا کرو گے؟

(1) دوست ہونے کے ناطے اپنا نام بھی گریڈ کرنے کے لئے کہیں گے۔

(2) اُسے تاریخی عمارت کی حفاظت کے بارے میں سمجھائیں گے۔

(3) نام گریڈ کرنے میں اُس کی مدد نہیں کریں گے۔

(4) اُس کو دیوار پر نام گریڈ کرنے کا اصرار کریں گے۔

سوال نمبر 51 تا 55: ذیل کے سوالات میں جس طرح پہلے اور دوسرے رکن میں تعلق ہے بالکل اُسی طرح

تیسرے اور چوتھے رکن میں بھی تعلق ہے۔ اُسے تلاش کر کے سوالیہ نشان کی جگہ مناسب متبادل

لکھئے۔

51. مور و تریبک پننگلے : پردھان :: نراجی راؤ جی : ؟

(1) نیائے دھیش (2) منتری


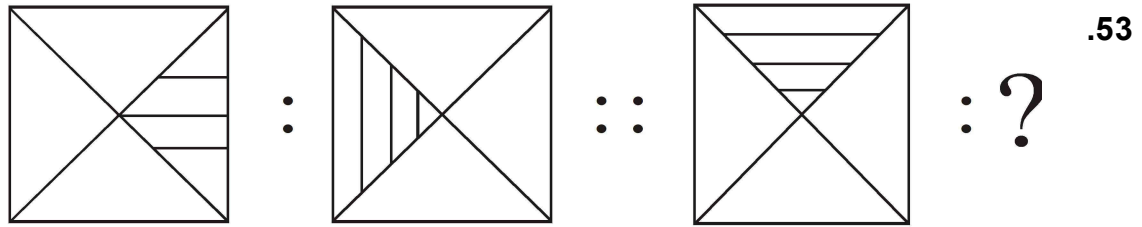
(3) سُمنت (4) امانتیه

کچے کام کے لئے جگہ

حرفی سلسلہ : ABCDE FGHIJ KLMNO PQRST UVWXY

52. ۲۱ جون : سب سے بڑا دن :: ۲۲ دسمبر : ؟

- (1) سب سے بڑا دن
- (2) سب سے بڑی رات
- (3) سب سے چھوٹی رات
- (4) ۱۲ گھنٹے کا دن اور ۱۲ گھنٹے کی رات



(1)

(2)

(3)

(4)

54. 24 : 8 :: 36 : ?

27 (2)

26 (1)

28 (4)

24 (3)

کچے کام کے لئے جگہ

حرفی سلسلہ : ABCDE FGHIJ KLMNO PQRST UVWXY

3927 : 4845 :: 1845 : ? .55

2805 (2)

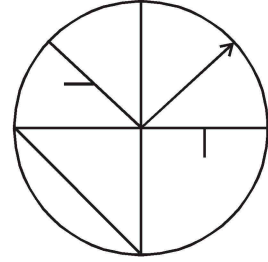
2763 (1)

2956 (4)

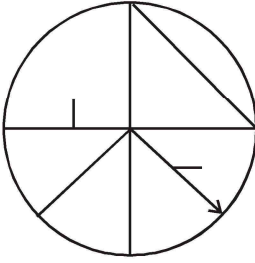
2967 (3)

سوال نمبر 56 اور 57 : ذیل کی سوالیہ شکل سے ہو بہو ملنے والی شکل متبادل میں سے پہچانیے۔

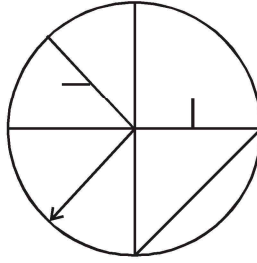
سوالیہ شکل .56



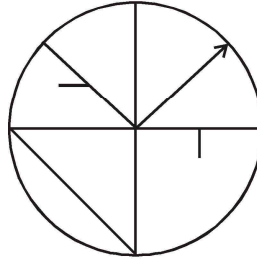
متبادل اشکال



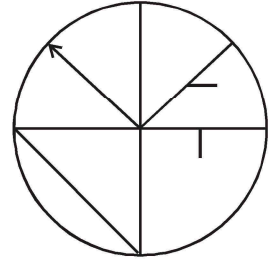
(1)



(2)



(3)

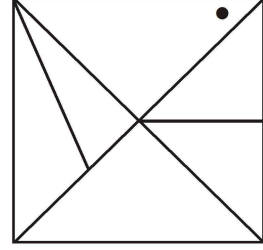


(4)

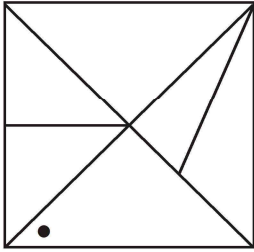
کچھ کام کے لئے جگہ

حرفی سلسلہ : ABCDE FGHIJ KLMNO PQRST UVWXY

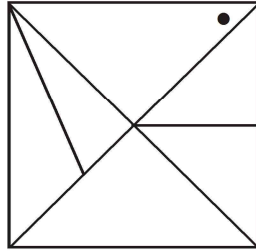
سوالیہ شکل .57



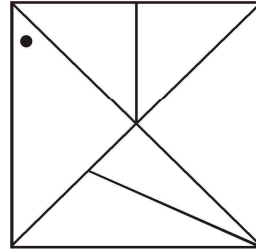
متبادل اشکال



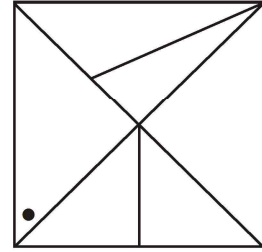
(1)



(2)



(3)



(4)

.58 ایک قطار میں نعمان کے دائیں جانب 15 لڑکے اور بائیں جانب 21 لڑکے کھڑے ہیں۔ اسی قطار

میں درمیان میں کھڑے ہوئے خضر کا نمبر کون سا (کتنا) ہوگا؟

(2) 19 واں

(1) 18 واں

(4) 21 واں

(3) 20 واں

کچے کام کے لئے جگہ

حرفی سلسلہ : ABCDE FGHIJ KLMNO PQRST UVWXY

59. ایک حاضری رجسٹر میں سُمیہ کا نمبر شروعات سے 10 واں ہے اور سعدیہ کا آخر سے 20 واں نمبر

ہے۔ سُمیہ اور سعدیہ کے ناموں کے درمیان 15 لڑکیوں کے نام ہیں تو بتائیے حاضری رجسٹر میں

گل کتنے نام ہیں؟

40 (2)

45 (1)

43 (4)

35 (3)

60. رضوانہ مغرب کی سمت رُخ کر کے کھڑی ہے۔ وہ اپنے بائیں جانب سے دو مرتبہ قائمہ زاویہ کی

صورت میں گھومتی ہے، تو اُس کی پشت (پیٹھ) کس سمت میں ہوگی؟

جنوب (2)

مشرق (1)

مغرب (4)

شمال (3)

کچے کام کے لئے جگہ

حرفی سلسلہ : ABCDE FGHIJ KLMNO PQRST UVWXY

61. 'رخسانہ مغرب کی سمت 19 کلومیٹر گئی۔ بعد میں وہ جنوب کی طرف 13.5 کلومیٹر گئی۔ اُس کے بعد مشرق کی طرف 7.5 کلومیٹر گئی۔ اس کے بعد شمال کی طرف 13.5 کلومیٹر جا کر رُک گئی تو بتائیے وہ اپنے اصل مقام سے کتنے دور ہے؟

(1) 10.5 کلومیٹر

(2) 12.5 کلومیٹر

(3) 11.5 کلومیٹر

(4) 13.5 کلومیٹر

62. مُنور کی پیدائش 8 جولائی 2007ء اتوار کے دن ہوئی، تو بتائیے اُس کی دوسری سالگرہ کون سے دن آئے گی؟

(1) جمعرات

(2) پیر

(3) منگل

(4) بُدھ

کچے کام کے لئے جگہ

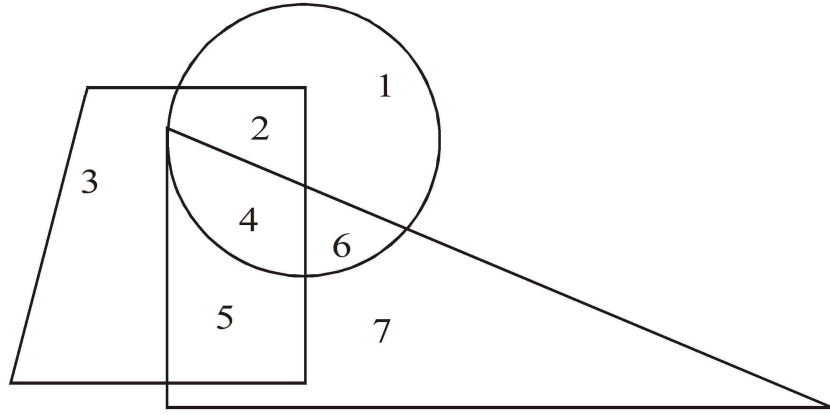
حرفی سلسلہ : ABCDE FGHIJ KLMNO PQRST UVWXY

63. ایک سال 2، اگست بڈھ کے دن تھا تو اسی سال 4 ستمبر کون سا دن آئے گا؟

(1) منگل (2) اتوار

(3) سنپچر (4) پیر

64. دی گئی شکل کا بغور مطالعہ کریں اور سوالوں کے دئے گئے جوابات میں سے صحیح متبادل منتخب کیجئے۔



دائرہ، مثلث، چوکون، ان تینوں میں آنے والا عدد لکھئے:

(1) 2 (2) 5

(3) 4 (4) 6

کچے کام کے لئے جگہ

حرفی سلسلہ : ABCDE FGHIJ KLMNO PQRST UVWXY

65. سوالیہ نشان کی جگہ آنے والا عدد دئے گئے متبادل میں سے تلاش کیجئے:

8	5	9
7	2	25
9	7	?

16 (2)

4 (1)

6 (4)

2 (3)

سوال نمبر 66 تا 70 : سوال کے شروعات میں تین ارکان دئے گئے ہیں۔ اُن کی کچھ خصوصیات ہیں۔ جس کی وجہ سے اُن کا ایک گروہ تیار ہوتا ہے۔ اس گروہ میں شامل ہونے والا رکن متبادل سے تلاش کیجئے۔

66. بڑی آنت۔ جگر، چھوٹی آنت:

سانس کی نلی (2)

غذا کی نالی (1)

پتہ (4)

دل (3)


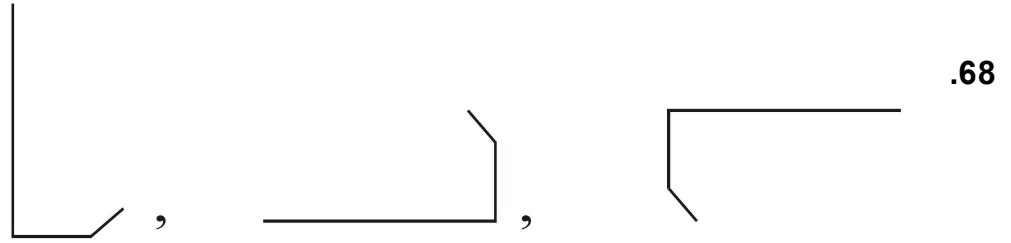
کچے کام کے لئے جگہ

حرفی سلسلہ : ABCDE FGHIJ KLMNO PQRST UVWXY

.67 گنگا-مہاندى-گوداوری:

(1) نربدا (2) كاویری

(3) تاپتی (4) سا برمتی



(1)



(2)



(3)



(4)

کچے کام کے لئے جگہ

حرفی سلسلہ : ABCDE FGHIJ KLMNO PQRST UVWXY

.69 (29, 31), (17, 19), (59, 61) :

(15, 17) (2) (41, 43) (1)

(19, 21) (4) (69, 71) (3)

5985, 8541, 6984 : .70

9387 (2) 9389 (1)

9587 (4) 9487 (3)

.71 ایک اشاراتی زبان میں 13 = 5، 19 = 7 اور 22 = 8 ہو تو 1 = کتنا؟

3 (2) 5 (1)

2 (4) 1 (3)

کچھ کام کے لئے جگہ

حرفی سلسلہ : ABCDE FGHIJ KLMNO PQRST UVWXYZ

72. ایک اشاراتی زبان میں 1 کو 5 کہا جائے، 3 کو 7 کہا جائے، 4 کو 9 کہا جائے اور 2 کو 6 کہا

جائے تو؟ کتنا = $1 \times 2 + 3$

65 (2) 5 (1)

37 (4) 18 (3)

73. ایک اشاراتی زبان میں روز = $\odot \quad \bigcirc \quad \square$

زود = $\odot \quad \bigcirc \quad \square$ ، زرا = $\triangle \quad \square \quad \odot$

تو بتائیے روا = ؟

(نوٹ: حروفوں اور علامتوں کی ترتیب یکساں ہوں گی ایسا نہیں ہے)

(1) $\odot \quad \square \quad \triangle$

(2) $\square \quad \bigcirc \quad \odot$

(3) $\bigcirc \quad \odot \quad \triangle$

(4) $\square \quad \bigcirc \quad \triangle$

کچے کام کے لئے جگہ

74. اشاراتی زبان میں دال = + - ÷، دام = + - □، تو مال = ؟

(1) - ÷ + (2) ÷ - □

(3) + □ - (4) - □ +

75. اسکول کے میدان میں کھوکھو کا بڑا ہی سخت مقابلہ ہو رہا ہے۔ اچانک وہاں پر تنازعہ شروع ہو

گیا۔ ایسی صورت میں آپ کیا کریں گے؟

(1) تنازعہ کی وجہ معلوم کر کے طلباء کو سمجھائیں گے

(2) تنازعہ پیدا کرنے والے طلباء کو سزا دیں گے؟

(3) خود بھی میدان میں پہنچ کر تنازعے کو ہوا دیں گے؟

(4) دوڑ کر اپنی کلاس میں جا بیٹھیں گے

کچے کام کے لئے جگہ

ٲچے کام کے لئے جگہ