

पूर्व माध्यमिक शिष्यवृत्ती परीक्षा (इयत्ता 8वी), फेब्रुवारी 2017

बैठक क्र.

--	--	--	--	--	--	--	--	--	--

0 1 2 2

Set

A

प्रश्नपत्रिका क्र. II

पृष्ठ : 32

माध्यम : मराठी

तृतीय भाषा व बुद्धिमत्ता चाचणी

वेळ : 1.30 ते 3.00

एकूण गुण : 150

प्रश्नपत्रिका सोडविण्यापूर्वी कृपया खालील सूचना काळजीपूर्वक वाचा :

- (1) या प्रश्नपत्रिकेत दोन विभाग आहेत. त्यापैकी विभाग I मध्ये तृतीय भाषा विषयासाठी 25 प्रश्न व विभाग II मध्ये बुद्धिमत्ता चाचणी विषयासाठी 50 प्रश्न असे एकूण 75 प्रश्न आहेत. सर्व प्रश्न सोडविणे आवश्यक आहे.
- (2) प्रत्येक प्रश्नासाठी 2 गुण आहेत.
- (3) प्रश्नपत्रिका सोडविण्यासाठी एकूण 90 मिनिटांचा कालावधी दिला जाईल.
- (4) उत्तरे नोंदविण्यासाठी स्वतंत्र उत्तरपत्रिका दिलेली आहे. प्रत्येक प्रश्नक्रमांकासमोर चार पर्यायासाठीची क्रमगत वर्तुळे दिलेली आहेत. त्यातील अचूक उत्तराचा पर्याय क्रमांक असलेले वर्तुळ पुढील उदाहरणात दाखविल्याप्रमाणे रंगवा.
उदा. प्रश्न क्र. 6 च्या बरोबर उत्तराचा पर्याय क्र. 2 असेल, तर तो पुढीलप्रमाणे नोंदवावा.
प्रश्न क्र. 6 1 2 3 4
- (5) खालीलप्रमाणे नोंदविलेली उत्तरे ग्राह्य धरण्यात येणार नाहीत. असे उत्तर लिहिल्यास 'शून्य' गुण दिले जातील.
 1 2 3 4
- (6) पर्यायाची उत्तरे नोंदविताना फक्त काळ्या किंवा निळ्या शाईच्या बॉलपेनचाच वापर करावा. पेन्सिलने नोंदविलेली उत्तरे ग्राह्य धरण्यात येणार नाहीत.
- (7) एकदा नोंदविलेली उत्तरे पुन्हा बदलता येणार नाहीत.
- (8) प्रश्नपत्रिकेत कमाल 20% प्रश्नांच्या बाबतीत उत्तरांच्या चार पर्यायांपैकी दोन पर्याय अचूक असतील. ते दोन्ही पर्याय नोंदविणे बंधनकारक आहे. त्यासाठी त्या प्रश्नाच्या पुढे 'दोन अचूक पर्याय निवडा' अशी सूचना कंसात दिलेली आहे.
- (9) 'दोन अचूक पर्याय निवडा' अशी सूचना दिलेल्या प्रश्नाव्यतिरिक्त इतर प्रत्येक प्रश्नासाठी एकापेक्षा अधिक वर्तुळात नोंदविलेली उत्तरे व खाडाखोड करून नोंदविलेली उत्तरे ग्राह्य धरण्यात येणार नाहीत.
- (10) प्रश्नपत्रिकेत प्रत्येक पानावर खाली व शेवटच्या पानावर कच्चे काम करण्यासाठी मोकळी जागा आहे, तेथेच कच्चे काम करावे.
- (11) परीक्षेस मर्यादित वेळ असल्याने एखाद्या प्रश्नाचे उत्तर तुम्हाला येत नसल्यास पुढील प्रश्न सोडवा. शेवटी वेळ शिल्लक राहिल्यास उरलेल्या प्रश्नांसाठी पुन्हा प्रयत्न करा.
- (12) एखाद्या प्रश्नात त्रुटी/चूक आढळल्यास त्याबाबत पर्यवेक्षक किंवा परीक्षा केंद्रसंचालक यांच्याकडे विचारणा करू नये.
- (13) प्रश्नातील त्रुटी/चूक/आक्षेपाबाबतचे आपले लेखी निवेदन शाळेंने किंवा पालकांनी गटशिक्षणाधिकारी किंवा शिक्षणाधिकारी यांच्याकडे न पाठवता थेट परीक्षा परिषदेकडे मा. आयुक्त यांचे नावे समक्ष/टपालाने/ई-मेलने पाठवावे.
- (14) त्रुटी/चूक/आक्षेपाबाबतचे लेखी निवेदन पाठविण्याची मुदत परीक्षा परिषदेच्या संकेतस्थळावर अंतरिम (तात्पुरती) उत्तरसूची प्रसिद्ध झाल्यापासून 10 (दहा) दिवसांपर्यंत राहिल. मुदतीच्या अंतिम दिनांकापर्यंत परिषदेस प्राप्त झालेल्या लेखी निवेदनांचीच दखल घेतली जाईल.
- (15) मुद्रणदोष किंवा अन्य कारणांमुळे प्रश्न चुकीचा असल्याचे आढळल्यास तज्ज्ञ समितीच्या अभिप्रायानुसार तो रद्द केला जाईल.

विभाग I

तृतीय भाषा

Instructions for Question Nos. 1 to 3 :

Read the passage and choose the *correct* option :

Medicine is the science and practice of diagnosis, treatment and prevention of disease. The word medicine is derived from Latin *medicus*, meaning 'a physician'. Ayurvedic medicine is one of the world's holistic healing. Ayurved has historical roots in Indian sub-continent. Plant based treatment in Ayurveda may be derived from roots, fruits, barks or seeds.

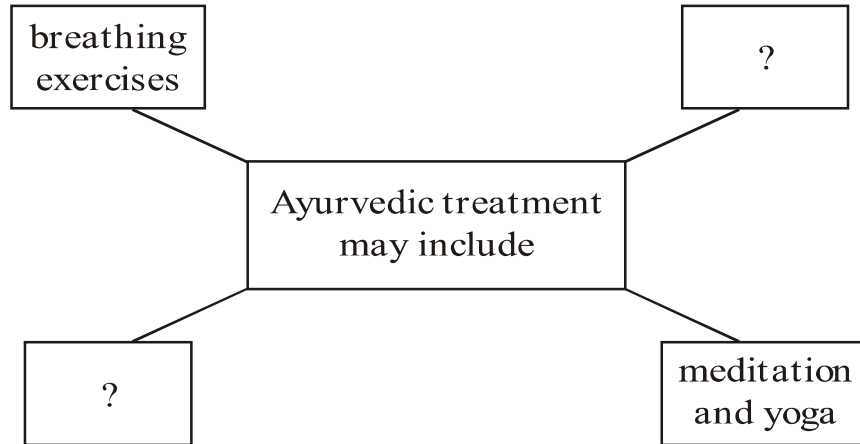
The primary focus of Ayurvedic medicine is to promote good health rather than fight diseases. Treatment may include breathing exercises, diet changes, lifestyle changes, meditation and yoga.

1. Choose the *correct* alternative of the following :

The primary focus of Ayurvedic medicine is to promote

- (1) diet changes, lifestyle changes
- (2) good health rather than fight diseases
- (3) diagnosis, treatment and prevention of disease
- (4) meditation and yoga

2. Choose two *correct* alternatives to form the web diagram :



- (1) diet changes
- (2) historical roots
- (3) lifestyle changes
- (4) practice

3. Choose one *correct* alternative :

If the medicine is the science and practice of diagnosis, then
is the science of earth surface and physical features.

- (1) geometry
- (2) geography
- (3) physics
- (4) global

Instructions for Question Nos. 4 and 5 :

Read the passage and choose the *correct* alternatives for Question Nos. 4 and 5 :

This is the special radio-programme about earthquakes, and what people should do in case an earthquake occurs. Of all the natural calamities earthquakes are the worst. They strike without warning, last for only a few seconds and cause heavy damage. But remember : Do not panic

during an earthquake. If you can reach open ground within seconds, do so. If you are in a building, turn away from glass windows. Take cover under a desk or table. Put both hands on the back of your neck and tuck your head down. If you are outside a building, stay out. When the earthquake is over, you can leave your shelter.

4. Complete the following web by choosing the *correct* option :

If earthquake occurs and you are in building, what should you do ?

(1)

Put both hands on the back of your neck.

(2)

Turn away from glass windows.

(3)

Tuck your head down.

(4)

?

- (1) climb on the bed
- (2) pull on a blanket and sleep
- (3) take cover under a desk or table
- (4) none of the above

5. Find the odd man out :

- (1) Flood
- (2) Earthquake
- (3) Drought
- (4) Bomb explosion

6. Find out meaningful word related to internet from jumbled words :

kipewidia

- (1) Encyclopedia (2) Web-site
(3) Knowledge (4) Wikipedia

7. Read the sentences. Find out the word which gives *correct* meaning of sentence :

Gopal wanted to choose the royal physician for Maharaja. He called the candidates who could relieve him from

- (1) pens (2) pains
(3) panes (4) pence

8. Choose the *correct* alternative from the following options which means :

Mansukh could not walk fast but he found a long, thick rope out of his luggage. The ill feeling vanished in a flash.

- (1) in some seconds (2) at once
(3) after sometime (4) with lightening

9. Four pairs are given. Which pair is *not* pair of opposite words ?

- (1) incomplete × complete (2) poor × rich
(3) hard × easy (4) praise × admire

10. Choose the *correct* option which doesn't match the situation :

Raman got first prize in competition. His mother showed happiness.
She said,

- (1) "What a pleasant surprise !"
- (2) "What a clever boy you are !"
- (3) "How hardworking you are !"
- (4) "Don't run away."

11. Read the sentence and choose two *correct* options by guessing the meaning of underlined word :

The teacher said, "Look at every plant. Choose that part which has medicinal value."

- (1) place where industrial process takes place
- (2) to put in the ground to grow, useful to us in many ways
- (3) a place where power is produced
- (4) a living thing that grows on the earth and usually has stem, leaves, roots

12. Read the riddle and choose the *correct* alternative :

I have three blades,

It rotates in clockwise direction,

It gives cool air and breeze when you switch on,

It makes you pleasant in summer.

- (1) window
- (2) fan
- (3) helicopter
- (4) grinder

13. Choose the *correct* alternative which is used to make food tasty and delicious :

O	P	E	S	S	P
F	I	A	A	L	E
A	R	L	L	M	P
N	Y	H	T	N	P
Z	G	S	S	O	E
G	I	N	G	E	R

- (1) GARLIC (2) CHILLY
(3) MINT (4) GINGER

14. Choose the *correct* alternative :

Ancient Indian the science of ship-building and navigation very well.

- (1) knows (2) know
(3) knew (4) had known

15. Choose the *correct* alternative from the following table :

Column 'A'	Column 'B'
(1) Teacher told many stories.	(a) Many stories will be told by teacher.
(2) Teacher was telling many stories.	(b) Many stories were told by teacher.
(3) Teacher tells many stories.	(c) Many stories were being told by teacher.
(4) Teacher will tell many stories.	(d) Many stories are told by teacher.

(1) (1)—(b), (2)—(c), (3)—(d), (4)—(a)

(2) (1)—(c), (2)—(b), (3)—(a), (4)—(d)

(3) (1)—(d), (2)—(a), (3)—(b), (4)—(c)

(4) (1)—(a), (2)—(c), (3)—(b), (4)—(d)

16. Find out the *correct* alternative for the type of tense of underlined word :

Ninad flew his kite and the kite rose high in the sky.

(1) Simple present tense (2) Present perfect tense

(3) Past perfect tense (4) Simple past tense

17. Complete the sentence using the *correct* conjunction to form sentence of indirect speech :

Don Quixote said he was not afraid of his enemy.

- (1) to (2) that
(3) if (4) why

18. Identify the adjectives from the given words. Choose two *correct* alternatives :

- (1) small (2) buy
(3) hopeful (4) cook

19. Read the following conversation. Choose the *correct* alternative which shows permission :

Student → I come in ?

Teacher → Yes, come in.

- (1) Can (2) Could
(3) Will (4) May

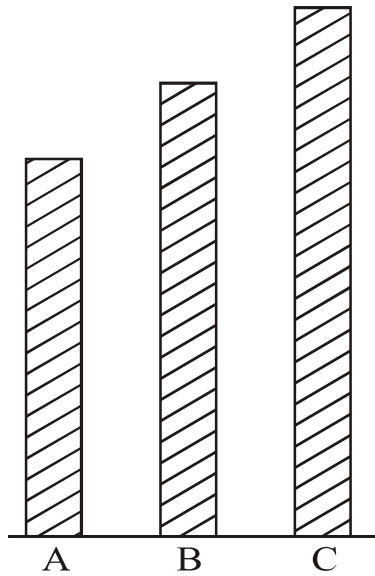
20. Read the dialogue. Choose the *correct* alternative :

Meenakshi → Where is the bird ?

Madhukaka → There it is. It is that bush.

- (1) behind (2) into
(3) in (4) above

21. Choose one *correct* alternative :



- (1) Stick 'C' is the largest stick of all.
- (2) Stick 'B' is not as long as stick 'A'.
- (3) Stick 'A' is longer than stick 'B'.
- (4) The stick 'C' is no longer than stick 'A'.

22. Read the following note. Choose the *correct* alternative :

Mother returned home along with grandfather. She found Prachi's note.

Dear Mother,

I have gone out to buy books. My friend will stay with us. Please cook some food.

- (1) tasty
- (2) salty
- (3) boiled
- (4) raw

23. Read the conversation between Sanjay and the stranger at the bus-stop. Choose one *correct* alternative :

Sanjay → Excuse me, which bus does go to railway station ?

Stranger → Bus No. 143 goes to railway station.

Sanjay → Thanks.

Stranger → please.

Sanjay → Yes, Sir.

- (1) Hold on
- (2) Wait for your turn
- (3) Show your ID
- (4) Silence

24. Choose one *correct* alternative :

Use cycle, gain health, save wealth, free from

- (1) meditation
- (2) conversation
- (3) relation
- (4) pollution

Instruction for Q. No. 25 :

Read the advertisement and choose one *correct* alternative :

Aniket Tours and Travels

Spend your summer vacation with fun
and site seeing.

Hurry !
Last ten
days left

Book for two adults and get booking
for two kids free.

Offer closes on 10th May.

Mode of Transport of your choice.

Aeroplane, Railway, Bus Service, Boat Service.

Choose tour plans

Goa	Coastal Karnataka
Mumbai	Gujrat
Delhi	Madhya Pradesh
Hyderabad	Kullu-Manali

e-mail : aniket.tour@gmail.com

25. Your friend Joseph wants to visit Coastal Karnataka. His father is busy. So they want to choose mode of transport which will make their trip of short duration.

Choose one *correct* option which make their trip of short duration :

- | | |
|-----------------|---------------|
| (1) Bus Service | (2) Railway |
| (3) Boat | (4) Aeroplane |

विभाग II

बुद्धिमत्ता चाचणी

26. 'आम्ही काल सकाळी प्रथम शाळेची स्वच्छता करून घरी आलो, आणि दूरदर्शनवर 'समृद्ध भारत' हा कार्यक्रम पाहिला.' या वाक्यात दोनअक्षरी शब्द हे तीनअक्षरी शब्दांपेक्षा कितीने जास्त अथवा कमी आहेत ?

- (1) 3 ने कमी (2) 3 ने जास्त
(3) 4 ने कमी (4) 5 ने कमी

27. 'साक्षीने स्वतःच्या निबंधाच्या वहीतील शास्त्र, अध्याहत, ज्ञानामृत, क्लृप्ती व शृंग हे चुकलेले शब्द दुरुस्त केले.' या वाक्यात एकूण किती वेळा जोडाक्षरे आलेली आहेत ?

- (1) 8 (2) 14
(3) 10 (4) 12

Space for Rough Work

अक्षरमाला : ABCDE FGHIJ KLMNO PQRST UVWXY

28. पंख, कुरंग, चंद्रिका, पैंजण, संप, संक्षिप्त, चिंतन, चिंच, तंत्र, संघ, आंबा, स्तंभ, पंडित, पाठांतर या शब्दांमध्ये कोणती अनुनासिके समानवेळा आलेली आहेत ?
(दोन अचूक पर्याय निवडा.)

- (1) ङ् (2) ज्
(3) म् (4) न्

29. च, वा, भा, क, व या अक्षरांपासून बनणाऱ्या अर्थपूर्ण शब्दातील अनुक्रमे कोणती अक्षरे घेतल्यास 'दरारा' या शब्दाचा अर्थ होईल ?

- (1) 3, 4, 5 (2) 1, 5
(3) 2, 4, 5 (4) 5, 4, 2

30. अक्षरमाला : bddpqpdbbqpdpdbdqdb

वरील अक्षरमालेत मध्यभागी आलेल्या अक्षराच्या डावीकडील चौथ्या अक्षरापासून मोजल्यास उजवीकडील सातवे अक्षर कोणते ?

- (1) b (2) d
(3) p (4) q


Space for Rough Work

प्र. 31 ते 34 साठी सूचना :

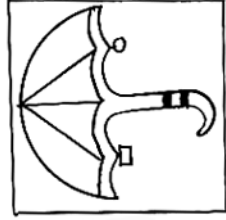
गटात न बसणारे पद ओळखा :

31. (1) दिन (2) वासर
(3) दिवस (4) वसन


32.



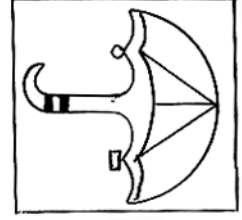
(1)



(2)



(3)



(4)

33. (1) 3436 (2) 2325
(3) 7164 (4) 5249
34. (1) GSF (2) DVC
(3) EUD (4) KOL

Space for Rough Work

अक्षरमाला : ABCDE FGHIJ KLMNO PQRST UVWXY

35. गटात बसणारे पद निवडा. (दोन अचूक पर्याय निवडा)

924, 1342, 3498

(1) 1214 (2) 1331

(3) 4441 (4) 3905

36. पहिल्या दोन पदांचा सहसंबंध लक्षात घेऊन प्रश्नचिन्हाच्या जागी येणारा पर्याय निवडा.

(दोन अचूक पर्याय निवडा)

सोयाबीन : खाद्यतेल :: बांबू : ?

(1) लाख (2) कात

(3) कागद (4) टोपली

37. पहिल्या दोन पदांचा सहसंबंध लक्षात घेऊन प्रश्नचिन्हाच्या जागी येणारा पर्याय निवडा.

(दोन अचूक पर्याय निवडा)

अर्क : सहस्रकर :: तीर : ?

(1) धनुष्य (2) शरण

(3) बाण (4) किनारा

Space for Rough Work

अक्षरमाला : ABCDE FGHIJ KLMNO PQRST UVWXY

प्र. 38 ते 40 साठी सूचना :

पहिल्या दोन पदांचा सहसंबंध लक्षात घेऊन प्रश्नचिन्हाच्या जागी येणारा पर्याय निवडा :

38. 237 : 1728 :: 412 : ?

(1) 3024

(2) 637

(3) 2401

(4) 343

39. CFI : WTQ :: DHL : ?

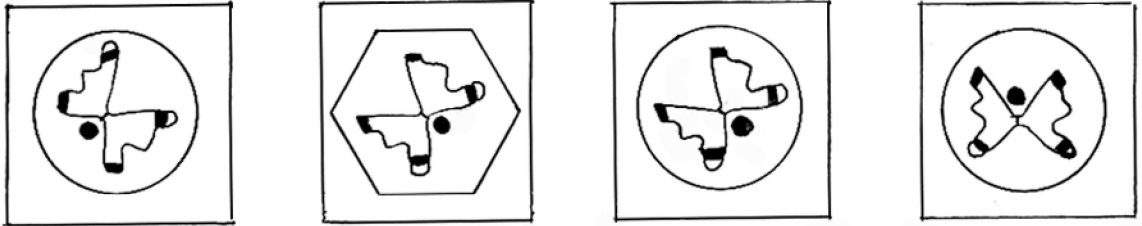
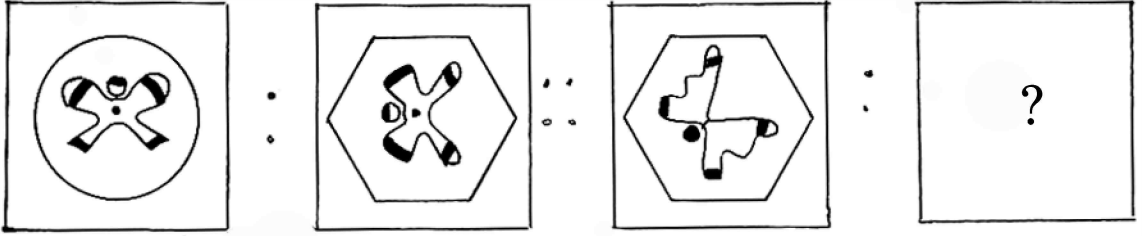
(1) VRN

(2) VPM

(3) UPM

(4) UQM

40.



(1)

(2)

(3)

(4)

Space for Rough Work

अक्षरमाला : ABCDE FGHIJ KLMNO PQRST UVWXY

प्र. 41 ते 44 साठी सूचना :

खालील मालिकेतील प्रश्नचिन्हांच्या जागी येणारे पद पर्यायातून निवडा :

41. 568, 467, 370, 281, 198, 119 ?

(1) 50

(2) 46

(3) 56

(4) 52

42. 1, 2, 6, 21, 88 ? 2676

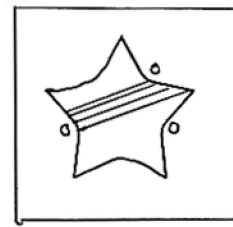
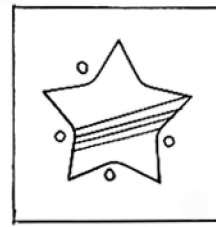
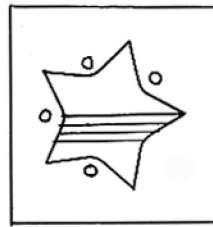
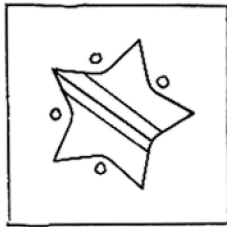

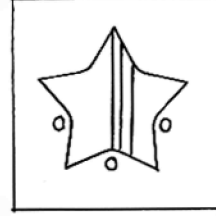
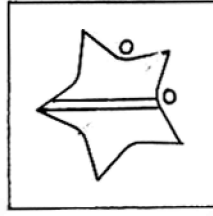
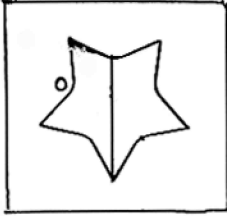
(1) 445

(2) 645

(3) 357

(4) 1350

43.



(1)

(2)

(3)

(4)

Space for Rough Work

अक्षरमाला : ABCDE FGHIJ KLMNO PQRST UVWXY

44. $\triangle \oplus \square \ominus \square \oplus \square \ominus \triangle \oplus \square \oplus \triangle \oplus ? ? ? \square \ominus \square \oplus \triangle \ominus \triangle \oplus \square$

(1) $\triangle \ominus \oplus$

(2) $\square \oplus \ominus$

(3) $\square \ominus \oplus$

(4) $\square \triangle \oplus$

प्र. 45 व 46 साठी सूचना :

पुढील मालिकेतील चुकीचे पद ओळखा :

45. 23, 34, 49, 64, 83, 106, 135, 166

(1) 64

(2) 49

(3) 83

(4) 135

46. B V F R J N M J R

(1) F

(2) V

(3) B

(4) M

Space for Rough Work

अक्षरमाला : ABCDE FGHIJ KLMNO PQRST UVWXY

प्र. 47 व 48 साठी सूचना :

एका सांकेतिक भाषेत 'कसर' = 407, 'रजक' = 420, 'सदर' = 467 असे लिहितात, तर पुढील प्रश्नांच्या उत्तरांचा पर्याय निवडा :

47. 'दसक' हा शब्द त्याच सांकेतिक भाषेत कसा लिहाल ?

- (1) 760 (2) 604
(3) 764 (4) 407

48. 4, 0 या अंकांपासून तयार होणाऱ्या अर्थपूर्ण शब्दाचा अर्थ पर्यायातून निवडा. (दोन अचूक पर्याय निवडा)

- (1) किरण (2) पद
(3) हस्त (4) कर्ण

49. एका सांकेतिक भाषेत A ला C, B ला D, C ला E असे क्रमाने म्हणत गेल्यास कोणाला 'P' म्हणावे ?

- (1) N (2) R
(3) Q (4) S

Space for Rough Work

अक्षरमाला : ABCDE FGHIJ KLMNO PQRST UVWXY

प्र. 50 ते 52 साठी सूचना :

दिलेल्या लयबद्ध मांडणीतील पदांचा क्रम लक्षात घेऊन प्रश्नचिन्हाच्या जागी येणारे पद निवडा :

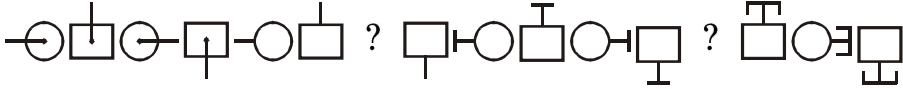
50. ब क फ व ष प फ ब क प व ष क फ ब ष प व ब ? ? ? ष प

(1) फ क व


(2) क फ व

(3) व फ क

(4) क प व

51. 

(1) 

(2) 

(3) 

(4) 

52. 2 5 6 9 8 4 7 6 9 8 4 7 2 5 8 4 7 2 5 6 9 7 2 ? ? ? 8 4

(1) 9 6 5

(2) 6 5 9

(3) 5 6 9

(4) 2 6 9

Space for Rough Work

अक्षरमाला : ABCDE FGHIJ KLMNO PQRST UVWXY

प्र. 53 ते 55 साठी सूचना :

पुढील मनोऱ्याचे निरीक्षण करून प्रश्नांतील पदांमध्ये असणाऱ्या अंकांच्या स्थानांचा क्रम लक्षात घेऊन प्रश्नचिन्हांच्या जागी येणारे पद ओळखा :

17

18 19

23 24 25

28 29 30 31

33 34 35 36 37

38 39 40 41 42 43

53. 28, 33, 39, 29 : 31, 37, 42, 30 :: 34, 29, 35, 40 : ?

(1) 41, 35, 30, 36 (2) 36, 30, 35, 41

(3) 36, 30, 25, 31 (4) 35, 30, 36, 41

54. 18, 28, 30, 25 : 19, 31, 29, 23 :: 38, 39, 28, 23 : ?

(1) 25, 31, 42, 43 (2) 25, 31, 42, 37

(3) 43, 42, 31, 25 (4) 43, 42, 25, 31

55. मनोऱ्यातील संख्यांमधून मालिकेतील प्रश्नचिन्हाच्या जागीचा पर्याय निवडा :

33, 39, 34, 40, 35 ? 36, 42, 37.


(1) 30 (2) 41

(3) 40 (4) 31

Space for Rough Work

अक्षरमाला : ABCDE FGHIJ KLMNO PQRST UVWXY

56. पुढील प्रश्नाकृतीचे जलप्रतिबिंब असणारी आकृती पर्यायांतून निवडा :



(1)



(2)



(3)





(4)

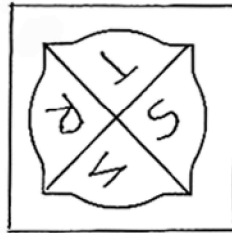
प्र. 57 व 58 साठी सूचना :

प्रश्नाकृतीची आरशातील प्रतिमा असणारी आकृती पर्यायांतून निवडा :

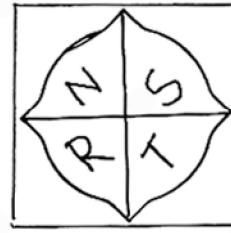
57.




(1)



(2)



(3)



(4)

Space for Rough Work

58.



(1)



(2)



(3)



(4)

59. अजयचे वय रमेशच्या वयाच्या $\frac{3}{2}$ पटीपेक्षा 3 ने कमी असून धोंडीबाच्या $\frac{4}{7}$ पटीपेक्षा 2 ने जास्त आहे. जर धोंडीबा 70 वर्षांचे असेल, तर तिघांच्या वयांची बेरीज किती ?

(1) 139 वर्षे

(2) 125 वर्षे

(3) 142 वर्षे

(4) 152 वर्षे

60. पुढीलपैकी कोणत्या वेळी घड्याळ्याच्या तासकाटा व मिनिटकाटा यांच्यामध्ये 105° मापाचा कोन होतो ? (दोन अचूक पर्याय निवडा)

(1) 3 वाजून 30 मिनिटे

(2) 2 वाजून 30 मिनिटे

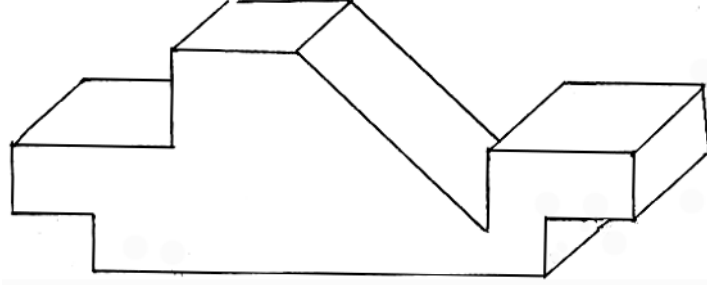
(3) 10 वाजून 30 मिनिटे

(4) 9 वाजून 30 मिनिटे

Space for Rough Work

अक्षरमाला : ABCDE FGHIJ KLMNO PQRST UVWXY

61. खाली दिलेल्या लाकडी ठोकळ्याला एकूण किती पृष्ठभाग आहेत ?



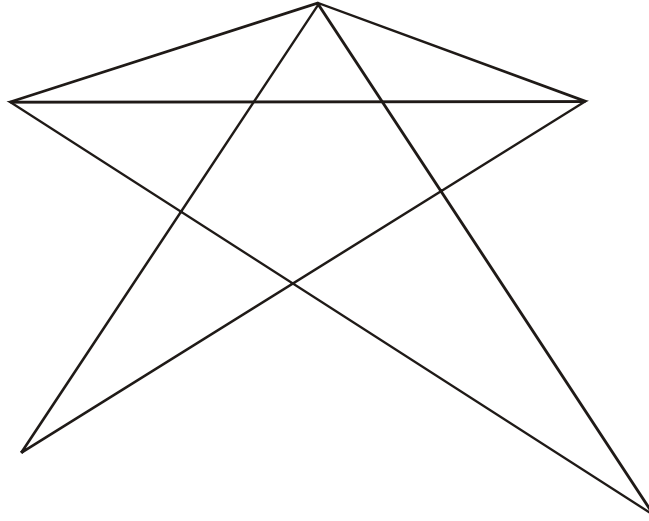
(1) 15

(2) 13

(3) 16

(4) 11

62. खाली दिलेल्या आकृतीत एकूण किती त्रिकोण आहेत ?



(1) 14

(2) 13

(3) 15

(4) 17

Space for Rough Work

प्र. 63 व 64 साठी सूचना :

संख्यांच्या मांडणीतील सूत्र ओळखून प्रश्नचिन्हाच्या जागी येणारा अचूक पर्याय निवडा :

63. $9 \times 4 = 17$, $7 \times 2 = 41$, $10 \times 3 = 73$, तर $8 \times 1 =$ किती ?

(1) 67

(2) 65

(3) 63

(4) 69

64. $4 \begin{array}{|c|} \hline 7 \\ \hline 20 \\ \hline 5 \\ \hline \end{array} 2$ $7 \begin{array}{|c|} \hline 4 \\ \hline 27 \\ \hline 2 \\ \hline \end{array} 3$ $5 \begin{array}{|c|} \hline 1 \\ \hline 22 \\ \hline 6 \\ \hline \end{array} 3$ $2 \begin{array}{|c|} \hline 7 \\ \hline ? \\ \hline 9 \\ \hline \end{array} 8$

(1) 27

(2) 24

(3) 32

(4) 26

65. एका रांगेत गोविंद शेवटून सातव्या स्थानावर आहे; आणि गोपाळ मध्यभागी 23व्या स्थानावर उभा आहे, तर त्या दोघांच्या दरम्यान किती मुले आहेत ?

(1) 14

(2) 15

(3) 17

(4) 16

Space for Rough Work

अक्षरमाला : ABCDE FGHIJ KLMNO PQRST UVWXY

66. स्वराज पूर्वेकडे काही अंतर गेल्यावर एका काटकोनात डावीकडे वळला व 50 मीटर अंतर चालला. तेथे तो उजवीकडे 135° कोनातून वळला आणि 15 मी अंतर चालला, तर आता त्याच्या डाव्या हाताकडील कोणती दिशा असेल ?

- (1) ईशान्य (2) वायव्य
(3) नैऋत्य (4) आग्नेय

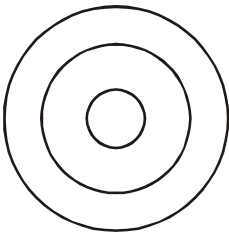
67. एका लीप वर्षात 15 मार्च रोजी मंगळवार होता, तर त्यानंतर येणाऱ्या 13 नोव्हेंबर रोजी कोणता वार असेल ?

- (1) रविवार (2) शनिवार
(3) बुधवार (4) सोमवार

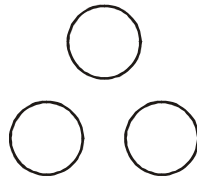
प्र. 68 व 69 साठी सूचना :

प्रश्नात दिलेले घटक कोणत्या वेन आकृतीशी अचूक जुळतात, तो पर्याय निवडा :

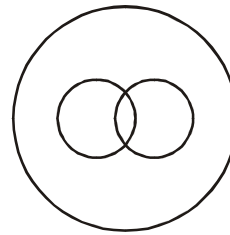
68. विरामचिन्हे, अपसारणचिन्ह, अर्धविराम



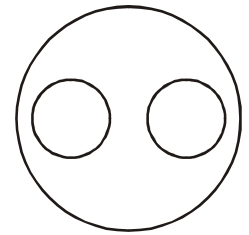
(1)



(2)



(3)

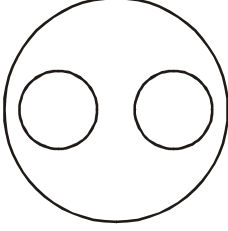


(4)

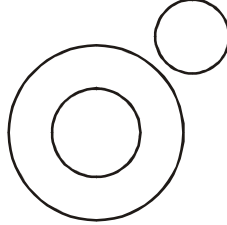
Space for Rough Work

अक्षरमाला : ABCDE FGHIJ KLMNO PQRST UVWXY

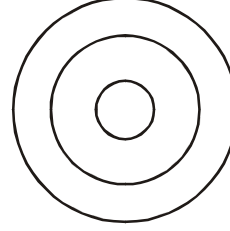
69. अपृष्ठवंशीय प्राणी, साप, गांडूळ




(1)



(2)



(3)



(4)

70. दिलेल्या चौकटीतील प्रश्नचिन्हाच्या जागी येणारा पर्याय निवडा :

53	17	67
11	?	23
41	83	13

(1) 37

(2) 29

(3) 31

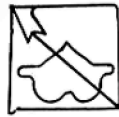
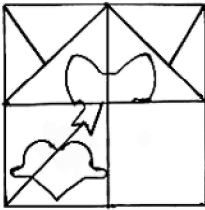
(4) 43

प्र. 71 व 72 साठी सूचना :

दिलेली प्रश्नाकृती पूर्ण करण्यासाठीचा योग्य पर्याय निवडा :

71. प्रश्नाकृती

उत्तराकृत्या



(1)



(2)



(3)

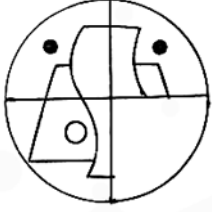


(4)

Space for Rough Work

72. प्रश्नाकृती

उत्तराकृत्या



(1)



(2)




(3)



(4)

73. प्रश्नाकृतीशी तंतोतंत जुळणारी आकृती पर्यायातून निवडा :


प्रश्नाकृती




उत्तराकृत्या




(1)



(2)



(3)




(4)

Space for Rough Work

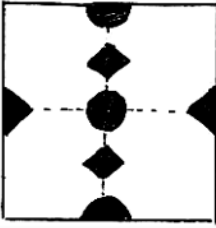
अक्षरमाला : ABCDE FGHIJ KLMNO PQRST UVWXY

74. प्रश्नाकृतीतील कागदाला घडी घालून कापला व उघडला, तर त्याचा आकार कोणत्या पर्याय आकृतीप्रमाणे दिसेल ?

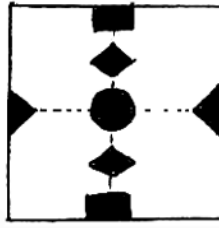
प्रश्नाकृती



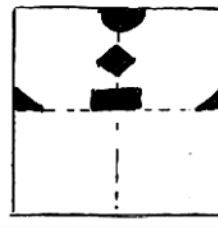
उत्तराकृत्या



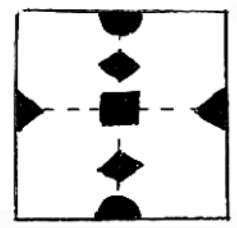
(1)



(2)




(3)



(4)

75. दिलेल्या प्रश्नाकृतीत लपलेला भाग पर्यायातून निवडा :

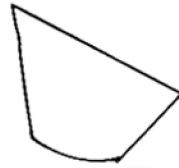
प्रश्नाकृती



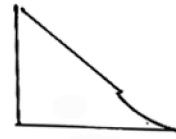
उत्तराकृत्या



(1)



(2)



(3)



(4)

Space for Rough Work

Space for Rough Work

Space for Rough Work