

نشست نمبر

--	--	--	--	--	--	--	--

0 2 2 2

Set

B

## Medium : Urdu

امتحان پرچہ نمبر II  
صفحات : 32

زبان سوم اور ذہنی آزمائش  
Third Language and  
Intelligence Test

وقت : 1.30 To 3.00

کل مارکس : 150

- سوالیہ پرچہ حل کرنے سے پہلے دی گئی ہدایات کو غور سے پڑھیے۔
- (1) اس سوالیہ پرچہ کے دو حصہ ہیں۔ حصہ "I" میں زبان سوم (انگریزی) کے لئے 25 سوالات ہیں۔ حصہ II میں ذہنی آزمائش کے لئے 50 سوالات ہیں۔ اس طرح سوالیہ پرچہ میں کل 75 سوالات ہیں۔ ہر سوال کو حل کرنا ضروری ہے۔
  - (2) ہر سوال کے 2 نمبرات ہیں۔
  - (3) سوالیہ پرچہ حل کرنے کے لئے کل 90 منٹ کا وقت دیا جائے گا۔
  - (4) جواب کا اندراج کرنے کے لئے الگ سے جوابی پرچہ دیا گیا ہے۔ ہر سوال نمبر کے سامنے چار متبادلات کے لئے ترتیب وار چار دائرے دئے گئے ہیں۔ اُس میں صحیح متبادل والے دائرے کو دی گئی مثال کے مطابق رنگ بھرنا ہے۔  
مثال : سوال نمبر 6 کے صحیح جواب کا متبادل نمبر 2 ہو تو اس طرح درج کریں۔
  - (5) سوال نمبر 6 :  
① ● ③ ④  
ذیل کے مطابق درج کئے گئے جوابات قبول نہیں کئے جائیں گے۔
  - (6) متبادل دائروں کو بھرتے وقت صرف کالی یا نیلی ہال پین کا استعمال کریں۔ پینسل سے بھرے گئے جوابات ناقابل قبول ہونگے۔
  - (7) ایک بار درج کیا ہوا جواب تبدیل نہیں کیا جاسکے گا۔
  - (8) سوالیہ پرچہ میں زیادہ سے زیادہ 20% سوالات کے چار متبادل میں سے دو متبادل صحیح ہوں گے۔ وہ دونوں متبادل درج کرنا لازمی ہے۔ ایسے سوالات کے سامنے، دو صحیح متبادل پہچانئے، اس طرح کی ہدایت دی ہوئی ہوگی۔
  - (9) ”دو صحیح متبادل پہچانئے، ایسی ہدایت کے علاوہ دیگر سوالات کے لئے ایک سے زائد دائرہ درج کرنے پر یا کاٹ چھانٹ کئے ہوئے جوابات ناقابل قبول ہوں گے۔“
  - (10) سوالیہ پرچہ میں ہر ایک صفحہ کے نچلی جانب ریف کام کے لئے جگہ مہیا کی گئی ہے، اسی جگہ پر ریف کام کیا جائے۔
  - (11) امتحان کے لئے وقت محدود ہے اس لئے اگر آپ کو کسی سوال کا جواب نہیں آتا ہو تو آگلا سوال حل کریں۔ آخر میں وقت بچنے پر بقیہ سوالات حل کرنے کی کوشش کریں۔
  - (12) اگر کسی سوال میں خامی غلطی ہو تو اس کی پوچھ تاچھ ’سپر وائزر‘ یا ’سینئر انچارج‘ سے نہ کریں۔
  - (13) سوال میں کوئی خامی غلطی راعتراض ہو تو اس کا تحریری شکایت کسی سرپرست یا اسکول B.E.O. یا ایجوکیشن آفیسر کو نہ بھیجتے ہوئے براہ راست پریکٹس پریشڈ کے نام راست رڈ اک راء۔ میل کے ذریعے روانہ کریں۔
  - (14) خامی غلطی راعتراض سے متعلق تحریری شکایت روانہ کرنے کی مدت پریکٹس پریشڈ کی ویب سائٹ پر عارضی جوابات شائع کرنے کے دس دنوں تک رہے گی۔ دی گئی مدت کے آخری دن تک وصول ہونے والی تحریری شکایتوں پر ہی غور کیا جائے گا۔
  - (15) طباعت کی غلطی یا دیگر وجوہات کی وجہ سے اگر سوال میں کوئی غلطی سرزد ہوگی تو ماہرین کی کمیٹی کی آراء کے مطابق اس سوال کو منسوخ کیا جائے گا۔

## حصہ ۱

### زبان سوم

1. Find out meaningful word related to internet from jumbled words :

kipewidia

- (1) Encyclopedia (2) Web-site  
(3) Knowledge (4) Wikipedia

2. Read the sentences. Find out the word which gives correct meaning of sentence :

Gopal wanted to choose the royal physician for Maharaja. He called the candidates who could relieve him from .....

- (1) pens (2) pains  
(3) panes (4) pence

3. Choose the *correct* alternative from the following options which means :

Mansukh could not walk fast but he found a long, thick rope out of his luggage. The ill feeling vanished in a flash.

- (1) in some seconds (2) at once  
(3) after sometime (4) with lightening

4. Four pairs are given. Which pair is not pair of opposite words ?

- (1) incomplete × complete (2) poor × rich  
(3) hard × easy (4) praise × admire

5. Choose the *correct* option which doesn't match the situation :

Raman got first prize in competition. His mother showed happiness. She said,

- (1) "What a pleasant surprise !"
- (2) "What a clever boy you are !"
- (3) "How hardworking you are !"
- (4) "Don't run away."

6. Read the sentence and choose two correct options by guessing the meaning of underlined word :

The teacher said, "Look at every plant. Choose that part which has medicinal value."

- (1) place where industrial process takes place
- (2) to put in the ground to grow, useful to us in many ways
- (3) a place where power is produced
- (4) a living thing that grows on the earth and usually has stem, leaves, roots

7. Read the riddle and choose the correct alternative :

I have three blades,

It rotates in clockwise direction,

It gives cool air and breeze when you switch on,

It makes you pleasant in summer.

- (1) window
- (2) fan
- (3) helicopter
- (4) grinder



10. Choose the correct alternative from the following table :

Column 'A'	Column 'B'
(1) Teacher told many stories.	(a) Many stories will be told by teacher.
(2) Teacher was telling many stories.	(b) Many stories were told by teacher.
(3) Teacher tells many stories.	(c) Many stories were being told by teacher.
(4) Teacher will tell many stories.	(d) Many stories are told by teacher.

(1) (1)—(b), (2)—(c), (3)—(d), (4)—(a)

(2) (1)—(c), (2)—(b), (3)—(a), (4)—(d)

(3) (1)—(d), (2)—(a), (3)—(b), (4)—(c)

(4) (1)—(a), (2)—(c), (3)—(b), (4)—(d)

11. Find out the *correct* alternative for the type of tense of underlined word :

Ninad flew his kite and the kite rose high in the sky.

(1) Simple present tense (2) Present perfect tense

(3) Past perfect tense (4) Simple past tense

12. Complete the sentence using the *correct* conjunction to form sentence of indirect speech :

Don Quixote said ..... he was not afraid of his enemy.

- |        |          |
|--------|----------|
| (1) to | (2) that |
| (3) if | (4) why  |

13. Identify the adjectives from the given words. choose two *correct* alternatives :

- |             |          |
|-------------|----------|
| (1) small   | (2) buy  |
| (3) hopeful | (4) cook |

14. Read the following conversation. Choose the *correct* alternative which shows permission :

Student → ..... I come in ?

Teacher → Yes, come in.

- |          |           |
|----------|-----------|
| (1) Can  | (2) Could |
| (3) Will | (4) May   |

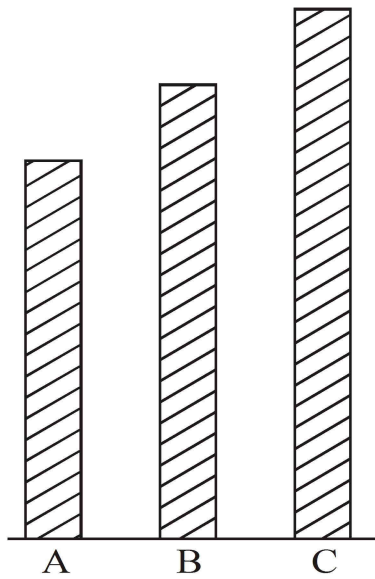
15. Read the dialogue. Choose the correct alternative :

Meenakshi → Where is the bird ?

Madhukaka → There it is. It is ..... that bush.

- |            |           |
|------------|-----------|
| (1) behind | (2) into  |
| (3) in     | (4) above |

16. Choose one *correct* alternative :



- (1) Stick 'C' is the largest stick of all.
- (2) Stick 'B' is not as long as stick 'A'.
- (3) Stick 'A' is longer than stick 'B'.
- (4) The stick 'C' is no longer than stick 'A'.

17. Read the following note. Choose the *correct* alternative :

Mother returned home along with grandfather. she found Prachi's note.

Dear Mother,  
  
I have gone out to buy books. My friend will stay with us. Please  
cook some ..... food.

- (1) tasty
- (2) salty
- (3) boiled
- (4) raw

18. Read the conversation between Sanjay and the stranger at the bus-stop.

Choose one *correct* alternative :

Sanjay → Excuse me, which bus does go to railway station ?

Stranger → Bus No. 143 goes to railway station.

Sanjay → Thanks.

Stranger → ..... please.

Sanjay → Yes, Sir.

- |                  |                        |
|------------------|------------------------|
| (1) Hold on      | (2) Wait for your turn |
| (3) Show your ID | (4) Silence            |

19. Choose one correct alternative :

Use cycle, gain health, save wealth, free from .....

- |                |                  |
|----------------|------------------|
| (1) meditation | (2) conversation |
| (3) relation   | (4) pollution    |



**Instruction for Q. No. 20 :**

**Read the advertisement and choose one *correct* alternative :**

**Aniket Tours and Travels**

Spend your summer vacation with fun  
and site seeing.

Book for two adults and get booking  
for two kids free.

Offer closes on 10th May.

Mode of Transport of your choice.

Aeroplane, Railway, Bus Service, Boat Service.

Choose tour plans

Goa	Coastal Karnataka
Mumbai	Gujrat
Delhi	Madhya Pradesh
Hyderabad	Kullu-Manali

e-mail : aniket.tour@gmail.com

**20.** Your friend Joseph wants to visit Coastal Karnataka. His father is busy. So they want to choose mode of transport which will make their trip of short duration.

Choose one *correct* option which make their trip of short duration :

- |                 |               |
|-----------------|---------------|
| (1) Bus Service | (2) Railway   |
| (3) Boat        | (4) Aeroplane |

**Instructions for Q. No. 21 to Q. No. 23 :**

**Read the passage and choose the *correct* option :**

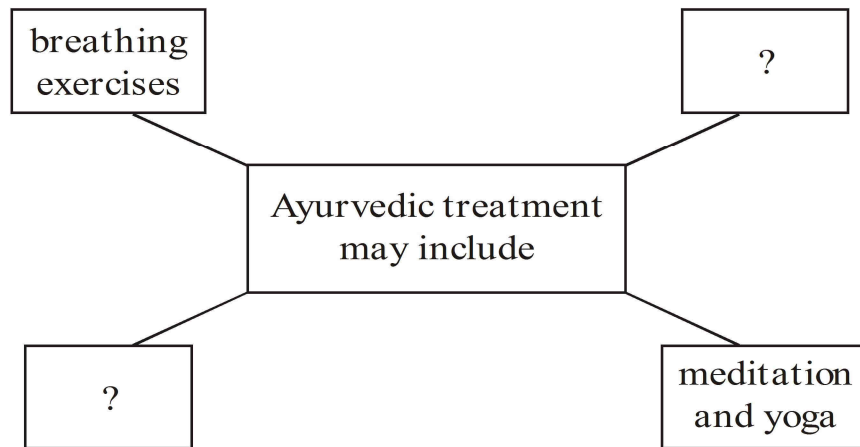
Medicine is the science and practice of diagnosis, treatment and prevention of disease. The word medicine is derived from Latin medicus, meaning 'a physician'. Ayurvedic medicine is one of the world's holistic healing. Ayurved has historical roots in Indian sub-continent. Plant based treatment in Ayurveda may be derived from roots, fruits, barks or seeds. The primary focus of Ayurvedic medicine is to promote good health rather than fight diseases. Treatment may include breathing exercises, diet changes, lifestyle changes, meditation and yoga.

**21.** Choose the correct alternative of the following :

The primary focus of Ayurvedic medicine is to promote .....

- (1) diet changes, lifestyle changes
- (2) good health rather than fight diseases
- (3) diagnosis, treatment and prevention of disease
- (4) meditation and yoga

22. Choose two correct alternatives to form the web diagram :



- (1) diet changes
- (2) historical roots
- (3) lifestyle changes
- (4) practice

23. Choose one correct alternative :

If the medicine is the science and practice of diagnosis, then .....  
is the science of earth surface and physical features.

- (1) geometry
- (2) geography
- (3) physics
- (4) global

**Instructions for Question Nos. 24 and 25 :**

**Read the passage and choose the *correct* alternatives for Question Nos. 24 and 25 :**

This is the special radio-programme about earthquakes, and what people should do in case an earthquake occurs. Of all the natural calamities earthquakes are the worst. They strike without warning, last for only a few

seconds and cause heavy damage. But remember : Do not panic during an earthquake. If you can reach open ground within seconds, do so. If you are in a building, turn away from glass windows. Take cover under a desk or table. Put both hands on the back of your neck and tuck your head down. If you are outside a building, stay out. When the earthquake is over, you can leave your shelter.

24. Complete the following web by choosing the correct option :

If earthquake occurs and you are in building, what should you do ?

(1)

Put both hands on the back of your neck.

(2)

Turn away from glass windows.

(3)

Tuck your head down.

(4)

?

- (1) climb on the bed
- (2) pull on a blanket and sleep
- (3) take cover under a desk or table
- (4) none of the above

25. Find the odd man out :

- (1) Flood
- (2) Earthquake
- (3) Drought
- (4) Bomb explosion

حصہ II

ذہنی آزمائش


سوال نمبر 26 سے 29 کے لئے ہدایت: گروہ میں شامل نہ ہونے والا رکن پہچانیے۔

(2) روز

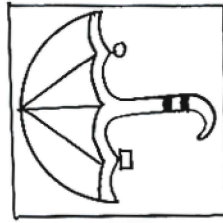
(1) دن

(4) لباس


(3) یوم



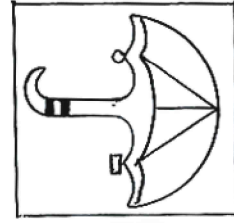
(1)



(2)



(3)



(4)

.27

2325 (2)

3436 (1) .28

5249 (4)

7164 (3)

DVC (2)

GSF (1) .29

KOL (4)

EUD (3)

Space for Rough Work

حرفی سلسلہ : ABCDE FGHIJ KLMNO PQRST UVWXY

30. گروہ میں شامل رکن پہچانیے۔ (دو صحیح متبادل تلاش کیجئے)

924, 1342, 3498

1331 (2) 1214 (1)

3905 (4) 4441 (3)

31. پہلے دو رکن کے باہمی تعلق کے مد نظر سوالیہ نشان کی جگہ آنے والے متبادل کا انتخاب کیجئے۔

(دو بالکل صحیح متبادل تلاش کیجئے)

سویا بین : خوردنی تیل :: بانس : ؟

لاکھ (1) کینچلی (2)

کاغذ (3) ٹوکری (4)

32. گنج : خزانہ :: کان : ؟ (دو صحیح متبادل کی تلاش کیجئے)

دولت (1) آمدنی (2)

معدنیات (3) عضو (4)

Space for Rough Work

حرفی سلسلہ : ABCDE FGHIJ KLMNO PQRST UVWXY

سوال نمبر 33 سے 35 کے لئے ہدایت: پہلے دو رکن کے باہمی تعلق کو دھیان میں رکھتے ہوئے سوالیہ نشان کی جگہ آنے والا متبادل تلاش کیجئے۔

.33 237 : 1728 :: 412 : ?

637 (2)

3024 (1)

343 (4)

2401 (3)

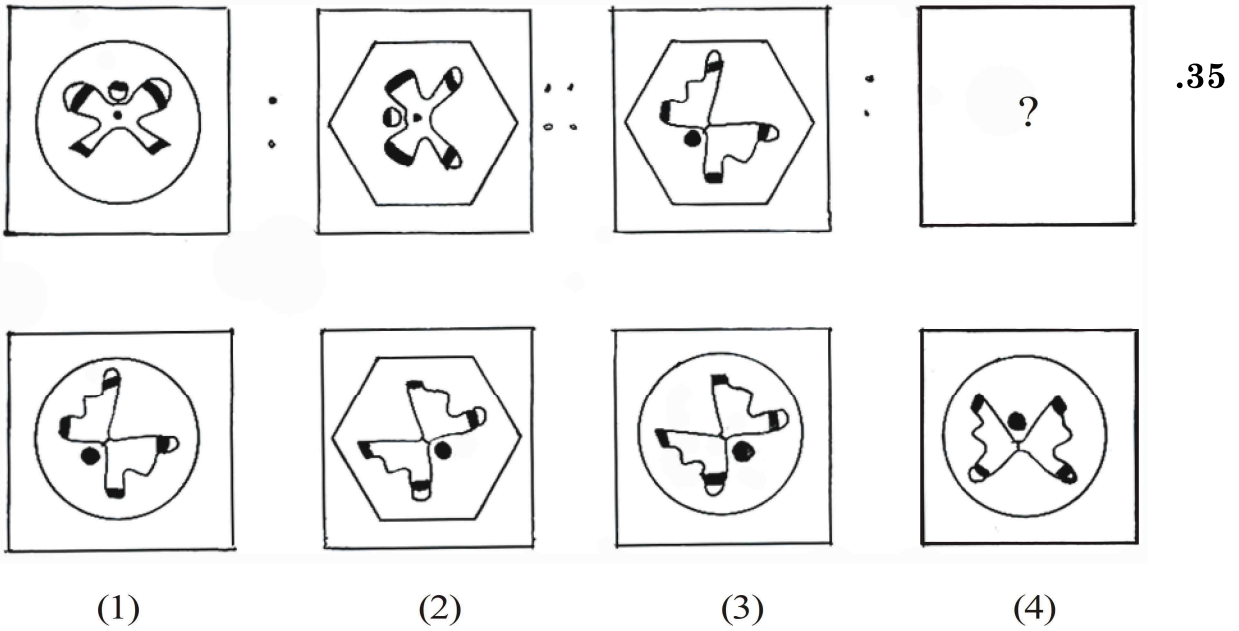
.34 CFI : WTQ :: DHL : ?

VPM (2)

VRN (1)

UQM (4)

UPM (3)



Space for Rough Work

حرفی سلسلہ : ABCDE FGHIJ KLMNO PQRST UVWXY

سوال نمبر 36 سے 39 کے لئے ہدایت: درج ذیل عددی سلسلے میں سوالیہ نشان کی جگہ آنے والے رکن کو

متبادلات میں تلاش کیجئے۔

.36 568, 467, 370, 281, 198, 119 ?

46 (2)

50 (1)

52 (4)

56 (3)

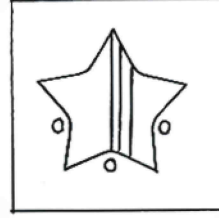
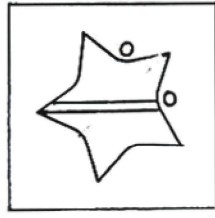
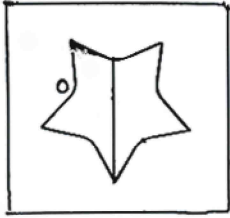
.37 1, 2, 6, 21, 88 ? 2676

645 (2)

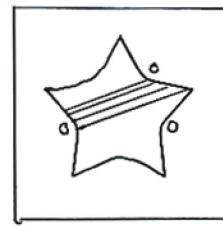
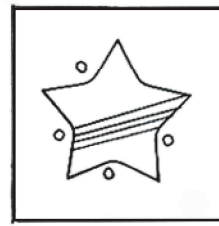

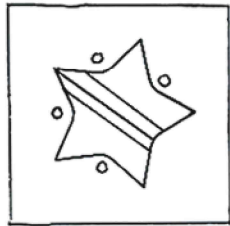
445 (1)

1350 (4)

357 (3)



.38



(1)

(2)

(3)

(4)

Space for Rough Work



حرفی سلسلہ : ABCDE FGHIJ KLMNO PQRST UVWXY

△⊕□○⊕□○⊕△⊕⊕△⊕?? ?□○⊕△○⊕△⊕□ .39

□⊕○ (2)

△○⊕ (1)

□△⊕ (4)

□○⊕ (3)

سوال نمبر 40 اور 41 کے لئے ہدایت: ذیل کے سلسلوں میں غلط رکن پہچانیے۔

23, 34, 49, 64, 83, 106, 135, 166 .40

49 (2)

64 (1)

135 (4)

83 (3)

B V F R J N M J R .41

V (2)

F (1)

M (4)

B (3)

Space for Rough Work

حرفی سلسلہ : ABCDE FGHIJ KLMNO PQRST UVWXY

سوال نمبر 42 اور 43 کے لئے ہدایت : ایک اشاراتی زبان میں 'ارم = 407'، 'نار = 420'،  
'راج = 467' لکھا جائے تو درج ذیل سوال کا جواب متبادل میں تلاش کیجئے۔

42. 'جرم' لفظ کس طرح لکھا جائے گا؟

604 (2)

760 (1)

407 (4)

764 (3)

43. 20 عدد سے تیار ہونے والے بامعنی لفظ کے ہم معنی متبادل تلاش کیجئے۔ (دو صحیح متبادل کی شناخت کیجئے)

روز (2)

پیمانہ (1)

آگ (4)

دل (3)

44. ایک اشاراتی زبان میں A کو C، B کو D اور C کو E ترتیب کے ساتھ کہا جائے تو  
P کسے کہا جائے گا؟

R (2)

N (1)

S (4)

Q (3)

Space for Rough Work



حرفی سلسلہ : ABCDE FGHIJ KLMNO PQRST UVWXY

سوال نمبر 48 سے 50 کے لئے ہدایت: ذیل کے اہرام کا مشاہدہ کر کے سوال میں دئے گئے رکن میں عدد کے مقام کی ترتیب کے مد نظر سوالیہ نشان کی جگہ آنے والے رکن کو پہچانیے۔

17

18 19

23 24 25

28 29 30 31

33 34 35 36 37

38 39 40 41 42 43

28, 33, 39, 29 : 31, 37, 42, 30 :: 34, 29, 35, 40 : ? .48

36, 30, 35, 41 (2) 41, 35, 30, 36 (1)

35, 30, 36, 41 (4) 36, 30, 25, 31 (3)

18, 28, 30, 25 : 19, 31, 29, 23 :: 38, 39, 28, 23 : ? .59

25, 31, 42, 37 (2) 25, 31, 42, 43 (1)

43, 42, 25, 31 (4) 43, 42, 31, 25 (3)

50. اہرام میں دئے ہوئے عددی سلسلے کے مطابق سوالیہ نشان کی جگہ آنے والے متبادل کا انتخاب کیجئے:

33, 39, 34, 40, 35 ? 36, 42, 37.

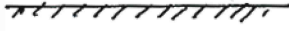
41 (2) 30 (1)

31 (4) 40 (3)


Space for Rough Work

حرفی سلسلہ : ABCDE FGHIJ KLMNO PQRST UVWXY


51. درج ذیل سوالیہ شکل میں پانی میں نظر آنے والے عکس کی شکل کو متبادلات سے تلاش کیجئے۔




(1)



(2)





(3)




(4)

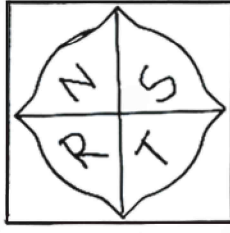
سوال نمبر 52 اور 53 کے لئے ہدایت: سوالیہ شکل میں آئینے میں نظر آنے والے عکس کو متبادلات سے تلاش کیجئے۔




(1)



(2)



(3)




(4)



52

Space for Rough Work

حرفی سلسلہ : ABCDE FGHIJ KLMNO PQRST UVWXY



.53



(1)

(2)

(3)

(4)

.54 عارف کی عمر رفیق کی عمر کے  $\frac{3}{2}$  گنا سے 3 کم اور رضوان کی عمر سے  $\frac{4}{7}$  گنا سے 2 زیادہ ہے۔

اگر رضوان کی عمر 70 سال ہے تو تینوں کی عمروں کا مجموعہ کتنا ہوگا؟

(1) 139 سال

(2) 125 سال

(3) 142 سال

(4) 152 سال

.55 متبادل میں کون سے اوقات میں گھڑی کے گھنٹے کی سوئی اور منٹ کی سوئی کے درمیان  $105^\circ$  کا

زاویہ بنتا ہے؟ (کوئی دو متبادل صحیح جواب کا انتخاب کیجئے)

(1) 3 بج کر 30 منٹ

(2) 2 بج کر 30 منٹ

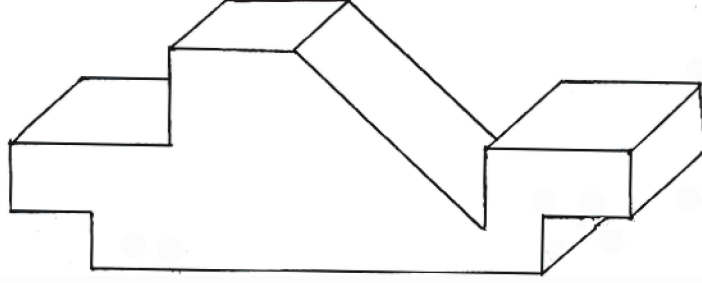
(3) 10 بج کر 30 منٹ

(4) 9 بج کر 30 منٹ

Space for Rough Work

حرفی سلسلہ : ABCDE FGHIJ KLMNO PQRST UVWXY

56. دی گئی تصویر میں لکڑی کے مکعب میں کُل کتنی سطح ہیں؟



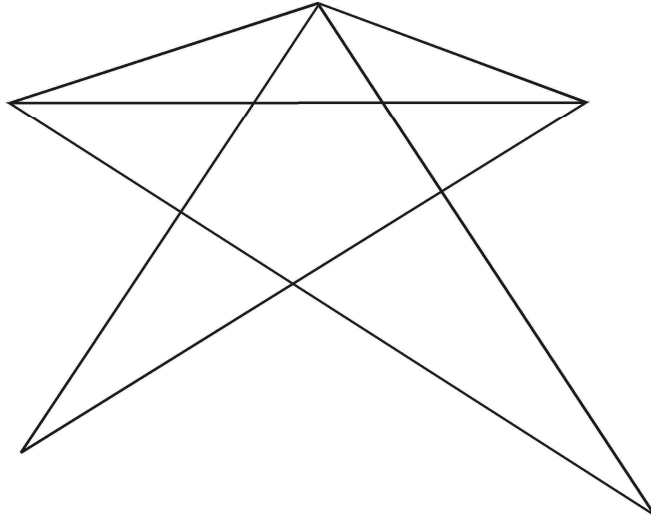
13 (2)

15 (1)

11 (4)

16 (3)

57. مندرجہ ذیل دی گئی تصویر میں کتنے مثلث ہیں؟



13 (2)

14 (1)

17 (4)

15 (3)

Space for Rough Work

حرفی سلسلہ : ABCDE FGHIJ KLMNO PQRST UVWXY

سوال نمبر 63 اور 64 کے لئے ہدایت: عددوں کی ترتیب میں اصولوں کو پہچان کر سوالیہ نشان کی جگہ آنے والے صحیح متبادل کا انتخاب کیجئے۔

63. کتنا  $8 \times 1 =$  تو  $10 \times 3 = 73$ ,  $7 \times 2 = 41$ ,  $9 \times 4 = 17$

65 (2)

67 (1)

69 (4)

63 (3)

64.  $4 \begin{array}{|c|} \hline 7 \\ \hline 20 \\ \hline 5 \\ \hline \end{array} 2$   $7 \begin{array}{|c|} \hline 4 \\ \hline 27 \\ \hline 2 \\ \hline \end{array} 3$   $5 \begin{array}{|c|} \hline 1 \\ \hline 22 \\ \hline 6 \\ \hline \end{array} 3$   $2 \begin{array}{|c|} \hline 7 \\ \hline ? \\ \hline 9 \\ \hline \end{array} 8$

24 (2)

27 (1)

26 (4)

32 (3)

65. ایک قطار میں اکبر آخر سے 7 ویں مقام پر ہے اور اصغر درمیان میں 23 ویں مقام پر ہے، تو بتائیے ان دونوں کے درمیان کتنے لڑکے کھڑے ہیں؟

15 (2)

14 (1)

16 (4)

17 (3)

Space for Rough Work



حرفی سلسلہ : ABCDE FGHIJ KLMNO PQRST UVWXY

66. اقبال مشرق کا جانب کچھ فاصلہ طئے کرنے کے بعد زاویہ قائمہ کی صورت بائیں طرف مڑتا ہے اور 50 میٹر کا فاصلہ طئے کرتا ہے وہاں سے وہ دائیں طرف  $135^\circ$  کے زاویے کی صورت میں مڑتا ہے اور 15 میٹر فاصلہ طئے کرتا ہے تو بتائیے اُس کے بائیں ہاتھ کے جانب کون سی سمت ہوگی؟

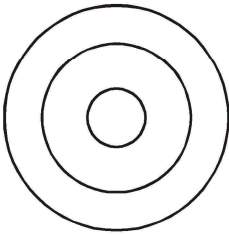
- (1) شمال مشرق (2) شمال مغرب  
(3) جنوب مغرب (4) جنوب مشرق

67. ایک لپ سال میں 15 مارچ منگل کے روز تھا، تو اس کے بعد آنے والے 13 نومبر کو کون سا دن ہوگا؟

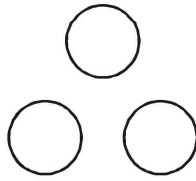
- (1) اتوار (2) سنیچر  
(3) بدھ (4) پیر

سوال نمبر 68 اور 69 کے لئے ہدایت: سوال میں دئے گئے رکن کون سے وین خاکے سے ملتے ہیں۔ متبادل کی تلاش کیجئے۔

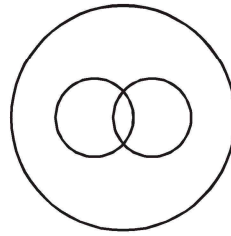
68. رموز و اوقاف، سکتہ، وقعہ



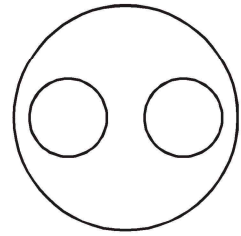
(1)



(2)



(3)

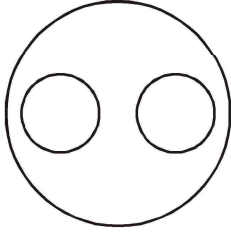


(4)

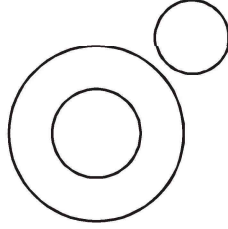
Space for Rough Work

حرفی سلسلہ : ABCDE FGHIJ KLMNO PQRST UVWXY

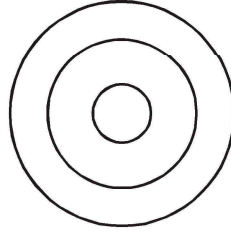
69. غیر فقریے جاندار، سانپ، کچھوا



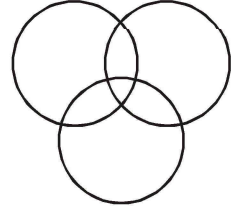
(1)



(2)



(3)



(4)

70. دئے گئے خاکے میں سوالیہ نشان کی جگہ کون سا متبادل ہوگا؟

53	17	67
11	?	23
41	83	13

29 (2)

43 (4)

37 (1)

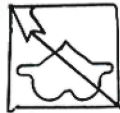
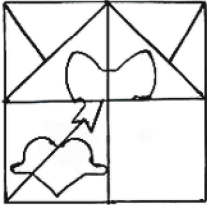
31 (3)

سوال نمبر 71 اور 72 کے لئے ہدایت: دی گئی سوالیہ شکل کو مکمل کرنے کے لئے صحیح متبادل تلاش کیجئے۔

سوالیہ شکل

متبادل اشکال

71



(1)



(2)



(3)



(4)

Space for Rough Work

حرفی سلسلہ : ABCDE FGHIJ KLMNO PQRST UVWXY

سوالیہ شکل

متبادل اشکال

.72



(1)



(2)



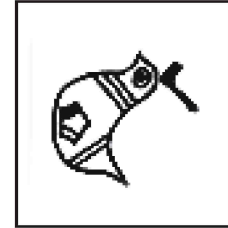
(3)



(4)

.73 سوالیہ شکل سے ہو بہو ملنے والی شکل کو متبادلات سے تلاش کیجئے:

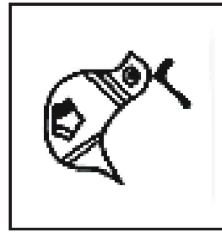
سوالیہ شکل



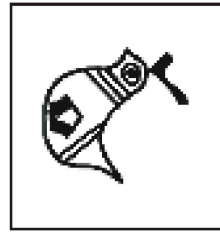
متبادل اشکال



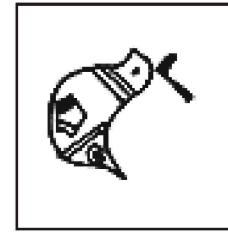
(1)



(2)



(3)




(4)

Space for Rough Work

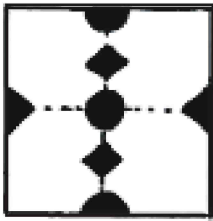
حرفی سلسلہ : ABCDE FGHIJ KLMNO PQRST UVWXY

74. سوالیہ شکل کے کاغذ کو تہہ کر کے کاٹا گیا اور کھولا گیا تو اُس کی شکل دئے گئے متبادلات میں سے کون سی ہوگی؟

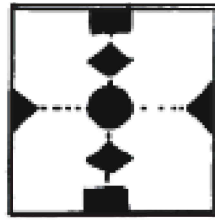
سوالیہ شکل



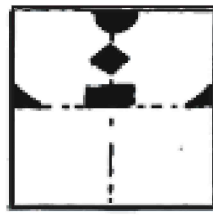
متبادل اشکال



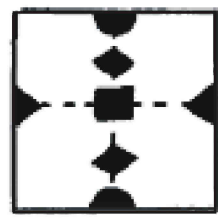
(1)



(2)




(3)



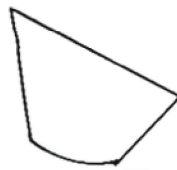
(4)

75. نیچے دی گئی سوالیہ شکل کا چھپا ہوا حصہ متبادلات میں سے تلاش کیجئے:

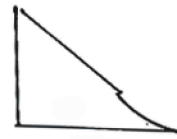
سوالیہ شکل



(1)



(2)



(3)



(4)

Space for Rough Work

26. 'شریقہ کی شادی میں شریک ہونے والے شرکاء نے شکر کا شربت نوش فرمایا'۔ اس جملے میں

کون سا حرف سب سے زیادہ مرتبہ آیا ہے؟

(1) ش (2) ت

(3) ی (4) ن

27. جہاں بھائی چارہ، 'محبت' مساوات، ہمدردی اور سخاوت ہوگی وہاں امن و امان ہوگا۔

اوپر دئے گئے جملے میں مرکب الفاظ کتنے بار آئے ہیں؟

(1) تین (2) پانچ

(3) دو (4) چار

28. پ گ ن ر و ا ان حروف کو جوڑ کر بمعنی لفظ بنائیے۔ اس بمعنی لفظ کے پہلے،

دوسرے اور آخری حرف سے بننے والے لفظ کا ہم معنی لفظ کون سا ہے؟ (دو صحیح متبادل کا

انتخاب کیجئے)

(1) آتش (2) آب

Space for Rough Work

حرفی سلسلہ : ABCDE FGHIJ KLMNO PQRST UVWXY

(3) پانی (4) آگ

29. وش، م، ر، م، ر، غ، ل، وش، ر، م، ر، ی، ر، ل،

درج بالا حروفی سلسلے میں م سے فوراً قبل اور م کے فوراً بعد ز، کتنی بار آیا ہے؟

(1) چار (2) تین

(3) دو (4) پانچ

30. حروفی سلسلہ:

bddpqpdbbqpdqdb

درج بالا حروفی سلسلے میں درمیان میں آنے والے حرف کے بائیں جانب کے چوتھے حرف

سے اگر گنا جائے تو دائیں طرف کا سا تو اس حرف کون سا ہے؟

(1) b (2) d

(3) p (4) q

Space for Rough Work

**Space for Rough Work**

## Space for Rough Work