

पूर्व माध्यमिक शिष्यवृत्ती परीक्षा (कक्षा 8वीं), फरवरी 2017

आसन क्र.

--	--	--	--	--	--	--	--	--	--

0322

Set

A

प्रश्नपत्रिका क्र. II

पृष्ठ : 32

माध्यम : हिंदी
तृतीय भाषा व बुद्धिमत्ता जाँच

समय : 1.30 से 3.00

कुल अंक : 150

प्रश्न-पत्र हल करने के पहले कृपया निम्नलिखित सूचनाएँ ध्यान से पढ़िए ।

- (1) इस प्रश्न-पत्र में दो विभाग हैं। उनमें से विभाग I में तृतीय भाषा के लिए 25 प्रश्न होकर विभाग II में बुद्धिमत्ता जाँच विषय के लिए 50 प्रश्न हैं। सभी प्रश्नों को हल करना आवश्यक है।
- (2) प्रत्येक प्रश्न के लिए 2 अंक हैं।
- (3) प्रश्न-पत्र हल करने के लिए कुल 90 मिनट का समय दिया जाएगा।
- (4) उत्तरों को दर्ज करने के लिए स्वतंत्र उत्तर-पुस्तिका दी गयी है। प्रत्येक प्रश्न क्रमांक के सामने चार पर्यायों के लिए क्रमागत वृत्त दिए हैं। उनमें से अचूक उत्तर का पर्याय क्रमांक होने वाला वृत्त आगे के उदाहरण में दर्शाए अनुसार रंग भरें।

उदाहरण — प्रश्न क्र. 6 के सही उत्तर का पर्याय क्रमांक 2 हो, तो आगे दर्शाए अनुसार दर्ज करें :
प्रश्न क्र. 6

① ● ③ ④

- (5) नीचे दिए अनुसार दर्ज किए गए उत्तरों को गृहीत नहीं माना जाएगा। ऐसा उत्तर लिखने पर 'शून्य' अंक दिए जायेंगे।

① ② ● ④

- (6) पर्याय के उत्तर दर्ज करते समय सिर्फ काले अथवा नीले स्याही वाले बॉल पेन का ही इस्तेमाल करें। पेन्सिल से दर्ज किए उत्तर मान्य नहीं किए जाएंगे।
- (7) एक बार दर्ज किया गया उत्तर फिर से नहीं बदल सकते।
- (8) प्रश्न-पत्र में कम-से-कम 20% प्रश्नों के बारे में उत्तरों के चार पर्यायों में से दो पर्याय अचूक होंगे। वे दोनों पर्याय दर्ज करना आवश्यक है। उसके लिए उस प्रश्न के सामने 'दो अचूक पर्याय चुनिए' ऐसी सूचना दी गयी है।
- (9) 'दो अचूक पर्याय चुनिए' ऐसी सूचना दिए गए प्रश्नों के अलावा बाकी प्रत्येक प्रश्न के लिए एक से अधिक वृत्तों में दर्ज किए गए उत्तर और काट-छोट करके दर्ज किए गए उत्तर मान्य नहीं किए जायेंगे।
- (10) प्रश्न-पत्र के प्रत्येक पन्ने पर नीचे और आखिरी पन्नों पर कच्चा कार्य करने के लिए खाली जगह है, वहीं पर कच्चा कार्य कीजिए।
- (11) परीक्षा के लिए निर्धारित समय होने के कारण किसी प्रश्न का उत्तर आपको न आता हो, तो अगला प्रश्न हल कीजिए। अंत में समय बचे तो छोड़े हुए प्रश्नों के लिए फिर से प्रयत्न करें।
- (12) किसी प्रश्न में त्रुटि/गलती दिखायी देने पर उसके बारे में पर्यवेक्षक अथवा केंद्रसंचालक के पास पूछताछ न करें।
- (13) प्रश्न में स्थित त्रुटि/गलती/आक्षेप के बारे में आपका लिखित निवेदन पाठशाला अथवा पालकों की ओर से गटशिक्षणाधिकारी अथवा शिक्षणाधिकारी के पास न भेजकर सीधे परीक्षा परिषद की ओर मा. आयुक्त के नाम प्रत्यक्ष/डाक द्वारा/ई-मेल द्वारा भेजें।
- (14) त्रुटि/गलती/आक्षेप के बारे में लिखित निवेदन भेजने की मुदत/अवधि परीक्षा परिषद के संकेतस्थल पर अंतरिम (थोड़े समय के लिए) उत्तरसूची प्रसिद्ध होने के समय से 10 (दस) दिन तक होगी। अवधि/मुदत के अंतिम दिन तक परिषद को प्राप्त हुए लिखित निवेदनों पर ही गौर किया जाएगा।
- (15) छपाई दोष अथवा अन्य कारणों से प्रश्न गलत पाया गया तो तज्ञ समिति के अभिप्राय के अनुसार वह रद्द किया जायेगा।

विभाग I

तृतीय भाषा

Instructions for Question Nos. 1 to 3 :

Read the passage and choose the *correct* option :

Medicine is the science and practice of diagnosis, treatment and prevention of disease. The word medicine is derived from Latin medicus, meaning 'a physician'. Ayurvedic medicine is one of the world's holistic healing. Ayurved has historical roots in Indian sub-continent. Plant based treatment in Ayurveda may be derived from roots, fruits, barks or seeds.

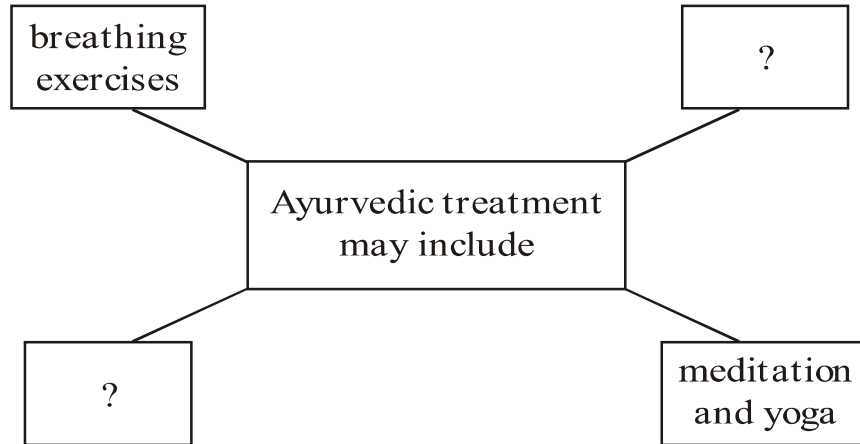
The primary focus of Ayurvedic medicine is to promote good health rather than fight diseases. Treatment may include breathing exercises, diet changes, lifestyle changes, meditation and yoga.

1. Choose the *correct* alternative of the following :

The primary focus of Ayurvedic medicine is to promote

- (1) diet changes, lifestyle changes
- (2) good health rather than fight diseases
- (3) diagnosis, treatment and prevention of disease
- (4) meditation and yoga

2. Choose two *correct* alternatives to form the web diagram :



- (1) diet changes
- (2) historical roots
- (3) lifestyle changes
- (4) practice

3. Choose one *correct* alternative :

If the medicine is the science and practice of diagnosis, then
is the science of earth surface and physical features.

- (1) geometry
- (2) geography
- (3) physics
- (4) global

Instructions for Question Nos. 4 and 5 :

Read the passage and choose the *correct* alternatives for Question Nos. 4 and 5 :

This is the special radio-programme about earthquakes, and what people should do in case an earthquake occurs. Of all the natural calamities earthquakes are the worst. They strike without warning, last for only a few seconds and cause heavy damage. But remember : Do not panic

during an earthquake. If you can reach open ground within seconds, do so. If you are in a building, turn away from glass windows. Take cover under a desk or table. Put both hands on the back of your neck and tuck your head down. If you are outside a building, stay out. When the earthquake is over, you can leave your shelter.

4. Complete the following web by choosing the *correct* option :

If earthquake occurs and you are in building, what should you do ?

(1)

Put both hands on the back of your neck.

(2)

Turn away from glass windows.

(3)

Tuck your head down.

(4)

?

- (1) climb on the bed
- (2) pull on a blanket and sleep
- (3) take cover under a desk or table
- (4) none of the above

5. Find the odd man out :

- (1) Flood
- (2) Earthquake
- (3) Drought
- (4) Bomb explosion

6. Find out meaningful word related to internet from jumbled words :

kipewidia

- (1) Encyclopedia (2) Web-site
(3) Knowledge (4) Wikipedia

7. Read the sentences. Find out the word which gives *correct* meaning of sentence :

Gopal wanted to choose the royal physician for Maharaja. He called the candidates who could relieve him from

- (1) pens (2) pains
(3) panes (4) pence

8. Choose the *correct* alternative from the following options which means :

Mansukh could not walk fast but he found a long, thick rope out of his luggage. The ill feeling vanished in a flash.

- (1) in some seconds (2) at once
(3) after sometime (4) with lightening

9. Four pairs are given. Which pair is *not* pair of opposite words ?

- (1) incomplete × complete (2) poor × rich
(3) hard × easy (4) praise × admire

10. Choose the *correct* option which doesn't match the situation :

Raman got first prize in competition. His mother showed happiness.

She said,

- (1) "What a pleasant surprise !"
- (2) "What a clever boy you are !"
- (3) "How hardworking you are !"
- (4) "Don't run away."

11. Read the sentence and choose two *correct* options by guessing the meaning of underlined word :

The teacher said, "Look at every plant. Choose that part which has medicinal value."

- (1) place where industrial process takes place
- (2) to put in the ground to grow, useful to us in many ways
- (3) a place where power is produced
- (4) a living thing that grows on the earth and usually has stem, leaves, roots

12. Read the riddle and choose the *correct* alternative :

I have three blades,

It rotates in clockwise direction,

It gives cool air and breeze when you switch on,

It makes you pleasant in summer.

- (1) window
- (2) fan
- (3) helicopter
- (4) grinder

13. Choose the *correct* alternative which is used to make food tasty and delicious :

O	P	E	S	S	P
F	I	A	A	L	E
A	R	L	L	M	P
N	Y	H	T	N	P
Z	G	S	S	O	E
G	I	N	G	E	R

- (1) GARLIC (2) CHILLY
 (3) MINT (4) GINGER

14. Choose the *correct* alternative :

Ancient Indian the science of ship-building and navigation very well.

- (1) knows (2) know
 (3) knew (4) had known

15. Choose the *correct* alternative from the following table :

Column 'A'	Column 'B'
(1) Teacher told many stories.	(a) Many stories will be told by teacher.
(2) Teacher was telling many stories.	(b) Many stories were told by teacher.
(3) Teacher tells many stories.	(c) Many stories were being told by teacher.
(4) Teacher will tell many stories.	(d) Many stories are told by teacher.

(1) (1)—(b), (2)—(c), (3)—(d), (4)—(a)

(2) (1)—(c), (2)—(b), (3)—(a), (4)—(d)

(3) (1)—(d), (2)—(a), (3)—(b), (4)—(c)

(4) (1)—(a), (2)—(c), (3)—(b), (4)—(d)

16. Find out the *correct* alternative for the type of tense of underlined word :

Ninad flew his kite and the kite rose high in the sky.

(1) Simple present tense (2) Present perfect tense

(3) Past perfect tense (4) Simple past tense

17. Complete the sentence using the *correct* conjunction to form sentence of indirect speech :

Don Quixote said he was not afraid of his enemy.

- (1) to (2) that
(3) if (4) why

18. Identify the adjectives from the given words. Choose two *correct* alternatives :

- (1) small (2) buy
(3) hopeful (4) cook

19. Read the following conversation. Choose the *correct* alternative which shows permission :

Student → I come in ?

Teacher → Yes, come in.

- (1) Can (2) Could
(3) Will (4) May

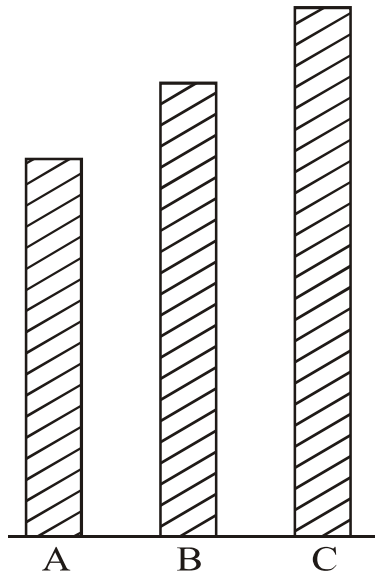
20. Read the dialogue. Choose the *correct* alternative :

Meenakshi → Where is the bird ?

Madhukaka → There it is. It is that bush.

- (1) behind (2) into
(3) in (4) above

21. Choose one *correct* alternative :



- (1) Stick 'C' is the largest stick of all.
- (2) Stick 'B' is not as long as stick 'A'.
- (3) Stick 'A' is longer than stick 'B'.
- (4) The stick 'C' is no longer than stick 'A'.

22. Read the following note. Choose the *correct* alternative :

Mother returned home along with grandfather. She found Prachi's note.

Dear Mother,

I have gone out to buy books. My friend will stay with us. Please cook some food.

- (1) tasty
- (2) salty
- (3) boiled
- (4) raw

23. Read the conversation between Sanjay and the stranger at the bus-stop. Choose one *correct* alternative :

Sanjay → Excuse me, which bus does go to railway station ?

Stranger → Bus No. 143 goes to railway station.

Sanjay → Thanks.

Stranger → please.

Sanjay → Yes, Sir.

- (1) Hold on (2) Wait for your turn
(3) Show your ID (4) Silence

24. Choose one *correct* alternative :

Use cycle, gain health, save wealth, free from

- (1) meditation (2) conversation
(3) relation (4) pollution

Instruction for Q. No. 25 :

Read the advertisement and choose one *correct* alternative :

Aniket Tours and Travels

Spend your summer vacation with fun
and site seeing.

Hurry !
Last ten
days left

Book for two adults and get booking
for two kids free.

Offer closes on 10th May.

Mode of Transport of your choice.

Aeroplane, Railway, Bus Service, Boat Service.

Choose tour plans

Goa	Coastal Karnataka
Mumbai	Gujrat
Delhi	Madhya Pradesh
Hyderabad	Kullu-Manali

e-mail : aniket.tour@gmail.com

25. Your friend Joseph wants to visit Coastal Karnataka. His father is busy. So they want to choose mode of transport which will make their trip of short duration.

Choose one *correct* option which make their trip of short duration :

- | | |
|-----------------|---------------|
| (1) Bus Service | (2) Railway |
| (3) Boat | (4) Aeroplane |

विभाग II

बुद्धिमत्ता जाँच

26. 'कल हमने सुबह प्रथम स्कूल की स्वच्छता करके घर आए और दूरदर्शन पर 'समृद्ध भारत' कार्यक्रम देखा।' इस वाक्य में दो अक्षरों के शब्द तीन अक्षरों वाले शब्दों की अपेक्षा कितने अधिक अथवा कम हैं ?

- (1) 3 से कम (2) 3 से अधिक
(3) 4 से कम (4) 5 से कम

27. 'साक्षी ने स्वयं की अभ्यास-पुस्तिका में शास्त्र, अध्याहत, ज्ञानामृत, क्लृप्ती व श्रृंग इन गलत शब्दों को दुरुस्त किया।' इस वाक्य में कुल कितनी बार जोडाक्षर आये हैं ?

- (1) 8 (2) 14
(3) 10 (4) 12

Space for Rough Work

अक्षरमाला : ABCDE FGHIJ KLMNO PQRST UVWXY

28. पंख, कुरंग, चंद्रिका, पैंजण, संप, संक्षिप्त, चिंतन, चिंच, तंत्र, संघ, आंबा, स्तंभ, पंडित, पाठांतर इन शब्दों में कौनसे अनुनासिक समान बार आये हैं ? (दो अचूक पर्याय चुनिए।)

(1) ङ्

(2) ज्

(3) म्

(4) न्

29. च, वा, भा, क, व इन अक्षरों से बनने वाले अर्थपूर्ण शब्द के क्रम से कौनसे अक्षर लेने पर 'दरारा' अर्थ का शब्द तैयार होगा ?

(1) 3, 4, 5

(2) 1, 5

(3) 2, 4, 5

(4) 5, 4, 2

30. अक्षरमाला : bddpqpdbbqpdpdbdqdb

ऊपर दी गयी अक्षरमाला में बीच में आए अक्षर के बायीं ओर से चौथे अक्षर से गिनती करने पर दाहिनी ओर से सातवाँ अक्षर कौनसा है ?

(1) b

(2) d

(3) p

(4) q


Space for Rough Work

प्र. 31 से 34 के लिए सूचना :

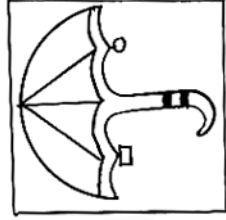
समूह का असंगत पद पहचानो :

31. (1) दिन (2) वासर
(3) दिवस (4) वसन


32.



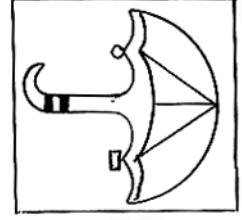
(1)



(2)



(3)



(4)

33. (1) 3436 (2) 2325
(3) 7164 (4) 5249

34. (1) GSF (2) DVC
(3) EUD (4) KOL

Space for Rough Work

35. समूह का संगत पद चुनिए। (दो अचूक पर्याय चुनिए।)

924, 1342, 3498

(1) 1214 (2) 1331

(3) 4441 (4) 3905

36. प्रथम दो पदों का सहसंबंध ध्यान में रखकर प्रश्नचिह्न के स्थान पर आने वाला उचित पर्याय चुनिए। (दो अचूक पर्याय चुनिए।)

सोयाबीन : खाने का तेल :: बांबू : ?

(1) लाख (2) कात

(3) कागज (4) टोकरी

37. प्रथम दो पदों का सहसंबंध ध्यान में रखकर प्रश्नचिह्न के स्थान पर आने वाला उचित पर्याय चुनिए। (दो अचूक पर्याय चुनिए।)

अर्क : सहस्रकर :: तीर : ?

(1) धनुष (2) शरण

(3) बाण (4) किनारा

Space for Rough Work

अक्षरमाला : ABCDE FGHIJ KLMNO PQRST UVWXY

प्र. 38 से 40 के लिए सूचना :

प्रथम दो पदों का सहसंबंध ध्यान में रखकर प्रश्नचिह्न के स्थान पर उचित पर्याय चुनिए :

38. 237 : 1728 :: 412 : ?

(1) 3024

(2) 637

(3) 2401

(4) 343

39. CFI : WTQ :: DHL : ?

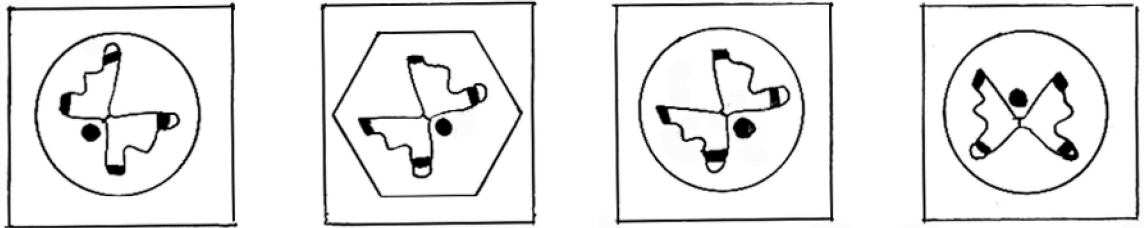
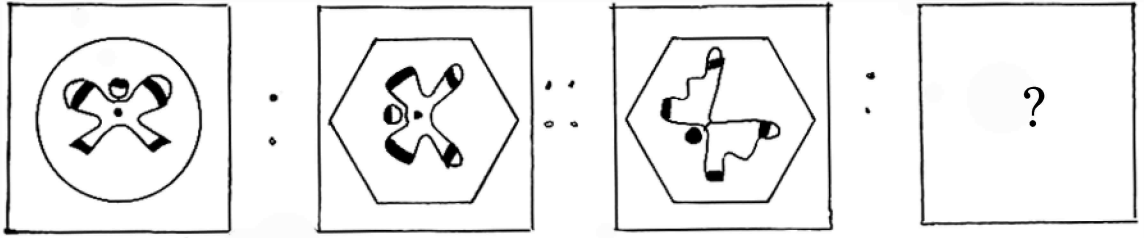
(1) VRN

(2) VPM

(3) UPM

(4) UQM

40.



(1)

(2)

(3)

(4)

Space for Rough Work

अक्षरमाला : ABCDE FGHIJ KLMNO PQRST UVWXY

प्र. 41 से 44 के लिए सूचना :

नीचे दी गयी श्रृंखला में प्रश्नचिह्न के स्थान पर आने वाला पद पर्यायों में से चुनिए :

41. 568, 467, 370, 281, 198, 119, ?

(1) 50

(2) 46

(3) 56

(4) 52

42. 1, 2, 6, 21, 88, ?, 2676

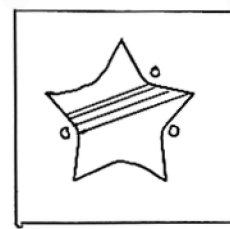
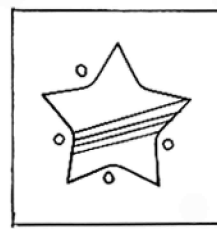
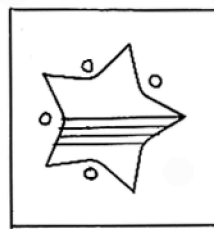
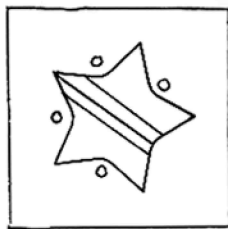

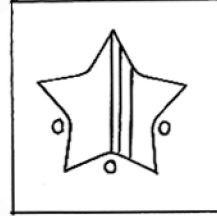
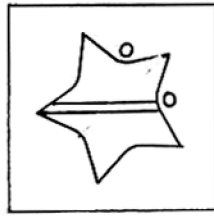
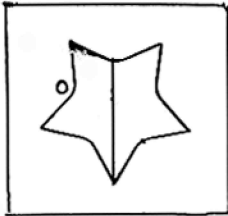
(1) 445

(2) 645

(3) 357

(4) 1350

43.



(1)

(2)

(3)

(4)

Space for Rough Work

अक्षरमाला : ABCDE FGHIJ KLMNO PQRST UVWXY

44. $\triangle \oplus \square \ominus \square \oplus \square \oplus \triangle \oplus \square \oplus \triangle \oplus ? ? ? \square \oplus \triangle \oplus \triangle \oplus \square$

(1) $\triangle \oplus \square$

(2) $\square \oplus \triangle$

(3) $\square \oplus \triangle$

(4) $\square \oplus \triangle$

प्र. 45 व 46 के लिए सूचना :

आगे दी गई श्रृंखला के गलत शब्द पहचानिए :

45. 23, 34, 49, 64, 83, 106, 135, 166

(1) 64

(2) 49

(3) 83

(4) 135

46. B V F R J N M J R

(1) F

(2) V

(3) B

(4) M

Space for Rough Work

प्र. 47 व 48 के लिए सूचना :

एक सांकेतिक भाषा में 'कसर' = 407, 'रजक' = 420, 'सदर' = 467 इस प्रकार लिखते हैं, तो निम्नलिखित प्रश्नों के उत्तरों का पर्याय चुनिए :

47. 'दसक' शब्द सांकेतिक भाषा में किस प्रकार लिखोगे ?

- (1) 760 (2) 604
(3) 764 (4) 407

48. 40 इस अंक से बनने वाले अर्थपूर्ण शब्द का अर्थ पर्यायों में से चुनिए। (दो अचूक पर्याय चुनिए।)

- (1) किरण (2) पद
(3) हस्त (4) कर्ण

49. किसी सांकेतिक भाषा में A को C, B को D, C को E ऐसे क्रम से पुकारा जाए तो किसको 'P' कहेंगे ?

- (1) N (2) R
(3) Q (4) S

Space for Rough Work

अक्षरमाला : ABCDE FGHIJ KLMNO PQRST UVWXY

प्र. 50 से 52 के लिए सूचना :

दी गयी क्रमबद्ध रचना के पदों का क्रम ध्यान में रखकर प्रश्नचिह्न के स्थान पर उचित पद चुनिए :

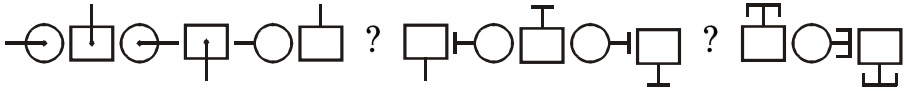
50. ब क फ व ष प फ ब क प व ष क फ ब ष प व ब ? ? ? ष प

(1) फ क व


(2) क फ व

(3) व फ क

(4) क प व

51. 

(1) 

(2) 

(3) 

(4) 

52. 2 5 6 9 8 4 7 6 9 8 4 7 2 5 8 4 7 2 5 6 9 7 2 ? ? ? 8 4

(1) 9 6 5

(2) 6 5 9

(3) 5 6 9

(4) 2 6 9

Space for Rough Work

अक्षरमाला : ABCDE FGHIJ KLMNO PQRST UVWXY

प्र. 53 से 55 के लिए सूचना :

दिए गए स्तूप का निरीक्षण करके प्रश्नों के पदों में होने वाले अंकों के स्थानों का क्रम ध्यान में रखकर प्रश्नचिह्न के स्थान पर आने वाला पद पहचानिए :

17

18 19

23 24 25

28 29 30 31

33 34 35 36 37

38 39 40 41 42 43

53. 28, 33, 39, 29 : 31, 37, 42, 30 :: 34, 29, 35, 40 : ?

(1) 41, 35, 30, 36 (2) 36, 30, 35, 41

(3) 36, 30, 25, 31 (4) 35, 30, 36, 41

54. 18, 28, 30, 25 : 19, 31, 29, 23 :: 38, 39, 28, 23 : ?

(1) 25, 31, 42, 43 (2) 25, 31, 42, 37

(3) 43, 42, 31, 25 (4) 43, 42, 25, 31

55. स्तूप में स्थित संख्याओं में से शृंखला के प्रश्नचिह्न के स्थान पर उचित पर्याय चुनिए :

33, 39, 34, 40, 35, ?, 36, 42, 37.


(1) 30 (2) 41

(3) 40 (4) 31

Space for Rough Work

अक्षरमाला : ABCDE FGHIJ KLMNO PQRST UVWXY

56. नीचे दी गई आकृति का पानी में दिखायी देने वाले प्रतिबिंब वाली आकृति पर्यायों में से चुनिए :



(1)



(2)



(3)




(4)

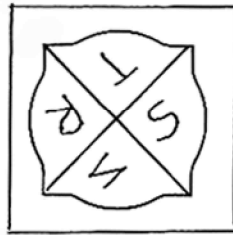
प्र. 57 व 58 के लिए सूचना :

प्रश्नाकृति की दर्पण में दिखायी देने वाली प्रतिमा पर्यायों में से चुनिए :

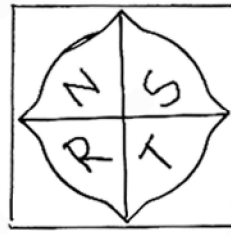
57.




(1)



(2)



(3)



(4)

Space for Rough Work

58.



(1)



(2)



(3)



(4)

59. अजय की आयु रमेश की आयु के $\frac{3}{2}$ गुना से 3 से कम होकर धोंडिबा के $\frac{4}{7}$ गुना से 2 से अधिक है। यदि धोंडिबा की आयु 70 वर्ष हो, तो तीनों की आयु का योगफल कितना होगा ?

(1) 139 वर्ष

(2) 125 वर्ष

(3) 142 वर्ष

(4) 152 वर्ष

60. निम्नलिखित में से कौनसे समय पर घड़ी के बड़े काँटे (सुई) और छोटे काँटे (सुई) में 105° का कोण बनता है ? (दो अचूक पर्याय चुनिए।) :

(1) 3 बजकर 30 मिनट

(2) 2 बजकर 30 मिनट

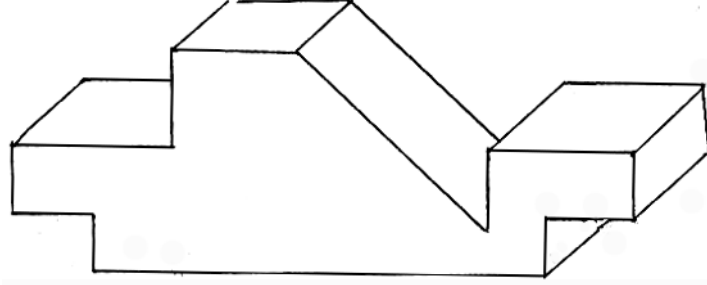
(3) 10 बजकर 30 मिनट

(4) 9 बजकर 30 मिनट

Space for Rough Work

अक्षरमाला : ABCDE FGHIJ KLMNO PQRST UVWXY

61. नीचे दिए गए लकड़ी के गुटके में कुल कितने पृष्ठ हैं ?



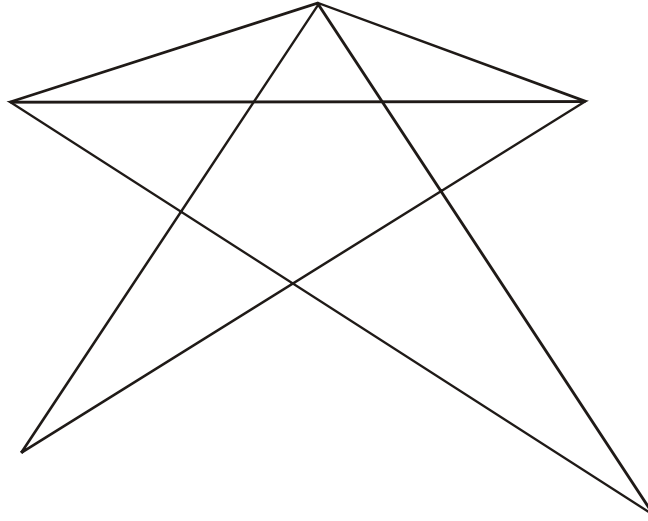
(1) 15

(2) 13

(3) 16

(4) 11

62. नीचे दी गयी आकृति में कुल कितने त्रिभुज हैं ?



(1) 14

(2) 13

(3) 15

(4) 17

Space for Rough Work

प्र. 63 व 64 के लिए सूचना :

दी गयी संख्याओं की रचना का सूत्र पहचानकर प्रश्नचिह्न के स्थान पर उचित पर्याय चुनिए :

63. $9 \times 4 = 17$, $7 \times 2 = 41$, $10 \times 3 = 73$, तो $8 \times 1 = ?$

(1) 67

(2) 65

(3) 63

(4) 69

64. $4 \begin{array}{|c|} \hline 7 \\ \hline 20 \\ \hline 5 \\ \hline \end{array} 2$ $7 \begin{array}{|c|} \hline 4 \\ \hline 27 \\ \hline 2 \\ \hline \end{array} 3$ $5 \begin{array}{|c|} \hline 1 \\ \hline 22 \\ \hline 6 \\ \hline \end{array} 3$ $2 \begin{array}{|c|} \hline 7 \\ \hline ? \\ \hline 9 \\ \hline \end{array} 8$

(1) 27

(2) 24

(3) 32

(4) 26

65. एक कतार में गोविंद पीछे से सातवें स्थान पर है और गोपाल मध्य में 23वें स्थान पर है, तो दोनों के बीच में कितने लड़के हैं ?

(1) 14

(2) 15

(3) 17

(4) 16

Space for Rough Work

अक्षरमाला : ABCDE FGHIJ KLMNO PQRST UVWXY

66. स्वराज पूर्व की ओर कुछ दूर जाने पर समकोण में बायीं ओर मुड़ा और 50 मी. दूर चला। वहाँ से वह दाहिनी ओर 135° पर मुड़ा और 15 मी. चला, तो अब उसके बायीं ओर कौनसी दिशा होगी ?

- (1) उत्तरपूर्व (2) उत्तरपश्चिम
(3) दक्षिणपश्चिम (4) दक्षिणपूर्व

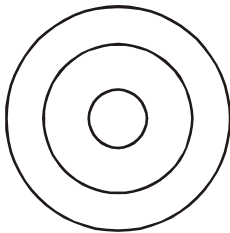
67. एक लीप वर्ष में 15 मार्च को मंगलवार था, तो उसके बाद आने वाले 13 नवंबर को कौनसा दिन होगा ?

- (1) रविवार (2) शनिवार
(3) बुधवार (4) सोमवार

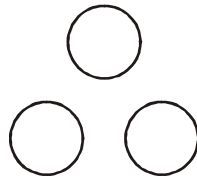
प्र. 68 व 69 के लिए सूचना :

प्रश्न में दिए गए घटक कौनसी वेन आकृति से सही मिलते हैं वह पर्याय चुनिए :

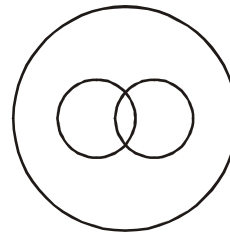
68. विरामचिह्ने, अपसारणचिह्न, अर्धविराम



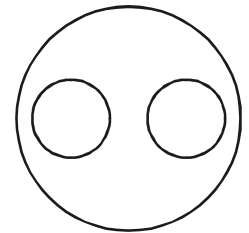
(1)



(2)



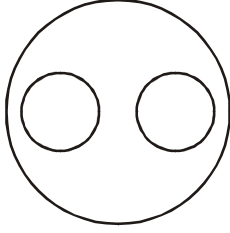
(3)



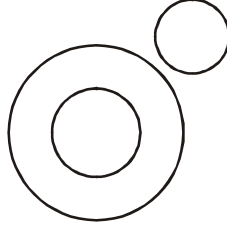
(4)

Space for Rough Work

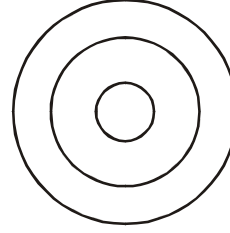
69. अपृष्ठवंशीय प्राणी, साप, केंचुआ



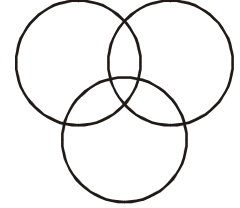
(1)



(2)



(3)



(4)

70. दिए गए चौखट में प्रश्नचिह्न के स्थान पर आने वाले पर्याय का उचित पर्याय चुनिए :

53	17	67
11	?	23
41	83	13

(1) 37

(2) 29

(3) 31

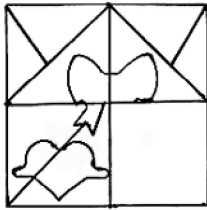
(4) 43

प्र. 71 व 72 के लिए सूचना :

दी गई प्रश्न आकृति पूर्ण करने के लिए उचित पर्याय चुनिए :

71. प्रश्न आकृति

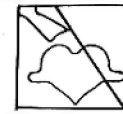
उत्तर आकृतियाँ



(1)



(2)



(3)

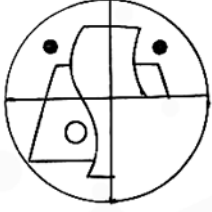


(4)

Space for Rough Work

72. प्रश्न आकृति

उत्तर आकृतियाँ



(1)



(2)




(3)



(4)

73. प्रश्न आकृति के साथ हूबहू मिलने वाली उचित आकृति पर्यायों में से चुनिए :


प्रश्न आकृति




उत्तर आकृतियाँ




(1)



(2)



(3)




(4)

Space for Rough Work

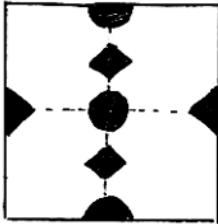
अक्षरमाला : ABCDE FGHIJ KLMNO PQRST UVWXY

74. प्रश्न आकृति के कागज को मोड़कर काटा और फिर खोला तो उसका आकार पर्याय की कौनसी आकृति के जैसा दिखायी देगा ?

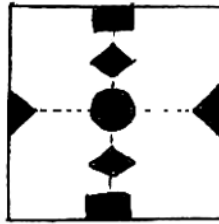
प्रश्न आकृति



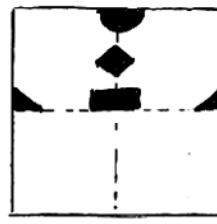
उत्तर आकृतियाँ



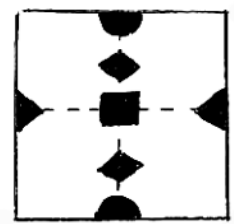
(1)



(2)



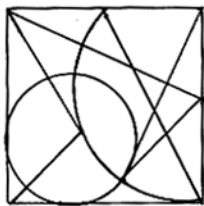
(3)



(4)

75. दी गयी प्रश्न आकृति का छिपा हुआ हिस्सा पर्यायों में से चुनिए :

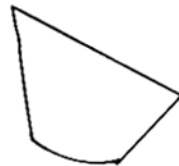
प्रश्न आकृति



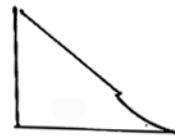
उत्तर आकृतियाँ



(1)



(2)



(3)



(4)

Space for Rough Work

Space for Rough Work

Space for Rough Work