

PRE SECONDARY SCHOLARSHIP EXAMINATION (Std. 8th), FEBRUARY 2017

Seat No.

--	--	--	--	--	--	--	--	--	--

0722

Set

C

Medium : Telugu

Paper No. II
Pages : 32

Third Language and
Intelligence Test

Time : 1.30 to 3.00
Total Marks : 150

ప్రశ్న పత్రిక సాధించుటకు ముందు కింది సూచనలను శ్రద్ధగా చదవండి.

- (1) ఈ ప్రశ్న పత్రికలో రెండు విభాగములు కలవు. వాటిలో విభాగం-I లో తృతీయ భాష విషయం కొరకు 25 ప్రశ్నలు ఉండి విభాగం-II లో బుద్ధి మత్త విషయం కొరకు 50 ప్రశ్నలు ఉన్నవి. అన్ని 75 ప్రశ్నలు సాధించుట అనివార్యము.
- (2) ప్రతి ప్రశ్న కొరకు 2 మార్కులు కలవు.
- (3) ప్రశ్న పత్రిక సాధించుట కొరకు మొత్తం 90 నిముషాల సమయం ఇవ్వబడును.
- (4) జవాబును గుర్తించుటకొరకు స్వతంత్ర ఉత్తర పత్రిక ఇవ్వబడినది. ప్రతి ప్రశ్న క్రమసంఖ్య ముందు నాలుగు పర్యాయముల కొరకు క్రమసంఖ్య గల వృత్తములు ఇవ్వబడినవి. అందులో సరియైన జవాబు యొక్క పర్యాయ క్రమసంఖ్య గల వృత్తాన్ని కింది ఉదాహరణలో చూపించిన విధంగా రంగరించండి.
ఉదా: ప్రశ్న క్ర. 6 యొక్క జవాబు పర్యాయ క్రమ సంఖ్య 2 అయితే దానిని క్రింది విధంగా గుర్తించండి.
ప్రశ్న సం. 6

1	2	3	4
---	---	---	---
- (5) క్రింది విధంగా గుర్తించిన జవాబులు పరిగణించబడవు. ఇలా జవాబు వ్రాసినట్లయితే 'నున్న' మార్కులు ఇవ్వబడును.

<input checked="" type="checkbox"/>	<input type="checkbox"/>	<input type="checkbox"/>	<input checked="" type="checkbox"/>	<input checked="" type="checkbox"/>
-------------------------------------	--------------------------	--------------------------	-------------------------------------	-------------------------------------
- (6) జవాబులు గుర్తించునపుడు నలుపు లేదా నీలి రంగు బాల్ పెన్నును మాత్రమే ఉపయోగించవలెను. పెన్సిల్ తో గుర్తించినవి పరిగణలోనికి తీసుకోబడవు.
- (7) ఒకసారి గుర్తించిన జవాబులు తిరిగి మార్పుటకు వీలుపడదు.
- (8) ప్రశ్న పత్రికలో అత్యధికంగా 20% ప్రశ్నలకు సంబంధించిన జవాబుల నాలుగు పర్యాయములలోని రెండు పర్యాయములు సరియైనవి ఉంటాయి. ఆ రెండు పర్యాయములు గుర్తించడం అనివార్యము. దాని కొరకు ఆ ప్రశ్న ముందు 'రెండు సరియైన పర్యాయములను గుర్తించండి' అని సూచనలు ఇవ్వబడినవి.
- (9) రెండు సరియైన పర్యాయములను గుర్తించండి. ఇలా సూచనలు ఇచ్చిన ప్రశ్నలకు వదిలి మిగిలిన ప్రశ్నలకు ప్రతి ప్రశ్నకొరకు ఒకటి కంటే ఎక్కువ వృత్తాలను గుర్తించిన జవాబులు కొటివేసి ఇచ్చిన జవాబులు పరిగణించబడవు.
- (10) ప్రశ్న పత్రంలో ప్రతి పేజీలో క్రింది భాగంలో మరియు చివరి పేజీలో చిత్తువని చేసుకొనుటకు ఖాళీ స్థలం కలదు. అందులోనే చిత్తువని చేయవలెను.
- (11) పరీక్షకు నిరీత సమయము ఉన్నందున ఏదేని ప్రశ్నకు జవాబు తెలియకున్న అది వదిలి దాని ముందున్న ప్రశ్నలను సాధించండి. చివరకు సమయం ఉన్నచో విడిచిన ప్రశ్నలను సాధించుటకు ప్రయత్నించండి.
- (12) ఏదేని ప్రశ్నలో తప్పు కనిపించినట్లయితే దాని గురించి పర్యవేక్షకుడు లేదా పరీక్ష కేంద్ర సంచాలకుని వద్దకు వెళ్ళి విచారించ కూడదు.
- (13) ప్రశ్నలోని లోపం/తప్పు/అభ్యంతరాల గురించి ఫిర్యాదులకు సంబంధించిన లిఖిత పూర్వక వినతి పత్రం పాఠశాల లేక తలిదండ్రులు గటశిక్షణాధికారి లేక శిక్షణాధికారి వీరి వద్దకు పంపకుండా నేరుగా పరీక్షా పరిషద్ వద్దకు గా. కమీషనర్, రాజ్య పరీక్షా పరిషద్ వారి పేరుతో సమక్షంగా/తపాల/ఈమేల్ ద్వారా పంపవలెను.
- (14) లోపం/తప్పు/అభ్యంతరాల గురించి లిఖిత పూర్వక వినతి పత్రం పంపవలసిన గడువు పరీక్ష పరిషద్ యొక్క సంకేత సలానికి (website) తాత్కాలిక ఉత్తర (జవాబు) సూచిక విడుదల చేసిన వదిరోజుల వరకు ఉంటుంది. గడువు తేదివరకు అందిన లిఖిత పూర్వక ఫిర్యాదులు పరిశీలించబడును.
- (15) ముద్రణ దోషాలు లేక ఇతర కారణాల వలన ప్రశ్న తప్పుగా ఉన్నట్లు తెలిస్తే నిపుణుల సమితి అభిప్రాయం ప్రకారం అవి రద్దు చేయబడును.

విభాగము I

తృతీయ భాష

1. Choose the *correct* alternative which is used to make food tasty and delicious :

O	P	E	S	S	P
F	I	A	A	L	E
A	R	L	L	M	P
N	Y	H	T	N	P
Z	G	S	S	O	E
G	I	N	G	E	R

- (1) GARLIC (2) CHILLY
(3) MINT (4) GINGER
2. Choose the *correct* alternative :

Ancient Indian the science of ship-building and navigation very well.

- (1) knows (2) know
(3) knew (4) had known

3. Choose the *correct* alternative from the following table :

Column 'A'	Column 'B'
(1) Teacher told many stories.	(a) Many stories will be told by teacher.
(2) Teacher was telling many stories.	(b) Many stories were told by teacher.
(3) Teacher tells many stories.	(c) Many stories were being told by teacher.
(4) Teacher will tell many stories.	(d) Many stories are told by teacher.

(1) (1)—(b), (2)—(c), (3)—(d), (4)—(a)

(2) (1)—(c), (2)—(b), (3)—(a), (4)—(d)

(3) (1)—(d), (2)—(a), (3)—(b), (4)—(c)

(4) (1)—(a), (2)—(c), (3)—(b), (4)—(d)

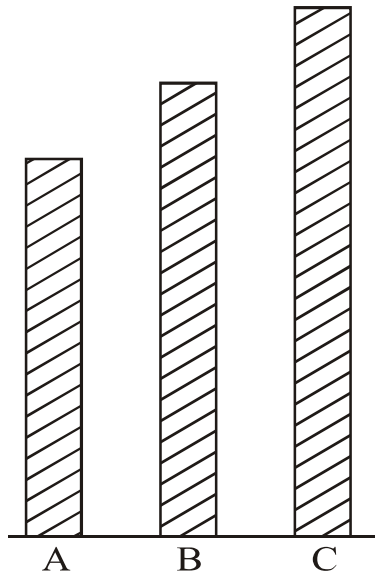
4. Find out the *correct* alternative for the type of tense of underlined word :

Ninad flew his kite and the kite rose high in the sky.

(1) Simple present tense (2) Present perfect tense

(3) Past perfect tense (4) Simple past tense

9. Choose one *correct* alternative :



- (1) Stick 'C' is the largest stick of all.
- (2) Stick 'B' is not as long as stick 'A'.
- (3) Stick 'A' is longer than stick 'B'.
- (4) The stick 'C' is no longer than stick 'A'.

10. Read the following note. Choose the *correct* alternative :

Mother returned home along with grandfather. She found Prachi's note.

Dear Mother,

I have gone out to buy books. My friend will stay with us. Please cook some food.

- (1) tasty
- (2) salty
- (3) boiled
- (4) raw

Instruction for Q. No. 13 :

Read the advertisement and choose one *correct* alternative :

Aniket Tours and Travels

Spend your summer vacation with fun
and site seeing.

Hurry !
Last ten
days left

Book for two adults and get booking
for two kids free.

Offer closes on 10th May.

Mode of Transport of your choice.

Aeroplane, Railway, Bus Service, Boat Service.

Choose tour plans

Goa	Coastal Karnataka
Mumbai	Gujrat
Delhi	Madhya Pradesh
Hyderabad	Kullu-Manali

e-mail : aniket.tour@gmail.com

13. Your friend Joseph wants to visit Coastal Karnataka. His father is busy. So they want to choose mode of transport which will make their trip of short duration.

Choose one *correct* option which make their trip of short duration :

- | | |
|-----------------|---------------|
| (1) Bus Service | (2) Railway |
| (3) Boat | (4) Aeroplane |

Instructions for Question Nos. 14 to 16 :

Read the passage and choose the *correct* option :

Medicine is the science and practice of diagnosis, treatment and prevention of disease. The word medicine is derived from Latin medicus, meaning 'a physician'. Ayurvedic medicine is one of the world's holistic healing. Ayurved has historical roots in Indian sub-continent. Plant based treatment is Ayurveda may be derived from roots, fruits, barks or seeds.

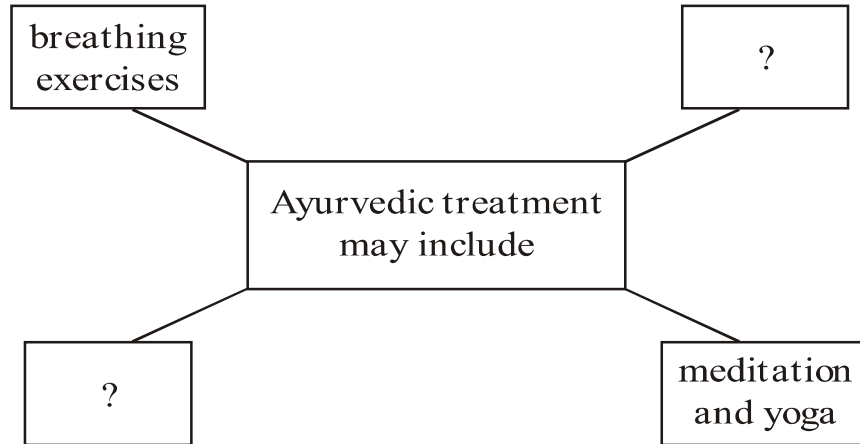
The primary focus of Ayurvedic medicine is to promote good health rather than fight diseases. Treatment may include breathing exercises, diet changes, lifestyle changes, meditation and yoga.

14. Choose the *correct* alternative of the following :

The primary focus of Ayurvedic medicine is to promote

- (1) diet changes, lifestyle changes
- (2) good health rather than fight diseases
- (3) diagnosis, treatment and prevention of disease
- (4) meditation and yoga

15. Choose two *correct* alternatives to form the web diagram :



- (1) diet changes (2) historical roots
(3) lifestyle changes (4) practice

16. Choose one *correct* alternative :

If the medicine is the science and practice of diagnosis, then
is the science of earth surface and physical features.

- (1) geometry (2) geography
(3) physics (4) global

Instructions for Question Nos. 17 and 18 :

Read the passage and choose the *correct* alternatives for Question Nos. 17 and 18 :

This is the special radio-programme about earthquakes, and what people should do in case an earthquake occurs. Of all the natural calamities earthquakes are the worst. They strike without warning, last for only a few seconds and cause heavy damage. But remember : Do not panic

during an earthquake. If you can reach open ground within seconds, do so. If you are in a building, turn away from glass windows. Take cover under a desk or table. Put both hands on the back of your neck and tuck your head down. If you are outside a building, stay out. When the earthquake is over, you can leave your shelter.

17. Complete the following web by choosing the *correct* option :

If earthquake occurs and you are in building, what should you do ?

(1)

Put both
hands on
the back of
your neck.

(2)

Turn away
from glass
windows.

(3)

Tuck your
head down.

(4)

?

- (1) climb on the bed
- (2) pull on a blanket and sleep
- (3) take cover under a desk or table
- (4) none of the above

18. Find the odd man out :

- (1) Flood
- (2) Earthquake
- (3) Drought
- (4) Bomb explosion

19. Find out meaningful word related to internet from jumbled words :

kipewidia

- (1) Encyclopedia (2) Web-site
(3) Knowledge (4) Wikipedia

20. Read the sentences. Find out the word which gives *correct* meaning of sentence :

Gopal wanted to choose the royal physician for Maharaja. He called the candidates who could relieve him from

- (1) pens (2) pains
(3) panes (4) pence

21. Choose the *correct* alternative from the following options which means :

Mansukh could not walk fast but he found a long, thick rope out of his luggage. The ill feeling vanished in a flash.

- (1) in some seconds (2) at once
(3) after sometime (4) with lightening

22. Four pairs are given. Which pair is *not* pair of opposite words ?

- (1) incomplete × complete (2) poor × rich
(3) hard × easy (4) praise × admire

23. Choose the *correct* option which doesn't match the situation :

Raman got first prize in competition. His mother showed happiness.

She said,

- (1) "What a pleasant surprise !"
- (2) "What a clever boy you are !"
- (3) "How hardworking you are !"
- (4) "Don't run away."

24. Read the sentence and choose two *correct* options by guessing the meaning of underlined word :

The teacher said, "Look at every plant. Choose that part which has medicinal value."

- (1) place where industrial process takes place
- (2) to put in the ground to grow, useful to us in many ways
- (3) a place where power is produced
- (4) a living thing that grows on the earth and usually has stem, leaves, roots

25. Read the riddle and choose the *correct* alternative :

I have three blades,

It rotates in clockwise direction,

It gives cool air and breeze when you switch on,

It makes you pleasant in summer.

- (1) window
- (2) fan
- (3) helicopter
- (4) grinder

విభాగము II

బుద్ధిమత్తా పరీక్ష

ప్ర. 26 నుండి 29 కొరకు సూచన :

క్రింది మాలికలో ప్రశ్నచిహ్నాల వద్ద వచ్చు పదము పర్యాయాల నుండి ఎన్నుకోండి.

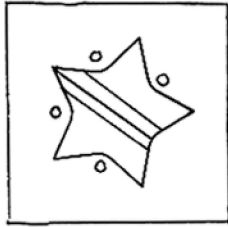
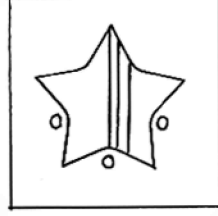
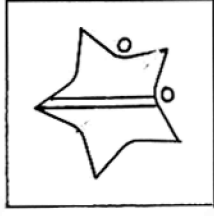
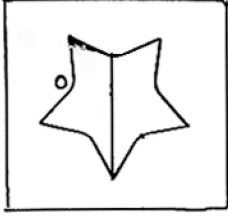
26. 568, 467, 370, 281, 198, 119 ?

- (1) 50 (2) 46
(3) 56 (4) 52

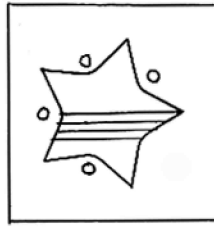
27. 1, 2, 6, 21, 88 ? 2676

- (1) 445 (2) 645
(3) 357 (4) 1350

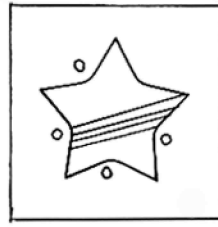
28.



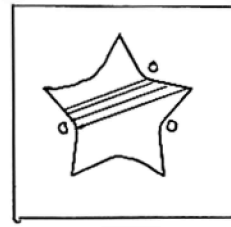
(1)



(2)



(3)



(4)

Space for Rough Work

అక్షరమాల : ABCDE FGHIJ KLMNO PQRST UVWXY

29. $\triangle \oplus \square \ominus \square \oplus \triangle \oplus \square \oplus \triangle \oplus ? ? ? \square \ominus \triangle \oplus \triangle \oplus \square$

(1) $\triangle \ominus \oplus$

(2) $\square \oplus \ominus$

(3) $\square \ominus \oplus$

(4) $\square \triangle \oplus$

ప్ర. 30 మరియు 31 కొరకు సూచన :

కింది మాలికలోని సరికాని పదము గుర్తించండి :

30. 23, 34, 49, 64, 83, 106, 135, 166

(1) 64

(2) 49

(3) 83

(4) 135

31. B V F R J N M J R

(1) F

(2) V

(3) B

(4) M

Space for Rough Work

అక్షరమాల : ABCDE FGHIJ KLMNO PQRST UVWXY

ప్ర. 32 మరియు 33 కొరకు సూచనలు :

ఒక సాంకేతిక భాషలో 'కసర' = 407, 'రజక' = 420, 'సదర' = 467 ఇలా వ్రాస్తారు.

అయితే క్రింది ప్రశ్నల జవాబులు పర్యాయాల నుండి ఎన్నుకోండి :

32. 'దసక' ఈ పదము అదే సాంకేతిక భాషలో ఎలా వ్రాస్తావు?

(1) 760 (2) 604

(3) 764 (4) 407

33. 4, 0 అంకెల నుండి తయారగు పదాలను పర్యాయముల నుండి గుర్తించండి. (రెండు

సరియైన పదాలను గుర్తించండి :

(1) రక (2) జద

(3) కర (4) దర

34. ఒక సాంకేతిక భాషలో A ను C, B ను D, C ను E ఇలా క్రమముగా అనుకుంటే

దేనిని 'P' అంటారు?

(1) N (2) R

(3) Q (4) S

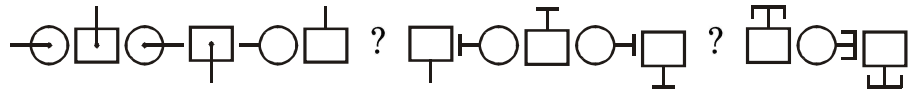
Space for Rough Work

ప్ర. 35 నుండి 37 వరకు సూచనలు :

ఇచ్చిన లయబద్ధ అమరికలో పదాల క్రమము గుర్తించుకొని ప్రశ్న చిహ్నాలవద్ద వచ్చు పదము గుర్తించండి :

35. బ క ఘ వ ష ప ఘ బ క ప వ ష క ఘ బ ష ప వ బ ? ? ?
ష ప

- | | |
|-----------|-----------|
| (1) ఘ క వ | (2) క ఘ వ |
| (3) వ ఘ క | (4) క ప వ |

36. 

- | | |
|---|--|
| (1)  | (2)  |
| (3)  | (4)  |

37. 2 5 6 9 8 4 7 6 9 8 4 7 2 5 8 4 7 2 5 6 9 7 2 ? ? ? 8 4

- | | |
|-----------|-----------|
| (1) 9 6 5 | (2) 6 5 9 |
| (3) 5 6 9 | (4) 2 6 9 |

Space for Rough Work

అక్షరమాల : ABCDE FGHIJ KLMNO PQRST UVWXY

ప్ర. 38 నుండి 40 కొరకు సూచనలు :

క్రింది గోపురం యొక్క పరిశీలన చేసి ప్రశ్నలోని పదాల మధ్య వుండే అంకెల యొక్క స్థానాల క్రమము గుర్తించుకొని ప్రశ్నచిహ్నాల వద్ద వచ్చు పదము గుర్తించండి :

17

18 19

23 24 25

28 29 30 31

33 34 35 36 37

38 39 40 41 42 43

38. 28, 33, 39, 29 : 31, 37, 42, 30 :: 34, 29, 35, 40 : ?

(1) 41, 35, 30, 36 (2) 36, 30, 35, 41

(3) 36, 30, 25, 31 (4) 35, 30, 36, 41

39. 18, 28, 30, 25 : 19, 31, 29, 23 :: 38, 39, 28, 23 : ?

(1) 25, 31, 42, 43 (2) 25, 31, 42, 37

(3) 43, 42, 31, 25 (4) 43, 42, 25, 31

40. గోపురంలోని సంఖ్యల యందుగల మాలికలోని ప్రశ్నచిహ్నం వద్ద వచ్చు పర్యాయమును ఎన్నుకోండి :

33, 39, 34, 40, 35 ? 36, 42, 37.


(1) 30 (2) 41

(3) 40 (4) 31

Space for Rough Work

అక్షరమాల : ABCDE FGHIJ KLMNO PQRST UVWXY


41. క్రింది ప్రశ్నాకృతి యొక్క జల ప్రతిబింబంగల ఆకృతిని పర్యాయముల నుండి గుర్తించండి :



(1)



(2)



(3)





(4)

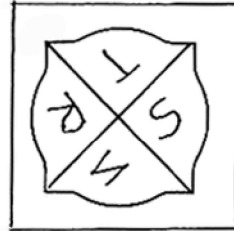
ప్ర. 42 మరియు 43 కొరకు సూచనలు :

ప్రశ్నాకృతి యొక్క అద్దములోని ప్రతిమను పర్యాయ ఆకృతుల నుండి ఎన్నుకొండి :

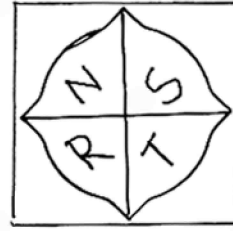
42.




(1)



(2)



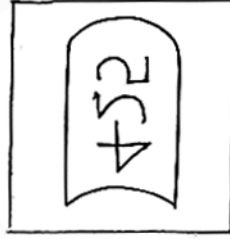
(3)



(4)

Space for Rough Work

43.



(1)



(2)



(3)



(4)

44. అజయ్ వయసు రమేష్ వయసుకు $\frac{3}{2}$ రెట్లకన్న 3 తక్కువ ఉండి, ధోండిబా వయసుకు $\frac{4}{7}$ రెట్లకన్న 2 ఎక్కువ ఉంది. ఒకవేళ ధోండిబా 70 సంవత్సరాలు ఉంటే ఆ ముగ్గురి వయసుల మొత్తం ఎంత?

(1) 139 సంవత్సరాలు

(2) 125 సంవత్సరాలు

(3) 142 సంవత్సరాలు

(4) 152 సంవత్సరాలు

45. క్రింది వాటిలో ఏ సమయములో గడియారము యొక్క గంటముల్లు మరియు నిమిషము ముల్లు వీటిమధ్య 105° కొలతల కోణం ఏర్పడును? (రెండు సరియైన పర్యాయాలను గుర్తించండి :

(1) 3 గంటల 30 నిమిషములు

(2) 2 గంటల 30 నిమిషములు

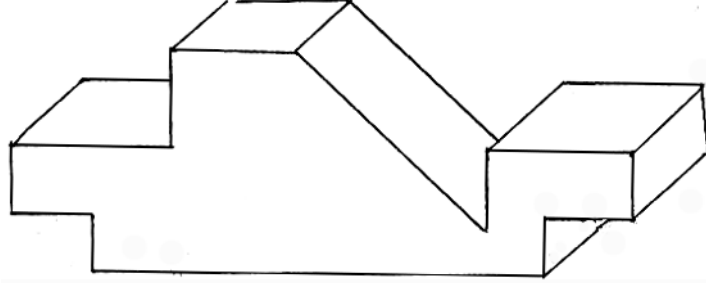
(3) 10 గంటల 30 నిమిషములు

(4) 9 గంటల 30 నిమిషములు

Space for Rough Work

అక్షరమాల : ABCDE FGHIJ KLMNO PQRST UVWXY

46. ఇచ్చి చెక్కముక్కకు మొత్తం ఎన్ని తలాలు ఉన్నాయి?



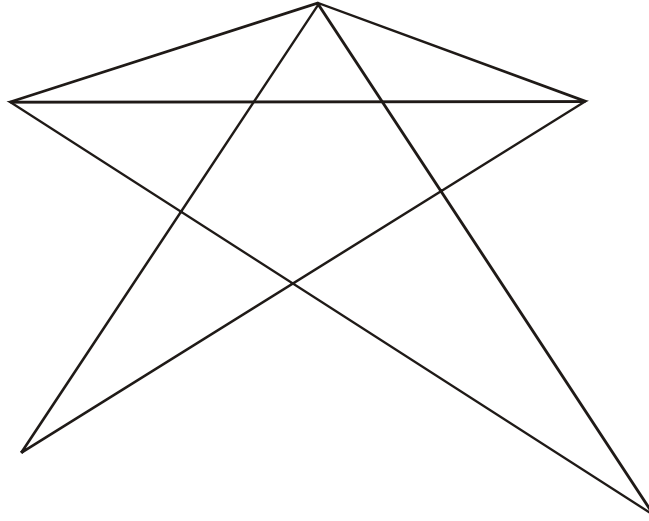
(1) 15

(2) 13

(3) 16

(4) 11

47. ఇచ్చిన ఆకృతిలో మొత్తం ఎన్ని త్రిభుజాలు ఉన్నాయి?



(1) 14

(2) 13

(3) 15

(4) 17

Space for Rough Work

అక్షరమాల : ABCDE FGHIJ KLMNO PQRST UVWXY

ప్ర. 48 మరియు 49 కొరకు సూచనలు :

సంఖ్యల యొక్క అమరికలోని సూత్రాన్ని గుర్తించి ప్రశ్న చిహ్నాల వద్ద వచ్చు సరియైన పర్యాయమును గుర్తించండి :

48. $9 \times 4 = 17$, $7 \times 2 = 41$, $10 \times 3 = 73$, అయితే $8 \times 1 =$ ఎంత?

(1) 67

(2) 65

(3) 63

(4) 69

49. $4 \begin{array}{|c|} \hline 7 \\ \hline 20 \\ \hline 5 \\ \hline \end{array} 2$ $7 \begin{array}{|c|} \hline 4 \\ \hline 27 \\ \hline 2 \\ \hline \end{array} 3$ $5 \begin{array}{|c|} \hline 1 \\ \hline 22 \\ \hline 6 \\ \hline \end{array} 3$ $2 \begin{array}{|c|} \hline 7 \\ \hline ? \\ \hline 9 \\ \hline \end{array} 8$

(1) 27

(2) 24

(3) 32

(4) 26

50. ఒక వరుసలో గోవింద్ చివరి నుండి ఏడవ స్థానములో ఉన్నాడు. మరియు గోపాల్ మధ్య భాగంలో 23 వ స్థానంలో నిలబడ్డాడు. అయితే ఆ ఇద్దరి మధ్యలో ఎంత మంది ఉన్నారు?

(1) 14

(2) 15

(3) 17

(4) 16

Space for Rough Work

అక్షరమాల : ABCDE FGHIJ KLMNO PQRST UVWXY

51. స్వరాజ్ తూర్పువైపు కొద్ది దూరం వెళ్ళాక ఒక లంబకోణంగా ఎడమవైపు తిరిగాడు. మరియు 50 మీటర్ల దూరం నడిచాడు. అక్కడ అతడు కుడివైపు 135° కోణముగా తిరిగాడు. మరియు 15 మీటర్ల దూరం నడిచాడు. అయితే ఇప్పుడు అతడి ఎడమ చేతివైపున ఏ దిశ ఉండును?

- (1) ఈశాన్యం (2) వాయువ్యం
(3) నైఋతి (4) ఆగ్నేయం

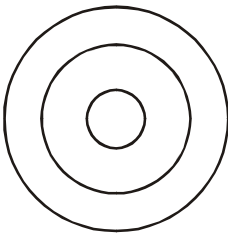
52. ఒక లీపు సంవత్సరంలో 15 మార్చి మంగళవారం ఉండెను. ఆ తర్వాత వచ్చే 13 నవంబరు ఏ వారం ఉండును?

- (1) ఆదివారం (2) శనివారం
(3) బుధవారం (4) సోమవారం

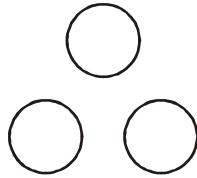
ప్ర. 53 మరియు 54 కొరకు సూచనలు :

ప్రశ్నలో ఇచ్చిన అంశము ఏ వెన్ ఆకృతితో సరిగ్గా జత అగునో ఆ పర్యాయమును గుర్తించండి :

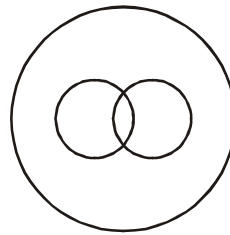
53. విరామ చిహ్నాలు, అపసారణ చిహ్నం, అర్థవిరామం.



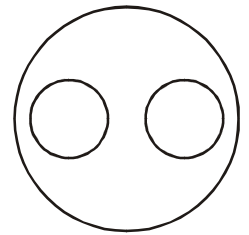
(1)



(2)



(3)

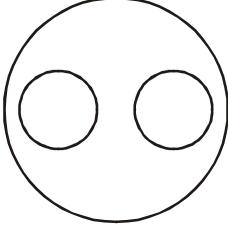


(4)

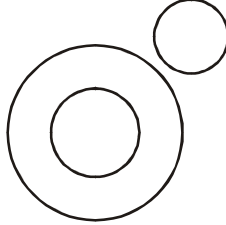
Space for Rough Work

అక్షరమాల : ABCDE FGHIJ KLMNO PQRST UVWXY

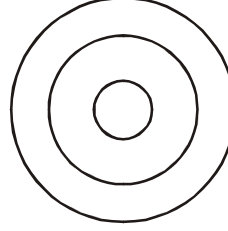
54. అపృష్టవంశీయ జంతువులు, పాము, వానపాము.



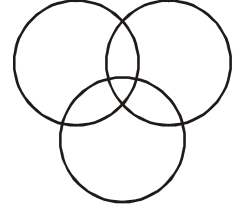
(1)



(2)



(3)



(4)

55. ప్రశ్న చిహ్నము వద్ద వచ్చు సంఖ్య యొక్క పర్యాయాన్ని గుర్తించండి :

53	17	67
11	?	23
41	83	13

(1) 37

(2) 29

(3) 31

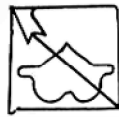
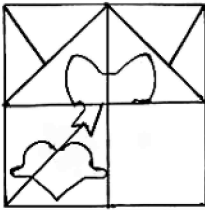
(4) 43

ప్ర. 56 మరియు 57 కొరకు సూచనలు :

ఇచ్చిన ప్రశ్నాకృతి పూర్తిచేయుటకు సరియైన పర్యాయాన్ని గుర్తించండి :

56. ప్రశ్నాకృతి

జవాబు ఆకృతులు



(1)



(2)



(3)



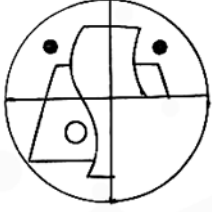
(4)

Space for Rough Work

అక్షరమాల : ABCDE FGHIJ KLMNO PQRST UVWXY

57. ప్రశ్నాకృతి

జవాబు ఆకృతులు



(1)



(2)




(3)



(4)

58. ప్రశ్నాకృతిలాగే ఉన్నది ఉన్నట్లుగల ఆకృతిని పర్యాయాల నుండి గుర్తించండి :


ప్రశ్నాకృతి




జవాబు ఆకృతులు



(1)



(2)



(3)




(4)

Space for Rough Work

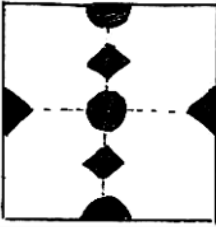
అక్షరమాల : ABCDE FGHIJ KLMNO PQRST UVWXY

59. ప్రశ్నాకృతిలోని కాగిదాన్ని మడతపెట్టి కత్తిరించి తెరిసినచో ఆ ఆకారము ఏ పర్యాయ ఆకృతిలా కనబడును?

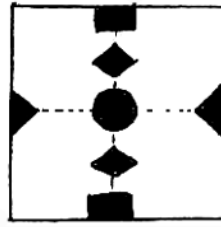
ప్రశ్నాకృతి



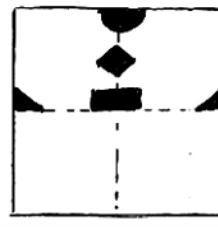
జవాబు ఆకృతులు



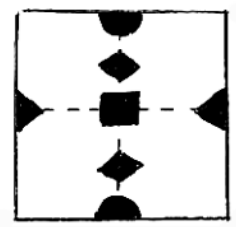
(1)



(2)



(3)

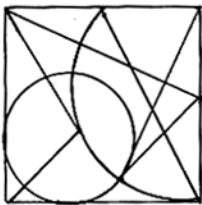


(4)

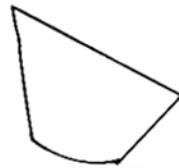
60. ఇచ్చిన ప్రశ్నాకృతిలోని దాగివున్న భాగం పర్యాయాల నుండి ఎన్నుకోండి :

ప్రశ్నాకృతి

జవాబు ఆకృతులు



(1)



(2)



(3)



(4)

Space for Rough Work

61. 'ఒక రైతుకు నాలుగు ఎద్దులు కలవు. అవి జట్టుగా ఉండేవి. గడ్డిమేయటానికి పరిసర ప్రాంతములో గల అడవికి వెళ్ళి కలిసిమెలసి గడ్డి మేయుచుండేవి'.

పై వాక్యాలలో రెండు అక్షరాల పదములు, మూడు అక్షరాల పదాలకన్న ఎన్ని పదాలు ఎక్కువ లేదా తక్కువ గలవు?

- (1) 3 తక్కువ (2) 3 ఎక్కువ
(3) 4 తక్కువ (4) 5 ఎక్కువ

62. సాక్షి తన కాపీలో 'అదృష్టము, ఆరోగ్యం, స్వర్గస్థులు, ప్రభుత్వం, దేశభక్తి, సార్వత్రిక,' అనే పదాలు తప్పలేకుండా వ్రాసింది. అయితే సాక్షి వ్రాసిన పదాలలో ఎన్ని సంయుక్తాక్షరములు వచ్చినవి?

- (1) 8 (2) 14
(3) 10 (4) 12

Space for Rough Work

అక్షరమాల : ABCDE FGHIJ KLMNO PQRST UVWXY

63. 'ఖ, ఘ, గ, భ, ఝ, ఠ, డ, ఢ, ఢ'

పై అక్షరాలలో నరళముగా పలుకబడు అక్షరాలు గుర్తించండి. (రెండు సరియైన వర్ణాలను గుర్తించండి).

(1) గ

(2) భ

(3) ఠ

(4) డ

64. క, ణ, వ్యా, ము, ర. అక్షరముల నుండి తయారగు అర్థవంతమైన పదములోని ఏ అక్షరాలను అనుక్రమంగా తీసుకుంటే 'అణువు' పదానికి అర్థము అగును?

(1) 3, 4, 5

(2) 1, 5

(3) 2, 4, 5

(4) 5, 4, 2

65. అక్షరమాల: bddpqpdbbqpdpdbdqdb

పై అక్షరమాలలో మధ్యభాగంలో ఉన్న అక్షరము యొక్క ఏడవ వైపు నాల్గవ అక్షరము నుండి లెక్కపెట్టితే కుడివైపు ఏడవ అక్షరం ఏది?

(1) b

(2) d

(3) p

(4) q


Space for Rough Work

ప్ర. 66 నుండి 69 కొరకు సూచన :

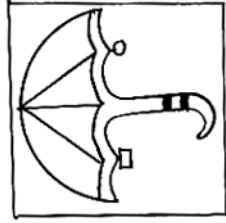
సమాహమునకు చెందని పదము గుర్తించండి :

66. (1) జనవరి (2) మే
(3) జులై (4) నవంబర్


67.



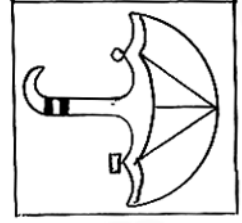
(1)



(2)



(3)



(4)

68. (1) 3436 (2) 2325
(3) 7164 (4) 5249

69. (1) GSF (2) DVC
(3) EUD (4) KOL

Space for Rough Work

అక్షరమాల : ABCDE FGHIJ KLMNO PQRST UVWXY

70. సమాహమునకు చెందిన పదము గుర్తించండి (రెండు సరియైన పర్యాయాలను గుర్తించండి).

924, 1342, 3498

(1) 1214 (2) 1331

(3) 4441 (4) 3905

71. మొదటి రెండు పదముల సంబంధమును గుర్తించుకొని ప్రశ్న చిహ్నము వద్ద వచ్చు పర్యాయమును ఎన్నుకోండి : (రెండు సరియైన పర్యాయాలను గుర్తించండి)

ప్రత్తి : దారము :: చెరుకు : ?

(1) బంతి (2) వస్త్రం

(3) చక్కెర (4) బెల్లం

72. మొదటి రెండు పదముల సంబంధమును గుర్తించుకొని ప్రశ్నచిహ్నము వద్ద వచ్చు పర్యాయమును ఎన్నుకోండి :

(రెండు సరియైన పర్యాయాలను గుర్తించండి).

మోదం : సంతోషం :: శోకము : ?

(1) ఒప్పారు (2) గుర్తు

(3) రోదన (4) ఏడుపు

Space for Rough Work

అక్షరమాల : ABCDE FGHIJ KLMNO PQRST UVWXY

ప్ర. 73 నుండి 75 కొరకు సూచన :

మొదటి రెండు పదముల సంబంధమును గుర్తించుకొని ప్రశ్నచిహ్నము వద్ద వచ్చు పర్యాయమును ఎన్నుకోండి :

73. 237 : 1728 :: 412 : ?

(1) 3024

(2) 637

(3) 2401

(4) 343

74. CFI : WTQ :: DHL : ?

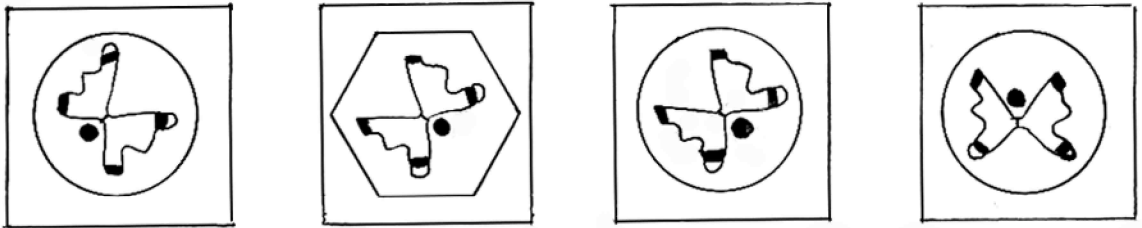
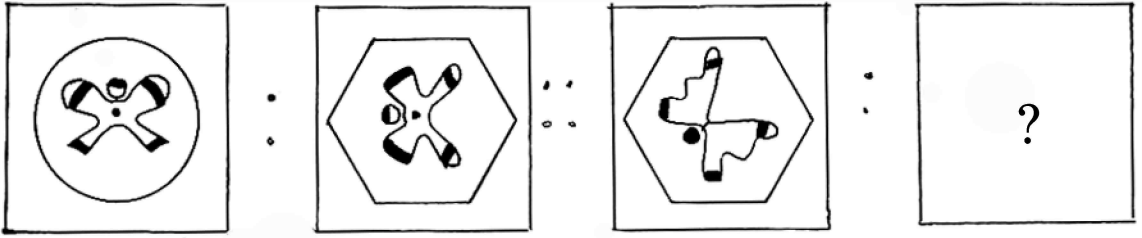
(1) VRN

(2) VPM

(3) UPM

(4) UQM

75.



(1)

(2)

(3)

(4)

Space for Rough Work

Space for Rough Work

Space for Rough Work