

Seat No.

--	--	--	--	--	--	--	--	--	--

0822

Set

A

Medium : Kannada

Paper No. II

Third Language and

Time : 1.30 to 3.00

Pages : 32

Intelligence Test

Total Marks : 150

ಪ್ರಶ್ನೆ ಪತ್ರಿಕೆ ಬಿಡಿಸುವುದಕ್ಕಿಂತ ಮುಂದೆ ಕೆಳಗಿನ ಸೂಚನೆಗಳನ್ನು ಕಾಳಜಿಪೂರ್ವಕವಾಗಿ ಓದಿರಿ.

- (1) ಈ ಪ್ರಶ್ನೆಪತ್ರಿಕೆಯಲ್ಲಿ ಎರಡು ವಿಭಾಗಗಳಿದ್ದು ವಿಭಾಗ-I ತೃತೀಯ ಭಾಷೆ ಇಂಗ್ಲೀಷ್ ವಿಷಯಕ್ಕಾಗಿ 25 ಪ್ರಶ್ನೆಗಳಿದ್ದು ವಿಭಾಗ II ರಲ್ಲಿ ಬುದ್ಧಿ ಮತ್ತು ಚಾಚಣಿ ವಿಷಯಕ್ಕಾಗಿ 50 ಪ್ರಶ್ನೆಗಳಿವೆ. ಹೀಗೆ ಪ್ರಶ್ನೆ ಪತ್ರಿಕೆಯಲ್ಲಿ ಒಟ್ಟು 75 ಪ್ರಶ್ನೆಗಳಿದ್ದು ಪ್ರತಿಯೊಂದು ಪ್ರಶ್ನೆ ಬಿಡಿಸುವುದು ಅನಿವಾರ್ಯವಿದೆ.
- (2) ಪ್ರತಿಯೊಂದು ಪ್ರಶ್ನೆಗಾಗಿ 2 ಗುಣಗಳಿವೆ.
- (3) ಪ್ರಶ್ನೆಪತ್ರಿಕೆ ಬಿಡಿಸುವುದಕ್ಕಾಗಿ ಒಟ್ಟು 90 ನಿಮಿಷಗಳ ಕಾಲಾವಧಿ ಕೊಡಲಾಗುವುದು.
- (4) ಉತ್ತರ ನೋಂದಾಯಿಸಲು ಸ್ವತಂತ್ರ ಉತ್ತರಪತ್ರಿಕೆ ಕೊಡಲಾಗಿದೆ. ಪ್ರತಿಯೊಂದು ಪ್ರಶ್ನೆಗೆ ನಾಲ್ಕು ಪರ್ಯಾಯ ಉತ್ತರಗಳನ್ನು ಕೊಡಲಾಗಿದೆ. ಅವುಗಳಲ್ಲಿ ಎಲ್ಲಕ್ಕೂ ಯೋಗ್ಯ ಉತ್ತರದ ಪರ್ಯಾಯ ಕ್ರಮಾಂಕವಿರುವ ವರ್ತುಳವನ್ನು ಕೆಳಗಿನ ಉದಾಹರಣೆಯಂತೆ ನೋಂದಾಯಿಸಬೇಕು.  
ಉದಾ. ಪ್ರಶ್ನೆ ಕ್ರ. 6 ರ ಯೋಗ್ಯ ಉತ್ತರದ ಪರ್ಯಾಯ ಕ್ರಮಾಂಕ 2 ಇದ್ದರೆ ಅದನ್ನು ಕೆಳಗಿನಂತೆ ನೋಂದಾಯಿಸಬೇಕು.  
ಉದಾ. ಪ್ರಶ್ನೆ ಕ್ರ. 6  1  2  3  4
- (5) ಕೆಳಗಿನಂತೆ ನೋಂದಾಯಿಸಿದ ಉತ್ತರಗಳ ಬಗ್ಗೆ ವಿಚಾರ ಮಾಡಲಾಗುವುದಿಲ್ಲ. ಹೀಗೆ ನೋಂದಾಯಿಸಿದರೆ ಶೂನ್ಯ ಗುಣ ಕೊಡಲಾಗುವುದು.  
 1  2  3  4
- (6) ಪರ್ಯಾಯದ ಉತ್ತರ ಕ್ರಮಾಂಕಗಳನ್ನು ಕಪ್ಪು ಅಥವಾ ನೀಲಿ ಬಾಲ ಪೆನ್ನಿನಿಂದ ನೋಂದಾಯಿಸಬೇಕು. ಪೆನ್ನಿನಿಂದ ನೋಂದಾಯಿಸಿದ ಉತ್ತರಗಳ ಬಗ್ಗೆ ವಿಚಾರ ಮಾಡಲಾಗುವುದಿಲ್ಲ.
- (7) ಒಮ್ಮೆ ನೋಂದಾಯಿಸಿದ ಉತ್ತರಗಳನ್ನು ಬದಲಾಯಿಸಲು ಬರುವುದಿಲ್ಲ.
- (8) ಪ್ರಶ್ನೆಪತ್ರಿಕೆಯಲ್ಲಿ ಗರಿಷ್ಠ 20% ಪ್ರಶ್ನೆಗಳ ಉತ್ತರದ ನಾಲ್ಕು ಪರ್ಯಾಯಗಳಲ್ಲಿ ಎರಡು ಯೋಗ್ಯ ಪರ್ಯಾಯಗಳಿರುತ್ತವೆ. ಆ ಎರಡೂ ಪರ್ಯಾಯಗಳನ್ನು ನೋಂದಾಯಿಸುವುದು ಅವಶ್ಯಕವಿದೆ. ಅದರ ಸಲುವಾಗಿ ಆ ಪ್ರಶ್ನೆಯ ಜೊತೆಗೆ ಯೋಗ್ಯವಾದ ಎರಡು ಪರ್ಯಾಯ ಕ್ರಮಾಂಕಗಳನ್ನು ಆಯ್ಕೆ ಮಾಡಿರಿ ಎಂಬ ಸೂಚನೆ ಕೊಡಲಾಗಿದೆ.
- (9) ಎರಡು ಯೋಗ್ಯವಾದ ಪರ್ಯಾಯಗಳನ್ನು ಆಯ್ಕೆ ಮಾಡಿರಿ. ಈ ಸೂಚನೆ ಕೊಟ್ಟಂತಹ ಪ್ರಶ್ನೆಗಳನ್ನು ಬಿಟ್ಟು ಉಳಿದ ಎಲ್ಲ ಪ್ರಶ್ನೆಗಳಿಗಾಗಿ ಒಂದಕ್ಕಿಂತ ಹೆಚ್ಚು ವರ್ತುಳದಲ್ಲಿ ನೋಂದಾಯಿಸಿದರೆ. ತಿದ್ದುಪಡಿ ಮಾಡಿ ಉತ್ತರ ನೋಂದಾಯಿಸಿದರೆ ಅವುಗಳನ್ನು ಗಮನಕ್ಕೆ ತೆಗೆದುಕೊಳ್ಳಲಾಗುವುದಿಲ್ಲ.
- (10) ಪ್ರಶ್ನೆ ಪತ್ರಿಕೆಯಲ್ಲಿ ಪ್ರತಿಯೊಂದು ಪುಟದ ಕೆಳಗೆ ಮತ್ತು ಕೊನೆಯ ಪುಟದ ಮೇಲೆ ಕಚ್ಚಾ ಕೆಲಸವನ್ನು ಮಾಡುವ ಸಲುವಾಗಿ ಖಾಲಿ ಸ್ಥಳ ಕೊಟ್ಟಿದೆ. ಅಲ್ಲಿಯೇ ಕಚ್ಚಾ ಕೆಲಸವನ್ನು ಮಾಡಬೇಕು.
- (11) ಪರಿಕ್ಷೆಗೆ ಮರ್ಯಾದಿತ ವೇಳೆ ಇರುವುದರಿಂದ ಯಾವುದೊಂದು ಪ್ರಶ್ನೆಯ ಉತ್ತರ ನಿಮಗೆ ಬರದಿದ್ದರೆ, ಮುಂದಿನ ಪ್ರಶ್ನೆ ಬಿಡಿಸಿರಿ. ಕೊನೆಗೆ ವೇಳೆ ಉಳಿದರೆ ಪುನಃ ಉಳಿದಿರುವ ಪ್ರಶ್ನೆಗಳ ಉತ್ತರದ ಬಗ್ಗೆ ಪ್ರಯತ್ನಿಸಿರಿ.
- (12) ಯಾವುದೇ ಪ್ರಶ್ನೆಯಲ್ಲಿ ತಪ್ಪು/ದೋಷಗಳಿದ್ದರೆ ಅದರ ಬಗ್ಗೆ ಪರ್ಯವೇಷಕ ಅಥವಾ ಪರಿಕ್ಷೆ ಕೇಂದ್ರ ಸಂಚಾಲಕರ ಕಡೆಗೆ ವಿಚಾರಣೆ ಮಾಡಬಾರದು.
- (13) ಪ್ರಶ್ನೆಪತ್ರಿಕೆಯಲ್ಲಿಯ ದೋಷ/ತಪ್ಪು/ಅಕ್ಷೇಪಣೆಯ ಬಗ್ಗೆ ನಿಮ್ಮ ಲಿಖಿತ ನಿವೇದನೆಯನ್ನು ಶಾಲೆಯವರು ಅಥವಾ ಪಾಲಕರು ಗಟಶಿಕ್ಷಣಾಧಿಕಾರಿ ಅಥವಾ ಶಿಕ್ಷಣಾಧಿಕಾರಿ ಇವರ ಕಡೆಗೆ ಕಳುಹಿಸದೆ ನೇರವಾಗಿ ಪರಿಕ್ಷಾ ಪರಿಷದದ ಕಡೆಗೆ ಮಾ. ಆಯುಕ್ತ, ರಾಜ್ಯ ಪರಿಕ್ಷೆ ಪರಿಷದ, ಇವರಿಗೆ ನಿಷಣ/ಪತ್ರ/ ಈ-ಮೇಲ ಮುಖಾಂತರ ಕಳು ಹಿಸಬೇಕು.
- (14) ತಪ್ಪು/ದೋಷ/ ಅಕ್ಷೇಪಣೆಗಳ ಬಗ್ಗೆ ಲಿಖಿತ ನಿವೇದನೆಯನ್ನು ಕಳುಹಿಸುವ ವೇಳೆಯನ್ನು ಪರಿಕ್ಷೆ ಪರಿಷದದ ಸಂಕೇತ ಸ್ಥಳದ ಮೇಲೆ ಕೊನೆಯ (ತಾತ್ಕಾಲಿಕ) ಉತ್ತರ ಸೂಚಿ ಪ್ರಕಟೆಯಾದ 10 ದಿನಗಳ ವರೆ ಇರುವುದು. ನಿಗದಿತ ವೇಳೆಯಲ್ಲಿ ತಲುಪಿದ ನಿವೇದನೆಗಳ ಬಗ್ಗೆ ಮಾತ್ರ ವಿಚಾರ ಮಾಡಲಾಗುವುದು.
- (15) ಮುದ್ರಣ ದೋಷ ಅಥವಾ ಅನ್ಯ ಕಾರಣಗಳಿಂದ ಪ್ರಶ್ನೆ ತಪ್ಪು ಎಂದು ಕಂಡು ಬಂದರೆ ತಜ್ಞ ಸಮಿತಿಯ ಅಭಿಪ್ರಾಯಕ್ಕೆ ಅನುಸಾರವಾಗಿ ಅದನ್ನು ರದ್ದು ಮಾಡಲಾಗುವುದು.

## ವಿಭಾಗ I

### ತೃತೀಯ ಭಾಷೆ

**Instructions for Question Nos. 1 to 3 :**

**Read the passage and choose the *correct* option :**

Medicine is the science and practice of diagnosis, treatment and prevention of disease. The word medicine is derived from Latin medicus, meaning 'a physician'. Ayurvedic medicine is one of the world's holistic healing. Ayurved has historical roots in Indian sub-continent. Plant based treatment is Ayurveda may be derived from roots, fruits, barks or seeds.

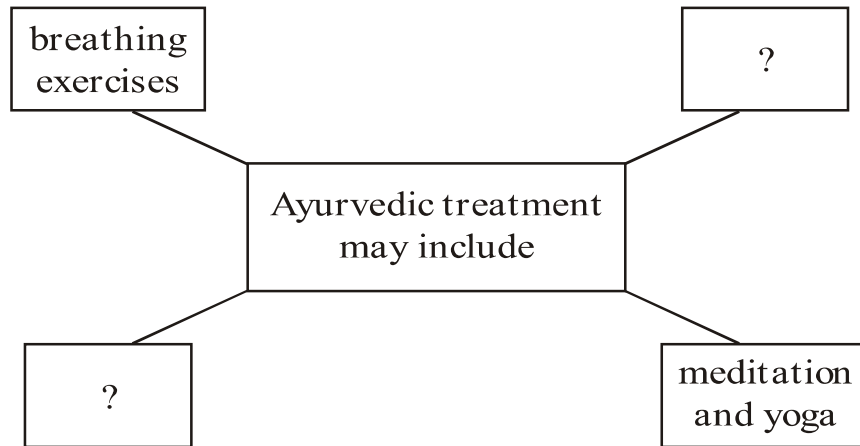
The primary focus of Ayurvedic medicine is to promote good health rather than fight diseases. Treatment may include breathing exercises, diet changes, lifestyle changes, meditation and yoga.

1. Choose the *correct* alternative of the following :

The primary focus of Ayurvedic medicine is to promote .....

- (1) diet changes, lifestyle changes
- (2) good health rather than fight diseases
- (3) diagnosis, treatment and prevention of disease
- (4) meditation and yoga

2. Choose two *correct* alternatives to form the web diagram :



- (1) diet changes                      (2) historical roots  
(3) lifestyle changes                (4) practice

3. Choose one *correct* alternative :

If the medicine is the science and practice of diagnosis, then .....  
is the science of earth surface and physical features.

- (1) geometry                            (2) geography  
(3) physics                              (4) global

**Instructions for Question Nos. 4 and 5 :**

**Read the passage and choose the *correct* alternatives for Question Nos. 4 and 5 :**

This is the special radio-programme about earthquakes, and what people should do in case an earthquake occurs. Of all the natural calamities earthquakes are the worst. They strike without warning, last for only a few seconds and cause heavy damage. But remember : Do not panic

during an earthquake. If you can reach open ground within seconds, do so. If you are in a building, turn away from glass windows. Take cover under a desk or table. Put both hands on the back of your neck and tuck your head down. If you are outside a building, stay out. When the earthquake is over, you can leave your shelter.

4. Complete the following web by choosing the *correct* option :

If earthquake occurs and you are in building, what should you do ?

(1)

Put both hands on the back of your neck.

(2)

Turn away from glass windows.

(3)

Tuck your head down.

(4)

?

- (1) climb on the bed
- (2) pull on a blanket and sleep
- (3) take cover under a desk or table
- (4) none of the above

5. Find the odd man out :

- (1) Flood
- (2) Earthquake
- (3) Drought
- (4) Bomb explosion

6. Find out meaningful word related to internet from jumbled words :

kipewidia

- (1) Encyclopedia                      (2) Web-site  
(3) Knowledge                        (4) Wikipedia

7. Read the sentences. Find out the word which gives *correct* meaning of sentence :

Gopal wanted to choose the royal physician for Maharaja. He called the candidates who could relieve him from .....

- (1) pens                                      (2) pains  
(3) panes                                      (4) pence

8. Choose the *correct* alternative from the following options which means :

Mansukh could not walk fast but he found a long, thick rope out of his luggage. The ill feeling vanished in a flash.

- (1) in some seconds                      (2) at once  
(3) after sometime                        (4) with lightening

9. Four pairs are given. Which pair is *not* pair of opposite words ?

- (1) incomplete × complete              (2) poor × rich  
(3) hard × easy                              (4) praise × admire

10. Choose the *correct* option which doesn't match the situation :

Raman got first prize in competition. His mother showed happiness.

She said,

- (1) "What a pleasant surprise !"
- (2) "What a clever boy you are !"
- (3) "How hardworking you are !"
- (4) "Don't run away."

11. Read the sentence and choose two *correct* options by guessing the meaning of underlined word :

The teacher said, "Look at every plant. Choose that part which has medicinal value."

- (1) place where industrial process takes place
- (2) to put in the ground to grow, useful to us in many ways
- (3) a place where power is produced
- (4) a living thing that grows on the earth and usually has stem, leaves, roots

12. Read the riddle and choose the *correct* alternative :

I have three blades,

It rotates in clockwise direction,

It gives cool air and breeze when you switch on,

It makes you pleasant in summer.

- (1) window
- (2) fan
- (3) helicopter
- (4) grinder

13. Choose the *correct* alternative which is used to make food tasty and delicious :

O	P	E	S	S	P
F	I	A	A	L	E
A	R	L	L	M	P
N	Y	H	T	N	P
Z	G	S	S	O	E
G	I	N	G	E	R

- (1) GARLIC (2) CHILLY  
(3) MINT (4) GINGER

14. Choose the *correct* alternative :

Ancient Indian ..... the science of ship-building and navigation very well.

- (1) knows (2) know  
(3) knew (4) had known

15. Choose the *correct* alternative from the following table :

Column 'A'	Column 'B'
(1) Teacher told many stories.	(a) Many stories will be told by teacher.
(2) Teacher was telling many stories.	(b) Many stories were told by teacher.
(3) Teacher tells many stories.	(c) Many stories were being told by teacher.
(4) Teacher will tell many stories.	(d) Many stories are told by teacher.

(1) (1)—(b), (2)—(c), (3)—(d), (4)—(a)

(2) (1)—(c), (2)—(b), (3)—(a), (4)—(d)

(3) (1)—(d), (2)—(a), (3)—(b), (4)—(c)

(4) (1)—(a), (2)—(c), (3)—(b), (4)—(d)

16. Find out the *correct* alternative for the type of tense of underlined word :

Ninad flew his kite and the kite rose high in the sky.

(1) Simple present tense                      (2) Present perfect tense

(3) Past perfect tense                        (4) Simple past tense



17. Complete the sentence using the *correct* conjunction to form sentence of indirect speech :

Don Quixote said ..... he was not afraid of his enemy.

- (1) to (2) that  
(3) if (4) why

18. Identify the adjectives from the given words. Choose two *correct* alternatives :

- (1) small (2) buy  
(3) hopeful (4) cook

19. Read the following conversation. Choose the *correct* alternative which shows permission :

Student → ..... I come in ?

Teacher → Yes, come in.

- (1) Can (2) Could  
(3) Will (4) May

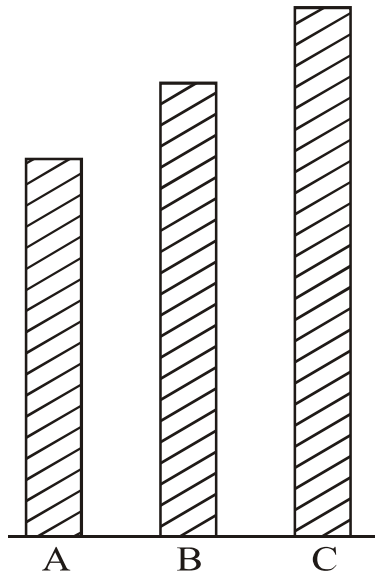
20. Read the dialogue. Choose the *correct* alternative :

Meenakshi → Where is the bird ?

Madhukaka → There it is. It is ..... that bush.

- (1) behind (2) into  
(3) in (4) above

21. Choose one *correct* alternative :



- (1) Stick 'C' is the largest stick of all.
- (2) Stick 'B' is not as long as stick 'A'.
- (3) Stick 'A' is longer than stick 'B'.
- (4) The stick 'C' is no longer than stick 'A'.

22. Read the following note. Choose the *correct* alternative :

Mother returned home along with grandfather. She found Prachi's note.

Dear Mother,

I have gone out to buy books. My friend will stay with us. Please cook some ..... food.

- (1) tasty
- (2) salty
- (3) boiled
- (4) raw



**Instruction for Q. No. 25 :**

**Read the advertisement and choose one *correct* alternative :**

**Aniket Tours and Travels**

Spend your summer vacation with fun  
and site seeing.

Hurry !  
Last ten  
days left

Book for two adults and get booking  
for two kids free.

Offer closes on 10th May.

Mode of Transport of your choice.

Aeroplane, Railway, Bus Service, Boat Service.

Choose tour plans

Goa	Coastal Karnataka
Mumbai	Gujrat
Delhi	Madhya Pradesh
Hyderabad	Kullu-Manali

e-mail : aniket.tour@gmail.com

**25.** Your friend Joseph wants to visit Coastal Karnataka. His father is busy. So they want to choose mode of transport which will make their trip of short duration.

Choose one *correct* option which make their trip of short duration :

- |                 |               |
|-----------------|---------------|
| (1) Bus Service | (2) Railway   |
| (3) Boat        | (4) Aeroplane |

## ವಿಭಾಗ II

### ಬುದ್ಧ ಮತ್ತೆ ಚಾಚಣೆ

26. 'ನಾವು ನಿನ್ನೆ ಮುಂಜಾನೆ ಮೊದಲು ಶಾಲೆಯ ಪರಿಸರ ಸ್ವಚ್ಛತೆ ಮಾಡಿ ಮನೆಗೆ ಬಂದೆವು ಮತ್ತು ದೂರದರ್ಶನದ ಮೇಲೆ 'ಸಮೃದ್ಧ ಭಾರತ' ಈ ಕಾರ್ಯಕ್ರಮ ನೋಡಿದೆವು'.

ಈ ವಾಕ್ಯದಲ್ಲಿ ಎರಡು ಅಕ್ಷರ ಶಬ್ದಗಳು ಮೂರು ಅಕ್ಷರ ಶಬ್ದಗಳಿಗಿಂತ ಎಷ್ಟು ಹೆಚ್ಚು ಅಥವಾ ಕಡಿಮೆ ಇವೆ?

(1) 3 ರಿಂದ ಕಡಿಮೆ

(2) 3 ರಿಂದ ಹೆಚ್ಚು

(3) 4 ರಿಂದ ಕಡಿಮೆ

(4) 5 ರಿಂದ ಕಡಿಮೆ

27. 'ಶ್ರೀಯಾಳು ಬರೆದ ಶುದ್ಧಲೇಖನ ವಹಿಯಲ್ಲಿ ಶಾಸ್ತ್ರ, ಅಧ್ಯಯನ, ಜ್ಞಾನಾಮೃತ, ಅಮೃತ, ಮತ್ತು ಶೃಂಗಾರ ಈ ತಪ್ಪಿದ ಶಬ್ದಗಳು ತಿದ್ದಿ ಬರೆದಳು' ಈ ವಾಕ್ಯದಲ್ಲಿ ಒಟ್ಟು ಎಷ್ಟು ಒತ್ತಾಕ್ಷರಗಳು ಬಂದಿವೆ?

(1) 8

(2) 14

(3) 10

(4) 12

Space for Rough Work

ಅಕ್ಷರಮಾಲೆ : ABCDE FGHIJ KLMNO PQRST UVWXY

28. 'ನನ್ನ ಮಿತ್ರ ಸುಂದರ' ಗೆರೆ ಹೊಡದ ಪದದ ಸಮನಾರ್ಥಕ ಶಬ್ದ ಪರ್ಯಾಯಗಳಲ್ಲಿ ಯಾವವು ಆರಿಸಿರಿ.

(ಯೋಗ್ಯ ಎರಡು ಪರ್ಯಾಯಗಳು ಆರಿಸಿರಿ)

- (1) ಸೂರ್ಯ (2) ಚಂದ್ರ  
(3) ಶಶಿ (4) ರವಿ

29. 'ಹಾ, ಕ, ನ, ಸಿಂ, ಲೋ, ವ' ಈ ಅಕ್ಷರಗಳಿಂದ ತಯಾರಾಗುವ ಅರ್ಧಪೂರ್ಣ ಶಬ್ದದಿಂದ ಅನುಕ್ರಮವಾಗಿ ಯಾವ ಅಕ್ಷರ ತೆಗೆದುಕೊಂಡರೆ 'ಕಾನನ' ಈ ಶಬ್ದದ ಅರ್ಥ ದೊರೆಯುವುದು?

- (1) 4, 5 (2) 5, 4  
(3) 3, 6 (4) 6, 3

30. ಅಕ್ಷರಮಾಲೆ : bddpqpdbbqpdpdbdqdb

ಮೇಲಿನ ಅಕ್ಷರ ಮಾಲಿಕೆಯ ಮಧ್ಯದಲ್ಲಿರುವ ಅಕ್ಷರದ ಎಡಬದಿಯ ನಾಲ್ಕನೆಯ ಅಕ್ಷರದಿಂದ ಎಣಿಸಲಾಗಿ ಬಲಬದಿಯ ಏಳನೆಯ ಅಕ್ಷರ ಯಾವುದು?

- (1) b (2) d  
(3) p (4) q


Space for Rough Work

ಪ್ರ. 31 ರಿಂದ 34 ಸೂಚನೆ :

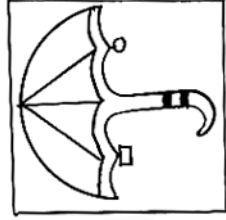
ಗುಂಪಿಗೆ ಸರಿಹೊಂದದ ಪದ ಗುರುತಿಸಿರಿ :

31. (1) ಕಮಲ (2) ನೈದಿಲೆ  
(3) ಜಲಜ (4) ಜನನಿ


32.



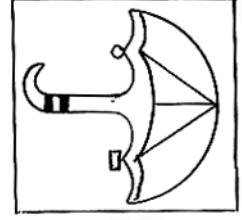
(1)



(2)



(3)



(4)

33. (1) 3436 (2) 2325  
(3) 7164 (4) 5249
34. (1) GSF (2) DVC  
(3) EUD (4) KOL

Space for Rough Work

ಅಕ್ಷರಮಾಲೆ : ABCDE FGHIJ KLMNO PQRST UVWXY

35. ಗುಂಪಿಗೆ ಸೇರುವ ಪದ ಆರಿಸಿರಿ : (ಯೋಗ್ಯ ಎರಡು ಪರ್ಯಾಯಗಳು ಆರಿಸಿರಿ).

924, 1342, 3498

(1) 1214 (2) 1331

(3) 4441 (4) 3905

36. ಮೊದಲನೆಯ ಎರಡು ಪದಗಳ ಸಹಸಂಬಂಧ ಲಕ್ಷ್ಯದಲ್ಲಿ ತೆಗೆದುಕೊಂಡು ಪ್ರಶ್ನೆ ಚಿನ್ಹೆಯ ಸ್ಥಳದಲ್ಲಿ ಬರುವ ಪರ್ಯಾಯ ಆರಿಸಿರಿ : (ಯೋಗ್ಯ ಎರಡು ಪರ್ಯಾಯಗಳು ಆರಿಸಿರಿ).

ಸೊಯಾಬಿನ : ಖಾದ್ಯತ್ಯೇಲ :: ಬಿದಿರು : ?

(1) ಅರಗ (2) ಸುಣ್ಣ

(3) ಕಾಗದ (4) ಬುಟ್ಟಿ

37. ಮೊದಲಿನ ಎರಡು ಪದಗಳ ಸಹಸಂಬಂಧ ಗುರುತಿಸಿ ಪ್ರಶ್ನೆಚಿನ್ಹೆಯ ಸ್ಥಳದಲ್ಲಿ ಬರುವ ಪರ್ಯಾಯ ಆರಿಸಿರಿ. (ಯೋಗ್ಯ ಎರಡು ಪರ್ಯಾಯಗಳನ್ನು ಆರಿಸಿರಿ). :

ಖಗ : ಪಕ್ಷಿ :: ಕರಿ : ?

(1) ಕರ (2) ಹಸ್ತ

(3) ಆನೆ (4) ಕಪ್ಪು

Space for Rough Work



ಅಕ್ಷರಮಾಲೆ : ABCDE FGHIJ KLMNO PQRST UVWXY

ಪ್ರ. 38 ರಿಂದ 40 ಸೂಚನೆ :

ಮೊದಲನೆಯ ಎರಡು ಪದಗಳ ಸಹಸಂಬಂಧ ಗುರುತಿಸಿ ಪ್ರಶ್ನೆಚಿಹ್ನೆಯ ಸ್ಥಳದಲ್ಲಿ ಬರುವ ಪರ್ಯಾಯ ಆರಿಸಿರಿ :

38. 237 : 1728 :: 412 : ?

(1) 3024

(2) 637

(3) 2401

(4) 343

39. CFI : WTQ :: DHL : ?

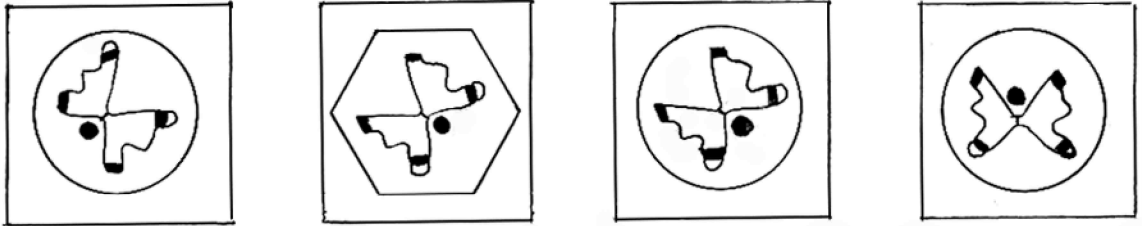
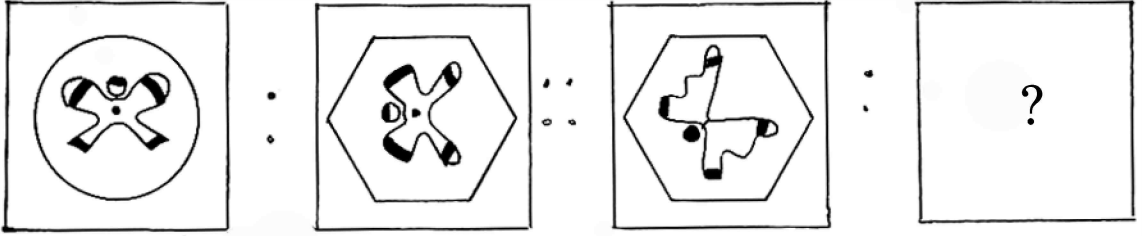
(1) VRN

(2) VPM

(3) UPM

(4) UQM

40.



(1)

(2)

(3)

(4)

Space for Rough Work

ಅಕ್ಷರಮಾಲೆ : ABCDE FGHIJ KLMNO PQRST UVWXY

ಪ್ರ. 41 ರಿಂದ 44 ಸೂಚನೆ :

ಕೆಳಗಿನ ಮಾಲಿಕೆಯಲ್ಲಿ ಪ್ರಶ್ನೆಚಿಹ್ನೆಯ ಸ್ಥಳದಲ್ಲಿ ಬರುವ ಪದವನ್ನು ಪರ್ಯಾಯಗಿದ ಆರಿಸಿರಿ :

41. 568, 467, 370, 281, 198, 119 ?

(1) 50

(2) 46

(3) 56

(4) 52

42. 1, 2, 6, 21, 88 ? 2676

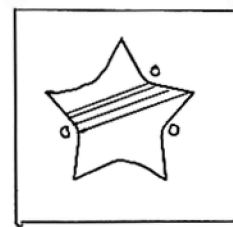
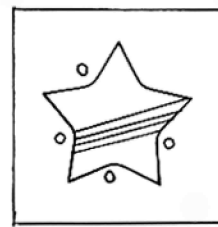
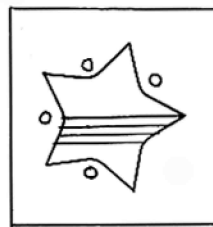
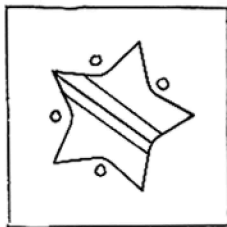

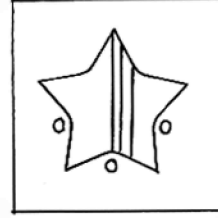
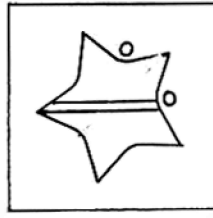
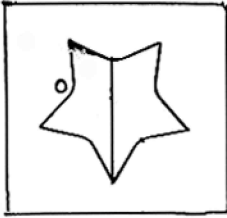
(1) 445

(2) 645

(3) 357

(4) 1350

43.



(1)

(2)

(3)

(4)

Space for Rough Work

ಅಕ್ಷರಮಾಲೆ : ABCDE FGHIJ KLMNO PQRST UVWXY

44.  $\triangle \oplus \square \ominus \square \ominus \triangle \oplus \triangle \oplus ? ? ? \square \ominus \triangle \ominus \triangle \oplus \square$

(1)  $\triangle \ominus \oplus$

(2)  $\square \oplus \ominus$

(3)  $\square \ominus \oplus$

(4)  $\square \triangle \oplus$

ಪ್ರ. 45 ಮತ್ತು 46 ಸೂಚನೆ :

ಮುಂದಿನ ಮಾಲಿಕೆಯಲ್ಲಿ ತಪ್ಪು ಪದ ಗುರುತಿಸಿರಿ :

45. 23, 34, 49, 64, 83, 106, 135, 166

(1) 64

(2) 49

(3) 83

(4) 135

46. B V F R J N M J R

(1) F

(2) V

(3) B

(4) M

Space for Rough Work

ಪ್ರ. 47 ಮತ್ತು 48 ಸೂಚನೆ :

ಒಂದು ಸಾಂಕೇತಿಕ ಭಾಷೆಯಲ್ಲಿ ಕಸರ = 407, ರಜಕ = 420, ಸದರ = 467 ಹೀಗೆ ಬರುವರು ಹಾಗಾದರೆ ಮುಂದಿನ ಪ್ರಶ್ನೆಗಳ ಉತ್ತರ ಬರೆಯಿರಿ.

47. 'ಸದಕ' ಈ ಶಬ್ದ ಸಾಂಕೇತಿಕ ಭಾಷೆಯಲ್ಲಿ ಹೇಗೆ ಬರೆಯುವಿರಿ?

- (1) 760 (2) 604  
(3) 764 (4) 407

48. 4, 0 ಈ ಅಂಕಿಗಳಿಂದ ತಯಾರಾಗುವ ಅರ್ಧ ಪೂರ್ಣ ಶಬ್ದದ ಸಮಾನಾ ಅರ್ಥ ವಿರುವ ಶಬ್ದ ಪರ್ಯಾಯಗಳಿಂದ ಆರಿಸಿರಿ. (ಯೋಗ್ಯ ಎರಡು ಪರ್ಯಾಯಗಳು ಆರಿಸಿರಿ) :

- (1) ಕೈ (2) ಪದ  
(3) ಹಸ್ತ (4) ಕರ್ಣ

49. ಒಂದು ಸಾಂಕೇತಿಕ ಭಾಷೆಯಲ್ಲಿ A ಗೆ C, B ಗೆ D, C ಗೆ E ಈ ಕ್ರಮದಲ್ಲಿ ಬರೆದರೆ ಯಾವುದಕ್ಕೆ 'P' ಬರೆಯಬೇಕು?

- (1) N (2) R  
(3) Q (4) S

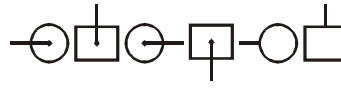
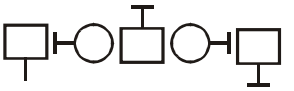

Space for Rough Work

ಪ್ರ. 50 ರಿಂದ 52 ಸೂಚನೆ :

ಕೊಟ್ಟ ಲಯಬದ್ಧ ಮಂಡಣೆಯಲ್ಲಿಯ ಪದಗಳ ಕ್ರಮ ಗುರುತಿಸಿ ಪ್ರಶ್ನೆಚಿಹ್ನೆಗಳ ಸ್ಥಳದಲ್ಲಿ ಬರುವ ಯೋಗ್ಯ ಪದ ಗುರುತಿಸಿರಿ :

50. ಬ ಕ ಫ ವ ಷ ಪ ಫ ಬ ಕ ಪ ವ ಷ ಕ ಫ ಬ ಷ ಪ ವ ಬ ? ? ? ಷ ಪ

- (1) ಫ ಕ ವ (2) ಕ ಫ ವ  
(3) ವ ಫ ಕ (4) ಕ ಪ ವ

51.  ?  ? 

- (1)  (2)   
(3)  (4) 

52. 2 5 6 9 8 4 7 6 9 8 4 7 2 5 8 4 7 2 5 6 9 7 2 ? ? ? 8 4

- (1) 9 6 5 (2) 6 5 9  
(3) 5 6 9 (4) 2 6 9

Space for Rough Work

ಅಕ್ಷರಮಾಲೆ : ABCDE FGHIJ KLMNO PQRST UVWXY

ಪ್ರ. 53 ರಿಂದ 55 ಸೂಚನೆ :

ಮುಂದಿನ ಸಂಖ್ಯೆಗಳ ತ್ರಿಕೋನವನ್ನು ನಿರೀಕ್ಷಿಸಿ ಮಾಡಿ ಪ್ರಶ್ನೆಗಳಲ್ಲಿಯ ಪದಗಳಲ್ಲಿರುವ ಅಂಕಗಳ ಕ್ರಮ ಗುರುತಿಸಿ ಪ್ರಶ್ನೆ ಚಿಹ್ನೆಯ ಸ್ಥಳದಲ್ಲಿ ಬರುವ ಪದ ಗುರುತಿಸಿರಿ :

17

18 19

23 24 25

28 29 30 31

33 34 35 36 37

38 39 40 41 42 43

53. 28, 33, 39, 29 : 31, 37, 42, 30 :: 34, 29, 35, 40 : ?

(1) 41, 35, 30, 36 (2) 36, 30, 35, 41

(3) 36, 30, 25, 31 (4) 35, 30, 36, 41

54. 18, 28, 30, 25 : 19, 31, 29, 23 :: 38, 39, 28, 23 : ?

(1) 25, 31, 42, 43 (2) 25, 31, 42, 37

(3) 43, 42, 31, 25 (4) 43, 42, 25, 31

55. ಸಂಖ್ಯಾ ತ್ರಿಕೋನದಿಂದ ಕೆಳಗಿನ ಸಂಖ್ಯಾ ಮಾಲಿಕೆಯಲ್ಲಿಯ ಪ್ರಶ್ನೆ ಚಿಹ್ನೆಯ ಸ್ಥಳದಲ್ಲಿ ಬರುವ ಪರ್ಯಾಯ ಆರಿಸಿರಿ :

33, 39, 34, 40, 35 ? 36, 42, 37.

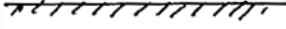
(1) 30 (2) 41

(3) 40 (4) 31

Space for Rough Work

ಅಕ್ಷರಮಾಲೆ : ABCDE FGHIJ KLMNO PQRST UVWXY


56. ಕೆಳಗಿನ ಪ್ರಶ್ನೆ ಆಕೃತಿಯ ಜಲ ಪ್ರತಿಬಿಂಬ ಪರ್ಯಾಯ ಆಕೃತಿಗಳಿಂದ ಆರಿಸಿರಿ :



(1)



(2)



(3)





(4)

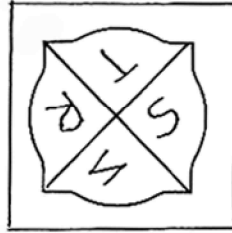
ಪ್ರ. 57 ಮತ್ತು 58 ಸೂಚನೆ :

ಪ್ರಶ್ನೆ ಆಕೃತಿಯ ಕನ್ನಡಿಯಲ್ಲಿಯ ಪ್ರತಿಬಿಂಬ ಪರ್ಯಾಯ ಆಕೃತಿಗಳಿಂದ ಆರಿಸಿರಿ :

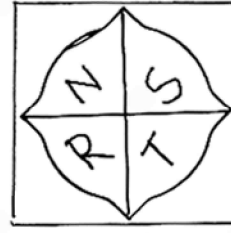
57.




(1)



(2)



(3)



(4)

Space for Rough Work

58.



(1)



(2)



(3)



(4)

59. ಶಾಮನ ವಯಸ್ಸು ಕೇಶವನ ವಯಸ್ಸಿನ  $\frac{3}{2}$  ಪಟ್ಟಿನಗಿಂತ 3 ರಿಂದ ಕಡಿಮೆ ಇದ್ದು, ಗೈಬಿಸಾಬನ  $\frac{4}{7}$  ಪಟ್ಟಿನಗಿಂತ 2 ರಿಂದ ಹೆಚ್ಚಿದೆ. ಒಂದು ವೇಳೆ ಗೈಬಿಸಾಬನು 70 ವರ್ಷದವನು ಇದ್ದರೆ ಮೂವರ ವಯಸ್ಸಿನ ಬೇರೀಜು ಎಷ್ಟು?

(1) 139 ವರ್ಷಗಳು

(2) 125 ವರ್ಷಗಳು

(3) 142 ವರ್ಷಗಳು

(4) 152 ವರ್ಷಗಳು

60. ಕೆಳಗಿನವುಗಳ ಪೈಕಿ ಎಷ್ಟು ಗಂಟೆಗೆ ಗಡಿಯಾರದಲ್ಲಿಯ ತಾಸಿನ ಹಾಗೂ ಮಿನಿಟಿನ ಮುಳ್ಳುಗಳ  $105^\circ$  ಮಾಪನದ ಕೋನು ತಯಾರಾಗುವುದು. (ಯೋಗ್ಯ ಎರಡು ಪರ್ಯಾಯಗಳು ಆರಿಸಿರಿ) :

(1) 3 ಗಂಟೆ 30 ಮಿನಿಟು

(2) 2 ಗಂಟೆ 30 ಮಿನಿಟು

(3) 10 ಗಂಟೆ 30 ಮಿನಿಟು

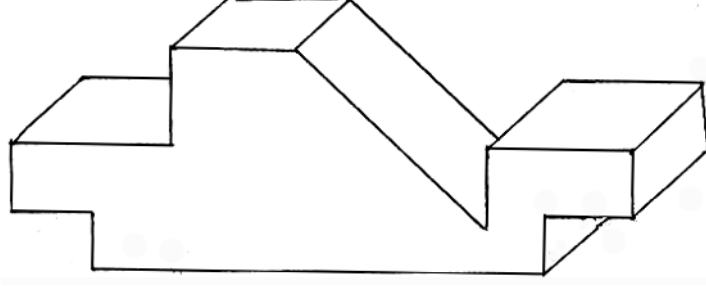
(4) 9 ಗಂಟೆ 30 ಮಿನಿಟು

Space for Rough Work



ಅಕ್ಷರಮಾಲೆ : ABCDE FGHIJ KLMNO PQRST UVWXY

61. ಕೊಟ್ಟ ಕಟ್ಟಿಗೆಯ ಘನಾಕೃತಿಯಲ್ಲಿ ಒಟ್ಟು ಎಷ್ಟು ಪೃಷ್ಠಗಳಿವೆ?



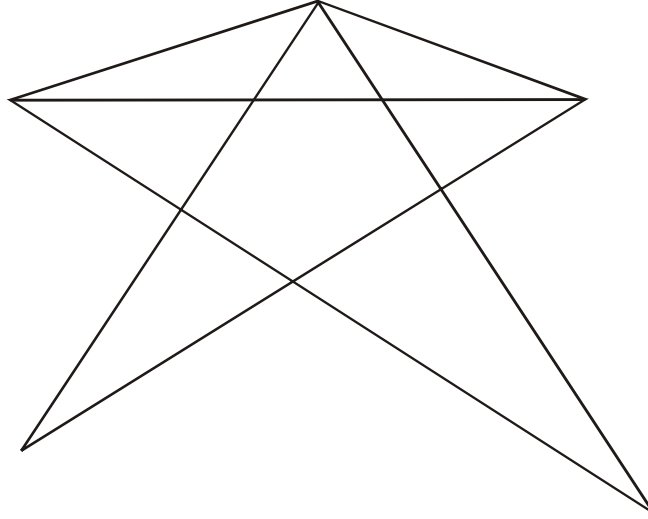
(1) 15

(2) 13

(3) 16

(4) 11

62. ಆಕೃತಿಯಲ್ಲಿ ಎಷ್ಟು ತ್ರಿಕೋನಗಳಿವೆ?



(1) 14

(2) 13

(3) 15

(4) 17

Space for Rough Work

ಪ್ರ. 63 ಮತ್ತು 64 ಸೂಚನೆ :

ಸಂಖ್ಯೆಗಳ ಮಂಡಣಿಯಲ್ಲಿ ಸೂತ್ರಗಳನ್ನು ಗುರುತಿಸಿ, ಪ್ರಶ್ನೆ ಚಿಹ್ನೆಯ ಸ್ಥಳದಲ್ಲಿ ಬರುವ ಯೋಗ್ಯ ಪರ್ಯಾಯ ಆರಿಸಿರಿ :

63.  $9 \times 4 = 17$ ,  $7 \times 2 = 41$ ,  $10 \times 3 = 73$ , ಹಾಗಾದರೆ  $8 \times 1 =$  ಎಷ್ಟು?

(1) 67

(2) 65

(3) 63

(4) 69

64.  $4 \begin{array}{|c|} \hline 7 \\ \hline 20 \\ \hline 5 \\ \hline \end{array} 2$      $7 \begin{array}{|c|} \hline 4 \\ \hline 27 \\ \hline 2 \\ \hline \end{array} 3$      $5 \begin{array}{|c|} \hline 1 \\ \hline 22 \\ \hline 6 \\ \hline \end{array} 3$      $2 \begin{array}{|c|} \hline 7 \\ \hline ? \\ \hline 9 \\ \hline \end{array} 8$

(1) 27

(2) 24

(3) 32

(4) 26

65. ಒಂದು ಸಾಲಿನಲ್ಲಿ ಹರಿಯು ಕೊನೆಯಿಂದ ಏಳನೆಯ ಸ್ಥಾನದ ಮೇಲೆ ಮತ್ತು ಹರನು ಮಧ್ಯ ಭಾಗದಲ್ಲಿ 23 ನೆಯ ಸ್ಥಾನದ ಮೇಲೆ ನಿಂತಿದ್ದಾನೆ. ಹಾಗಾದರೆ ಅವರಿಬ್ಬರ ನಡುವೆ ಎಷ್ಟು ಹುಡುಗರಿದ್ದಾರೆ?

(1) 14

(2) 15

(3) 17

(4) 16

Space for Rough Work

ಅಕ್ಷರಮಾಲೆ : ABCDE FGHIJ KLMNO PQRST UVWXY

66. ಸ್ವರಾಜ್ಯ ಪೂರ್ವದಕಡೆ ಕೆಲ ಅಂತರ ಹೋದಾಗ ಒಂದು ಕಾಟಕೋನದಲ್ಲಿ ಎಡಬದಿಗೆ ತಿರುಗಿ ಮತ್ತು 50 ಮೀಟರ ಅಂತರ ನಡೆದನು. ಅಲ್ಲಿ ಅವನು ಬಲಬದಿಗೆ  $135^\circ$  ಕೋನದಲ್ಲಿ ತಿರುಗಿ ಇನ್ನು 15 ಮೀಟರ ನಡೆದ ಹಾಗಾದರೆ ಈಗ ಅವನ ಎಡಕ್ಕೆಕಡೆ ಯಾವ ದಿಕ್ಕು ಇರುವುದು?

- (1) ಈಶಾನ್ಯ (2) ವಾಯವ್ಯ  
(3) ನೈಋತ್ಯ (4) ಆಗ್ನೇಯ

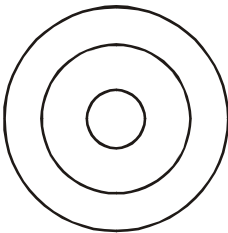
67. ಒಂದು ಲೀಪ್ ವರ್ಷದಲ್ಲಿ 15 ಮಾರ್ಚ್ ಮಂಗಳವಾರ ಇತ್ತು ಹಾಗಾದರೆ ಅದರ ಮೇಲೆ ಬರುವ 13 ನವೆಂಬರ ರಂದು ಯಾವ ದಿನ ಇರುವುದು?

- (1) ರವಿವಾರ (2) ಶನಿವಾರ  
(3) ಬುಧವಾರ (4) ಸೋಮವಾರ

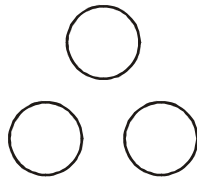
ಪ್ರ. 68 ಮತ್ತು 69 ಸೂಚನೆ :

ಪ್ರಶ್ನೆಯಲ್ಲಿ ಕೊಟ್ಟ ಘಟಕ ಯಾವ ವೆನ್ ಆಕೃತಿಗೆ ಸರಿಯಾಗಿ ಹೊಂದುವುದು ಅದು ಪರ್ಯಾಯಗಳಿಂದ ಆರಿಸಿರಿ :

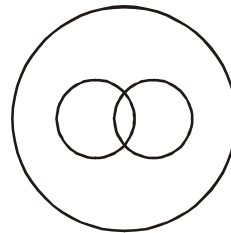
68. ವಿರಾಮ ಚಿಹ್ನೆಗಳು, ಪೂರ್ಣ ವಿರಾಮ ಚಿಹ್ನೆ, ಅರ್ಧ ವಿರಾಮ ಚಿಹ್ನೆ.



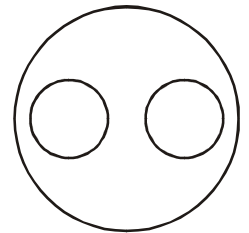
(1)



(2)



(3)

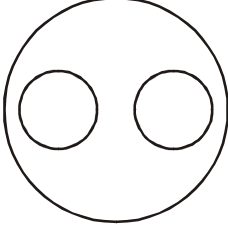


(4)

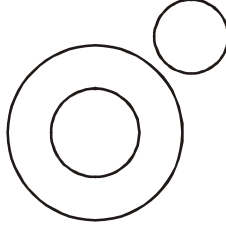
Space for Rough Work

ಅಕ್ಷರಮಾಲೆ : ABCDE FGHIJ KLMNO PQRST UVWXY

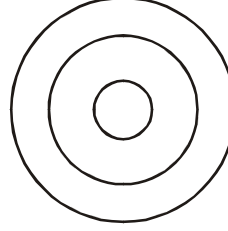
69. ಅಕಶೇರುಕ ಪ್ರಾಣಿ, ಹಾವು, ಎರೆಹುಳ.



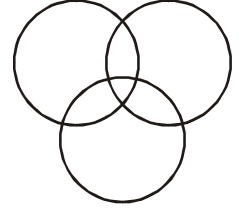
(1)



(2)



(3)



(4)

70. ಕೊಟ್ಟ ಚೌಕೋನದಲ್ಲಿಯ ಪ್ರಶ್ನೆ ಚಿಹ್ನೆಯ ಸ್ಥಳದಲ್ಲಿ ಬರುವ ಪರ್ಯಾಯ ಆರಿಸಿರಿ :

53	17	67
11	?	23
41	83	13

(1) 37

(2) 29

(3) 31

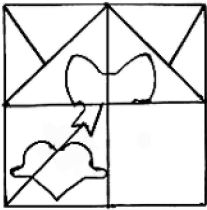
(4) 43

ಪ್ರ. 71 ಮತ್ತು 72 ಸೂಚನೆ :

ಕೊಟ್ಟ ಪ್ರಶ್ನೆ ಆಕೃತಿ ಪೂರ್ಣಗೋಳಿಸಲು ಯೋಗ್ಯ ಪರ್ಯಾಯ ಆರಿಸಿರಿ :

71. ಪ್ರಶ್ನೆ ಆಕೃತಿ

ಉತ್ತರ ಆಕೃತಿಗಳು



(1)



(2)



(3)



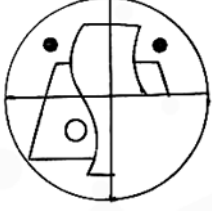
(4)

Space for Rough Work

ಅಕ್ಷರಮಾಲೆ : ABCDE FGHIJ KLMNO PQRST UVWXY

72. ಪ್ರಶ್ನೆ ಆಕೃತಿ

ಉತ್ತರ ಆಕೃತಿಗಳು



(1)



(2)




(3)



(4)

73. ಪ್ರಶ್ನೆ ಆಕೃತಿಗೆ ಸರಿಯಾಗಿ ಹೊಂದುವ ಆಕೃತಿ ಪರ್ಯಾಯಗಳಿಂದ ಆರಿಸಿರಿ :


ಪ್ರಶ್ನೆ ಆಕೃತಿ




ಉತ್ತರ ಆಕೃತಿಗಳು



(1)



(2)



(3)




(4)

Space for Rough Work

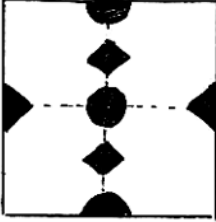
ಅಕ್ಷರಮಾಲೆ : ABCDE FGHIJ KLMNO PQRST UVWXY

74. ಪ್ರಶ್ನೆ ಆಕೃತಿಯಲ್ಲಿಯ ಕಾಗದಕ್ಕೆ ಸರಿಯಾಗಿ ಮಡಕೆ ಹಾಕಿ, ಕತ್ತರಿಸಿ ಮಡಕೆ ಬಿಚ್ಚಲಾಗಿ ಅತರ ಆಕಾರ ಪರ್ಯಾಯದಲ್ಲಿಯ ಯಾವ ಆಕೃತಿಯ ಹಾಗೆ ಕಾಣುವುದು?

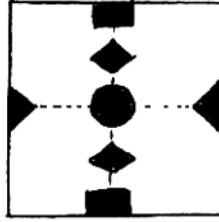
ಪ್ರಶ್ನೆ ಆಕೃತಿ



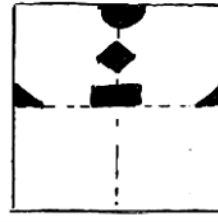
ಉತ್ತರ ಆಕೃತಿಗಳು



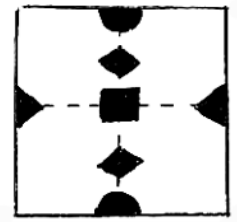
(1)



(2)




(3)



(4)

75. ಕೊಟ್ಟ ಪ್ರಶ್ನೆ ಆಕೃತಿಯಲ್ಲಿ ಅಡಗಿರುವ ಭಾಗ ಪರ್ಯಾಯಗಳಿಂದ ಆರಿಸಿರಿ :

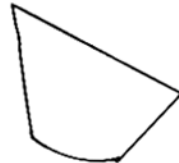
ಪ್ರಶ್ನೆ ಆಕೃತಿ



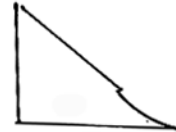
ಉತ್ತರ ಆಕೃತಿಗಳು



(1)



(2)



(3)



(4)

Space for Rough Work

**Space for Rough Work**

**Space for Rough Work**