

PRE UPPER PRIMARY SCHOLARSHIP EXAMINATION (Std. 5<sup>th</sup>), FEBRUARY 2018

Seat No.

**0 8 0 1**

Set

**A**

Paper No. I

**Medium : Kannada**

Time : 11:00 to 12:30

Pages : 32

**First Language and Mathematics**

**Total Marks :150**

*Read the following instructions carefully before you answer the questions.*

- (1) This question paper contains two sections. In Section I there are 1 to 25 questions of First Language and in Section II there are 26 to 75 questions of Mathematics. All 75 questions are compulsory.
- (2) All questions carry 2 marks each.
- (3) Time limit to solve the question paper is 90 minutes.
- (4) Separate answer sheet is given to record the answers. Each question has been given four alternatives. Read them carefully. Select the correct answer and shade the correct answer in the answer sheet.  
Example :- If the correct alternative for Q. No. 6 is 2, then record your answer as follows:  
Question No. 6      ① ● ③ ④
- (5) Answer recorded in any other form will not be considered. Such answer will be credited with 'Zero' mark.  
Example:
- (6) Use blue or black ball pen to darken the circle. Pencil is not allowed. Circles darkened by pencil will not be credited.
- (7) Once you have darkened the circle as correct alternative you cannot change it.
- (8) If more than one circles are darkened or overwriting is done, the answer will not be accepted.
- (9) The rough work is to be done in the space given under each page or on the last page of the question paper.
- (10) If you do not know the answer to any question, do not spend much time on it and pass on to the next one. If the time permits you can come back to the question which you have left in the first instance and try them again.
- (11) If you find any question incomplete or with error, then do not ask anything to the Supervisor or Centre Incharge.
- (12) For any error/mistake/objection issues, school or parents should not send written application to Block Education Officer or Education Officer. These error/ mistake/objection issues should be register online through respective school login only.
- (13) The error/ mistake/ objection issues should be register online within 10-days from the publication of Interim answer key on MSCE website.
- (14) Questions can be cancelled due to printing mistake or any other reason, on the basis of the suggestions given by the Committee of Experts.
- (15) Along with the question paper of the respective medium, the English version of question paper is also provided. In case of doubt please refer to the English version of the same question.

# विभाग I

## प्रथम भाषा

ಪ್ರ-೧ ರಿಂದ ೩: ಸೂಚನೆ: ಕೆಳಗಿನ ಗದ್ಯಭಾಗವನ್ನು ಓದಿ ಕೆಳಗೆ ಕೊಟ್ಟ ಪ್ರಶ್ನೆಗಳ ಉತ್ತರಗಳನ್ನು ಪರ್ಯಾಯಗಳಿಂದ ಆರಿಸಿರಿ.

ಚಾರ್ಲಿ ಚಾಪ್ಲಿನ್ ಜಗತ್ತಿನ ಸಮಸ್ತ ಕಲಾರಸಿಕರ ಮನಸೂರೆಗೊಂಡ ಮಹಾನ್ ಹಾಸ್ಯ ನಟ. ಹಿರಿಯರು ಕಿರಿಯರು ಎನ್ನದೆ ಎಲ್ಲರೂ ಚಾರ್ಲಿ ಚಾಪ್ಲಿನ್ ನ ಅಭಿನಯದ ಚಲನ ಚಿತ್ರಗಳನ್ನು ನೋಡಿ ಈಗಲೂ ಆನಂದಿಸುತ್ತಾರೆ.

ಈ ಕಲಾವಿದ ಲಂಡನ್ ನಲ್ಲಿ ೧೮೮೯ರ ಏಪ್ರಿಲ್ ೧೬ ನೇ ದಿನಾಂಕದಂದು ಜನಿಸಿದರು. ಇವನ ತಂದೆಯ ಹೆಸರು ಚಾರ್ಲಿ ಚಾಪ್ಲಿನ್ ನ ತಾಯಿ ಉತ್ತಮ ಹಾಡುಗಾರ್ತಿಯಾಗಿದ್ದಳು. ಅದರಿಂದ ಸಂಪಾದನೆಯಾದ ಹಣದಿಂದ ಜೀವನ ಸಾಗಿಸುತ್ತಿದ್ದರು. ಬಾಲಕನಾದ ಚಾರ್ಲಿ ಚಾಪ್ಲಿನ್ ನೂ ತಾಯಿಯ ಜೊತೆಗೆ ಥಿಯೇಟರ್ ಗೆ ಹೋಗುತ್ತಿದ್ದನು. ಅವನು ನಾಟಕಗಳನ್ನು ನೋಡಿ ತಾನೂ ಸಹ ಕಲಾವಿದನಾಗಬೇಕೆಂದು ಹಂಬಲಿಸಿದ. ಅದಕ್ಕಾಗಿ ಪ್ರಯತ್ನಮಾಡಿ ತನ್ನ ಹನ್ನೆರಡನೇ ವಯಸ್ಸಿನಲ್ಲಿ ನಾಟಕ ಕಂಪನಿಯನ್ನು ಸೇರಿದನು.

1. ಚಾರ್ಲಿ ಚಾಪ್ಲಿನ್ ರು ಎಲ್ಲಿ ಜನಿಸಿದರು?

- |                      |                  |
|----------------------|------------------|
| (1) ನ್ಯೂಯಾರ್ಕ್‌ನಲ್ಲಿ | (2) ಥಿಯೇಟರಿನಲ್ಲಿ |
| (3) ಮುಂಬಯಿಯಲ್ಲಿ      | (4) ಲಂಡನ್ ನಲ್ಲಿ  |

2. ಚಾರ್ಲಿ ಚಾಪ್ಲಿನ್ ನ ತಾಯಿಯು ಯಾವುದರಿಂದ ಹಣ ಸಂಪಾದಿಸುತ್ತಿದ್ದಳು?

- |                     |                     |
|---------------------|---------------------|
| (1) ಹಾಡುಗಳನ್ನು ಹಾಡಿ | (2) ನಾಟಕಗಳನ್ನು ಮಾಡಿ |
| (3) ಚಲನಚಿತ್ರಗಳಿಂದ   | (4) ಅಭಿನಯದಿಂದ       |

3. ಚಾರ್ಲಿ ಚಾಪ್ಲಿನ್ ನು ತನ್ನ ಎಷ್ಟನೇ ವಯಸ್ಸಿನಲ್ಲಿ ನಾಟಕ ಕಂಪನಿಯನ್ನು ಸೇರಿದನು?

- |                |                |
|----------------|----------------|
| (a) ಇಪ್ಪತ್ತನೆಯ | (b) ಹದಿನೆಂಟನೆಯ |
| (c) ಹನ್ನೆರಡನೆಯ | (d) ಹದಿಮೂರನೆಯ  |

ಪ್ರಶ್ನೆ 4 ರಿಂದ 6 ಸೂಚನೆ: ಕೊಟ್ಟ ಕವಿತೆಯನ್ನು ಓದಿ ಅದರ ಕೆಲಗಿನ ಪ್ರಶ್ನೆಗಳ ಉತ್ತರಗಳನ್ನು ಪರ್ಯಾಯಗಳಿಂದ ಆರಿಸಿರಿ.

ನನ್ನ ದೇಹದ ಬೂದಿ ಗಾಳಿಯಲಿ ತೂರಿಬಿಡಿ,  
ಹೋಗಿ ಬೀಳಲಿ ಭತ್ತ, ಬೆಳೆಯುವಲ್ಲಿ,  
ಬೂದಿ ಗೊಬ್ಬರದಿಂದ ತೆನೆಯೊಂದು ನೆಗೆದು ಬರೆ  
ಧನ್ಯವಾಯಿತು ಹುಟ್ಟು ನಾವಿನಲ್ಲಿ  
ನನ್ನ ದೇಹದ ಬೂದಿ ಹೊಳೆಯಲ್ಲಿ ಹರಿಯಬಿಡಿ,  
ತೇಲಿ ಬೀಳಲಿ ಮೀನು ಬಾಯಿಯಲ್ಲಿ.  
ಮುಷ್ಟಿ ಬೂದಿಯ ತಿಂದು ಪುಷ್ಟವಾಗಲು ಮೀನು,  
ಧನ್ಯವಾಯಿತು ಹುಟ್ಟು ಸಾವಿನಲ್ಲಿ  
ನನ್ನ ದೇಹದ ಬೂದಿ ಕೊಳದಲ್ಲಿ ಬೀರಿ ಬಿಡಿ,  
ತಾವರೆಯು ದಿನದಿನವು ಅರಳುವಲ್ಲಿ  
ಬೂದಿ ಕೆಸರನು ಕೂಡಿ ಹೊಸ ಪಂಕಜವು ಮೂಡೆ  
ಧನ್ಯವಾಯಿತು ಹುಟ್ಟು ಸಾವಿನಲ್ಲಿ  
ಸತ್ತ ಮೇಲಾದರೂ ದೇಹ ಸೇವೆಗೆ ನಿಲ್ಲಲಿ,  
ಇಂದಿಗೀ ನರಜನ್ಮ ಸೇವೆಯೆಂದು  
ತನ್ನ ಸ್ವಾರ್ಥವ ನೆನೆದು ವ್ಯರ್ಥವಾಗಿದೆ, ದೇವ  
ಧನ್ಯವಾಯಿತು ಹುಟ್ಟು ಸಾವಿನಲ್ಲಿ

4. ಕವಿಯು ಬೂದಿಯನ್ನು ಬಿಡಲು ಹೇಳಿದ ಸ್ಥಳ ಯಾವುದು?

- (1) ಗಾಳಿ (2) ಸಾಗರ (3) ಹೊಳೆ (4) ಕೊಳ

5. ಹೊಸ ಪಂಕಜವು ಯಾವಾಗ ಮಾಡುವುದು?

- (1) ಬೂದಿ ಗೊಬ್ಬರವಾದಾಗ (2) ಮೀನು ಬೂದಿ ತಿಂದಾಗ  
(3) ಬೂದಿ ಗಾಳಿಯಲಿ ತೂರಿದಾಗ (4) ಬೂದಿ ಕೆಸರನು ಕೂಡಿದಾಗ

6. ನರಜನ್ಮ ಯಾವುದಕ್ಕಾಗಿ ನಿಲ್ಲಲಿ ಎಂದು ಕವಿತೆಯಲ್ಲಿ ಹೇಳಲಾಗಿದೆ?

(1) ಸ್ವಾರ್ಥಕ್ಕಾಗಿ

(2) ದೇಶಕ್ಕಾಗಿ

(3) ಸೇವೆಗಾಗಿ

(4) ದ್ವೇಷಕ್ಕಾಗಿ

7. ರಹೀಮ ಜಾಣ ಬಾಲಕ, ಅವನು ದಿನಾಲು ಯೋಗಾಸನ ಮಾಡುತ್ತಾನೆ. ಈ ವಾಕ್ಯದಲ್ಲಿ ಗೆರೆಹೊಡೆದ ಪದಗಳ ಭೇದ ಗುರುತಿಸಿರಿ.

(1) ಸರ್ವನಾಮ, ನಾಮಪದ

(3) ನಾಮಪದ, ಸರ್ವನಾಮ

(3) ನಾಮಪದ, ವಿಶೇಷಣ

(4) ಸರ್ವನಾಮ, ವಿಶೇಷಣ

8. 'ಕವಿ' ಈ ಶಬ್ದವು ಯಾವ ಲಿಂಗವನ್ನು ಸೂಚಿಸುತ್ತದೆ?

(1) ಪುಲ್ಲಿಂಗ

(2) ಸ್ತ್ರೀಲಿಂಗ

(3) ನಪುಂಸಕಲಿಂಗ

(4) ಹೇಳಲು ಬರುವುದಿಲ್ಲ

9. ಶಬ್ದಗಳಿಂದ ವಾಕ್ಯ, ವಾಕ್ಯಗಳಿಂದ ಪರಿಚ್ಛೇದ, ಪರಿಚ್ಛೇದಗಳಿಂದ ಗದ್ಯ, ಗದ್ಯಗಳಿಂದ ಪುಸ್ತಕ ತಯಾರಿಸಲಾಗಿದೆ. ಈ ವಾಕ್ಯದಲ್ಲಿಯ ಗೆರೆಹೊಡೆದ ಶಬ್ದದ ವಚನ ಗುರುತಿಸಿರಿ.

(1) ಬಹುವಚನ

(2) ಏಕವಚನ

(3) ಎರಡೂ ಅಲ್ಲ

(4) ಹೇಳಲು ಬರುವುದಿಲ್ಲ

10. ಕೆಳಗಿನವುಗಳಲ್ಲಿ ಗುಂಪಿಗೆ ಸರಿಹೊಂದದ ಪರ್ಯಾಯ ಕ್ರಮಾಂಕವನ್ನು ಗುರುತಿಸಿರಿ

(1) ಬುಡಗಣ

(2) ಪಡುವಣ

(3) ಷಿಮಲ್ಗಣ

(4) ಮೂಡಣ

11. ಷಿಭವಿಷ್ಯತ್ ಕಾಲದ ಕ್ರಿಯಾಪದ ಸೂಚಿಸುವ ಶಬ್ದ ಗುರುತಿಸಿರಿ

(1) ಮರೆತನು

(2) ಮರೆಯುತ್ತಾನೆ

(3) ಮರೆಯುತ್ತಾಳೆ

(4) ಮರೆತಾನು

12. 'ಕಾಲು ಕೆದರು' ಈ ಪಡೆನುಡಿಯ ಅರ್ಥ ಬರೆಯಿರಿ.

- (1) ಸಿಟ್ಟಿಗೆ ಬರು (2) ಮೋಸ ಹೋಗು  
(3) ಕಾಳಿನಿಂದ ನೆಲ ಕೆದರು (4) ಜಗಳ ತೆಗೆ

13. ಕೆಳಗಿನ ಗಾದೆ ಮಾತು ಪೂರ್ಣಗೊಳಿಸುವ ಪರ್ಯಾಯ ಯಾವುದು ಮುತ್ತಿಗಿಂತ ಹೊತ್ತು-----.

- (1) ಉತ್ತಮ (2) ಬೇಕು  
(3) ಬಳಸಿಕೊ (4) ಪಡೆ

14. ರಿದಿನ ಕಾಲದಲ್ಲಿ ಜನರು ವಿದ್ಯುತ್ ಇಲ್ಲದಿದ್ದಾಗಲೂ ರೆಡಿಯೋದಿಂದ ಹಾಡುಗಳನ್ನು ಆಲಿಸುತ್ತಿದ್ದರು. ಈ ವಾಕ್ಯದಲ್ಲಿಯ ಗೆರೆಹೊಡೆದ ಶಬ್ದಕ್ಕೆ ಸಮರ್ಪಕ ಕನ್ನಡ ಶಬ್ದ ಯಾವುದು?

- (1) ದೂರದರ್ಶನ (2) ಆಕಾಶವಾಣಿ  
(3) ಬ್ರಹ್ಮಾಣಧ್ವನಿ (4) ಸಂಗಣಕ

(ಪ್ರಶ್ನೆ 15 ರಿಂದ 17) ಸೂಚನೆ: ಕೆಳಗಿನ ಮೂರಣ ವಾಕ್ಯಗಳನ್ನು ಓದಿ ಒಂದು ಸುಸಂಗತ ಪರಿಚ್ಛೇದ ತಯಾರಿಸಲು ಯೋಗ್ಯ ಪರ್ಯಾಯಗಳನ್ನು ಆರಿಸಿರಿ.

15. ಮಕ್ಕಳು ಅವರನ್ನು ಪ್ರೀತಿಯಿಂದ ----- ಎಂದೇ ಕರೆಯುತ್ತಿದ್ದರು.

- (1) ಬಾಪೂಜಿ (2) ಚಾಚಾ  
(3) ಸರದಾರ (4) ನೇತಾಜಿ

16. ----- ಅವರ ಬಾಳ ಸಂಗಾತಿಯಾಗಿದ್ದರು.

- (1) ಸಾವಿತ್ರಿಬಾಯಿ (2) ಕಮಲಾ ನೆಹರು  
(3) ಕಸ್ತೂರಬಾ (4) ಇಂದಿರಾಗಾಂದಿ

17. ಷಲುಪ್ಪಿನ ಮೇಲಿನ ಕರವನ್ನು ರದ್ದುಗೊಳಿಸಲು----- ಮಾಡಿದರು

(1) ಉಪವಾಸ ಸತ್ಯಾಗ್ರಹ

(2) ಅಸಹಕಾರ ಚಳುವಳಿ

(3) ದಾಂಡಿ ಯಾತ್ರೆ

(4) ಚಲೇಜಾವ್ ಚಳುವಳಿ

18. ಕೆಳಗಿನ ಸಮಾನಾರ್ಥಕಗಳಲ್ಲಿ ಅಯೋಗ್ಯ ಜೋಡಿ ಯಾವುದು?

(1) ಮುದ-ಆನಂದ

(2) ತುರು-ಹಸು

(3) ವೃದ್ಧಿ-ಬೆಳವಣಿಗೆ

(4) ವ್ಯಾಘ್ರ-ಕರಡಿ

19. ಡ್ರಾಂಗೊ ಇತರ ಹಕ್ಕಿಗಳ ಕೂಗನ್ನು ಅನುಸರಣೆ ಮಾಡುತ್ತದೆ. ಈ ವಾಕ್ಯದಲ್ಲಿ ಗೆರೆಹೊಡೆದ ಪದದ ವಿರುದ್ಧಾರ್ಥಕ ಶಬ್ದ ಯಾವುದು?

(1) ಅನುಸರಣೆ

(2) ಅನಾನುಕರಣೆ

(3) ಅಕಾರಣ

(4) ಅಭಿಸರಣೆ

20. ಕೆಳಗಿನ ಪದಬಂದವನ್ನು ಯೋಗ್ಯವಾದ ಅಕ್ಷರ ತುಂಬಿ ಪೂರ್ಣಗೊಳಿಸಿರಿ.

		ಬ	
		ಪು	
ಅ	ಭಿ		ನ
		ನ	

(1) ಮಾ

(2) ಜ

(3) ವ

(4) ಮ

21. ಕೆಳಗಿನವುಗಳಲ್ಲಿ ಜೋಡಿ ಶಬ್ದಗಳ ಅಯೋಗ್ಯ ಜೋಡಿ ಯಾವುದು?

(1) ನೋವು-ನಲಿವ

(2) ಹಳ್ಳ-ಕೊಳ್ಳ

(3) ಸುಂದರ-ಚಂದಿರ

(4) ಮನೆ-ಮಠ

22. ಕನಕದಾಸ, ಕೇಶವ, ಕೈಲಾಸ, ಕಾಂಚನಾ ಈ ಶಬ್ದಗಳನ್ನು ವರ್ಣಾನುಕ್ರಮವಾಗಿ ಬರೆದಾಗ ಕೊನೆಗೆ ಬರುವ ಶಬ್ದ ಯಾವುದು?

(1) ಕೈಲಾಸ

(2) ಕನಕದಾಸ

(3) ಕೇಶವ

(4) ಕಾಂಚನಾ

23. ಕಾ, ರ, ಸು, ಬ, ಅಕ್ಷರಗಳನ್ನು ಜೋಡಿಸಿ ತಯಾರಿಸಿದ ಅರ್ಥಪೂರ್ಣ ಶಬ್ದದ ಮೊದಲನೆಯ ಅಕ್ಷರ ಯಾವುದು?

(1) ಕಾ

(2) ರ

(3) ಸು

(4) ಬ

24. 'ಕಾಯಕವೇ ಕೈಲಾಸ' ಎಂದು ಹೇಳಿದವರು ಯಾವು?

(1) ಅಕ್ಕಮಹಾದೇವಿ

(2) ಚತುರ

(3) ಸರ್ವಜ್ಞ

(4) ಕುವೆಂಪು

25. 'ಗುಟ್ಟಾಗಿ ಸುದ್ದಿ ಮುಟ್ಟಿಸುವವ' ಈ ಶಬ್ದ ಸಮೂಹಕ್ಕೆ ಯೋಗ್ಯವಾದ ಪದ ಯಾವುದು?

(1) ಪ್ರಾಮಾಣಿಕ

(2) ಚತುರ

(3) ಗುಪ್ತಚಾರ

(4) ಓಲೆಗಾರ

## Section II

### Mathematics

26. ಮೂವತ್ತೆಂಟುವರೆ ಸಾವಿರ + ಮೂರು ಕಾಲ ನೂರು + ಮುಕ್ಕಾಲು ನೂರು = ?

- (1) 38,900                      (2) 39,600                      (3) 38,625                      (4) 38,800

27. ಸಂಖ್ಯಾಮಾಲಿಕೆಯಲ್ಲಿಯ ಕ್ರಮವನ್ನು ಗುರುತಿಸಿ ಪ್ರಶ್ನೆಚಿಹ್ನೆಯ ಸ್ಥಳದಲ್ಲಿ ಬರುವ ಸಂಖ್ಯೆಯನ್ನು ಮತ್ತು ಅದರ ವಾಚನ ದರ್ಶಿಸುವ ಪರ್ಯಾಯ ಆಯ್ಕೆ ಮಾಡಿರಿ

417805                       ?                      417797                      417793

- (1) ನಾಲ್ಕು ಲಕ್ಷ ಹದಿನೇಳು ಸಾವಿರದಾ ಎಂಟು ನೂರು  
(2) ನಲ್ವತ್ತೊಂದು ಲಕ್ಷ ಏಳು ಸಾವಿರದಾ ಎಂಬತ್ತೊಂದು  
(3) ನಾಲ್ಕು ಲಕ್ಷ ಒಂದು ಸಾವಿರದಾ ಎಂಟು ನೂರಾ ಒಂದು  
(4) ನಾಲ್ಕು ಲಕ್ಷ ಹದಿನೇಳು ಸಾವಿರದಾ ಎಂಟು ನೂರಾ ಒಂದು

28. ಒಂದು ಸಂಖ್ಯೆಯ ಮೂರನೆಯ ಭಾಗ 33 ಇದೆ. ಹಾಗಾದರೆ ಆ ಸಂಖ್ಯೆ ಯಾವುದು?

- (1) 99                      (2) 11                      (3) 36                      (4) 30

29. ಎರಡು ಸಮಾಂತರ ರೇಖೆಗಳು ಪರಸ್ಪರ \_\_\_\_\_

- (1) ಛೇದಿಸುತ್ತವೆ                      (2) ಬೆಳೆಸಿದಾಗ ಛೇದಿಸುತ್ತವೆ  
(3) ಎಂದಿಗೂ ಛೇದಿಸಲಾರವು                      (4) ಲಂಬ ಇರುತ್ತವೆ

Space for Rough Work



# Section II

## Mathematics

26. Thirty eight and half thousand + Three and a Quarter hundred + Three quarter hundred=?

- (1) 38,900                      (2) 39,600                      (3) 38,625                      (4) 38,800

27. Observe the number series and select the appropriate number, which is written in words, from the alternatives given below.

417805       ?      417797      417793

- (1) Four lakh seventeen thousand and eight hundred.  
(2) Forty-one lakh seven thousand and eighty-one  
(3) Four lakh one thousand eight hundred and one.  
(4) Four lakh seventeen thousand eight hundred and one.

28. One-third part of a number is 33, find the number.

- (1) 99                              (2) 11                              (3) 36                              (4) 30

29. Two parallel lines \_\_\_\_\_ each other.

- (1) intersect    (2) after extending, intersect  
(3) never intersect    (4) are perpendicular to

Space for Rough Work

30. ಕೋಜಾಶಿರಿ ಹುಣ್ಣಿಮೆಯ ದಿನ 500 ಮಿ.ಲಿ.ದ 12 ಪಾಕೇಟ ಹಾಲು ಖರೀದಿಸಿದರೆ ಒಟ್ಟು ಎಷ್ಟು ಲೀಟರ ಹಾಲು ಖರೀದಿಸಿದಂತಾಯಿತು?

- (1) 6000                      (2) 60                      (3) 6                      (4) 10

31. 500 ರೂ. ಅಸಲಿನ ಪ್ರ.ವ.ಪ್ರ.ಶ.8 ದರದಿಂದ 3 ವರ್ಷಗಳ ಸರಳಬಡ್ಡಿ ಎಷ್ಟು ಆಗುವುದು?

- (1) ₹ 240                      (2) ₹ 120                      (3) ₹ 500                      (4) ₹ 400

32. ಕೆಳಗಿನವುಗಳಲ್ಲಿ ಯೋಗ್ಯ ವಿಧಾನ ಯಾವುದು?

- (1) ಮಾರಾಟ ಬೆಲೆಯು ಕೊಂಡ ಬೆಲೆಗಿಂತ ಕಡಿಮೆ ಇದ್ದರೆ ಲಾಭವಾಗುತ್ತದೆ.  
(2) ಕೊಂಡ ಬೆಲೆಯು ಮಾರಾಟ ಬೆಲೆಗಿಂತ ಕಡಿಮೆ ಇದ್ದರೆ ಹಾನಿ ಆಗುತ್ತದೆ.  
(3) ಕೊಂಡ ಬೆಲೆಯು ಮಾರಾಟ ಬೆಲೆಗಿಂತ ಹೆಚ್ಚು ಇದ್ದರೆ ಲಾಭ ಆಗುತ್ತದೆ  
(4) ಮಾರಾಟ ಬೆಲೆಯು ಕೊಂಡ ಬೆಲೆಗಿಂತ ಹೆಚ್ಚು ಇದ್ದರೆ ಲಾಭ ಆಗುತ್ತದೆ

33. ರೋಮನ ಸಂಖ್ಯಾ ಚಿಹ್ನೆಯ ಪ್ರಕಾರ

$$\text{XVII} + \text{IX} - \text{IV} + \text{C} = ?$$

- (1) 72                      (2) 122                      (3) 522                      (4) 1022

34. 24 ಘಂಟೆಯ ಗಡಿಯಾರದ ಪ್ರಮಾಣ ಕ್ರಿಕೇಟ ಆಟವು 10 ಘಂಟೆಗೆ ಆರಂಭವಾಗಿ 15.45 ಕ್ಕೆ ಮುಕ್ತಾಯವಾಯಿತು. ಹಾಗಾದರೆ, ಆಟವು 12 ಘಂಟೆಯ ಗಡಿಯಾರದ ಪ್ರಮಾಣ ಯಾವಾಗ ಮುಕ್ತಾಯವಾಯಿತು?

- (1) 4:45                      (2) 3:45                      (3) 2:45                      (4) 15:45

Space for Rough Work

**30. 12 packets of milk of 500 ml each were brought on occasion of Kojagiri Pournima. Find out how many litres of milk were brought.**

- (1) 6000                      (2) 60                      (3) 6                      (4) 10

**31. At a rate of 8 P.C.P.A, what will be the interest for 3 years on the principal ₹ 500?**

- (1) ₹ 240                      (2) ₹ 120                      (3) ₹ 500                      (4) ₹ 400

**32. Which of the following statements is true?**

- (1) If cost price is greater than selling price, then there is a profit.  
(2) If selling price is greater than cost price, then there is a loss.  
(3) If selling price is less than cost price, then there is a profit.  
(4) If cost price is less than selling price then there is a profit.

**33. According to Roman numerals.**

$$\text{XVII} + \text{IX} - \text{IV} + \text{C} = ?$$

- (1) 72                      (2) 122                      (3) 522                      (4) 1022

**34. According to the 24-hour clock, a cricket match started at 10 o'clock. What will be the time according to 12-hour clock, if the match is ended at 15:45?**

- (1) 4:45                      (2) 3:45                      (3) 2:45                      (4) 15:45

**Space for Rough Work**

35. ಒಂದು ವನದಲ್ಲಿ ಬಬಲಿಯ 15%, ಸಾಗವಾನಿಯ 45% ಬೇವಿನ 20%, ಮತ್ತು ಉಳಿದದ್ದು ಮಾವಿನ ಗಿಡಗಳಿವೆ. ಒಂದು ವೇಳೆ ವನದಲ್ಲಿಯ ಒಟ್ಟು ಗಿಡಗಳ ಸಂಖ್ಯೆ 5000 ಇದ್ದರೆ, ಮಾವಿನ ಗಿಡಗಳ ಸಂಖ್ಯೆ

- (1) 2750 (2) 1500  
(3) 1000 (4) 750

36. 6 ತಾಸು 52 ಮಿನಿಟು = \_\_\_\_\_ ಮಿನಿಟುಗಳು

- (1) 412 (2) 360  
(3) 512 (4) 422

37. ಕೆಳಗಿನವುಗಳಲ್ಲಿ ಯಾವ ವಿಧಾನ ಅಸತ್ಯವಾಗಿದೆ?

- (1) 100 ರ ಶೇಕಡಾ 20 = 20 (2) 200 ರ ಶೇಕಡಾ 10 = 20  
(3) 400 ರ ಶೇಕಡಾ 5 = 20 (4) 300 ರ ಶೇಕಡಾ 10 = 20

38. 4, 5, 6, 0, 8 ಈ ಅಂಕಗಳನ್ನು ಒಂದೇ ಸಲ ಉಪಯೋಗಿಸಿ ತಯಾರಾಗುವ ಎಲ್ಲಕ್ಕೂ ದೊಡ್ಡ ಮತ್ತು ಎಲ್ಲಕ್ಕೂ ಚಿಕ್ಕ ಸಂಖ್ಯೆಗಳ ಬೇರಿನ ಅರ್ಥಪಟ್ಟು ಎಷ್ಟು?

- (1) 1,27,108 (2) 45,554  
(3) 63,554 (4) 91,108

Space for Rough Work

**35. In a forest, there are 15% Babul trees, 45% teakwood trees, 20% Jackfruit trees and remaining are Jamun trees. If there are 5000 trees in all, then tell the number of Jamun trees.**

(1) 2750

(2) 1500

(3) 1000

(4) 750

**36. 6 hours 52 minutes = \_\_\_\_\_ minutes.**

(1) 412

(2) 360

(3) 512

(4) 422

**37. Which of the following statement is false?**

(1) 20 percent of 100 = 20

(2) 10 percent of 200 = 20

(3) 5 percent of 400 = 20

(4) 10 percent of 300 = 20

**38. What will be the half of the number obtained on adding the biggest number and smallest number formed by using the digits 4, 5, 6, 0, 8 only once?**

(1) 1, 27, 108

(2) 45,554

(3) 63, 554

(4) 91,108

**Space for Rough Work**

39. ಒಂದು ವೇಳೆ  $P = 3$   $t = 2$  ಇದ್ದರೆ

$$p \times p + 2 \times p \times t + t \times t = ?$$

(1) 21

(2) 25

(3) 24

(4) 17

40. ರೋಹಿತನಿಗೆ ಪ್ರ.ವ.ಪ್ರ.ಶ.7 ದರದಿಂದ ಕೆಲವು ಅಸಲಿನ 3 ವರ್ಷಗಳ ಸರಳಬಡ್ಡಿ 2520 ರೂ. ದೊರೆತವು. ಹಾಗಾದರೆ ಅಸಲು ಎಷ್ಟು?

(1) ₹15,000

(2) ₹21,600

(3) ₹1,500

(4) ₹12,000

41. 0,5,6,7 ಈ ಅಂಕಗಳನ್ನು ಒಂದೇ ಸಲ ಉಪಯೋಗಿಸಿ ಹೆಚ್ಚಿನದರೆ ಎಷ್ಟು ಮೂರು ಅಂಕಗಳ ಸಮಸಂಖ್ಯೆ ತಯಾರಾಗುವವು?

(1) 10

(2) 12

(3) 14

(4) 18

42.  $8.8 + 8.08 + 8.008 + 8.0808 + 88.8 = ?$

(1) 88.8888

(2) 88.7688

(3) 121.7688

(4) 821.88

Space for Rough Work

**39. If  $p = 3$ ,  $t = 2$  then**

$$p \times p + 2 \times p \times t + t \times t = ?$$

(1) 21

(2) 25

(3) 24

(4) 17

**40. Rohit received an interest of ₹ 2520 at the rate 7 P.C.P.A after 3 years. Find out the principal for which he received this interest.**

(1) ₹15,000

(2) ₹21,000

(3) ₹1,500

(4) ₹12,000

**41. How many 3-digit even numbers will be formed using the digits 0, 5, 6, 7 only once?**

(1) 10

(2) 12

(3) 14

(4) 18

**42.  $8.8 + 8.08 + 8.008 + 8.0808 + 88.8 = ?$**

(1) 88.8888

(2) 88.7688

(3) 121.7688

(4) 821.88

**Space for Rough Work**

43.ನಾಲ್ಕು ಘಂಟೆ ಬಾರಿಸಿದಾಗ ಗಡಿಯಾರದಲ್ಲಿಯ ತಾಸಿನ ಮುಳ್ಳು ಮತ್ತು ಮಿನಿಟಿನ ಮುಳ್ಳುಗಳ ನಡುವೆ ಯಾವ ಪ್ರಕಾರದ ಕೋನ ತಯಾರಾಗುತ್ತದೆ?

- (1) ವಿಶಾಲಕೋನ (2) ಕಾಟಕೋನ  
(3) ಲಘುಕೋನ (4) ಸರಳಕೋನ

44.  $\frac{17}{8} \square \frac{23}{6}$  ಚೌಕಟ್ಟಿನಲ್ಲಿ ಬರುವ ಚಿಹ್ನೆ ಯಾವುದು?

- (1) > (2) < (3) = (4) ^

45. 'ಒಂಬತ್ತು ದಶಲಕ್ಷ ಒಂಬತ್ತು' ಇದನ್ನು ಅಂಕಿಯಲ್ಲಿ ಹೇಗೆ ಬರೆಯುತ್ತಾರೆ?

- (1) 9,00,009 (2) 90,00,009  
(3) 9,00,00,009 (4) 90,009

46. ಒಂದು ಕಂಪನಿಯು ದೀಪಾವಳಿಯ ನಿಯತ್ಯವಾಗಿ ತನ್ನ 60 ಕಾರ್ಮಿಕರಿಗೆ ಪ್ರತಿಯೊಬ್ಬರಿಗೆ ಅರ್ಧ ಕಿಲೋಗ್ರಾಂ ದಂತೆ ಮಿತಾಯಿ ಹಂಚಿತು. 320 ರೂ.ಪ್ರತಿ ಕಿಲೋ ದರದಂತೆ ಮಿತಾಯಿ ಖರೀದಿಸಿದರೆ ಒಟ್ಟು ಎಷ್ಟು ರೂ. ಖರ್ಚಾದವು?

- (1) ₹19,200 (2) ₹10,600  
(3) ₹9,600 (4) ₹9,200

47. ಒಂಬತ್ತು ಸಾವಿರದ ಒಂಬತ್ತು ನೂರರ ಶೇಕಡಾ ಒಂಬತ್ತು ಎಂದರೆ ಎಷ್ಟು?

- (1) 891 (2) 881  
(3) 991 (4) 999

Space for Rough Work



43. In a clock, what type of angle is formed between the hour hand and minute hand at 4 o'clock?

- (1) Obtuse angle (2) Right angle  
(3) Acute angle (4) Straight angle

44. Put the appropriate sign in the box.

$$\frac{17}{8} \square \frac{23}{6}$$

- (1) > (2) < (3) = (4) ^

45. Write the number 'ninety lakh and nine' in figures.

- (1) 9,00,009 (2) 90,00,009  
(3) 9,00,00,009 (4) 90,009

46. A company distributed half kg. of sweets to each of its 60 employees on the occasion of Diwali. If the sweets were purchased at the rate ₹320 per kg, then what was the expenditure made by the company?

- (1) ₹19,200 (2) ₹10,600  
(3) ₹9,600 (4) ₹9,200

47. What will be nine percent of nine thousand and nine hundred?

- (1) 891 (2) 881  
(3) 991 (4) 999

Space for Rough Work

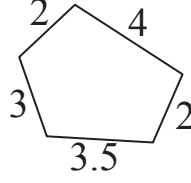
48. ಕೆಳಗೆ ಕೊಟ್ಟ ಆಕೃತಿಯ ಪರಿಮಿತಿ ಎಷ್ಟು?

(1) 19.5

(2) 23.5

(3) 14.5

(4) 18.5



49.  $\square\square5 \times \square\square5 = 13225$  ಚೌಕೋನದ ಸ್ಥಳದಲ್ಲಿ ಉಪಯೋಗಿಸಿದ ಅಂಕಿ ಯಾವುದು?

(1) 4

(2) 3

(3) 2

(4) 1

50. 5,45,035 ಈ ಸಂಖ್ಯೆಯಲ್ಲಿಯ ದಶಸಾವಿರ ಸ್ಥಾನದಲ್ಲಿರುವ ಅಂಕಿಯ ಸ್ಥಾನಿಕ ಬೆಲೆ ಇವುಗಳಲ್ಲಿಯ ವ್ಯತ್ಯಾಸ ಎಷ್ಟು?

(1) 39,990

(2) 39,000

(3) 39,970

(4) 39,770

51. ಒಂದು ಸಂಖ್ಯೆಗೆ 25 ರಿಂದ ಭಾಗಿಸಿದಾಗ ಭಾಗಾಕಾರ 13 ಮತ್ತು ಶೇಷ 22 ಬರುತ್ತದೆ. ಹಾಗಾದರೆ ಆ ಸಂಖ್ಯೆ ಯಾವುದು?.

(1) 355

(2) 365

(3) 350

(4) 347

Space for Rough Work

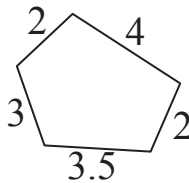
48. What will be the perimeter of the figure given below.

(1) 19.5

(2) 23.5

(3) 14.5

(4) 18.5



49. If the digit is same in all the boxes, then find the digit.

$$\square\square 5 \times \square\square 5 = 13225$$

(1) 4

(2) 3

(3) 2

(4) 1

50. In the number, 5,45,035, what will be the difference between the place value of the digit at Ten thousands place and place value of the digit at tens place?

(1) 39,990

(2) 39,000

(3) 39,970

(4) 39,770

51. On dividing a number by 25, we get quotient 13 and remainder 22. what will be the number?

(1) 355

(2) 365

(3) 350

(4) 347

Space for Rough Work

52. ಧನೇಶನು 50 ಮತ್ತು 100 ರೂಪಾಯಿಯ ಪ್ರತ್ಯೇಕ 8 ನೋಟುಗಳನ್ನು ಬ್ಯಾಂಕಿನಲ್ಲಿ ಕೊಟ್ಟು ಆ ಹಣದಷ್ಟೆ 10 ರೂಪಾಯಿ ನೋಟುಗಳನ್ನು ಬ್ಯಾಂಕಿನಿಂದ ಪಡೆದರೆ ಅವನು ಪಡೆದಂತಹ ನೋಟುಗಳ ಸಂಖ್ಯೆ ಎಷ್ಟು?

(1) 80

(2) 100

(3) 120

(4) 110

53. 39ರ ಎಲ್ಲಕ್ಕೂ ದೊಡ್ಡ ವಿಭಾಜಕದಲ್ಲಿ 27 ರ ಎಲ್ಲಕ್ಕೂ ಚಿಕ್ಕ ವಿಭಾಜಕ ಕೂಡಿಸಲಾಗಿ ಬರುವ ಸಂಖ್ಯೆಯ ಎಲ್ಲ ವಿಭಾಜಕಗಳ ಬೇರಿನು ಎಷ್ಟು?

(1) 80

(2) 90

(3) 100

(4) 89

54.  $\frac{7}{5} \times \frac{5}{7} + 1 = ?$

(1)  $\frac{36}{35}$

(2)  $\frac{13}{35}$

(3) 2

(4) 1

55.  $5656/8$  ಈ ಉದಾಹರಣೆಯಲ್ಲಿ ಭಾಜಕ 1 ರಿಂದ ಕಡಿಮೆ ಮಾಡಿದರೆ ಭಾಗಾಕಾರ ಎಷ್ಟರಿಂದ ಹೆಚ್ಚಾಗುವುದು?

(1) 1

(2) 10

(3) 100

(4) 101

56. ಒಂದು ವಾಹನವು ಪ್ರತಿ ತಾಸಿಗೆ 80 ಕಿಲೋಮೀಟರ್ ಕ್ರಮಿಸುವುದು. ಹಾಗಾದರೆ ಕೆಳಗಿನವುಗಳಲ್ಲಿ ತಪ್ಪು ವಿಧಾನ ಯಾವುದು?

(1) ವಾಹನವು ಒಂದು ಘಂಟೆಯಲ್ಲಿ 80 ಕಿಲೋಮೀಟರ್ ಮುಂದೆ ಹೋಗುವುದು

(2) ವಾಹನವು ಅರ್ಧ ಗಂಟೆಯಲ್ಲಿ 40 ಕಿಲೋಮೀಟರ್ ಮುಂದೆ ಹೋಗುವುದು

(3) ವಾಹನವು ಒಂದು ಘಂಟೆಯಲ್ಲಿ 25 ಮಿನಟುಗಳಲ್ಲಿ 125 ಕಿಲೋಮೀಟರ್ ಮುಂದೆ ಹೋಗುವುದು

(4) ವಾಹನವು ಒಂದು ಘಂಟೆಯಲ್ಲಿ 45 ಮಿನಟುಗಳಲ್ಲಿ 140 ಕಿಲೋಮೀಟರ್ ಮುಂದೆ ಹೋಗುವುದು

Space for Rough Work

**52. Dhanesh went to a bank with 8 notes of ₹ 50 and ₹ 100 each and asked for notes of ₹ 10 in return. How many notes of ₹ 10 would Dhanesh receive?**

- (1) 80                      (2) 100                      (3) 120                      (4) 110

**53. Find the sum of all the divisors of the sum of the highest divisor of 39 and the lowest divisor of 27.**

- (1) 80                      (2) 90                      (3) 100                      (4) 89

**54.  $\frac{7}{5} \times \frac{5}{7} + 1 = ?$**

- (1)  $\frac{36}{35}$                       (2)  $\frac{13}{35}$                       (3) 2                      (4) 1

**55. If the divisor of the division '5656 ÷ 8' is reduced by 1, then by how much will the quotient increase ?**

- (1) 1                      (2) 10                      (3) 100                      (4) 101

**56. If a car travels at 80 km. per hour, then which of the following statement is false?**

- (1) Car covers a distance of 80 km. in one hour.  
(2) Car covers a distance of 40 km. in half an hour.  
(3) Car covers a distance of 100 km. in one hour 25 minutes.  
(4) Car covers a distance of 140 km. in one hour 45 minutes.

**Space for Rough Work**

57. 12 ಮೀಟರ್, 3 ಮಿಲಿಮೀಟರ್ ಇದನ್ನು ದಶಾಂಶ ಅಪೂರ್ಣಾಂಕದಲ್ಲಿ ಹೇಗೆ ಬರೆಯುತ್ತಾರೆ?

(1) 12.03 ಮೀಟರ್

(2) 12.003 ಮೀಟರ್

(3) 12.3 ಮೀಟರ್

(4) 12.0003 ಮೀಟರ್

58. 2 ದಸ್ತ ಕಾಗದ + 5 ಡರ್ಟನ್ ಕಾಗದ = ಎಷ್ಟು ಕಾಗದಗಳು?

(1) 108

(2) 100

(3) 480

(4) 88

59. 6/18 ಈ ಅಪೂರ್ಣಾಂಕದಲ್ಲಿ 6/18 ಎಷ್ಟು ಸಲ ಕೂಡಿಸಿದಾಗ ಬೇರಿಜು 3 ಬರುತ್ತದೆ.

(1) 9 ಸಲ

(2) 18 ಸಲ

(3) 8 ಸಲ

(4) 12 ಸಲ

60. ಜಾನನು ಒಂದು ಮೋಟಾರ ಸೈಕಲ್‌ನ್ನು 20,000 ರೂ ಗಳಿಗೆ ಖರೀದಿಸಿ 25,000 ರೂ.ಗಳಿಗೆ ಮಾರಾಟ ಮಾಡಿದರೆ ಈ ವ್ಯವಹಾರದಲ್ಲಿ ಅವನಿಗಾದ ಲಾಭ ಅಥವಾ ಹಾನಿ ಎಷ್ಟು?

(1) 2000 ರೂ ಲಾಭ

(2) 5000 ರೂ ಲಾಭ

(3) 5000 ರೂ ಹಾನಿ

(4) 2000 ರೂ ಹಾನಿ

Space for Rough Work

**57. How will you write, 12 m 3 mm in decimal form?**

(1) 12.03 metre

(2) 12.003 metre

(3) 12.3 metre

(4) 12.0003 metre

**58. 2 quires (dasta) papers + 5 dozen papers =  papers.**

(1) 108

(2) 100

(3) 480

(4) 88

**59. For getting 3, as a sum, how many times will you add  $\frac{6}{18}$  to  $\frac{6}{18}$  ?**

(1) 9 times

(2) 18 times

(3) 8 times

(4) 12 times

**60. John purchased a motor cycle for ₹ 20,000 and sold it for ₹ 25,000. Did he make a profit or loss and how much?**

(1) Profit of ₹ 2000

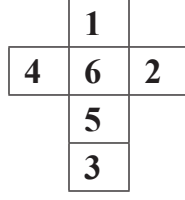
(2) Profit of ₹ 5000

(3) Loss of ₹ 5000

(4) Loss of ₹ 2000

**Space for Rough Work**

61. ಬದಿಯ ಆಕೃತಿಯ ಮಡಿಕೆಯಿಂದ ಘನಾಕೃತಿಯನ್ನು ತಯಾರಿಸಿದಾಗ '5' ಈ ಅಂಕಿ ಇರುವ ಪೃಷ್ಟಭಾಗದ ಬದಿಗೆ ಯಾವ ಅಂಕಿಯ ಪೃಷ್ಟಭಾಗ ಬರುವದಿಲ್ಲ



- (1) 4                      (2) 1                      (3) 2                      (4) 3

62. 6 ಸೆಮೀ ಅಗಲವಿರುವ ಆಯತದ ಪರಿಮಿತಿ 34 ಸೆಮೀ ಇದೆ. ಅದರ ಉದ್ದಳತೆಯ ಇಮ್ಮಡಿಯಷ್ಟು ಭುಜವಿರುವ ಚೌರಸದ ಕ್ಷೇತ್ರಫಲ ಎಷ್ಟು?

- (1) 576 ಚೌ.ಸೆ.ಮೀ                      (2) 484 ಚೌ.ಸೆ.ಮೀ  
(3) 441 ಚೌ.ಸೆ.ಮೀ                      (4) 169 ಚೌ.ಸೆ.ಮೀ

63. 48 ಮೀ ಉದ್ದ ಮತ್ತು 12ಮೀ ಅಗಲ ಇರುವ ಸಭಾಗ್ಯಹಕ್ಕೆ 64 ಚೌರಸಾಕೃತಿ ಹಾಸುಗಲ್ಲುಗಳು ಬೇಕಾಗುವವು. ಹಾಗಾದರೆ ಪ್ರತಿಯೊಂದು ಹಾಸುಗಲ್ಲಿನ ಪರಿಮಿತಿ ಎಷ್ಟು?

- (1) 9 ಮೀ                      (2) 81 ಮೀ  
(3) 8ಮೀ                      (4) 12ಮೀ

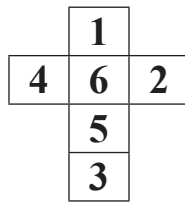
64. 2016 ಈ ವರ್ಷದ ಮೊದಲನೆಯ ದಿನ ಶುಕ್ರವಾರ ಇದ್ದರೆ 2017 ಈ ವರ್ಷದ ಮರಾಠಿ ಭಾಷಾ ದಿನವು ಎಂದು ಬರುವದು?

- (1) ಸೋಮವಾರ                      (2) ರವಿವಾರ  
(3) ಮಂಗಳವಾರ                      (4) ಶನಿವಾರ

**Space for Rough Work**



61. The net of a cube-shaped number die is given below. Which number will not come on the adjacent surface of the surface which has number 5 on it?



(1) 4

(2) 1

(3) 2

(4) 3

62. Perimeter of a rectangle with breadth 6 cm. is 34 cm. What will be the area of the square with the side equal to the twice of the length of the given rectangle?

(1) 576 sq. cm.

(2) 484 sq. cm.

(3) 441 sq. cm.

(4) 169 sq. cm.

63. A hall with length 48 m. and breadth 12 m. requires 64 square-shaped tiles. What will be the perimeter of each tile?

(1) 9 m.

(2) 81 m.

(3) 8 m.

(4) 12 m.

64. If it is friday on the first day of year 2016, then on which day will Marathi Language day fall in the year of 2017?

(1) Monday

(2) Sunday

(3) Tuesday

(4) Saturday

Space for Rough Work

65. ರಾಹುಲನು 15000 ರೂ 3 ವರ್ಷಗಳವರೆಗೆ ಕೆಲವು ಬಡ್ಡಿದರದಿಂದ ಸುಭಾಷನಿಗೆ ಕೊಟ್ಟನು. ಸುಭಾಷನು ಅವನಿಗೆ 4500 ರೂ ಬಡ್ಡಿ ಕೊಟ್ಟನು. ಹಾಗಾದರೆ ಬಡ್ಡಿಯ ಪ್ರ.ವ.ಪ್ರ. ದರ ಎಷ್ಟು?

(1) 10%

(2) 15%

(3) 9%

(4) 8%

66. 27 ಶತಕಷ 3 ದಶಕ- 5 ಎಕರ=?

(1) 80,885

(2) 80,085

(3) 81,985

(4) 80,995

67. ಒಂದು ಸಂಖ್ಯೆಗೆ 16 ರಿಂದ ಗುಣಿಸುವ ಬದಲಾಗಿ 10 ರಿಂದ ಗುಣಿಸಿದಾಗ ಗುಣಾಕಾರ 30 ರಿಂದ ಕಡಿಮೆ ದೊರೆಯುತ್ತದೆ ಹಾಗಾದರೆ ಆ ಸಂಖ್ಯೆ ಯಾವುದು?

(1) 5

(2) 6

(3) 8

(4) 10

68. ಒಬ್ಬ ಅಂಗಡಿಕಾರನು 50 ಕಿ.ಗ್ರಾಂ ಜೋಳದಲ್ಲಿಯ 40 ಕಿ.ಗ್ರಾಂ 250 ಗ್ರಾಂ ಜೋಳ ಮಾರಾಟ ಮಾಡಿದರೆ ಅವನ ಹತ್ತಿರ ಉಳಿದಿರುವ ಜೋಳ ಎಷ್ಟು?

(1) 10 ಕಿ.ಗ್ರಾಂ

(2) 10 ಕಿ.ಗ್ರಾಂ 250 ಗ್ರಾಂ

(3) 9 ಕಿ.ಗ್ರಾಂ 250 ಗ್ರಾಂ

(4) 9 ಕಿ.ಗ್ರಾಂ 750 ಗ್ರಾಂ

Space for Rough Work

**65. Rahul lended ₹ 15000 to Subhash for 3 years at some rate. If Subhash gave Rahul an interest of ₹ 4500, then what was the rate of interest P.C.P.A ?**

- (1) 10% (2) 15%  
(3) 9% (4) 8%

**66. 27 Hundreds  $\times$  3 Tens - 5 units = ?**

- (1) 80,885 (2) 80,085  
(3) 81,985 (4) 80,995

**67. When a number is multiplied by 10 instead of 16, its product decreases by 30, then find the number.**

- (1) 5 (2) 6  
(3) 8 (4) 10

**68. A shopkeeper sold 40 kg. 250 g. of Jowar out of 50 kg. How much Jowar is left with the shopkeeper?**

- (1) 10 kg. (2) 10 kg. 250 g.  
(3) 9 kg. 250 g. (4) 9 kg. 750 g.

**Space for Rough Work**

69. ಘನದ ಒಟ್ಟು ಅಂಚುಗಳ ಸಂಖ್ಯೆ ಇದು ಘನದ ಒಟ್ಟು ಶಿರೋಬಿಂದು ಮತ್ತು ಪ್ರಾಂಶುಭಾಗಗಳ ಬೇರಿಜಿಸ ಸಂಖ್ಯೆಗಿಂತ ಎಷ್ಟು ಹೆಚ್ಚು ಅಥವಾ ಕಡಿಮೆ ಇರುತ್ತದೆ?

(1) 2 ರಿಂದ ಹೆಚ್ಚು

(2) 4 ರಿಂದ ಕಡಿಮೆ

(3) 2 ರಿಂದ ಕಡಿಮೆ

(4) 4 ರಿಂದ ಹೆಚ್ಚು

70. ಕೆಳಗೆ ಕೊಟ್ಟಂತಹ ಪದವಾಲಿಯಲ್ಲಿ ಚೌಕಟ್ಟಿನಲ್ಲಿ ಕ್ರಮವಾಗಿ ಬರುವ ಚಿಹ್ನೆಗಳು ಯಾವವು?

48  6  2  5  5

(1) =, ×, +, -

(2) ÷, +, -, =

(3) ÷, +, +, =

(4) ÷, ×, +, =

71. ಒಂದು ತೋಟದಲ್ಲಿ ಒಟ್ಟು 60 ಹಣ್ಣಿನ ಮರಗಳಿವೆ. ಅದರಲ್ಲಿ  $\frac{1}{3}$  ಮಾವಿನ ಮರಗಳು,  $\frac{1}{2}$  ತೆಂಗಿನ ಮರಗಳು ಮತ್ತು ಉಳಿದವುಗಳು ಹಲಸಿನ ಮರಗಳಿವೆ. ಹಾಗಾದರೆ ಹಲಸಿನ ಮರಗಳ ಸಂಖ್ಯೆ ಎಷ್ಟು?

(1) 10

(2) 20

(3) 30

(4) 40

72.  $18 \times 4 - 6$    $70 \times 2 \div 2 - 4$  72. ಚೌಕಟ್ಟಿನಲ್ಲಿ ಬರುವ ಚಿಹ್ನೆ ಯಾವುದು?

(1)  $\wedge$

(2)  $>$

(3)  $<$

(4)  $=$

73. 2016ರ ಕ್ರಿಸ್‌ಮಸ್ ರಜೆಯು ರವಿವಾರ ಇದ್ದರೆ 2017 ರ ಮಹಾರಾಷ್ಟ್ರ ದಿನ ಯಾವ ದಿನದಂದುಬರುವುದು

(1) ಸೋಮವಾರ

(2) ರವಿವಾರ

(2) ಮಂಗಳವಾರ

(4) ಬುಧವಾರ

Space for Rough Work

69. By how much is the edges of the cube and sum of the vertices and faces of cube is more or less?

- (1) more by 2      (2) less by 4      (3) less by 2      (4) more by 4

70. By which order of operations boxes will replace, to get the balanced equation.

$$48 \square 6 \square 2 \square 5 \square 5$$

- (1) =, ×, +, -      (2) ÷, +, -, =  
(3) ÷, +, +, =      (4) ÷, ×, +, =

71. A garden has 60 trees in all. Out of which  $\frac{1}{3}$  trees are of mango,  $\frac{1}{2}$  trees are of coconut and remaining are Jackfruit trees. How many jackfruit trees are there in the garden?

- (1) 10      (2) 20      (3) 30      (4) 40

72. Put the appropriate sign in the box.

$$18 \times 4 - 6 \square 70 \times 2 \div 2 - 4$$

- (1)  $\wedge$       (2)  $>$       (3)  $<$       (4) =

73. If Christmas falls on Sunday of the year 2016 then on which day will Maharashtra Day fall in the year 2017?

- (1) Monday      (2) Sunday  
(3) Tuesday      (4) Wednesday.

Space for Rough Work

ಸೂಚನೆ ಪ್ರಶ್ನೆ 74 ರಿಂದ 75 ಕೆಳಗಿನ ಚಿತ್ರರೂಪ ಮಾಹಿತಿಯ ಆಧಾರದಿಂದ ಪ್ರಶ್ನೆಗಳ ಉತ್ತರದ ಯೋಗ್ಯ ಪರ್ಯಾಯ ಕ್ರಮಾಂಕ ಆಯ್ಕೆ ಮಾಡಿರಿ.

ಇವುಗಳ ವಿವರ	ವಿಜ್ಞಾನಗಳ ಸಂಖ್ಯೆ
ಗಣಿಗ	*****
ಮೂಲಕ	***
ಇಂಗ್ಲೀಷ್	**
ವಿಜ್ಞಾನ	****

(ಪ್ರಮಾಣ : 1 \* = 35 ವಿದ್ಯಾರ್ಥಿ)

74. ವಿದ್ಯಾರ್ಥಿಗಳ ಒಟ್ಟು ಸಂಖ್ಯೆ ಎಷ್ಟು?

(1) 470

(2) 450

(3) 350

(4) 490

75. ಗಣಿತ ಇಷ್ಟವಿರುವ ವಿದ್ಯಾರ್ಥಿಗಳ ಸಂಖ್ಯೆಯೂ ಇಂಗ್ಲೀಷ್ ಇಷ್ಟವಿರುವ ವಿದ್ಯಾರ್ಥಿಗಳ ಸಂಖ್ಯೆಗಿಂತ ಎಷ್ಟರಿಂದ ಹೆಚ್ಚು ಇದೆ.

(1) 245

(2) 105

(3) 115

(4) 255

Space for Rough Work

**Instructions for Q. Nos. 74 to 75 : Observe the pictograph given below and answer the questions.**

<b>Favourite subject</b>	<b>Number of students.</b>
Mathematics	* * * * *
Marathi	* * *
English	* *
Science	* * * *

[Scale : 1 \* = 35 students]

**74. What is the total number of students?**

- (1) 470 (2) 450  
(3) 350 (4) 490

**75. By how much the number of students who like Mathematics is greater than the number of students who like English?**

- (1) 245 (2) 105  
(3) 115 (4) 255

**Space for Rough Work**

**Space for Rough Work**