

Seat No.

0 7 0 2

Set

A

Paper No. II

Medium : Telugu

Time : 1:30 to 3:00

Pages : 32

Third Language and Intelligence Test

Total Marks :150

Read the following instructions carefully before you answer the questions.

- (1) This question paper contains two sections. In Section I there are **1 to 25** questions of Third Language and in Section **II** there are **26 to 75** questions of Intelligence Test. All **75** questions are compulsory.
- (2) All questions carry **2** marks each.
- (3) Time limit to solve the question paper is **90** minutes.
- (4) Separate answer sheet is given to record the answers. Each question has been given four alternatives. Read them carefully. Select the correct answer and shade the correct answer in the answer sheet.
Example :- If the correct alternative for Q. No. **6** is **2**, then record your answer as follows:
Question No. **6** ① ● ③ ④
- (5) Answer recorded in any other form will not be considered. Such answer will be credited with 'Zero' mark.
Example: ① ② ● ④
- (6) Use blue or black ball pen to darken the circle. Pencil is not allowed. Circles darkened by pencil will not be credited.
- (7) Once you have darkened the circle as correct alternative you cannot change it.
- (8) If more than one circle are darkened or overwriting is done, the answer will not be accepted.
- (9) The rough work is to be done in the space given under each page do on the last page or the question paper.
- (10) If you do not know the answer to any question, do not spend much time on it and pass on to the next one. If the time permits you can come back to the question which you have left in the first instance and try them again.
- (11) If you find any question incomplete or with error, then or not ask anything to the Supervisor or Centre Incharge.
- (12) For any error/mistake/objection issues, school or parents should not send written application to Block Education Officer or Education Officer. These error/ mistake/objection issues should be register online through respective school login only.
- (13) The error/ mistake/ objection issues should be register online within 10-days from the publication of Interim answer key on MSCE website.
- (14) Questions can be cancelled due to printing mistake or any other reason, on the basis of the suggestions given by the Committee of Experts.
- (15) Along with the question paper of the respective medium, the English version of question paper is also provided. In case of doubt please refer to the English version of the same question.

विभाग I

तृतीय भाषा

Instructions for Q. Nos. 1 to 3 : Read the passage carefully and answer the following questions.

The horse is a common tame animal. After the cow, buffalo and the goat; it is the most useful animal. A horse is used for riding, in hunting. It draws our carts. It is very faithful.

1. Select the correct option.

The horse is most _____ animal.

- (1) useless (2) harmful (3) careless (4) useful

2. Choose the animal which is not mentioned in the given passage.

- (1) cow (2) bullock (3) buffalo (4) goat

3. Select the correct alternative.


A horse is not used for _____

- (1) riding (2) drawing carts
(3) nothing (4) hunting

4. Select the mismatched pair.

- (1) actor – tractor (2) cricket – sachet
(3) tower – power (4) plastic – elastic

5. Observe the picture carefully and select the proper motto.



- (1) We love books (2) Protect all animals
(3) Health is wealth (4) Protect all plants

6. Arrange the numbers properly and make the meaningful word.

a	r	e	f	t	v	i	u	o
1	2	3	4	5	6	7	8	9

- (1) 41893762 (2) 416982753 (3) 213457698 (4) 541628739

7. The sign  indicates that one should _____.

- (1) go straight (2) turn left (3) up ward (4) turn right

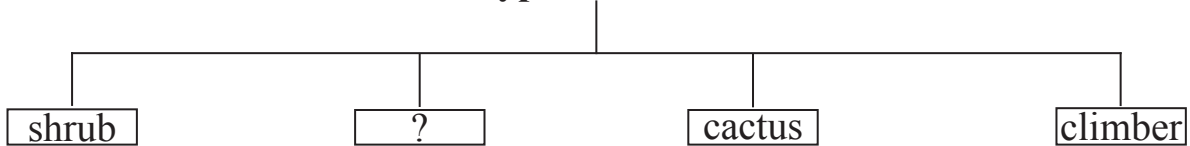
8. Select the correct alternative.

We should cut our nails _____.

- (1) daily (2) early (3) carelessly (4) regularly

9. Choose the correct alternative.

Type of Plants



- (1) bud (2) root (3) stem (4) herb

10. Choose the correct option for making a request.

My friend Arnav forgot his eraser and wants to borrow it _____.

- (1) I brought your eraser. (2) Please, give me your eraser.
 (3) Can I give my eraser to you? (4) Find my eraser.

11. Complete the grid by choosing proper set of alphabets.

c									
r									
	s	t	r	i			h		
w					r				
					a				
					n				
						a	g	l	e

- (1) a, i, g (2) p, k, l (3) o, k, e (4) o, c, e

12. Choose the correct option for the given word.

shape

- (1) aroma (2) rough (3) brick (4) vapour

13. Select the correct punctuation mark that mentioned in the given sentence.

Well done Rahim!

- (1) Exclamation mark (2) Question mark
(3) Full stop (4) Comma

14. If pigs: squeal : then wolves : ?

- (1) howl (2) growl (3) squeak (4) croak

15. Observe the picture and choose the correct expression.



- (1) How sad! (2) What a surprise?
(3) How miserable! (4) What a pity!

16. Fill in the blank by using the correct article.

The cow is _____ useful animal.

- (1) an (2) a (3) the (4) no article.

17. Select the correct option.

Vedant and his team won the football match.

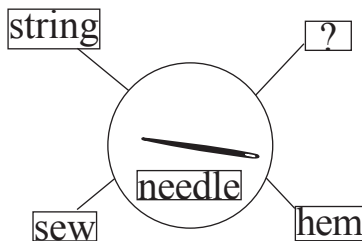
Their friends said, _____.

- (1) Congratulations! (2) Best of luck!
(3) Happy birthday! (4) Good bye!

18. Choose the correct sentence showing correct position of a comma (,).

- (1) I ordered potatoes, sugar, eggs, and coffee.
(2) I ordered, potatoes, sugar, eggs and coffee.
(3) I ordered potatoes, sugar, eggs and coffee.
(4) I ordered potatoes sugar eggs, and coffee.

19. Select the correct option.



- (1) toss (2) spill (3) blink (4) stitch

20. Solve the riddle.

It has three blades. They go round and round.

It gives cool air. What is it?

- (1) a fan (2) a lamp (3) a refrigerator (4) an oven

21. Select the correct speech for the given picture.

- (1) What's wrong?
(2) I don't know.
(3) I can't hear you.
(4) I don't like it.



22. Select the suitable phrase for the given sentence.

_____ there lived a king.

- (1) Long long ago (2) Many years from now
(3) Day after tomorrow (4) Just now

23. Choose the correct punctuation mark for the given sentence.

Are you ready:

- (1) Full stop (2) Question mark (3) Comma (4) Apostrophe

24. Fill in the blanks with the correct option.

I wash my hands _____ and _____ eating.

- (1) near and close (2) up and down
(3) over and under (4) before and after

25. Select the proper alternative.

I brush my teeth _____ a day.

- (1) two (2) twice (3) too (4) first

Section II

Intelligence Test

ప్ర 26 సూర్యుడు, నమస్కారము, గొడ్డలి, ఎద్దులు, పద్మము, బిడ్డ, చక్రము, పార్వతి. ఈ పదాలలో సంయుక్తాక్షరాల పదాల కన్న సారూప్య ద్వితీయాల పదాలు ఎన్ని తక్కువ లేదా ఎక్కువ గలవు?

- (1) 3 ఎక్కువ (2) 1 తక్కువ (3) 3 తక్కువ (4) 2 ఎక్కువ

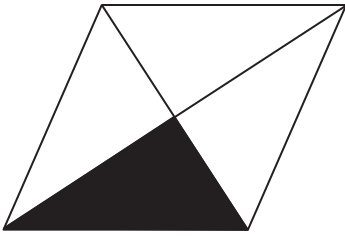
ప్రశ్న 27 నుండి 31 కొరకు సూచనలు:- సమూహమునకు చెందని పదమును గుర్తించండి.

27. (1) 17 (2) 290 (3) 730 (4) 71

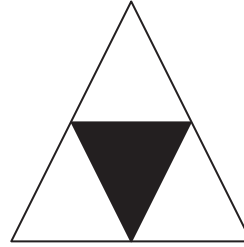
28. (1) 319 (2) 232 (3) 251 (4) 174

29. (1) సూరస్ నీరస్ (2) తల్లిదండ్రులు (3) పాడిపంటలు (4) కూరగాయలు


30. (1)



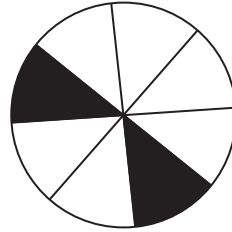
(2)



(3)



(4)



कच्च्या कामासाठी जागा

Section II

Intelligence Test

26. "Merit consists in doing good to others, sin in doing harm to others." In this sentence how many words having five letters each are more or less than the words having two letters each?

- (1) more by 2 (2) less by 1 (3) less by 2 (4) more by 1

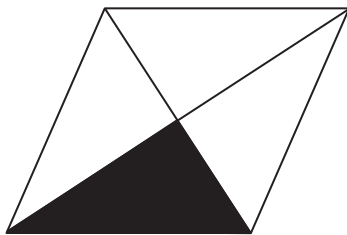
Instructions for Q. Nos. 27 to 31 : Find out the odd term.

27. (1) 17 (2) 290 (3) 730 (4) 71


28. (1) 319 (2) 232 (3) 251 (4) 174

29. (1) Preliminary (2) Prehistoric (3) Prepaid (4) Preposition


30. (1)



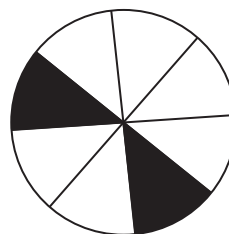
(2)



(3)

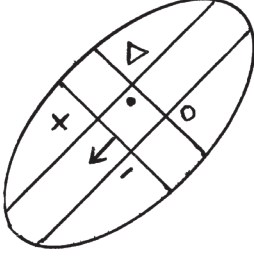


(4)

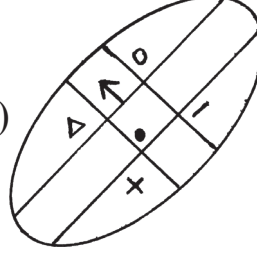


Space for Rough Work

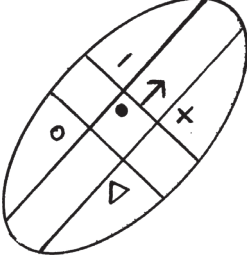
31. (1)



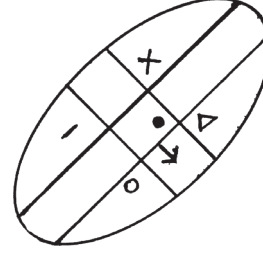
(2)



(3)



(4)



ప్రశ్న 32 నుండి 33 కొరకు సూచనలు:- క్రింది సంఖ్యామాలికలో ప్రశ్న చిహ్నం స్థానంలో వచ్చు సంఖ్యను పర్యాయముల నుండి గుర్తించండి:

32. 114, 85, 62, 43, ? 13

(1) 26

(2) 18

(3) 24

(4) 21

33. 11, 12, 16, 52, ? 92, 96

(1) 77

(2) 56

(3) 61

(4) 83

34. అమన్ రాము యొక్క ఉత్తరం వైపు 10 మీ దూరంలో నిల్చున్నాడు. రఫీక్ వాయువ్యం వైపు 20 మీ దూరంలో నిలబడి ఉన్నాడు. అయితే రఫీక్ రాముకు ఏ దిశలో నిలబడి ఉన్నాడు?

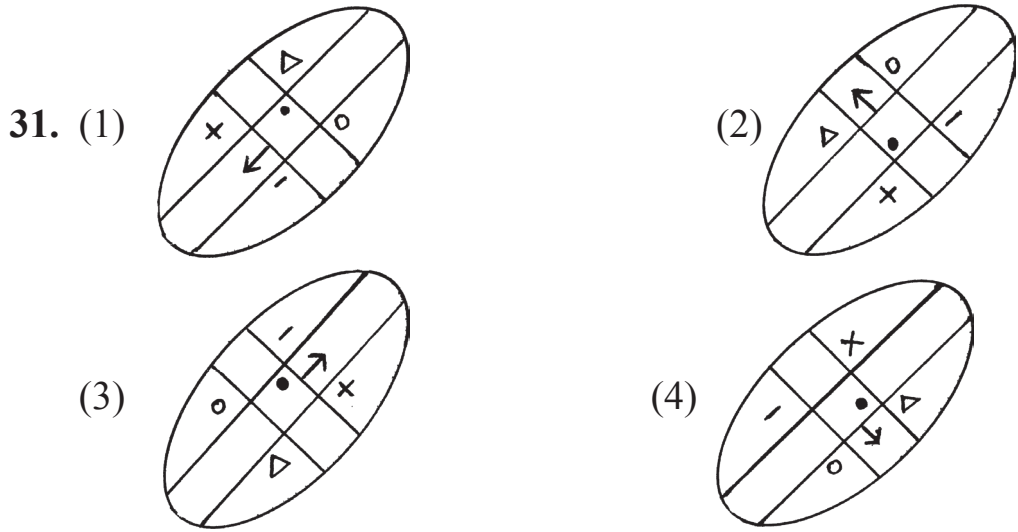
(1) తూర్పు

(2) పడమర

(3) దక్షిణం

(4) ఉత్తరం

कच्छ्या कामासाठी जागा



Instructions for Q. Nos. 32 to 33 :Observe the number series and find the correct alternative to replace the question mark. (?)

32. 114, 85, 62, 43, ? 13
 (1) 26 (2) 18 (3) 24 (4) 21

33. 11, 12, 16, 52, ? 92, 96
 (1) 77 (2) 56 (3) 61 (4) 83

34. Aman is standing 10 metres away from Obama facing North and 20 metres away from Rafiq facing NORTH-WEST, then in which direction is Rafiq standing to Obama?
 (1) East (2) West (3) North (4) South

Space for Rough Work

35. క్రింది పర్యాయములోని ఆకృతులకు ఎడమ వైపు అద్దం పెట్టినట్లయితే ఏ ఆకృతి అద్దంలో ఉన్నది ఉన్నట్లుగా కనిపించును?

(1) HTH

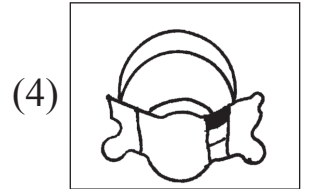
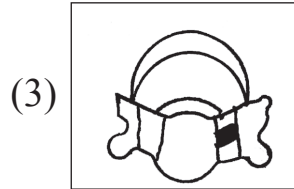
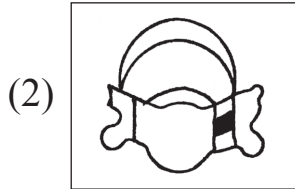
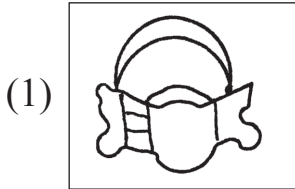
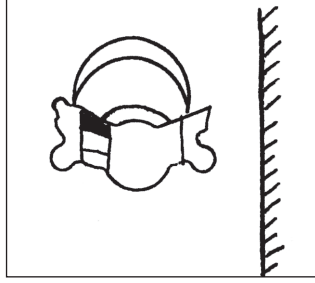
(2) YNY

(3) IZI

(4) OSO

36. క్రింది ప్రశ్నాకృతి యొక్క ప్రతిమ అద్దంలో, ఎలా కనపడును. అది పర్యాయముల జవాబు ఆకృతుల నుండి గుర్తించండి.

ప్రశ్నాకృతి



37. ఆగస్టు 6 శుక్రవారము అయినట్లయితే, అదే నెలలో చివరి బుధవారము యొక్క తేదీ ఎంత?

(1) 31

(2) 25

(3) 27

(4) 30

कच्च्या कामासाठी जागा

35. If the mirror is held from the left side of the given figures. which figure will look as it is?

(1) HTH

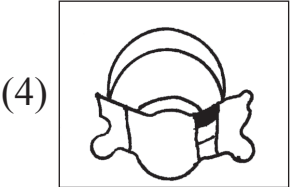
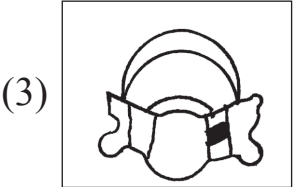
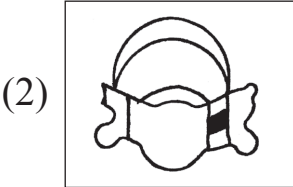
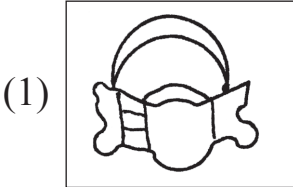
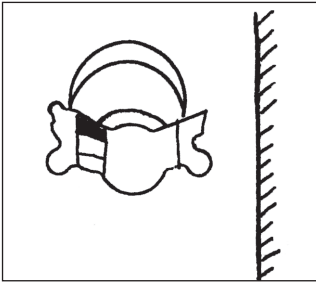
(2) YNY

(3) I Z I

(4) OSO

36. Find the correct figure from the alternatives which is the mirror image of the question figure.

Question Figure



37. If 6th August was Friday, then in the same month what date it will be on last Wednesday?

(1) 31

(2) 25


(3) 27

(4) 30

Space for Rough Work

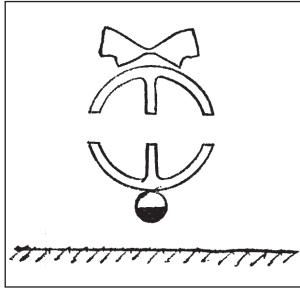
ప్ర 38 ప్రశ్నాకృతి -

38. Question Figure



- (1) (2) (3) (4)

ప్ర 39 ప్రశ్నాకృతి




జవాబు ఆకృతులు

- (1) (2) (3) (4)

कच्च्या कामासाठी जागा

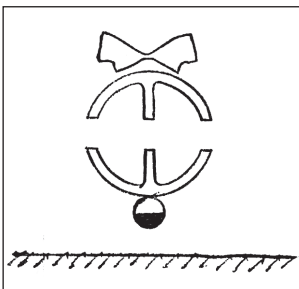
Instructions for Q. Nos. 38 to 39 : Select the correct figure that is water image of the question figure from the alternatives.

38. Question Figure



- (1) (2) (3) (4)

39. Question Figure



- (1) (2) (3) (4)

Space for Rough Work

40. రేఖ యొక్క రెండవ పుట్టిన రోజు 25 జూలై 2009 రోజున శనివారము ఉండెను. అయితే ఆమె ఏ వారము పుట్టింది?

- (1) సోమవారము (2) మంగళవారము
(3) బుధవారము (4) గురువారము

41. క్రింది అక్షరమాలలో ఏ అక్షరములు సమానంగా ఉన్నాయి?

అక్షరమాల: A B C D B A C A D C D A C D B C

- (1) A మరియు D (2) D మరియు C
(3) A మరియు B (4) D మరియు B

ప్రశ్న క్ర.42 నుండి 46 కొరకు సూచనలు:- క్రింది ప్రశ్నలలో మొదటి మరియు రెండవ పదాల సంబంధములు గుర్తించండి. అదే సంబంధము మూడు మరియు నాలుగు పదాలకు గలదు. అయిన ప్రశ్న చిహ్నం స్థానంలో ఏ పదం వచ్చును?

42. గోవా : పణజి : అస్సాం : ?

- (1) రాంచీ (2) కోహిమా (3) దిస్పూర్ (4) గంగటోక్

43. 3564 : 6 :: 7827 : ?

- (1) 2 (2) 8 (3) 12 (4) 10

44. 36 : 10 :: 27 : ?

- (1) 26 (2) 16 (3) 15 (4) 24

कच्छ्या कामासाठी जागा

Alphabets : A B C D E F G H I J K L M N O P Q R S T U V W X Y

40. Rekha's second birthday was on Saturday 25th July 2009, then on what day was she born?

- (1) Monday (2) Tuesday
(3) Wednesday (4) Thursday

41. In the given alphabetical series which letters are repeated same number of times?

Letters : A B C D B A C A D C D A C D B C

- (1) A and D (2) D and C
(3) A and B (4) D and B

Instructions for Q. Nos. 42 to 46 : There exists a certain relation between first and second term. The same relation exists between third and fourth term. Considering this choose the correct alternative to replace the question mark (?)

42. Goa : Panaji :: Aassam : ?

- (1) Ranchi (2) Kohima (3) Dispur (4) Gangtok

43. 3564 : 6 :: 7827 : ?

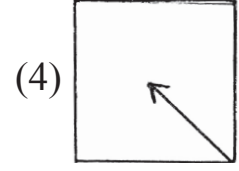
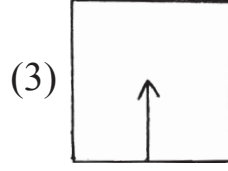
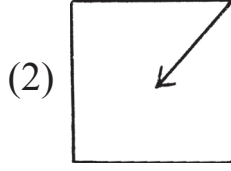
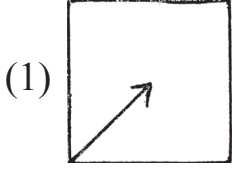
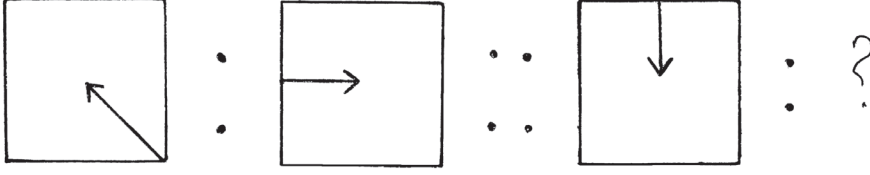
- (1) 2 (2) 8 (3) 12 (4) 10

44. 36 : 10 :: 27 : ?

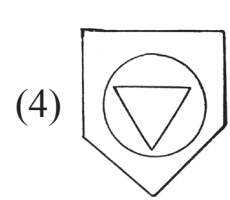
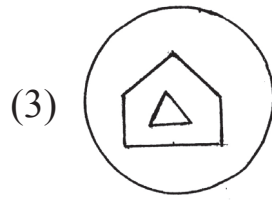
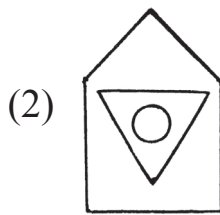
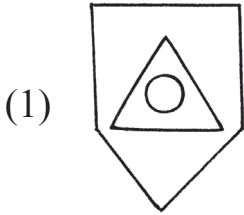
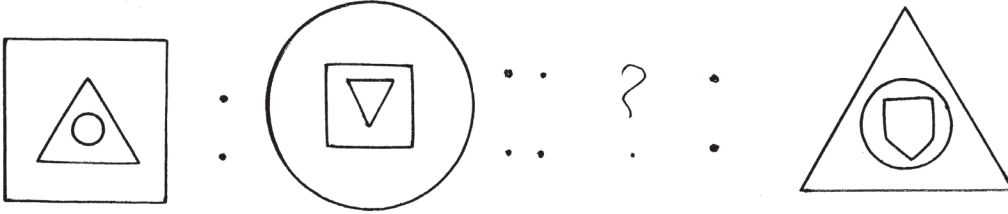
- (1) 26 (2) 16 (3) 15 (4) 24

Space for Rough Work

45.



46.



47. క్రింది సంఖ్యమాలికలోని అంకెల స్థానంను మార్చిన తర్వాత ఎన్ని ప్రధాన సంఖ్యలు తయారగును?

సంఖ్యమాలిక:- 31, 59, 35, 19, 17, 34, 16, 89, 74

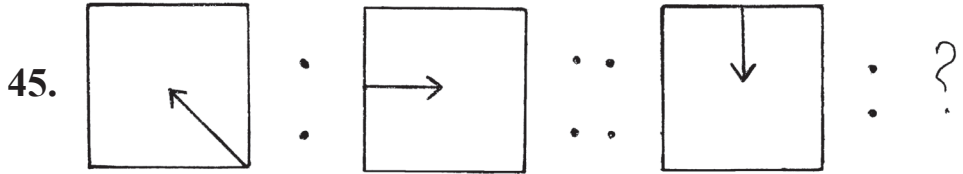
(1) 5

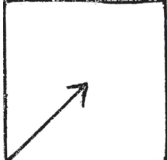
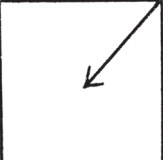
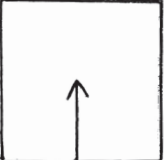

(2) 7

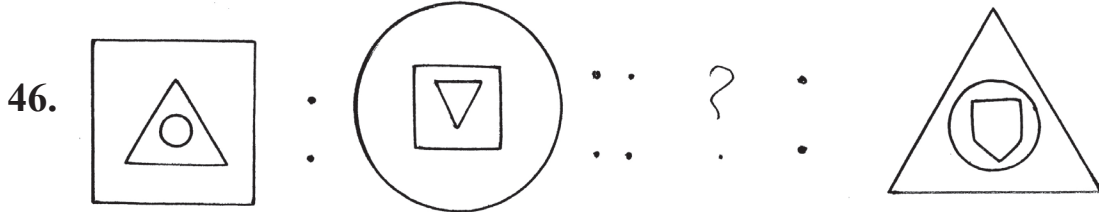
(3) 4

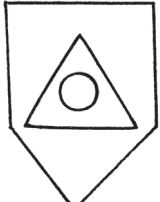
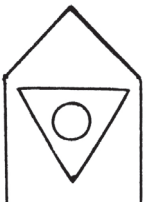

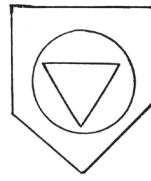
(4) 6

कच्च्या कामासाठी जागा



- (1)  (2)  (3)  (4) 



- (1)  (2)  (3)  (4) 

47. By interchanging the digits of the numbers in the given number series how many Prime numbers will form?

Letters: 31, 59, 35, 19, 17, 34, 16, 89, 74

- (1) 5 (2) 7 (3) 4 (4) 6

Space for Rough Work

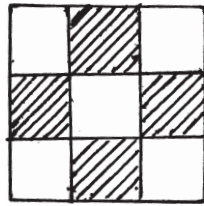
48. అక్షరమాల; ABCDE FGHIJ KLMNO PQRST UVWXY

పై అక్షరమాలలో 'G' మరియు 'R' యొక్క మధ్యలో ఎన్ని అక్షరములు గలవో అన్ని అక్షరాల 3/5 రేట్లు అక్షరములు క్రింది వాటిలో ఏ అక్షరాల మధ్య గలవు?

- (1) 'B' మరియు 'H' (2) 'K' మరియు 'S'
 (3) 'H' మరియు 'O' (4) 'D' మరియు 'H'

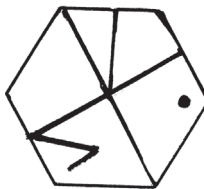
ప్రశ్న 49 మరియు 50 కొరకు సూచనలు:- ఇచ్చిన ప్రశ్నాకృతిలాగే ఉన్నది ఉన్నట్లుగల ఆకృతిని పర్యాయాల నుండి గుర్తించండి.

ప్ర 49. జవాబు ఆకృతి



- (1) (2) (3) (4)

ప్ర 50. జవాబు ఆకృతి



- (1) (2) (3) (4) _____

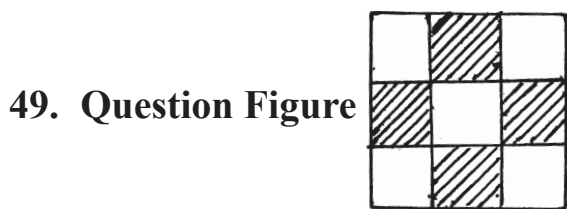
कच्च्या कामासाठी जागा

48. Alphabetical Series : A B C D E F G H I J K L M N O P Q R S T U V W X Y

Find out between which two letters the $\frac{3}{5}$ th of the letters between G and R occurs in the above alphabetical series.

- (1) B and H (2) K and S (3) H and O (4) D and H

Instructions for Q. Nos. 49 to 50 : Find out the figure from the alternatives which exactly matches the question figure.



- (1) (2) (3) (4)



- (1) (2) (3) (4)

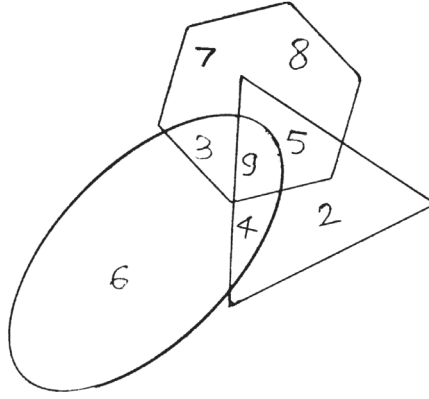
Space for Rough Work

51. క్రింది గదులలో ప్రశ్న చిహ్నం స్థానంలో వచ్చు సంఖ్య పర్యాయాలలో ఎన్నుకోండి.

2	8	5
7	3	9
3	?	4

- (1) 1 (2) 0 (3) 6 (4) 10

ప్రశ్న 52 మరియు 53 కొరకు సూచనలు: క్రింది వెన్ - ఆకృతిని పరిశీలించి, అడిగిన ప్రశ్నలకు జవాబులు పర్యాయాల నుండి గుర్తించండి.



52. కేవలం త్రిభుజం, కేవలం లంబవృత్తం మరియు కేవలం షట్భుజం వీటిలోని అంకెల మొత్తం ఎంత?

- (1) 16 (2) 23 (3) 15 (4) 27

53. మూడు ఆకృతులలోగల అంకె ఏది?

- (1) 4 (2) 5 (3) 9 (4) 3

54. ఒక సాంకేతిక భాషలో '5'ను '4', '3'ను '7', '4'ను '2' అనినట్లయితే అదే సాంకేతిక భాషలో

- (1) 19 (2) 36 (3) 30 (4) 60

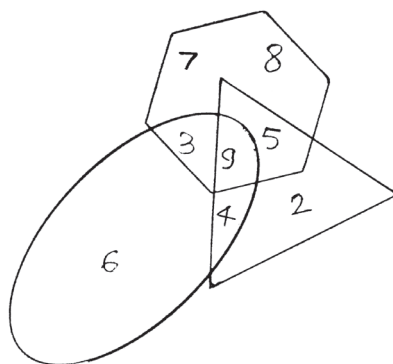
कच्च्या कामासाठी जागा

51. See the number arrangement and find the number that will replace the question mark from the alternatives.

2	8	5
7	3	9
3	?	4

- (1) 1 (2) 0 (3) 6 (4) 10

Instructions for Q. Nos. 52 to 53 : Observe the given Venn diagram and answer the questions based on that by selecting the correct alternative.



52. What is the total of the numbers given in the triangle, oval and hexagon only?

- (1) 16 (2) 23 (3) 15 (4) 27

53. Which number is common in the three figures?

- (1) 4 (2) 5 (3) 9 (4) 3

54. In a code language '5' is called '4', '3' is called '7', '4' is called '2', then in the same language $4 + 3 \times 5 = ?$ (how much)

- (1) 19 (2) 36 (3) 30 (4) 60

Space for Rough Work

55. ఒక సాంకేతిక భాషలో \otimes అంటే $\%7$ గలదు

$$14 \otimes \bullet = 10$$

$$3 \bullet \square = 13$$

అయితే $42 \otimes \square =$ ఎంత?

- (1) 4 (2) 9 (3) 6 (4) 5

ప్రశ్న 56 నుండి 60 కొరకు సూచనలు:- ప్రశ్న ప్రారంభంలో మూడు పదాలను ఇవ్వబడినవి, వాటి కొన్ని ప్రత్యేకతల వలన, వాటి ఒక సమూహం ఏర్పడును. అయిన ఈ సమూహానికి చెందిన పదము పర్యాయాల నుండి నిశ్చయించండి:

56. మెదడు, ఊపిరితిత్తులు, గుండె:

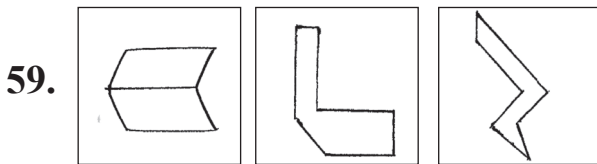
- (1) నాలుక (2) చేతు (3) కాలేయం (4) కాళ్ళు

57. 343, 27, 125 :

- (1) 216 (2) 261 (3) 49 (4) 1

58. 8525, 7612, 9372 :

- (1) 5824 (2) 6083 (3) 3701 (4) 9824



- (1)  (2)  (3)  (4) 

कच्च्या कामासाठी जागा

55. In a code language \otimes means $\div 7$

like wise $14 \otimes \bullet = 10$

$3 \bullet \square = 13$

Then $42 \otimes \square =$ how much?

- (1) 4 (2) 9 (3) 6 (4) 5

Instructions for Q. Nos. 56 to 60 : In each of the following questions three words are given with some common relation, so their group is formed. Select the word from the alternatives given which has the same common feature of the given group.

56. Brain, Lungs, Heart, _____

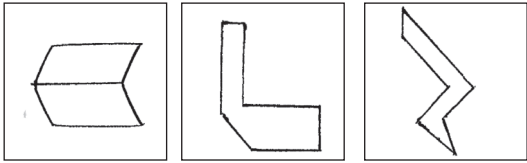
- (1) tongue (2) hand (3) liver (4) leg

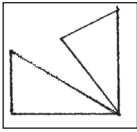
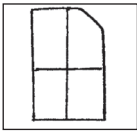
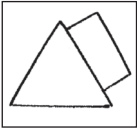
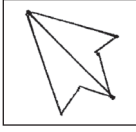
57. 343, 27, 125, _____

- (1) 216 (2) 261 (3) 49 (4) 1

58. 8525, 7612, 9372, _____

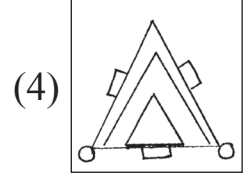
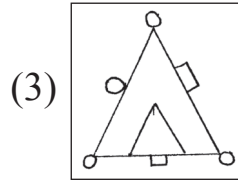
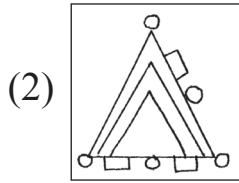
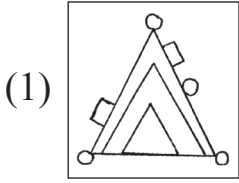
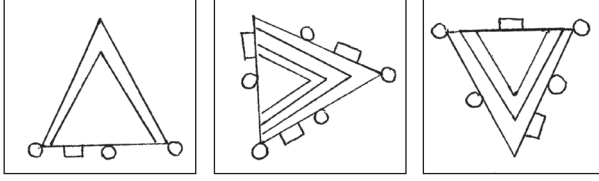
- (1) 5824 (2) 6083 (3) 3701 (4) 9824

59.  .

(1)  (2)  (3)  (4) 

Space for Rough Work

60.



61. క్రింది అమరికను పరిశీలించి వాటిపై ఆధారపడిన ప్రశ్నలకు జబాబులు పర్యాయముల నుండి గుర్తించండి:

అక్షరాలు	A	B	C	H	I	O	P	R
చిహ్నాలు	Δ	\blacktriangledown	\bullet	+	\times	<	\neq	=

'POOR' పదానికి వ్యతిరేక పదం ఎలా రాస్తావు?

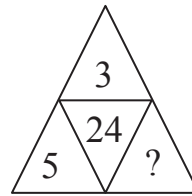
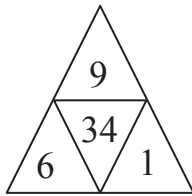
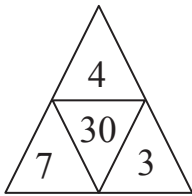
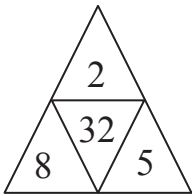
(1) $\neq < < =$

(2) $= \times \bullet +$

(3) $\angle \neq \Delta \blacktriangledown$

(4) $= \times \blacktriangledown +$

62. ప్రశ్న చిహ్నం స్థానంలో వచ్చు సంఖ్య పర్యాయముల నుండి గుర్తించండి:



(1) 2

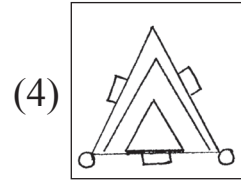
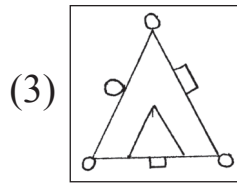
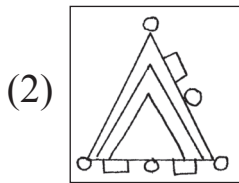
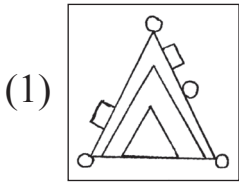
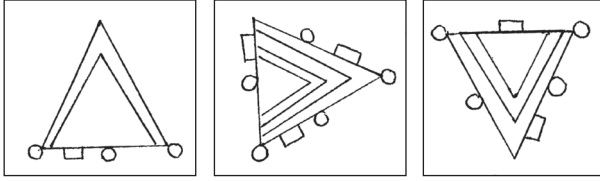
(2) 5

(3) 4

(4) 3

कच्च्या कामासाठी जागा

60.



61. In the following table letters are replaced by symbols.

Letters	A	B	C	H	I	O	P	R
Symbols	Δ	\blacktriangledown	\bullet	+	\times	<	\neq	=

Using above symbols, how will opposite of 'POOR' be written?

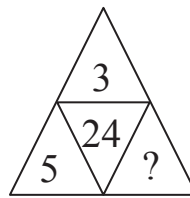
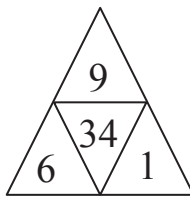
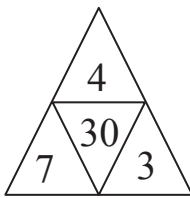
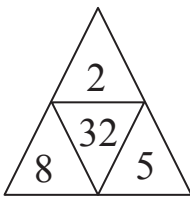
(1) $\neq < < =$

(2) $= \times \bullet +$

(3) $\angle \neq \Delta \blacktriangledown$

(4) $= \times \blacktriangledown +$

62. Observe the arrangement of numbers. Find the correct alternative to replace the question mark (?)



(1) 2

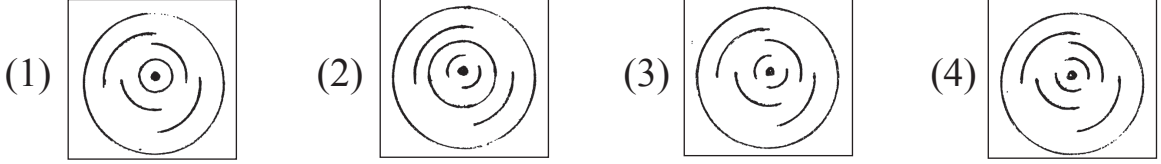
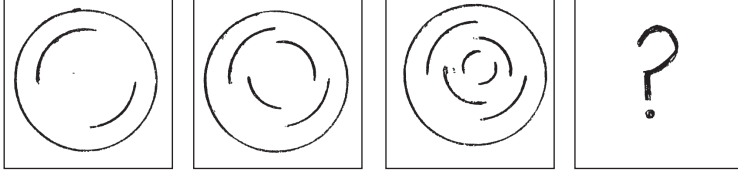
(2) 5

(3) 4

(4) 3

Space for Rough Work

63. క్రింది ఆకృతులలో ప్రత్యేకమైన క్రమము గలదు. అది గుర్తించి ప్రశ్న చిహ్నం స్థానంలో ఏ ఆకృతి వచ్చును గుర్తించండి:



64. ఏనుగును పులి, పులిని కుందేలు, కుందేలును సింహం, సింహాను ఆవు అని అన్నట్లయితే మన జాతీయ జంతువు ఏది?

- (1) పులి (2) కుందేలు (3) ఏనుగు (4) సింహం

65. క్రింది చిహ్నాల మాలికలో ప్రశ్న చిహ్నం స్థానంలో ఏ చిహ్నాల సమూహం వచ్చును?



- (1) ☆ ■▷○□ (2) ■▷☆○□
(3) ☆▷■○□ (4) ☆■○▷□

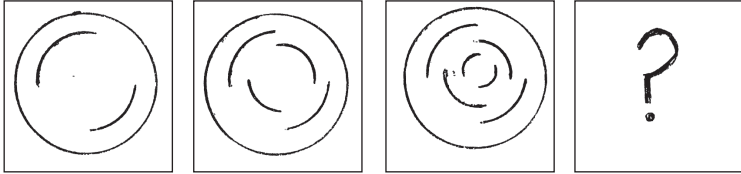
66. క్రింది సంఖ్యామాలికలోని తప్పు పదమును గుర్తించండి:

11, 27, 51, 83, 102, 171

- (1) 51 (2) 27 (3) 171 (4) 102

कच्छ्या कामासाठी जागा

63. There is a typical order in the given figures observe them and select the correct alternative to replace the question mark (?)

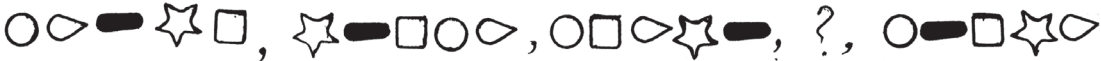


- (1) (2) (3) (4)

64. If elephant is called tiger, tiger is called rabbit, rabbit is called lion, and lion is called bear, then who will be called our national animal?

- (1) tiger (2) rabbit (3) elephant (4) lion

65. Observe the given series and find out which symbols will replace the question mark (?)



- (1) (2) (3) (4)

66. In the given number series find out the odd term.

11, 27, 51, 83, 102, 171

- (1) 51 (2) 27 (3) 171 (4) 102

Space for Rough Work

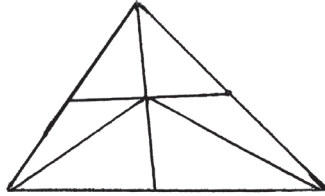
67. ప్ర 67 ఒక సాంకేతిక భాషలో BAT = 278, ANT = 276, NET = 765 ఇలా రాస్తారు. అయితే అదే సాంకేతిక భాషలో 'BEAN' పదమును ఎలా రాస్తావు? (అక్షరాల మరియు చిహ్నాల క్రమము ఒకే విధంగా ఉంటుందని చెప్పలేము.)
- (1) 8572 (2) 8526 (3) 7685 (4) 8356

68. క్రింది వాటిలో ఏ కృత్యము సరికానిదో పర్యాయముల నుండి నిశ్చయించండి:
- (1) నిర్మల తడి చెత్త నుండి ఎరువును తయారు చేస్తుంది.
 (2) పూజ ఎల్లప్పుడూ బజారు నుండి వస్తువులను ప్లాస్టిక్ సంచులలోనే తీసుకొస్తుంది.
 (3) రుక్మానా సామాజిక కార్యంలో సక్రీయంగా పాల్గొనును.
 (4) చెట్ల రక్షణను గురించిన నినాదాలు తయారు చేసి, వాటిని సమాజంలో ప్రదర్శిస్తాను.

69. కొడుకు ప్రస్తుతం వయసు తల్లి ప్రస్తుతం వయసుకు $\frac{1}{2}$ రెట్లకన్నా 4 సంవత్సరాలు తక్కువ గలదు, చిన్నమ్మ ప్రస్తుతం వయసుకు $\frac{1}{3}$ రెట్ల కన్నా 2 సంవత్సరాలు ఎక్కువ గలదు. అయితే, తల్లి వయసు 42 సంవత్సరాలు ఉన్నట్లయితే చిన్నమ్మ రెండు సంవత్సరాల క్రితం వయసు ఎంత?
- (1) 43 (2) 45 (3) 47 (4) 40

70. క్రింది ఆకృతిలో మొత్తం ఎన్ని త్రిభుజాలు గలవు?

- (1) 9
 (2) 13
 (3) 15
 (4) 12



- ప్ర 71 ఏడుగురి పరుగుపందెం పోటీలో జాన్ ముందు అహమద్ ఉండెను. అహమద్ మరియు సమీర్ల మధ్య కేవలం గొతం ఉండెను. జాన్ మరియు అహమద్ మధ్యలో హర్షజన్ ఉండే, అయితే మధ్య భాగంలో ఎవరు ఉండెను?

- (1) జాన్ (2) సమీర్ (3) గొతం (4) అహమద్

कच्च्या कामासाठी जागा

67. In a code language BAT = 278, ANT = 276, NET = 765, then in the same code how 'BEAN' is written? (It is not necessary that the order of the letters and number is same.)

- (1) 8572 (2) 8526 (3) 7685 (4) 8356

68. From the given statements whose activity is incorrect. Choose the correct alternative.

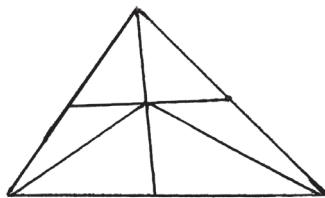
- (1) Aditi prepares compost manure from the dried flowers and leaves.
(2) Sharvin always brings things from the market in plastic bags.
(3) Rukhsana actively participates in the social activities.
(4) Palak promotes antipollution advertisement.

69. A son's present age is 4 less than $\frac{1}{2}$ of the mother's present age and 2 more than $\frac{1}{3}$ rd of the aunt's present age. If the present age of his mother is 42 years then what was the age of his aunt two years ago?

- (1) 43 (2) 45 (3) 47 (4) 40

70. How many triangles are there in the given figure?

- (1) 9
(2) 13
(3) 15
(4) 12

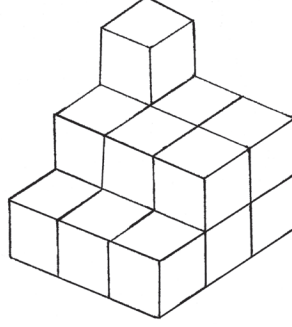


71. In a running race of 5 students, Ahmed was ahead of John. Gautam was between Ahmed and Sameer. Harbhajan was between John and Ahmed. who was at the centre?

- (1) John (2) Sameer (3) Gautam (4) Ahmed

Space for Rough Work

72. క్రింది ఆకృతులలో చూయించిన విధంగా సమాన ఆకారపు ఘనాకృతి చెక్కముక్కల అమరిక ద్వారా ఒక ప్రతికృతి తయారు చేసినట్లయితే దానికి మొత్తం ఎన్ని తలాలు ఉండును?

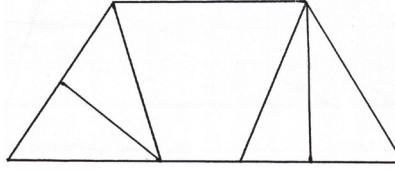


- (1) 12 (2) 8 (3) 10 (4) 11

73. 1.5 కిలో మీ పొడవుగల బాటకు ఇరువైపుల 60 మీ దూరంలో ఒక విద్యుత్ స్తంభం, దీని ప్రకారంగా విద్యుత్ స్తంభాలు నిలబెట్టినచో ఎన్ని స్తంభాలు అవసరము?

- (1) 25 (2) 26 (3) 50 (4) 52

74. క్రింది ఆకృతిలో చతుర్భుజాల సంఖ్య ఎన్ని?



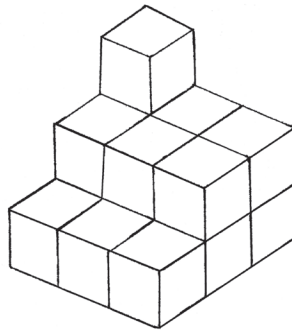
- (1) 5 (2) 4 (3) 7 (4) 6

75. ఉపాధ్యాయుడు తరగతిలో లేనప్పుడు తరగతిలో ఇద్దరి పిల్లల మధ్య గొడవ ప్రారంభమైంది. అయితే మీరు తరగతి మానిటర్ గా మొదట ఏ కృత్యమును చేస్తారు?

- (1) వాళ్ళు ఇద్దరు ఎలా గొడవ చేస్తారో చూస్తాను.
 (2) గొడవ జరిగిన విషయం గురించి తరగతి ఉపాధ్యాయునికి చెప్తాను.
 (3) ఇద్దరికీ నచ్చచెప్పి గొడవను ఆపే ప్రయత్నం చేస్తాను.
 (4) ఆ ఇద్దరినీ నిషేధిస్తాను.

कच्छ्या कामासाठी जागा

72. The clues of same dimension are arranged according to the given figure and a new figure is formed. How many faces will be there of such figure?

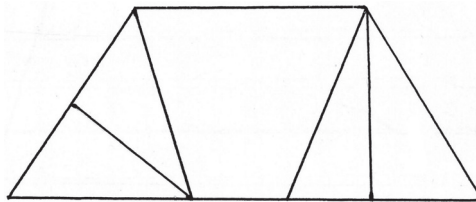


- (1) 12 (2) 8 (3) 10 (4) 11

73. If the electric poles are erected at 60m distance on 1.5 km long road on both the sides, how many poles will be erected?

- (1) 25 (2) 26 (3) 50 (4) 52

74. What is the number of quadrilaterals in the adjacent figure?



- (1) 5 (2) 4 (3) 7 (4) 6

75. The teacher is not in the class and two students enter into a quarrel. What will you do as a monitor?

- (1) You will see how they fight.
 (2) Inform the subject of fight to the class teacher.
 (3) You will convince them and try to sort out the issue.
 (4) You will prohibit both of them.

Space for Rough Work

Space for Rough Work