

Section I

3rd Language

Q. 1 to Q. 3 Read the passage carefully and answer the following questions.

Poseidon was the Greek god of the sea. He carried trident which was the symbol of his power. He split mountains with his trident and rolled the broken parts into the sea. He had a glittering palace in the depths of the Aegeon Sea.

1. Who was the Greek god of the sea ?

- (1) Poseidon (2) Greek
(3) Aegeon (4) Power

2. What did Poseidon carry ?

- (1) palace (2) trident
(3) depth (4) sea

3. The trident was the symbol of _____ .

- (1) idea (2) depth
(3) money (4) power

4. Choose the correct punctuation mark which is not present in the given box.

,	?
!	.

- (1) ? (2) !
(3) ; (4) .

Space for Rough Work

5. Complete the word register.

drum, cymbals, flute, _____

- (1) sieve
- (2) stain
- (3) tambourine
- (4) grater

6. Look at the greeting card. Read the message. Choose the proper date.

“Dear Teacher
We love you
So much !”
.....Your students.

- (1) On 5th September
- (2) On 15th August
- (3) On 2nd October
- (4) On 14th November

7. Find out the odd term.

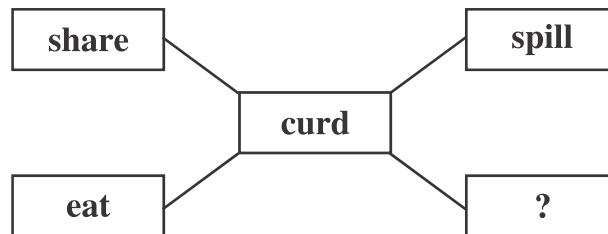
- (1) Cucumber
- (2) Fenugreek
- (3) Spinach
- (4) Coriander

8. Select the correct option.

The arrow  shows _____ direction.

- (1) right
- (2) upward
- (3) left
- (4) downwards

9. Select the proper action word.



- (1) wash
- (2) cut
- (3) peel
- (4) churn

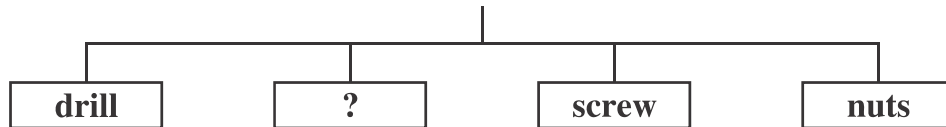
Space for Rough Work

10. She eats breakfast _____ her parents.

- (1) off (2) by
(3) with (4) at

11. Choose the correct alternative.

Tools used by Mechanic.



- (1) roast (2) space
(3) cylinder (4) spanner

12. Select the correct answer.

How many letters should be capital in the given sentence.

i live in aurangabad.

- (1) 3 (2) 1
(3) 0 (4) 2

13. Solve the riddle.

I use a stethoscope and examine patients.

Who am I?

- (1) a mechanic (2) a potter
(3) a cobbler (4) a doctor

Space for Rough Work

14. Choose the correct punctuation mark for the given sentence.

What a great surprise.

- (1) Apostrophe (2) Exclamation mark
(3) Comma (4) Full Stop

15. Complete the motto.

_____ are our friends.

- (1) Library (2) Books
(3) Teacher (4) School

16. Arrange the numbers properly and make a meaningful word.

o	r	e	j	u	n	y
1	2	3	4	5	6	7

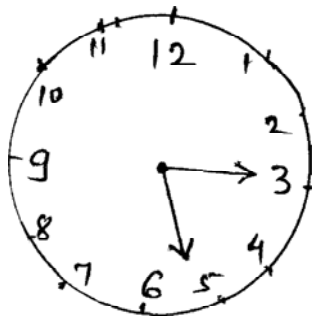
- (1) 1452673 (2) 4172635
(3) 4152637 (4) 1542637

17. Choose correct alternative to seek a permission.

- (1) I will open the window (2) Open the window
(3) Please open the window (4) May I open the window ?

18. Choose the correct option.

What time is it ?



- (1) Quarter past three
(2) Quarter past five
(3) Five past three
(4) Three past five

Space for Rough Work

19. Select the correct alternative

Let's make a _____ for shopping.


- (1) list (2) least
(3) lest (4) leest

20. Fill in the blank by using the correct article.

_____ Eiffel Tower is in Paris.

- (1) A (2) The
(3) An (4) No article

21. Look at the given picture. Choose the correct conversation.



- (1) A : The bubbles look so lovely !
B : Let's buy two.
- (2) A : Here are your potatoes. Would you like to buy tomatoes ?
B : Sure.
- (3) A : Please give us two full glasses.
B : Mamma, I want some ice in my juice.
- (4) A : Do you like roasted corn cobs ?
B : Oh, I love them with salt.

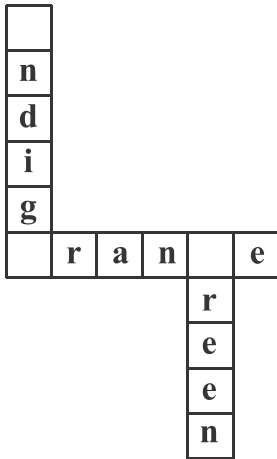
Space for Rough Work

22. Select the correct option.

My number is 12. So I am _____ in the row.

- (1) twelfth (2) twelfth
(3) twelve (4) tweth

23. Complete the puzzle.



- (1) b, l, m
(2) k, g, i
(3) i, o, g
(4) v, p, i

24. Choose the word that comes alphabetically first

- (1) Tuesday (2) Friday
(3) Sunday (4) Monday

25. Choose the incorrect pair.

- (1) a tiny star (2) a rich man
(3) a rainy day (4) a sharp day

Space for Rough Work

વિભાગ : II

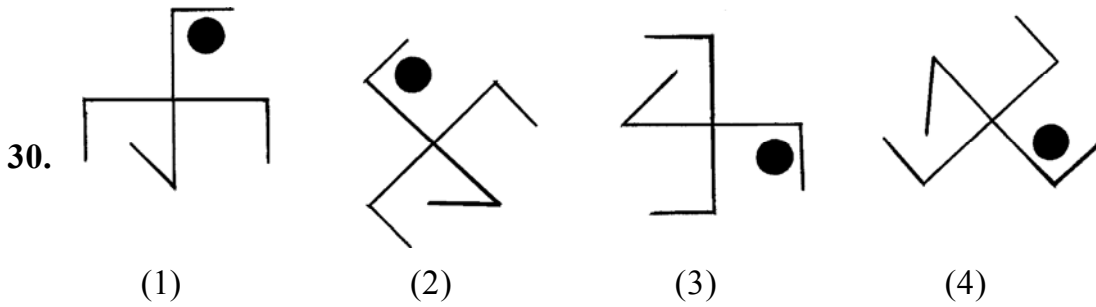
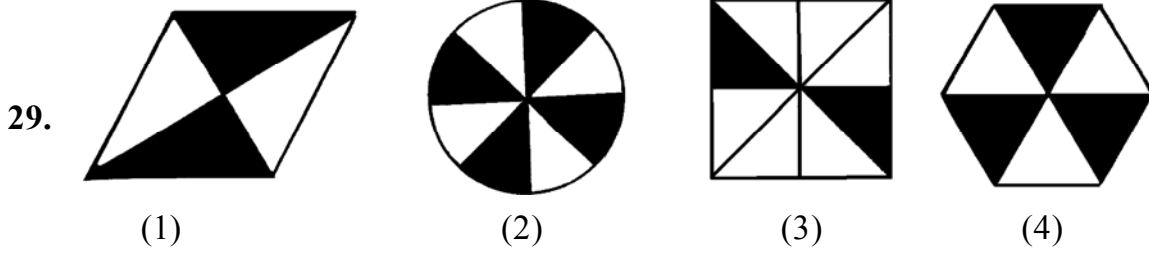
બુદ્ધિમત્તા કસોટી

26. 'કમળ', 'તગર', 'પ્રહાર', 'તરસ', 'પસાર' આ દરેક શબ્દમાં મધ્યમાં આવતો અક્ષર લઈ તેમાંથી અર્થપૂર્ણ શબ્દ તૈયાર કરો. તે અર્થપૂર્ણ શબ્દના મધ્યમાં આવતો અક્ષર કયો તે લખો.

- (1) હા (2) સા
(3) ગ (4) ર

પ્ર. 27 થી 31 માટે સૂચના : જૂથમાં બંધબેસતું ન હોય તેવું પદ ઓળખો.

27. (1) જઠર (2) ગ્રાસિકા
(3) નાનું આંતરડું (4) ફેફસાં
28. (1) રાજસ્થાન: ગંગાપૂર (2) મહારાષ્ટ્ર : પાટણે
(3) મધ્યપ્રદેશ : ભીમબેટકા (4) ગુજરાત: લાંઘણજ



31. (1) 153 (2) 136 (3) 102 (4) 115

Space for Rough Work

Section II

Intelligence Test

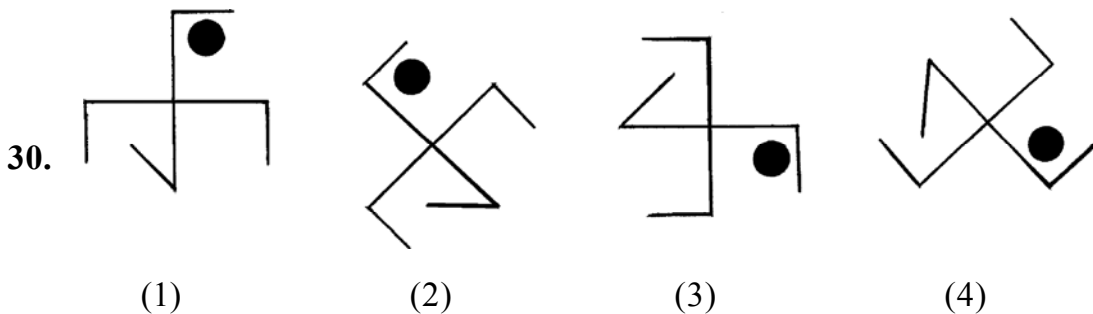
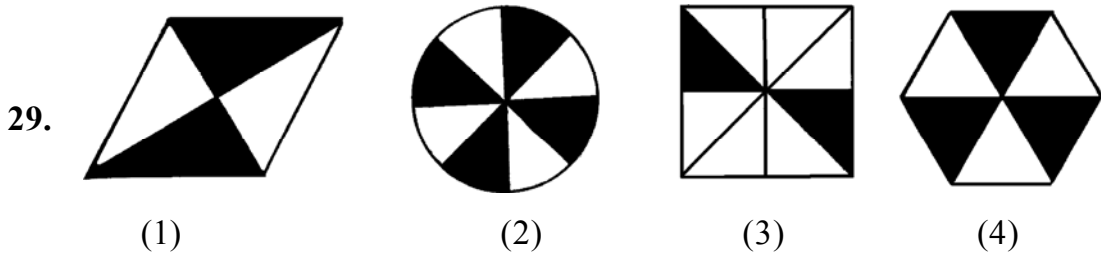
26. Make a meaningful word taking the second letter of the given words. 'PLAY, IVY, HENCE, SCORE, PEAR, FROG' From that meaningful word which letter will be at the 3rd place from right ?

- (1) E (2) V (3) L (4) R

Q27 to Q31 Direction: Find the odd term

27. (1) Stomach (2) Food Pipe
 (3) Small intestine (4) Lungs

28. (1) Rajasthan: Gangapur (2) Maharastra: Patane
 (3) Madhya Pradesh: Bhimbetka (4) Gujarat: Langhnaj



31. (1) 153 (2) 136 (3) 102 (4) 115

Space for Rough Work

32. આપેલી સંખ્યામાળામાં પ્રશ્નચિહ્નના સ્થાને કઈ સંખ્યા આવશે ?

13, 17, 25, 32, 37, ?

- (1) 47 (2) 42
(3) 45 (4) 46

33. 'મિત્ર, સંઘ, કારાવાસ, ગદી, પ્રદુષણ, વસ્તુ' આ શબ્દસમુહમાં જોડાક્ષર હોય તેવા શબ્દો કરતાં જોડાક્ષરો ન હોય તેવા શબ્દ કેટલાથી ઓછા કે વધારે છે ?

- (1) 2 થી ઓછા (2) 1 થી ઓછા
(3) 2 થી વધારે (4) 3 થી ઓછા

34. વાછરડાને ગાડરું કહીએ, ગાડરુંને વછેરું કહીએ, વછેરુંને લવારું કહીએ, લવારુંને પાડું કહીએ તો ઘેટીના બચ્ચાને શું કહેશો?

- (1) ગાડરું (2) લવારું
(3) વછેરું (4) પાડું

પ્ર. 35 થી 39 માટે સૂચના: પ્રશ્નની શરૂઆતમાં ત્રણ પદ આપેલા છે. તેમની કાંઈક વિશિષ્ટતાઓ છે. તેથી તેમનું એક જૂથ તૈયાર થાય છે. આ જૂથમાં બંધબેસતું પદ આપેલા પર્યાયોમાંથી શોધો.

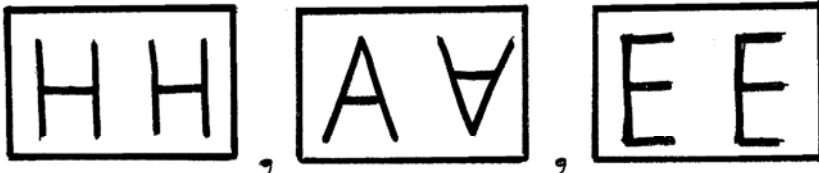
35. ખસ, શરદી, દરાજ

- (1) ટાઢિયો તાવ (2) કૉલેરા
(3) ઓરી (4) જુલાબ

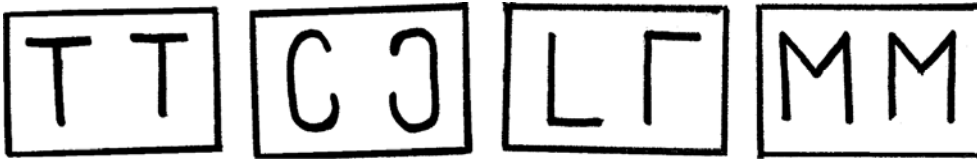
36. વુંદ, ભારો, ગુચ્છ

- (1) હરણ (2) કાફલો
(3) તરસ (4) ગુંજારવ

37. પ્રશ્ન આકૃતિ:



ઉત્તર આકૃતિ:



(1)

(2)

(3)

(4)

Space for Rough Work

32. Find the number which will replace the question mark (?) in the given number series.
13, 17, 25, 32, 37, ?

- (1) 47 (2) 42 (3) 45 (4) 46

33. 'Give me the strength lightly to bear my joys and sorrows.' In the statement how many times vowels have occurred ?

- (1) 13 times (2) 8 times (3) 7 times (4) 16 times

34. If calf is called cub, cub is called lamb, lamb is called kitten, kitten is called kid, kid is called puppy then what is the young ones of sheep called ?

- (1) kid (2) cule (3) kitten (4) pup

Q35 to Q39 Direction: In each of the following question three words are given with some common characteristics so their group is formed. Select a word from the options given, which has the same common feature of the given group.

35. Itching, Cough & Cold, Corn, _____

- (1) cold fever (2) cholera (3) measles (4) dysentery

36. Choir, heap, pile, _____

- (1) humming (2) crowd (3) march (4) mile

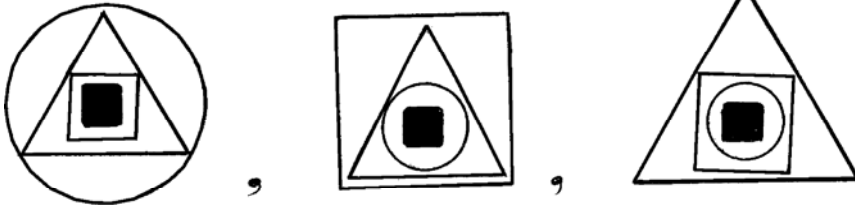
37. 



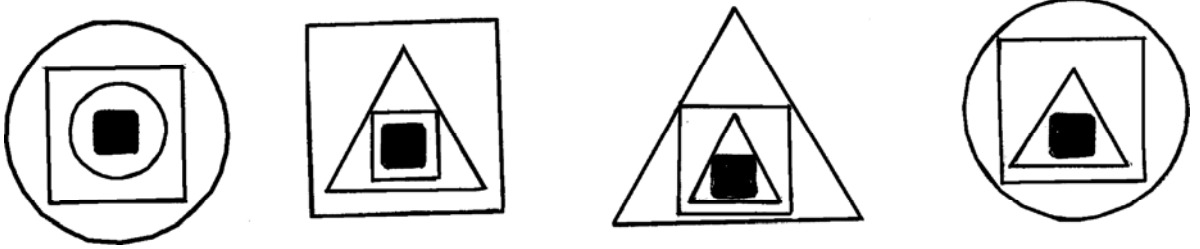
- (1) (2) (3) (4)

Space for Rough Work

38. પ્રશ્ન આકૃતિ:



ઉત્તર આકૃતિ:



(1)

(2)

(3)

(4)

39. $2\frac{1}{4}$, $4\frac{2}{8}$, $3\frac{1}{4}$ _____

(1) $5\frac{4}{16}$

(2) $5\frac{1}{2}$

(3) $6\frac{2}{4}$

(4) $7\frac{1}{8}$

40. એક હરોળમાં કવિતાનો શરૂઆતથી 28મો અને છેલ્લેથી 32મો ક્રમાંક છે. આજ હરોળમાં મધ્યમાં રહેલી સુવર્ણાની પાછળ મનિષા ઊભી છે. સુવર્ણા અને મનિષાની વચ્ચે 10 છોકરીઓ છે. તો આ હરોળમાં મનિષાનો પાછળથી ક્રમાંક કેટલામો છે ?

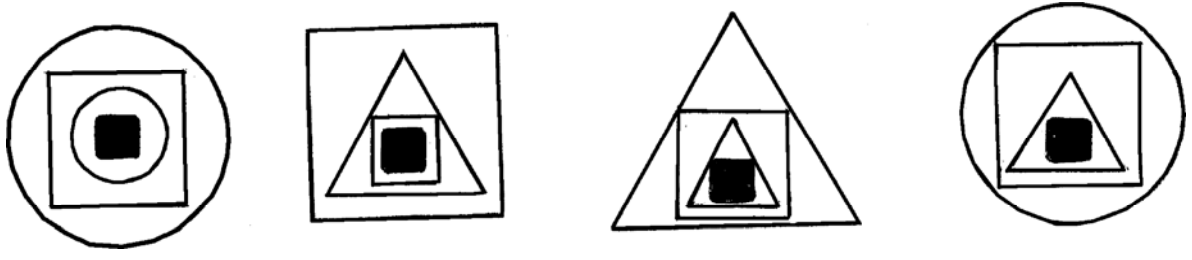
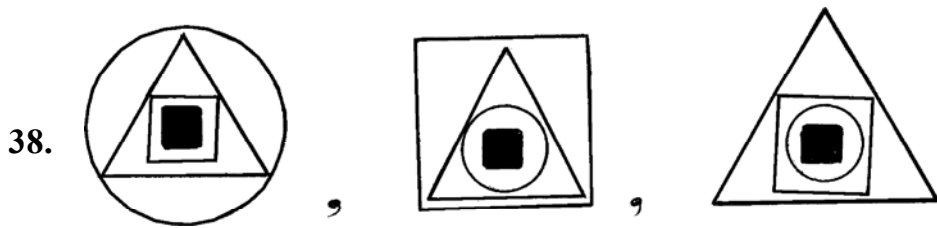
(1) 20 મો

(2) 18 મો

(3) 40 મો

(4) 19 મો

Space for Rough Work



(1) (2) (3) (4)

39 $2\frac{1}{4}, 4\frac{2}{8}, 3\frac{1}{4}$ _____

(1) $5\frac{4}{16}$

(2) $5\frac{1}{2}$

(3) $6\frac{2}{4}$

(4) $7\frac{1}{8}$

40. In a queue Kavita's position is 28th from the start and 32rd from the last. In the same queue Manisha is standing behind Suvarna who is standing in the middle position of the row. In between Suvarna and Manisha there are 10 girls then what will be the order of Manisha from the last ?

(1) 20th

(2) 18th

(3) 40th

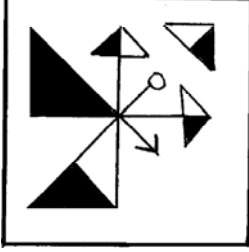
(4) 19th

Space for Rough Work

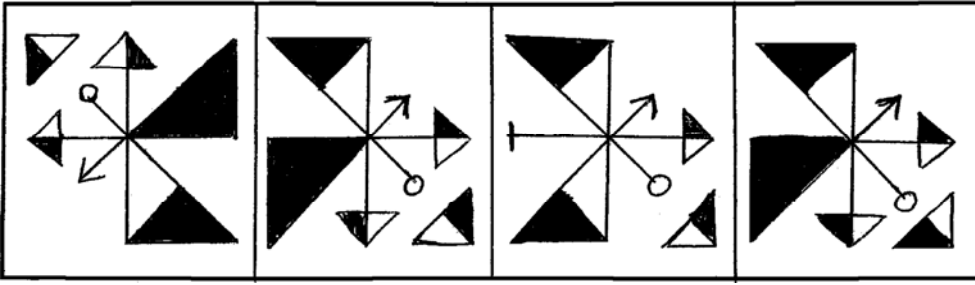
અક્ષરમાલા : ABCDE FGHIJ KLMNO PQRST UVWXYZ

પ્રશ્ન: 41 અને 42 માટે સૂચના : આપેલી પ્રશ્નાકૃતિ પાણી ઊપર ઊભી પકડતાં તેનું પાણીમાં પ્રતિબિંબ કેવું દેખાશે તે ઉત્તર આકૃતિઓમાંથી શોધો

41. પ્રશ્ન આકૃતિ



ઉત્તર આકૃતિઓ




(1)

(2)

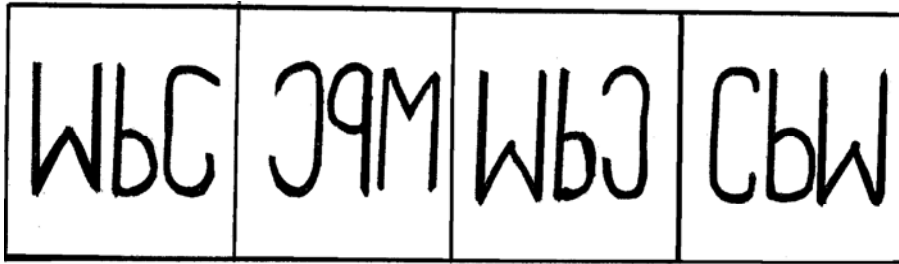
(3)

(4)

42. પ્રશ્ન આકૃતિ



ઉત્તર આકૃતિઓ



(1)

(2)

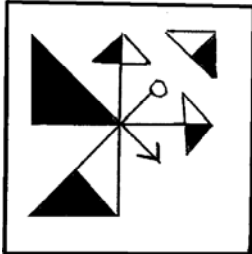
(3)

(4)

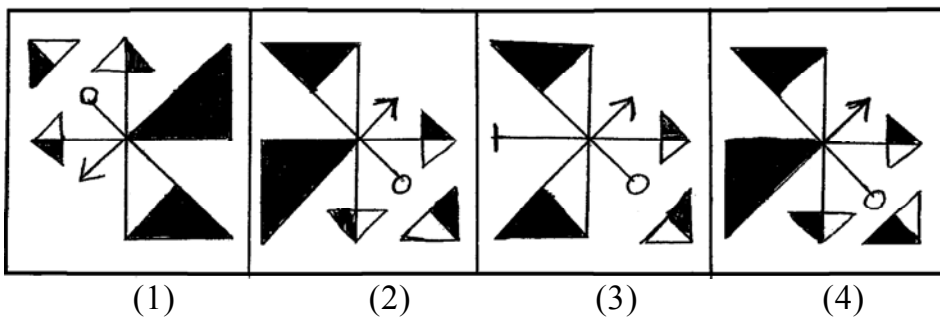
Space for Rough Work

Q41. and Q42 Direction: If the question figure is held vertical above water surface, identify its water reflection and select the correct alternative.


41. Question



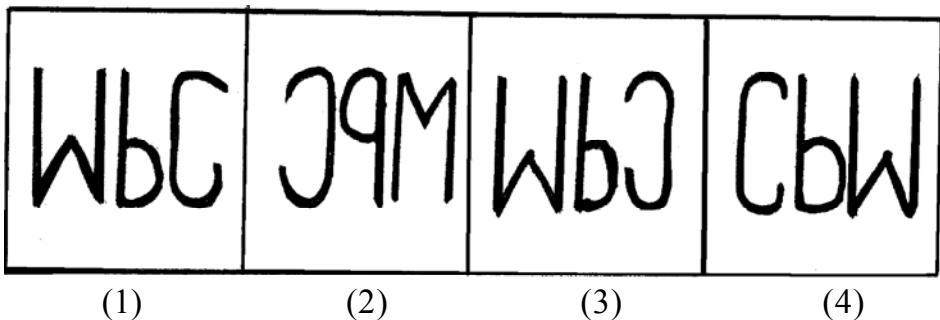
Answers



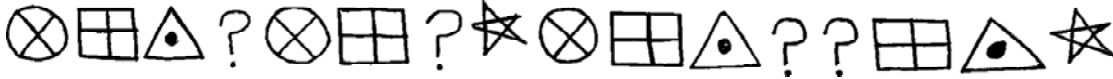



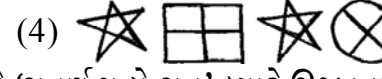
42. Question

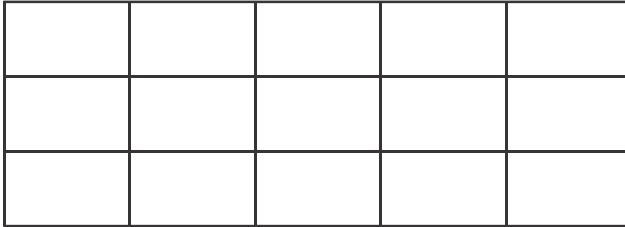


Answers



Space for Rough Work

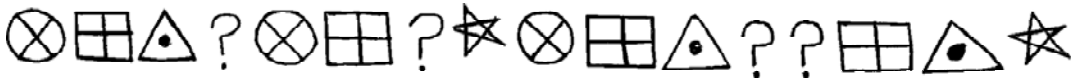
43. સૂર્યોદય થતો હતો ત્યારે વિશ્વાસ ચાલવા નીકળ્યો. ત્યારે સૂર્ય તેની ડાબી બાજુએ હતો. બે કિલોમિટર ચાલ્યા પછી તે જમણી તરફ કાટખૂણે વળ્યો. થોડું અંતર ચાલ્યા પછી તે ફરી જમણી તરફ કાટખૂણામાં વળ્યો. તો હવે તેના ડાબા હાથે કઈ દિશા હશે ?
 (1) પૂર્વ (2) પશ્ચિમ (3) ઉત્તર (4) દક્ષિણ
44. કવિતા, સવિતા અને સલમાની ઉંમરનો સરવાળો 4 વર્ષ પહેલાં 28 વર્ષ હતો. તો 4 વર્ષ પછી તેમની ઉંમરનો સરવાળો કેટલાં વર્ષ હશે ?
 (1) 32 (2) 40 (3) 36 (4) 52
45. સુયશ ક્રિકેટ અને ફુટબોલ રમે છે. રાજેન્દ્ર ફક્ત હૉકી રમે છે. શૈલેશ ફુટબોલ અને કબડ્ડી રમે છે. અને દીપક ફુટબોલ છોડીને બાકીની સર્વ રમત રમે છે. તો કબડ્ડી આ રમત રમનારા કોણ ?
 (1) દીપક અને રાજેન્દ્ર (2) ફક્ત શૈલેશ
 (3) સુયશ અને શૈલેશ (4) દીપક અને શૈલેશ
46. આપેલા ચિહ્નોની માળામાં પ્રશ્નચિહ્નના સ્થાને ચિહ્નનો કયો સમૂહ આવશે ?

 (1)  (2) 
 (3)  (4) 
47. 1 જૂન, 1976ના દિવસે સ્થાપન થયેલ વિદ્યાલયનો 'સુવર્ણ મહોત્સવ' ક્યારે ઊજવવામાં આવશે?
 (1) 1 જૂન 2001 (2) 1 જૂન, 2036 (3) 1 જૂન, 2026 (4) 1 જૂન, 2025
48. આપેલી આકૃતિમાં કુલ કેટલા ચતુષ્કોણ છે ?



- (1) 15 (2) 21
 (3) 90 (4) 120
49. આપેલી પ્રશ્નમાળામાંનો અયોગ્ય પદ ઓળખો.
 3, 11, 27, 57, 123, 251
 (1) 123 (2) 57 (3) 27 (4) 11

Space for Rough Work

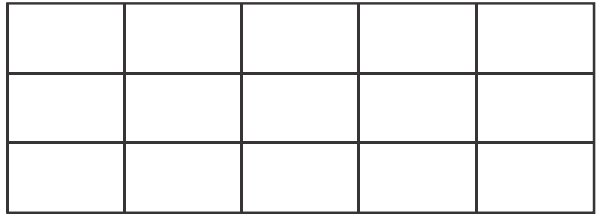
43. During the sunrise, Vishwas started walking that time the sun was to his left. He walked 2 km and turned 90° to his right. Again he walked for a while and turned 90° to his right, then which direction is to his left now ?
 (1) East (2) West (3) North (4) South
44. Total ages of Kavita, Savita and Salma four years before was 28 years, then what will be the total of their ages four years hence ?
 (1) 32 (2) 40 (3) 36 (4) 52
45. Suyash plays cricket and football, Rajendra plays only hockey, Shailesh plays football and Kabaddi and Deepak plays all sports except football, then who play Kabbadi ?
 (1) Deepak and Rajendra (2) Only Shailesh
 (3) Suyash and Shailesh (4) Deepak and Shailesh
46. Which group of symbols will occur at the place of question mark in the given series of symbols ?



- (1) (2)
- (3) (4)

47. 'Golden Jubilee' celebrations of the school will be on which day whose 'Foundation Day' is 1st June, 1976 ?
 (1) 1 June 2001 (2) 1 June 2036 (3) 1 June 2026 (4) 1 June 2025

48. How many squares are there is the given figure ?



- (1) 15 (2) 21 (3) 90 (4) 120

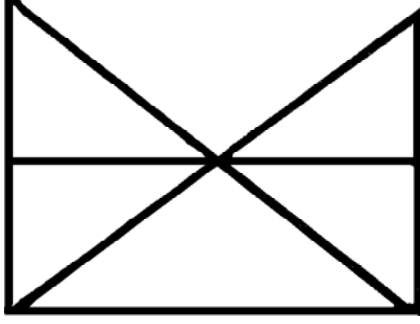
49. Find the odd term of the given number series.
 3, 11, 27, 57, 123, 251
 (1) 123 (2) 57 (3) 27 (4) 11

Space for Rough Work

50. ઈ.સ. 2015નો સ્વાતંત્ર્યદિન રવિવાર હતો. તો ઈ.સ. 2016નો 'શિક્ષણદિન' કયા વારે હતો ?

- (1) શનિવાર (2) બુધવાર (3) રવિવાર (4) શુક્રવાર

51. આપેલી આકૃતિમાંના ત્રિકોણ અને ચતુષ્કોણની અનુક્રમે સંખ્યા કેટલી ?



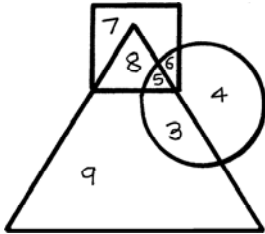
- (1) 11 અને 7 (2) 9 અને 5 (3) 11 અને 5 (4) 11 અને 3

52. આપેલી સંખ્યામાળામાં પ્રશ્નચિહ્નના સ્થાને કઈ સંખ્યા આવશે ?

121, 169, 225, 289, ?

- (1) 334 (2) 400 (3) 246 (4) 361

53. આપેલી આકૃતિમાં વર્તુળમાં ક્રિડાંગણ સ્વચ્છ કરનારા વિદ્યાર્થી, ત્રિકોણમાં બાગ સ્વચ્છ કરનારા વિદ્યાર્થી અને ચોરસમાં વર્ગ સ્વચ્છ કરનારા વિદ્યાર્થી દર્શાવ્યા છે. આકૃતિનું નિરીક્ષણ કરીને પૂછેલા પ્રશ્નોના ઉત્તર પ્રચાર્યોમાંથી શોધો.



ફક્ત ક્રિડાંગણ અને બાગ સ્વચ્છ કરનારા વિદ્યાર્થી કેટલા ?

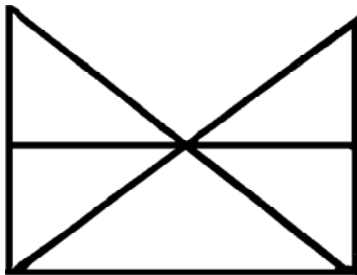
- (1) 3 (2) 7 (3) 6 (4) 5

Space for Rough Work

50. In 2015, Independence Day was on Sunday. On which day 'Literacy Day' will fall in the year 2016?

- (1) Saturday (2) Wednesday (3) Sunday (4) Friday

51. Each of the alternatives given below the figure indicate the number of triangles and quadrilaterals respectively. Observe the figure and choose the correct option.

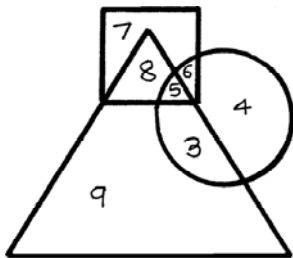


- (1) 11 and 7 (2) 9 and 5 (3) 11 and 5 (4) 11 and 3

52. Which number will replace the question mark in the given number series.
121, 169, 225, 289 ?

- (1) 334 (2) 400 (3) 246 (4) 361

53. In the given Venn diagram the students who clean the ground are shown in the circle, those who clean the garden are shown in the triangle and those who clean the classrooms are shown in the square. Observe the figure and answer the question by choosing the correct alternative.




How many students clean only ground and the garden ?

- (1) 3 (2) 7 (3) 6 (4) 5

Space for Rough Work

અક્ષરમાલા : ABCDE FGHIJ KLMNO PQRST UVWXYZ

54. આપેલી આકૃતિમાં ઘન કેટલા ?



(1) 7

(2) 19

(3) 16

(4) 20

પ્રશ્ન 55 અને 56 માટે સૂચના : પ્રશ્નમાં પ્રશ્નઆકૃતિની અરીસામાંની પ્રતિમા કેવી દેખાશે તે પર્યાયી ઉત્તર આકૃતિમાંથી નિશ્ચિત કરો.

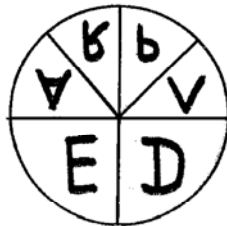
55. પ્રશ્ન આકૃતિ



ઉત્તર આકૃતિઓ



(1)



(2)




(3)



(4)

Space for Rough Work

54. How many cubicle boxes are there in the given figure ?



- (1) 7 (2) 19 (3) 16 (4) 20

Q55 and Q56 Direction: Find out the mirror image of each of the following question figure from the alternatives given.

55. Question



Answers



(1)



(2)



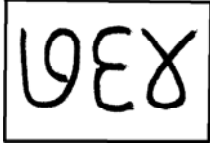
(3)



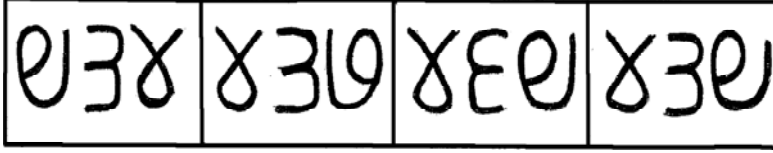
(4)

Space for Rough Work

56. प्रश्न आकृति

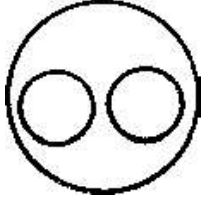


उत्तर आकृतिओ



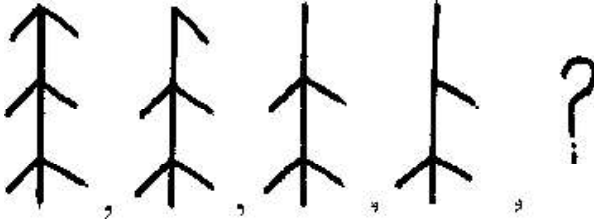
(1) (2) (3) (4)

57. प्रश्नमां आपेली वेन आकृति कया पर्यायमांनाना घटको साथे अयूक बंध बेसशे ते पर्याय पसंद करो.

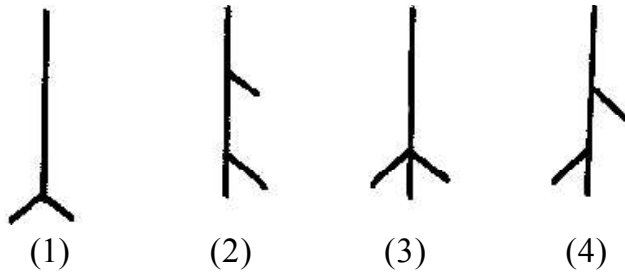


- (1) अन्नघटक, कांजवाणा पदार्थ, घउं
 (2) भारत, महाराष्ट्र, कर्णाटक
 (3) रमत, क्रिकेट, बेटबोल
 (4) तेलंगणा, राजस्थान, गोवा

58. आपेली आकृतिओमां विशिष्ट प्रकारनो कम छ ते कम ओणपी प्रश्नयिरूना स्थाने कई आकृति आवशे ते शोधो ?
 प्रश्न आकृतिओ

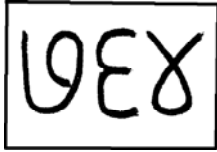


उत्तर आकृतिओ

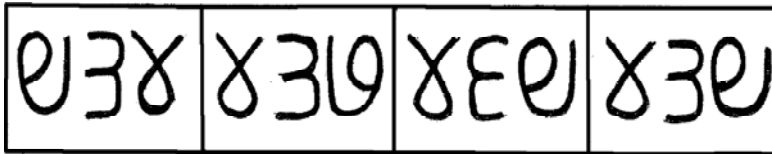


Space for Rough Work

56. Question

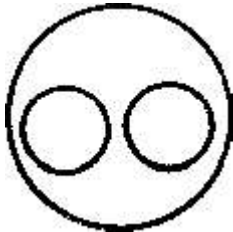


Answers




(1) (2) (3) (4)

57. Select the alternative which will match exactly to the Venn diagram given in the question.

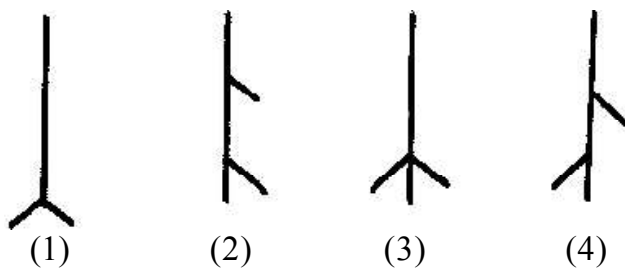


- (1) Components of food, starchy food, Wheat
- (2) India, Maharashtra, Karnataka
- (3) Sport, Cricket, Batball
- (4) Telangana, Rajasthan, Goa

58. In the given figures there is a specific order. Observe the order and find out the figure to replace the question mark.



Answers



(1) (2) (3) (4)

Space for Rough Work

59 થી 63 માટે સૂચના : આપેલા પ્રશ્નમાં પહેલા પદનો બીજા પદ સાથે જેવો સંબંધ છે તેવો જ સંબંધ ત્રીજા અને ચોથા પદમાં છે. તે સંબંધ શોધો અને પ્રશ્નચિહ્નના સ્થાને યોગ્ય પર્યાય શોધો.

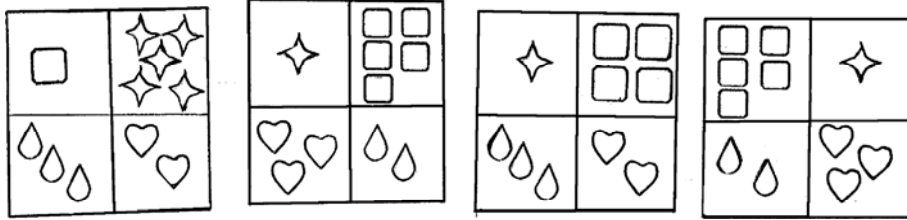
59. િ : બંદર :: િ : ?

- (1) કિલ્લો (2) દીવાદાંડી (3) હવાઈમાર્ગ (4) ખાણ

પ્રશ્ન આકૃતિ

60. :: :: :: ?

ઉત્તર આકૃતિઓ




- (1) (2) (3) (4)

61. પ્રશ્ન આકૃતિ

ML :: WJ :: SJ :: ?

ઉત્તર આકૃતિઓ



62. 8 : 504 :: 6 : ?

- (1) 222 (2) 216 (3) 210 (4) 209

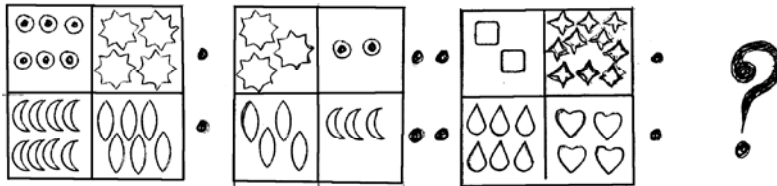
Space for Rough Work

Q59 to Q63 Direction: In the following question the first and second figure have a specific relationship between them. The same relationship exists between the third and the fourth figure. Find the correct figure from the alternatives to replace the question mark.

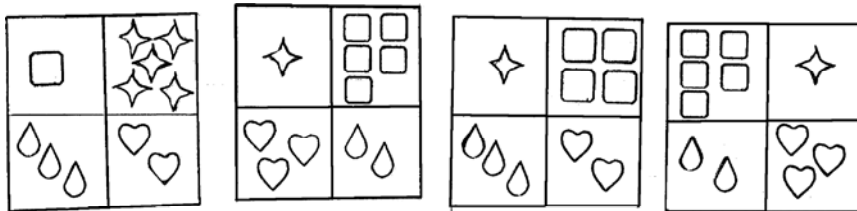


- (1) Fort (2) Light house (3) Airways (4) Mine

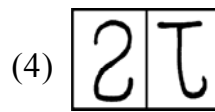
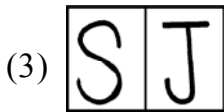
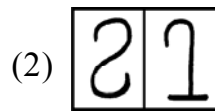
60. Question



Answers



- (1) (2) (3) (4)



62. 8 : 504 :: 6 : ?

- (1) 222 (2) 216 (3) 210 (4) 209

Space for Rough Work

63. 241 : 4124 :: 372 : ?

- (1) 6218 (2) 3214 (3) 6148 (4) 6281

64. 7, 8, 3, 2, 5, 6, 4, 2, 8, 7, 2, 3, 6, 8, 9, 4, 6 ઉપરોક્ત સંખ્યામાળામાં સમ અંક પછી તરત જ સમ અંક અને સમ અંક પહેલાં તરત વિષમ અંક એમ કેટલી વાર થયું છે ?

- (1) બે (2) ત્રણ (3) ચાર (4) એક

પ્ર. 65 અને 66 માટે સૂચના : નીચેના પ્રશ્નઆકૃતિને બંધબેસતી આકૃતિ પર્યાયમાંથી શોધો.

65. પ્રશ્ન આકૃતિ

ઉત્તર આકૃતિ

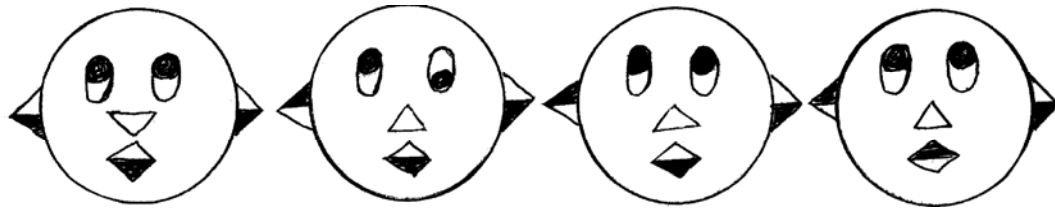


- (1) (2) (3) (4)

66. પ્રશ્ન આકૃતિ



ઉત્તર આકૃતિઓ



- (1) (2) (3) (4)

Space for Rough Work

63. 241 : 4124 :: 372 : ?

- (1) 6218 (2) 3214 (3) 6148 (4) 6281

64. In the given series, how many times even number is preceded by odd number and is immediately followed by an even number

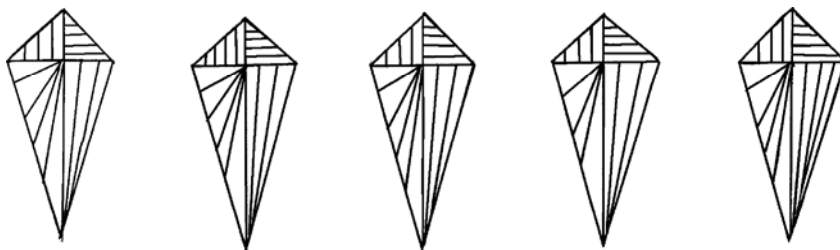
7, 8, 3, 2, 5, 6, 4, 2, 8, 7, 2, 3, 6, 8, 9, 4, 6

- (1) two (2) three (3) four (4) one

Q65 and Q66 Direction: Find out the figures which exactly matches with the question figure from the four alternative figures given below.

65 Question

Answers

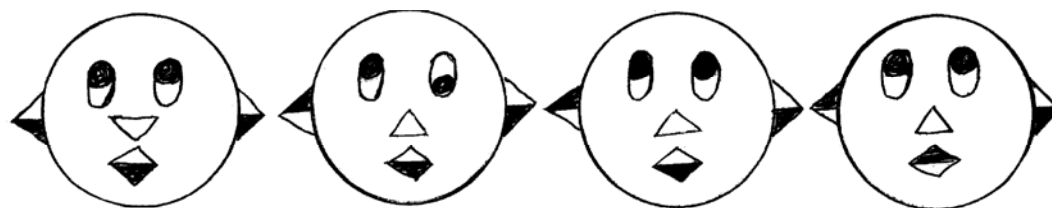


- (1) (2) (3) (4)

66. Question



Answers



- (1) (2) (3) (4)

Space for Rough Work

અક્ષરમાલા : ABCDE FGHIJ KLMNO PQRST UVWXYZ

67. ABCDE FGHIJ KLMNO PQRST UVWXY

ઉપરોક્ત અંગ્રેજી અક્ષરમાળામાં જમણીબાજુથી ૧ પમો અક્ષર કયો ?

- (1) O (2) L
(3) K (4) P

68. પ્રશ્નચિહ્નના સ્થાને આવનારી સંખ્યાનો પર્યાય શોધો અને લખો.

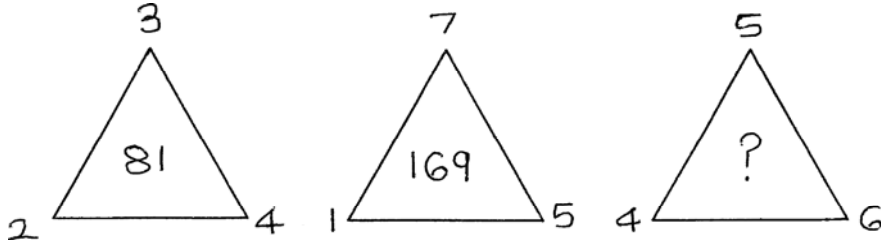
5	3	16
6	4	?
7	2	45

- (1) 25 (2) 10
(3) 61 (4) 20

69. એક સાંકેતિક ભાષામાં 2 ને 5 કહીએ, 3 ને 4 કહીએ અને 7 ને 9 કહીએ તો $3 + 2 \times 7 =$ કેટલા ?

- (1) 17 (2) 49
(3) 35 (4) 81

70. પ્રશ્નચિહ્નના સ્થાને આવનારી સંખ્યાનો પર્યાય શોધો અને લખો.



- (1) 225 (2) 196
(3) 256 (4) 235

Space for Rough Work

Alphabets : ABCDE FGHIJ KLMNO PQRST UVWXYZ

67. ABCDE FGHIJ KLMNO PQRST UVWXY

In the given alphabetical series which is the 15th letter from the right end ?

- (1) O (2) L
(3) K (4) P

68. Which number from the alternatives will replace the question mark in the box ?

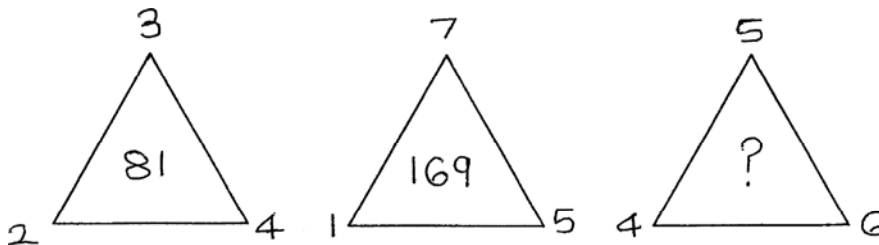
5	3	16
6	4	?
7	2	45

- (1) 25 (2) 10
(3) 61 (4) 20

69. In a code language 2 is called 5, 3 is called 4 and 7 is called 9 then $3 + 2 \times 7 =$ how much ?

- (1) 17 (2) 49
(3) 35 (4) 81

70. Choose the correct option to replace the (?) question mark.



- (1) 225 (2) 196
(3) 256 (4) 235

Space for Rough Work

71. એક સાંકેતિક ભાષામાં પવન = 456, વજન = 542 અને નર = 74, તો 'જર જર' આ શબ્દ કેવી રીતે લખશો ?
(સૂચના - અંક અને અક્ષરોનો ક્રમ સરખો જ હશે એવું નથી.)

- (1) 4747 (2) 4444
(3) 2424 (4) 2727

પ્ર 72 અને 73 માટે સૂચના : અક્ષર અને ચિહ્નનો કોઠો જોઈને આપેલા પ્રશ્નોના ઉત્તર લખો

પ્ર	ન	ક	લ	મ	ર	કાનો	માત્રા
☆	□	○	×	△	⊗	=	

72. 'પ્રેરણા' આ શબ્દ કયા ચિહ્નોથી દર્શાવશો ?

- (1) ☆ || ⊗ ○ = (2) ☆ = ⊗ ○ ||
(3) ☆ || ⊗ ○ || (4) ☆ || ○ ⊗ =

73. △ = □ × || આ ચિહ્નોથી કયો શબ્દ તૈયાર થાય છે ?

- (1) માનવી (2) મેનવા
(3) માનવે (4) માનેવ

74. શિક્ષકે તમારા મિત્રના નિબંધના ખૂબ વખાણ કર્યા તો તમે શું કરશો ?

- (1) શિક્ષક સાથે અબોલા ધરશો (2) મિત્ર સાથે બોલશો નહીં
(3) મિત્રને અભિનંદન આપશો (4) પોતાનું જ નિબંધલેખન સરસ છે એમ જ બધાને કહેશો.

75. જળાશય દૂષિત ન થાય તે માટે નીચેના પૈકી કઈ કૃતિ યોગ્ય ઠરશે ?

- (1) જળાશયના કિનારે સ્નાન કરવું (2) જળાશય પાસે કપડાં ન ધોવા
(3) જળાશયના કિનારે શૌચક્રિયા માટે બેસવું. (4) જળાશયના કિનારે જનાવરોને નવડાવવા.

Space for Rough Work

Space for Rough Work