

पूर्व उच्च प्राथमिक शिष्यवृत्ती परीक्षा (इयत्ता 5वी), फेब्रुवारी 2019

बैठक क्र.

0 1 0 2

संच

A

प्रश्नपत्रिका क्र. II

माध्यम : मराठी

वेळ : 3.30pm ते 5.00pm

पृष्ठ : 32

तृतीय भाषा व बुद्धिमत्ता चाचणी

एकूण गुण : 150

प्रश्नपत्रिका सोडविण्यापूर्वी कृपया खालील सूचना काळजीपूर्वक वाचा.

- (1) या प्रश्नपत्रिकेत दोन विभाग आहेत. त्यापैकी विभाग I मध्ये प्रथम भाषा विषयासाठी 1 ते 25 व विभाग II मध्ये गणित विषयासाठी 26 ते 75 असे एकूण 75 प्रश्न आहेत. सर्व प्रश्न सोडविणे आवश्यक आहे.
- (2) प्रत्येक प्रश्नासाठी 2 गुण आहेत.
- (3) प्रश्नपत्रिका सोडविण्यासाठी एकूण 90 मिनिटांचा कालावधी दिला जाईल.
- (4) उत्तरे नोंदविण्यासाठी स्वतंत्र उत्तरपत्रिका दिलेली आहे. प्रत्येक प्रश्नक्रमांकासमोर चार पर्यायांसाठी क्रमागत वर्तुळे दिलेली आहेत. त्यातील अचूक उत्तराचा पर्याय क्रमांक असलेले वर्तुळ पुढील उदाहरणात दाखविल्याप्रमाणे रंगवा.
उदा. प्रश्न क्र. 6 च्या बरोबर उत्तराचा पर्याय क्र. 2 असेल, तर तो पुढीलप्रमाणे नोंदवावा.
प्रश्न क्र. 6 ① ② ③ ④
- (5) खालीलप्रमाणे नोंदविलेली उत्तरे ग्राह्य धरण्यात येणार नाहीत. असे उत्तर नोंदविल्यास त्या प्रश्नास 'शून्य' गुण दिले जातील.
 ① ② ③ ④
- (6) पर्यायाची उत्तरे नोंदविताना फक्त काळ्या किंवा निळ्या रंगाच्या बॉलपेनचाच वापर करावा. पेन्सिलने नोंदविलेली उत्तरे ग्राह्य धरण्यात येणार नाहीत.
- (7) एकदा नोंदविलेली उत्तरे पुन्हा बदलता येणार नाहीत.
- (8) प्रत्येक प्रश्नासाठी एकापेक्षा अधिक वर्तुळात नोंदविलेली उत्तरे, खाडाखोड करून नोंदविलेली उत्तरे ग्राह्य धरण्यात येणार नाहीत.
- (9) प्रश्नपत्रिकेत प्रत्येक पानावर खाली व शेवटच्या पानावर कच्चे काम करण्यासाठी मोकळी जागा आहे, तेथेच कच्चे काम करावे.
- (10) परीक्षेस मर्यादित वेळ असल्याने एखाद्या प्रश्नाचे उत्तर तुम्हाला येत नसल्यास पुढील प्रश्न सोडवा. शेवटी वेळ शिल्लक राहिल्यास उरलेल्या प्रश्नांसाठी पुन्हा प्रयत्न करा.
- (11) एखाद्या प्रश्नात त्रुटी/चूक आढळल्यास त्याबाबत पर्यवेक्षक किंवा परीक्षा केंद्रसंचालक यांच्याकडे विचारणा करू नये.
- (12) प्रश्नातील त्रुटी/चूक/आक्षेपाबाबतचे निवेदन शाळेने किंवा पालकांनी गटशिक्षणाधिकारी किंवा शिक्षणाधिकारी यांच्याकडे लेखी स्वरूपात न पाठवता संबंधित शाळेच्या लॉगीन मधून ऑनलाईन पद्धतीनेच पाठवावे.
- (13) त्रुटी/चूक/आक्षेपाबाबतचे निवेदन ऑनलाईन पद्धतीने पाठविण्याची मुदत परीक्षा परिषदेच्या संकेतस्थळावर अंतरिम (तात्पुरती) उत्तरसूची प्रसिद्ध झाल्यापासून 10 (दहा) दिवसांपर्यंत राहिल.
- (14) मुद्रणदोष किंवा अन्य कारणांमुळे प्रश्न चुकीचा असल्याचे आढळल्यास तज्ज्ञ समितीच्या अभिप्रायानुसार तो रद्द केला जाईल.
- (15) मूळ माध्यमासोबत इंग्रजी भाषेतील प्रश्नपत्रिका दिलेली आहे. मूळ माध्यमातील संदिग्ध प्रश्नांबाबत इंग्रजी प्रश्न पहावेत.

Section I

3rd Language

Q. 1 to Q. 3 Read the passage carefully and answer the following questions.

Poseidon was the Greek god of the sea. He carried trident which was the symbol of his power. He split mountains with his trident and rolled the broken parts into the sea. He had a glittering palace in the depths of the Aegeon Sea.

1. Who was the Greek god of the sea ?

- (1) Poseidon (2) Greek
(3) Aegeon (4) Power

2. What did Poseidon carry ?

- (1) palace (2) trident
(3) depth (4) sea

3. The trident was the symbol of _____ .

- (1) idea (2) depth
(3) money (4) power

4. Choose the correct punctuation mark which is not present in the given box.

,	?
!	.

- (1) ? (2) !
(3) ; (4) .

Space for Rough Work

5. Complete the word register.

drum, cymbals, flute, _____

- (1) sieve
- (2) stain
- (3) tambourine
- (4) grater

6. Look at the greeting card. Read the message. Choose the proper date.

“Dear Teacher
We love you
So much !”
.....Your students.

- (1) On 5th September
- (2) On 15th August
- (3) On 2nd October
- (4) On 14th November

7. Find out the odd term.

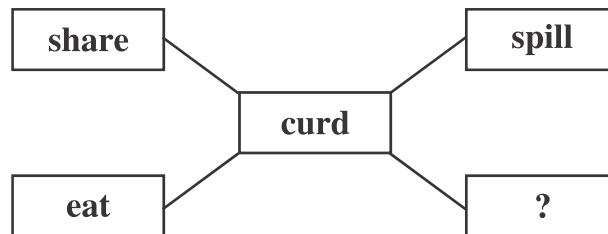
- (1) Cucumber
- (2) Fenugreek
- (3) Spinach
- (4) Coriander

8. Select the correct option.

The arrow  shows _____ direction.

- (1) right
- (2) upward
- (3) left
- (4) downwards

9. Select the proper action word.



- (1) wash
- (2) cut
- (3) peel
- (4) churn

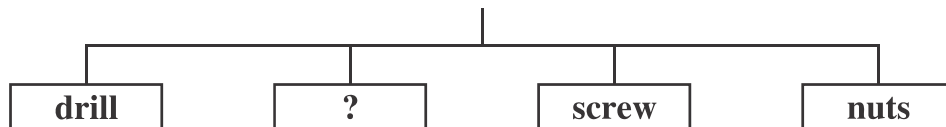
Space for Rough Work

10. She eats breakfast _____ her parents.

- (1) off (2) by
(3) with (4) at

11. Choose the correct alternative.

Tools used by Mechanic.



- (1) roast (2) space
(3) cylinder (4) spanner

12. Select the correct answer.

How many letters should be capital in the given sentence.

i live in aurangabad.

- (1) 3 (2) 1
(3) 0 (4) 2

13. Solve the riddle.

I use a stethoscope and examine patients.

Who am I?

- (1) a mechanic (2) a potter
(3) a cobbler (4) a doctor

Space for Rough Work

14. Choose the correct punctuation mark for the given sentence.

What a great surprise.

- (1) Apostrophe (2) Exclamation mark
(3) Comma (4) Full Stop

15. Complete the motto.

_____ are our friends.

- (1) Library (2) Books
(3) Teacher (4) School

16. Arrange the numbers properly and make a meaningful word.

o	r	e	j	u	n	y
1	2	3	4	5	6	7

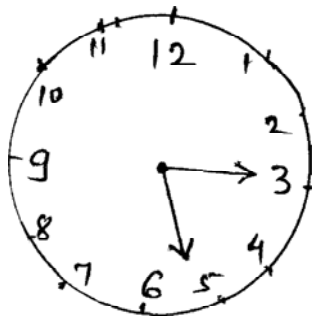
- (1) 1452673 (2) 4172635
(3) 4152637 (4) 1542637

17. Choose correct alternative to seek a permission.

- (1) I will open the window (2) Open the window
(3) Please open the window (4) May I open the window ?

18. Choose the correct option.

What time is it ?



- (1) Quarter past three
(2) Quarter past five
(3) Five past three
(4) Three past five

Space for Rough Work

19. Select the correct alternative

Let's make a _____ for shopping.


- (1) list (2) least
(3) lest (4) leest

20. Fill in the blank by using the correct article.

_____ Eiffel Tower is in Paris.

- (1) A (2) The
(3) An (4) No article

21. Look at the given picture. Choose the correct conversation.



- (1) A : The bubbles look so lovely !
B : Let's buy two.
- (2) A : Here are your potatoes. Would you like to buy tomatoes ?
B : Sure.
- (3) A : Please give us two full glasses.
B : Mamma, I want some ice in my juice.
- (4) A : Do you like roasted corn cobs ?
B : Oh, I love them with salt.

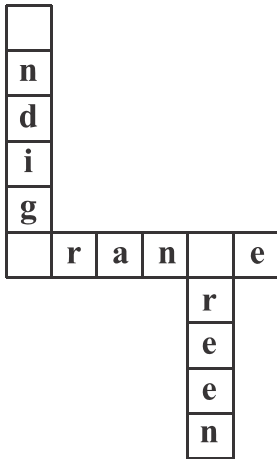
Space for Rough Work

22. Select the correct option.

My number is 12. So I am _____ in the row.

- (1) twelfth (2) twelfth
(3) twelve (4) tweth

23. Complete the puzzle.



- (1) b, l, m
(2) k, g, i
(3) i, o, g
(4) v, p, i

24. Choose the word that comes alphabetically first

- (1) Tuesday (2) Friday
(3) Sunday (4) Monday

25. Choose the incorrect pair.

- (1) a tiny star (2) a rich man
(3) a rainy day (4) a sharp day

Space for Rough Work

विभाग II

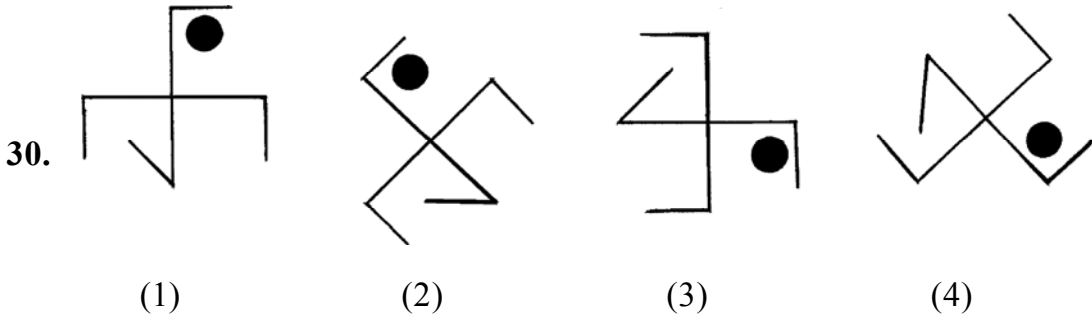
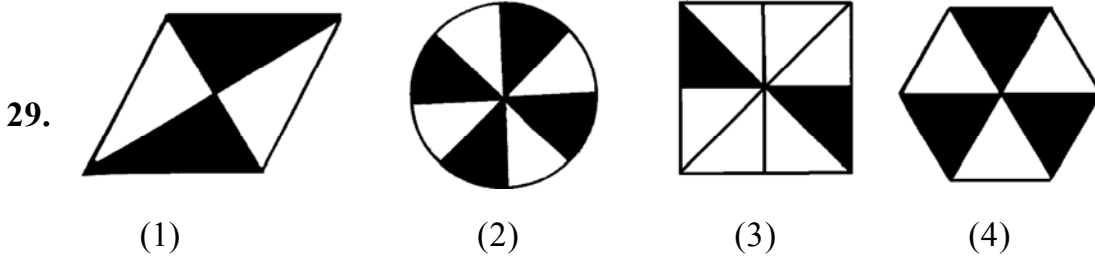
बुद्धिमत्ता चाचणी

26. 'कमळ, तगर, प्रहार, खारट, पसार' या प्रत्येक शब्दातील मध्यभागी येणारे अक्षर घेऊन त्यापासून अर्थपूर्ण शब्द तयार करा. त्या अर्थपूर्ण शब्दातील मध्यभागी येणारे अक्षर कोणते ते लिहा.

- (1) हा (2) सा (3) ग (4) र

प्र. 27 ते 31 साठी सूचना : गटात न बसणारे पद ओळखा.

- 27 (1) जठर (2) ग्रासिका
(3) लहान आतडे (4) फुफ्फुसे
28. (1) राजस्थान : गंगापूर (2) महाराष्ट्र : पाटणे
(3) मध्यप्रदेश : भीमबेटका (4) गुजरात : लांघणज



31. (1) 153 (2) 136 (3) 102 (4) 115

Space for Rough Work

Section II

Intelligence Test

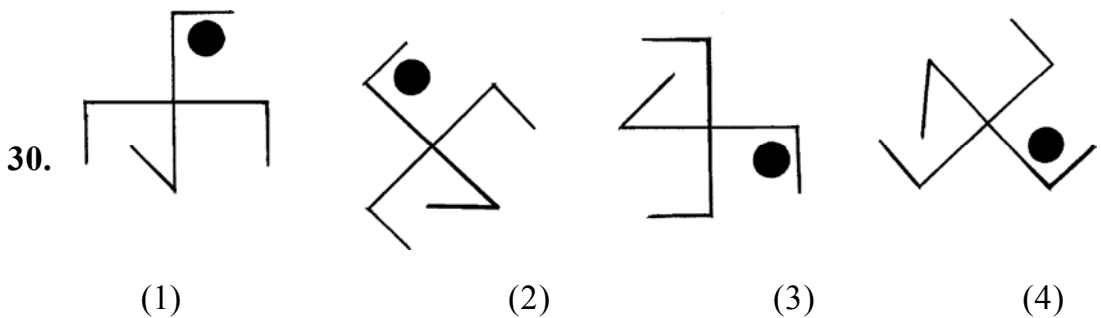
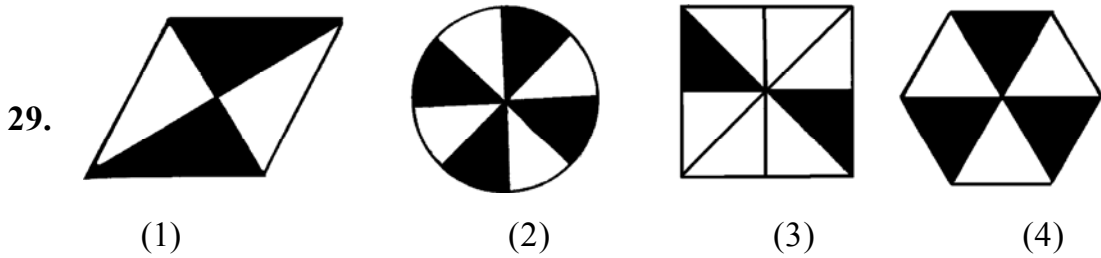
26. Make a meaningful word taking the second letter of the given words. 'PLAY, IVY, HENCE, SCORE, PEAR, FROG' From that meaningful word which letter will be at the 3rd place from right ?

- (1) E (2) V (3) L (4) R

Q27 to Q31 Direction: Find the odd term

27. (1) Stomach (2) Food Pipe
 (3) Small intestine (4) Lungs

28. (1) Rajasthan: Gangapur (2) Maharastra: Patane
 (3) Madhya Pradesh: Bhimbetka (4) Gujarat: Langhnaj



31. (1) 153 (2) 136 (3) 102 (4) 115

Space for Rough Work

32. खालील संख्यामालिकेत प्रश्नचिन्हाच्या जागी कोणती संख्या येईल ?

13, 17, 25, 32, 37, ?

- (1) 47 (2) 42 (3) 45 (4) 46

33. 'मित्र, संघ, कारागृह, गर्दी, प्रदूषण, वस्तू' या शब्दसमूहात जोडाक्षरे असलेल्या शब्दापेक्षा जोडाक्षरे नसलेले शब्द कितीने कमी अथवा जास्त आहेत.

- (1) 2 ने कमी (2) 1 ने कमी (3) 2 ने जास्त (4) 3 ने कमी

34. वासराला कोकरू म्हटले, कोकराला शिंगरू म्हटले, शिंगरूला करडू म्हटले, करडूला रेडकू म्हटले तर मेंढीच्या पिलाला काय म्हणाल ?

- (1) कोकरू (2) करडू (3) शिंगरू (4) रेडकू

प्र. 35 ते 39 साठी सूचना : प्रश्नाच्या सुरुवातीला तीन पदे दिली आहेत. त्यांचे काही वैशिष्ट्य आहे, त्यामुळे त्यांचा एक गट तयार होतो, या गटात बसणारे पद दिलेल्या पर्यायातून निश्चित करा.

35. खरूज, पडसे, नायटा

- (1) हिवताप (2) कॉलरा (3) गोवर (4) जुलाब

36. वृंद, भारा, चवड

- (1) पाडस (2) ताफा (3) तरस (4) गुंजारव

37. 



- (1) (2) (3) (4)

Space for Rough Work

Alphabets : A B C D E F G H I J K L M N O P Q R S T U V W X Y Z

32. Find the number which will replace the question mark (?) in the given number series.

13, 17, 25, 32, 37, ?

- (1) 47 (2) 42 (3) 45 (4) 46

33. 'Give me the strength lightly to bear my joys and sorrows.' In the statement how many times vowels have occurred ?

- (1) 13 times (2) 8 times (3) 7 times (4) 16 times

34. If calf is called cub, cub is called lamb, lamb is called kitten, kitten is called kid, kid is called puppy then what is the young ones of sheep called ?

- (1) kid (2) cule (3) kitten (4) pup

Q35 to Q39 Direction: In each of the following question three words are given with some common characteristics so their group is formed. Select a word from the options given, which has the same common feature of the given group.

35. Itching, Cough & Cold, Corn, _____

- (1) cold fever (2) cholera (3) measles (4) dysentery

36. Choir, heap, pile, _____

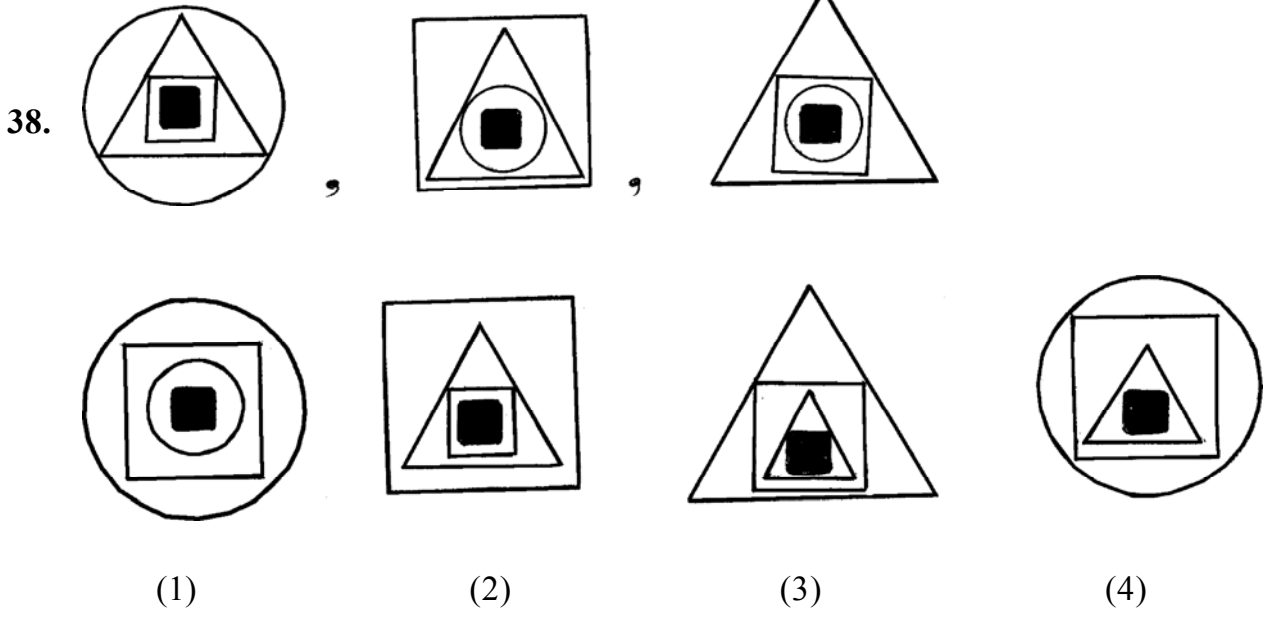
- (1) humming (2) crowd (3) march (4) mile

37.  ,  , 

- (1) (2) (3) (4)

Space for Rough Work



39. $2\frac{1}{4}, 4\frac{2}{8}, 3\frac{1}{4}$ _____

(1) $5\frac{4}{16}$

(2) $5\frac{1}{2}$

(3) $6\frac{2}{4}$

(4) $7\frac{1}{8}$

40. एका रांगेत कविताचा सुरुवातीपासून 28वा व शेवटून 32 वा क्रमांक आहे. याच रांगेत मध्यभागी असणाऱ्या सुवर्णाच्या मागे मनिषा उभी आहे. सुवर्णा व मनिषा यांच्यामध्ये 10 मुली आहेत तर या रांगेत मनिषाचा मागून क्रमांक कितवा ?

(1) 20 वा

(2) 18 वा

(3) 40 वा

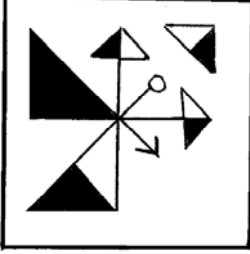
(4) 19 वा

Space for Rough Work

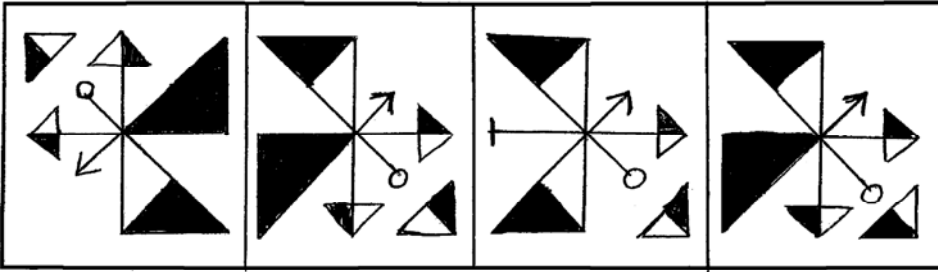
अक्षरमाला : ABCDE FGHIJ KLMNO PQRST UVWXYZ

प्र. 41 व 42 साठी सूचना : पुढे दिलेली प्रश्नाकृती पाण्यावर उभी धरल्यास तिचे पाण्यात प्रतिबिंब कसे दिसेल ते उत्तर आकृत्यांमधून शोधा.

41. प्रश्न-आकृती



उत्तर-आकृत्या




(1)

(2)


(3)

(4)

42. प्रश्न-आकृती



उत्तर-आकृत्या



(1)

(2)

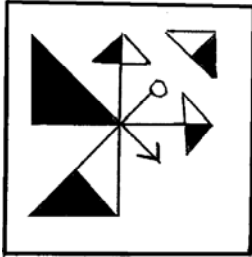
(3)

(4)

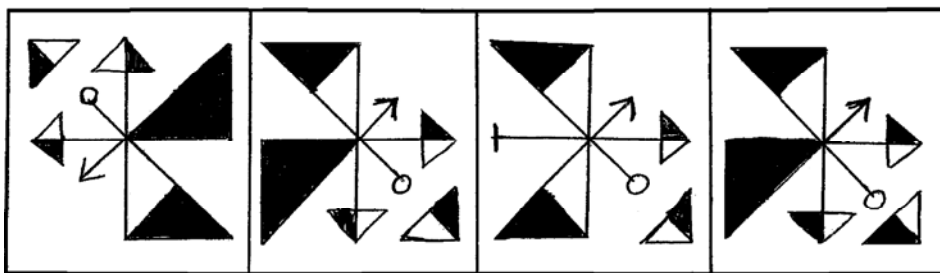
Space for Rough Work

Q41. and Q42 Direction: If the question figure is held vertical above water surface, identify its water reflection and select the correct alternative.

41. Question



Answers




(1)

(2)


(3)

(4)

42. Question



Answers



(1)

(2)

(3)

(4)

Space for Rough Work

43. सूर्योदय होत असताना विश्वास चालावयास निघाला तेव्हा सूर्य त्याच्या डाव्याबाजूस होता. दोन किलोमीटर चालल्यावर तो उजवीकडे काटकोनात वळला थोडे अंतर चालल्यावर तो पुन्हा उजवीकडे काटकोनात वळला तर आता त्याच्या डाव्या हाताला कोणती दिशा असेल ?

- (1) पूर्व (2) पश्चिम (3) उत्तर (4) दक्षिण

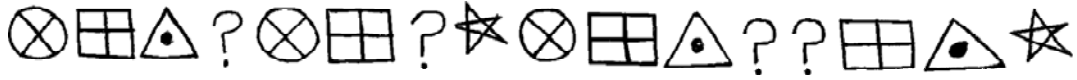
44. कविता, सविता व सलमा यांच्या वयांची बेरीज 4 वर्षांपूर्वी 28 वर्षे होती तर 4 वर्षांनंतर त्यांच्या वयाची बेरीज किती वर्षे असेल ?

- (1) 32 (2) 40 (3) 36 (4) 52

45. सुयश क्रिकेट व फुटबॉल खेळतो, राजेंद्र फक्त हॉकी खेळतो, शैलेश फुटबॉल व कबड्डी खेळतो व दीपक फुटबॉल सोडून सर्व खेळ खेळतो तर कबड्डी हा खेळ खेळणारे कोण ?

- (1) दीपक व राजेंद्र (2) फक्त शैलेश (3) सुयश व शैलेश (4) दीपक व शैलेश

46. पुढे दिलेल्या चिन्हांच्या मालिकेतील प्रश्नचिन्हाच्या जागी चिन्हांचा कोणता समूह येईल ?

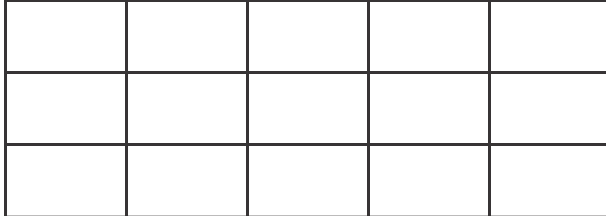


- (1) (2)
 (3) (4)

47. 1 जून 1976ला स्थापन झालेल्या विद्यालयाचा 'सुवर्ण महोत्सव' केव्हा साजरा होईल ?

- (1) 1 जून 2001 (2) 1 जून 2036 (3) 1 जून 2026 (4) 1 जून 2025

48. दिलेल्या आकृतीत चौकोनांची एकूण संख्या किती ?



- (1) 15 (2) 21 (3) 90 (4) 120

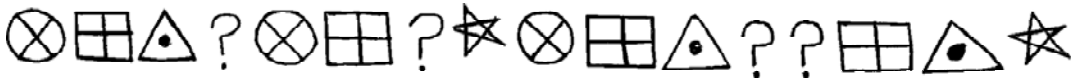
49. पुढील प्रश्नमालिकेतील चुकीचे पद ओळखा.

3, 11, 27, 57, 123, 251

- (1) 123 (2) 57 (3) 27 (4) 11

Space for Rough Work

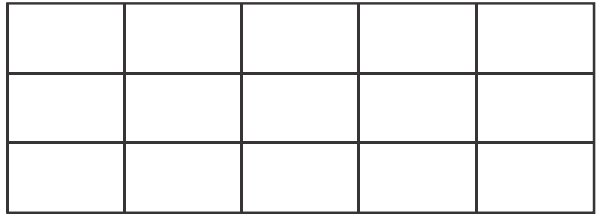
43. During the sunrise, Vishwas started walking that time the sun was to his left. He walked 2 km and turned 90° to his right. Again he walked for a while and turned 90° to his right, then which direction is to his left now ?
 (1) East (2) West (3) North (4) South
44. Total ages of Kavita, Savita and Salma four years before was 28 years, then what will be the total of their ages four years hence ?
 (1) 32 (2) 40 (3) 36 (4) 52
45. Suyash plays cricket and football, Rajendra plays only hockey, Shailesh plays football and Kabaddi and Deepak plays all sports except football, then who play Kabbadi ?
 (1) Deepak and Rajendra (2) Only Shailesh
 (3) Suyash and Shailesh (4) Deepak and Shailesh
46. Which group of symbols will occur at the place of question mark in the given series of symbols ?



- (1) (2)
- (3) (4)

47. 'Golden Jubilee' celebrations of the school will be on which day whose 'Foundation Day' is 1st June, 1976 ?
 (1) 1 June 2001 (2) 1 June 2036 (3) 1 June 2026 (4) 1 June 2025

48. How many squares are there is the given figure ?



- (1) 15 (2) 21 (3) 90 (4) 120

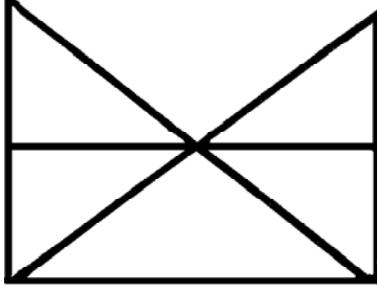
49. Find the odd term of the given number series.
 3, 11, 27, 57, 123, 251
 (1) 123 (2) 57 (3) 27 (4) 11

Space for Rough Work

50. सन 2015चा 'स्वातंत्र्यदिन' रविवारी होता तर सन 2016चा 'शिक्षण दिन' कोणत्या वारी होता ?

- (1) शनिवार (2) बुधवार (3) रविवार (4) शुक्रवार

51. दिलेल्या आकृतीतील त्रिकोण व चौकोन यांची अनुक्रमे संख्या किती ?



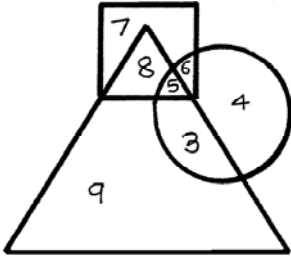
- (1) 11 व 7 (2) 9 व 5 (3) 11 व 5 (4) 11 व 3

52. खालील संख्यामालिकेत प्रश्नचिन्हाच्या जागी कोणती संख्या येईल ?

121, 169, 225, 289, ?

- (1) 334 (2) 400 (3) 246 (4) 361

53. पुढील आकृतीत वर्तुळात क्रीडांगण स्वच्छ करणारे विद्यार्थी, त्रिकोणात बाग स्वच्छ करणारे विद्यार्थी व चौरसात वर्गखोल्या स्वच्छ करणारे विद्यार्थी दर्शवलेले आहेत. आकृतीचे निरीक्षण करून विचारलेल्या प्रश्नाचे उत्तर पर्यायातून शोधा ?



फक्त क्रीडांगण व बाग स्वच्छ करणारे विद्यार्थी किती ?

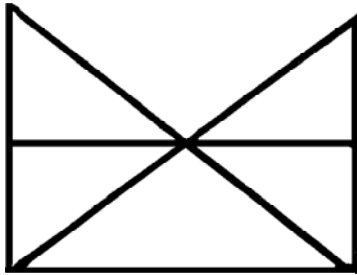
- (1) 3 (2) 7 (3) 6 (4) 5

Space for Rough Work

50. In 2015, Independence Day was on Sunday. On which day 'Literacy Day' will fall in the year 2016?

- (1) Saturday (2) Wednesday (3) Sunday (4) Friday

51. Each of the alternatives given below the figure indicate the number of triangles and quadrilaterals respectively. Observe the figure and choose the correct option.

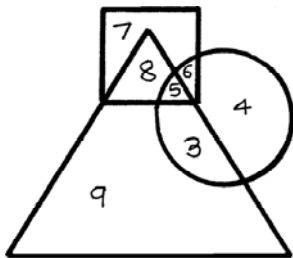


- (1) 11 and 7 (2) 9 and 5 (3) 11 and 5 (4) 11 and 3

52. Which number will replace the question mark in the given number series.
121, 169, 225, 289 ?

- (1) 334 (2) 400 (3) 246 (4) 361

53. In the given Venn diagram the students who clean the ground are shown in the circle, those who clean the garden are shown in the triangle and those who clean the classrooms are shown in the square. Observe the figure and answer the question by choosing the correct alternative.




How many students clean only ground and the garden ?

- (1) 3 (2) 7 (3) 6 (4) 5

Space for Rough Work

अक्षरमाला : ABCDE FGHIJ KLMNO PQRST UVWXYZ

54. दिलेल्या आकृतीत घनाकृती ठोकळे किती ?



(1) 7

(2) 19

(3) 16

(4) 20

प्र. 55 व 56 साठी सूचना : प्रश्नामधील प्रश्नाकृतीची आरशातील प्रतिमा कशी दिसेल ते पर्यायी उत्तर आकृतीमधून निश्चित करा.

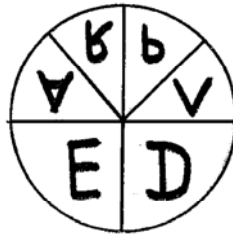
55. प्रश्न-आकृती



उत्तर-आकृत्या



(1)



(2)




(3)



(4)

Space for Rough Work

54. How many cubicle boxes are there in the given figure ?



(1) 7

(2) 19

(3) 16

(4) 20

Q55 and Q56 Direction: Find out the mirror image of each of the following question figure from the alternatives given.

55. Question



Answers



(1)



(2)



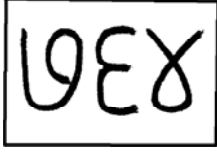
(3)



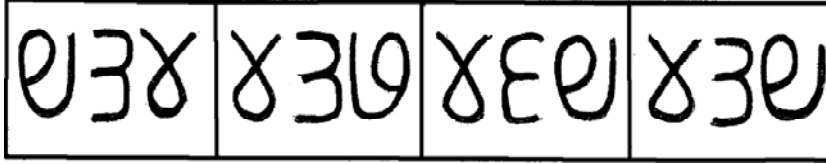
(4)

Space for Rough Work

56. प्रश्न-आकृती



उत्तर-आकृत्या



(1)

(2)

(3)

(4)

57. प्रश्नात दिलेली वेनआकृती कोणत्या पर्यायातील घटकांशी अचूक जुळेल तो पर्याय निवडा.




(1) अन्नघटक, पिष्टमय पदार्थ, गहू

(2) भारत, महाराष्ट्र, कर्नाटक

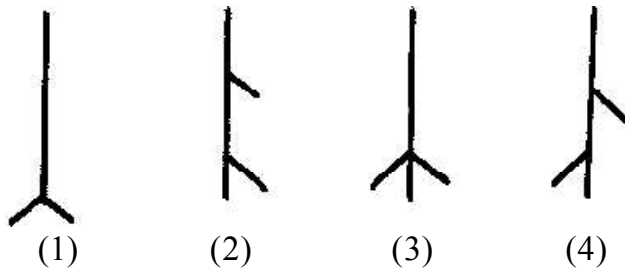
(3) खेळ, क्रिकेट, बॅटबॉल

(4) तेलंगणा, राजस्थान, गोवा

58. खालील आकृत्यांमध्ये विशिष्ट प्रकारचा क्रम आहे तो क्रम ओळखून प्रश्नचिन्हाच्या जागी कोणती आकृती घेईल ते शोधा.



उत्तर-आकृत्या



(1)

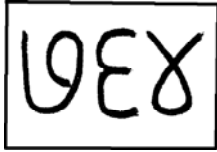
(2)

(3)

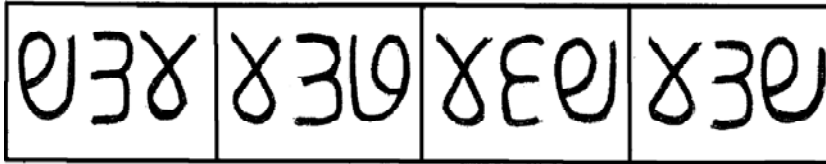
(4)

Space for Rough Work

56. Question

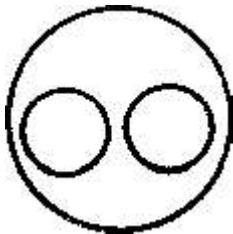


Answers




(1) (2) (3) (4)

57. Select the alternative which will match exactly to the Venn diagram given in the question.

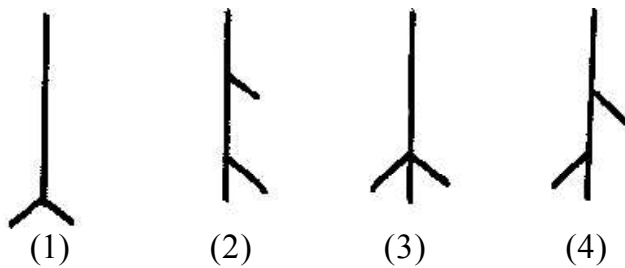


- (1) Components of food, starchy food, Wheat
- (2) India, Maharashtra, Karnataka
- (3) Sport, Cricket, Batball
- (4) Telangana, Rajasthan, Goa

58. In the given figures there is a specific order. Observe the order and find out the figure to replace the question mark.





Answers



(1) (2) (3) (4)

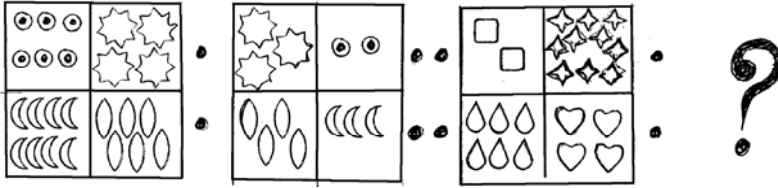
Space for Rough Work

प्र. 59 ते 63 साठी सूचना : पुढील प्रश्नात पहिल्या व दुसऱ्या पदाचा जसा संबंध आहे अगदी तसाच संबंध तिसऱ्या व चौथ्या पदात आहे, तो संबंध शोधा व प्रश्नचिन्हाच्या जागी योग्य पर्याय लिहा.

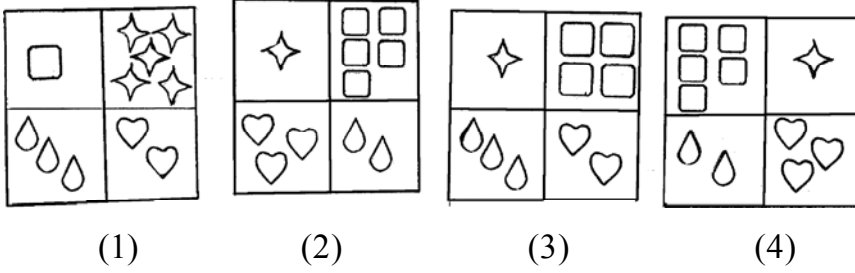
59.  : बंदर :  : ?

- (1) किल्ला (2) दीपगृह (3) हवाईमार्ग (4) खाण

60. प्रश्न-आकृती



उत्तर-आकृत्या



61.  :  : ?

- (1)  (2) 
 (3)  (4) 

62. 8 : 504 :: 6 : ?

- (1) 222 (2) 216 (3) 210 (4) 209

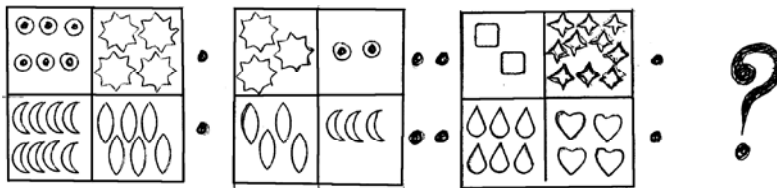
Space for Rough Work

Q59 to Q63 Direction: In the following question the first and second figure have a specific relationship between them. The same relationship exists between the third and the fourth figure. Find the correct figure from the alternatives to replace the question mark.

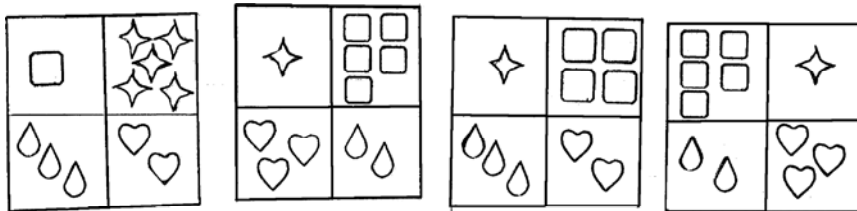


- (1) Fort (2) Light house (3) Airways (4) Mine

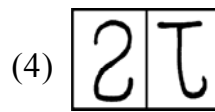
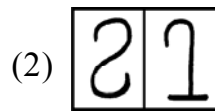
60. Question



Answers



- (1) (2) (3) (4)



62. 8 : 504 :: 6 : ?

- (1) 222 (2) 216 (3) 210 (4) 209

Space for Rough Work

63. 241 : 4124 :: 372 : ?

- (1) 6218 (2) 3214 (3) 6148 (4) 6281

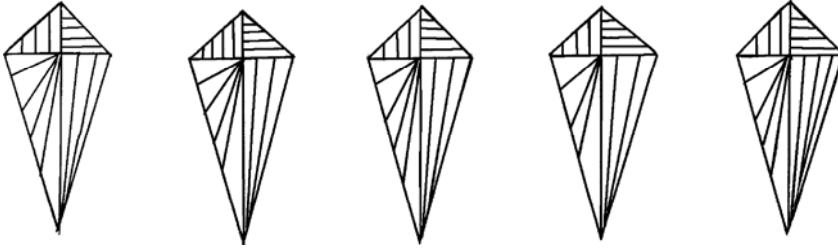
64. 7, 8, 3, 2, 5, 6, 4, 2, 8, 7, 2, 3, 6, 8, 9, 4, 6 वरील संख्यामालेत समअंकानंतर लगत सम अंक व समअंकापूर्वी लगत विषम अंक असे किती वेळा झाले आहे ?

- (1) दोन (2) तीन (3) चार (4) एक

प्र. 65 व 66 साठी सूचना : खालील प्रश्नाकृतीस तंतोतंत जुळणारी आकृती पर्यायांतून शोधा.

65. प्रश्न-आकृती

उत्तर-आकृत्या

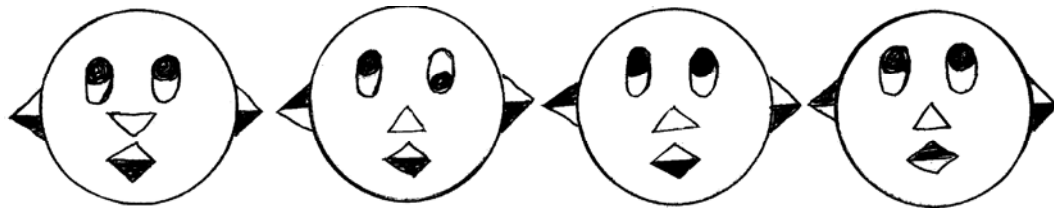


- (1) (2) (3) (4)

66. प्रश्न-आकृती



उत्तर-आकृत्या



- (1) (2) (3) (4)

Space for Rough Work

63. 241 : 4124 :: 372 : ?

- (1) 6218 (2) 3214 (3) 6148 (4) 6281

64. In the given series, how many times even number is preceded by odd number and is immediately followed by an even number

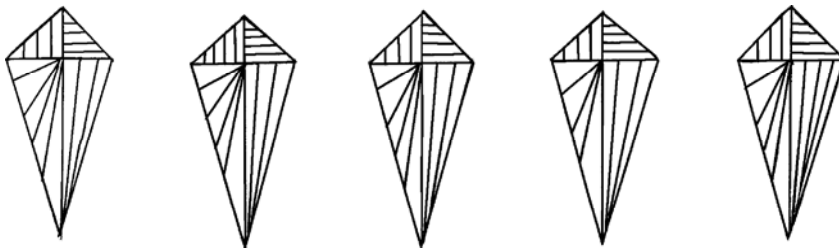
7, 8, 3, 2, 5, 6, 4, 2, 8, 7, 2, 3, 6, 8, 9, 4, 6

- (1) two (2) three (3) four (4) one

Q65 and Q66 Direction: Find out the figures which exactly matches with the question figure from the four alternative figures given below.

65 Question

Answers

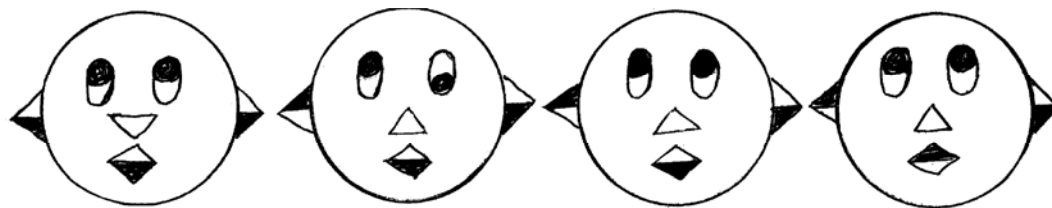


- (1) (2) (3) (4)

66. Question



Answers



- (1) (2) (3) (4)

Space for Rough Work

अक्षरमाला : ABCDE FGHIJ KLMNO PQRST UVWXYZ

67. ABCDE FGHIJ KLMNO PQRST UVWXY

वरील इंग्रजीअक्षरमालेत उजवीकडून 15वे अक्षर कोणते ?

- (1) O (2) L
(3) K (4) P

68. प्रश्नचिन्हाच्या जागी येणाऱ्या संख्येचा पर्याय शोधा व लिहा.

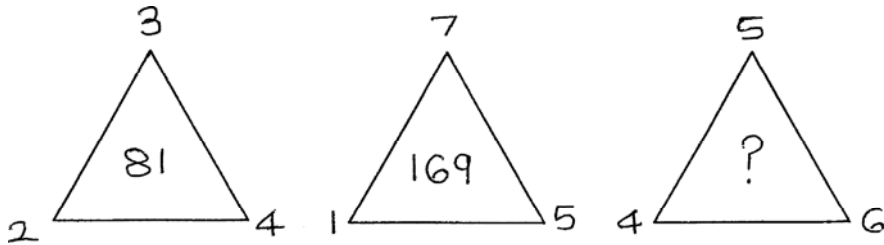
5	3	16
6	4	?
7	2	45

- (1) 25 (2) 10
(3) 61 (4) 20

69. एका सांकेतिक भाषेत 2ला 5 म्हटले, 3ला 4 म्हटले आणि 7ला 9 म्हटले तर $3 + 2 \times 7 =$ किती ?

- (1) 17 (2) 49
(3) 35 (4) 81

70. प्रश्नचिन्हाच्या जागी येणाऱ्या संख्येचा पर्याय शोधा व लिहा.



- (1) 225 (2) 196
(3) 256 (4) 235

Space for Rough Work

Alphabets : ABCDE FGHIJ KLMNO PQRST UVWXYZ

67. ABCDE FGHIJ KLMNO PQRST UVWXY

In the given alphabetical series which is the 15th letter from the right end ?

- (1) O
- (2) L
- (3) K
- (4) P

68. Which number from the alternatives will replace the question mark in the box ?

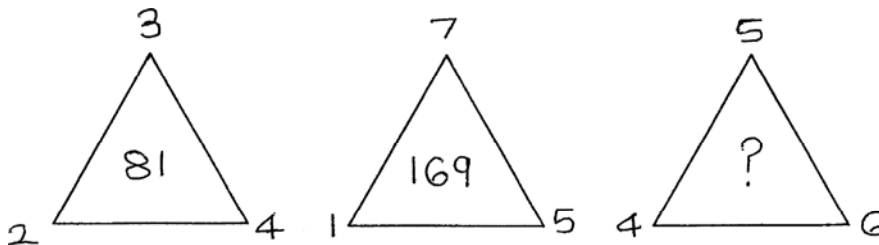
5	3	16
6	4	?
7	2	45

- (1) 25
- (2) 10
- (3) 61
- (4) 20

69. In a code language 2 is called 5, 3 is called 4 and 7 is called 9 then $3 + 2 \times 7 =$ how much ?

- (1) 17
- (2) 49
- (3) 35
- (4) 81

70. Choose the correct option to replace the (?) question mark.



- (1) 225
- (2) 196
- (3) 256
- (4) 235

Space for Rough Work

71. एका सांकेतिक भाषेत पवन = 456, वजन = 542 व नळ = 74, तर 'जळजळ' हा शब्द कसा लिहाल ?
(सूचना : अंक व अक्षरांचा क्रम सारखा असेलच असे नाही)

- (1) 4747 (2) 4444
(3) 2424 (4) 2727

प्र. 72 व 73 साठी सूचना : अक्षर व चिन्हांचा तक्ता पाहून पुढील प्रश्नांची उत्तरे लिहा.

च	ढ	र	व	ग	ह	काना	मावा
☆	□	○	×	△	⊗	=	

72. 'चेहरा' हा शब्द कोणत्या चिन्हांनी दाखवाल ?

- (1) ☆ || ⊗ ○ = (2) ☆ = ⊗ ○ ||
(3) ☆ || ⊗ ○ || (4) ☆ || ○ ⊗ =

73. △ = □ × || या चिन्हांनी कोणता शब्द तयार होतो ?

- (1) गाढव (2) गेढवा
(3) गाढवे (4) गाढेव

74. शिक्षकांनी तुमच्या मित्राच्या निबंधाचे खूप कौतुक केले तर तुम्ही काय कराल ?

- (1) शिक्षकांशी अबोला धरेन (2) मित्राशी बोलणार नाही
(3) मित्राचे अभिनंदन करेन (4) आपलेच निबंधलेखन चांगले आहे असे सर्वांना सांगेन

75. पाणवठा दूषित होऊ नये यासाठी पुढीलपैकी कोणती कृती योग्य ठरेल ?

- (1) पाणवठ्यावर अंघोळ करणे (2) पाणवठ्यावर कपडे न धुणे
(3) पाणवठ्याकाठी शौचासाठी बसणे (4) पाणवठ्यावर जनावरे धुणे

Space for Rough Work

Space for Rough Work