


ಹಿರಿಯ ಪ್ರಾಥಮಿಕ - ಪೂರ್ವ ವಿದ್ಯಾರ್ಥಿವೇತನ ಪರೀಕ್ಷೆ(5ನೆಯ ತರಗತಿ), ಫೆಬ್ರವರಿ 2020

ಆಸನ ಸಂಖ್ಯೆ

--	--	--	--	--	--	--	--	--	--

0	8	0	1
---	---	---	---

ಸೆಟ್



ಪೇಪರ್ ಸಂಖ್ಯೆ: I

ಪುಟಗಳು: 32

ಮಾಧ್ಯಮ: ಕನ್ನಡ ಭಾಷೆ

ಪ್ರಥಮ ಭಾಷೆ ಮತ್ತು ಗಣಿತ

ಸಮಯ: ಮಧ್ಯಾಹ್ನ 11:00 ರಿಂದ 12:30 ವರೆಗೆ

ಒಟ್ಟು ಅಂಕಗಳು: 150

ಪ್ರಶ್ನೆಗಳಿಗೆ ಉತ್ತರಿಸುವ ಮುನ್ನ ನಿಧಾನವಾಗಿ ಸೂಚನೆಗಳನ್ನು ಓದಿಕೊಳ್ಳಿ.

೧. ಈ ಪ್ರಶ್ನೆ ಪತ್ರಿಕೆಯಲ್ಲಿ ಎರಡು ವಿಭಾಗಗಳಿವೆ. ಮೊದಲನೆಯ ವಿಭಾಗದಲ್ಲಿ, ಪ್ರಥಮ ಭಾಷೆಯ 1 ರಿಂದ 25 ಪ್ರಶ್ನೆಗಳು ಇರುತ್ತವೆ ಮತ್ತು ಎರಡನೆಯ ವಿಭಾಗದಲ್ಲಿ ಗಣಿತ ವಿಷಯದ 26 ರಿಂದ 75 ಪ್ರಶ್ನೆಗಳು ಇರುತ್ತವೆ. ಎಲ್ಲಾ 75 ಪ್ರಶ್ನೆಗಳು ಕಡ್ಡಾಯವಾಗಿದೆ.
೨. ಪ್ರತಿಯೊಂದು ಪ್ರಶ್ನೆ 2 ಅಂಕಗಳಿದ್ದಾಗಿದೆ.
೩. ಪ್ರಶ್ನೆ ಪತ್ರಿಕೆಯನ್ನು ಉತ್ತರಿಸಲು ಇರುವ ಸಮಯ 90 ನಿಮಿಷಗಳು ಮಾತ್ರ.
೪. ಉತ್ತರಗಳನ್ನು ಬರೆಯಲು ಒಂದು ಪ್ರತ್ಯೇಕ ಉತ್ತರ ಪತ್ರಿಕೆಯನ್ನು ನೀಡಲಾಗಿದೆ. ಪ್ರತಿಯೊಂದು ಪ್ರಶ್ನೆಗೆ ನಾಲ್ಕು ಪರ್ಯಾಯಗಳನ್ನು ನೀಡಲಾಗಿದೆ. ಅವುಗಳನ್ನು ಗಮನವಿಟ್ಟು ಓದಿಕೊಳ್ಳಿ. ಸರಿಯಾದ ಉತ್ತರವನ್ನು ಆಯ್ಕೆ ಮಾಡಿ, ಉತ್ತರ ಪತ್ರಿಕೆಯಲ್ಲಿ ಅದನ್ನು ಗುರುತು ಹಾಕಿ.
ಉದಾಹರಣೆಗೆ:- ಒಂದುವೇಳೆ ಪ್ರಶ್ನೆ ಸಂಖ್ಯೆ 6 ರ ಸರಿಯಾದ ಪರ್ಯಾಯ 2 ಎಂದಾದರೆ, ನಿಮ್ಮ ಉತ್ತರವನ್ನು ಈ ಕೆಳಗಿನ ರೀತಿಯಾಗಿ ದಾಖಲಿಸಿ:
ಪ್ರಶ್ನೆ ಸಂಖ್ಯೆ 6 - ①●③④
೫. ಯಾವುದೇ ಬೇರೆ ರೀತಿಯಲ್ಲಿ ದಾಖಲಿಸಿದ ಉತ್ತರವನ್ನು ಗಣನೆಗೆ ತೆಗೆದುಕೊಳ್ಳಲಾಗುವುದಿಲ್ಲ. ಆ ರೀತಿಯ ಉತ್ತರಕ್ಕೆ 'ಶೂನ್ಯ' ಅಂಕ ನೀಡಲಾಗುತ್ತದೆ.
೬. ವ್ಯತ್ಯದಲ್ಲಿ ಬಣ್ಣ ತುಂಬಲು ನೀಲಿ ಅಥವಾ ಕಪ್ಪು ಬಾಲ್ ಪೆನ್ ಮಾತ್ರವೇ ಬಳಸಿ. ಪೆನ್ಸಿಲ್ ನಿಂದ ಬಣ್ಣ ತುಂಬಿದ ವ್ಯತ್ಯಗಳಿಗೆ ಅಂಕ ಕೊಡಲಾಗುವುದಿಲ್ಲ.
೭. ಒಂದುವೇಳೆ ಒಂದಕ್ಕಿಂತ ಹೆಚ್ಚಿನ ವ್ಯತ್ಯಗಳಿಗೆ ಬಣ್ಣ ತುಂಬಿದ್ದರೆ ಅಥವಾ ತಿದ್ದುಪಡಿ ಮಾಡಿದ್ದರೆ, ಆ ಉತ್ತರವನ್ನು ಗಣನೆಗೆ ತೆಗೆದುಕೊಳ್ಳಲಾಗುವುದಿಲ್ಲ.
೮. ಒಮ್ಮೆ ಉತ್ತರವನ್ನು ದಾಖಲಿಸಿದ ಮೇಲೆ ಅದನ್ನು ಬದಲಾಯಿಸಲಾಗುವುದಿಲ್ಲ.
೯. ಪ್ರತಿಯೊಂದು ಪುಟದ ಕೆಳಭಾಗದಲ್ಲಿ ಕೊಟ್ಟಿರುವ ಖಾಲಿ ಜಾಗ ಅಥವಾ ಪ್ರಶ್ನೆಪತ್ರಿಕೆಯ ಕೊನೆಯ ಪುಟದಲ್ಲಿ ಮಾತ್ರವೇ ಅಭ್ಯಾಸ ಕೆಲಸ ಮಾಡಬೇಕು.
೧೦. ಪರೀಕ್ಷೆಯ ಅವಧಿ ಸೀಮಿತವಾಗಿರುತ್ತದೆ, ಒಂದುವೇಳೆ ಯಾವುದೇ ಪ್ರಶ್ನೆಯನ್ನು ಉತ್ತರಿಸಲು ನಿಮಗೆ ಸಾಧ್ಯವಾಗದೇ ಇದ್ದಲ್ಲಿ, ದಯವಿಟ್ಟು ಮುಂದಿನ ಪ್ರಶ್ನೆಯತ್ತ ಸಾಗಿ. ನಿಮಗೆ ಕೊನೆಯಲ್ಲಿ ಸಮಯ ಉಳಿದರೆ, ಆ ಪ್ರಶ್ನೆಗಳನ್ನು ಪುನಃ ಉತ್ತರಿಸಲು ಪ್ರಯತ್ನಿಸಬಹುದು.
೧೧. ಒಂದುವೇಳೆ ನಿಮಗೆ ಯಾವುದೇ ಪ್ರಶ್ನೆ ಅಪೂರ್ಣವಾಗಿದೆ ಅಥವಾ ದೋಷವಿದೆ ಎಂದು ತಿಳಿದುಬಂದರೆ, ಆಗ ನಿಮ್ಮ ಮೇಲ್ವಿಚಾರಕರಿಗೆ ಅಥವಾ ಕೇಂದ್ರದ ಮುಖ್ಯಸ್ಥರೊಂದಿಗೆ ಏನನ್ನೂ ಕೇಳಬೇಡಿ.
೧೨. ಯಾವುದೇ ದೋಷ/ ತಪ್ಪು / ಆಕ್ಷೇಪಣೀಯ ವಿಷಯಗಳ ಕುರಿತಾಗಿ ಶಾಲೆ ಅಥವಾ ಪೋಷಕರು ಶಿಕ್ಷಣ ಅಧಿಕಾರಿ ಅಥವಾ ಬ್ಲಾಕ್ ಶಿಕ್ಷಣ ಅಧಿಕಾರಿಗಳಿಗೆ ಲಿಖಿತ ಅರ್ಜಿಯನ್ನು ಸಲ್ಲಿಸಬಾರದು, ಬದಲಾಗಿ ಈ ರೀತಿಯ ದೋಷ/ ತಪ್ಪು/ ಆಕ್ಷೇಪಣೀಯ ವಿಷಯಗಳನ್ನು ಆಯಾ ಶಾಲೆಯ ಲಾಗಿನ್ ಮುಖಾಂತರ ಮಾತ್ರವೇ ಅನ್ವೇಷಿಸಿ ನೋಂದಾಯಿಸಬೇಕು.
೧೩. ಎಂಎಸ್‌ಸಿಇ ವೆಬ್‌ಸೈಟ್‌ನಲ್ಲಿ ಮಧ್ಯಂತರ ಉತ್ತರಗಳನ್ನು ಪ್ರಕಟಿಸಿದ 10 ದಿನಗಳೊಳಗಾಗಿ ದೋಷ / ತಪ್ಪು / ಆಕ್ಷೇಪಣೀಯ ವಿಷಯಗಳನ್ನು ಆನ್‌ಲೈನ್‌ನಲ್ಲಿ ನೋಂದಾಯಿಸಬೇಕು.
೧೪. ತಜ್ಞರ ಸಮಿತಿಯ ಸಲಹೆ ಮತ್ತು ನಿರ್ಧಾರವು ಪ್ರಶ್ನೆ ಪತ್ರಿಕೆಯಲ್ಲಿನ ಮುದ್ರಣ ದೋಷ ಅಥವಾ ಬೇರೆ ಇನ್ನಾವುದೇ ತಪ್ಪುಗಳಿಗೆ ಅನ್ವಯವಾಗುತ್ತದೆ.

SEAL

SECTION-1

ಪ್ರಶ್ನೆ 1 ರಿಂದ 3 ರ ವರೆಗಿನ ಸೂಚನೆ: ಕೆಳಗಿನ ಗದ್ಯಭಾಗವನ್ನು ಓದಿ ಅದರ ಕೆಳಗೆ ಕೆಳಲಾಗಿರುವ ಪ್ರಶ್ನೆಗಳ ಉತ್ತರವನ್ನು ಪರ್ಯಾಯಗಳಿಂದ ಆಯ್ಕೆಮಾಡಿ.

ವಲ್ಲಭಭಾಯಿ ಪಟೇಲರು ಗುಜರಾತ್ ರಾಜ್ಯದ ಪೇಡಾ ಜಿಲ್ಲೆಯ ನಡಿಯಾದ ಎಂಬ ಗ್ರಾಮದಲ್ಲಿ ಕ್ರಿ. ಶ. 1875 ಅಕ್ಟೋಬರ್ 31 ರಂದು ರೈತ ಕುಟುಂಬದಲ್ಲಿ ಜನಿಸಿದರು. ಇವರ ತಂದೆ ರಘುವೇರಭಾಯಿ, ತಾಯಿ ಲಾಡಬಾ. ಕ್ರಿ. ಶ. 1913 ರಲ್ಲಿ ಬ್ಯಾರಿಸ್ಟರ್ ಪರೀಕ್ಷೆ ಪಾಸಾಗಿ ವಕೀಲಿ ವೃತ್ತಿ ಆರಂಭಿಸಿದರು. ಗಾಂಧೀಜಿಯವರ ಮಾತುಗಳಿಂದ ಪ್ರಭಾವಿತರಾಗಿ ಭಾರತದ ಸ್ವಾತಂತ್ರ್ಯ ಚಳವಳಿಗೆ ಭುಮುಕಿದರು. ಬಾಡೋಲಿ ಕರ ನಿರಾಕರಣೆಯ ಸತ್ಯಾಗ್ರಹದಲ್ಲಿ ಸಕ್ರಿಯವಾಗಿ ಪಾಲ್ಗೊಂಡು ರೈತರಿಗೆ ನ್ಯಾಯ ದೊರಕಿಸಿಕೊಟ್ಟರು. ಆಗಲೇ ಅವರು 'ಸರದಾರ' ಎಂದು ಹೆಸರಾದರು.

'ಭಾರತ ದಿಟ್ಟ ತೊಲಗಿ' ಚಳವಳಿಯಲ್ಲಿ ಮಾಡಿದ ಪ್ರಚೋದನಕಾರಿ ಭಾಷಣಗಳಿಂದ ಯರವಾಡಾ ಜೈಲು ಸೇರಿದರು. ಅಲ್ಲಿ ಗಾಂಧೀಜಿಯವರ ಜೊತೆಗೆ 19 ತಿಂಗಳ ಕಾಲ ಕಳೆದು ಅವರ ಪರಮ ಶಿಷ್ಯರಾದರು.

ಕ್ರಿ. ಶ. 1947 ರಂದು ಸ್ವಾತಂತ್ರ್ಯ ಭಾರತದ ಪ್ರಥಮ ಗೃಹ ಮಂತ್ರಿ ಆದರು. ಸ್ವಾತಂತ್ರ್ಯ ಪೂರ್ವದಲ್ಲಿ ಹೆಚ್ಚು ಹೆಚ್ಚು ಭಾರತವನ್ನು ಒಂದುಗೂಡಿಸಿ ಸಂಸ್ಥಾನಗಳನ್ನು ವಿಲೀನಗೊಳಿಸಿ ಎಲ್ಲರನ್ನೂ ಒಂದೇ ಸೂರಿನಡಿಯಲ್ಲಿ ತರಲು ಶ್ರಮಿಸಿದರು. ಅವರನ್ನು 'ವಕ್ರತೆಯ ಮಹಾಶಿಲ್ಪಿ' ಎಂದು ಕರೆಯುವರು.

1. ವಲ್ಲಭಭಾಯಿಯವರು ಯಾವ ಕಾರಣಕ್ಕಾಗಿ 'ಸರದಾರ' ಎಂದು ಹೆಸರಾದರು ?

- | | |
|---|--|
| 1. ಬ್ಯಾರಿಸ್ಟರ್ ಪರೀಕ್ಷೆ ಪಾಸಾಗಿದ್ದರು ಎಂದು | 2. ಜೈಲು ಸೇರಿದ್ದರಿಂದ |
| 3. ಸಂಸ್ಥಾನ ವಿಲೀನಗೊಳಿಸಿದ್ದರಿಂದ | 4. ರೈತರಿಗೆ ನ್ಯಾಯ ದೊರಕಿಸಿ ಕೊಟ್ಟಿದ್ದರಿಂದ |

2. ಪಟೇಲರ ಗುರು ಯಾರು ?

- | | |
|---------------|--------------------|
| 1. ರಘುವೇರಭಾಯಿ | 2. ಗಾಂಧೀಜಿ |
| 3. ನೇತಾಜಿ | 4. ಲೋಕಮಾನ್ಯ ತಿಲಕರು |

3. ವಲ್ಲಭಭಾಯಿಯವರನ್ನು 'ವಕ್ರತೆಯ ಶಿಲ್ಪಿ' ಎಂದು ಏಕೆ ಕರೆಯುವರು ?

- | | |
|-------------------------------------|--------------------------|
| 1. ವಕೀಲಿ ವೃತ್ತಿ ಆರಂಭಿಸಿದ್ದರಿಂದ | 2. ಜೈಲು ಸೇರಿದ್ದರಿಂದ |
| 3. ಸಂಸ್ಥಾನಗಳನ್ನು ವಿಲೀನಗೊಳಿಸಿದ್ದರಿಂದ | 4. ಪ್ರಚೋದನಕಾರಿ ಭಾಷಣಗಳಿಂದ |

SPACE FOR ROUGH WORK

ಪ್ರಶ್ನೆ 4 ರಿಂದ 6 ರ ವರೆಗಿನ ಸೂಚನೆ:

ಕೆಳಗಿನ ಕವಿತೆಯನ್ನು ಓದಿ. ಅದರ ಕೆಳಗೆ ಕೊಟ್ಟಿರುವ ಪ್ರಶ್ನೆಗಳ ಯೋಗ್ಯ ಉತ್ತರಗಳನ್ನು ಪರ್ಯಾಯಗಳಿಂದ ಆರಿಸಿ.

ನಲಿವುಳ್ಳಿ ಹಗೆಯೆಯಲಿ

ಮನ ನಿರ್ಮಲವಾಗಲಿ |

ಕಟ ಕಳೆಯಲಿ ಸಿಹಿ ಬೆಳೆಯಲಿ

ಬಾಳು ಹಸನಾಗಲಿ || 1 ||

ನಡೆ ಹಿತವಿರೆ ನುಡಿ ಮೆಲ್ಲಗೆ

ಶಾಂತಿ ಸಹನೆ ನೆಲೆಸಲಿ |

ಕುಲಭೇದವ ಮರೆ ಮಾಡಲಿ

ನಮ್ಮ ಈ ನಾಡಲಿ || 2 ||

ದುರ್ನಡತೆ ದುರ್ಬುದ್ಧಿಯ

ಕೊಳೆಯಿಲ್ಲವ ತೊಳೆಯಲಿ |

ಒಲವುಳ್ಳಲಿ ಮದ ಮರೆಯಲಿ

ಕೋಮು ಗಲಭೆ ನಿಲ್ಲಲಿ || 3 ||

ರವಿ ಮೂಡಲಿ ಹೂ ಆರಳಲಿ

ನಾವೆಲ್ಲಾ ನಗುತಿರಲಿ |

ಈ ಸಭ್ಯತೆ ಈ ಸಂಸ್ಕೃತಿ

ಸದಾ ಹಸಿರಾಗಲಿ || 4 ||

4. ಬಾಳು ಹಸನಾಗಲು ಏನು ಬೆಳೆಯಬೇಕು ?

- | | |
|---------|----------|
| (1) ಹಗೆ | (2) ಮನ |
| (3) ಕಟ | (4) ಸಿಹಿ |

5. 'ಹೊಲಸು' ಕವಿತೆಯಲ್ಲಿ ಇದರ ಸಮಾನಾರ್ಥಕ ಯಾವುದು ?

- | | |
|----------|-------------|
| (1) ಕೊಳೆ | (2) ನಿರ್ಮಲ |
| (3) ಕಟ | (4) ಅಸಭ್ಯತೆ |

6. ನಾವೆಲ್ಲರೂ ಹೇಗೆ ಇರಬೇಕು ?

- | | |
|-----------------|-----------------|
| (1) ಸದಾ ಹಸನಾಗಿ | (2) ಸದಾ ಆಳುತ್ತಾ |
| (3) ಸದಾ ನಗುತ್ತಾ | (4) ಸದಾ ಹಸಿರಾಗಿ |

SPACE FOR ROUGH WORK

7. 'ಹಸು' ಈ ಶಬ್ದದ ವಿರುದ್ಧವಾಗಿರುವ ಶಬ್ದವನ್ನು ಗುರುತಿಸಿ.

- (1) ಹಸುಗಳು
- (2) ಎಮ್ಮೆ
- (3) ಆಕಳು
- (4) ಎತ್ತು

8. ಗೆರೆ ಹೊಡೆದ ಪದದ ಪ್ರಕಾರ ಜಾತಿಯನ್ನು ಗುರುತಿಸಿ.
'ಓಮಾಲಯ ಪರ್ವತದಲ್ಲಿ ಗೌರಿಶಂಕರ ಆತ್ಮಂಕ ಎತ್ತರವಾದ ಶಿಖರ'.

- (1) ಸರ್ಪನಾಮ
- (2) ನಾಮಪದ
- (3) ವಿಶೇಷಣ
- (4) ಕ್ರಿಯಾವಿಶೇಷಣ

9. 'ಮಗು' ಈ ಪದದ ಬಹುವಚನ ಶಬ್ದವಾವುದು ?

- (1) ಮಕ್ಕಳು
- (2) ಮಗಳು
- (3) ಮಗನು
- (4) ಮೊಮ್ಮಗ

SPACE FOR ROUGH WORK

10. 'ಚಿಲಿವಿಷನ್' ಎಂದರೆ

- (1) ಭ್ರಮಣಧ್ವನಿ
- (2) ದೂರ ಧ್ವನಿ
- (3) ದೂರದರ್ಶನ
- (4) ಆಕಾಶವಾಣಿ

ಪ್ರಶ್ನೆ 11 ರಿಂದ 13 ರವರೆಗೆ ಸೂಚನೆ:
ಕೆಳಗಿನ ಸುಸಂಗತ ಪಂಕ್ತಿಯಿಂದ 3 ವಾಕ್ಯಗಳು ಓದಿ ಮತ್ತು ಪ್ರಶ್ನೆಗಳ ಉತ್ತರಗಳು ಪರ್ಯಾಯಗಳಿಂದ ಆರಿಸಿ.

11. ಭಾರತೀಯರಲ್ಲೂ ಅವರನ್ನು ಎಂದು ಕರೆಯುತ್ತಾರೆ.

- (1) ಲೋಕಮಾನ್ಯ
- (2) ಬಾಪೂಜಿ
- (3) ನೇತಾಜಿ
- (4) ಬಾಬಾಜಿ

12. ಜನಜಾಗೃತಿಗಾಗಿ ಅವರು ಪ್ರಾರಂಭಿಸಿದರು.

- (1) ನವರಾತ್ರೋತ್ಸವ
- (2) ಗಣೇಶೋತ್ಸವ
- (3) ಸ್ವಾತಂತ್ರ್ಯೋತ್ಸವ
- (4) ದಶಮಾನೋತ್ಸವ

SPACE FOR ROUGH WORK

20. ಪವನುಡಿಯ ಯೋಗ್ಯ ಅರ್ಥಕೊಡುವ ಪರ್ಯಾಯ ಆರಿಸಿ.
ಕೈ ಪಾರಿ ಪೋಗು =

- (1) ಅವಕಾಶ ಕಳೆದುಕೊಳ್ಳು
- (2) ನೀರಿನಲ್ಲಿ ಮುಳುಗು
- (3) ಒಡೆದು ಹೋಗು
- (4) ನೆಲದ ಮೇಲೆ ಬೀಳು

21. ಕೆಳಗಿನ ಪದಬಂಧದಲ್ಲಿ ಬರುವ ಯೋಗ್ಯ ಅಕ್ಷರವನ್ನು ಪರ್ಯಾಯಗಳಿಂದ ಆರಿಸಿ.

ಕ	ಆ	
ಕ	ರ	ಮ್
	ಸ	

- (1) ಋ
- (2) ಸ
- (3) ಗ
- (4) ಷ

22. ಅಧಿಪೇಶ, ಅನುಷ್ಠಾ ಅಥವಾ, ಅನಿಕೇಶ ಈ ಶಬ್ದಗಳನ್ನು ವರ್ಣ ಅನುಕ್ರಮವಾಗಿ ಬರೆಯಲಾಗದ ಕೊನೆಯದಾಗಿ ಬರುವ ಶಬ್ದ ಯಾವುದು ?

- (1) ಅನಿಕೇಶ
- (2) ಅಧಿಪೇಶ
- (3) ಅಥವಾ
- (4) ಅನುಷ್ಠಾ

SPACE FOR ROUGH WORK

23. ಧ, ಪ, ದ, ಭಾ, ಸ, ಮಾ, ಈ ಅಕ್ಷರಗಳಿಂದ ಅರ್ಥಪೂರ್ಣ ಶಬ್ದ ತಯಾರಿಸಿದಾಗ ಕೊನೆಯಲ್ಲಿ ಬರುವ ಅಕ್ಷರ ಯಾವುದು ?

- (1) ಭಾ
- (2) ಪ
- (3) ಸ
- (4) ಧ

24. ಕೆಳಗಿನವುಗಳಲ್ಲಿ ಎಷ್ಟು ಪೋಡಿ ಶಬ್ದಗಳು ಯೋಗ್ಯವಾಗಿವೆ ?

ಆಟ-ಪಾಠ, ಮನೆ-ಮಠ, ಘನಕೆ-ಗೌರವ, ಸಾವು-ನೋವು

- (1) 4
- (2) 3
- (3) 2
- (4) 1

25. '.....' ಇವರು ಶಾಲೆ ಪ್ರವೇಶ ಪಡೆದ ದಿನವನ್ನು 'ವಿದ್ಯಾರ್ಥಿ ದಿನ' ಎಂದು ಆಚರಿಸುವರು.

- (1) ಡಾ|| ರಾಧಾಕೃಷ್ಣನ್
- (2) ಡಾ|| ಅಂಬೇಡ್ಕರ್
- (3) ಪಂಡಿತ್ ನೆಹರು
- (4) ಮಹಾತ್ಮ ಗಾಂಧೀಜಿ

SPACE FOR ROUGH WORK

SECTION-II
MATHEMATICS

26. Seventeen lakhs + seventeen hundred + seventeen thousand + seventeen = How much ?
- (1) Seventeen lakhs seventeen thousand seven hundred and seventeen
(2) Seventeen lakhs eighteen thousand seven hundred and seventeen
(3) Seventeen lakhs seventeen thousand eight hundred and seventeen
(4) Seventeen lakhs eighteen thousand eight hundred and seventeen.
27. How many years will be required to double the principle amount of Rs. 5000/- by simple interest at the rate of 4 p.c.p.a. ?
- (1) 50 (2) 5 (3) 15 (4) 20
28. What will be the product of a greatest 5 digit number and 2 digit greatest even number ?
- (1) 98 99 901 (2) 98 99 802
(3) 97 99 804 (4) 97 99 902
29. How many days after Balika din, falls Republic Day ?
- (1) 23 (2) 24 (3) 22 (4) 26
30. Neha's father deposited Rs. 10,000/- on her 1st birthday at the rate of 8 p.c.p.a. in bank. What amount will her father receive on her 6th birthday ?
- (1) Rs. 14000 (2) Rs. 14800 (3) Rs. 15000 (4) Rs. 15800

SPACE FOR ROUGH WORK

SECTION- II
MATHEMATICS

26. ಹದಿನೇಳು ಲಕ್ಷ + ಹದಿನೇಳು ಸಾವಿರ + ಹದಿನೇಳು ಸಾವಿರ + ಹದಿನೇಳು = ಎಷ್ಟು ?
- (1) ಹದಿನೇಳು ಲಕ್ಷ ಹದಿನೇಳು ಸಾವಿರದ ಏಳು ಸಾವಿರ ಹದಿನೇಳು
(2) ಹದಿನೇಳು ಲಕ್ಷ ಹದಿನೇಳು ಸಾವಿರದ ಏಳು ಸಾವಿರ ಹದಿನೇಳು
(3) ಹದಿನೇಳು ಲಕ್ಷ ಹದಿನೇಳು ಸಾವಿರದ ಎಂಟು ಸಾವಿರ ಹದಿನೇಳು
(4) ಹದಿನೇಳು ಲಕ್ಷ ಹದಿನೇಳು ಸಾವಿರದ ಎಂಟು ಸಾವಿರ ಹದಿನೇಳು
27. ಪ್ರ. ವ. ಪ್ರ. ಶೇ 4 ದರದಿಂದ 5000 ರೂ.ಗಳ ಸರಳಬಡ್ಡಿಯು ಅಸಲಿನ ಇಮ್ಮಡಿಯಾಗಲು ಎಷ್ಟು ವರ್ಷಗಳು ಬೇಕಾಗುವವು ?
- (1) 50 (2) 5 (3) 15 (4) 20
28. 5 ಅಂಕಿಯ ಎಲ್ಲಕ್ಕಿಂತ ದೊಡ್ಡ ಸಂಖ್ಯೆಗೆ ಎರಡು ಅಂಕಿಯ ಎಲ್ಲಕ್ಕೂ ದೊಡ್ಡ ಸಮ ಸಂಖ್ಯೆಯಿಂದ ಗುಣಿಸಿದಾಗ ಗುಣಕಾರ ಎಷ್ಟು ಬರುವುದು ?
- (1) 98 99 901 (2) 98 99 802
(3) 97 99 804 (4) 97 99 902
29. ಕಶೋಂ ದಿನದ ನಂತರ ಎಷ್ಟು ದಿನಗಳಿಂದ ಗಣರಾಜ್ಯ ದಿನ ಬರುವುದು ?
- (1) 23 (2) 24 (3) 22 (4) 26
30. ಶ್ರೀಯುಕ್ತ ತಂದೆಯು ಅವಳ ಮೊದಲನೆಯ ಹುಟ್ಟುಹಬ್ಬದ ದಿನದಂದು 10,000 ರೂಪಾಯಿಗಳನ್ನು ಪ್ರ. ವ. ಪ್ರ.ಶೇ. 8 ದರದಿಂದ ಬ್ಯಾಂಕಿನಲ್ಲಿ ಇಟ್ಟರೆ ಅವಳ ಆರನೆಯ ಹುಟ್ಟುಹಬ್ಬ ಅವಳ ತಂದೆಗೆ ಒಟ್ಟು ಎಷ್ಟು ರೂಪಾಯಿಗಳು ದೊರೆಯುವುದು ?
- (1) 14000 (2) 14800 (3) 15000 (4) 15800

SPACE FOR ROUGH WORK

31. 70 Hectograms = How many gms. ?
 (1) 7 (2) 70 (3) 700 (4) 7000
32. 39 students collected Rs. 525 each for picnic. It had 40 notes of Rs. 500 and remaining were Rs. 5 notes.
 How many Rs. 5 notes were there ?
 (1) 95 (2) 25 (3) 45 (4) 85
33. Sunanda Tai earned a profit of Rs. 17000 by the sale of pomegranates. She had spent Rs. 7000 on plantation, Rs. 5000 for pesticides, Rs. 3000 for labour and Rs. 1000 for transportation.
 Then, find the selling price of pomegranates.
 (1) Rs. 23000 (2) Rs. 33000 (3) Rs. 1000 (4) Rs. 13000
34. The breadth of a rectangle is equal to the side of a square whose perimeter is 24 cm. If the perimeter of a rectangle is 28 cm, then what will be its length ?
 (1) 4 cm (2) 6 cm (3) 7 cm (4) 8cm
35. There are chairs from no. XXVII to LXVI in a row at an Auditorium. Then how many chairs are there in the row ?
 (1) 38 (2) 39 (3) 40 (4) 48
36. A number is divided by 15, the quotient is 12 and remainder 0. If the same number is divided by 16, what will be remainder ?
 (1) 180 (2) 4 (3) 6 (4) 14

SPACE FOR ROUGH WORK

31. 70 ಹೆಕ್ಟೋಗ್ರಾಂ = ಎಷ್ಟು ಗ್ರಾಂ ?
 (1) 7 (2) 70 (3) 700 (4) 7000
32. ಪ್ರವಾಸಕ್ಕಾಗಿ ಒಟ್ಟು 39 ವಿದ್ಯಾರ್ಥಿಗಳು ಪ್ರತ್ಯೇಕವಾಗಿ 525 ರೂಪಾಯಿಗಳನ್ನು ಕೂಡಿಸಿದರು. ಅದರಲ್ಲಿ 500 ರೂ. ಗಳ 40 ನೋಟುಗಳು ಮತ್ತು ಉಳಿದವುಗಳ 5 ರೂ. ನೋಟುಗಳಿದ್ದರೆ, ಅದರಲ್ಲಿರುವ '5' ರೂಪಾಯಿಯ ಒಟ್ಟು ನೋಟುಗಳ ಸಂಖ್ಯೆ ಎಷ್ಟು ?
 (1) 95 (2) 25 (3) 45 (4) 85
33. ಸುನಂದಾ ದಾಳಂಬೆಯ ಮಾರಾಟದಿಂದ 17,000 ರೂಪಾಯಿಗಳ ಲಾಭ ಗಳಿಸಿದಳು. ಅವಳು ದಾಳಂಬೆ ಅಗಿ ಹೆಚ್ಚಲು 7,000 ರೂ. ಗಳು, ಕೀಟಧಕ್ಕಾಗಿ 5000 ರೂ. ಗಳು, ಕೂಲಿಗಾಗಿ 3000 ರೂ ಮತ್ತು ಸಾರಿಗೆಗಾಗಿ 1000 ರೂ. ಖರ್ಚು ಮಾಡಿದಳು. ಅವಳು ದಾಳಂಬೆಯನ್ನು ಎಷ್ಟು ರೂಪಾಯಿಗಳಿಗೆ ಮಾರಾಟ ಮಾಡಿದಳು ?
 (1) 23000 ರೂ. (2) 33000 ರೂ. (3) 1000 ರೂ. (4) 13000 ರೂ.
34. 24 ಸೆಂಟಿಮೀಟರ್ ಪರಿಮಿತಿ ಇರುವ ಚೌಕದ ಒಂದು ಭುಜದ ಉದ್ದಳತೆಯನ್ನು ಆಯತದ ಅಗಲವಿದೆ. ಆ ಆಯತದ ಪರಿಮಿತಿ 28 ಸೆಂಟಿಮೀಟರ್ ಇದ್ದರೆ ಆಯತದ ಉದ್ದಳತೆ ಎಷ್ಟು ಇರುತ್ತದೆ ?
 (1) 4 ಸೆಂಟಿಮೀಟರ್ (2) 6 ಸೆಂಟಿಮೀಟರ್ (3) 7 ಸೆಂಟಿಮೀಟರ್ (4) 8 ಸೆಂಟಿಮೀಟರ್
35. ಸಭಾಗೃಹದ ಒಂದು ಸಾಲಿನಲ್ಲಿ XXVII ದಿಂದ LXVI ದ ವರೆಗೆ ಆಸನ ಕ್ರಮಾಂಕಗಳಿದ್ದರೆ ಆ ಸಾಲಿನಲ್ಲಿರುವ ಆಸನಗಳ ಸಂಖ್ಯೆ ಎಷ್ಟು ?
 (1) 38 (2) 39 (3) 40 (4) 48
36. ಒಂದು ಸಂಖ್ಯೆಗೆ 15 ರಿಂದ ಭಾಗಿಸಿದಾಗ ನಿಶೇಷ ಭಾಗ ಹೋಗಿ ಭಾಗಶಫ 12 ಬರುತ್ತದೆ. ಅದೇ ಸಂಖ್ಯೆಗೆ 16 ರಿಂದ ಭಾಗಿಸಿದಾಗ ಬರುವ ಶೇಷ ಎಷ್ಟು ಇರುವುದು ?
 (1) 180 (2) 4 (3) 6 (4) 14

SPACE FOR ROUGH WORK

37. What is the difference between the number with place value of hundred and the number with a place value of one-hundredth in the number 318.43 ?

- (1) 30003 (2) 3003
(3) 300.03 (4) 299.97

38. Rutuja bought 6 kg. wheat at the rate of Rs. 35 per kg., 3 kg. jowar at the rate of Rs. 32 per kg., half kg. tea at the rate of Rs. 280 per kg. She gave a 500 rupee note to the shopkeeper. How many rupees will the shopkeeper return to her ?

- (1) Rs. 446 (2) Rs. 186
(3) Rs. 54 (4) Rs 64

39. Kolhapur–Ahmednagar bus started from Kolhapur with 25 passengers. At Karad, 12 passengers boarded the bus and 4 women got down. At Satara, 16 passengers boarded and 9 got down. At Pune, some passengers got down. If, at Ahmednagar 15 passengers were remaining, how many passengers got down at Pune ?

- (1) 25 (2) 29
(3) 23 (4) 34

40. Which digits will occur in place of □ and Δ, respectively, in the following example ?

$$\begin{array}{r} \square \square \square \\ \times \Delta \Delta \Delta \\ \hline 110889 \end{array}$$

- (1) 3, 3 (2) 1, 9
(3) 0, 9 (4) 4, 5

SPACE FOR ROUGH WORK

37. 318.43 ಸಂಖ್ಯೆಯಲ್ಲಿ ಶತಕ ಸ್ಥಾನದ ಅಂಕ ಮತ್ತು ಶತಾಂಶ ಸ್ಥಾನದ ಅಂಕ, ಇವುಗಳ ಸ್ಥಾನಿಕ ಬೆಲೆಯಲ್ಲಿ ಇರುವ ವ್ಯತ್ಯಾಸವೇನು ?

- (1) 30003 (2) 3003
(3) 300.03 (4) 299.97

38. ರುತುಜಾಳು 35ರೂ. ಪ್ರತಿ ಕಿಲೋ ದರದಿಂದ 6 ಕಿಲೋ ಗೋಧಿ, 32 ರೂ. ಪ್ರತಿ ಕಿಲೋ ದರದಿಂದ 3 ಕಿಲೋ ಜೋಳ ಮತ್ತು 280 ರೂ. ಪ್ರತಿ ಕಿಲೋ ದರದಿಂದ ಅರ್ಧ ಕಿಲೋ ಚಹಾ ಪುಡಿ ಖರೀದಿಸಿ ಅಂಗಡಿಯವನಿಗೆ 500 ರೂ.ಗಳ ನೋಟು ಕೊಟ್ಟಳು. ಅಂಗಡಿಯವನು ಅವಳಿಗೆ ಎಷ್ಟು ರೂ. ಗಳನ್ನು ಮರಳಿ ಕೊಡುವನು ?

- (1) 446 ರೂ. (2) 186 ರೂ.
(3) 54 ರೂ. (4) 64 ರೂ.

39. ಕೊಲ್ಹಾಪುರ - ಅಹಮದ್ ನಗರ ಬಸ್ಸು 25 ಪ್ರವಾಸಿಗರೊಂದಿಗೆ ಬಸ್ಸಿನಲ್ಲಿ ಉಳಿದಿದ್ದಾರೆ. ಕರಾಡ ಬಸ್ ನಿಲ್ದಾಣದಲ್ಲಿ 12 ಪ್ರವಾಸಿಗರು ಬಸ್ಸಿನಲ್ಲಿ ಏರಿದರು ಮತ್ತು ಸಾಲ್ಕಿ ಸ್ತ್ರೀಯರು ಕೆಳಗೆ ಇಳಿದರು. ಸತಾರಾದಲ್ಲಿ 16 ಪ್ರವಾಸಿಗರು ಏರಿದರು ಮತ್ತು 9 ಪ್ರವಾಸಿಗರು ಇಳಿದರು. ಪುನೆಯಲ್ಲಿ ಕೆಲವು ಪ್ರವಾಸಿಗರು ಇಳಿದ ನಂತರ ಅಹಮದ್ ನಗರಕ್ಕೆ 15 ಪ್ರವಾಸಿಗರು ಬಸ್ಸಿನಲ್ಲಿ ಇದ್ದರೆ ಪುನೆಯಲ್ಲಿ ಇಳಿದ ಪ್ರವಾಸಿಗರ ಸಂಖ್ಯೆ ಎಷ್ಟು ?

- (1) 25 (2) 29
(3) 23 (4) 34

40. ಕೆಳಗಿನ ಉದಾಹರಣೆಯಲ್ಲಿ □ ಮತ್ತು Δ ದ ಸ್ಥಳದಲ್ಲಿ ಕ್ರಮವಾಗಿ ಬರುವ ಅಂಕಗಳನ್ನು ಯಾವುವು ?

$$\begin{array}{r} \square \square \square \\ \times \Delta \Delta \Delta \\ \hline 110889 \end{array}$$


- (1) 3, 3 (2) 1, 9
(3) 0, 9 (4) 4, 5







SPACE FOR ROUGH WORK

41. By how much is 5% of 100 less or more than 10% of 10 ?

- (1) More by 4 (2) Smaller by 4
(3) More by 5 (4) Smaller by 5

42. Identify the figure in the series.



- (1)  (2) 
(3)   (4)  

43. Rohit gets a monthly salary of Rs. 18000 per month. He spends $\frac{1}{9}$ th part on petrol, $\frac{4}{9}$ th part for domestic expenses and $\frac{2}{9}$ th part on bank instalment and saves the remaining amount. How much amount does he save ?

- (1) Rs. 2000 (2) Rs. 8000
(3) Rs. 4400 (4) Rs. 9000

44. Netrali purchased $2\frac{1}{2}$ ltr. milk everyday for first 15 days of September. On the remaining days, she purchased $1\frac{1}{2}$ lt. milk at the rate of Rs. 52 per lt. How much did she spend in the month of September ?


- (1) Rs. 1320 (2) Rs. 3120
(3) Rs. 3140 (4) Rs. 2350

SPACE FOR ROUGH WORK

41. 100 ರ ಶೇಖರವು 5, ಇದು 10 ರ ಶೇಖರವು 100 ಕ್ಕಿಂತ ಎಷ್ಟು ಹೆಚ್ಚು ಅಥವಾ ಕಡಿಮೆ ಇದೆ.

- (1) 4 ರಿಂದ ಹೆಚ್ಚು (2) 4 ರಿಂದ ಕಡಿಮೆ
(3) 5 ರಿಂದ ಹೆಚ್ಚು (4) 5 ರಿಂದ ಕಡಿಮೆ

42. ಕ್ರಮದಿಂದ ಬರುವ ಆಕೃತಿ ಬಿಂಬವನ್ನು ಕಂಡು ಹಿಡಿಯಿರಿ ?



- (1)  (2) 
(3)   (4)  

43. ರೋಹಿತ್‌ನಿಗೆ ಪ್ರತಿ ತಿಂಗಳು 18000 ರೂ. ಗಳ ವೇತನ ದೊರೆಯುತ್ತದೆ. ಅದರಲ್ಲಿ ಅವನು $\frac{1}{9}$ ಭಾಗ ಪೆಟ್ರೋಲಿಗಾಗಿ, $\frac{4}{9}$ ಭಾಗ ಮನೆ ಖರ್ಚಿಗಾಗಿ ಮತ್ತು $\frac{2}{9}$ ಭಾಗ ಬ್ಯಾಂಕಿನ ಕಂತುಗಾಗಿ ಖರ್ಚು ಮಾಡಿ ಉಳಿದಂತಹ ಹಣವನ್ನು ಅವನು ಉಳಿತಾಯ ಮಾಡಿದರೆ ಅವನ ಉಳಿತಾಯ ಮಾಡಿದ ಹಣವೆಷ್ಟು ?

- (1) 2000 ರೂ. (2) 8000 ರೂ.
(3) 4400 ರೂ. (4) 9000 ರೂ.

44. ನೇತ್ರಾಲಿಯು ಸೆಪ್ಟೆಂಬರ್ ತಿಂಗಳಲ್ಲಿ ಮೊದಲ 15 ದಿನಗಳವರೆಗೆ ಎರಡೂವರೆ ಲೀಟರ್ ಮತ್ತು ನಂತರದ ದಿನದಂದು ಒಂದೂವರೆ ಲೀಟರ್ ಹಾಲನ್ನು 52 ರೂಪಾಯಿ ಪ್ರತಿ ಲೀಟರ್ ದರದಂತೆ ಖರೀದಿಸಿದರೆ ಅವಳು ತಿಂಗಳಲ್ಲಿ ಹಾಲಿನ ಸಲುವಾಗಿ ಎಷ್ಟು ರೂಪಾಯಿಗಳು ಖರ್ಚು ಮಾಡಿದಳು ?

- (1) 1320 ರೂಪಾಯಿ (2) 3120 ರೂಪಾಯಿ
(3) 3140 ರೂಪಾಯಿ (4) 2350 ರೂಪಾಯಿ

SPACE FOR ROUGH WORK

Question 45 and 46 : Answer the questions based on the pictorial information.

Saplings in the Nursery	No. of saplings
Rose	
Hibiscus	
Champa	
Jasmine	

Scale: 1 picture = 10 saplings

45. How many saplings are there of Hibiscus, champa and Jasmine in all ?
- (1) 70 (2) 80
(3) 90 (4) 110
46. How many more number of saplings are there of Rose and Jasmine than that of Hibiscus ?
- (1) 20 (2) 10
(3) 50 (4) 30
47. $\frac{1}{5}$ of 25 + $\frac{1}{2}$ of 100 = $\frac{1}{5}$ of \square .
- Write the correct number in the box.
- (1) 275 (2) 55
(3) 125 (4) 250

SPACE FOR ROUGH WORK

ಸೂಚನೆ 45 ರಿಂದ 46 : ಕೆಳಗಿನ ಚಿತ್ರರೂಪ ಮಾಹಿತಿಯ ಆಧಾರದಿಂದ ಪ್ರಶ್ನೆಗಳ ಉತ್ತರ ಹುಡುಕಿರಿ.

ಹೂವಾಸಿಯಲ್ಲಿರುವ ಸಸಿಗಳು	ಸಸಿಗಳ ಸಂಖ್ಯೆ
ಗುಲಾಬಿ -	
ಜಾಸ್ಮಿಂದ -	
ಮಲ್ಲಿಗೆ -	
ಮೊಗರಾ -	

ಪ್ರಮಾಣ 1 ಚಿತ್ರ : 10 ಸಸಿಗಳು

45. ಜಾಸ್ಮಿಂದ, ಮಲ್ಲಿಗೆ ಮತ್ತು ಮೊಗರಾದ ಒಟ್ಟು ಸಸಿಗಳು ಎಷ್ಟು ?
- (1) 70 (2) 80
(3) 90 (4) 110
46. ಗುಲಾಬಿ ಮತ್ತು ಮೊಗರಾದ ಸಸಿಗಳ ಸಂಖ್ಯೆ ಜಾಸ್ಮಿಂದದ ಸಸಿಗಳ ಸಂಖ್ಯೆಗಿಂತ ಎಷ್ಟರಿಂದ ಹೆಚ್ಚು ಇದೆ ?
- (1) 20 (2) 10
(3) 50 (4) 30
47. 25 ರ $\frac{1}{5}$ ಪಟ್ಟು + 100 ರ $\frac{1}{2}$ ಪಟ್ಟು = \square ರ $\frac{1}{5}$ ಪಟ್ಟು ಚೌಕಟ್ಟಿನಲ್ಲಿರುವ ಬರುವ ಅಂಕ ಯಾವುದು ?
- (1) 275 (2) 55
(3) 125 (4) 250

SPACE FOR ROUGH WORK

48. What decimal fraction does the shaded portion in the following figure indicate ?



- (1) $\frac{4}{16}$ (2) $\frac{1}{4}$ (3) 0.25 (4) 4.16

49. Aditya was born on Saturday 14th Jul. 2001. What was the day on his eighth birthday ?

- (1) Saturday (2) Monday
(3) Tuesday (4) Wednesday.

50. Which symbols will occur serially in the boxes in the following expression ?

$$6 \square 2 \square 10 \square 5 \square 5 = 48$$

- (1) +, -, x, + (2) x, +, +, - (3) +, x, +, - (4) +, +, x, -

51. What will be the product of the place value of the digit in ten thousands place and the face value of the digit at the thousands place in the number 58279 ?

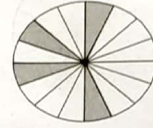
- (1) 1000000 (2) 1000 (3) 10000 (4) 100000

52. Joseph used 20 quires out of 1 Ream for xerox. How many sheets are remaining with him ?

- (1) 24 (2) 0 (3) 12 (4) 480

SPACE FOR ROUGH WORK

48. ಕೆಳಗಿನ ಆಕೃತಿಯಲ್ಲಿ ಕೇವಲಾಂಶ ಮಾಡಿದ ಭಾಗವನ್ನು ಯಾವ ದಶಾಂಶ ಅಪೂರ್ಣಾಂಕ ದರ್ಶಿಸುತ್ತದೆ ?



- (1) $\frac{4}{16}$ (2) $\frac{1}{4}$ (3) 0.25 (4) 4.16

49. ಅದಿತ್ಯನ ಜನ್ಮವು 14, ಜುಲೈ 2001 ಶನಿವಾರ ಆಗಿದ್ದರೆ, ಅವನ ಎಂಟನೆಯ ಹುಟ್ಟುಹಬ್ಬ ಯಾವ ದಿನದಂದು ಬರುವುದು ?

- (1) ಶನಿವಾರ (2) ಸೋಮವಾರ
(3) ಮಂಗಳವಾರ (4) ಬುಧವಾರ

50. ಕೆಳಗೆ ಕೊಟ್ಟಂತಹ ಪದಾವಳಿಯ ಚೌಕಟ್ಟಿನಲ್ಲಿ ಕ್ರಮವಾಗಿ ಬರುವ ಚಿಹ್ನೆಗಳು ಯಾವುವು ?

$$6 \square 2 \square 10 \square 5 \square 5 = 48$$

- (1) +, -, x, + (2) x, +, +, - (3) +, x, +, - (4) +, +, x, -

51. 58279 ಈ ಸಂಖ್ಯೆಯಲ್ಲಿ ದಶ ಸಾವಿರ ಸ್ಥಾನದ ಅಂಕಿಯ ಸ್ಥಾನಿಕ ಬೆಲೆ ಮತ್ತು ಶತಕ ಸ್ಥಾನದ ಅಂಕಿಯ ದಶಸಹಿ ಬೆಲೆ ಇವುಗಳ ಗುಣಕಾರ ಎಷ್ಟು ?

- (1) 1000000 (2) 1000 (3) 10000 (4) 100000

52. ಜೋಸೆಫನು 1 ರಿಮ್ ಕಾಗದಗಳಲ್ಲಿ 20 ದಸ್ತ ಕಾಗದಗಳನ್ನು ಝರಾಲ್ಪೆ ಗಾಗಿ ಉಪಯೋಗಿಸಿದರೆ, ಅವನ ಹತ್ತಿರ ಎಷ್ಟು ಕಾಗದಗಳು ಉಳಿದವು ?

- (1) 24 (2) 0 (3) 12 (4) 480

SPACE FOR ROUGH WORK

53. What is the sum of all divisors of 133 ?

- (1) 134 (2) 145 (3) 160 (4) 151

54. How many meters should be subtracted from $10\frac{1}{2}$ m and $\frac{3}{4}$ m to get $5\frac{1}{2}$ m as remainder ?

- (1) 4.75 m (2) 5.25 m (3) 4.25 m (4) 5.75 m

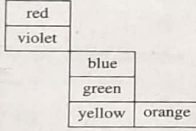
55. In a company, 95 workers work on same salary. The company needs Rs. 807500 per month for their salary. Then how much salary does every worker get ?

- (1) Rs. 9500 (2) Rs. 9400 (3) Rs. 8400 (4) Rs. 8500

56. Of the following, which object will have all its surfaces in square shape ?

- (1) Brick (2) Compass box
(3) Cubical box (4) Match box

57. If the below given figure is folded to make a cube, which colour will not come adjacent to red colour ?



- (1) Blue (2) Orange (3) Yellow (4) Green

SPACE FOR ROUGH WORK

53. 133 ದ ಒಟ್ಟು ವಿಭಾಜಕಗಳ ಬೇರಿನು ಎಷ್ಟು ?

- (1) 134 (2) 145 (3) 160 (4) 151

54. ಹತ್ತೊಂಕು ಮೀಟರು ಮತ್ತು ಮೂಕ್ಕಾಲು ಮೀಟರು, ಇವುಗಳ ಬೇರಿನಲ್ಲಿ ಎಷ್ಟು ಮೀಟರ್ ವಜಾಬಾಕಿ ಮಾಡಲಾಗಿ ಐದೂವರೆ ಮೀಟರ್ ಉಳಿಯುತ್ತದೆ ?

- (1) ನಾಲ್ಕು ಮುಕ್ಕಾಲು (2) ಐದು ಕಾಲು (3) ನಾಲ್ಕು ಕಾಲು (4) ಐದು ಮುಕ್ಕಾಲು

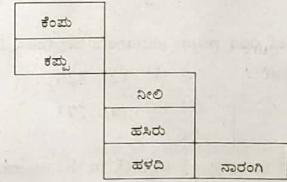
55. ಒಂದು ಕಂಪನಿಯಲ್ಲಿ 95 ಕಾರ್ಮಿಕರು ಸಮಾನ ವೇತನದ ಮೇಲೆ ಕಾರ್ಯ ಮಾಡುತ್ತಿದ್ದು ಅವರ ವೇತನಕ್ಕಾಗಿ ಪ್ರತಿ ತಿಂಗಳು 8,07,500 ರೂಪಾಯಿಗಳು ಖರ್ಚಾಗುತ್ತಿದ್ದರೆ ಪ್ರತಿಯೊಬ್ಬ ಕಾರ್ಮಿಕನ ತಿಂಗಳ ವೇತನವೆಷ್ಟು ?

- (1) 9500 ರೂ. (2) 9400 ರೂ. (3) 8400 ರೂ. (4) 8500 ರೂ.

56. ಕೆಳಗಿನವುಗಳಲ್ಲಿ ಯಾವ ಆಕೃತಿಯ ಎಲ್ಲಾ ಪ್ಲೇಷ್ ಭಾಗಗಳು ಚೌಕಾಕಾರ ಆಗಿರುತ್ತದೆ ?

- (1) ಇಟ್ಟಿಗೆ (2) ಕಂಪಾಸ್ ಪೆಟ್ಟಿಗೆ
(3) ಫನಾಕ್ಯೂರಿ ಡಬ್ಬಿ (4) ಕಡ್ಡಿ ಪೆಟ್ಟಿಗೆ

57. ಕೆಳಗಿನ ಆಕೃತಿಯ ಮಡಿಕೆ ಹಾಕಿ ಘನ ತಯಾರಿಸಿದಾಗ ಕೆಂಪು ಬಣ್ಣದ ಬದಿಗೆ ಯಾವ ಬಣ್ಣ ಬರುವುದಿಲ್ಲ ?



- (1) ನೀಲಿ (2) ನಾರಂಗಿ (3) ಹಳದಿ (4) ಹಸಿರು

SPACE FOR ROUGH WORK

58. For the following fractions, which <, >, = of the signs will be appropriate ?

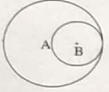
$$\frac{7}{13} \square \frac{13}{7} \square \frac{91}{49}$$

- (1) <, = (2) <, <
(3) >, = (4) <, >

59. Sonali purchased a house at Rs. 37,50,000. She made furniture for the house worth Rs. 7,25,000. At what price should she sell the house to gain a profit of Rs. 5,25,000 ?

- (1) Rs. 5,00,000 (2) Rs. 50,00,000
(3) Rs. 44,75,000 (4) Rs. 49,50,000

60. The diameter of a circle with center B is the radius of circle with center A. What is the length of seg. AB ?



- (1) 3 cm (2) 6 cm
(3) 12 cm (4) 2 cm

61. What is the sum of odd prime numbers between 1 to 50 ?

- (1) 328 (2) 326
(3) 303 (4) 273

62. Dhanesh boarded a train at 11 o'clock in the afternoon, then at what time did he board a train as per 24 hour clock ?

- (1) 11 PM (2) 21 o'clock
(3) 12 o'clock (at night) (4) 23 o'clock

SPACE FOR ROUGH WORK

58. ಕೆಳಗಿನ ಅಪೂರ್ಣಾಂಕದ ಜೋಡಿಯಲ್ಲಿಯ ಚಿಹ್ನೆಗಳಲ್ಲಿ <, >, = ಇವುಗಳಲ್ಲಿ ಯಾವ ಚಿಹ್ನೆಗಳು ಕ್ರಮವಾಗಿ ಬರುತ್ತವೆ ?

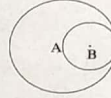
$$\frac{7}{13} \square \frac{13}{7} \square \frac{91}{49}$$

- (1) <, = (2) <, <
(3) >, = (4) <, >

59. ಸೋನಾಲಿಯು ಒಂದು ಮನೆಯನ್ನು 37,50,000 ರೂ. ಗಳಿಗೆ ಖರೀದಿಸಿದಳು. ಅದರಲ್ಲಿ 7,25,000 ರೂಪಾಯಿಗಳಿಗೆ ಫರ್ನಿಚರ್ ಮಾಡಿಸಿದಳು. ಮನೆಯನ್ನು ಅವಳು ಎಷ್ಟು ರೂಪಾಯಿಗಳಿಗೆ ಮಾರಿದರೆ ಅವಳಿಗೆ ಐದು ಕಾಲು ಲಕ್ಷ ರೂಪಾಯಿ ಲಾಭವಾಗುವುದು ?

- (1) 5,00,000 (2) 50,00,000
(3) 44,75,000 (4) 49,50,000

60. 'B' ಕೇಂದ್ರ ಬಿಂದುವಿರುವ ವರ್ತುಲದ ವ್ಯಾಸ 6 ಸೆಂಟಿಮೀಟರ್ ಇದ್ದು 'A' ಕೇಂದ್ರ ಬಿಂದುವಿರುವ ವರ್ತುಲದ ತ್ರಿಜ್ಯವಿದ್ದರೆ ರೇಖೆ AB ಯ ಉದ್ದಳತೆ ಎಷ್ಟು ?



- (1) 3 ಸೆಂಟಿಮೀಟರ್ (2) 6 ಸೆಂಟಿಮೀಟರ್
(3) 12 ಸೆಂಟಿಮೀಟರ್ (4) 2 ಸೆಂಟಿಮೀಟರ್

61. 1 ರಿಂದ 50 ರ ವರೆಗಿನ ವಿಷಮ ಮೂಲ ಸಂಖ್ಯೆಗಳ ಚೇರಿಜು ಎಷ್ಟು ?

- (1) 328 (2) 326
(3) 303 (4) 273

62. ಮಧ್ಯಾಹ್ನೋತ್ತರ 11 ಗಂಟೆಗೆ ಧನೇಶನು ಗಾಡಿಯಲ್ಲಿ ಕುಳಿತರೆ 24 ಗಂಟೆಗಳ ಗಡಿಯಾರಕ್ಕೆ ಅನುಸಾರವಾಗಿ ಅವನು ಎಷ್ಟು ಗಂಟೆಗೆ ಗಾಡಿಯಲ್ಲಿ ಕುಳಿತನು ?

- (1) ಮಧ್ಯಾಹ್ನ 11 ಗಂಟೆಗೆ (2) 21 ಗಂಟೆಗೆ
(3) ರಾತ್ರಿ 12 ಗಂಟೆಗೆ (4) 23 ಗಂಟೆಗೆ

SPACE FOR ROUGH WORK

63. In a school, everyday 70% students out of 2300 perform Suryanamaskar. How many students do not perform Suryanamaskar ?

- (1) 1610 (2) 690
(3) 590 (4) 1410

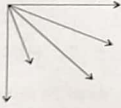
64. By how much a 5 digit greatest number formed using digits 0, 2, 3, 9, 7 only once is greater than a five digit smallest number formed using the same digits ?

- (1) 117699 (2) 94941
(3) 76923 (4) 76941

65. Which number from the given options when divided by 5, 6, 7 will give 4 as remainder ?

- (1) 42 (2) 214
(3) 206 (4) 210

66. How many number of angles are there in the adjacent figure ?



- (1) 10 (2) 9
(3) 8 (4) 7

SPACE FOR ROUGH WORK

63. ಒಂದು ಶಾಲೆಯಲ್ಲಿ 2300 ವಿದ್ಯಾರ್ಥಿಗಳ ಪೈಕಿ 70% ವಿದ್ಯಾರ್ಥಿಗಳು ದಿನಾಲು ಸೂರ್ಯ ನಮಸ್ಕಾರ ಮಾಡುತ್ತಾರೆ ಹಾಗಾದರೆ ಎಷ್ಟು ವಿದ್ಯಾರ್ಥಿಗಳು ಸೂರ್ಯ ನಮಸ್ಕಾರ ಆಸನ ಮಾಡುವುದಿಲ್ಲ ?

- (1) 1610 (2) 690
(3) 590 (4) 1410

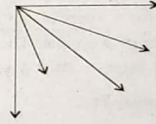
64. 0,2,3,9,7 ಈ ಐದು ಅಂಕಗಳನ್ನು ಉಪಯೋಗಿಸುವ ತಯಾರಾಗುವ ಎಲ್ಲಕ್ಕೂ ದೊಡ್ಡ 5 ಅಂಕಿಯ ಸಂಖ್ಯೆ ಮತ್ತು ಎಲ್ಲಕ್ಕೂ ಚಿಕ್ಕ 5 ಅಂಕಿಯ ಸಂಖ್ಯೆ ಇವುಗಳಲ್ಲಿನ ವ್ಯತ್ಯಾಸ ಎಷ್ಟು ?

- (1) 117699 (2) 94941
(3) 76923 (4) 76941

65. ಕೆಳಗಿನವುಗಳಲ್ಲಿಯ ಯಾವ ಸಂಖ್ಯೆಗೆ 5, 6, 7 ಈ ಸಂಖ್ಯೆಗಳಿಂದ ಭಾಗಿಸಿದಾಗ ಶೇಷ 4 ಉಳಿಯುವುದು ?

- (1) 42 (2) 214
(3) 206 (4) 210

66. ಕೆಳಗಿನ ಆಕೃತಿಯಲ್ಲಿ ಒಟ್ಟು ಕೋನಗಳ ಸಂಖ್ಯೆ ಎಷ್ಟು ?



- (1) 10 (2) 9
(3) 8 (4) 7

SPACE FOR ROUGH WORK

67. Vishwas bought 5 dozen copies at Rs. 10 per copy. 5 copies were found damaged. He sold the remaining copies at Rs. 715. In this transaction, how much profit per copy did he make ?

- (1) Rs. 13 (2) Rs. 3 (3) Rs. 115 (4) Rs. 12

68. $7 \times 5 - 2 \times 3 + 4 = ?$

- (1) 21 (2) 67 (3) 33 (4) 147

69. The capacity of a water tank is 140 l. $\frac{4}{7}$ part of it is filled with water. How many liters of water is required to make it full ?

- (1) 60l. (2) 70l. (3) 80l. (4) 90l.

70. Shrikant drives a vehicle at the speed of 85 km/hr. For how many hours will he have to drive to cover a distance of 595 km, if the speed remains the same ?

- (1) 7 hrs (2) 6 hrs
(3) 8 hrs (4) 5 hrs

71. Deep deposited Rs. 2000 for 4 years at the rate of 8 p.c.p.a. Pari deposited Rs. 4000 for 4 years at the rate of 4 p.c.p.a. Then what will be the relation between the amount that they will receive after 4 years. ?

- (1) Deep will get more than Pari
(2) Deep will get less than Pari
(3) Both will get the same amount
(4) Pari will get more than Deep

SPACE FOR ROUGH WORK

67. ವಿಶ್ವಾಸ 10 ರೂಪಾಯಿಗೆ ಒಂದೆರಂತೆ 5 ಡಜನ್ ಕಪಿ ಕಂಡನು. ಅವುಗಳಲ್ಲಿ ಐದು ಕಪಿಗಳು ಹಾಳಾಗಿದ್ದವು. ಉಳಿದ ಕಪಿಗಳನ್ನು ಅವನು 715 ರೂಪಾಯಿಗಳಿಗೆ ಮಾರಾಟ ಮಾಡಿದಾಗ ಅವನಿಗೆ ಪ್ರತಿಯೊಂದು ಕಪಿಯ ಮೇಲೆ ಎಷ್ಟು ಲಾಭ ದೊರಕಿತು ?

- (1) 13 (2) 3 (3) 115 (4) 12

68. $7 \times 5 - 2 \times 3 + 4 = ?$

- (1) 21 (2) 67 (3) 33 (4) 147

69. ಒಂದು ನೀರಿನ ಹೊದಿನ ಕ್ಷಮತೆ 140 ಲೀಟರ್ ಇದೆ. ಆ ಹೊದಿ $\frac{4}{7}$ ಭಾಗ ನೀರಿನಿಂದ ತುಂಬಿದೆ. ಹೊದಿ ಪೂರ್ಣ ತುಂಬುವ ಸಲುವಾಗಿ ಇನ್ನು ಎಷ್ಟು ಲೀಟರ್ ನೀರಿನ ಅವಶ್ಯಕತೆ ಇದೆ ?

- (1) 60 (2) 70 (3) 80 (4) 90

70. ಶ್ರೀಕಾಂತ್ ಪ್ರತಿ ತಾಸಿಗೆ 85 ಕಿಲೋಮೀಟರ್ ವೇಗದಿಂದ ವಾಹನವನ್ನು ನಡೆಸುವನು. ಅದೇ ವೇಗದಿಂದ 595 ಕಿಲೋಮೀಟರ್ ಅಂತರವನ್ನು ಕ್ರಮಿಸಲು ಅವನಿಗೆ ಎಷ್ಟು ತಾಸುಗಳ ಬೇಕಾಗುವುದು ?

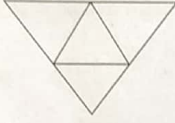
- (1) 7 (2) 6
(3) 8 (4) 5

71. ದೀಪಕನು 2000 ರೂ. ಗಳನ್ನು 4 ವರ್ಷಗಳ ಸಲುವಾಗಿ ಪ್ರ. ವ. ಪ್ರ. ಶೆ 8 ದರದಿಂದ ಬ್ಯಾಂಕಿನಲ್ಲಿ ಇಟ್ಟನು. ಮತ್ತು ಪ್ರೀತಿಯೂ 4000 ರೂ. ನಾಲ್ಕು ವರ್ಷಗಳ ಸಲುವಾಗಿ ಪ್ರ. ವ. ಪ್ರ. ಶೆ 4 ದರದಿಂದ ಬ್ಯಾಂಕಿನಲ್ಲಿ ಇಟ್ಟಳು ಹಾಗಾದರೆ ನಾಲ್ಕು ವರ್ಷಗಳ ನಂತರ ಇಬ್ಬರಿಗೆ ದೊರೆಯುವ ಹಣದಲ್ಲಿರುವ ಸಂಬಂಧ ಯಾವುದು ?

- (1) ದೀಪಕನಿಗೆ ಪ್ರೀತಿಗಿಂತ ಹೆಚ್ಚು ಹಣ ದೊರೆಯುವುದು
(2) ದೀಪಕನಿಗೆ ಪ್ರೀತಿಗಿಂತ ಕಡಿಮೆ ಹಣ ದೊರೆಯುವುದು
(3) ಇಬ್ಬರಿಗೆ ಸಮಾನ ಹಣ ದೊರೆಯುವುದು
(4) ಪ್ರೀತಿಗೆ ದೀಪಕ ಗಿಂತಲೂ ಹೆಚ್ಚು ಹಣ ದೊರೆಯುವುದು

SPACE FOR ROUGH WORK

72. How many number of triangles and squares are formed in the given figure ?



- (1) 4, 2 (2) 5, 5
(3) 5, 6 (4) 4, 4

73. What will be sum of first and last number if 32976, 23976, 32796, 23796 are arranged in ascending order ?

- (1) 56 772 (2) 56 592
(3) 56 952 (4) 56 772

74. How many times $\frac{1}{7}$ should be added to $\frac{1}{7}$ so as to get the answer 7 ?

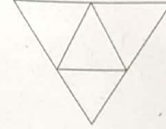
- (1) 49 (2) 48
(3) 7 (4) 14

75. The population of Sakoli village is 1,54,389. 1, 08,457 people have mobiles. How many people do not have mobile ?

- (1) 45,832 (2) 45,932
(3) 45,942 (4) 55,942

SPACE FOR ROUGH WORK

72. ಕೆಳಗಿನ ಆಕೃತಿಯಲ್ಲಿ ಅನುಕ್ರಮವಾಗಿ ಎಷ್ಟು ತ್ರಿಕೋನ ಮತ್ತು ಚೌಕೋನಗಳು ತಯಾರಾಗಿವೆ ?



- (1) 4, 2 (2) 5, 5
(3) 5, 6 (4) 4, 4

73. 32976, 23976, 32796, 23796 ಈ ಸಂಖ್ಯೆಗಳನ್ನು ಏರಿಕೆಯ ಕ್ರಮದಲ್ಲಿ ಬರೆದರೆ ಬರುವ ಮೊದಲನೆಯ ಮತ್ತು ಕೊನೆಯ ಸಂಖ್ಯೆಯ ಬೇರಿನು ಎಷ್ಟು ಬರುವವು ?

- (1) 56 772 (2) 56 592
(3) 56 952 (4) 56 772

74. $\frac{1}{7}$ ದಲ್ಲಿ $\frac{1}{7}$ ಅನ್ನು ಎಷ್ಟು ಸಲ ಕೂಡಿಸಲಾಗಿ ಬೇರಿನು 7 ಬರುವುದು ?

- (1) 49 (2) 48
(3) 7 (4) 14

75. ಸಾಕೋಲಿ ಊರಿನ ಜನಸಂಖ್ಯೆ 1,54,389 ಇದೆ. ಅದರಲ್ಲಿ 1,08,457 ಜನರ ಹತ್ತಿರ ಮೊಬೈಲ್ ಫೋನ್ ಇದೆ. ಹಾಗಾದರೆ ಆ ಊರಿನಲ್ಲಿ ಮೊಬೈಲ್ ಫೋನ್ ಇಲ್ಲದವರ ಜನಸಂಖ್ಯೆ ಎಷ್ಟು ?

- (1) 45,832 (2) 45,932
(3) 45,942 (4) 55,942

SPACE FOR ROUGH WORK

SPACE FOR ROUGH WORK

SEAL