

SECTION-1

తెలుగు

ప్ర. 1 నుండి 3 నూచన : కింది పరిచ్ఛేదాన్ని చదవండి కింద ఇచ్చిన ప్రశ్నలకు సమాధానములు నాలుగు వర్ణయములు ఇవ్వబడినవి సరియైన సమాధానము ఎన్నుకుని దాని వృత్తాన్ని నల్లగా గీయండి.

లక్షలాది గుడ్డివారికి 'కంటిచూపుగా' మారిన, మహోన్నతుడు 'బాయి బ్రెయిల్'. చూపు లేకపోవడంతో, ఈ ప్రపంచాన్ని చూడలేని అంధులకు ఉపయోగపడి ఆరు అక్షరాలతో చదవడానికి, రాయడానికి ఆసుపుగా అద్భుతమైన అక్షరాలను రూపొందించిన వ్యక్తి 'బ్రెయిల్'. పైకి ఉబ్బిత్తుగా ఉండి పేలితో తాకుచు చదవడానికి వీలైన రీతిలో తీర్చిదిద్దిన విధానాన్ని ప్రపంచవ్యాప్తంగా 'బ్రెయిల్ లిపిగా' పరిగణిస్తున్నారు, 1809 జనవరి 4 న ఫ్రాన్స్ దేశంలోని పారిస్ క్యూపీ ఆఫ్ గ్రామంలో జన్మించాడు.

బ్రెయిల్ ప్రమాదవశాత్తు చిన్నతనంలోనే చూపు కోల్పోయి పూర్తిగా అంధుడయ్యాడు, అయినా విద్యపై మక్కువతో అక్కడ పాఠశాలకు వెళ్ళేవాడు బ్రెయిల్ ఆసక్తిని గమనించిన తండ్రి చిన్న మేకులను చెక్కపై అక్షరాలాగా గుచ్చి బాయి చేతులతో తడిమి చదవించేవాడు. బ్రెయిల్ గ్రహాణశక్తికి మెచ్చిన ఉపాధ్యాయుల చొరవతో స్కాలర్షిప్ కు ఎంపిక కావడం ఆయన జీవితాన్ని మలుపు తిప్పింది. 17 సంవత్సరాలకి బాయి తాను చదివిన పాఠశాలలోనే ఉపాధ్యాయుడుగా చేరాడు ఛార్లెయిస్ బార్నియెన్ ఆఫ్ సైనికాధికారి పరిచయంతో సైనికులు రాత్రిపూట సమాచారాన్ని తెలుసుకునేందుకు ఉపయోగించే 12 ఉబ్బిత్తు చుక్కలతో కూడిన పద్ధతిని బ్రెయిల్ తెలుసుకున్నాడు. అదే పద్ధతిలో అంధులకు కూడా ప్రత్యేక లిపిని తయారు చేయటం ప్రారంభించాడు. అదే ఆ ఆరు చుక్కలతో తయారైనదే బ్రెయిల్ లిపి.

1. 'బాయి బ్రెయిల్' ఎప్పుడు జన్మించాడు ?
 (1) 1808 ఫిబ్రవరి 4 న (2) 1809 డిసెంబర్ 5 న
 (3) 1810 ఏప్రిల్ 6 న (4) 1809 జనవరి 4 న
2. బ్రెయిల్ లిపి ఎన్ని చుక్కలతో తయారైనది ?
 (1) పన్నెండు (2) ఆరు
 (3) ఏడు (4) నాలుగు
3. బ్రెయిల్ ఆసక్తిని గమనించినది ఎవరు ?
 (1) అక్క (2) సైనికాధికారి
 (3) తండ్రి (4) బాయి

SPACE FOR ROUGH WORK

ప్ర. 4 నుండి 6 కు సూచన: కింది గీయాన్ని జాగ్రత్తగా చదివి కింద ఇవ్వబడిన ప్రశ్నలకు సరియైన సమాధానాన్ని గుర్తించి పర్యాయము క్రమ సంఖ్య యొక్క వృత్తాన్ని రంగరించండి.

నివారించు నివారించు
 నీ పరిసర కాలవ్యం
 లేకుంటే చెడిపోవును
 ఆవరణ ఆవశ్యం

ఇల్లు మాత్రమే కాదు
 ఇరుపైపుల విధులను
 శుభ్రపరచుకోవాలి
 సుందరముగ నింపాలి

జనులకు అత్యవసరమగు
 గాలి నీటి సన్నిటిని
 కాలవ్యం నుండి మనం
 కాపాడుట సర్వాలి

పట్టుపు ద్వని కాలవ్యం
 పల్లెల జల కాలవ్యం
 సత్కరం నివారించు
 పరిసరాలు రక్షించు

4. దీన్ని నివారించాలి ?
 (1) శుభ్రత (2) ఇల్లు (3) ఆవరణ (4) కాలవ్యం
5. పట్టుంలో ఎక్కువగా ఏ కాలవ్యం ఉంటుంది ?
 (1) ద్వని కాలవ్యం (2) జల కాలవ్యం
 (3) వాయుకాలవ్యం (4) ఏదీ కాదు
6. 'ఆవశ్యం' అనే పదానికి సరియైన అర్థమును గుర్తించండి ?
 (1) స్థలము (2) అందము
 (3) పెంటనే (4) గాలి

SPACE FOR ROUGH WORK

7. కాయ చెట్టు మీద నుండి భూమి మీద పడింది ?
పై వాక్యంలో గీత గీచిన పదం ఏ భాషా భాగానికి చెందినది?

- (1) సర్వనామము
- (2) విశేషణం
- (3) క్రియ
- (4) నామవాచకము

8. కింది పదాలలో ఏకవచన పదం ఏది గుర్తించండి ?

- (1) చెట్టు
- (2) పందిం
- (3) ఆకులు
- (4) క్రీడాకారులు

9. కింది వాక్యాలలో సంయుక్త వాక్యమును గుర్తించండి ?

- (1) శివయ్య పరిసరాలు శుభ్రం చేయించాడు మరియు నీరు నిల్వ ఉండకుండా , కాలువలు త్రవ్వించాడు
- (2) పరిసరాలు చాలా ఆపరిశుభ్రంగా ఉన్నాయి
- (3) గాలి వెలుతురు వచ్చేలా ఇంటికి పెద్ద కిటికీలు పెట్టించాడు
- (4) బీర్బల్ సభలో ప్రవేశించాడు

SPACE FOR ROUGH WORK

10. కింద ఇచ్చిన వాక్యము ఏ కాలమునకు చెందినది ?

గురువు శిష్యులతో ప్రయాణం సాగిస్తున్నారు

- (1) భూతః కాలము
- (2) భవిష్యత్ కాలము
- (3) వర్తమాన కాలము
- (4) తద్దర్మ కాలము

11. కింద ఇచ్చిన పదాలలో ఆమహాద్వాచక పదమును గుర్తించండి ?

- (1) పుస్తకము
- (2) రాముడు
- (3) ఆమె
- (4) రాధ

12. నీవు ఎప్పుడైనా ఎవరికైనా సహాయం చేసావా ? ఎవరికి చేసావు ?

పై వాక్యంలో ఎన్ని విరామ చిహ్నములు ఉన్నాయి ?

- (1) రెండు
- (2) మూడు
- (3) నాలుగు
- (4) ఒకటి

SPACE FOR ROUGH WORK

ప్ర. 13 నుండి 14 సూచన : కింది సంభాషణను చదివి కింద ఇచ్చిన ప్రశ్నలకు సరియైన సమాధానమును గుర్తించి దాని , క్రమసంఖ్య ఎదురుగా ఉన్న వృత్తాన్ని రంగారించండి.

(ఉపాధ్యాయుడు తరగతి గదిలోనికి ప్రవేశిస్తారు)

ఉపాధ్యాయుడు : పిల్లలూ ! బాలల దినోత్సవం ఏర్పాటు ఎంత దూరం వచ్చాయి ?
 మేరి : మేమందరం కలిసి తరగతి గదిని అలంకరించము.
 ఉపాధ్యాయుడు : శభాష్ ! మీరంతా చాలా చురుకైన వారు చక్కగా అలంకరించారు.
 శ్రవణ్ : ఇంకా ఏం చేయాలో చెప్పండి సార్.
 ఉపాధ్యాయుడు : నేను ఏహ్యూగారి ఫోటో ఇస్తాను. బల్ల మీద పెట్టి పూలమాల వేయి.
 లక్ష్మి : సార్ ఈ వండగని ఎందుకు చేసుకుంటాం ?
 ఉపాధ్యాయుడు : మన స్వాతంత్ర్య భారతదేశానికి తొలి ప్రధాన మంత్రి అయిన పండిత్ జవహర్ లాల్ నెహ్రూ జన్మదినాన్ని మనం బాలల దినోత్సవంగా జరుపుకుంటాం.

13. పై సంభాషణలో ఎందరు పాల్గొన్నారు ?

- (1) ముగ్గురు (2) ఇద్దరు (3) ఏడుగురు (4) నలుగురు

14. పండిత్ జవహర్ లాల్ నెహ్రూ గారి జన్మదినాన్ని మనం ఏ దినోత్సవంగా జరుపుకుంటాము ?

- (1) కార్మికుల దినోత్సవం (2) ఉపాధ్యాయ దినోత్సవం
 (3) మహిళా దినోత్సవం (4) బాలల దినోత్సవం

15. 'కాకి పిల్ల కి ముద్దు' ఈ సామెతను పూర్తి చేయండి ?

- (1) చిలుక (2) కాకి (3) పాపురం (4) కోకిల

16. 'స్పృన్' అనే పదానికి తిలుగు భాషలో పద్యయవదంబు గుర్తించండి ?

- (1) కార్యక్రమము (2) నొక్కడం
 (3) తిర (4) బాణం గుర్తు

SPACE FOR ROUGH WORK

0701 / Telugu Set-A 6 of 32 P.T.O.

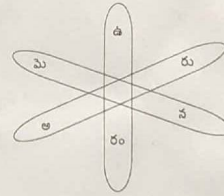
17. మేకల సమూహాన్ని ఏమంటారు ?

- (1) మేకల గుత్తి
 (2) మేకల గుంపు
 (3) మేకల మంద
 (4) మేకల ఆత్మము

18. 'వ్రగతి' అనే పదానికి సరియైన అర్థమును గుర్తించండి.

- (1) అభివృద్ధి
 (2) కానుక
 (3) గుర్తు
 (4) ప్రార్థించు

19. కింది గడనుడిని పూరించండి ?



- (1) కి (2) ల (3) జ (4) త్త

SPACE FOR ROUGH WORK

0701 / Telugu Set-A 7 of 32 P.T.O.

20. కింది వ్యతిరేక జతలలో సరియైన జతను గుర్తించండి.

- (1) ఆరోగ్యము × ఆనారోగ్యము
- (2) ఎక్కువ × పెద్దది
- (3) సంతోషం × ఆనందం
- (4) ఎత్తు × నై ఎత్తు

21. 'లోకము' వదానికి సరియైన సర్వాయ వదాన్ని గుర్తించండి ?

- (1) ఇల్లు
- (2) జగత్తు
- (3) పట్టణం
- (4) మానవులు

22. కింది వర్ణయములో సరికాని జంట వదమును గుర్తించండి ?

- (1) తల్లిదండ్రులు
- (2) పుస్తకము కుర్చీ
- (3) పాడివంటలు
- (4) అన్నదమ్ముళ్లు

SPACE FOR ROUGH WORK

23. 'డు ళ్నా దు న ను' అక్షరాలను కలిపి అర్థవంతమైన వదం తయరు చేయండి ?

- (1) సళ్ళాదనుడు
- (2) నునడుళ్ళాడు
- (3) దుళ్ళాననుడు
- (4) డుళ్ళాననుడు

24. తిలుగు సంవత్సరాలు ఎన్ని ?

- (1) 60
- (2) 30
- (3) 20
- (4) 12

25. భారతదేశంలో పొరుగుకు అందే అత్యుత్తమ పురస్కారం ఏది ?

- (1) పద్మశ్రీ
- (2) భారత రత్న
- (3) ఆర్డర్ ఆఫ్ అచార్య
- (4) పద్మ విభూషణ్

SPACE FOR ROUGH WORK

SECTION-II
MATHEMATICS

26. Seventeen lakhs + seventeen hundred + seventeen thousand + seventeen = How much ?
- (1) Seventeen lakhs seventeen thousand seven hundred and seventeen
(2) Seventeen lakhs eighteen thousand seven hundred and seventeen
(3) Seventeen lakhs seventeen thousand eight hundred and seventeen
(4) Seventeen lakhs eighteen thousand eight hundred and seventeen.
27. How many years will be required to double the principle amount of Rs. 5000/- by simple interest at the rate of 4 p.c.p.a. ?
- (1) 50 (2) 5 (3) 15 (4) 20
28. What will be the product of a greatest 5 digit number and 2 digit greatest even number ?
- (1) 98 99 901 (2) 98 99 802
(3) 97 99 804 (4) 97 99 902
29. How many days after Balika din, falls Republic Day ?
- (1) 23 (2) 24 (3) 22 (4) 26
30. Neha's father deposited Rs. 10,000/- on her 1st birthday at the rate of 8 p.c.p.a. in bank. What amount will her father receive on her 6th birthday ?
- (1) Rs. 14000 (2) Rs. 14800 (3) Rs. 15000 (4) Rs. 15800

SPACE FOR ROUGH WORK

SECTION-II
MATHEMATICS

26. పదిహేడు లక్షలు + పదిహేడు వందలు + పదిహేడు వేలు + పదిహేడు = ఎంత?
- (1) పదిహేడు లక్షల పదిహేడు వేల ఏడువందల పదిహేడు
(2) పదిహేడు లక్షల పదినిమిది వేల ఏడువందల పదిహేడు
(3) పదిహేడు లక్షల పదిహేడు వేల ఎనిమిది వందల పదిహేడు
(4) పదిహేడు లక్షల పదినిమిది వేల ఎనిమిది వందల పదిహేడు
27. సొ. నికి 4 శాతం రేటున రూ 5000 లకు వడ్డీ ఆసలుకు రెట్టింపు కావడానికి ఎన్ని సంవత్సరాలు పట్టును?
- 1) 50 (2) 5
3) 15 (4) 20
28. 5 అంకెల ఆతిపెద్ద సంఖ్యకు '2' అంకెల ఆతిపెద్ద సరి సంఖ్యతో గుణించినచో లబ్ధం ఎంత వచ్చును?
- 1) 98 99 901 (2) 98 99 802
3) 97 99 804 (4) 97 99 902
29. బాలిక దినోత్సవము తర్వాత ఎన్ని రోజులకు గణతంత్రదినోత్సవము వచ్చును?
- 1) 23 (2) 24
3) 22 (4) 26
30. నేహా వాళ్ళ తండ్రి ఆమె మొదటి పుట్టినరోజుకు రూ 10000 లు సంవత్సరానికి 8 శాతం రేటున బ్యాంకులో జమ చేసేను. అయిన ఆమె ఆరవ పుట్టినరోజుకు ఆమె తండ్రికి మొత్తం ఎన్ని రూపాయలు లభించును?
- (1) 14000 (2) 14800 (3) 15000 (4) 15800

SPACE FOR ROUGH WORK

31. 70 Hectograms = How many gms. ?

- (1) 7 (2) 70 (3) 700 (4) 7000

32. 39 students collected Rs. 525 each for picnic. It had 40 notes of Rs. 500 and remaining were Rs. 5 notes.

How many Rs. 5 notes were there ?

- (1) 95 (2) 25 (3) 45 (4) 85

33. Sunanda Tai earned a profit of Rs. 17000 by the sale of pomegranates. She had spent Rs. 7000 on plantation, Rs. 5000 for pesticides, Rs. 3000 for labour and Rs. 1000 for transportation.

Then, find the selling price of pomegranates.

- (1) Rs. 23000 (2) Rs. 33000 (3) Rs. 1000 (4) Rs 13000

34. The breadth of a rectangle is equal to the side of a square whose perimeter is 24 cm. If the perimeter of a rectangle is 28 cm, then what will be its length ?

- (1) 4 cm (2) 6 cm (3) 7 cm (4) 8cm

35. There are chairs from no. XXVII to LXVI in a row at an Auditorium. Then how many chairs are there in the row ?

- (1) 38 (2) 39 (3) 40 (4) 48

36. A number is divided by 15, the quotient is 12 and remainder 0. If the same number is divided by 16, what will be remainder ?

- (1) 180 (2) 4 (3) 6 (4) 14

SPACE FOR ROUGH WORK

31. 70 హెక్టోగ్రాములు = ఎన్ని గ్రాములు ?

- (1) 7 (2) 70 (3) 700 (4) 7000

32. విహారయాత్ర కొరకు 39 మంది విద్యార్థులు ప్రతి ఒక్కరు 525 రూ జమ చేశారు. అందులో 500 రూపాయలవి 40 నోట్లు మరియు మిగిలినవి 5 రూపాయల నోట్లు ఉండెను. అయితే అందులో 5 రూపాయల నోట్లు ఎన్ని ఉండెను?

- (1) 95 (2) 25 (3) 45 (4) 85

33. సునంద దానిమ్మ పళ్ళ యొక్క అమ్మకం నుండి 17000 రూ లాభం పొందింది. ఆమె దానిమ్మ పండ్ల విత్తనాలు నాటడానికి 7000 రూ, మందులు వల్లడానికి 5000 రూ కూలీలకు 3000 రూ మరియు రవాణా కొరకు 1000 రూ ఖర్చు చేసింది. అయితే దానిమ్మ పండ్ల యొక్క మొత్తం అమ్మిన వేల ఎంత?

- (1) 23000 రూ (2) 33000 రూ (3) 1000 రూ (4) 13000 రూ

34. '24' సెం.మీ చుట్టుకొలత గల చతురస్రం యొక్క ఒక భుజం అంతే దీర్ఘచతురస్రం యొక్క వెడల్పు ఉంది. దీర్ఘచతురస్రం యొక్క చుట్టుకొలత 28 సెం.మీ ఉన్నట్లయితే దీర్ఘచతురస్రం యొక్క ఎత్తు ఎంత ఉండును?

- (1) 4 సెం.మీ (2) 6 సెం.మీ (3) 7 సెం.మీ (4) 8 సెం.మీ

35. సభాగృహములో ఒక వరుసలో XXVII నుండి LXVI వరకు సీట్ల సంఖ్య ఉన్నాయి. అయితే ఆ వరుసలో మొత్తం ఎన్ని సీట్లు ఉన్నాయి?

- (1) 38 (2) 39

- (3) 40 (4) 48

36. ఒక సంఖ్యను 15 తో భాగించినచో నిశ్శేషంగా భాగించబడి భాగఫలం 12 వచ్చును. అదే సంఖ్యను 16 చే భాగించినట్లయితే శేషము ఎంత వచ్చును?

- (1) 180 (2) 4

- (3) 6 (4) 14

SPACE FOR ROUGH WORK

37. What is the difference between the number with place value of hundred and the number with a place value of one-hundredth in the number 318.43 ?

- (1) 30003 (2) 3003
(3) 300.03 (4) 299.97

38. Rutuja bought 6 kg. wheat at the rate of Rs. 35 per kg., 3 kg. jowar at the rate of Rs. 32 per kg., half kg. tea at the rate of Rs. 280 per kg. She gave a 500 rupee note to the shopkeeper. How many rupees will the shopkeeper return to her ?

- (1) Rs. 446 (2) Rs. 186
(3) Rs. 54 (4) Rs. 64

39. Kolhapur–Ahmednagar bus started from Kolhapur with 25 passengers. At Karad, 12 passengers boarded the bus and 4 women got down. At Satara, 16 passengers boarded and 9 got down. At Pune, some passengers got down. If, at Ahmednagar 15 passengers were remaining, how many passengers got down at Pune ?

- (1) 25 (2) 29
(3) 23 (4) 34

40. Which digits will occur in place of □ and Δ, respectively, in the following example ?

$$\begin{array}{r} \square \square \square \\ \times \Delta \Delta \Delta \\ \hline 110889 \end{array}$$

- (1) 3, 3 (2) 1, 9
(3) 0, 9 (4) 4, 5

SPACE FOR ROUGH WORK

37. 318.43 ఈ సంఖ్యలోని వందల స్థానం యొక్క అంకె మరియు శతాంశ స్థానం యొక్క అంకె వీటి స్థానిక విలువలో ఎంత భేదం ఉంది?

- (1) 30003 (2) 3003
(3) 300.03 (4) 299.97

38. పూజ 35 రూ. లకు ప్రతి కిలో ధర తో 6 కిలో. గ్రాముల గోధుమలు, 32 రూ. లకు ప్రతి కిలో ధర తో 3 కిలో. గ్రాముల జొన్నలు మరియు 280 రూ. లకు ప్రతి కిలో ధరతో అరకిలో కందిపప్పు కొనెను. ఆ దుకాణదారునికి 500 రూ.ల నోటు ఇచ్చింది. అయిన దుకాణదారుడు ఆమెకు ఎన్ని రూపాయలు తిరిగి ఇవ్వవలెను ?

- (1) 446 రూ (2) 186 రూ
(3) 54 రూ (4) 64 రూ

39. కొల్హాపూర్ - అహమద్నగర్ బస్సు 25 మంది ప్రయాణికులను తీసుకుని, కొల్హాపూర్ నుండి బయలుదేరింది. కరాడ్ వద్ద 12 మంది ప్రయాణికులు బస్సులో ఎక్కినారు మరియు నలుగురు స్త్రీలు దిగినారు. సతారాలో 16 మంది ప్రయాణికులు బస్సు ఎక్కినారు, మరియు 9 మంది దిగినారు. పూణేలో కొందరు ప్రయాణికులు బస్సు దిగిన తర్వాత అహమద్నగర్ కు 15 మంది ప్రయాణికులు మిగిలినారు, అయిన పూణేలో ఎంత మంది ప్రయాణికులు బస్సు దిగిరి?

- (1) 25 (2) 29
(3) 23 (4) 34

40. కింది ఉదాహరణలో □ మరియు Δ యొక్క స్థానంలో అనుక్రమంగా ఏ అంకెలు వచ్చును?

$$\begin{array}{r} \square \square \square \\ \times \Delta \Delta \Delta \\ \hline 110889 \end{array}$$

- (1) 3, 3 (2) 1, 9
(3) 0, 9 (4) 4, 5

SPACE FOR ROUGH WORK

41. By how much is 5% of 100 less or more than 10% of 10 ?

- (1) More by 4 (2) Smaller by 4
(3) More by 5 (4) Smaller by 5

42. Identify the figure in the series.



- (1) (2)
(3) (4)

43. Rohit gets a monthly salary of Rs. 18000 per month. He spends $\frac{1}{9}$ th part on petrol, $\frac{4}{9}$ th part for domestic expenses and $\frac{2}{9}$ th part on bank instalment and saves the remaining amount. How much amount does he save ?

- (1) Rs. 2000 (2) Rs. 8000
(3) Rs. 4400 (4) Rs. 9000

44. Netrali purchased $2\frac{1}{2}$ ltr. milk everyday for first 15 days of September. On the remaining days, she purchased $1\frac{1}{2}$ lt. milk at the rate of Rs. 52 per lt. How much did she spend in the month of September ?

- (1) Rs. 1320 (2) Rs. 3120
(3) Rs. 3140 (4) Rs. 2350

SPACE FOR ROUGH WORK

41. 100 కు 5 శాతం ఇది 10% కి 10 కన్నా ఎంత చిన్నది లేదా పెద్దది ?

- (1) 4 పెద్దం (2) 4 చిన్నం
(3) 5 పెద్దం (4) 5 చిన్నం

42. క్రమంలో వచ్చు ఆకృతిని గుర్తించండి.



- (1) (2)
(3) (4)

43. రోహిత్ కు ప్రతి నెల 18000 రూపాయల వేతనం లభించును. అందులో $\frac{1}{9}$ వంతు పెట్రోలుకు, $\frac{4}{9}$ వంతు ఇంటి ఖర్చుకు మరియు $\frac{2}{9}$ వంతు బ్యాంకు కంతుకు ఖర్చు చేసి మిగిలిన డబ్బులు ఆతడు పొదుపు చేస్తాడు. అయితే ఆతడు ఎంత డబ్బును పొదుపు చేస్తాడు?





- (1) 2000 రూ (2) 8000 రూ
(3) 4400 రూ (4) 9000 రూ

44. నెత్రాలి సెప్టెంబర్ నెలలో మొదటి 15 రోజులు రెండున్నర లీటర్లు పాలు మరియు మిగిలిన రోజులు ఒకటిన్నర లీటర్లు పాలు 52 రూ.లకు ప్రతి లీటరు ధరతో కొనినను. అయిన ఆమె పాల కొనుగోలు విచ్చి రూపాయలు ఖర్చు చేసింది?

- (1) 1320 రూ (2) 3120 రూ
(3) 3140 రూ (4) 2350 రూ

SPACE FOR ROUGH WORK

Question 45 and 46 : Answer the questions based on the pictorial information.

Saplings in the Nursery	No. of saplings
Rose	
Hibiscus	
Champa	
Jasmine	

Scale: 1 picture = 10 saplings

45. How many saplings are there of Hibiscus, champa and Jasmine in all ?

- (1) 70 (2) 80
(3) 90 (4) 110

46. How many more number of saplings are there of Rose and Jasmine than that of Hibiscus ?

- (1) 20 (2) 10
(3) 50 (4) 30





47. $\frac{1}{5}$ of 25 + $\frac{1}{2}$ of 100 = $\frac{1}{5}$ of \square .

Write the correct number in the box.

- (1) 275 (2) 55
(3) 125 (4) 250

SPACE FOR ROUGH WORK

45 నుండి 46 కింది చిత్ర రూప పట్టిక సమాచారం ఆధారంగా ప్రశ్నలకు జవాబులు రాయుము.

ఉద్యానవనంలోని మొక్కలు	మొక్కల సంఖ్య
గులాబి మొక్కలు -	
బంతి మొక్కలు -	
మందార మొక్కలు -	
కనకాబరం మొక్కలు -	

ప్రమాణం :- 1 చిత్రం = 10 మొక్కలు

45. బంతి, మందార మరియు కనకాబరాల మొత్తం మొక్కలు ఎన్ని?

- (1) 70 (2) 80
(3) 90 (4) 110

46. గులాబి మరియు కనకాబరాల మొక్కల సంఖ్య బంతి మొక్కల సంఖ్య కంటే ఎన్ని ఎక్కువగా ఉన్నాయి?

- (1) 20 (2) 10
(3) 50 (4) 30

47. 25 కు $\frac{1}{5}$ రెట్లు + 100 కు $\frac{1}{2}$ రెట్లు = \square కు $\frac{1}{5}$ రెట్లు గడిలో సరియైన సంఖ్యను రాయండి.

- (1) 275 (2) 55
(3) 125 (4) 250

SPACE FOR ROUGH WORK

48. What decimal fraction does the shaded portion in the following figure indicate ?



- (1) $\frac{4}{16}$ (2) $\frac{1}{4}$ (3) 0.25 (4) 4.16

49. Aditya was born on Saturday 14th Jul. 2001. What was the day on his eighth birthday ?

- (1) Saturday (2) Monday
(3) Tuesday (4) Wednesday.

50. Which symbols will occur serially in the boxes in the following expression ?

$$6 \square 2 \square 10 \square 5 \square 5 = 48$$

- (1) $\div, -, \times, +$ (2) $\times, +, \div, -$ (3) $\div, \times, +, -$ (4) $+, +, \times, -$

51. What will be the product of the place value of the digit in ten thousands place and the face value of the digit at the thousands place in the number 58279 ?

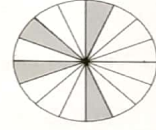
- (1) 1000000 (2) 1000 (3) 10000 (4) 100000

52. Joseph used 20 quires out of 1 Ream for xerox. How many sheets are remaining with him ?

- (1) 24 (2) 0 (3) 12 (4) 480

SPACE FOR ROUGH WORK

48. కింది ఆకృతిలోని రేఖాంశిత భాగం ఏ దశాంశ బిన్నాన్ని సూచిస్తుంది?



- (1) $\frac{4}{16}$ (2) $\frac{1}{4}$ (3) 0.25 (4) 4.16

49. ఆదిత్య 14 జూలై 2001 లో శనివారం నాడు జన్మించాడు. ఆయన ఆతని ఎనిమిదవ పుట్టిన రోజు ఏ వారము ఉండను ?

- (1) శనివారం (2) సోమవారం
(3) మంగళవారం (4) బుధవారం

50. కింద ఇవ్వబడిన గడిలో క్రమముగా ఏ సరియైన చిహ్నాలు వచ్చును?

$$6 \square 2 \square 10 \square 5 \square 5 = 48$$

- (1) $\div, -, \times, +$ (2) $\times, +, \div, -$ (3) $\div, \times, +, -$ (4) $\div, +, \times, -$

51. 58279 ఈ సంఖ్యలో పదివేల స్థానం అంకె యొక్క స్థాన విలువ మరియు వందల స్థానం అంకె యొక్క దర్శనము విలువ యొక్క గుణకార లబ్ధి ఎంత?

- (1) 1000000 (2) 1000 (3) 10000 (4) 100000

52. జోసెఫ్ 1 రీమ్ కాగితాలలో 20 ధస్తాం కాగితాలను జిరాక్స్ కోసం వాడెను. ఆయన ఆతని వద్ద ఎన్ని కాగితాలు మిగులును?

- (1) 24 (2) 0 (3) 12 (4) 480

SPACE FOR ROUGH WORK

53. What is the sum of all divisors of 133 ?

- (1) 134 (2) 145 (3) 160 (4) 151

54. How many meters should be subtracted from $10\frac{1}{2}$ m and $\frac{3}{4}$ m to get $5\frac{1}{2}$ m. as remainder ?

- (1) 4.75 m (2) 5.25 m (3) 4.25 m (4) 5.75 m


55. In a company, 95 workers work on same salary. The company needs Rs. 807500 per month for their salary. Then how much salary does every worker get ?

- (1) Rs. 9500 (2) Rs. 9400 (3) Rs. 8400 (4) Rs. 8500

56. Of the following, which object will have all its surfaces in square shape ?

- (1) Brick (2) Compass box
(3) Cubical box (4) Match box

57. If the below given figure is folded to make a cube, which colour will not come adjacent to red colour ?



- (1) Blue (2) Orange (3) Yellow (4) Green

SPACE FOR ROUGH WORK

53. 133 యొక్క అన్ని భాజకాల మొత్తం ఎంత?

- (1) 134 (2) 145 (3) 160 (4) 151

54. వదిన్నర మీటర్లు మరియు ముప్పాపు మీటర్లు వీట మొత్తంలో ఎన్ని మీటర్లు తీసివేస్తే నాలుగున్నర మీటర్లు మిగులును?

- (1) పాపుతక్కువ ఐదు (2) ఐదుబాపు
(3) నాలుగుబాపు (4) పాపు తక్కువ ఆరు

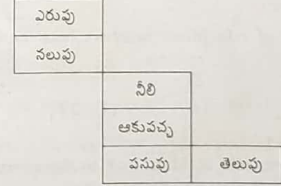
55. ఒక కంపనీలో 95 కార్మికులు సమాన వేతనం పై పని చేస్తారు. వారి వేతనం కొరకు కంపనీకి ప్రతి నెల 807500 రూపాయలు ఆవసరం. అయిన ప్రతి కార్మికునికి ఎంత వేతనం లభించును?

- (1) 9500 (2) 9400 (3) 8400 (4) 8500

56. కింది వాటిలో ఏ వస్తువు యొక్క అన్ని తలలు చతురస్ర ఆకారంలో ఉన్నాయి ?

- (1) ఇటుక (2) కంపాసు పెట్టె (3) ఘనాకార చెక్క (4) అగ్గినెట్టె

57. కింది ఆకృతిని మడిచి ఘనం తయారుచేసినచో ఎరువు రంగు యొక్క పక్క తలం కిందివాటిలో ఏ రంగు రాదు?



- (1) నీలి (2) తెలుపు (3) పసుపు (4) ఆకుపచ్చ

SPACE FOR ROUGH WORK

58. For the following fractions, which <, >, = of the signs will be appropriate ?

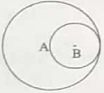
$$\frac{7}{13} \square \frac{13}{7} \square \frac{91}{49}$$

- (1) <, = (2) <, <
(3) >, = (4) <, >

59. Sonali purchased a house at Rs. 37,50,000. She made furniture for the house worth Rs. 7,25,000. At what price should she sell the house to gain a profit of Rs. 5,25,000 ?

- (1) Rs. 5,00,000 (2) Rs. 50,00,000
(3) Rs. 44,75,000 (4) Rs. 49,50,000

60. The diameter of a circle with center B is the radius of circle with center A. What is the length of seg. AB ?



- (1) 3 cm (2) 6 cm
(3) 12 cm (4) 2 cm

61. What is the sum of odd prime numbers between 1 to 50 ?

- (1) 328 (2) 326
(3) 303 (4) 273

62. Dhanesh boarded a train at 11 o'clock in the afternoon, then at what time did he board a train as per 24 hour clock ?

- (1) 11 PM (2) 21 o'clock
(3) 12 o'clock (at night) (4) 23 o'clock

SPACE FOR ROUGH WORK

58. కింది భిన్నాల జతలలోని గడిలో <, >, = చిహ్నాల ఏ చిహ్నాలు సరియైనవి ?

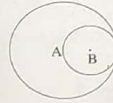
$$\frac{7}{13} \square \frac{13}{7} \square \frac{91}{49}$$

- (1) <, = (2) <, <
(3) >, = (4) <, >

59. సోనాలి ఒక ఇల్లను 37,50,000 రూపాయలకు కొనెను. ఆ ఇల్లు కోసం ఆమె 7,25,000 రూపాయల ఫర్నిచర్ చేయించెను. ఆ ఇల్లను ఆమె ఎన్ని రూపాయలకు అమ్మినచో ఆమెకు ఐదు లక్షల ఇరవై ఐదు వేల రూపాయల లాభం వచ్చును?

- (1) 5,00,000 (2) 50,00,000
(3) 44,75,000 (4) 49,50,000

60. B కేంద్రం గల వృత్తం యొక్క వ్యాసం 6 సెం.మీ ఉంది ఇది A కేంద్రం గల వృత్తం యొక్క వ్యాసార్థం అయినట్లయితే రేఖాఖండం AB ఎంత?



- (1) 3 సెం.మీ (2) 6 సెం.మీ
(3) 12 సెం.మీ (4) 2 సెం.మీ

61. 1 నుండి 50 వరకు గల బీసీ ప్రధాన సంఖ్యల మొత్తం ఎంత?

- (1) 328 (2) 326 (3) 303 (4) 273

62. మధ్యాహ్నం తరువాత 11 గంటలకు దినేష్ బస్సులో కూర్చున్నాడు అయితే 24 గంటల గడియారం ప్రకారంగా అతడు ఎన్ని గంటలకు బస్సులో కూర్చున్నాడు?

- (1) మధ్యాహ్నం 11 గంటలకు (2) 21 గంటలకు
(3) రాత్రి 12 గంటలకు (4) 23 గంటలకు

SPACE FOR ROUGH WORK

63. In a school, everyday 70% students out of 2300 perform Suryanamaskar. How many students do not perform Suryanamaskar ?

- (1) 1610 (2) 690
(3) 590 (4) 1410

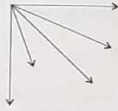
64. By how much a 5 digit greatest number formed using digits 0, 2, 3, 9, 7 only once is greater than a five digit smallest number formed using the same digits ?

- (1) 117699 (2) 94941
(3) 76923 (4) 76941

65. Which number from the given options when divided by 5, 6, 7 will give 4 as remainder ?

- (1) 42 (2) 214
(3) 206 (4) 210

66. How many number of angles are there in the adjacent figure ?



- (1) 10 (2) 9
(3) 8 (4) 7

SPACE FOR ROUGH WORK

63. ఒక పాఠశాలలోని 2300 విద్యార్థులలో 70 శాతం విద్యార్థులు ప్రతిరోజూ సూర్యనమస్కారం చేస్తారు. అయిన ఎంత మంది విద్యార్థులు సూర్యనమస్కారం చేయరు?

- (1) 1610 (2) 690
(3) 590 (4) 1410

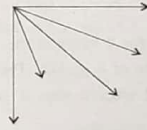
64. 0,2,3,9,7 ఈ అంకెలను ఒకేసారి ఉపయోగించి తయారగు అతి పెద్ద ఐదు అంకెల సంఖ్య ఇది అనే అంకెలను ఒకేసారి ఉపయోగించి తయారగు అతి చిన్న ఐదు అంకెల సంఖ్య కంటే ఎంత పెద్దది?

- (1) 117699 (2) 94941
(3) 76923 (4) 76941

65. కింది వాటిలో ఏ సంఖ్యకు 5, 6, 7 ఈ సంఖ్యలతో భాగించినచో శేషం 4 మిగులును?

- (1) 42 (2) 214
(3) 206 (4) 210

66. కింది ఆకృతిలోని కోణాల సంఖ్య ఎన్ని?



- (1) 10 (2) 9
(3) 8 (4) 7

SPACE FOR ROUGH WORK

67. Vishwas bought 5 dozen copies at Rs. 10 per copy. 5 copies were found damaged. He sold the remaining copies at Rs. 715. In this transaction, how much profit per copy did he make ?

- (1) Rs. 13 (2) Rs. 3 (3) Rs. 115 (4) Rs. 12

68. $7 \times 5 - 2 \times 3 + 4 = ?$

- (1) 21 (2) 67 (3) 33 (4) 147

69. The capacity of a water tank is 140 l. $\frac{4}{7}$ part of it is filled with water. How many liters of water is required to make it full ?

- (1) 60l. (2) 70l. (3) 80l. (4) 90l.

70. Shrikant drives a vehicle at the speed of 85 km/hr. For how many hours will he have to drive to cover a distance of 595 km, if the speed remains the same ?

- (1) 7 hrs (2) 6 hrs
(3) 8 hrs (4) 5 hrs

71. Deep deposited Rs. 2000 for 4 years at the rate of 8 p.c.p.a. Pari deposited Rs. 4000 for 4 years at the rate of 4 p.c.p.a. Then what will be the relation between the amount that they will receive after 4 years. ?

- (1) Deep will get more than Pari
(2) Deep will get less than Pari
(3) Both will get the same amount
(4) Pari will get more than Deep

SPACE FOR ROUGH WORK

67. విశ్వాస్ 10 రూపాయలకు ఒక కాపీ (నోటుబుక్) కొన్న 5 డజన్ల కాపీలు తెచ్చెను. అందులో 5 కాపీలు చెడబోయినందున మిగిలిన కాపీలు అతడు 715 రూపాయలకు అమ్మెను. ఈ వ్యవహారంలో అతనికి ప్రతి కాపీ పైనక ఎన్ని రూపాయల లాభం అయింది?

- (1) 13 (2) 3 (3) 115 (4) 12

68. $7 \times 5 - 2 \times 3 + 4 =$ ఎంత?

- (1) 21 (2) 67 (3) 33 (4) 147

69. ఒక నీళ్ళ ట్యాంక్ యొక్క సామర్థ్యం 140 లీటర్లు ఉంది. ఆ ట్యాంక్ యొక్క $\frac{4}{7}$ వంతు నీళ్ళతో నిండి ఉండెను. అయిన ఆ ట్యాంక్ నీళ్ళతో మొత్తం నిండడానికి ఇంకా ఎన్ని లీటర్ల నీళ్ళు అవసరం?

- (1) 60 (2) 70 (3) 80 (4) 90

70. శ్రీకాంత్ గంటకు 85 కి.మీ ల వేగంతో బండిని నడుపుతాడు అదే వేగంతో 595 కి.మీ బండిని నడపడానికి అతనికి ఎన్ని గంటలు బండి నడపాల్సిఉంటుంది?

- (1) 7 (2) 6
(3) 8 (4) 5

71. దీపక్ 2000 రూ 4 సం.ల కోసం సం.నికి 8 శాతం రేటున బ్యాంకులో పెట్టెను. మరియు అరుణ్ 4000 రూ 4 సం. ల కోసం సం.నికి 4 శాతం రేటున బ్యాంకులో పెట్టెను. అయితే 4 సం.ల తరువాత ఇద్దరికీ లభించు డబ్బులోని సంబంధము ఏమి ఉండును?

- (1) దీపక్ కు అరుణ్ కన్నా ఎక్కువ
(2) దీపక్ కు అరుణ్ కన్నా తక్కువ
(3) ఇద్దరికీ సమానం
(4) అరుణ్ కు దీపక్ కన్నా ఎక్కువ

SPACE FOR ROUGH WORK

72. How many number of triangles and squares are formed in the given figure ?



- (1) 4, 2 (2) 5, 5
(3) 5, 6 (4) 4, 4

73. What will be sum of first and last number if 32976, 23976, 32796, 23796 are arranged in ascending order ?

- (1) 56 772 (2) 56 592
(3) 56 952 (4) 56 772

74. How many times $\frac{1}{7}$ should be added to $\frac{1}{7}$ so as to get the answer 7 ?

- (1) 49 (2) 48
(3) 7 (4) 14

75. The population of Sakoli village is 1,54,389. 1, 08,457 people have mobiles. How many people do not have mobile ?

- (1) 45,832 (2) 45,932
(3) 45,942 (4) 55,942

SPACE FOR ROUGH WORK

72. కింది ఆకృతిలో అనుక్రమంగా ఎన్ని త్రిభుజాలు మరియు చతుర్భుజాలు తయారగును?



- (1) 4, 2 (2) 5, 5
(3) 5, 6 (4) 4, 4

73. 32976, 23976, 32796, 23796 ఈ సంఖ్యలను ఆరోహణ క్రమములో అమర్చినచో మొదటి మరియు చివరి సంఖ్యల మొత్తం ఎంత?

- (1) 56 772 (2) 56 592
(3) 56 952 (4) 56 772

74. $\frac{1}{7}$ తో $\frac{1}{7}$ ఎన్ని సార్లు కలిపితే జవాబు 7 వచ్చును?

- (1) 49 (2) 48
(3) 7 (4) 14

75. సాకోలి గ్రామ యొక్క జనాభా 154389 ఉంది. అందులో 108457 మంది ప్రజల వద్ద మొబైల్ ఫోన్లు ఉన్నాయి. అయిన ఎంత మంది ప్రజల వద్ద మొబైల్ ఫోన్లు లేవు?

- (1) 45,832 (2) 45,932
(3) 45,942 (4) 55,942

SPACE FOR ROUGH WORK

SPACE FOR ROUGH WORK