

पूर्व उच्च प्राथमिक शिष्यवृत्ति परीक्षा (इयत्ता 5वी) फेब्रुवारी 2020

बैठक क्र.

--	--	--	--	--	--	--	--	--	--

संच

A

0 3 0 2

पेपर क्र. II

माध्यम : हिन्दी

वेळ : 1.30 ते 3.00

पृष्ठ : 32

तृतीय भाषा व बुद्धिमत्ता चाचणी

एकूण गुण : 150

प्रश्नों का उत्तर देने से पहले निम्नलिखित निर्देशों को ध्यान से पढ़ लें।

(1) इस प्रश्नपत्र के दो भाग हैं। भाग I में तृतीय भाषा के 1 से 25 प्रश्न हैं और भाग II में बुद्धिमत्ता चाचणी के 26 से 75 प्रश्न हैं। सभी 75 प्रश्न अनिवार्य हैं।

(2) सभी प्रश्नों के 2 अंक हैं।

(3) प्रश्नपत्र हल करने की समय सीमा 90 मिनट है।

(4) उत्तर लिखने के लिए अलग से उत्तरपत्र दिया जाता है। प्रत्येक प्रश्न के चार विकल्प दिए गए हैं। उन्हें ध्यान से पढ़ें। सही उत्तर का चयन करें और उत्तर पत्रक में छायांकित करें।

उदाहरण:- यदि प्रश्न सं. 6 का सही विकल्प 2 है, तो अपना उत्तर इस प्रकार दर्ज करें:

प्रश्न सं. 6 -

① ● ③ ④

(5) किसी अन्य रूप में दर्ज किए गए उत्तर पर विचार नहीं किया जाएगा। इस तरह के उत्तर को 'शून्य' अंक प्रदान किया जाएगा।

(6) गोले को काला करने के लिए नीली या काली बॉल पेन का उपयोग करें। पेंसिल से काला किए गए गोलों पर अंक नहीं प्रदान किए जाएंगे।

(7) यदि एक से अधिक गोलों को छायांकित किया जाएगा, तो उत्तर स्वीकार नहीं किया जाएगा।

(8) एक बार दर्ज किए जा चुके उत्तर में बदलाव नहीं किया जा सकता है।

(9) प्रत्येक पृष्ठ के नीचे दिए गए स्थान पर या प्रश्नपत्र के अंतिम पृष्ठ पर रफ कार्य किया जाएगा।

(10) परीक्षा का सीमित समय है, यदि आप कोई प्रश्न नहीं हल कर पाते हैं, तो अगला प्रश्न हल करें। अंत में समय मिलने पर आप हल न किए गए प्रश्नों को हल करने का प्रयास कर सकते हैं।

(11) यदि आपको कोई प्रश्न अधूरा या त्रुटिपूर्ण लगता है, तो पर्यवेक्षक या केंद्र प्रभारी से कुछ न पूछें।

(12) किसी भी त्रुटि/गलती/आपत्ति के मुद्दों के लिए, स्कूल या माता-पिता को ब्लॉक शिक्षा अधिकारी या शिक्षा अधिकारी को लिखित आवेदन नहीं भेजना चाहिए। इन त्रुटियों/गलतियों/आपत्तियों के मुद्दों को केवल संबंधित स्कूल लॉगइन के माध्यम से ऑनलाइन पंजीकृत कराया जाना चाहिए।

(13) एमएससीई वेबसाइट पर अंतरिम उत्तर कुंजी के प्रकाशन के 10 दिनों के भीतर त्रुटि/गलती/आपत्ति के मुद्दों को ऑनलाइन पंजीकृत कराया जाना चाहिए।

(14) प्रश्नपत्र में मुद्रण या किसी अन्य गलती पर विशेषज्ञ समिति का निर्णय लागू होगा।

SEAL

SECTION-I

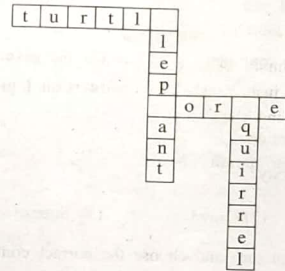
Q.1 to Q.3 : Read the passage carefully and answer the following questions.

A crow was very thirsty. It flew to a garden in search of water. There was a pot having a little water in it. So the crow put pebbles into the pot. The water rose up. The crow drank it and flew away.

- Who was very thirsty?
 - cow
 - crow
 - parrot
 - fox
- Select the correct option and complete the sentence.
The crow flew to a in search of water.
 - Garden
 - Well
 - House
 - School
- What did the crow put into the pot?
 - Leaves
 - Sticks
 - Pebbles
 - Money
- If dogs: bark
then bears:
 - Snore
 - Squawk
 - Squeal
 - Screech

SPACE FOR ROUGH WORK

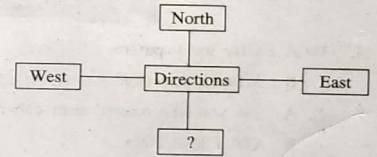
5. Select the correct option and solve the puzzle.



- k, l, o
- m, g, b
- l, s, j
- e, h, s

6. Select the correct alternative and fill in the box.

- East west
- South
- South east
- South west



7. Select the correct option and complete the sentence.

- I will give it back to you
- Yesterday
 - Last week
 - Tomorrow
 - Long long ago

SPACE FOR ROUGH WORK

8. Choose the correct request from the
My friend forgot his pen.
He said, ".....".
- (1) Please give me your pen. (2) He gave me his pen.
(3) I brought your pen. (4) Can I give my pen to you?
9. Select the correct option.
We should cover our mouth when
we
- (1) Share (2) Crawl (3) Sneeze (4) Climb
10. Look at the given picture and choose the correct conversation.



- (1) A : Give me tomatoes.
B : Where's your bag?
- (2) A : Do you like roasted corn cobs?
B : Oh! I love them.
- (3) A : Hello uncle can you deliver the box today?
B : Sure.
- (4) A : Have you tried these cakes?
B : This is a new cake shop.

SPACE FOR ROUGH WORK

11. Select the correct option.
Keep your hands on your
- (1) waste (2) west
(3) wait (4) waist
12. Find the odd pair.
- (1) August September (2) October November
(3) April May (4) June August
13. Find out the odd term
- (1) Thigh (2) Deer
(3) Thieves (4) Oxen
14. Select the correct option and complete the sentence.
Isha..... eat fruits.
- (1) doesnt (2) doesn't
(3) does'nt (4) doesn't
15. Select the correct option and complete the sentence.
We go by Auto-rickshaw
- (1) A (2) The
(3) An (4) No article
16. Find the odd group
- (1) king, ring, thing, sing (2) tall, fall, ball, call
(3) keep, peep, sheep, jeep (4) get, wet, not, let

SPACE FOR ROUGH WORK

17. Select the correct punctuation mark for the given sentence.

Does she go to school

- (1) Full stop (2) Comma
(3) Question mark (4) Capitalization

18.

Maha Sale
Sari and Kurti
Offer- Buy 1 Get 3
Rs. 1000/- only

The special offer is

- (1) Buy one get one
(2) Buy one get two
(3) Buy one get three
(4) Buy one get four

19. Choose the correct sentence showing proper position of a comma.

- (1) Master Master have, pity, on me.
(2) Master Master have, pity on, me.
(3) Master, Master, have pity on me.
(4) Master Master have pity, on me.

20. Solve the riddle.

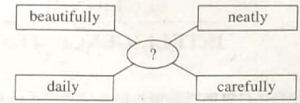
I use scissors. I use a needle
and thread. I make clothes
from cloth. Who am I ?

- (1) Tailor (2) Potter (3) Cobbler (4) Jeweller

SPACE FOR ROUGH WORK

21. Find out the correct word to complete the given diagram.

- (1) Run
(2) Write
(3) Eat
(4) Sleep



22. Where should be the exclamation mark in the given sentence?

Select the correct option.

Good morning Kondiba

- (1) after morning (2) after good
(3) before Kondiba (4) after Kondiba

23. Choose the correct option.

Many Many Happy Returns Of The Day !

This message is about.....

- (1) Wedding (2) New year
(3) Birthday (4) Journey

24. Select the correct alternative

As yellow as

- (1) Dawn (2) Rain
(3) Turmeric (4) Honey

25. Find the odd group.

- (1) cement, city, circus, centre (2) group, good, gate, ground
(3) brown, bucket, black, brinjal (4) kite, kangaroo, know, king

SPACE FOR ROUGH WORK

A B C D E F G H I J K L M N O P Q R S T U V W X Y

SECTION-II

INTELLIGENCE TEST

26. In the word 'ADJECTIVE' which letter is third to the left of the middle position letter ?

- (1) D (2) J
(3) V (4) I

27. A B C D E F G H I J K L M N O P Q R S T U V W X Y

In the given letters series, what is the position of the letter from start which is fourth to the left of the letter which is tenth from the right side of the series.

- (1) 19 (2) 12
(3) 20 (4) 6

28. How many total vowels are there in the given sentence ?
'Rupa gave letter to Ram.'

- (1) 5 (2) 3
(3) 8 (4) 9

29. 3, 2, 7, 1, 0, 5, 6, 6, 4, 3, 6, 1, 7, 3, 3, 2

In the given number series, what is the difference between the square of the number which is 6th from left and which is 7th from right side ?

- (1) 34 (2) 0
(3) 8 (4) 16

SPACE FOR ROUGH WORK

A B C D E F G H I J K L M N O P Q R S T U V W X Y

SECTION-II

बुद्धिमता चाचणी

26. क्रियाविशेषणदर्शक शब्द के मध्य में आने वाले वर्ण के बायीं ओर से तीसरा वर्ण कौन-सा है?

- (1) या (2) वि
(3) शं (4) द

27. A B C D E F G H I J K L M N O P Q R S T U V W X Y

दी गई अक्षरमालिका के दायीं ओर से दसवें अक्षर के बायीं ओर के चौथे अक्षर को शुरु से गिनने पर कौन-सा क्रमांक आएगा?

- (1) 19 (2) 12
(3) 20 (4) 6

28. 'प्रजाहितदक्ष, ज्ञानवर्धक, रक्षणकर्ता, वृक्ष, स्वतंत्र' इन शब्दों में कुल कितने संयुक्तवर्ण हैं?

- (1) 4 (2) 3
(3) 8 (4) 9

29. 3, 2, 7, 1, 0, 5, 6, 6, 4, 3, 6, 1, 7, 3, 3, 2

दी गई अंकमाला में बायीं ओर से छठे अंक का वर्ग और दायीं ओर से सातवें अंक के वर्ग में कितना अंतर है?


- (1) 34 (2) 0
(3) 8 (4) 16

SPACE FOR ROUGH WORK

ABCDE FGHIJ KLMNO PQRST UVWXY

Note for : Q. 30 to Q. 34 : [Find odd man out]

30. (1) Puppet show (2) Television
(3) Computer (4) Cinema
31. (1) May (2) July
(3) June (4) August
32. (1) 2651 (2) 2246
(3) 5324 (4) 6215
33. (1) 9338 (2) 7276
(3) 9295 (4) 4279



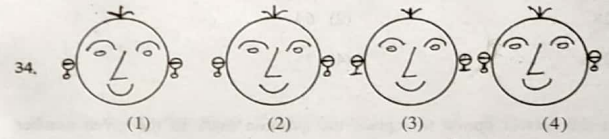
35. In the given number series, select the correct option to replace the question mark.
3, 4, 7, 10, 15, 22, 31, ?
(1) 46 (2) 40
(3) 44 (4) 42

SPACE FOR ROUGH WORK

ABCDE FGHIJ KLMNO PQRST UVWXY

प्र. 30 से 34 के लिए सूचना- असंगत पद पहचानो।

30. (1) बाहुलीनाट्य (2) दूरदर्शन
(3) संगणक (4) सिनेमा
31. (1) मई (2) जुलाई
(3) जून (4) अगस्त
32. (1) 2651 (2) 2246
(3) 5324 (4) 6215
33. (1) 9338 (2) 7276
(3) 9295 (4) 4279




35. नीचे दी गई संख्यामालिका में प्रश्नचिह्न की जगह कौन-सी संख्या आएगी?
3, 4, 7, 10, 15, 22, 31, ?
(1) 46 (2) 40
(3) 44 (4) 42

SPACE FOR ROUGH WORK

ABCDE FGHIJ KLMNO PQRST UVWXY

36. In the given series of figures, select the correct option to replace the question mark.



37. Select the wrong term in the given number series.

2, 7, 28, 64, 126, 215

- (1) 28 (2) 64
(3) 215 (4) 7

38. Select the correct option to replace the question mark in the given number series.

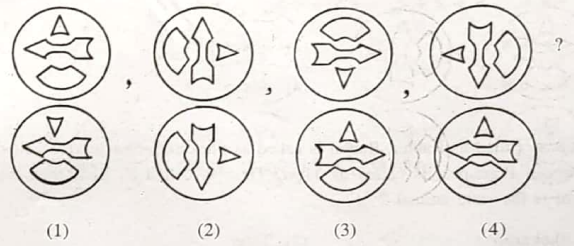
14, 16, 19, 24, 31, 42, 55 ?

- (1) 65 (2) 72
(3) 75 (4) 70

SPACE FOR ROUGH WORK

ABCDE FGHIJ KLMNO PQRST UVWXY

36. नीचे दी गई आकृतियों में एक विशिष्ट प्रकार का क्रम है। यह क्रम पहचानकर प्रश्नचिह्न के स्थान पर कौन-सी आकृति आएगी बताओ।



37. नीचे दी गई संख्यामालिका में गलत पद पहचानो।

2, 7, 28, 64, 126, 215

- (1) 28 (2) 64
(3) 215 (4) 7

38. नीचे दी गई संख्यामालिका में प्रश्नचिह्न के स्थान पर कौन-सी संख्या आएगी, उचित पर्याय क्रमांक लिखो।

14, 16, 19, 24, 31, 42, 55 ?

- (1) 65 (2) 72
(3) 75 (4) 70

SPACE FOR ROUGH WORK

A	B	C	D	E	F	G	H	I	J	K	L	M	N	O	P	Q	R	S	T	U	V	W	X	Y
---	---	---	---	---	---	---	---	---	---	---	---	---	---	---	---	---	---	---	---	---	---	---	---	---

39. Select the correct option to replace the question mark in the given groups of signs.

$<> + \times +$, $> + \times + <$, $+ \times + <>$, $\times + <> +$, ?

- (1) $<> + \times +$ (2) $+ \times + <>$
(3) $+ \times <> +$ (4) $+ <> + \times$

40. If Deer is called as Rabbit, Rabbit is called as Shekaroo, Shekaroo is called as Porcupise, Porcupise is called as Tiger, Tiger is called as Bear then which animal is the state animal ?

- (1) Shekaroo (2) Tiger
(3) Rabbit (4) Porcupise

41. The sum of ages of Mother, Father and Son three years ago was 73. What will be the sum of their ages five years later ?

- (1) 97 (2) 75
(3) 78 (4) 88

42. Anushka's score of marks is more than Aarya but less than Aaboli. Shevanti's score is same as Aarya but more than Chameli. Who has scored the highest marks ?

- (1) Aarya (2) Aaboli
(3) Shevanti (4) Anushka

SPACE FOR ROUGH WORK

A	B	C	D	E	F	G	H	I	J	K	L	M	N	O	P	Q	R	S	T	U	V	W	X	Y
---	---	---	---	---	---	---	---	---	---	---	---	---	---	---	---	---	---	---	---	---	---	---	---	---

39. आगे दी गई चिन्हमालिका में प्रश्नचिन्ह की जगह कौन-सा चिहन समूह आएगा लिखो।

$<> + \times +$, $> + \times + <$, $+ \times + <>$, $\times + <> +$, ?

- (1) $<> + \times +$ (2) $+ \times + <>$
(3) $+ \times <> +$ (4) $+ <> + \times$

40. हिरन को खरगोश कहें, खरगोश को शेकरू, शेकरू को छद्दूर, छद्दूर को सांभर और सांभर को भालू कहा जाए तो महाराष्ट्र का राज्यप्राणी कौन-सा होगा?

- (1) शेकरू (2) सांभर
(3) खरगोश (4) छद्दूर

41. माता-पिता और बेटे की तीन वर्ष पूर्व की आयु का योग 73 वर्ष था तो पाँच वर्ष बाद तीनों की आयु का योग कितना होगा?

- (1) 97 (2) 75
(3) 78 (4) 88

42. अनुष्का को आर्या से अधिक पर अबोली से कम अंक मिले हैं। शंवती को आर्या जितने ही पर चमेली से ज्यादा अंक मिले हैं तो सबसे अधिक अंक किसे मिले?

- (1) आर्या (2) अबोली
(3) शंवती (4) अनुष्का

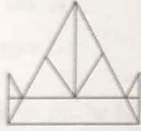
SPACE FOR ROUGH WORK

ABCDE FGHIJ KLMNO PQRST UVWXY

43. Akshay said to Aarti 'your mother's father is my father's father.' What is the relation of Akshay with Aarti's mother ?


- (1) Son of husband's brother
- (2) Uncle
- (3) Grandson
- (4) Son of husband's sister

44. How many total number of triangles are there in the adjacent figure ?



- (1) 14
- (2) 15
- (3) 10
- (4) 12

45. In the figure given below how many total number of quadrilaterals are there ?



- (1) 9
- (2) 6
- (3) 18
- (4) 15

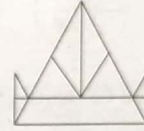
SPACE FOR ROUGH WORK

ABCDE FGHIJ KLMNO PQRST UVWXY

43. अक्षय ने आरती से कहा, "तुम्हारी माँ के पिताजी मेरे पिता के पिताजी हैं।" तो अक्षय का आरती की माँ से क्या रिश्ता होगा?


- (1) भतीजा
- (2) चाचा
- (3) पोता
- (4) भौजा

44. दी गई आकृति में त्रिभुजों की कुल संख्या कितनी है?



- (1) 14
- (2) 15
- (3) 10
- (4) 12

45. संलग्न आकृति में चतुर्भुजों की कुल संख्या कितनी है?



- (1) 9
- (2) 6
- (3) 18
- (4) 15

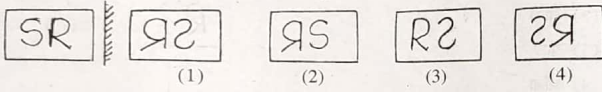
SPACE FOR ROUGH WORK

ABCDEF GHIJ KLMNO PQRST UVWXY

Note for Q. 46 and Q. 47 : Select the correct option to match the mirror image of the question figure.

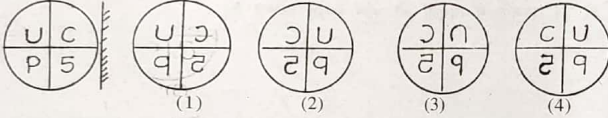
46. Question Figure

Answer Figure



47. Question Figure

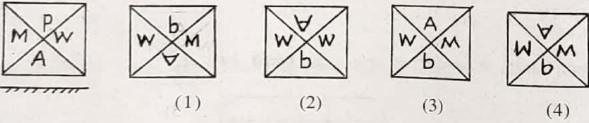
Answer Figure



Note for Q. 48 and Q. 49 : Select the correct option to match the water image of the question figure.

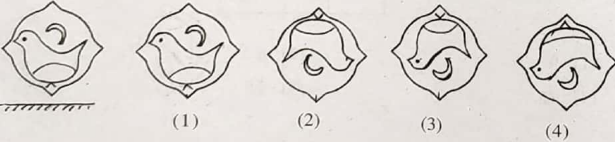
48. Question Figure

Answer Figure



49. Question Figure

Answer Figure



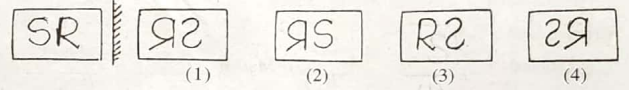
SPACE FOR ROUGH WORK

ABCDEF GHIJ KLMNO PQRST UVWXY

प्र. 46 व 47 के लिए सूचना-प्रश्न आकृति का दर्पण में प्रतिबिंब दिए गए पर्यायों में से ढूँढ़िए।

46. प्रश्न आकृति

उत्तर आकृतियाँ



47. प्रश्न आकृति

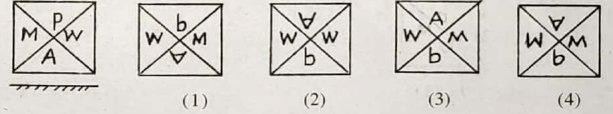
उत्तर आकृतियाँ



प्र. 48 व 49 के लिए सूचना- प्रश्नआकृति का जल प्रतिबिंब ढूँढ़िए। नीचे दी गई प्रश्नआकृति पानी पर उर्ध्वाधर रखी जाए तो उसका पानी में प्रतिबिंब कैसा दिखाई देगा, उत्तर आकृतियों में से उचित पर्याय चुनें।

48. प्रश्न आकृति

उत्तर आकृतियाँ



49. प्रश्न आकृति

उत्तर आकृतियाँ



SPACE FOR ROUGH WORK

A	B	C	D	E	F	G	H	I	J	K	L	M	N	O	P	Q	R	S	T	U	V	W	X	Y
---	---	---	---	---	---	---	---	---	---	---	---	---	---	---	---	---	---	---	---	---	---	---	---	---

Note for Q. 50 to Q. 54 : There exists a relation between first and second term, similar relation holds true for third and fourth term. Accordingly select the correct option to replace the question mark.


50. Crops : farm :: fruits : ?

- (1) Orchard (2) Market
(3) Mall (4) Shop

51. Sparrow : noun :: went : ?

- (1) Pronoun (2) Verb
(3) Noun (4) Adjective

52.  :

- 
(1) (2) (3) (4)

53. 5 : 12 :: 6 : ?

- (1) 18 (2) 15
(3) 12 (4) 21

54. 4396 : 6475 :: 3485 : ?

- (1) 4595 (2) 4574
(3) 5564 (4) 4564

SPACE FOR ROUGH WORK

A	B	C	D	E	F	G	H	I	J	K	L	M	N	O	P	Q	R	S	T	U	V	W	X	Y
---	---	---	---	---	---	---	---	---	---	---	---	---	---	---	---	---	---	---	---	---	---	---	---	---

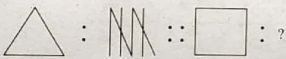
प्र. 50 से 54 के लिए सूचना—पहले पद का जो संबंध दूसरे पद से है वही संबंध तीसरे पद का चौथे पद से है। प्रश्नचिह्न के स्थान का पद दिए गए पर्याय में से ढूँढो।

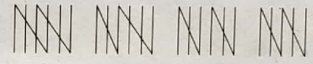
50. ईख : खेत :: हरी सब्जी : ?

- (1) क्यारी (2) मंडी
(3) बाजार (4) दुकान

51. चिड़िया : संज्ञा :: गया : ?

- (1) सर्वनाम (2) क्रियापद
(3) संज्ञा (4) विशेषण

52.  :

- 
(1) (2) (3) (4)

53. 5 : 12 :: 6 : ?

- (1) 18 (2) 15
(3) 12 (4) 21

54. 4396 : 6475 :: 3485 : ?

- (1) 4595 (2) 4574
(3) 5564 (4) 4564

SPACE FOR ROUGH WORK

A B C D E F G H I J K L M N O P Q R S T U V W X Y

55. Which of the following action of Raju is correct, when he saw garbage lying at the place where small children were playing ?

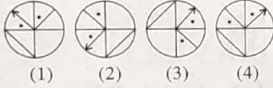
- (1) He picked up the garbage and threw it into the dustbin.
- (2) He neglected it.
- (3) He pushed out all the children from that place.
- (4) He purposely tell the security person to pick up the garbage.

Note for Q. 56 and Q. 57 : Select the figure perfectly matching to the question figure from the given options.

56. Question Figure



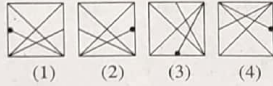
Answer Figure



57. Question Figure



Answer Figure



58. In a row there are 15 girls to the right side of Savita and 11 girls to her left, if she is standing at the middle then what is her position number ?

- (1) 12th
- (2) 13th
- (3) 14th
- (4) 15th

SPACE FOR ROUGH WORK

A B C D E F G H I J K L M N O P Q R S T U V W X Y

55. जहाँ छोटे बच्चे खेल रहे थे वहाँ पड़ा कचरा देखकर राजू द्वारा की गई कौन-सी कृति उचित होगी?

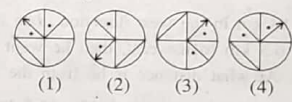
- (1) कचरा उठाकर कचरे के डब्बे में डाला।
- (2) ध्यान नहीं दिया।
- (3) सभी बच्चों को वहाँ से भगा दिया।
- (4) वहाँ के चौकीदार को कचरा उठाने के लिए कहा।

प्र. 56 व 57 के लिए सूचना- प्रश्न आकृति की हूबहू दिखनेवाली आकृति पर्यायों में से ढूँढिए।

56. प्रश्न आकृति



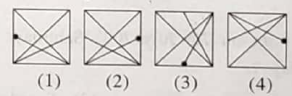
उत्तर आकृतियाँ



57. प्रश्न आकृति



उत्तर आकृतियाँ



58. एक कतार में सविता के दायीं तरफ 15 लड़कियाँ व बायीं तरफ 11 लड़कियाँ खड़ी हैं। इसी कतार में मध्य में खड़ी रहने वाली कविता का क्रमांक कितना होगा?

- (1) 12 वीं
- (2) 13 वीं
- (3) 14 वीं
- (4) 15 वीं

SPACE FOR ROUGH WORK

A	B	C	D	E	F	G	H	I	J	K	L	M	N	O	P	Q	R	S	T	U	V	W	X	Y
---	---	---	---	---	---	---	---	---	---	---	---	---	---	---	---	---	---	---	---	---	---	---	---	---

59. Students are standing for mass P.T. The number of rows and students in one row is same. If 15 students are standing in each row then what is the total number of students standing for mass P.T. ?

- (1) 225 (2) 150
(3) 250 (4) 125

60. John is standing with his back towards the East. He turns to his right hand two times at right angle. Which direction is he facing now ?

- (1) West (2) South
(3) East (4) North

61. Ahmed went 18 km in the west direction, then he went 11.5 km to the south, then he went 6.5 km to the east, then he went 11.5 km to the north and he stopped there. At what distance is he from the starting point ?

- (1) 11 km (2) 10.5 km
(3) 12.5 km (4) 11.5 km

62. Mandar was born on 7th July 2007 Saturday. Which day will it be on his second birthday ?

- (1) Monday (2) Tuesday
(3) Wednesday (4) Thursday

63. In a certain year if 15th August falls on Monday, then in the same year 6th September will fall on which day ?

- (1) Thursday (2) Monday
(3) Tuesday (4) Wednesday

SPACE FOR ROUGH WORK

0302 / Hindi Set-A

24 of 32

P.T.O.

A	B	C	D	E	F	G	H	I	J	K	L	M	N	O	P	Q	R	S	T	U	V	W	X	Y
---	---	---	---	---	---	---	---	---	---	---	---	---	---	---	---	---	---	---	---	---	---	---	---	---

59. कवायत के लिए जितनी पंक्तियाँ हैं उतने ही बच्चे प्रत्येक पंक्ति में हैं। यदि प्रत्येक पंक्ति में 15 बच्चे हो तो मैदान पर कवायत के लिए उपस्थित बच्चों की संख्या कितनी होगी?

- (1) 225 (2) 150
(3) 250 (4) 125

60. जॉन पूर्व दिशा की तरफ पीठ करके खड़ा है। वह दो बार दायीं ओर समकोण में घूमा तो उसका मुँह किस दिशा में होगा?

- (1) पश्चिम (2) दक्षिण
(3) पूर्व (4) उत्तर

61. अहमद पश्चिम की ओर 18 किमी. गया तत्पश्चात वह दक्षिण में 11.5 किमी गया, उसके बाद पूर्व की ओर 6.5 किमी गया फिर उत्तर की तरफ 11.5 किमी जाकर रुक गया तो वह अपने मूल स्थान से कितने किमी के अंतर पर है।

- (1) 11 (2) 10.5
(3) 12.5 (4) 11.5

62. मंदार का जन्म 7 जुलाई 2007 शनिवार के दिन हुआ। तो उसका दूसरा जन्म दिन किस वार को आएगा।

- (1) सोमवार (2) मंगलवार
(3) बुधवार (4) गुरुवार

63. एक वर्ष 15 अगस्त को सोमवार था तो उसी वर्ष 6 सितंबर को कौन-सा वार आएगा?

- (1) गुरुवार (2) सोमवार
(3) मंगलवार (4) बुधवार

SPACE FOR ROUGH WORK

0302 / Hindi Set-A

25 of 32

P.T.O.

A	B	C	D	E	F	G	H	I	J	K	L	M	N	O	P	Q	R	S	T	U	V	W	X	Y
---	---	---	---	---	---	---	---	---	---	---	---	---	---	---	---	---	---	---	---	---	---	---	---	---

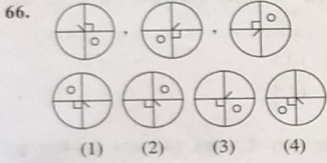
Note for Q. 64 to Q. 68 : The term given in each question have same common characteristic. Select the correct option to match the group.

64. Iron, bricks, sand,

- (1) Cotton (2) Coal
(3) Thread (4) Cement

65. Brain, Lungs, Heart

- (1) Skin (2) Ears
(3) Stomach (4) Eyes



67. 65, 83, 92

- (1) 54 (2) 87 (3) 47 (4) 39

68. 2520, 6273, 7092

- (1) 8085 (2) 2823 (3) 6018 (4) 8127

SPACE FOR ROUGH WORK

A	B	C	D	E	F	G	H	I	J	K	L	M	N	O	P	Q	R	S	T	U	V	W	X	Y
---	---	---	---	---	---	---	---	---	---	---	---	---	---	---	---	---	---	---	---	---	---	---	---	---

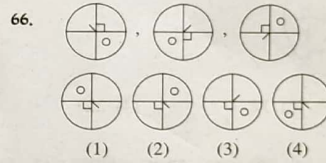
प्र. 64 सं 68 के लिए सूचना- प्रश्न के आरंभ में तीन पद दिए गए हैं उनकी कुछ विशेषताएँ हैं जिनके कारण उनका एक समूह तैयार होता है। इस समूह में सुसंगत बैठने वाले पद दिए गए पर्यायों में से निश्चित करो।

64. लोहा, ईंट, बालू

- (1) कपास (2) कोयला
(3) धागा (4) सीमेंट

65. मस्तिष्क, फुफ्फुस, हृदय

- (1) त्वचा (2) कान
(3) जठर (4) आँख



67. 65, 83, 92

- (1) 54 (2) 87 (3) 47 (4) 39

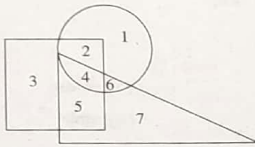
68. 2520, 6273, 7092

- (1) 8085 (2) 2823 (3) 6018 (4) 8127

SPACE FOR ROUGH WORK

ABCDE FGHIJ KLMNO PQRST UVWXY

69. Observe the venn diagram carefully and answer the following questions.
Which of the following number is seen only in the triangle ?



- (1) 7 (2) 6 (3) 5 (4) 4

70. Identify the correct option to replace the question mark in the given pattern.



- (1) 42 (2) 32 (3) 12 (4) 22

71. In a certain code language if $62 = 14$, $47 = 15$, $95 = 23$ then $38 = ?$

- (1) 11 (2) 14 (3) 36 (4) 8

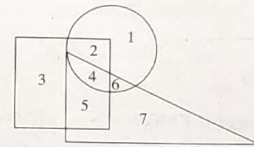
72. In a certain code language if $6 = 14$, $7 = 17$ and $3 = 5$ then $4 = ?$

- (1) 4 (2) 6
(3) 2 (4) 8

SPACE FOR ROUGH WORK

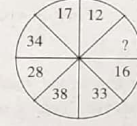
ABCDE FGHIJ KLMNO PQRST UVWXY

69. संलग्न आकृति ध्यान से देखो व दिए गए पर्यायों में से उत्तर ढूँढो।
केवल त्रिभुज में आने वाला अंक कौन-सा है?



- (1) 7 (2) 6 (3) 5 (4) 4

70. प्रश्नचिह्न के स्थान पर आने वाली संख्या का पर्याय क्रमांक ढूँढो व लिखो।



- (1) 42 (2) 32 (3) 12 (4) 22

71. एक सांकेतिक भाषा में $62 = 14$, $47 = 15$, $95 = 23$ तो $38 =$ कितना?

- (1) 11 (2) 14 (3) 36 (4) 8

72. एक सांकेतिक भाषा में $6 = 14$, $7 = 17$ व $3 = 5$ हो तो $4 =$ कितना?

- (1) 4 (2) 6
(3) 2 (4) 8

SPACE FOR ROUGH WORK

A	B	C	D	E	F	G	H	I	J	K	L	M	N	O	P	Q	R	S	T	U	V	W	X	Y
---	---	---	---	---	---	---	---	---	---	---	---	---	---	---	---	---	---	---	---	---	---	---	---	---

73. In a certain code language if CAP = □○◎, CAT = ○◎□, PAN = △○□ then TAN = ?

- (1) □△◎ (2) □□○
(3) ◎△□ (4) △○◎

74. In a certain code language if KMD = <>∨, KNM = ^><, NKD = ∨^> then MND = ?

[Note : The signs and alphabets may not be in the same order.]

- (1) ^∨> (2) ^<>
(3) ^∨< (4) ><∨

75. Teacher appeals to all students that as the yearly inspection is near all have to complete their assignment note books. Your assignment note book is completed, but you know that, one slow learner student of class has not completed his assignment note book, what will you do ?

- (1) I will tell my bench partner to give his assignment note book to that slow learner.
(2) I will help him to complete his assignment note book.
(3) I will not give my assignment note book to any one.
(4) I will tell the teacher that he misplaces the note books.

SPACE FOR ROUGH WORK

A	B	C	D	E	F	G	H	I	J	K	L	M	N	O	P	Q	R	S	T	U	V	W	X	Y
---	---	---	---	---	---	---	---	---	---	---	---	---	---	---	---	---	---	---	---	---	---	---	---	---

73. एक सांकेतिक भाषा में कमल = □○◎ नमक = ○◎□ कलय = △○□ हो तो 'यमन' शब्द कैसे लिखेंगे?

(सूचना-अक्षर व चिह्नों का क्रम समान हो यह आवश्यक नहीं है।)

- (1) □△◎ (2) □□○
(3) ◎△□ (4) △○◎

74. एक सांकेतिक भाषा में 'कमड' = <>∨ 'कनम' = ^>< 'नकड' = ∨^> हो तो 'मनड' शब्द कैसे लिखेंगे?

(सूचना: अक्षर व चिह्नों का क्रम समान हो यह आवश्यक नहीं है।)

- (1) ^∨> (2) ^<>
(3) ^∨< (4) ><∨

75. शाला की वार्षिक जाँच का समय नजदीक है। शिक्षकों ने समय से स्वाध्याय पुस्तिका पूर्ण करने के लिए कहा है। तुम्हारी स्वाध्याय पुस्तिका पूर्ण है पर कक्षा के एक गतिमंद विद्यार्थी की स्वाध्याय पुस्तिका अपूर्ण है यह तुम जानते हो। तुम क्या करोगे?

- (1) मैं अपने साथ बैठने वाले मित्र से उसकी स्वाध्याय पुस्तिका देने के लिए कहूँगा/कहूँगी।
(2) मैं उसकी स्वाध्याय पुस्तिका पूर्ण करने में मदद करूँगा/करूँगी।
(3) मैं अपनी स्वाध्याय पुस्तिका किसी को नहीं दूँगा/दूँगी।
(4) शिक्षकों से कहूँगा/कहूँगी कि वह विद्यार्थी कॉपी खो देता है।

SPACE FOR ROUGH WORK

SPACE FOR ROUGH WORK

SEAL