

पूर्व उच्च प्राथमिक शिष्यवृत्ती परीक्षा (इयत्ता 5वी) फेब्रुवारी 2020

बैठक क्र.

--	--	--	--	--	--	--	--	--	--

0 1 0 2

संच

A

पेपर क्र. II

पृष्ठ : 32

माध्यम : मराठी

तृतीय भाषा व बुद्धिमत्ता चाचणी

वेळ : 1.30 ते 3.00

एकूण गुण : 150

प्रश्नपत्रिका सोडविण्यापूर्वी कृपया खालील सूचना काळजीपूर्वक वाचा:

- (1) या प्रश्नपत्रिकेत दोन विभाग आहेत. त्यापैकी विभाग I मध्ये तृतीय भाषा विषयासाठी 1 ते 25 व विभाग II मध्ये बुद्धिमत्ता चाचणी विषयासाठी 26 ते 75 असे एकूण 75 प्रश्न आहेत. सर्व प्रश्न सोडविणे आवश्यक आहे.
- (2) प्रत्येक प्रश्नासाठी 2 गुण आहेत.
- (3) प्रश्नपत्रिका सोडविण्यासाठी एकूण 90 मिनिटांचा कालावधी दिला जाईल.
- (4) उत्तरे नोंदविण्यासाठी स्वतंत्र उत्तरपत्रिका दिलेली आहे. प्रत्येक प्रश्नक्रमांकासमोर चार पर्यायासाठी क्रमागत वर्तुळे दिलेली आहेत. त्यातील अचूक उत्तराचा पर्याय क्रमांक असलेल वर्तुळ पुढील उदाहरणात दाखविल्याप्रमाणे रंगवा. उदा. प्रश्न क्र 6 च्या बरोबर उत्तराचा पर्याय क्र. 2 असेल. तर तो पुढीलप्रमाणे नोंदवावा.
प्रश्न क्र. 6 ① ● ③ ④
- (5) खालीलप्रमाणे नोंदविलेली उत्तर ग्राह्य धरण्यात येणार नाहीत. असे उत्तर नोंदविल्यास त्या प्रश्नास 'शून्य' गुण दिले जातील.
① ② ● ④
- (6) प्रत्येक प्रश्नासाठी एकापेक्षा अधिक वर्तुळात नोंदविलेली उत्तरे व खाडाखोड करून नोंदविलेली उत्तरे ग्राह्य धरण्यात येणार नाहीत.
- (7) एकदा नोंदविलेली उत्तरे पुन्हा बदलता येणार नाहीत.
- (8) पर्यायाची उत्तरे नोंदविताना फक्त काळ्या किंवा निळ्या रंगाच्या बॉलपेनचाच वापर करावा. पेन्सिलने नोंदविलेली उत्तरे ग्राह्य धरण्यात येणार नाहीत.
- (9) प्रश्नपत्रिकेत प्रत्येक पानावर खाली व शेवटच्या पानावर कच्चे काम करण्यासाठी मोकळी जागा आहे, तेथेच कच्चे काम करावे.
- (10) परीक्षेस मर्यादित वेळ असल्याने एखाद्या प्रश्नाचे उत्तर तुम्हाला येत नसल्यास पुढील प्रश्न सोडवा. शेवटी वेळ शिल्लक राहिल्यास उरलेल्या प्रश्नासाठी पुन्हा प्रयत्न करावा.
- (11) एखाद्या प्रश्नात त्रुटी/चूक आढळल्यास त्याबाबत पर्यवेक्षक किंवा परीक्षा केंद्रसंचालक यांच्याकडे विचारणा करू नये.
- (12) प्रश्नातील त्रुटी/चूक आक्षेपाबाबतचे निवेदन शाळेने किंवा पालकानी गटशिक्षणाधिकारी किंवा शिक्षणाधिकारी यांच्याकडे लेखी स्वरूपात न पाठवता संबंधित शाळेच्या लॉगीन मधून ऑनलाईन पद्धतीनेच पाठवावे.
- (13) त्रुटी/चूक/आक्षेपाबाबतचे निवेदन ऑनलाईन पद्धतीने पाठविण्याची मुदत परीक्षा परीषदेच्या संकेतस्थळावर अंतरिम (तात्पुरती) उत्तरसूची प्रसिद्ध झाल्यापासून 10 (दहा) दिवसांपर्यंत राहिल.
- (14) मुद्रणदोष किंवा अन्य कारणामुळे प्रश्न चुकीचा असल्याचे आढळल्यास तज्ञ समितीच्या अभिप्रायानुसार योग्य ती कार्यवाही केली जाईल.
- (15) मूळ माध्यमासोबत इंग्रजी भाषेतील प्रश्नपत्रिका दिलेली आहे. मूळ माध्यमातील संदिग्ध प्रश्नाबाबत इंग्रजी प्रश्न पहावेत.

SEAL

SECTION-1

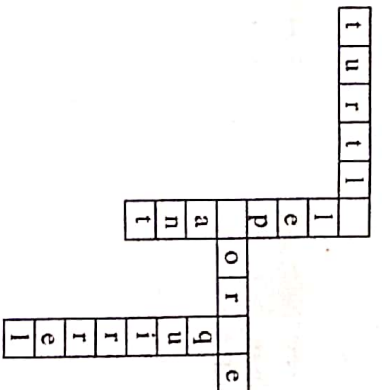
Q1 to Q3 : Read the passage carefully and answer the following questions.

A crow was very thirsty. It flew to a garden in search of water. There was a pot having a little water in it. So the crow put pebbles into the pot. The water rose up. The crow drank it and flew away.

- Who was very thirsty?
 - cow
 - crow
 - parrot
 - fox
- Select the correct option and complete the sentence.
The crow flew to a in search of water.
 - Garden
 - Well
 - House
 - School
- What did the crow put into the pot?
 - Leaves
 - Sticks
 - Pebbles
 - Money
- If dogs: bark
then bears:
 - Snore
 - Squawk
 - Squeal
 - Screach

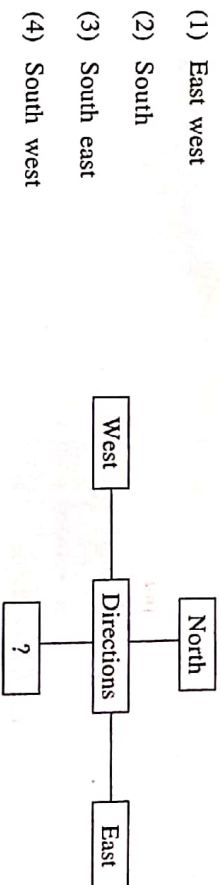
SPACE FOR ROUGH WORK

5. Select the correct option and solve the puzzle.



- k, l, o
- m, g, b
- l, s, j
- e, h, s

6. Select the correct alternative and fill in the box.



- Select the correct option and complete the sentence.
I will give it back to you
 - Yesterday
 - Last week
 - Tomorrow
 - Long long ago

क्यासा काभारादी फक्त

8. Choose the correct request from the
My friend forgot his pen.
He said, ""

- (1) Please give me your pen. (2) He gave me his pen.
(3) I brought your pen. (4) Can I give my pen to you?

9. Select the correct option.

We should cover our mouth when
we

- (1) Share (2) Crawl (3) Sneeze (4) Climb

10. Look at the given picture and choose the correct conversation.



- (1) A : Give me tomatoes.
B : Where's your bag?
(2) A : Do you like roasted corn cobs?
B : Oh! I love them.
(3) A : Hello uncle can you deliver the box today?
B : Sure.
(4) A : Have you tried these cakes?
B : This is a new cake shop.

SPACE FOR ROUGH WORK

11. Select the correct option.
Keep your hands on your

- (1) waste (2) west
(3) wait (4) waist

12. Find the odd pair.

- (1) August September (2) October November
(3) April May (4) June August

13. Find out the odd term

- (1) Thigh (2) Deer
(3) Thieves (4) Oxen

14. Select the correct option and complete the sentence.

- Isha..... eat fruits.
(1) doesn't (2) doesn't
(3) doesn't (4) doesn't

15. Select the correct option and complete the sentence.

- We go by Auto-rickshaw
(1) A (2) The
(3) An (4) No article

16. Find the odd group

- (1) king, ring, thing, sing (2) tall, fall, ball, call
(3) keep, peep, sheep, jeep (4) get, wet, not, let

कव्यात काव्यातों त्तत

17. Select the correct punctuation mark for the given sentence.
Does she go to school

- (1) Full stop (2) Comma
(3) Question mark (4) Capitalization

18.

Maha Sale
Sari and Kurti
Offer- Buy 1 Get 3
Rs. 1000/- only

The special offer is

- (1) Buy one get one
(2) Buy one get two
(3) Buy one get three
(4) Buy one get four

19. Choose the correct sentence showing proper position of a comma.

- (1) Master Master have, pity, on me.
(2) Master Master have, pity on, me.
(3) Master, Master, have pity on me.
(4) Master Master have pity, on me.

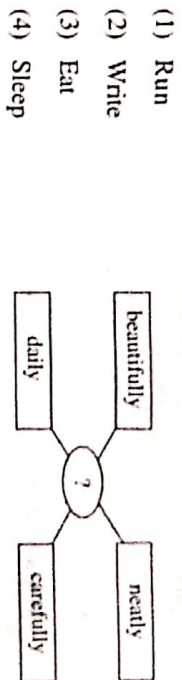
20. Solve the riddle.

I use scissors. I use a needle
and thread. I make clothes
from cloth. Who am I ?

- (1) Tailor (2) Potter (3) Cobbler (4) Jeweller

SPACE FOR ROUGH WORK

21. Find out the correct word to complete the given diagram.



22. Where should be the exclamation mark in the given sentence?

Select the correct option.
Good morning Kondiba

- (1) after morning (2) after good
(3) before Kondiba (4) after Kondiba

23. Choose the correct option.

Many Many Happy Returns Of The Day !

This message is about.....

- (1) Wedding (2) New year
(3) Birthday (4) Journey

24. Select the correct alternative

As yellow as

- (1) Dawn (2) Rain
(3) Turmeric (4) Honey

25. Find the odd group.

- (1) cement, city, circus, centre (2) group, good, gate, ground
(3) brown, bucket, black, brinjial (4) kite, kangaroo, know, king

कव्या काव्याती फक्त

A B C D E F G H I J K L M N O P Q R S T U V W X Y

SECTION-II

INTELLIGENCE TEST

26. In the word 'ADJECTIVE' which letter is third to the left of the middle position letter ?

- (1) D (2) J
(3) V (4) I

27. A B C D E F G H I J K L M N O P Q R S T U V W X Y

In the given letters series, what is the position of the letter from start which is fourth to the left of the letter which is tenth from the right side of the series.

- (1) 19 (2) 12
(3) 20 (4) 6

28. How many total vowels are there in the given sentence ?

'Rupa gave letter to Ram.'

- (1) 5 (2) 3
(3) 8 (4) 9

29. 3. 2. 7. 1. 0. 5. 6. 6. 4. 3. 6. 1. 7. 3. 3. 2

In the given number series, what is the difference between the square of the number which is 6th from left and which is 7th from right side ?

- (1) 34 (2) 0
(3) 8 (4) 16

SPACE FOR ROUGH WORK

A B C D E F G H I J K L M N O P Q R S T U V W X Y

SECTION-II

बुद्धिमत्ता चाचणी

26. 'क्रिया विशेषणदर्शक' या शब्दातील मध्यमार्गी अमण-या अक्षराच्या इर्वाकडील तिसरे अक्षर कोणते?

- (1) या (2) वि
(3) यां (4) द

27. A B C D E F G H I J K L M N O P Q R S T U V W X Y

वरील अक्षरमालेतील उजवीकडून दहाव्या अक्षराच्या इर्वाकडील चौथे अक्षर मुळावीपासून मोजल्यास कितीवे येईल?

- (1) 19 (2) 12
(3) 20 (4) 6

28. 'प्रजाहितदक्ष, ज्ञानवर्धक, रक्षणकर्ता, वृक्ष, स्वतंत्र' या शब्दांमध्ये एकूण जोडाक्षरे किती आहेत?

- (1) 4 (2) 3
(3) 8 (4) 9

29. 3. 2. 7. 1. 0. 5. 6. 6. 4. 3. 6. 1. 7. 3. 3. 2


वरील अंकमालेतील डावीकडून 6 व्या अंकाचा वर्ग व उजवीकडून 7 व्या अंकाचा वर्ग यातील फरक किती येईल?

- (1) 34 (2) 0
(3) 8 (4) 16

कळ्या कापासाठी फक्त

| | | | | | | | | | | | | | | | | | | | | | | | | |
|---|---|---|---|---|---|---|---|---|---|---|---|---|---|---|---|---|---|---|---|---|---|---|---|---|
| A | B | C | D | E | F | G | H | I | J | K | L | M | N | O | P | Q | R | S | T | U | V | W | X | Y |
|---|---|---|---|---|---|---|---|---|---|---|---|---|---|---|---|---|---|---|---|---|---|---|---|---|

Note for : Q. 30 to Q. 34 : [Find odd man out]

30. (1) Puppet show (2) Television
 (3) Computer (4) Cinema
31. (1) May (2) July
 (3) June (4) August
32. (1) 2651 (2) 2246
 (3) 5324 (4) 6215
33. (1) 9338 (2) 7276
 (3) 9295 (4) 4279
34.  (1) (2) (3) (4)
35. In the given number series, select the correct option to replace the question mark.
 3, 4, 7, 10, 15, 22, 31, ?
 (1) 46 (2) 40
 (3) 44 (4) 42

SPACE FOR ROUGH WORK

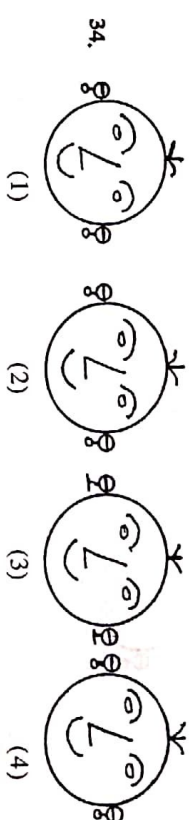
0102 / Marathi Set-A

10 of 32

P.T.O.

| | | | | | | | | | | | | | | | | | | | | | | | | |
|---|---|---|---|---|---|---|---|---|---|---|---|---|---|---|---|---|---|---|---|---|---|---|---|---|
| A | B | C | D | E | F | G | H | I | J | K | L | M | N | O | P | Q | R | S | T | U | V | W | X | Y |
|---|---|---|---|---|---|---|---|---|---|---|---|---|---|---|---|---|---|---|---|---|---|---|---|---|

प्र. 30 ते 34 साठी सूचना- गटाल न बसणारे पर ओळखा.

30. (1) बाहुलीनाट्य (2) दूरदर्शन
 (3) संगणक (4) सिनेमा
31. (1) मे (2) जुलै
 (3) जून (4) ऑगस्ट
32. (1) 2651 (2) 2246
 (3) 5324 (4) 6215
33. (1) 9338 (2) 7276
 (3) 9295 (4) 4279
34.  (1) (2) (3) (4)
35. खालील संख्यामालिकेत प्रश्नचिन्हाच्या जागीचा पर्याय निवडा.
 3, 4, 7, 10, 15, 22, 31, ?
 (1) 46 (2) 40
 (3) 44 (4) 42-

कव्या कागसाची फक्त

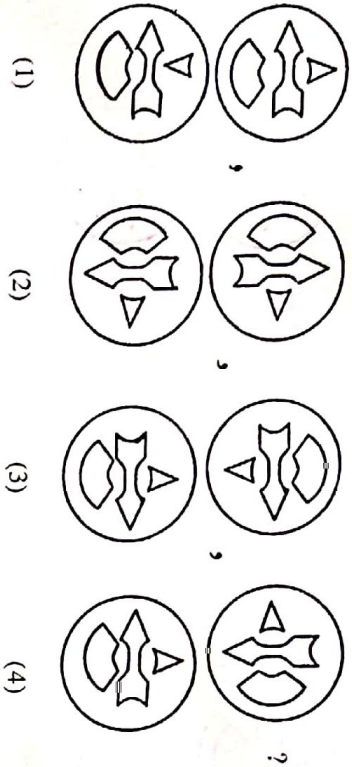
0102 / Marathi Set-A

11 of 32

P.T.O.

ABCDE FGHIJ KLMNO PQRST UVWXY

36. In the given series of figures, select the correct option to replace the question mark.



37. Select the wrong term in the given number series.

2, 7, 28, 64, 126, 215

(1) 28

(2) 64

(3) 215

(4) 7

38. Select the correct option to replace the question mark in the given number series.

14, 16, 19, 24, 31, 42, 55 ?

(1) 65

(2) 72

(3) 75

(4) 70

SPACE FOR ROUGH WORK

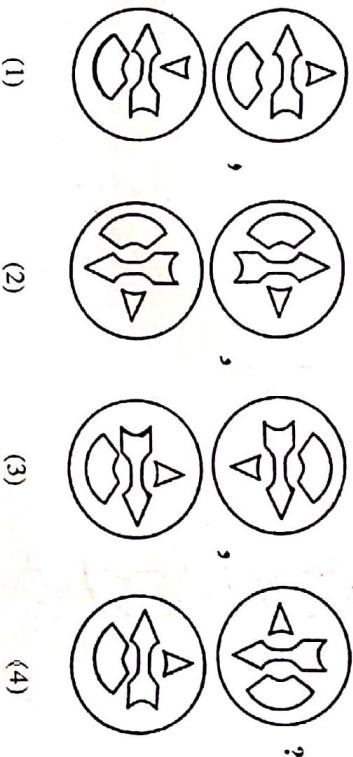
0102 / Marathi Set-A

12 of 32

P.T.O.

ABCDE FGHIJ KLMNO PQRST UVWXY

36. पुढील आकृत्यांमध्ये विशिष्ट प्रकारचा क्रम आहे. तो क्रम ओळखून प्रश्नचिन्हाच्या जागी कोणती आकृती येईल ते सोधा.



37. पुढील संख्यामालिकेतील चुकीचे पद ओळखा.

2, 7, 28, 64, 126, 215

(1) 28

(2) 64

(3) 215

(4) 7

38. पुढील संख्यामालिकेत प्रश्नचिन्हाच्या जागी कोणता पर्याय येईल ते लिहा.

14, 16, 19, 24, 31, 42, 55 ?

(1) 65

(2) 72

(3) 75

(4) 70

कच्चा कागसाची फक्त

0102 / Marathi Set-A

13 of 32

P.T.O.

AB CDE FGHIJ KLMNO PQRST UVWXY

39. Select the correct option to replace the question mark in the given groups of signs.

$< > + \times +, > + \times + <, + \times + < >, \times + < > +, ?$

(1) $< > + \times +$ (2) $+ \times + < >$

(3) $+ \times < > +$ (4) $+ < > + \times$

40. If Deer is called as Rabbit, Rabbit is called as Shekaroo, Shekaroo is called as Porcupise, Porcupise is called as Tiger, Tiger is called as Bear then which animal is the state animal ?

(1) Shekaroo (2) Tiger

(3) Rabbit (4) Porcupise

41. The sum of ages of Mother, Father and Son three years ago was 73. What will be the sum of their ages five years later ?

(1) 97 (2) 75

(3) 78 (4) 88

42. Anushka's score of marks is more than Arya but less than Aaboli. Shevanti's score is same as Arya but to more than Chameli. Who has scored the highest marks ?

(1) Arya (2) Aaboli

(3) Shevanti (4) Anushka

SPACE FOR ROUGH WORK

AB CDE FGHIJ KLMNO PQRST UVWXY

39. पुढे दिलेल्या चिन्हांच्या मातिकेत प्रश्नचिन्हाच्या जागी चिन्हाचा कोणता समूह येईल ते लिहा.

$< > + \times +, > + \times + <, + \times + < >, \times + < > +, ?$

(1) $< > + \times +$ (2) $+ \times + < >$

(3) $+ \times < > +$ (4) $+ < > + \times$

40. हरणाला ससा म्हटले, सशाला शेंकरू म्हटले, शेंकरूला साळिंदर म्हटले, साळिंदरला सांबर म्हटले, सांबराला असल म्हटले, तर महासार्दाचा राज्याप्रणी कोणता?

(1) शेंकरू (2) सांबर

(3) ससा (4) साळिंदर

41. आई, वडील, मुलगा यांच्या तीनवर्षापूर्वीच्या वयांची बेरीज 73 वर्षे होती तर पाच वर्षांनंतर त्या तिघांच्या वयांची बेरीज किती वर्षे होईल?

(1) 97 (2) 75

(3) 78 (4) 88

42. अनुष्काला आर्यापेक्षा अधिक पण अबोलीपेक्षा कमी गुण मिळाले आहेत. शेवंतीला आर्याइतकच पण चमेलीपेक्षा जास्त गुण मिळाले आहेत. तर सर्वात जास्त गुण कोणाला मिळाले आहेत?

(1) आर्या (2) अबोली

(3) शेवंती (4) अनुष्का

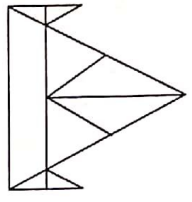
कव्या काभासारी फक्त

A B C D E F G H I J K L M N O P Q R S T U V W X Y

43. Akshay said to Aarti 'your mother's father is my father's father.' What is the relation of Akshay with Aarti's mother ?

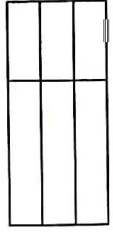
- (1) Son of husband's brother
- (2) Uncle
- (3) Grandson
- (4) Son of husband's sister

44. How many total number of triangles are there in the adjacent figure ?



- (1) 14
- (2) 15
- (3) 10
- (4) 12

45. In the figure given below how many total number of quadrilaterals are there ?



- (1) 9
- (2) 6
- (3) 18
- (4) 15

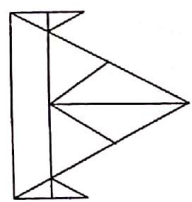
SPACE FOR ROUGH WORK

A B C D E F G H I J K L M N O P Q R S T U V W X Y

43. अक्षय आरतीला म्हणाला, "तुझ्या आईचे वडील हे माझ्या वडिलांचे वडील आहेत." तर अक्षय आरतीच्या आईचा कोण लागतो ?

- (1) पुतण्या
- (2) चुलता
- (3) नातू
- (4) भाना

44. पुढील आकृतीत त्रिकोणांची एकूण संख्या किती आहेत.



- (1) 14
- (2) 15
- (3) 10
- (4) 12

45. खालील आकृतीत एकूण चौकोनांची संख्या किती आहे ?




- (1) 9
- (2) 6
- (3) 18
- (4) 15

कच्चा कामासाठी फक्त

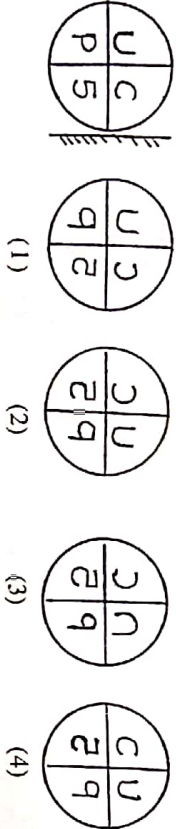
A B C D E F G H I J K L M N O P Q R S T U V W X Y

Note for Q. 46 and Q. 47 : Select the correct option to match the mirror image of the question figure.

46. Question Figure Answer Figure

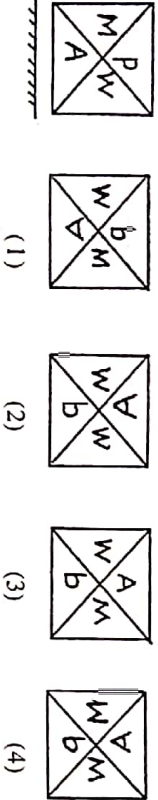


47. Question Figure Answer Figure

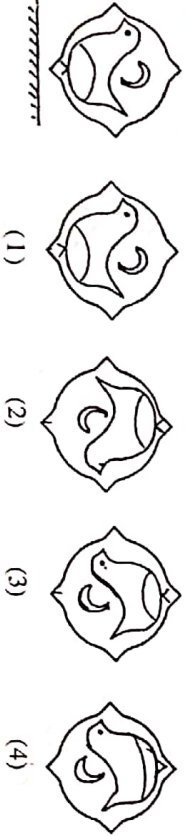


Note for Q. 48 and Q. 49 : Select the correct option to match the water image of the question figure.

48. Question Figure Answer Figure



49. Question Figure Answer Figure




SPACE FOR ROUGH WORK

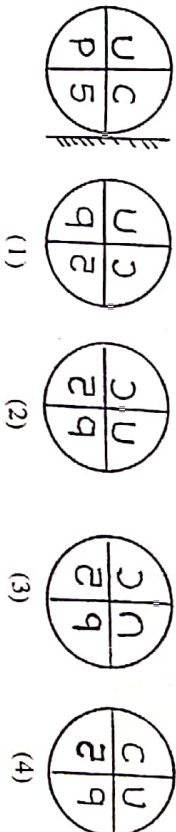
A B C D E F G H I J K L M N O P Q R S T U V W X Y

प्र. 46 ते 47 साठी सूचना- पुढील प्रश्नांमधील प्रश्नाकृतीची आरशातील प्रतिमा कशी दिसेल ते पर्यायी उत्तर आकृत्यांमधून निश्चित करा.

46. प्रश्नाकृती उत्तर आकृती

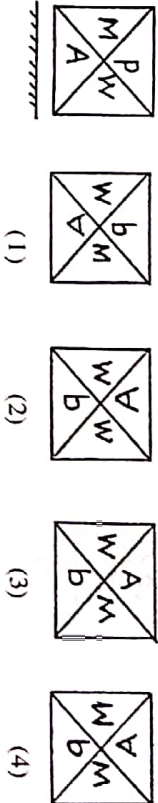


47. प्रश्नाकृती उत्तर आकृती

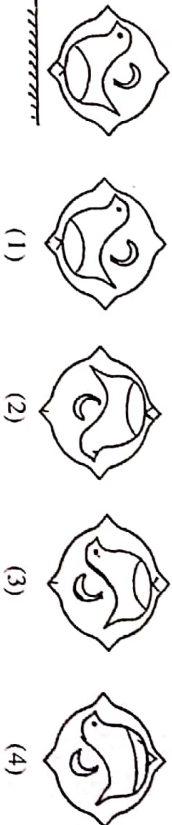


प्र. 48 व 49 साठी सूचना- पुढे दिलेली प्रश्नाकृती पाण्यावर उभी धरल्यास तिचे पाण्यात प्रतिबिंब कसे दिसेल ते उत्तर आकृत्यांमधून योग्य.

48. प्रश्नाकृती उत्तर आकृती



49. प्रश्नाकृती उत्तर आकृती



कव्या काव्यासाठी फक्त

A B C D E F G H I J K L M N O P Q R S T U V W X Y

Note for Q. 50 to Q. 54 : There exists a relation between first and second term, similar relation holds true for third and fourth term. Accordingly select the correct option to replace the question mark.

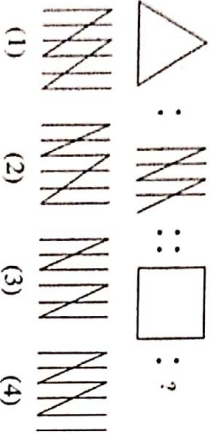
50. Crops : farm : : fruits : ?

- (1) Orchard (2) Market
(3) Mall (4) Shop

51. Sparrow : noun : : went : ?

- (1) Pronoun (2) Verb
(3) Noun (4) Adjective

52.



53. 5 : 12 : : 6 : ?

- (1) 18 (2) 15
(3) 12 (4) 21

54. 4396 : 6475 : : 3485 : ?

- (1) 4595 (2) 4574
(3) 5564 (4) 4564

SPACE FOR ROUGH WORK

0102 / Marathi Set-A

20 of 32

P.T.O.

A B C D E F G H I J K L M N O P Q R S T U V W X Y

50 ते 54 साठी सूचना - पहिल्या पदाचा संबंध दुसऱ्या पदाशी जसा आहे, तसाच संबंध तिसऱ्या पदाचा चौथ्या पदाशी शोधून प्रश्नचिन्हाच्या जागीचा पर्याय निवडा.

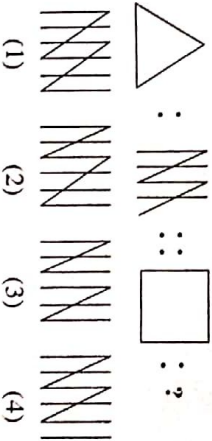
50. ऊस : शेत : : भाजीपाला : ?

- (1) मळा (2) मंडई
(3) बाजार (4) दुकान

51. चिमणी : नाम : : गेला : ?

- (1) सर्वनाम (2) क्रियापद
(3) नाम (4) विशेषण

52.



53. 5 : 12 : : 6 : ?

- (1) 18 (2) 15
(3) 12 (4) 21

54. 4396 : 6475 : : 3485 : ?

- (1) 4595 (2) 4574
(3) 5564 (4) 4564

कव्या काभासती फक्त

0102 / Marathi Set-A

21 of 32

P.T.O.

A B C D E F G H I J K L M N O P Q R S T U V W X Y

55. Which of the following action of Raju is correct, when he saw garbage lying at the place where small children were playing ?

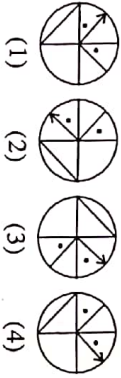
- (1) He picked up the garbage and threw it into the dustbin.
- (2) He neglected it.
- (3) He pushed out all the children from that place.
- (4) He purposely tell the security person to pick up the garbage.

Note for Q. 56 and Q. 57 : Select the figure perfectly matching to the question figure from the given options.

56. Question Figure



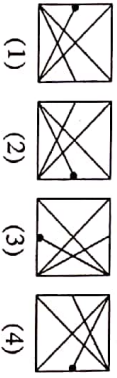
Answer Figure



57. Question Figure



Answer Figure



58. In a row there are 15 girls to the right side of Savita and 11 girls to her left, if she is standing at the middle then what is her position number ?

- (1) 12th
- (2) 13th
- (3) 14th
- (4) 15th

SPACE FOR ROUGH WORK

A B C D E F G H I J K L M N O P Q R S T U V W X Y

55. जेथे लहान मुले खेळत आहेत तेथे पडलेला कचरा पाहून राजूने केलेली कोणती कृती योग्य होईल?

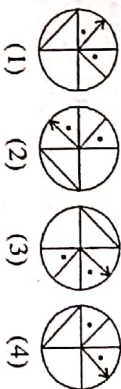
- (1) कचरा उचलून कचराकुंडीत टाकला
- (2) दुर्लक्ष केले
- (3) सर्व मुलांना तेथून हाकलून लावले
- (4) तेथील रखवालदाराला मुद्दाम उचलण्यास सांगितले

प्र. 56 व 57 साठी सूचना— खालील प्रश्नाकृतीस तंतोतंत जुळणारी आकृती पर्यायातून शोधा.

56. प्रश्नाकृती



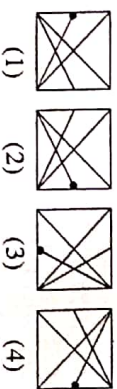
उत्तर आकृती



57. प्रश्नाकृती



उत्तर आकृती



58. एका रांीत सविताच्या उजवीकडे 15 मुली व डावीकडे 11 मुली उभ्या आहेत, याच रांीत मध्यभागी उभ्या असलेल्या कविताचा क्रमांक कितीवा?

- (1) 12 वा
- (2) 13 वा
- (3) 14 वा
- (4) 15 वा

कच्च्या कामासाठी फक्त

A B C D E F G H I J K L M N O P Q R S T U V W X Y

59. Students are standing for mass P.T. The number of rows and students in one row is same. If 15 students are standing in each row then what is the total number of students standing for mass P.T. ?

- (1) 225 (2) 150
(3) 250 (4) 125

60. John is standing with his back towards the East. He turns to his right hand two times at right angle. Which direction is he facing now ?

- (1) West (2) South
(3) East (4) North

61. Ahmed went 18 km in the west direction, then he went 11.5 km to the south, then he went 6.5 km to the east, then he went 11.5 km to the north and he stopped there. At what distance is he from the starting point ?

- (1) 11 km (2) 10.5 km
(3) 12.5 km (4) 11.5 km

62. Mandar was born on 7th July 2007 Saturday. Which day will it be on his second birthday ?

- (1) Monday (2) Tuesday
(3) Wednesday (4) Thursday

63. In a certain year if 15th August falls on Monday, then in the same year 6th September will fall on which day ?

- (1) Thursday (2) Monday
(3) Tuesday (4) Wednesday

SPACE FOR ROUGH WORK

0102 / Marathi Set-A

24 of 32

P.T.O.

A B C D E F G H I J K L M N O P Q R S T U V W X Y

59. कवायतीसाठी जेवढ्या रांगा आहेत तेवढीच मुले प्रत्येक रांगेत आहेत, जर प्रत्येक रांगेत 15 मुले असतील तर मैदानवरील कवायतीसाठीच्या सर्व मुलांची संख्या किती ?

- (1) 225 (2) 150
(3) 250 (4) 125

60. जॉन पूर्वेकडे पाठ करून उभा आहे, तो त्याच्या उजव्या बाजूने काटकोनात दोन वेळा फिरला, तर त्याचे तोंड कोणत्या दिशेला येईल ?

- (1) पश्चिम (2) दक्षिण
(3) पूर्व (4) उत्तर

61. अहमद पश्चिमेला 18 किमी गेला नंतर तो दक्षिणेला 11.5 किमी गेला, त्यानंतर पूर्वेला 6.5 किमी गेला. नंतर उत्तरेला 11.5 किमी जाऊन थांबला तर तो मूळ ठिकाणापासून किती किमी अंतरावर आहे ?

- (1) 11 किमी (2) 10.5 किमी
(3) 12.5 किमी (4) 11.5 किमी

62. मंदारचा जन्म 7 जुलै 2007 ला शनिवारी झाला. तर त्याचा दुसरा वाढदिवस कोणत्या वारी येईल ?

- (1) सोमवार (2) मंगळवार
(3) बुधवार (4) गुरुवार

63. एक वर्षी 15 ऑगस्टला सोमवार होता, तर त्याच वर्षीतील 6 सप्टेंबर कोणत्या वारी येईल ?

- (1) गुरुवार (2) सोमवार
(3) मंगळवार (4) बुधवार

कव्या कामासाठी फक्त

0102 / Marathi Set-A

25 of 32

P.T.O.

| | | | | | | | | | | | | | | | | | | | | | | | | |
|---|---|---|---|---|---|---|---|---|---|---|---|---|---|---|---|---|---|---|---|---|---|---|---|---|
| A | B | C | D | E | F | G | H | I | J | K | L | M | N | O | P | Q | R | S | T | U | V | W | X | Y |
|---|---|---|---|---|---|---|---|---|---|---|---|---|---|---|---|---|---|---|---|---|---|---|---|---|

Note for Q. 64 to Q. 68 : The term given in each question have same common characteristic. Select the correct option to match the group.

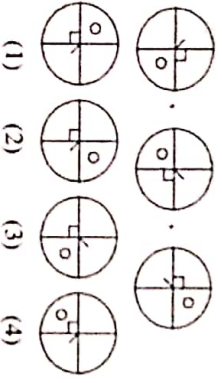
64. Iron, bricks, sand,

- (1) Cotton
(2) Coal
(3) Thread
(4) Cement

65. Brain, Lungs, Heart

- (1) Skin
(2) Ears
(3) Stomach
(4) Eyes

66.



- (1) (2) (3) (4)

67. 65, 83, 92

- (1) 54
(2) 87
(3) 47
(4) 39

68. 2520, 6273, 7092

- (1) 8085
(2) 2823
(3) 6018
(4) 8127

SPACE FOR ROUGH WORK

| | | | | | | | | | | | | | | | | | | | | | | | | |
|---|---|---|---|---|---|---|---|---|---|---|---|---|---|---|---|---|---|---|---|---|---|---|---|---|
| A | B | C | D | E | F | G | H | I | J | K | L | M | N | O | P | Q | R | S | T | U | V | W | X | Y |
|---|---|---|---|---|---|---|---|---|---|---|---|---|---|---|---|---|---|---|---|---|---|---|---|---|

Q. 64 ते 68 साठी पुरवण - उरणाच्या सुवातीच्या तीन पर्यायांमध्ये, त्यांचे काही वैशिष्ट्ये आहेत, त्यापैकी त्यांचा एक पर्याय निवडा, या पर्याय वसणारे पर्याय निवडा.

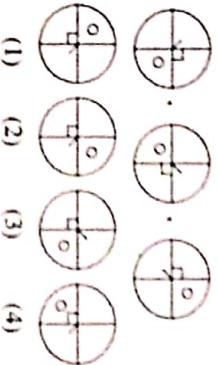
64. लोखंड, पिवडा, वाळू

- (1) कापूस
(2) कोयला
(3) धागा
(4) सीमेंट

65. मूठ, फुफ्फुस, हृदय

- (1) त्वचा
(2) कान
(3) पेट
(4) डोळे

66.



- (1) (2) (3) (4)

67. 65, 83, 92

- (1) 54
(2) 87
(3) 47
(4) 39

68. 2520, 6273, 7092

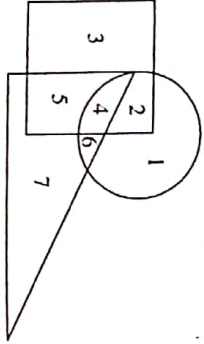
- (1) 8085
(2) 2823
(3) 6018
(4) 8127

काळ्या कागदासाठी पुरवण

ABCDE FGHIJ KLMNO PQRST UVWXY

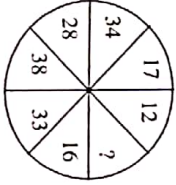
69. Observe the venn diagram carefully and answer the following questions.

Which of the following number is seen only in the triangle ?



- (1) 7 (2) 6 (3) 5 (4) 4

70. Identify the correct option to replace the question mark in the given pattern.



- (1) 42 (2) 32 (3) 12 (4) 22

71. In a certain code language if 62 = 14, 47 = 15, 95 = 23 then 38 = ?

- (1) 11 (2) 14 (3) 36 (4) 8

72. In a certain code language if 6 = 14, 7 = 17 and 3 = 5 then 4 = ?

- (1) 4 (2) 6
(3) 2 (4) 8

SPACE FOR ROUGH WORK

0102 / Marathi Set-A

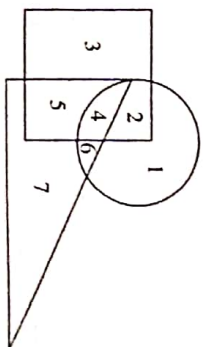
28 of 32

P.T.O.

ABCDE FGHIJ KLMNO PQRST UVWXY

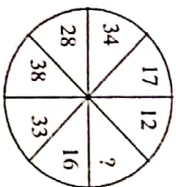
69. युडील आकृती काल्जीपूर्वक पहा प्रश्नाचे उत्तर पर्यायमधून निवडा.

फक्त त्रिकोणात असणारा अंक कोणता?



- (1) 7 (2) 6 (3) 5 (4) 4

70. प्रश्नचिह्नाख्य जागी येणाऱ्या संख्येचा पर्याय शोधा व लिहा



- (1) 42 (2) 32 (3) 12 (4) 22

71. एका सांकेतिक भाषेत 62 = 14, 47 = 15, 95 = 23 तर 38 = फिकती?

- (1) 11 (2) 14 (3) 36 (4) 8

72. एका सांकेतिक भाषेत 6 = 14, 7 = 17 व 3 = 5 तर 4 = फिकती?

- (1) 4 (2) 6
(3) 2 (4) 8

कळ्या कापाराती फक्त

0102 / Marathi Set-A

29 of 32

P.T.O.

| | | | | | | | | | | | | | | | | | | | | | | | | |
|---|---|---|---|---|---|---|---|---|---|---|---|---|---|---|---|---|---|---|---|---|---|---|---|---|
| A | B | C | D | E | F | G | H | I | J | K | L | M | N | O | P | Q | R | S | T | U | V | W | X | Y |
|---|---|---|---|---|---|---|---|---|---|---|---|---|---|---|---|---|---|---|---|---|---|---|---|---|

73. In a certain code language if CAP = □○○○, CAT = ○○○□, PAN = △○○ then TAN = ?

- (1) □△○○ (2) □□○○
 (3) ○△□□ (4) △○○○

74. In a certain code language if KMD = < > ∨, KNM = ∧ > <, NKD = ∨ ∧ > then MND = ?

[Note : The signs and alphabets may not be in the same order.]

- (1) ∧ ∨ > (2) ∧ < >
 (3) ∧ ∨ < (4) > < ∨

75. Teacher appeals to all students that as the yearly inspection is near all have to complete their assignment note books. Your assignment note book is completed, but you know that, one slow learner student of class has not completed his assignment note book, what will you do ?

- (1) I will tell my bench partner to give his assignment note book to that slow learner.
 (2) I will help him to complete his assignment note book.
 (3) I will not give my assignment note book to any one.
 (4) I will tell the teacher that he misplaces the note books.

SPACE FOR ROUGH WORK

| | | | | | | | | | | | | | | | | | | | | | | | | |
|---|---|---|---|---|---|---|---|---|---|---|---|---|---|---|---|---|---|---|---|---|---|---|---|---|
| A | B | C | D | E | F | G | H | I | J | K | L | M | N | O | P | Q | R | S | T | U | V | W | X | Y |
|---|---|---|---|---|---|---|---|---|---|---|---|---|---|---|---|---|---|---|---|---|---|---|---|---|

73. एका सांकेतिक भाषेत 'कमल' = □○○○ 'नमक' = ○○○□ 'कलय' = △○○□ तर 'यमन' शब्द कसा लिहिलेला?

- (सूचना-अक्षरे व चिन्हांचा क्रम सारखा असेलच असे नाही)
 (1) □△○○ (2) □□○○
 (3) ○△□□ (4) △○○○

74. एका सांकेतिक भाषेत 'कमड' = < > ∨ कनम = ∧ > < नकड = ∨ ∧ > हो तो 'मनड' शब्द कसा लिहिलेला?

- (सूचना- अक्षरे व चिन्हांचा क्रम सारखा असेलच असे नाही)
 (1) ∧ ∨ > (2) ∧ < >
 (3) ∧ ∨ < (4) > < ∨

75. शाळेची वार्षिक तपासणी जवळ आली आहे, सर्वांनी स्वाध्याय वही पूर्ण करण्याचे आवाहन शिक्षकांनी केले आहे. तुमची स्वाध्यायवही पूर्ण असून वर्गातील एका गतिमंद विद्यार्थ्याची स्वाध्यायवही अपूर्ण आहे. हे आपणास माहीत आहे. तुम्ही काय कराल?

- (1) मध्या शेजारीवसणाऱ्या विभास त्याची स्वाध्यायवही देण्यास सांगेन
 (2) मी त्याची स्वाध्यायवही पूर्ण करण्यास मदत करीन
 (3) मझी स्वाध्यायवही कुणालाही देणार नाही
 (4) तो विद्यार्थी वही हरवतो. असे शिक्षकांना सांगेन

कव्या काव्यासाठी फक्त