

پری اپر پرائمری اسکالرشپ امتحان (5 ویں کلاس)، فروری 2020

--	--	--	--	--	--	--	--	--	--

نشست نمبر

0	2	0	2
---	---	---	---

سیٹ نمبر

A

ہیچ نمبر 11
صفحات: 32

میڈیم: انگریزی
تیسری زبان اور ذہانت ٹیسٹ

وقت: 1:30 سے 3:00
کل نمبر: 150

- سوالات کے جواب دینے سے پہلے درج ذیل ہدایات کو احتیاط سے پڑھیں۔
- (1) اس سوالیہ ہیچ میں دو حصے ہیں۔ سیکشن 1 میں 1 سے 25 تک سوالات پہلی زبان کے ہیں اور سیکشن 11 میں 26 سے 75 تک ریاضی کے سوالات ہیں۔ تمام 75 سوالات لازمی ہیں۔
- (2) تمام سوالات میں سے ہر ایک کے 2 نمبر ہیں۔
- (3) سوالیہ ہیچ کو حل کرنے کے لئے وقت کی حد 90 منٹ ہے۔
- (4) جوابات ریکارڈ کرنے کے لئے الگ شیٹ دی جاتی ہے۔ ہر سوال کے چار متبادل دیئے گئے ہیں۔ انہیں احتیاط سے پڑھیں۔ جوابی شیٹ میں صحیح جواب کو منتخب اور سایہ کریں۔
- مثال کے طور پر:۔ اگر سوال نمبر 6 کا صحیح متبادل 2 ہے، تو اپنے جواب کو مندرجہ ذیل ریکارڈ کریں:

سوال نمبر 6 - ① ● ③ ④

- (5) کسی اور شکل میں درج جوابات پر فوراً نہیں کیا جائے گا۔ اس طرح کے جواب کو 'مردمانہ' سے کرڈٹ کیا جائے گا۔
- (6) دائرے کو سیاہ کرنے کے لئے نیلے یا کالے رنگ کا پین استعمال کریں۔ پنسل سے سیاہ دائروں کو کرڈٹ نہیں کیا جائے گا۔
- (7) اگر ایک سے زیادہ دائرے سیاہ ہوں یا اوور رائٹنگ ہو تو، جواب قبول نہیں کیا جائے گا۔
- (8) ایک بار ریکارڈ کیے گئے جواب کو تبدیل نہیں کیا جاسکتا۔
- (9) رقم صاف کرنے کے نیچے دی گئی غلامی یا سوالیہ ہیچ کے آخری صفحے پر کریں۔
- (10) امتحان میں محدود وقت ہے، اگر آپ کسی سوال کو حل کرنے کے قابل نہیں ہیں تو، براہ مہربانی اگلے سوال کو حل کریں۔ آخر میں اگر وقت اجازت دیتا ہے تو آپ غیر حل شدہ سوالوں کو حل کرنے کی کوشش کر سکتے ہیں۔
- (11) اگر آپ کو کوئی سوال نامکمل یا غلط ملتا ہے تو سپروائزر یا سنٹرا انچارج سے کچھ نہ پوچھیں۔
- (12) کسی بھی خرابی/غلطی/اعتراض کے مسائل کے لئے، اسکول یا والدین تحریری درخواست بلاک ایجوکیشن آفیسر یا ایجوکیشن آفیسر کو نہ بھیجیں۔ یہ خرابی/غلطی/اعتراض کے مسائل صرف متعلقہ اسکول لاگ ان کے ذریعہ آن لائن رجسٹر ہونے چاہئے۔
- (13) ایم ایس سی ای کی ویب سائٹ پر جوابی شیٹ کی اشاعت کے 10 دن کے اندر خرابی/غلطی/اعتراض کے مسائل آن لائن رجسٹر ہونے چاہئے۔
- (14) سوالیہ پرچہ میں پرنٹ ہونے والی یا ہیچ میں کسی دوسری غلطی پر ماہر کمیٹی کے مشورے اور فیصلے کو لاگو کیا جائے گا۔

SECTION-I

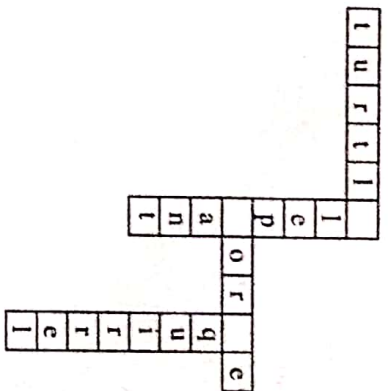
Q.1 to Q.3 : Read the passage carefully and answer the following questions.

A crow was very thirsty. It flew to a garden in search of water. There was a pot having a little water in it. So the crow put pebbles into the pot. The water rose up. The crow drank it and flew away.

- Who was very thirsty?
 - (1) cow
 - (2) crow
 - (3) parrot
 - (4) fox
- Select the correct option and complete the sentence.
The crow flew to a in search of water.
 - (1) Garden
 - (2) Well
 - (3) House
 - (4) School
- What did the crow put into the pot?
 - (1) Leaves
 - (2) Sticks
 - (3) Pebbles
 - (4) Money
- If dogs: bark
then bears:
 - (1) Snore
 - (2) Squawk
 - (3) Squcal
 - (4) Screech

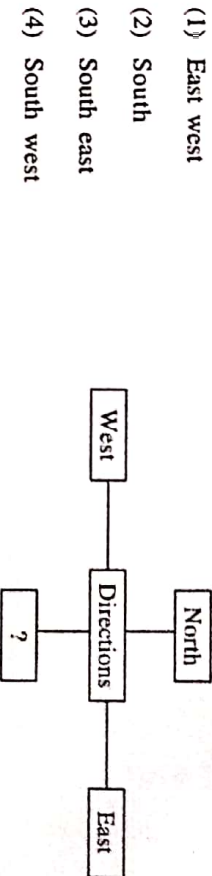
SPACE FOR ROUGH WORK

5. Select the correct option and solve the puzzle.



- (1) k, l, o
- (2) m, g, b
- (3) l, s, j
- (4) e, h, s

6. Select the correct alternative and fill in the box.



7. Select the correct option and complete the sentence.
I will give it back to you
- (1) Yesterday
 - (2) Last week
 - (3) Tomorrow
 - (4) Long long ago

SPACE FOR ROUGH WORK

8. Choose the correct request from the
My friend forgot his pen.
He said, ".....".
- (1) Please give me your pen. (2) He gave me his pen.
(3) I brought your pen. (4) Can I give my pen to you?

9. Select the correct option.
We should cover our mouth when
we
- (1) Share (2) Crawl (3) Sneeze (4) Climb

10. Look at the given picture and choose the correct conversation.



- (1) A : Give me tomatoes.
B : Where's your bag?
(2) A : Do you like roasted corn cobs?
B : Oh! I love them.
(3) A : Hello uncle can you deliver the box today?
B : Sure.
(4) A : Have you tried these cakes?
B : This is a new cake shop.

SPACE FOR ROUGH WORK

11. Select the correct option.
Keep your hands on your
- (1) waste (2) west
(3) wait (4) waist
12. Find the odd pair.
- (1) August September (2) October November
(3) April May (4) June August
13. Find out the odd term
- (1) Thigh (2) Deer
(3) Thieves (4) Oxen
14. Select the correct option and complete the sentence.
Isha..... eat fruits.
- (1) doesnt (2) doesn't
(3) does'nt (4) doesn't
15. Select the correct option and complete the sentence.
We go by Auto-rickshaw
- (1) A (2) The
(3) An (4) No article
16. Find the odd group
- (1) king, ring, thing, sing (2) tall, fall, ball, call
(3) keep, peep, sheep, jeep (4) get, wet, not, let

SPACE FOR ROUGH WORK

17. Select the correct punctuation mark for the given sentence.
Does she go to school

- (1) Full stop (2) Comma
(3) Question mark (4) Capitalization

18.

Maha Sale
Sari and Kurti
Offer- Buy 1 Get 3
Rs. 1000/- only

The special offer is

- (1) Buy one get one
(2) Buy one get two
(3) Buy one get three
(4) Buy one get four

19. Choose the correct sentence showing proper position of a comma.

- (1) Master Master have, pity, on me.
(2) Master Master have, pity on, me.
(3) Master, Master, have pity on me.
(4) Master Master have pity, on me.

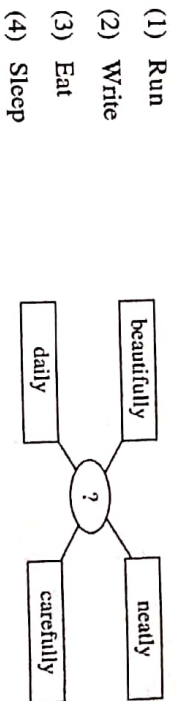
20. Solve the riddle.

I use scissors. I use a needle and thread. I make clothes from cloth. Who am I ?

- (1) Tailor (2) Potter (3) Cobbler (4) Jeweller

SPACE FOR ROUGH WORK

21. Find out the correct word to complete the given diagram.



- (1) Run
(2) Write
(3) Eat
(4) Sleep

22. Where should be the exclamation mark in the given sentence?

Select the correct option.
Good morning Kondiba

- (1) after morning (2) after good
(3) before Kondiba (4) after Kondiba

23. Choose the correct option.

Many Many Happy Returns Of The Day !

This message is about.....

- (1) Wedding (2) New year
(3) Birthday (4) Journey

24. Select the correct alternative

As yellow as

- (1) Dawn (2) Rain
(3) Turmeric (4) Honey

25. Find the odd group.

- (1) cement, city, circus, centre (2) group, good, gate, ground
(3) brown, bucket, black, brinjil (4) kite, kangaroo, know, king

SPACE FOR ROUGH WORK

ABCDE FGHIJ KLMNO PQRST UVWXY

SECTION-II

INTELLIGENCE TEST

26. In the word 'ADJECTIVE' which letter is third to the left of the middle position letter ?

- (1) D (2) J
(3) V (4) I

27. ABCDE FGHIJ KLMNO PQRST UVWXY

In the given letters series, what is the position of the letter from start which is fourth to the left of the letter which is tenth from the right side of the series.

- (1) 19 (2) 12
(3) 20 (4) 6

28. How many total vowels are there in the given sentence ?
'Rupa gave letter to Ram.'

- (1) 5 (2) 3
(3) 8 (4) 9

29. 3, 2, 7, 1, 0, 5, 6, 6, 4, 3, 6, 1, 7, 3, 3, 2

In the given number series, what is the difference between the square of the number which is 6th from left and which is 7th from right side ?

- (1) 34 (2) 0
(3) 8 (4) 16

SPACE FOR ROUGH WORK

ABCDE FGHIJ KLMNO PQRST UVWXY

SECTION-II

INTELLIGENCE TEST

26. بھارتی ریاضی دان اس لفظ کے درمیانی حروف کے بائیں جانب سے تیسرا حرف کون سا ہوگا؟

- (1) ی (2) ا
(3) ت (4) ر

27. ABCDE FGHIJ KLMNO PQRST UVWXY

مندرجہ بالا حروفی سلسلے میں دائیں جانب سے دسویں حرف کے بائیں جانب سے چوتھا حرف ابتداء سے گنے پر کتنے نمبر پر آئے گا؟

- (1) 19 (2) 12
(3) 20 (4) 6

28. "چھا چھو چھو چھو، پھل پھول، پھیل" ان الفاظوں میں دو چشمی حروف کتنی مرتبہ استعمال کیا گیا ہے؟

- (1) 4 (2) 3
(3) 8 (4) 9

29. 3, 2, 7, 1, 0, 5, 6, 6, 4, 3, 6, 1, 7, 3, 3, 2

مندرجہ بالا عددی سلسلے میں بائیں جانب سے چھٹے عدد کا مربع اور دائیں جانب کے ساتویں عدد کے مربع میں کتنا فرق آئے گا؟

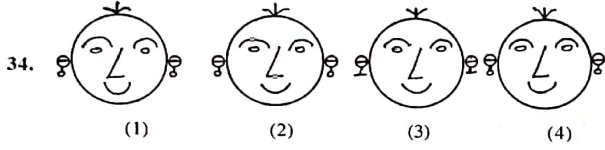
- (1) 34 (2) 0
(3) 8 (4) 16

رقم نام کے لیے خالی جگہ

A	B	C	D	E	F	G	H	I	J	K	L	M	N	O	P	Q	R	S	T	U	V	W	X	Y
---	---	---	---	---	---	---	---	---	---	---	---	---	---	---	---	---	---	---	---	---	---	---	---	---

Note for : Q. 30 to Q. 34 : [Find odd man out]

30. (1) Puppet show (2) Television
(3) Computer (4) Cinema
31. (1) May (2) July
(3) June (4) August
32. (1) 2651 (2) 2246
(3) 5324 (4) 6215
33. (1) 9338 (2) 7276
(3) 9295 (4) 4279



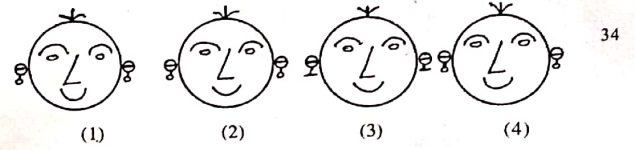
35. In the given number series, select the correct option to replace the question mark.
3, 4, 7, 10, 15, 22, 31, ?
(1) 46 (2) 40
(3) 44 (4) 42

SPACE FOR ROUGH WORK

A	B	C	D	E	F	G	H	I	J	K	L	M	N	O	P	Q	R	S	T	U	V	W	X	Y
---	---	---	---	---	---	---	---	---	---	---	---	---	---	---	---	---	---	---	---	---	---	---	---	---

ہدایت: سوال نمبر 30 تا 34 کے لیے:

30. (1) کھپڑی (2) ٹیلی ویژن
(3) کمپیوٹر (4) فلم
31. (1) مئی (2) جولائی
(3) جون (4) اگست
32. 2651 (1) (2) 2246
5324 (3) (4) 6215
33. 9338 (1) (2) 7276
9295 (3) (4) 4279



35. ذیل کے عددی سلسلے میں سوالیہ علامت کی جگہ کون سا متبادل آئے گا؟

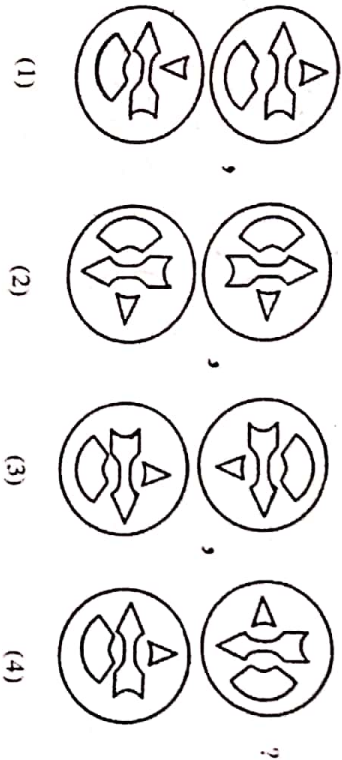
3, 4, 7, 10, 15, 22, 31, ?

- 40 (2) (1) 46
42 (4) (3) 44

رہ کام کے لیے خالی جگہ

ABCDE FGHIJ KLMNO PQRST UVWXY

36. In the given series of figures, select the correct option to replace the question mark.



37. Select the wrong term in the given number series.

2, 7, 28, 64, 126, 215

- (1) 28 (2) 64
(3) 215 (4) 7

38. Select the correct option to replace the question mark in the given number series.

14, 16, 19, 24, 31, 42, 55 ?

- (1) 65 (2) 72
(3) 75 (4) 70

SPACE FOR ROUGH WORK

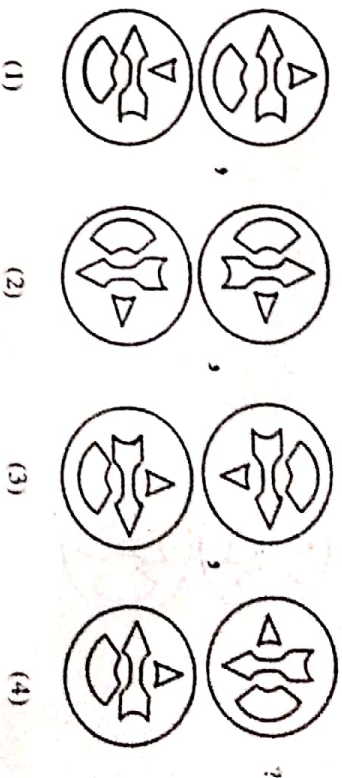
0202 / Urdu Set-A

12 of 32

P.T.O.

ABCDE FGHIJ KLMNO PQRST UVWXY

36. ذیل کے متعلقہ شکلوں کی سلسلے میں سے صحیح متبادل منتخب کریں۔



37. دیے گئے عددی سلسلے میں غلطی کی جگہ منتخب کریں۔

2, 7, 28, 64, 126, 215

- 64 (2) 28 (1)
7 (4) 215 (3)

38. دیے گئے عددی سلسلے میں سے صحیح متبادل منتخب کریں۔

14, 16, 19, 24, 31, 42, 55, ?

- 72 (2) 65 (1)
70 (4) 75 (3)

SPACE FOR ROUGH WORK

0202 / Urdu Set-A

13 of 32

P.T.O.

AB C D E F G H I J K L M N O P Q R S T U V W X Y

39. Select the correct option to replace the question mark in the given groups of signs.

$$< > + x +, > + x + <, + x + < >, x + < > +, ?$$

(1) $< > + x +$

(2) $+ x + < >$

(3) $+ x < > +$

(4) $+ < > + x$

40. If Deer is called as Rabbit, Rabbit is called as Shekaroo, Shekaroo is called as Porcupise, Porcupise is called as Tiger, Tiger is called as Bear then which animal is the state animal ?

(1) Shekaroo

(2) Tiger

(3) Rabbit

(4) Porcupise

41. The sum of ages of Mother, Father and Son three years ago was 73. What will be the sum of their ages five years later ?

(1) 97

(2) 75

(3) 78

(4) 88

42. Anushka's score of marks is more than Arya but less than Aaboli. Shevanti's score is same as Arya but to more than Chameli. Who has scored the highest marks ?

(1) Arya

(2) Aaboli

(3) Shevanti

(4) Anushka

SPACE FOR ROUGH WORK

0202 / Urdu Set-A

14 of 32

P.T.O.

AB C D E F G H I J K L M N O P Q R S T U V W X Y

39. دیے گئے جگہ پر سہ سوالیہ علامت کی جگہ علامتوں کو کون سا گروپ لگائے گا؟

$$< > + x +, > + x + <, + x + < >, x + < > +, ?$$

(1) $+ x + < >$

(2) $< > + x +$

(3) $+ < > + x$

(4) $+ x < > +$

40. اگر مین بکری کو بکری کہا جائے، بکری کو بکری کہا جائے، بکری کو بکری کہا جائے، بکری کو بکری کہا جائے تو مین بکری کون سی ہے؟

(1) مین بکری

(2) بکری

(3) بکری

(4) بکری

41. والدین اور دو بچوں کی عمریں مل کر 73 سال تھیں۔ پانچ سال بعد ان تینوں کا مجموعہ کتنے سال ہوگا؟

(1) 75

(2) 97

(3) 88

(4) 78

42. انہی زبان سے زائد کون سا زبان کے اساتذہ کی سرپرست سے زیادہ بہرات لے ہیں۔ تو سب سے زیادہ بہتر کون سے ہیں؟

(1) انہی

(2) انہی

(3) انہی

(4) انہی

زنگام کے لیے بنائی گئی

0202 / Urdu Set-A

15 of 32

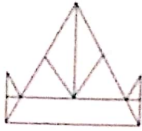
P.T.O.

ABCDE FGHIJ KLMNO PQRST UVWXY

43. Akshay said to Aarti 'your mother's father is my father's father.' What is the relation of Akshay with Aarti's mother ?

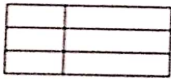
- (1) Son of husband's brother
- (2) Uncle
- (3) Grandson
- (4) Son of husband's sister

44. How many total number of triangles are there in the adjacent figure ?



- (1) 14
- (2) 15
- (3) 10
- (4) 12

45. In the figure given below how many total number of quadrilaterals are there ?



- (1) 9
- (2) 6
- (3) 18
- (4) 15

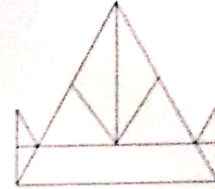
SPACE FOR ROUGH WORK

ABCDE FGHIJ KLMNO PQRST UVWXY

43. فرقان سے کشف سے کہا: "تمہاری والدہ کے والد پھر سے والد کے والد ہیں۔" تو فرقان کشف کی والدہ کا کون ہو گا؟


- (1) بھتیجا
- (2) چاچا
- (3) پاپا
- (4) بھانجا

44. بازو کی شکل میں شکلوں کی کل تعداد کتنی ہے؟



- (1) 14
- (2) 15
- (3) 10
- (4) 12

45. بازو کی شکل میں شکلوں کی تعداد کتنی ہے؟



- (1) 9
- (2) 6
- (3) 18
- (4) 15

اس نام کے لیے خالی جگہ

ABCDE FGHIJ KLMNO PQRST UVWXY

Note for Q. 46 and Q. 47 : Select the correct option to match the mirror image of the question figure.

46. Question Figure



Answer Figure

- (1)
- (2)
- (3)
- (4)

47. Question Figure

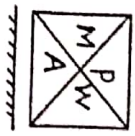


Answer Figure

- (1)
- (2)
- (3)
- (4)

Note for Q. 48 and Q. 49 : Select the correct option to match the water image of the question figure.

48. Question Figure



Answer Figure

- (1)
- (2)
- (3)
- (4)

49. Question Figure



Answer Figure

- (1)
- (2)
- (3)
- (4)

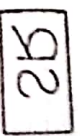
SPACE FOR ROUGH WORK

ABCDE FGHIJ KLMNO PQRST UVWXY

46. سوال نمبر 46 اور 47 کے لیے:

دیے گئے سوالوں میں سے صحیح جواب چن کر اس سوال کی جوابی شکل میں سے چنیں۔

سوالی شکل



سوالی شکل

- (1)
- (2)
- (3)
- (4)

46

سوالی شکل



سوالی شکل

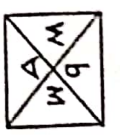
- (1)
- (2)
- (3)
- (4)

47

48 اور 49 کے لیے:

دیے گئے سوالوں میں سے صحیح جواب چن کر اس سوال کی جوابی شکل میں سے چنیں۔

سوالی شکل



48

سوالی شکل

- (1)
- (2)
- (3)
- (4)

49

سوالی شکل



سوالی شکل

- (1)
- (2)
- (3)
- (4)

سوالی شکل

ABCDE FGHIJ KLMNO PQRST UVWXY

Note for Q. 50 to Q. 54 : There exists a relation between first and second term, similar relation holds true for third and fourth term. Accordingly select the correct option to replace the question mark.


50. Crops : farm :: fruits : ?

- (1) Orchard (2) Market
(3) Mall (4) Shop

51. Sparrow : noun :: went : ?

- (1) Pronoun (2) Verb
(3) Noun (4) Adjective

52.  : ?

- 
(1) (2) (3) (4)

53. 5 : 12 :: 6 : ?

- (1) 18 (2) 15
(3) 12 (4) 21

54. 4396 : 6475 :: 3485 : ?

- (1) 4595 (2) 4574
(3) 5564 (4) 4564

SPACE FOR ROUGH WORK

0202 / Urdu Set-A

20 of 32

P.T.O.

ABCDE FGHIJ KLMNO PQRST UVWXY

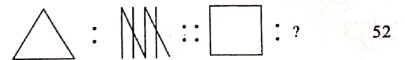
ہدایت: سوال نمبر 50 سے 54 کے لیے: پیلہ رکن کا تعلق دوسرے رکن سے جیسا ہے۔ ویسا ہی تعلق تیسرے رکن کا چوتھے رکن سے پہنچا ہے۔


50 گنا : کھیت :: بہری ترکاری : ?

- (1) باغی کھیت (2) منڈی
(3) بازار (4) دوکان

51 چڑا : اسم :: چلا گیا : ?

- (1) ضمیر (2) فعل
(3) اسم (4) صفت

 : ?

- 
(1) (2) (3) (4)

53 ? : 6 :: 12 : 5

- (1) 18 (2) 15
(3) 12 (4) 21

54 ? : 3485 :: 6475 : 4396

- (1) 4595 (2) 4574
(3) 5564 (4) 4564

زف کام کے لیے مائل فف

0202 / Urdu Set-A

21 of 32

P.T.O.

ABCDE FGHIJ KLMNO PQRST UVWXY

55. Which of the following action of Raju is correct, when he saw garbage lying at the place where small children were playing ?

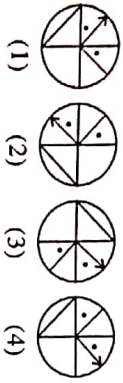
- (1) He picked up the garbage and threw it into the dustbin.
- (2) He neglected it.
- (3) He pushed out all the children from that place.
- (4) He purposely tell the security person to pick up the garbage.

Note for Q. 56 and Q. 57 : Select the figure perfectly matching to the question figure from the given options.

56. Question Figure



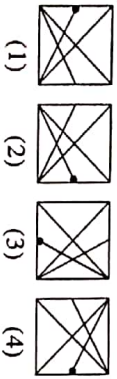
Answer Figure



57. Question Figure



Answer Figure



58. In a row there are 15 girls to the right side of Savita and 11 girls to her left, if she is standing at the middle then what is her position number ?

- (1) 12th
- (2) 13th
- (3) 14th
- (4) 15th

SPACE FOR ROUGH WORK

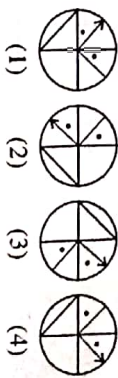
ABCDE FGHIJ KLMNO PQRST UVWXY

55. جہاں گھومنے کے لیے جیتے ہیں وہاں کچرا کھڑا کرنا صحیح ہے کیسے کہیں حرکت مناسب ہوگی؟

- (1) کچرا گھونڈ کر ڈالنا۔
- (2) نظر اترانا۔
- (3) سب بچوں کو وہاں سے بھاگنا۔
- (4) وہاں کے چوکیدار کو جان بوجھ کر اٹھانے کے لیے کہنا۔

نوٹ: سوال نمبر 56 اور 57 کے لیے:

سوالی شکل

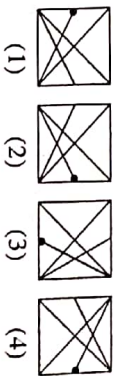


سوالی شکل



56

سوالی شکل



سوالی شکل



57

58. ایک قطار میں سب کے دائیں جانب 15 بچے اور بائیں جانب 11 بچے کھڑے ہیں۔ اسی قطار میں درمیان میں کتنی بھرتی ہوئی تھی وہ کتنی نمبر ہوگی؟

- (1) 12
- (2) 13
- (3) 14
- (4) 15

نفاذ کے لیے جگہ

ABCDE FGHIJ KLMNO PQRST UVWXY

59. Students are standing for mass P.T. The number of rows and students in one row is same. If 15 students are standing in each row then what is the total number of students standing for mass P.T. ?

- (1) 225 (2) 150
(3) 250 (4) 125

60. John is standing with his back towards the East. He turns to his right hand two times at right angle. Which direction is he facing now ?

- (1) West (2) South
(3) East (4) North

61. Ahmed went 18 km in the west direction, then he went 11.5 km to the south, then he went 6.5 km to the east, then he went 11.5 km to the north and he stopped there. At what distance is he from the starting point ?

- (1) 11 km (2) 10.5 km
(3) 12.5 km (4) 11.5 km

62. Mandar was born on 7th July 2007 Saturday. Which day will it be on his second birthday ?

- (1) Monday (2) Tuesday
(3) Wednesday (4) Thursday

63. In a certain year if 15th August falls on Monday, then in the same year 6th September will fall on which day ?

- (1) Thursday (2) Monday
(3) Tuesday (4) Wednesday

SPACE FOR ROUGH WORK

ABCDE FGHIJ KLMNO PQRST UVWXY

59. قواعد کے لئے جتنی قطاریں ہیں جتنی تعداد میں 15 بچے ہوں تو میدان میں قواعد کے لئے بچوں کی کل تعداد جتنی ہوگی؟

- 150 (2) 225 (1)
125 (4) 250 (3)

60. میدان مشرق کے جانب پھٹ کر کے کھڑا ہے۔ وہ اپنے دائیں بازو سے قائم زاویہ بناتے ہوئے دوسرے طرف مڑا تو اس کا منہ کون سی سمت رہے گا؟

- جنوب (2) مغرب (1)
شمال (4) مشرق (3)

61. افتتاح مغرب میں 18 کلومیٹر گیا۔ پھر وہ جنوب میں 11.5 کلومیٹر گیا۔ اس کے بعد مشرق میں 6.5 کلومیٹر گیا۔ بعد میں شمال میں 11.5 کلومیٹر گیا کر کرک گیا تو وہ اصل مقام سے کتنے کلومیٹر کے فاصلے پر ہے؟

- 10.5 (2) 11 (1)
11.5 (4) 12.5 (3)

62. ارسلان کی پیدائش 7 جولائی 2007ء کو لاہور کے روزناموں تو اس کی دوسری سالگرہ کون سے دن ہوگی؟

- منگل (2) جمعرات (1)
جمعرات (4) بدھ (3)

63. ایک سال 15 مارچ کو جمعرات تو اس سال 6 جمبر کو کون سا دن آئے گا؟

- جمعرات (1) منگل (1)
بدھ (4) منگل (3)

زنگ لگنے کے لئے خالی جگہ

ABCDE FGHIJ KLMNO PQRST UVWXY

Note for Q. 64 to Q. 68 : The term given in each question have same common characteristic. Select the correct option to match the group.

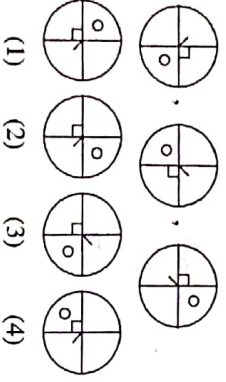
64. Iron, bricks, sand,

- (1) Cotton (2) Coal
(3) Thread (4) Cement

65. Brain, Lungs, Heart

- (1) Skin (2) Ears
(3) Stomach (4) Eyes

66.



- (1) (2) (3) (4)

67. 65, 83, 92

- (1) 54 (2) 87 (3) 47 (4) 39

68. 2520, 6273, 7092

- (1) 8085 (2) 2823 (3) 6018 (4) 8127

SPACE FOR ROUGH WORK

ABCDE FGHIJ KLMNO PQRST UVWXY

ہدایت: سوال نمبر 64 تا 68 کے لیے:

سوال کے شروعات میں تین کتبیں دی گئی ہیں۔ ان کی کچھ خاصیت ہیں۔ اس سلسلے سے ان کا ایک گروہ تیار ہوتا ہے۔ اس گروہ میں پیچھے والا کتب دینے کے متبادل سے چننا ہے۔

64 لوہا، اینٹ، ریت

کولہ (2) کپاس (1)

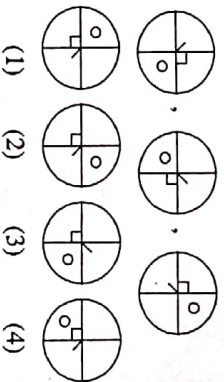
سینٹ (4) دھاگا (3)

65 دماغ، پھیپھڑے، دل

کان (2) چلہ (1)

آنکھ (4) ناک (3)

66



- (1) (2) (3) (4)

67 .83 ,65 67

87 (2) 54 (1)

39 (4) 47 (3)

68 7092 ,6273 ,2520 68

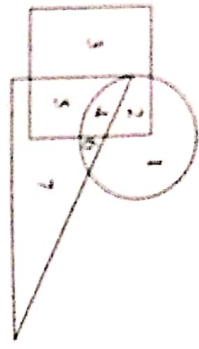
2823 (2) 8085 (1)

8127 (4) 6018 (3)

رنگ کے لیے جگہ

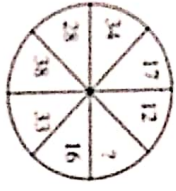
ABCDE FGHIJ KLMNO PQRST UVWXY

69. Observe the venn diagram carefully and answer the following questions.
Which of the following number is seen only in the triangle ?



- (1) 7
- (2) 6
- (3) 5
- (4) 4

70. Identify the correct option to replace the question mark in the given pattern.



- (1) 42
- (2) 32
- (3) 12
- (4) 22

71. In a certain code language if 62 = 14, 47 = 15, 95 = 23 then 38 = ?

- (1) 11
- (2) 14
- (3) 36
- (4) 8

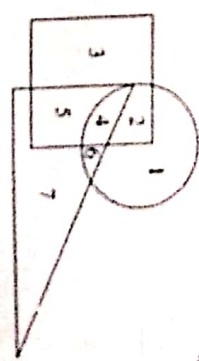
72. In a certain code language if 6 = 14, 7 = 17 and 3 = 5 then 4 = ?

- (1) 4
- (2) 6
- (3) 2
- (4) 8

SPACE FOR ROUGH WORK

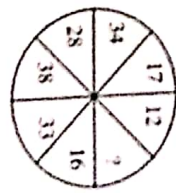
ABCDE FGHIJ KLMNO PQRST UVWXY

69. ذیل وی کنی ڈیگرام کو دیکھ کر اس کے متعلق درج ذیل سوالات کے جوابات دیجئے۔
صرف وہ نمبر کون سا ہے جس کا صرف ٹریانگل میں دیکھنا ہوگا۔



- 6 (2)
- 7 (1)
- 4 (4)
- 5 (3)

70. درج ذیل نمبروں کے جگہ پر سوالیہ نشان کے صحیح جواب کو منتخب کریں۔



- 32 (2)
- 42 (1)
- 22 (4)
- 12 (3)

71. اگر 62 = 14، 47 = 15، 95 = 23 ہے تو 38 = ؟

- 14 (2)
- 11 (1)
- 8 (4)
- 36 (3)

72. اگر 6 = 14، 7 = 17 اور 3 = 5 ہے تو 4 = ؟

- 6 (2)
- 4 (1)
- 8 (4)
- 2 (3)

کھربے کے لیے جگہ

A	B	C	D	E	F	G	H	I	J	K	L	M	N	O	P	Q	R	S	T	U	V	W	X	Y
---	---	---	---	---	---	---	---	---	---	---	---	---	---	---	---	---	---	---	---	---	---	---	---	---

73. In a certain code language if CAP = □○⊙, CAT = ○⊙□, PAN = △○□ then TAN = ?

- (1) □△○ (2) □□○
(3) ⊙△□ (4) △○⊙

74. In a certain code language if KMD = < > √, KNM = ∧ < >, NKD = √ ∧ > then MND = ?

[Note : The signs and alphabets may not be in the same order.]

- (1) ∧ √ > (2) ∧ < >
(3) ∧ √ < (4) > < √

75. Teacher appeals to all students that as the yearly inspection is near all have to complete their assignment note books. Your assignment note book is completed, but you know that, one slow learner student of class has not completed his assignment note book, what will you do ?

- (1) I will tell my bench partner to give his assignment note book to that slow learner.
(2) I will help him to complete his assignment note book.
(3) I will not give my assignment note book to any one.
(4) I will tell the teacher that he misplaces the note books.

SPACE FOR ROUGH WORK

A	B	C	D	E	F	G	H	I	J	K	L	M	N	O	P	Q	R	S	T	U	V	W	X	Y
---	---	---	---	---	---	---	---	---	---	---	---	---	---	---	---	---	---	---	---	---	---	---	---	---

73 ایک اشاراتی زبان میں مات □○⊙ = چار ○⊙□ اور ترک △○□ = ہوتو 'چاک' یہ لفظ کیرا لکھا جائے گا؟

[نوٹ: حروف و علامتوں میں ترتیب یکساں ہی ہوگی ایسا ضروری نہیں ہے]

- (1) (2)
(3) (4)

74 ایک اشاراتی زبان میں اتم < > √ = نرم > < ∧ نار √ ∧ > = تو مات، یہ لفظ کیرا لکھا جائے گا؟

[نوٹ: حروف و علامتوں میں ترتیب یکساں ہی ہوگی ایسا ضروری نہیں ہے]

- (1) ∧ √ > (2) ∧ < >
(3) ∧ √ < (4) > < √

75 مدرسے کی سالانہ جانچ قریب آئی ہے۔ سب کو گھر کام کی بیاض مکمل کرنے کی ہدایت اساتذہ نے دی ہیں۔ آپ کی بیاض مکمل ہے لیکن

جماعت کے ایک کندز بہن طلباء کی بیاض تکمیل ہے۔ یہ آپ جانتے ہیں۔ آپ کیا کر سکتے ہیں؟

- (1) میرے پردوس میں بیٹھے ہوئے دوست سے اس کی گھر کام کی بیاض دینے کے لیے کہوں گا
(2) میں اس کے گھر کام کی بیاض مکمل کرنے میں مدد کروں گا
(3) میری گھر کی بیاض کسی کو بھی نہیں دوں گا
(4) دو طالب علم بیاض خود تیار ہے ایسا اساتذہ سے کہوں گا

زف کام کے لیے تالی چکر