

पूर्व माध्यमिक शिष्यवृत्ती परीक्षा (कक्षा 8वीं), फरवरी 2020

बैठक क्र.

--	--	--	--	--	--	--	--	--	--

संच



0 3 2 2

पेपर क्र. II

माध्यम : हिन्दी

वेळ : 1.30 ते 3.00

पृष्ठ : 32

तृतीय भाषा व बुद्धिमत्ता चाचणी

एकूण गुण : 150

प्रश्नों का उत्तर देने से पहले निम्नलिखित निर्देशों को ध्यान से पढ़ लें।

(1) इस प्रश्नपत्र के दो भाग हैं। भाग I में तृतीय भाषा के 1 से 25 प्रश्न हैं और भाग II में बुद्धिमत्ता चाचणी के 26 से 75 प्रश्न हैं। सभी 75 प्रश्न अनिवार्य हैं।

(2) सभी प्रश्नों के 2 अंक हैं।

(3) प्रश्नपत्र हल करने की समय सीमा 90 मिनट है।

(4) उत्तर लिखने के लिए अलग से उत्तरपत्र दिया जाता है। प्रत्येक प्रश्न के चार विकल्प दिए गए हैं। उन्हें ध्यान से पढ़ें। सही उत्तर का चयन करें और उत्तर पत्रक में छायांकित करें।

उदाहरण:- यदि प्रश्न सं. 6 का सही विकल्प 2 है, तो अपना उत्तर इस प्रकार दर्ज करें:

प्रश्न सं. 6 -

①●③④

(5) अधिकतम 20% प्रश्नों में दो सही विकल्प दिए गए हैं। उम्मीदवार को सही उत्तर के साथ दोनों गोलों को काला करना होगा। इन प्रश्नों में 'दो सही विकल्पों का चयन करें' निर्देश होगा।

उदाहरण के लिए:- यदि प्रश्न सं. 8 के लिए सही विकल्प 2 और 3 है, तो अपना उत्तर इस प्रकार दर्ज करें- प्रश्न सं. 8 ①●●④

(6) किसी अन्य रूप में दर्ज किए गए उत्तर पर विचार नहीं किया जाएगा। इस तरह के उत्तर को 'शून्य' अंक प्रदान किया जाएगा।

(7) गोले को काला करने के लिए नीली या काली बॉल पेन का उपयोग करें। पेंसिल से काला किए गए गोलों पर अंक नहीं प्रदान किए जाएंगे।

(8) एक बार दर्ज किए जा चुके उत्तर में बदलाव नहीं किया जा सकता है।

(9) प्रत्येक पृष्ठ के नीचे दिए गए स्थान पर या प्रश्नपत्र के अंतिम पृष्ठ पर रफ कार्य किया जाएगा।

(10) परीक्षा का सीमित समय है, यदि आप कोई प्रश्न नहीं हल कर पाते हैं, तो अगला प्रश्न हल करें। अंत में समय मिलने पर आप हल न किए गए प्रश्नों को हल करने का प्रयास कर सकते हैं।

(11) यदि आपको कोई प्रश्न अधूरा या त्रुटिपूर्ण लगता है, तो पर्यवेक्षक या केंद्र प्रभारी से कुछ न पूछें।

(12) किसी भी त्रुटि/गलती/आपत्ति के मुद्दों के लिए, स्कूल या माता-पिता को ब्लॉक शिक्षा अधिकारी या शिक्षा अधिकारी को लिखित आवेदन नहीं भेजना चाहिए। इन त्रुटियों/गलतियों/आपत्तियों के मुद्दों को केवल संबंधित स्कूल लॉगइन के माध्यम से ऑनलाइन पंजीकृत कराया जाना चाहिए।

(13) एमएससीई वेबसाइट पर अंतरिम उत्तर कुंजी के प्रकाशन के 10 दिनों के भीतर त्रुटि/गलती/आपत्ति के मुद्दों को ऑनलाइन पंजीकृत कराया जाना चाहिए।

(14) प्रश्नपत्र में मुद्रण या किसी अन्य गलती पर विशेषज्ञ समिति का निर्णय लागू होगा।

SECTION-I

Instruction for Q. 1. :

Ahmadabad, Feb. 15, 2016

A team of Indian and German scientists working near Bhuj in the Kutch region of Gujrat had found a big fossil of a dinosaur in hill in Lodai village. On Saturday they found more fossils. The new fossils include skull, jaw, and some teeth of dinosaur. A sample of fossils has been sent to Munich, Germany for further testing.

1. The above news tells us about.....
- (1) The scientists (2) Ahmadabad
(3) Germany (4) Dinosaur fossils

2. Complete the dialogue with correct option.
- Meena -: I am getting It's too cold here.
Mother-: Don't worry dear. I'll bring sweater for you.
- (1) Bored (2) Confused
(3) Tired (4) Chilled to bone

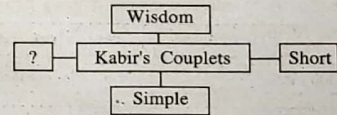
3. Choose the correct option for the following slogans.
The following slogans are about.....
- Who will keep it clean, if you don't
- Don't spoil, don't defile — ? — ? — grow plants not garbage
- Keep your area clean and beautiful.
- (1) Earth (2) Education (3) Environment (4) Cleanliness

SPACE FOR ROUGH WORK

Instruction for Question No.- 4-6 : Read the passage and choose the correct option.

Kabir was one of the great personalities in the history of our country. He lived hundreds of years ago, but his poems and teachings are sung with love and reverence even today. Hindus, Muslims, Sikhs, all think of him as a great Guru, teacher and religious figure. Kabir taught people devotion and humility. He wrote couplets and (dohas) and short poems. Though his compositions are short and simple they convey profound meaning and wisdom.

4. Choose the correct option.
The passage tells us about.....
- (1) The history of our country
(2) The information about Kabir-a saint poet
(3) The different religion
(4) Kabir's childhood
5. Which 'Hindi' word is mentioned in the passage?
- (1) Sung (2) Figure
(3) Doha (4) Ago
6. Complete the web by choosing the correct word.



- (1) Love (2) Reverence
(3) Devotion (4) Profound meaning

SPACE FOR ROUGH WORK

7. What is the mood in the following short-note ?

Choose the correct option.

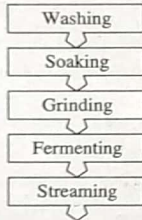
I'm always there in your hour of need.

May his/her soul rest I peace. Words fall short to express my sorrow.

- (1) Happy (2) Surprise
(3) Sad (4) Wonder

8. Read the following procedure and choose one correct alternative.

These methods are used for



- (1) Washing cloths (2) Making idilis
(3) Making rotis (4) Making desserts

9. Read the following riddle and choose one correct option.

I'm tall when I'm young.

I'm short when I'm old.

What am I ?

- (1) Tree (2) Candle
(3) Egg (4) Stick

SPACE FOR ROUGH WORK

Instruction for Question No. 10-11 : Read the passage and choose the correct option.

Grate a couple of medium sized beetroots and soak them in a little water. After a while, you will get a beautiful dark pink-red colour. Add it to a bucketful of water. The red jaswand (hibiscus) flower will give you a deep red colour. Dry the petals of Zendu (marigold). Then you can powder them to get an orange colour. Even you can dry the leaves of neem, mint, corriander, spinach to get a dry green powder. If you crush or grind the fresh leaves you get dry colours and if you add the paste to water, you get wet colour. So talk to your mother to find out what other things in kitchen can give you safe natural colour. Let's celebrate holi with natural colour.

10. Match the pairs.

- | A | B |
|--------------|--------------|
| (1) Jaswand | (a) Pink-red |
| (2) Spinach | (b) Deepred |
| (3) Beetroot | (c) Green |
| (4) Marigold | (d) Orange |
- (1) 1-d; 2-b; 3-a; 4-c (2) 1-b; 2-a; 3-c; 4-d
(3) 1-c; 2-d; 3-b; 4-a (4) 1-a; 2-c; 3-a; 4-d

11. Choose the correct option for the correct title to the passage.

- (1) Colours
(2) Celebrate holi with natural colours
(3) Celebration
(4) Festivals are colourful

SPACE FOR ROUGH WORK

12. Choose the correct alternative.

Hrishikesh was awarded as a 'best student of the year'. Find out three adjectives which suits him.

b	i	g	s	m	n	o
r	h	o	n	e	s	t
a	g	o	t	t	p	q
v	c	d	b	o	d	h
e	s	m	p	d	b	q

- (1) Good, honest, brave
- (2) Big, quite, bad
- (3) Calm, nest, ago
- (4) Big, tall, ball

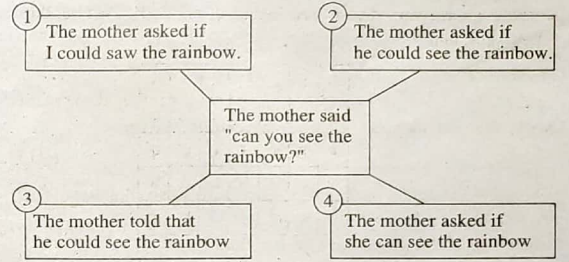
13. Choose the correct alternative from the following.



- (1) The sun is not as hot as tea
- (2) The candle is hotter than fire
- (3) The fire is hotter than candle
- (4) The candle is hotter than sun

SPACE FOR ROUGH WORK

14. Go through the following diagram and choose correct alternative.



- (1) 4
- (2) 1
- (3) 3
- (4) 2

15. Find out one correct alternative of type of tense of underlined word.

When a farmer was returning home from the market, dark clouds gathered in the sky.

- (1) Simple past tense
- (2) Present continuous tense
- (3) Past continuous tense
- (4) Future continuous tense

16. Choose two correct alternatives for the following sentences which shows correct object and its active voice

My toy had been taken away.

- (1) My sister had taken away my toys
- (2) My sister has taken away my toys
- (3) My sisters had taken away my toys
- (4) My sister taken away my toys.

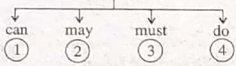
SPACE FOR ROUGH WORK

17. Choose correct alternative.

If where: place, why: reason then when:.....

- (1) Quantity (2) Suggestion
(3) Manner (4) Time

18. Choose the odd man out. Choose one correct alternative.



- (1) 3 (2) 4
(3) 1 (4) 2

19. Choose one correct alternative of the following.

Last week grandfather wanted to visit Kashmir. He *booked* tickets.

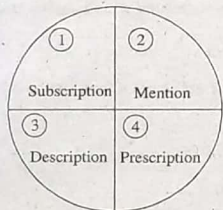
- (1) Noun (2) Verb
(3) Adverb (4) Adjective

20. Choose one correct alternative to form exclamatory sentence.

a / what / dream / it / horrible / is !

- (1) What a horrible dream it is! (2) What a dream horrible it is!
(3) It is what a horrible dream! (4) What it is a horrible dream!

21. Choose the correct alternative. Find out the word which has not suffix.



- (1) 4 (2) 2
(3) 3 (4) 1

SPACE FOR ROUGH WORK

22. Choose two correct alternative from the following.

Dinosaur were reptiles. There were many different types of dinosaurs. All dinosaurs did not look.....

- (1) Different (2) Similar
(3) Unlike (4) Alike

23. Read the following sentences. Choose the correct alternative.

When Mr. Yadav gets back from his office, he expects his servant to have a hot meal waiting him.

- (1) For (2) At
(3) From (4) Of

24. Choose correct alternative from the following options.

Which word is related to 'eye'?

- (1) Cite (2) Site
(3) Sit (4) Sight

25. Choose the correct alternative from the following options. Find the correct phrase.

Viraj is very good at Maths. He is a good singer. He is the champion of cricket. He loves swimming. He is

- (1) Very brave (2) Jack of all trades
(3) Good at studies (4) Good friend

SPACE FOR ROUGH WORK

ABCDE FGHIJ KLMNO PQRST UVWXY

SECTION-II

INTELLIGENCE TEST

26. Form a meaningful word from the letters PTECSIROIND Use numerals 1, 2, for every letter. Find the correct option from the following that makes a meaningful word from the word so formed.

- (1) 7, 5, 1 (2) 3, 1, 2 (3) 5, 2, 1 (4) 2, 4, 5

27. From the given alphabet series, choose the pair from the given options, which is at an equal distance from the 11th letter from the right. [select two correct alternatives]

- (1) D, R (2) F, X (3) J, T (4) P, F

Q. 28 and 29 Directions : Study the following number series and answer the questions that follow :

2 3 3 4 2 5 3 2 3 5 4 2 1 4 2 3 3 2 5 4 2 1 5 3 4 2 5 3 2 4 2 3

28. How many times an odd number is immediately followed by an even number but not preceded by even number.

- (1) Six (2) Four (3) Five (4) Seven

29. In the given number series, which number has occurred highest number of times ?

- (1) 4 (2) 3 (3) 2 (4) 5

SPACE FOR ROUGH WORK

ABCDE FGHIJ KLMNO PQRST UVWXY

SECTION-II

बुद्धिमता कसौटी

26. 'प ह वा र ला' इन पाँच अक्षरों से बनने वाले अर्थपूर्ण शब्द में किन क्रमाकों के अक्षरों से 'सूजी' अर्थवाला शब्द बनेगा?

- (1) 3 व 5 (2) 3 व 1 (3) 3 व 4 (4) 1 व 2

27. अक्षरमाला में दायीं ओर के ग्यारहवें अक्षर से समान दूरी पर स्थित अक्षरों की जोड़ी कौन-सी है? (दो-सही पर्याय चुनिए।)

- (1) D, R (2) F, X (3) J, T (4) P, F

प्र. 28 व 29 के लिए- दी गई अंकमालिका का अध्ययन करें।

2 3 3 4 2 5 3 2 3 5 4 2 1 4 2 3 3 2 5 4 2 1 5 3 4 2 5 3 2 4 2 3

28. दी गयी अंकमालिका में विषम संख्या के बाद तुरंत सम संख्या है परंतु इस विषम संख्या के तुरंत पहले सम संख्या न हो, तो ऐसा कितनी बार हुआ है?

- (1) छः (2) चार (3) पाँच (4) सात

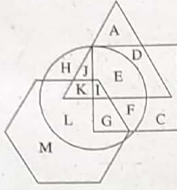
29. दी गई अंकमाला में कौन-सा अंक सबसे अधिक बार आया है?

- (1) 4 (2) 3 (3) 2 (4) 5

SPACE FOR ROUGH WORK

A	B	C	D	E	F	G	H	I	J	K	L	M	N	O	P	Q	R	S	T	U	V	W	X	Y
---	---	---	---	---	---	---	---	---	---	---	---	---	---	---	---	---	---	---	---	---	---	---	---	---

Q. 30 and 31 Directions : In the following venn diagram, triangle represents doctors, circle represents farmers, hexagon represents authors and quadrilateral represents carpenters.



30. Which of the following options indicate carpenters who are farmers.

- (1) JKLI (2) IEFG (3) EFDC (4) HCLM

31. Which of the following letter indicates doctors who are only authors.

- (1) K (2) A
(3) M (4) None of the above.

32. Find the position of the 7th letter which is to the left of 12th letter in the given alphabet series. [select two correct options]

- (1) 21st from right (2) 21st from left
(3) 5st from right (4) 5st from left

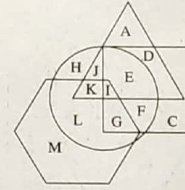
33. 150 streamers of different colours are arranged in a garland. The colours follow a specific sequence, red, yellow, green, blue, violet, white and orange. Which of the following option will not carry violet coloured stream ? [select the correct alternatives]

- (1) 68 (2) 89 (3) 115 (4) 94

SPACE FOR ROUGH WORK

A	B	C	D	E	F	G	H	I	J	K	L	M	N	O	P	Q	R	S	T	U	V	W	X	Y
---	---	---	---	---	---	---	---	---	---	---	---	---	---	---	---	---	---	---	---	---	---	---	---	---

प्र. 30 व 31 के लिए- संलग्न दी गई वेन आकृति के त्रिभुज में डॉक्टर, वृत्त में किसान, षट्कोण में लेखक और चतुर्भुज में बढ़ई दिखाए गए हैं।



30. कृषि करने वाले बढ़ई को किस अक्षर से दिखाया गया है?

- (1) JKLI (2) IEFG (3) EFDC (4) HCLM

31. सिर्फ लेखन करने वाले डॉक्टर किस अक्षर से दिखाए गए हैं?

- (1) K (2) A (3) M (4) कोई नहीं

32. अक्षरमाला में बारहवें अक्षर के बायीं ओर सातवें अक्षर का स्थान पर्याय में से चुनिए। (दो सही उत्तर चुनिए)

- (1) दाहिनी ओर से इक्कीसवाँ। (2) बायीं ओर से इक्कीसवाँ।
(3) दायीं ओर से पाँचवाँ। (4) बायीं ओर से पाँचवाँ।

33. किसी रस्सी में क्रमशः लाल, पीला, हरा, नीला, बैंगनी, सफेद व कंसरिया रंग के 150 पताके चिपकाए गए हों, तो पर्यायों में से किस क्रमांक पर बैंगनी रंग की पताका नहीं होगी? (दो सही उत्तर चुनिए)

- (1) 68 (2) 89 (3) 115 (4) 94

SPACE FOR ROUGH WORK

A B C D E F G H I J K L M N O P Q R S T U V W X Y

34. Akshay is younger than Vishal by 125 days. Akshay is born on Saturday, 13th Aug. On which day was Vishal born ?

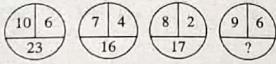
- (1) Sunday, 10th April
- (2) Friday, 16th December
- (3) Sunday, 9th April
- (4) Thursday 15th December.

35. Find the number of quadrilaterals in the given figure.



- (1) 12
- (2) 8
- (3) 17
- (4) 14

36. In the following series, determine the rule and find out the term in place of the question mark.



- (1) 18
- (2) 21
- (3) 26
- (4) 23

SPACE FOR ROUGH WORK

A B C D E F G H I J K L M N O P Q R S T U V W X Y

34. अक्षय, विशाल से 125 दिन छोटा है। यदि अक्षय का जन्म 13 अगस्त, शनिवार के दिन हुआ हो, तो विशाल का जन्म किस दिन हुआ होगा?

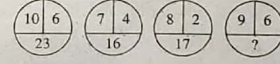
- (1) 10 अप्रैल, रविवार
- (2) 16 दिसंबर, शुक्रवार
- (3) 9 अप्रैल, शनिवार
- (4) 15 दिसंबर, गुरुवार

35. संलग्न आकृति में चतुर्भुजों की कुल संख्या कितनी है?



- (1) 12
- (2) 8
- (3) 17
- (4) 14

36. संख्याओं की रचना में सूत्र पहचानकर प्रश्न चिह्न के स्थान का पर्याय चुनिए।



- (1) 18
- (2) 21
- (3) 26
- (4) 23

SPACE FOR ROUGH WORK

A	B	C	D	E	F	G	H	I	J	K	L	M	N	O	P	Q	R	S	T	U	V	W	X	Y
---	---	---	---	---	---	---	---	---	---	---	---	---	---	---	---	---	---	---	---	---	---	---	---	---

Q. 37 to 39 Directions : Identify the rhythmic arrangement of terms given below and find the correct term in place of the question mark.

37. M S T U N U N M S T S T U N M N M S T ? ? ? N M S

- (1) UTU (2) STM (3) UTS (4) MSU

38. 4 2 5 7 1 8 6 8 1 7 5 2 4 2 5 7 1 8 ? 7 5 2 ? 7 1 7 5 ?

- (1) 1, 8, 7 (2) 2, 5, 7 (3) 1, 2, 5 (4) 1, 5, 7

39. $\square \star \Delta + \circ \times \star \square \Delta + \times \circ \star \Delta \square \times + \circ \text{????} + \circ$

- (1) $\star \square \times \Delta$ (2) $\Delta \star \times \square$
(3) $\star \Delta \times \square$ (4) $\star \Delta + \square$

40. Pramod's present age is double of Amir's present age. Pramod is younger by 2 years than double the age of Sarvesh, but Harshal is elder by three years. Krishna, who is elder by three years than Harshal was 14 last year. If these are arranged in ascending order of their ages who will be at the center ?

- (1) Pramod (2) Sarvesh (3) Krishna (4) Harshal

41. In a certain code language 'SOON' is written as 'OOSN', 'APPLE' is written as 'PPALE', then how will you write 'TEETH' in the same code language ?

- (1) EETH (2) ETTEH (3) EETTH (4) EHTTE

42. A bus started at 6.40 a.m. travels at a speed of 45km/hr. At what time it will reach another place which is at a distance of 375 km ?

- (1) 2.55 p.m (2) 3.00 p.m (3) 3.05 p.m (4) 2.50 p.m

SPACE FOR ROUGH WORK

A	B	C	D	E	F	G	H	I	J	K	L	M	N	O	P	Q	R	S	T	U	V	W	X	Y
---	---	---	---	---	---	---	---	---	---	---	---	---	---	---	---	---	---	---	---	---	---	---	---	---

प्र. 37 से 39 में दी गई- लयबद्ध रचना में पदों का क्रम ध्यान में रखकर प्रश्न चिह्न के स्थान पर आने वाला पद पर्याय में से चुनिए।

37. M S T U N U N M S T S T U N M N M S T ? ? ? N M S

- (1) UTU (2) STM (3) UTS (4) MSU

38. 4 2 5 7 1 8 6 8 1 7 5 2 4 2 5 7 1 8 ? 7 5 2 ? 7 1 7 5 ?

- (1) 1, 8, 7 (2) 2, 5, 7 (3) 1, 2, 5 (4) 1, 5, 7

39. $\square \star \Delta + \circ \times \star \square \Delta + \times \circ \star \Delta \square \times + \circ \text{????} + \circ$

- (1) $\star \square \times \Delta$ (2) $\Delta \star \times \square$
(3) $\star \Delta \times \square$ (4) $\star \Delta + \square$

40. प्रमोद की आयु अमीर की वर्तमान आयु की दो गुनी है। सर्वेश की आयु के दुगुने से दो वर्ष कम आयु प्रमोद की तथा तीन वर्ष अधिक आयु हर्षल की है। हर्षल से तीन वर्ष बड़े कृष्णा की आयु पिछले वर्ष यदि 14 वर्ष रही हो, तो वर्धमान में आयु के बढ़ते क्रम में सबसे मध्य में कौन होगा?

- (1) प्रमोद (2) सर्वेश (3) कृष्णा (4) हर्षल

41. किसी सांकेतिक भाषा में 'सावधान' शब्द को 'ष ला द धा' लिखते हैं, 'परात' शब्द को 'नायणा' लिखते हैं, तो उसी भाषा में 'पसायदान' शब्द को कैसे लिखेंगे?

- (1) नाषमादधा (2) नषमाथधा (3) नाषमाथधा (4) नारामाथधा

42. 45 किमी/घंटा की चाल से चलने वाली बस प्रातः 6.40 बजे छूटी, तो 375 किमी दूर स्थित गाँव में वह कितने बजे पहुँचेगी?

- (1) दोपहर 2.55 बजे (2) दोपहर 3 बजे (3) दोपहर 3.05 बजे (4) दोपहर 2.50 बजे

SPACE FOR ROUGH WORK

A	B	C	D	E	F	G	H	I	J	K	L	M	N	O	P	Q	R	S	T	U	V	W	X	Y
---	---	---	---	---	---	---	---	---	---	---	---	---	---	---	---	---	---	---	---	---	---	---	---	---

Q. 43 to 47 Directions- In each of the following questions, relation between 3rd and 4th term is the same as that of between the first and the second. Find the term to replace the question mark.

43. Equal : Congruent :: Characteristics : ?

(Select two correct alternatives)

- (1) Features (2) Personality (3) Properties (4) terms

44. Water : H₂O :: Salt :: ?

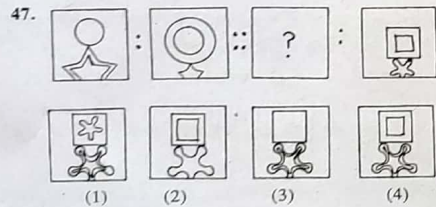
- (1) KCl (2) NaOH (3) NaCl (4) HCl

45. 253 : 450 :: 341 : ? [Select two correct alternatives]

- (1) 360 (2) 512 (3) 146 (4) 72

46. MOQ : PRU :: ? : NPS

- (1) UWY (2) KMO (3) JHF (4) JLP



SPACE FOR ROUGH WORK

A	B	C	D	E	F	G	H	I	J	K	L	M	N	O	P	Q	R	S	T	U	V	W	X	Y
---	---	---	---	---	---	---	---	---	---	---	---	---	---	---	---	---	---	---	---	---	---	---	---	---

प्र. 43 से 47 के लिए- नीचे दिए गए प्रत्येक प्रश्न में तीसरे और चौथे पद में वही सम्बन्ध है जो कि पहले और दूसरे में है। प्रश्न चिह्न के स्थान पर लगने वाला पद चुनिए।

43. रसना : जीभ :: पादय : ? (दो सही पर्याय चुनिए)

- (1) डुम (2) अद्री (3) तरु (4) नग

44. पानी : H₂O :: नमक : ?


- (1) KCl (2) NaOH (3) NaCl (4) HCl

45. 253 : 450 :: 341 : ? (दो सही पर्याय चुनिए)

- (1) 360 (2) 512 (3) 146 (4) 72

46. MOQ : PRU :: ? : NPS


- (1) UWY (2) KMO (3) JHF (4) JLP



SPACE FOR ROUGH WORK

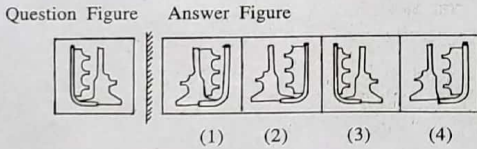
A	B	C	D	E	F	G	H	I	J	K	L	M	N	O	P	Q	R	S	T	U	V	W	X	Y
---	---	---	---	---	---	---	---	---	---	---	---	---	---	---	---	---	---	---	---	---	---	---	---	---

Q. 48 to 50 Directions : Study the following Pyramid.



48. 20 32 26 : 31 24 14 :: 32 13 37 : ? [Select two correct alternatives]
 (1) 29 31 24 (2) 29 22 24 (3) 12 31 16 (4) 16 31 12
49. 13 27 : 19 29 :: 35 19 : ?
 (1) 31 21 (2) 22 31 (3) 21 31 (4) 29 16
50. 18 27 37 19 34 ? ? 30
 (1) 29 23 (2) 23 16 (3) 29 16 (4) 23 28


51. Identify the mirror image of the question figure when a mirror is held as shown in the diagram.



SPACE FOR ROUGH WORK

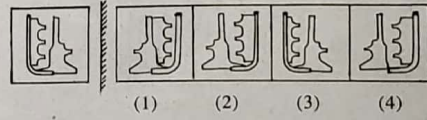
A	B	C	D	E	F	G	H	I	J	K	L	M	N	O	P	Q	R	S	T	U	V	W	X	Y
---	---	---	---	---	---	---	---	---	---	---	---	---	---	---	---	---	---	---	---	---	---	---	---	---

प्र. 48 से 50 के लिए-निम्नलिखित पिरामिड का निरीक्षण करें।



48. 20 32 26 : 31 24 14 :: 32 13 37 : ? [सो सही पर्याय चुनिए]
 (1) 29 31 24 (2) 29 22 24 (3) 12 31 16 (4) 16 31 12
49. 13 27 : 19 29 :: 35 19 : ?
 (1) 31 21 (2) 22 31 (3) 21 31 (4) 29 16
50. 18 27 37 19 34 ? ? 30
 (1) 29 23 (2) 23 16 (3) 29 16 (4) 23 28

51. प्रश्नाकृति की दर्पण में बनने वाली प्रतिमा पर्याय में से चुनिए।
 प्रश्न आकृति उत्तर आकृतियाँ



SPACE FOR ROUGH WORK

A	B	C	D	E	F	G	H	I	J	K	L	M	N	O	P	Q	R	S	T	U	V	W	X	Y
---	---	---	---	---	---	---	---	---	---	---	---	---	---	---	---	---	---	---	---	---	---	---	---	---

Q. 58 and 59 Directions- A, B, C, D, E, F, G, H are the eight boys standing in a circle facing each other, at an equal distance. D is standing next to A to his right and E is in front of him. B is standing next to H, to his right and is in front of G. In front of C, to the south D is standing; but F is not next to D.

58. Which direction H is facing ?

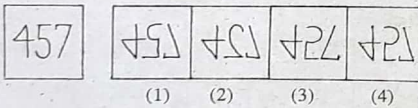
- (1) North-East (2) South-West
(3) South-East (4) North-West

59. Who is standing to the East ?

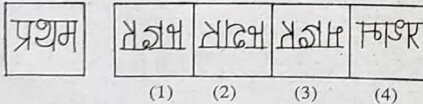
- (1) C (2) B (3) G (4) H

Q. 60 and 61 Directions- In the following questions a question figure is given, Identify its water image from the given alternatives.

60. Question Figure Answer Figure



61. Question Figure Answer Figure



SPACE FOR ROUGH WORK

A	B	C	D	E	F	G	H	I	J	K	L	M	N	O	P	Q	R	S	T	U	V	W	X	Y
---	---	---	---	---	---	---	---	---	---	---	---	---	---	---	---	---	---	---	---	---	---	---	---	---

प्र. 58 व 59 के लिए- किसी वृत्ताकार मैदान पर किनारे से अ, ब, क, ड, फ, ग, ज यह आठ लड़के समान दूरी पर मुँह अंदर की ओर करके खड़े हैं। उनमें 'अ' के दाहिनी ओर बगल में खड़े 'ड' के सामने 'इ' खड़ा है। 'ब', 'ज' के दायीं ओर बगल में 'ग' के सामने है। 'क' के सामने दक्षिण की 'ड' खड़ा है परंतु 'ड' के पड़ोस में फ नहीं है।

58. 'ज' के सामने कौन-सी दिशा है?

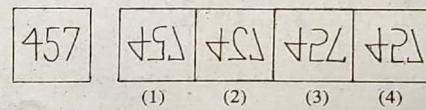
- (1) ईशान्य (2) नैऋत्य
(3) आग्नेय (4) वायव्य

59. पूर्व दिशा में कौन खड़ा है?

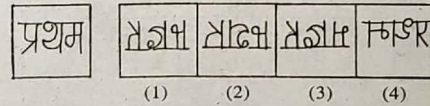
- (1) क (2) ब (3) ग (4) ज

प्र. 60 व 61 में प्रश्न की आकृति का जल में प्रतिबिंब पर्याय में से चुनिए।

60. प्रश्न आकृति उत्तर आकृतियाँ



61. प्रश्न आकृति उत्तर आकृतियाँ

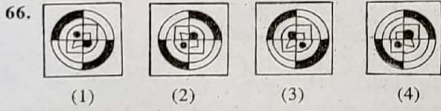


SPACE FOR ROUGH WORK

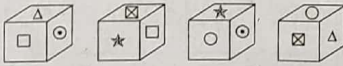
ABCDE	FGHIJ	KLMNO	PQRST	UVWXY
-------	-------	-------	-------	-------

Q. 62 to 66 Directions- Find the odd term.

62. (1) Hour-our (2) Cloth-clothe
 (3) There-their (4) Seen-scene
63. (1) 327 (2) 844
 (3) 532 (4) 627
64. (1) Italy-Rome (2) Germany-Berlin
 (3) U.S.A-New York (4) Egypt-Cairo
65. (1) ADH (2) RVY
 (3) KNR (4) FIM



67. Different Faces of a cube with symbols \square , \circ , Δ , \star , \boxtimes , and \odot are given below. Symbols on opposite faces are given in the alternatives. Which alternative shows the symbols that are not on the opposite faces.



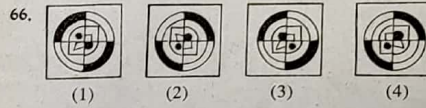
- (1) \square and \circ (2) Δ and \star (3) \boxtimes and \odot (4) \circ and \boxtimes

SPACE FOR ROUGH WORK

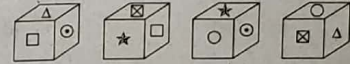
ABCDE	FGHIJ	KLMNO	PQRST	UVWXY
-------	-------	-------	-------	-------

प्र. 62 से 66 में समूह में न बैठने वाले पद चुनिए।

62. (1) काया (2) कर
 (3) देह (4) शरीर
63. (1) 327 (2) 844
 (3) 532 (4) 627
64. (1) इटली-रोम (2) जर्मनी-बर्लिन
 (3) संयुक्त राज्य अमेरिका-न्यूयार्क (4) इजिप्ट-कैरो
65. (1) ADH (2) RVY (3) KNR (4) FIM



67. किसी घन के पृष्ठभाग पर \square , \circ , Δ , \star , \boxtimes , एवं \odot चिह्नवाली विभिन्न भुजाएँ नीचे दिखाई गई हैं? उनके आमने-सामने के पृष्ठों पर स्थित चिहनों की जोड़ी पर्यायों में दिखायी गयी है। उनमें से किस पर्याय में चिहनों की जोड़ी सम्मुख (आमने-सामने) पृष्ठ पर नहीं आयेगी?



- (1) \square व \circ (2) Δ व \star (3) \boxtimes व \odot (4) \circ व \boxtimes

SPACE FOR ROUGH WORK

A	B	C	D	E	F	G	H	I	J	K	L	M	N	O	P	Q	R	S	T	U	V	W	X	Y
---	---	---	---	---	---	---	---	---	---	---	---	---	---	---	---	---	---	---	---	---	---	---	---	---

68. From the following number series, find the odd term.

12, 15, 20, 23, 28, 34, 38, 45

- (1) 34 (2) 20 (3) 28 (4) 45

Q. 69 and 70 Directions- In a certain code language 'I eat chappati' is written as BAN. 'I sell books' is written as CNO and 'Amar reads books' is written as OBM. Then.

69. Which letter is used for the word 'sell' ?

- (1) N (2) O (3) C (4) A

70. Which letter is used for the word 'I' ?

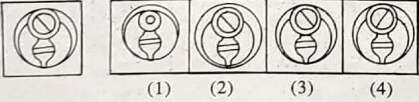
- (1) B (2) C (3) O (4) N

Q. 71 and 72 Directions-Choose the correct figure from the alternatives which exactly matches with the question figure.

71. Question Figure Answer Figure



72. Question Figure Answer Figure



SPACE FOR ROUGH WORK

A	B	C	D	E	F	G	H	I	J	K	L	M	N	O	P	Q	R	S	T	U	V	W	X	Y
---	---	---	---	---	---	---	---	---	---	---	---	---	---	---	---	---	---	---	---	---	---	---	---	---

68. संख्यामाला में गलत पद पर्याय में से चुनिए।

12, 15, 20, 23, 28, 34, 38, 45

- (1) 34 (2) 20 (3) 28 (4) 45

प्र. 69 व 70 के लिए- एक सांकेतिक भाषा में 'राम आम खाएगा' को BAN लिखते हैं, 'राम सब्जी बनाएगा' को CNO लिखते हैं, और 'गोपाल सब्जी खाएगा' को OBM लिखते हैं तो

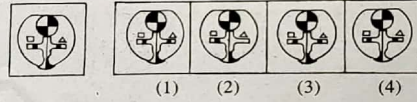
69. 'बनाएगा' शब्द के लिए कौन-सा सांकेतिक अक्षर आया है?

- (1) N (2) O (3) C (4) A

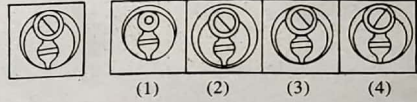
70. 'राम' शब्द के लिए कौन-सा सांकेतिक अक्षर आया है?

- (1) B (2) C (3) O (4) N

71. प्रश्नकृति से ह-व-ह मिलने वाली आकृति पर्याय में से चुनिए।




72. प्रश्नकृति से ह-व-ह मिलने वाली आकृति पर्याय में से चुनिए।



SPACE FOR ROUGH WORK

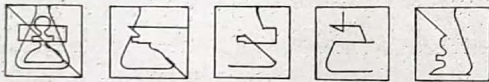
ABCDE FGHIJ KLMNO PQRST UVWXY

73. A square sheet of paper is folded and cut as shown in the question figure. How will the figure look like when the paper is unfolded. Choose the correct alternative.



(1) (2) (3) (4)

74. Find the hidden part of the question figure from the alternatives given.



(1) (2) (3) (4)

75. Choose the correct alternative to complete the question figure.




(1) (2) (3) (4)

SPACE FOR ROUGH WORK

ABCDE FGHIJ KLMNO PQRST UVWXY

73. प्रश्नाकृति में कागज को मोड़कर विशिष्ट स्थान पर काटा गया स्थान दिखाया गया है तो कागज को खोलने पर कौन-सी आकृति दिखाई देगी?



(1) (2) (3) (4)

74. प्रश्नाकृति में छुपा हुआ भाग पर्याय में से चुनिए।



(1) (2) (3) (4)

75. दी गई अपूर्ण प्रश्नाकृति पूर्ण करने के लिए उचित पर्याय चुनिए।



(1) (2) (3) (4)

SPACE FOR ROUGH WORK

SPACE FOR ROUGH WORK

AL