

ప్రీ సెకండరీ స్కూలర్షిప్ ఎగ్జామినేషన్ (8వ తరగతి), ఫిబ్రవరి 2020

సీటు నం.

--	--	--	--	--	--	--	--	--	--	--	--	--

0	7	2	2
---	---	---	---

సెట్

A
---

పేపర్ నెం. II  
పేజీలు: 32

మీడియం: తెలుగు  
మూడవ భాష మరియు ఇంటెలిజెన్స్ పరీక్ష

సమయం: 1:30 నుండి 3:00 వరకు  
మొత్తం మార్కులు: 150

మీరు ప్రశ్నలకు సమాధానం ఇచ్చే ముందు ఈ క్రింది సూచనలను జాగ్రత్తగా చదవండి.

- ఈ ప్రశ్నపత్రంలో రెండు విభాగాలు ఉన్నాయి. సెక్షన్ I లో మూడవ భాషకు సంబంధించి 1 నుండి 25 ప్రశ్నలు మరియు సెక్షన్ II లో ఇంటెలిజెన్స్ టెస్ట్ కు సంబంధించి 26 నుండి 75 ప్రశ్నలు ఉన్నాయి. మొత్తం 75 ప్రశ్నలు తప్పనిసరి.
- అన్ని ప్రశ్నలకు 2 మార్కులు ఉంటాయి.
- ప్రశ్నపత్రాన్ని పూర్తిచేయడానికి కాలపరిమితి 90 నిమిషాలు.
- సమాధానాలను రికార్డ్ చేయడానికి ప్రత్యేక జవాబు పత్రం ఇవ్వబడుతుంది. ప్రతి ప్రశ్నకు నాలుగు ప్రత్యామ్నాయాలు ఇవ్వబడ్డాయి. వాటిని జాగ్రత్తగా చదవండి. జవాబు పత్రంలో సరైన సమాధానం ఎంచుకోండి మరియు షేడ్ చేయండి.  
ఉదాహరణ కోసం: - ప్రశ్న నెం. 6 కి సరైన ప్రత్యామ్నాయం 2 అయితే మీ జవాబును ఈ క్రింది విధంగా రికార్డ్ చేయండి:  
ప్రశ్న నెం. 6 -                     ① ● ③ ④
- గరిష్టంగా 20% ప్రశ్నలు రెండు సరైన ప్రత్యామ్నాయాలను కలిగి ఉన్నాయి. అభ్యర్థి సరైన సమాధానాలతో రెండు సర్కిల్‌లను దిద్దవలసి (షేడింగ్) ఉంటుంది. ఈ ప్రశ్నలకు 'రెండు సరైన ప్రత్యామ్నాయాలను ఎంచుకోండి' అనే సూచన ఉంటుంది.  
ఉదాహరణ కోసం: - ప్రశ్ననెం. 8 కి సరైన ప్రత్యామ్నాయం 2 & 3 అయితే, మీ జవాబును ఈ క్రింది విధంగా రికార్డ్ చేయండి:  
ప్రశ్న నెం. 8 -                     ① ● ● ④
- మరే ఇతర రూపంలో నమోదు చేయబడిన సమాధానం పరిగణించబడదు. అలాంటి సమాధానానికి 'సున్నా' మార్కు ఇవ్వబడుతుంది.
- వృత్తాన్ని దిద్దడానికి నీలం లేదా నలుపు బాల్ పెన్స్ ఉపయోగించండి. వెన్సిల్ ద్వారా దిద్దిన వృత్తాలు పరిగణించబడవు.
- ఒకసారి రికార్డ్ చేసిన సమాధానం మార్చబడదు.
- చిత్తు పనికి (రఫ్ వర్క్) ప్రతి పేజీ క్రింద లేదా ప్రశ్నపత్రం యొక్క చివరి పేజీలో ఇచ్చిన స్థలంలో చేయాలి.
- పరీక్షకు పరిమిత సమయం ఉంది, ఒకవేళ మీరు ఒక ప్రశ్నను పరిష్కరించలేకపోతే, దయచేసి తరువాతి ప్రశ్నను పరిష్కరించండి. సమయం అనుమతిస్తే చివరికి మీరు పరిష్కరించని ప్రశ్నలను పరిష్కరించడానికి ప్రయత్నించవచ్చు.
- మీకు ఏవైనా ప్రశ్న అసంపూర్ణంగా లేదా లోపంగా అనిపిస్తే, అప్పుడు సూపర్వైజర్ లేదా సెంటర్ ఇన్చార్జిని ఏమీ అడగవద్దు.
- ఏదైనా లోపం / పొరపాటు / అభ్యంతర విషయాల కోసం, పాఠశాల లేదా తల్లిదండ్రులు బ్యాక్ ఎడ్యుకేషన్ ఆఫీసర్ లేదా ఎడ్యుకేషన్ ఆఫీసర్కు లిఖితపూర్వక దరఖాస్తును పంపకూడదు. ఈ లోపం / పొరపాటు / అభ్యంతర విషయాలను సంబంధిత పాఠశాల లాగిన్ ద్వారా మాత్రమే ఆన్లైన్లో నమోదు చేసుకోవాలి.
- MSCE వెబ్‌సైట్‌లో తాత్కాలిక జవాబు కీని ప్రచురించిన 10 రోజుల వ్యవధిలో లోపం / పొరపాటు / అభ్యంతర విషయాలను ఆన్లైన్‌లో నమోదు చేయాలి.
- ఫ్రంటింగ్ లేదా ప్రశ్నపత్రంలో ఏదైనా ఇతర పొరపాటుపై నిపుణుల కమిటీ యొక్క సూచన మరియు నిర్ణయం వర్తిస్తుంది.

**SECTION-I**

**Instruction for Q. 1. :**

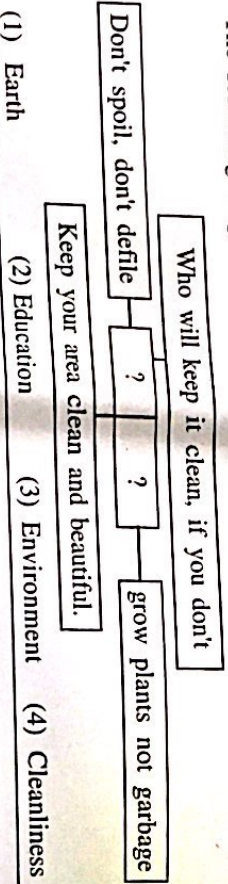
Ahmadabad, Feb. 15, 2016

A team of Indian and German scientists working near Bhuj in the Kutch region of Gujarat had found a big fossil of a dinosaur in hill in Lodai village. On Saturday they found more fossils. The new fossils include skull, jaw, and some teeth of dinosaur. A sample of fossils has been sent to Munich, Germany for further testing.

- The above news tells us about.....  
 (1) The scientists  
 (2) Ahmadabad  
 (3) Germany  
 (4) Dinosaur fossils

- Complete the dialogue with correct option.  
 Meena -: I am getting ..... It's too cold here.  
 Mother -: Don't worry dear. I'll bring sweater for you.  
 (1) Bored  
 (2) Confused  
 (3) Tired  
 (4) Chilled to bone

- Choose the correct option for the following slogans.  
 The following slogans are about.....



SPACE FOR ROUGH WORK

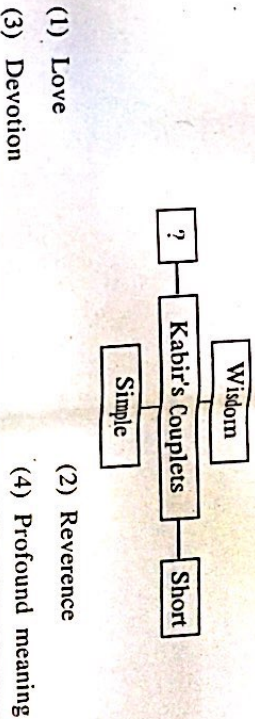
**Instruction for Question No.- 4-6 :** Read the passage and choose the correct option.

Kabir was one of the great personalities in the history of our country. He lived hundreds of years ago, but his poems and teachings are sung with love and reverence even today. Hindus, Muslims, Sikhs, all think of him as a great Guru, teacher and religious figure. Kabir taught people devotion and humility. He wrote couplets and (dohas) and short poems. Though his compositions are short and simple they convey profound meaning and wisdom.

- Choose the correct option.  
 The passage tells us about.....  
 (1) The history of our country  
 (2) The information about Kabir-a saint poet  
 (3) The different religion  
 (4) Kabir's childhood

- Which 'Hindi' word is mentioned in the passage?  
 (1) Sung  
 (2) Figure  
 (3) Doha  
 (4) Ago

- Complete the web by choosing the correct word.



SPACE FOR ROUGH WORK

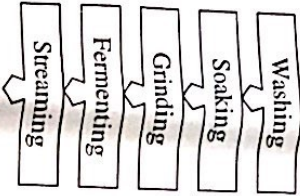
7. What is the mood in the following short-note ?

Choose the correct option.

I'm always there in your hour of need.  
May his/her soul rest I peace. Words fall short to express my sorrow.

- (1) Happy (2) Surprise  
(3) Sad (4) Wonder

8. Read the following procedure and choose one correct alternative.  
These methods are used for .....



- (1) Washing cloths (2) Making idlis  
(3) Making rotis (4) Making desserts

9. Read the following riddle and choose one correct option.

I'm tall when I'm young.  
I'm short when I'm old.  
What am I ?

- (1) Tree (2) Candle  
(3) Egg (4) Stick

SPACE FOR ROUGH WORK

**Instruction for Question No. 10-11 :** Read the passage and choose the correct option.

Grate a couple of medium sized beetroots and soak them in a little water. After a while, you will get a beautiful dark pink-red colour. Add it to a bucketful of water. The red jasmwand (hibiscus) flower will give you a deep red colour. Dry the petals of Zendu (marigold). Then you can powder them to get an orange colour. Even you can dry the leaves of neem, mint, coriander, spinach to get a dry green powder. If you crush or grind the fresh leaves you get dry colours and if you add the paste to water, you get wet colour. So talk to your mother to find out what other things in kitchen can give you safe natural colour. Let's celebrate holi with natural colour.

10. Match the pairs.

A B

- |              |              |
|--------------|--------------|
| (1) Jaswand  | (a) Pink-red |
| (2) Spinach  | (b) Deepred  |
| (3) Beetroot | (c) Green    |
| (4) Marigold | (d) Orange   |
- (1) 1-d; 2-b; 3-a; 4-c (2) 1-b; 2-a; 3-c; 4-d  
(3) 1-c; 2-d; 3-b; 4-a (4) 1-a; 2-c; 3-a; 4-d

11. Choose the correct option for the correct title to the passage.

- (1) Colours  
(2) Celebrate holi with natural colours  
(3) Celebration  
(4) Festivals are colourful

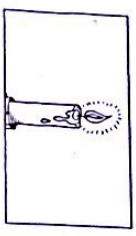
SPACE FOR ROUGH WORK

12. Choose the correct alternative.  
Hrishikesh was awarded as a 'best student of the year'. Find out three adjectives which suits him.

b	i	g	s	m	n	o
r	h	o	n	c	s	t
a	g	o	t	t	p	q
v	c	d	b	o	d	h
e	s	m	p	d	b	q

- (1) Good, honest, brave
- (2) Big, quite, bad
- (3) Calm, nest, ago
- (4) Big, tall, ball

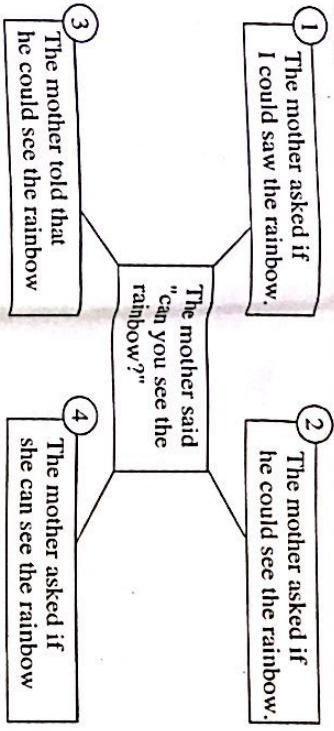
13. Choose the correct alternative from the following.



- (1) The sun is not as hot as tea
- (2) The candle is hotter than fire
- (3) The fire is hotter than candle
- (4) The candle is hotter than sun

SPACE FOR ROUGH WORK

14. Go through the following diagram and choose correct alternative.



- (1) 4
- (2) 1
- (3) 3
- (4) 2

15. Find out one correct alternative of type of tense of underlined word.  
When a farmer was returning home from the market, dark clouds gathered in the sky.

- (1) Simple past tense
- (2) Present continuous tense
- (3) Past continuous tense
- (4) Future continuous tense

16. Choose two correct alternatives for the following sentences which shows correct object and its active voice.  
My toy had been taken away.

- (1) My sister had taken away my toys
- (2) My sister has taken away my toys
- (3) My sisters had taken away my toys
- (4) My sister taken away my toys.

SPACE FOR ROUGH WORK

ABCDE FGHIJ KLMNO PQRST UVWXY

SECTION-II

INTELLIGENCE TEST

26. Form a meaningful word from the letters PTECSIROIND Use numerals 1, 2, ..... for every letter. Find the correct option from the following that makes a meaningful word from the word so formed.

- (1) 7, 5, 1 (2) 3, 1, 2 (3) 5, 2, 1 (4) 2, 4, 5

27. From the given alphabet series, choose the pair from the given options, which is at an equal distance from the 11th letter from the right. [select two correct alternatives]

- (1) D, R (2) F, X (3) J, T (4) P, F

Q. 28 and 29 Directions : Study the following number series and answer the questions that follow :

2 3 3 4 2 5 3 2 3 5 4 2 1 4 2 3 3 2 5 4 2 1 5 3 4 2 5 3 2 4 2 3

28. How many times an odd number is immediately followed by an even number but not preceded by even number.

- (1) Six (2) Four (3) Five (4) Seven

29. In the given number series, which number has occurred highest number of times ?

- (1) 4 (2) 3 (3) 2 (4) 5

SPACE FOR ROUGH WORK

ABCDE FGHIJ KLMNO PQRST UVWXY

SECTION-II

INTELLIGENCE TEST

26. 'పా ర ము శ్రీ' ఓ నాలుగు అక్షరాలతో తయారైన అక్షరాలైన వందోని ఏ అక్షరాలతో 'సర్పము' పదముకు అర్థం తయారగును?

- (1) 1 మరియు 4 (2) 4 మరియు 3 (3) 1 మరియు 3 (4) 2 మరియు 4

27. అక్షరామాలింకలో కుడి నైపు మండ పదకొండవ అక్షరంనుండి సహజ దూరంలో గల అక్షరాల జత ఏది? (రెండు సరియైన వర్ణాలూలను గుర్తించండి)

- (1) D, R (2) F, X (3) J, T (4) R, F

ప్రశ్న 28 మరియు 29 కొరకు అవసరమైన పరిశీలించండి.

2 3 3 4 2 5 3 2 3 5 4 2 1 4 2 3 3 2 5 4 2 1 5 3 4 2 5 3 2 4 2 3

28. ఇవ్వబడిన అవసరాలింకలో ఓని నాలుగు తరువాత వలసొచ్చే ఓని కాని ఆ ఓని నాలుగు ముందు వలసొచ్చే ఓని ఇలా ఏదీ సార్లు వచ్చాయి.

- (1) అరు (2) నాలుగు (3) ఓడు (4) ఏడు

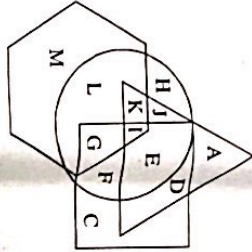
29. ఇవ్వబడిన అవసరాలింకలో ఏ అంకం ఎక్కువ సార్లు వచ్చింది?

- (1) 4 (2) 3 (3) 2 (4) 5

SPACE FOR ROUGH WORK

ABCDE FGHIJ KLMNO PQRST UVWXY

Q. 30 and 31 Directions : In the following venn diagram, triangle represents doctors, circle represents farmers, hexagon represents authors and quadrilateral represents carpenters.



30. Which of the following options indicate carpenters who are farmers.  
 (1) JKLI (2) IIEFG (3) EFD C (4) HCLM

31. Which of the following letter indicates doctors who are only authors.  
 (1) K (2) A  
 (3) M (4) None of the above.

32. Find the position of the 7th letter which is to the left of 12th letter in the given alphabet series. [select two correct options]

(1) 21st from right (2) 21st from left  
 (3) 5st from right (4) 5st from left

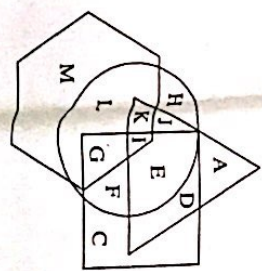
33. 150 streamers of different colours are arranged in a garland. The colours follow a specific sequence, red, yellow, green, blue, violet, white and orange. Which of the following option will not carry violet coloured stream ? [select the correct alternatives]

(1) 68 (2) 89 (3) 115 (4) 94

SPACE FOR ROUGH WORK

ABCDE FGHIJ KLMNO PQRST UVWXY

ప్రశ్న 30 మరియు 31 కొరకు ప్రశ్నన గల అక్షరాలే త్రిభుజిలో వైద్యులు, వృత్తంలో కరువులు, త్రిభుజిలో కారులు మరియు చతుర్భుజిలో వర్తమానులు చూపబడింది.



30. వ్యవసాయం చేయు వర్తమానులు ఏ అక్షరాలలో చూపబడినవి?  
 (1) JKLI (2) IIEFG (3) EFD C (4) HCLM

31. కేవలం రూపం చేయు వైద్యులను ఏ అక్షరాలలో చూపబడినవి?  
 (1) K (2) A (3) M (4) ఏదీ ఇంకాదు

32. అక్షరాలాక్షరాల వ్యవస్థలో 12వ అక్షరానికి ఎడమ వైపు ఏ అక్షరాలు ఉన్నాయి? సరైన సమాధానాలు ఎంపిక చేయండి.  
 (ఇరు సరియైన సమాధానాలను గుర్తించండి)

(1) కుడి వైపు నుండి ఇరవై ఒకటవది (2) ఎడమ నుండి ఇరవై ఒకటవది  
 (3) కుడి వైపు నుండి ఐదవది (4) ఎడమ వైపు నుండి ఐదవది

33. 150 దారాలతో వలపు, పసుపు, ఆకుపచ్చ, ఎరుపు, పసుపు మరియు గులాబీ ఊరకం 150 వలకలను అతికించారు. ఊరకం వలకలలో ఏ వలకలో ఎరుపు వలకల సంఖ్య ఉండదు? (ఒక సరియైన సమాధానం గుర్తించండి)

(1) 68 (2) 89 (3) 115 (4) 94

SPACE FOR ROUGH WORK

A B C D E F G H I J K L M N O P Q R S T U V W X Y

34. Akshay is younger than Vishal by 125 days. Akshay is born on Saturday. 13th Aug. On which day was Vishal born ?

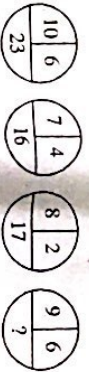
- (1) Sunday, 10th April
- (2) Friday, 16th December
- (3) Sunday, 9th April
- (4) Thursday 15th December.

35. Find the number of quadrilaterals in the given figure.



- (1) 12
- (2) 8
- (3) 17
- (4) 14

36. In the following series, determine the rule and find out the term in place of the question mark.



- (1) 18
- (2) 21
- (3) 26
- (4) 23


SPACE FOR ROUGH WORK

A B C D E F G H I J K L M N O P Q R S T U V W X Y

34. చివరి కంటే అక్షయం 125 రోజులు చిన్నవాడు అయితే అక్టో 13 అనెప్పటి కనివారం వాడు జన్మించినట్లయితే చివరి జన్మించిన రోజు కింది వాటిలో ఏది?

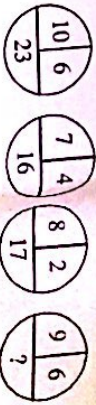
- (1) 10 ఏప్రిల్, ఆదివారము
- (2) 16 డిసెంబర్, శుక్రవారము
- (3) 9 ఏప్రిల్, శనివారము
- (4) 15 డిసెంబర్, గురువారము

35. కింది ఇవ్వబడిన ఆకృతిలో మొత్తం ఎన్ని చతుర్భుజాలు కలవు?



- (1) 12
- (2) 8
- (3) 17
- (4) 14

36. సంఖ్యల ఆమోక సూత్రాన్ని గుర్తించి ప్రశ్న చిహ్నము స్థానంలో ఏ సంఖ్యయును వచ్చును గుర్తించండి?



- (1) 18
- (2) 21
- (3) 26
- (4) 23

SPACE FOR ROUGH WORK

ABCDEFGHIJKLMN OPQRST UVWXYZ

Q. 37 to 39 Directions : Identify the rhythmic arrangement of terms given below and find the correct term in place of the question mark.

37. M S T U N U N M S T S T U N N M N M S T ? ? ? N M S  
 (1) UTU (2) STM (3) UTS (4) MSU

38. 4 2 5 7 1 8 6 8 1 7 5 2 4 2 5 7 1 8 ? 7 5 2 ? 7 1 7 5 ?  
 (1) 1, 8, 7 (2) 2, 5, 7 (3) 1, 2, 5 (4) 1, 5, 7

39.  $\square \star \Delta + \circ \times \star \square \Delta + \times \circ \star \Delta \square \times + \circ ? ? ? ? + \circ$   
 (1)  $\star \square \times \Delta$  (2)  $\Delta \star \times \square$   
 (3)  $\star \Delta \times \square$  (4)  $\star \Delta + \square$

40. Pramod's present age is double of Amih's present age. Pramod is younger by 2 years than double the age of Sarvesh, but Harshal is elder by three years. Krishna, who is elder by three years than Harshal was 14 last year. If these are arranged in ascending order of their ages who will be at the center ?  
 (1) Pramod (2) Sarvesh (3) Krishna (4) Harshal

41. In a certain code language 'SOON' is written as 'OOSN', 'APPLE' is written as 'PPALE', then how will you write 'TEETH' in the same code language ?  
 (1) EETHH (2) ETTEH (3) ETTTH (4) EHTTE

42. A bus started at 6.40 a.m. travels at a speed of 45km/hr. At what time it will reach another place which is at a distance of 375 km ?  
 (1) 2.55 p.m (2) 3.00 p.m (3) 3.05 p.m (4) 2.50 p.m

SPACE FOR ROUGH WORK

ABCDEFGHIJKLMN OPQRST UVWXYZ

ప్రశ్న 37 మరియు 39 లో యిచ్చబట్టిన పదాలలోని పద్య యుక్త ప్రమాణము గుర్తుపెత్తిన ప్రశ్నచిహ్నము స్థానంలో పద్య పదము వర్గాయాల నిండ గుర్తుపెత్తండి.

37. M S T U N U N M S T S T U N N M N M S T ? ? ? N M S  
 (1) UTU (2) STM (3) UTS (4) MSU

38. 4 2 5 7 1 8 6 8 1 7 5 2 4 2 5 7 1 8 ? 7 5 2 ? 7 1 7 5 ?  
 (1) 1, 8, 7 (2) 2, 5, 7 (3) 1, 2, 5 (4) 1, 5, 7

39.  $\square \star \Delta + \circ \times \star \square \Delta + \times \circ \star \Delta \square \times + \circ ? ? ? ? + \circ$   
 (1)  $\star \square \times \Delta$  (2)  $\Delta \star \times \square$   
 (3)  $\star \Delta \times \square$  (4)  $\star \Delta + \square$

40. అమిత్ ప్రస్తుత వయసుకు రెట్టింపు ప్రమోద్ వయసు గా, సర్వేష్ వయసుకు రెట్టింపుకన్న రెండు సంవత్సరాలు తక్కువ ప్రమోద్ వయసు అయితే మూడు సంవత్సరాలు ఎక్కువ వారల్ దాడు. వారల్ కన్న మూడు సంవత్సరాలు ఎక్కువ అయిన కృష్ణ యుక్త గత సంవత్సర వయసు 14 సంవత్సరాలుంటే ప్రస్తుత వయసు అంతేగా క్రమంలో మరొక భాగించినను ఉంటారు?  
 (1) ప్రమోద్ (2) సర్వేష్ (3) కృష్ణ (4) వారల్

41. ఒక సాంకేతిక భాషలో 'సావధాన్' పదమును 'వలాదరా' ను రాస్తారు. 'వరాత్' పదమును 'వాయూ' ఇలా రాస్తారు. రాస్తారు. అయిన ఆతే భాషలో 'పహాయదాన్' ఈ పదంలా రాస్తారు ?  
 (1) వాసూదరా (2) నవమూథరా (3) వాసూథరా (4) వాశమూథరా

42. ఉదయం 6 గంటల 40 నిమిషాములకు బళ్ళెలిన బస్సు గంట 45 కి.మీ వేగంతో ప్రయాణం చేస్తుంది. అయిన 375 కి.మీ దూరంలో ఉన్న ఊరుకు బస్సు చేరుకుంటుంది?  
 (1) మధ్యాహ్నం 2 గంటల 55 నిమిషాంకు (2) మధ్యాహ్నం 3 గంటలంకు  
 (3) మధ్యాహ్నం 3 గంటల 5 నిమిషాలకు (4) మధ్యాహ్నం 2 గంటల 50 నిలకు

SPACE FOR ROUGH WORK



**A B C D E**    **F G H I J**    **K L M N O**    **P Q R S T**    **U V W X Y**

**Q. 43 to 47 Directions-** In each of the following questions, relation between 3rd and 4th term is the same as that of between the first and the second. Find the term to replace the question mark.

43. Equal : Congruent :: Characteristics : ?  
 (Select two correct alternatives)

- (1) Features
- (2) Personality
- (3) Properties
- (4) terms

44. Water : H<sub>2</sub>O :: Salt : : ?

- (1) KCl
- (2) NaOH
- (3) NaCl
- (4) HCl


45. 253 : 450 :: 341 : ? [Select two correct alternatives]

- (1) 360
- (2) 512
- (3) 146
- (4) 72

46. MOQ : PRU :: ? : NPS

- (1) UWY
- (2) KMO
- (3) JHF
- (4) JLP.

47.



SPACE FOR ROUGH WORK

**A B C D E**    **F G H I J**    **K L M N O**    **P Q R S T**    **U V W X Y**

**ప్రశ్న 43 నుండి 47 వరకు** దిగువ ప్రశ్నలకు సంబంధించిన సరైన సమాధానాలను గుర్తించండి. ప్రతి ప్రశ్నకు రెండు సరైన సమాధానాలు ఉంటాయి. వాటిని గుర్తించండి.

43. సమాన : సమానం :: లక్షణాలు : ?  
 (రెండు సరైన సమాధానాలను గుర్తించండి)

- (1) భాషలు
- (2) వాక్యాలు
- (3) లక్షణాలు
- (4) పదాలు

44. నీరు : H<sub>2</sub>O :: ఉప్పు : : ?

- (1) KCl
- (2) NaOH
- (3) NaCl
- (4) HCl

45. 253 : 450 :: 341 : ?


(రెండు సరైన సమాధానాలను గుర్తించండి)

- (1) 360
- (2) 512
- (3) 146
- (4) 72

46. MOQ : PRU :: ? : NPS

- (1) UWY
- (2) KMO
- (3) JHF
- (4) JLP

47.



SPACE FOR ROUGH WORK

ABCDE FGHIJ KLMNO PQRST UVWXY

Q. 48 to 50 Directions : Study the following Pyramid.

36	33					
20	38	14				
32	35	24	12			
13	26	22	31	21		
17	37	19	29	16	30	
18	27	11	34	23	28	15

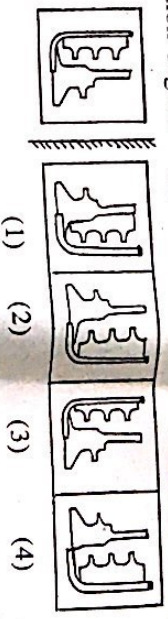
48. 20 32 26 : 31 24 14 :: 32 13 37 : ? [Select two correct alternatives]  
 (1) 29 31 24 (2) 29 22 24 (3) 12 31 16 (4) 16 31 12

49. 13 27 : 19 29 :: 35 19 : ?  
 (1) 31 21 (2) 22 31 (3) 21 31 (4) 29 16

50. 18 27 37 19 34 ? ? 30  
 (1) 29 23 (2) 23 16 (3) 29 16 (4) 23 28

51. Identify the mirror image of the question figure when a mirror is held as shown in the diagram.

Question Figure Answer Figure



SPACE FOR ROUGH WORK

ABCDE FGHIJ KLMNO PQRST UVWXY

ప్రశ్న 48 నుండి 50 వరకు మీద గ్రామిణమును పరిశీలించండి

36	33					
20	38	14				
32	35	24	12			
13	26	22	31	21		
17	37	19	29	16	30	
18	27	11	34	23	28	15

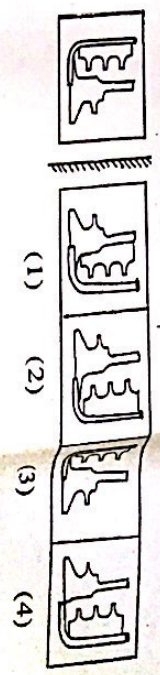
48. 20 32 26 : 31 24 14 :: 32 13 37 : ? (మీద గ్రామిణమును పరిశీలించండి)  
 (1) 29 31 24 (2) 29 22 24 (3) 12 31 16 (4) 16 31 12

49. 13 27 : 19 29 :: 35 19 : ?  
 (1) 31 21 (2) 22 31 (3) 21 31 (4) 29 16

50. 18 27 37 19 34 ? ? 30  
 (1) 29 23 (2) 23 16 (3) 29 16 (4) 23 28

51. ప్రశ్నచిత్ర యొక్క ప్రతిబింబం అర్థములో చూడ కనబడను రుద్దండి.

ప్రశ్న చిత్రం జవాబు చిత్రం



SPACE FOR ROUGH WORK

ABCDE FGHIJ KLMNO PQRST UVWXYZ

52. Find out the rule underlying the arrangement of numbers in the following question and choose the correct alternative that will replace the question mark.



- (1) 30
- (2) 36
- (3) 33
- (4) 77

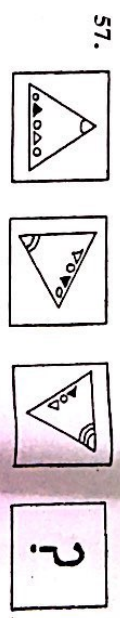
Q. 53 to 57 Direction- In the following series, determine the rule underlying the series and find out the term in place of the question mark.

- 53. 2, 6, 16, 38, 84, ? 368
- (1) 176
- (2) 168
- (3) 186
- (4) 178

- 54. ? ?
- (1) (2) (3) (4)

- 55. BC, CF, EI, GL, KO, ? QU.
- (1) MS
- (2) NR
- (3) MR
- (4) OR

- 56. 2, 9, 40, 153, 450, ?
- (1) 889
- (2) 891
- (3) 900
- (4) 879



- 57. ?
- (1) (2) (3) (4)

SPACE FOR ROUGH WORK

ABCDE FGHIJ KLMNO PQRST UVWXYZ

52. సాధ్యమయినట్లు అవకాశం సూత్రాన్ని గుర్తించి ప్రశ్న చిహ్నం స్థానంలో ఏ పరికరమును ప్రవేశపెడు గుర్తించండి.



- (1) 30
- (2) 36
- (3) 33
- (4) 77

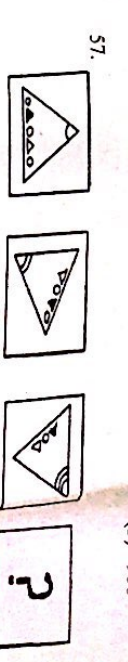
ప్రశ్న 53 నుండి 57 వరకే ప్రశ్నలో ప్రమాణం చేయ గల ప్రశ్న చిహ్నాల స్థానంలో ఏ పరికరమును ప్రవేశపెడు గుర్తించండి.

- 53. 2, 6, 16, 38, 84, ? , 368
- (1) 176
- (2) 168
- (3) 186
- (4) 178

- 54. ? ?
- (1) (2) (3) (4)

- 55. BC, CF, EI, GL, KO, ? , QU
- (1) MS
- (2) NR
- (3) MR
- (4) OR

- 56. 2, 9, 40, 153, 450, ?
- (1) 889
- (2) 891
- (3) 900
- (4) 879



- 57. ?
- (1) (2) (3) (4)

SPACE FOR ROUGH WORK

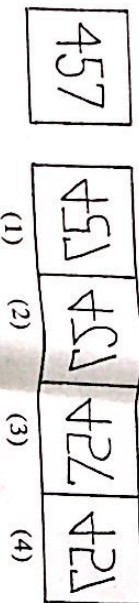
A B C D E F G H I J K L M N O P Q R S T U V W X Y

Q. 58 and 59 Directions- A, B, C, D, E, F, G, H are the eight boys standing in a circle facing each other, at an equal distance. D is standing next to A to his right and E is in front of him. B is standing next to H, to his right and is in front of G. In front of C, to the south D is standing; but F is not next to D.

58. Which direction H is facing ?  
 (1) North-East (2) South-West  
 (3) South-East (4) North-West
59. Who is standing to the East ?  
 (1) C (2) B (3) G (4) H

Q. 60 and 61 Directions- In the following questions a question figure is given, Identify its water image from the given alternatives.

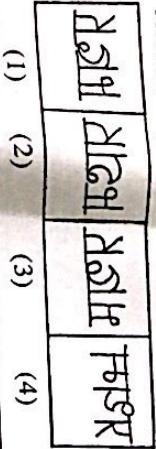
60. Question Figure Answer Figure



61. Question Figure



Answer Figure



SPACE FOR ROUGH WORK

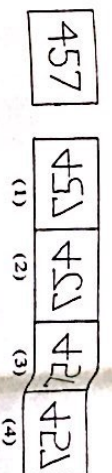
A B C D E F G H I J K L M N O P Q R S T U V W X Y

ప్రశ్న 58 నుండి 59 వరకు : ఒక వృత్తాకార పైరానలో ఎనిమిది పిల్లలు ( కొనవ) ని ఆ, బి, కి, డి, ఐ, జి, ఛి, గి, సి ఇలా 8 మంది పిల్లలు వరుస దిశలలో తోడై నిలిచి ముఖము చీసే నిలబడివున్నారు. అందులో 'అ' కు కుడినైపు ప్రక్కన 'డి' ఉంది 'బి' ఎదురుగా ఉన్నప్పుడు 'జి' కు కుడినైపు ప్రక్కన 'డి' ఉంది 'ఛి' ఎదురుగా నిలబడివున్నాడు. 'సి' ఇతరులకు ఎదురుగా నిలబడివున్నాడు. 'సి' నిలబడివున్నాడు. 'సి' నిలబడివున్నాడు.

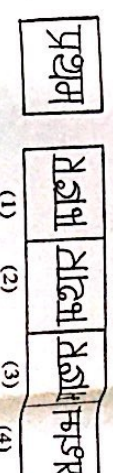
58. 'జి' తోడై ఎదుటి దిశ ఏది?  
 (1) తూర్పుగా (2) పశ్చిమం  
 (3) ఉత్తరం (4) దక్షిణం
59. తూర్పు దిశ నైపు ఎవరు నిలబడి ఉన్నారు ?  
 (1) కి (2) బి  
 (3) ఛి (4) జి

ప్రశ్న 60 నుండి 61 లో ప్రశ్నచిత్రం యొక్క జలప్రతిబింబమును గుర్తించండి.

60. ప్రశ్న చిత్రం జవాబు చిత్రం



61. ప్రశ్న చిత్రం జవాబు చిత్రం



SPACE FOR ROUGH WORK

A B C D E F G H I J K L M N O P Q R S T U V W X Y

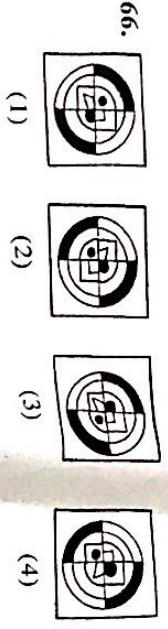
Q. 62 to 66 Directions- Find the odd term.

62. (1) Hour-our (2) Cloth-clothe  
 (3) There-their (4) Seen-scene

63. (1) 327 (2) 844  
 (3) 532 (4) 627

64. (1) Italy-Rome (2) Germany-Berlin  
 (3) U.S.A-New York (4) Egypt-Cairo

65. (1) ADH (2) R V Y  
 (3) K N R (4) F I M

66. (1) (2) (3) (4)
- 

67. Different Faces of a cube with symbols □, ○, △, ☆, ⊠, and ⊙ are given below. Symbols on opposite faces are given in the alternatives. Which alternative shows the symbols that are not on the opposite faces.

- (1) □ and ○ (2) △ and ☆  
 (3) ⊠ and ⊙ (4) ○ and ⊠

SPACE FOR ROUGH WORK

A B C D E F G H I J K L M N O P Q R S T U V W X Y

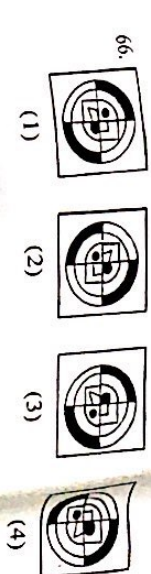
ప్రశ్న 62 నుండి 66 వరకు సమూహానికి చెందిన వేరును గుర్తించండి.

62. (1) గంట (2) అలక  
 (3) తీర్చేయ (4) చూడడం

63. (1) 327 (2) 844  
 (3) 532 (4) 627

64. (1) ఇటలీ - రోమ్. (2) జర్మనీ - బర్లీన్  
 (3) అమెరికా - న్యూయార్క్ రాష్ట్రాలు సూర్యుర్యు (4) ఈజిప్ట్ - కైరో

65. (1) ADH (2) R V Y  
 (3) K N R (4) F I M

66. (1) (2) (3) (4)
- 

67. ఒక ఘన యొక్క తలలపై □, ○, △, ☆, ⊠, మరియు ⊙ అంటూ చిహ్నాలు గల వివిధ భజానలు కింద చూపబడాయి. వాటిలో ఎదురుదురు తలలపై గల చిహ్నాల జతను సూర్యుర్యు చూపబడాయి. వాటిలో ఏ సూర్యుర్యులని చిహ్నాల జత ఎదురుదురు తలలపై రానివి చిహ్నం

- (1) □ మరియు ○ (2) △ మరియు ☆  
 (3) ⊠ మరియు ⊙ (4) ○ మరియు ⊠

SPACE FOR ROUGH WORK

A	B	C	D	E	F	G	H	I	J	K	L	M	N	O	P	Q	R	S	T	U	V	W	X	Y
---	---	---	---	---	---	---	---	---	---	---	---	---	---	---	---	---	---	---	---	---	---	---	---	---

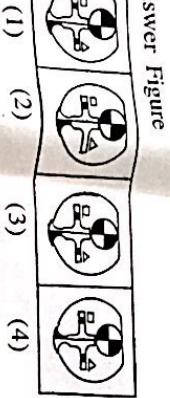
68. From the following number series, find the odd term.

- 12, 15, 20, 23, 28, 34, 38, 45  
 (1) 34 (2) 20 (3) 28 (4) 45

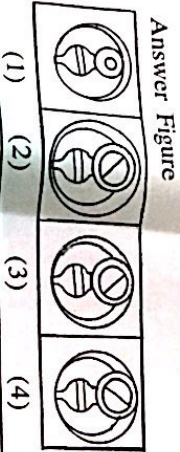
Q. 69 and 70 Directions—In a certain code language 'I eat chappati' is written as BAN. 'I sell books' is written as CNO and 'Ahar reads books' is written as OBM. Then.

69. Which letter is used for the word 'sell' ?  
 (1) N (2) O (3) C (4) A
70. Which letter is used for the word 'I' ?  
 (1) B (2) C (3) O (4) N

Q. 71 and 72 Directions—Choose the correct figure from the alternatives which exactly matches with the question figure.



72. Question Figure



SPACE FOR ROUGH WORK

A	B	C	D	E	F	G	H	I	J	K	L	M	N	O	P	Q	R	S	T	U	V	W	X	Y
---	---	---	---	---	---	---	---	---	---	---	---	---	---	---	---	---	---	---	---	---	---	---	---	---

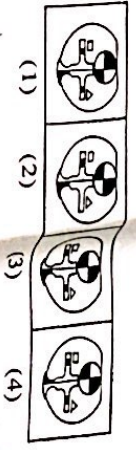
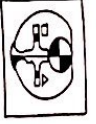
68. సంఖ్యల సూత్రంలో తప్పు వదం గుర్తించండి.

- 12, 15, 20, 23, 28, 34, 38, 45  
 (1) 34 (2) 20 (3) 28 (4) 45


Q. 69 మరియు 70 కొరకు: ఒక సాంకేతిక భాషలో ' రాముడు తిన్నాడు.' అనుకుంటే వందలు రెండు రూపాయిలు. ' ఈ వాళ్ళు BAN అ భారా రాస్తారు. రాము అన్నం తిన్నాడు.' ఈ వాళ్ళు CNO భారా రాస్తారు. ' సుందరు అన్నం తిన్నాడు.' ఈ వాళ్ళు OBM భారా రాస్తారు.

69. 'తప్పాడు' వదానికే సంబంధించిన సాంకేతిక అక్షరం ఏది?  
 (1) N (2) O (3) C (4) A
70. 'రాము' వదానికే ఏ సాంకేతిక అక్షరం వస్తుంది ?  
 (1) B (2) C (3) O (4) N

ప్రశ్న 71 మరియు 72 కొరకు: ప్రశ్నాకృతి వలె అచ్చము అలాగే ఇచ్చిన గుంజు అక్షరాలను గుంజు అక్షరాలతో సరిగ్గా సరిపోయే గుంజు గుర్తించండి.




72. ప్రశ్న అక్షరాలి




SPACE FOR ROUGH WORK

ABCDE FGHIJ KLMNO PQRST UVWXY


73. A square sheet of paper is folded and cut as shown in the question figure. How will the figure look like when the paper is unfolded. Choose the correct alternative.



74. Find the hidden part of the question figure from the alternatives given.



75. Choose the correct alternative to complete the question figure.



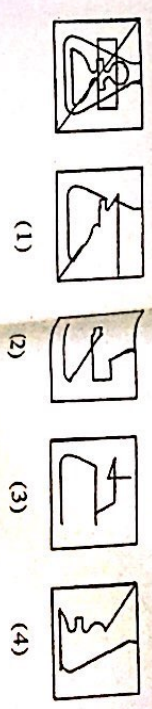
SPACE FOR ROUGHWORK

ABCDE FGHIJ KLMNO PQRST UVWXY

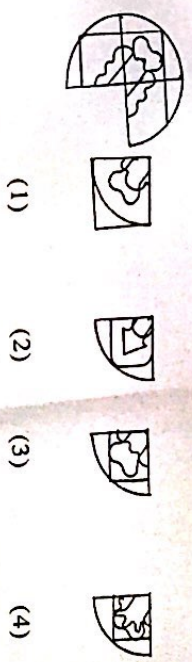
73. ప్రశ్నచిత్రంలోని కాగితమును మడతెట్టి కొన్ని రేఖల్లో కట్టించిన భాగము చూపబడింది. అయిన ఆ కాగితము తెరిచినట్లైతే, కింది వాటిలో ఏ రకంగా కనబడుతుంది?



74. ప్రశ్నచిత్రంలో దాగివున్న భాగాన్ని పరిశీలించి మంచి గుర్తును గుర్తించండి.



75. కింది ప్రశ్నచిత్రంలో పూర్తిగా దీని ఆకృతిని పూర్తి చేయుట కొరకు సరియైన పరికరమును ఎన్నుకొనుము.



SPACE FOR NEETWORK