

پری سینڈری اسکالرشپ امتحان (8 ویں کلاس) فروری 2020

--	--	--	--	--	--	--	--	--	--

لشت نمبر

0	2	2	2
---	---	---	---

سیت نمبر



ہجے نمبر 11

صفحات: 32

میڈیم: انگریزی
تیسری زبان اور ذہانت ٹیسٹ

وقت: 1:30 سے 3:00

کل نمبر: 150

- سوالات کے جواب دینے سے پہلے درج ذیل ہدایات کو احتیاط سے پڑھیں۔
1. اس سوالیہ پیپر میں دو حصے ہیں۔ سیکشن 1 میں 1 سے 25 تک سوالات تیسری زبان کے ہیں اور سیکشن 2 میں 26 سے 75 تک نبالت کے سوالات ہیں۔ تمام 75 سوالات لازمی ہیں۔
 2. تمام سوالات میں سے ہر ایک کے 2 نمبر ہیں
 3. سوالیہ پیپر کو حل کرنے کے لئے وقت کی حد 90 منٹ ہے۔
 4. جوابات ریکارڈ کرنے کے لئے الگ شیٹ دی جاتی ہے۔ ہر سوال کے چار متبادل دینے گئے ہیں۔ انہیں احتیاط سے پڑھیں۔ جوابی شیٹ میں صحیح جواب کو منتخب اور سیاہ کریں۔
 - مثال کے طور پر :- اگر سوال نمبر 6 کا صحیح متبادل 2 ہے، تو اپنے جوابات کو درج ذیل ریکارڈ کریں:

① ● ③ ④
 5. زیادہ سے زیادہ 20% سوالات کے دو صحیح متبادل ہیں۔ امیدوار کو دونوں دائروں کو صحیح جوابات سے سیاہ کرنا ہوگا۔ ان سوالات میں 'دو صحیح متبادل منتخب کریں' کی ہدایت ہوگی
 - مثال کے طور پر :- اگر سوال نمبر 8 کا صحیح متبادل 2 اور 3 ہے، تو اپنے جوابات کو درج ذیل ریکارڈ کریں:

① ● ● ④
 6. کسی اور شکل میں درج جوابات پر غور نہیں کیا جائے گا۔ اس طرح کے جواب کو 'زیرو' مارک سے کریڈٹ کیا جائے گا
 7. دائرے کو سیاہ کرنے کے لئے نیلے یا کالے رنگ کا پن استعمال کریں۔ پنسل سے سیاہ دائروں کو کریڈٹ نہیں کیا جائے گا
 8. ایک بار ریکارڈ کیے گئے جواب کو تبدیل نہیں کیا جاسکتا۔
 9. رف کام صفحے کے نیچے دی گئی خلا میں یا سوالیہ پیپر کے آخری صفحے پر کریں۔
 10. امتحان میں محدود وقت ہے، اگر آپ کسی سوال کو حل کرنے کے قابل نہیں ہیں تو، براہ مہربانی اگلے سوال کو حل کریں۔ آخر میں اگر وقت اجازت دیتا ہے تو آپ غیر حل شدہ سوالوں کو حل کرنے کی کوشش کر سکتے ہیں۔
 11. اگر آپ کو کوئی سوال نامکمل یا غلط ملتا ہے تو سپروائزر یا سنٹر انچارج سے کچھ نہ پوچھیں۔
 12. کسی بھی خرابی/ غلطی/ اعتراض کے مسائل کے لئے، اسکول یا والدین تحریری درخواست بلاک ایجوکیشن آفیسر یا ایجوکیشن آفیسر کو نہ بھیجیں۔ یہ خرابی/ غلطی/ اعتراض کے مسائل صرف متعلقہ اسکول لاگ ان کے ذریعہ ان لائن رجسٹر ہونے چاہئے۔
 13. ایم ایس سی ای کی ویب سائٹ پر جوابی شیٹ کی اشاعت کے 10 دن کے اندر خرابی/ غلطی/ اعتراض کے مسائل ان لائن رجسٹر ہونے چاہئے۔
 14. سوالیہ پرچہ میں پرنٹ ہونے والی یا پیپر میں کسی دوسری غلطی پر ماہر کمیٹی کے مشورے اور فیصلے کو لاگو کیا جائے گا۔

SECTION-I

Instruction for Q. 1. :

Ahmadabad, Feb. 15, 2016

A team of Indian and German scientists working near Bhuj in the Kutch region of Gujrat had found a big fossil of a dinosaur in hill in Lodai village. On Saturday they found more fossils. The new fossils include skull, jaw, and some teeth of dinosaur. A sample of fossils has been sent to Munich, Germany for further testing.

1. The above news tells us about.....

- (1) The scientists (2) Ahmadabad
(3) Germany (4) Dinosaur fossils

2. Complete the dialogue with correct option.

Meena -: I am getting It's too cold here.
Mother -: Don't worry dear. I'll bring sweater for you.

- (1) Bored (2) Confused
(3) Tired (4) Chilled to bone

3. Choose the correct option for the following slogans.

The following slogans are about.....

- Who will keep it clean, if you don't
Don't spoil, don't defile
Keep your area clean and beautiful.
- (1) Earth (2) Education (3) Environment (4) Cleanliness

SPACE FOR ROUGH WORK

Instruction for Question No.- 4-6 : Read the passage and choose the correct option.

Kabir was one of the great personalities in the history of our country. He lived hundreds of years ago, but his poems and teachings are sung with love and reverence even today. Hindus, Muslims, Sikhs, all think of him as a great Guru, teacher and religious figure. Kabir taught people devotion and humility. He wrote couplets and (dohas) and short poems. Though his compositions are short and simple they convey profound meaning and wisdom.

4. Choose the correct option.

The passage tells us about.....

- (1) The history of our country
(2) The information about Kabir-a saint poet
(3) The different religion
(4) Kabir's childhood

5. Which 'Hindi' word is mentioned in the passage?

- (1) Sung (2) Figure
(3) Doha (4) Ago

6. Complete the web by choosing the correct word.

- Wisdom
Kabir's Couplets
Short
- Simple
- (1) Love (2) Reverence
(3) Devotion (4) Profound meaning

SPACE FOR ROUGH WORK

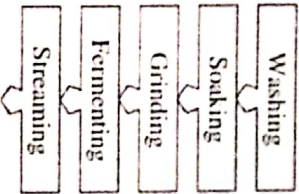
7. What is the mood in the following short-note ?
Choose the correct option.

I'm always there in your hour of need.

May his/her soul rest I peace. Words fall short to express my sorrow.

- (1) Happy
(2) Surprise
(3) Sad
(4) Wonder

8. Read the following procedure and choose one correct alternative.
These methods are used for



- (1) Washing cloths
(2) Making idlis
(3) Making rotis
(4) Making desserts

9. Read the following riddle and choose one correct option.
I'm tall when I'm young,
I'm short when I'm old.
What am I ?

- (1) Tree
(2) Candle
(3) Egg
(4) Stick

SPACE FOR ROUGH WORK

Instruction for Question No. 10-11 : Read the passage and choose the correct option.

Grate a couple of medium sized beetroots and soak them in a little water. After a while, you will get a beautiful dark pink-red colour. Add it to a bucketful of water. The red jaszward (hibiscus) flower will give you a deep red colour. Dry the petals of Zendu (mangold). Then you can powder them to get an orange colour. Even you can dry the leaves of neem, mint, coriander, spinach to get a dry green powder. If you crush or grind the fresh leaves you get dry colours and if you add the paste to water, you get wet colour. So talk to your mother to find out what other things in kitchen can give you safe natural colour. Let's celebrate holi with natural colour.

10. Match the pairs.

A B

- | | |
|--------------|--------------|
| (1) Jaszward | (a) Pink-red |
| (2) Spinach | (b) Deepred |
| (3) Beetroot | (c) Green |
| (4) Mangold | (d) Orange |
- (1) 1-d; 2-b; 3-a; 4-c
(2) 1-b; 2-a; 3-c; 4-d
(3) 1-c; 2-d; 3-b; 4-a
(4) 1-a; 2-c; 3-a; 4-d

11. Choose the correct option for the correct title to the passage.

- (1) Colours
(2) Celebrate holi with natural colours
(3) Celebration
(4) Festivals are colourful

SPACE FOR ROUGH WORK


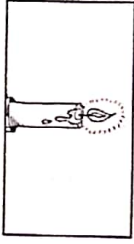
12. Choose the correct alternative.

Hrishikesh was awarded as a 'best student of the year'. Find out three adjectives which suits him.

b	i	g	s	m	n	o
r	h	o	n	e	s	t
a	g	o	t	t	p	q
v	c	d	b	o	d	h
e	s	m	p	d	b	q

- (1) Good, honest, brave
- (2) Big, quite, bad
- (3) Calm, nest, ago
- (4) Big, tall, ball

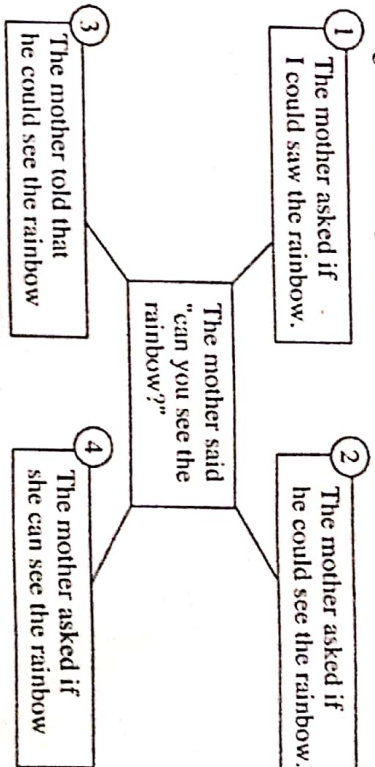
13. Choose the correct alternative from the following.



- (1) The sun is not as hot as tea
- (2) The candle is hotter than fire
- (3) The fire is hotter than candle
- (4) The candle is hotter than sun

SPACE FOR ROUGH WORK

14. Go through the following diagram and choose correct alternative.



- (1) 4
- (2) 1
- (3) 3
- (4) 2

15. Find out one correct alternative of type of tense of underlined word.

When a farmer was returning home from the market, dark clouds gathered in the sky.

- (1) Simple past tense
- (2) Present continuous tense
- (3) Past continuous tense
- (4) Future continuous tense

16. Choose two correct alternatives for the following sentences which shows correct object and its active voice.

My toy had been taken away.

- (1) My sister had taken away my toys
- (2) My sister has taken away my toys
- (3) My sisters had taken away my toys
- (4) My sister taken away my toys.

SPACE FOR ROUGH WORK

17. Choose correct alternative.

If where: place, why: reason then when:.....

- (1) Quantity (2) Suggestion
(3) Manner (4) Time

18. Choose the odd man out. Choose one correct alternative.

- (1) 3 (2) 4
(3) 1 (4) 2

19. Choose one correct alternative of the following.

Last week grandfather wanted to visit Kashmir. He *booked* tickets.

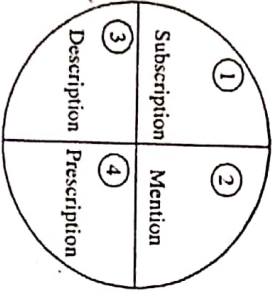
- (1) Noun (2) Verb
(3) Adverb (4) Adjective

20. Choose one correct alternative to form exclamatory sentence.

a / what / dream / it / horrible / is !

- (1) What a horrible dream it is! (2) What a dream horrible it is!
(3) It is what a horrible dream! (4) What it is a horrible dream!

21. Choose the correct alternative. Find out the word which has not suffix.



- (1) 4 (2) 2
(3) 3 (4) 1

SPACE FOR ROUGH WORK

22. Choose two correct alternative from the following.

Dinosaur were reptiles. There were many different types of dinosaurs. All dinosaurs did not look.....

- (1) Different (2) Similar
(3) Unlike (4) Alike

23. Read the following sentences. Choose the correct alternative.

When Mr. Yadav gets back from his office, he expects his servant to have a hot meal waiting him.

- (1) For (2) At
(3) From (4) Of

24. Choose correct alternative from the following options.

Which word is related to 'eye'?

- (1) Cite (2) Site
(3) Sit (4) Sight

25. Choose the correct alternative from the following options. Find the correct phrase.

Viraj is very good at Maths. He is a good singer. He is the champion of cricket. He loves swimming. He is

- (1) Very brave (2) Jack of all trades
(3) Good at studies (4) Good friend

SPACE FOR ROUGH WORK

ABCDEFGHIJKL MNOPQRST UVWXYZ

SECTION-II

INTELLIGENCE TEST

26. Form a meaningful word from the letters PTECSIROIND Use numerals 1, 2, for every letter. Find the correct option from the following that makes a meaningful word from the word so formed.

- (1) 7, 5, 1 (2) 3, 1, 2 (3) 5, 2, 1 (4) 2, 4, 5

27. From the given alphabet series, choose the pair from the given options, which is at an equal distance from the 11th letter from the right. [select two correct alternatives]

- (1) D, R (2) F, X (3) J, T (4) P, F

Q. 28 and 29 Directions : Study the following number series and answer the questions that follow :

2 3 3 4 2 5 3 2 3 5 4 2 1 4 2 3 3 2 5 4 2 1 5 3 4 2 5 3 2 4 2 3

28. How many times an odd number is immediately followed by an even number but not preceded by even number.

- (1) Six (2) Four (3) Five (4) Seven

29. In the given number series, which number has occurred highest number of times ?

- (1) 4 (2) 3 (3) 2 (4) 5

SPACE FOR ROUGH WORK

0222 / Urdu Set-A

10 of 32

P.T.O.

ABCDEFGHIJKL MNOPQRST UVWXYZ

SECTION-II

INTELLIGENCE TEST

26. 'ت' کی کون سی حرف سے تیار ہونے والے باقی لفظ میں کون سے گروہوں کے حروف سے زیادہ اس لفظ کا متضاد لفظ تیار ہوگا؟

- 4 اور 3 (2) 5 اور 4 (1)
5 اور 1 (4) 3 اور 2 (3)

27. حروف تہجی میں دائیں جانب سے 11 ویں حرف سے یکساں فاصلے پر آنے والے حروف کی جوڑی کون سی ہے؟ (دو صحیح جواب منتخب کیجئے۔)

- F, X (2) D, R (1)
P, F (4) J, T (3)

سوال نمبر 28 اور 29 کے لیے عددی سلسلہ:

2 3 3 4 2 5 3 2 3 5 4 2 1 4 2 3 3 2 5 4 2 1 5 3 4 2 5 3 2 4 2 3

28. دیئے گئے عددی سلسلہ میں باقی حروف کے ذریعہ جوڑی جوڑتے ہوئے ہر باقی حروف کے پہلے حروف میں ایسا کتنی مرتبہ ہوا ہے؟

- 4 (2) 6 (1)
7 (4) 5 (3)

29. دیئے گئے عددی سلسلہ میں کون سا ہندسہ سب سے زیادہ مرتبہ آیا ہے؟

- 3 (2) 4 (1)
5 (4) 2 (3)

رقم 4 م کے لیے سالی

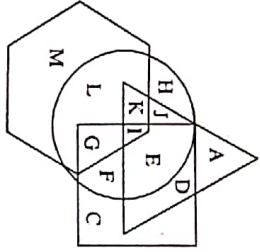
0222 / Urdu Set-A

11 of 32

P.T.O.

A	B	C	D	E	F	G	H	I	J	K	L	M	N	O	P	Q	R	S	T	U	V	W	X	Y
---	---	---	---	---	---	---	---	---	---	---	---	---	---	---	---	---	---	---	---	---	---	---	---	---

Q. 30 and 31 Directions : In the following venn diagram, triangle represents doctors, circle represents farmers, hexagon represents authors and quadrilateral represents carpenters.



30. Which of the following options indicate carpenters who are farmers.

- (1) JKLI (2) IIEFG (3) EFD C (4) HCLM

31. Which of the following letter indicates doctors who are only authors.

- (1) K (2) A
(3) M (4) None of the above.

32. Find the position of the 7th letter which is to the left of 12th letter in the given alphabet series. [select two correct options]

- (1) 21st from right (2) 21st from left
(3) 5st from right (4) 5st from left

33. 150 streamers of different colours are arranged in a garland. The colours follow a specific sequence, red, yellow, green, blue, violet, white and orange. Which of the following option will not carry violet coloured stream ? [select the correct alternatives]

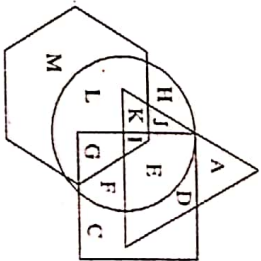
- (1) 68 (2) 89 (3) 115 (4) 94

SPACE FOR ROUGH WORK

A	B	C	D	E	F	G	H	I	J	K	L	M	N	O	P	Q	R	S	T	U	V	W	X	Y
---	---	---	---	---	---	---	---	---	---	---	---	---	---	---	---	---	---	---	---	---	---	---	---	---

سوال نمبر 30 اور 31 کے لیے وائزیکشن:

ذیل کے یونٹوں میں شافٹ میں واٹر وریز میں اسکاں، سڈوز میں صرف اور ریل میں سٹارو کھائے گئے ہیں۔



مختی کرنے والے بخارکون سے حرف سے ظاہر کئے گئے ہیں؟

- HCLM (4) EFD C (3) JKLI (1)

صرف تصنیف کرنے والے واٹرکون سے حرف سے ظاہر کئے گئے ہیں؟

- K (1) M (3) A (2) کوئی بھی نہیں (4)

32 حرف تہجی میں 12 ویں حرف کے بائیں جانب 7 ویں حرف کا مقام تبادلات میں سے تلاش کیجئے۔ [دو صحیح تبادلات منتخب کیجئے]

- (1) دائیں جانب سے 21 واں (2) بائیں جانب سے 21 واں
(3) دائیں جانب سے 5 واں (4) بائیں جانب سے 5 واں

33 ایک رتی کو بائیں جانب لال، پیلا، ہوا، پیلا، چھائی، سفید اور داغی اس طرح 150 فرارے چھپا کے گئے ہیں تو تبادلات میں سے کون سے نمبر پر چھائی رنگ کا فرارے نہیں ہوگا؟

- 94 (4) 115 (3) 89 (2) 68 (1)

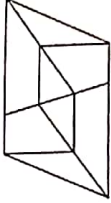
رنگ کار کے لیے جگہ

ABCDE FGHIJ KLMNO PQRST UVWXY

34. Akshay is younger than Vishal by 125 days. Akshay is born on Saturday. 13th Aug. On which day was Vishal born ?

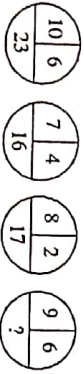
- (1) Sunday, 10th April
- (2) Friday, 16th December
- (3) Sunday, 9th April
- (4) Thursday 15th December.

35. Find the number of quadrilaterals in the given figure.



- (1) 12
- (2) 8
- (3) 17
- (4) 14

36. In the following series, determine the rule and find out the term in place of the question mark.



- (1) 18
- (2) 21
- (3) 26
- (4) 23

SPACE FOR ROUGH WORK

0222 / Urdu Set-A

14 of 32

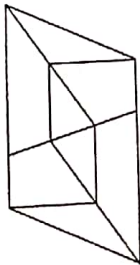
P.T.O.

ABCDE FGHIJ KLMNO PQRST UVWXY

34. وہابی سے اس دن چھینا ہے۔ اگر اس دن 13 اگست کے دن چھینا تو وہابی کس دن چھینا ہوگا؟

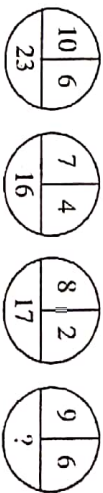
- (1) 10 اپریل، اتوار
- (2) 16 دسمبر، جمعہ
- (3) 9 اپریل، سنبھ
- (4) 15 دسمبر، جمعرات

35. ذیل کی شکل میں ذرا سیدہ الاشباح کی کلی تعداد کتنی ہے؟



- (1) 12
- (2) 8
- (3) 17
- (4) 14

36. عددوں کی ترتیب کے اصول کو پہچان کر سوال علامت کی جگہ مناسب سوال منتخب کیجیے۔



- (1) 18
- (2) 21
- (3) 26
- (4) 23

رُف کا م کے لیے خالی جگہ

0222 / Urdu Set-A

15 of 32

P.T.O.

ABCDE FGHIJ KLMNO PQRST UVWXY

Q. 37 to 39 Directions : Identify the rhythmic arrangement of terms given below and find the correct term in place of the question mark.

37. M S T U N U N M S T S T U N M N M S T ? ? N M S

- (1) UTU (2) STM (3) UTS (4) MSU

38. 4 2 5 7 1 8 6 8 1 7 5 2 4 2 5 7 1 8 ? 7 5 2 ? ? 7 1 7 5 ?

- (1) 1, 8, 7 (2) 2, 5, 7 (3) 1, 2, 5 (4) 1, 5, 7

39. $\square * \Delta + \circ \times * \square \Delta + \times \circ * \Delta \square \times + \circ ? ? ? ? + \circ$

- (1) $* \square \times \Delta$ (2) $\Delta * \times \square$
(3) $* \Delta \times \square$ (4) $* \Delta + \square$

40. Pramod's present age is double of Amir's present age. Pramod is younger by 2 years than double the age of Sarvesh, but Harshal is elder by three years. Krishna, who is elder by three years than Harshal was 14 last year. If these are arranged in ascending order of their ages who will be at the center ?

- (1) Pramod (2) Sarvesh (3) Krishna (4) Harshal

41. In a certain code language 'SOON' is written as 'OOSN', 'APPLE' is written as 'PPALE', then how will you write 'TEETH' in the same code language ?

- (1) EETHT (2) ETTEH (3) EETTH (4) EHTTE

42. A bus started at 6.40 a.m. travels at a speed of 45km/hr. At what time it will reach another place which is at a distance of 375 km ?

- (1) 2.55 p.m (2) 3.00 p.m (3) 3.05 p.m (4) 2.50 p.m

SPACE FOR ROUGH WORK

ABCDE FGHIJ KLMNO PQRST UVWXY

یادداشت: سوال نمبر 37 تا 39 کے لیے:

دیے گئے سلسلہ وار ترتیب میں اندازاً کا تعاقب زمین کر کے ہر سوال کے سلسلے کی پکڑنے والا کون سا عبارت میں سے منتخب کیجئے۔

37 M S T U N U N M S T S T U N M N M S T ? ? N M S
MSU (4) UTS (3) STM (2) UTU (1)

38 4 2 5 7 1 8 6 8 1 7 5 2 4 2 5 7 1 8 ? 7 5 2 ? ? 7 1 7 5 ?
1, 5, 7 (4) 1, 2, 5 (3) 2, 5, 7 (2) 1, 8, 7 (1)

39 $\square * \Delta + \circ \times * \square \Delta + \times \circ * \Delta \square \times + \circ ? ? ? ? + \circ$
 $\Delta * \times \square$ (2) $* \square \times \Delta$ (1)
 $* \Delta + \square$ (4) $* \Delta \times \square$ (3)

40 عرفان کی موجودہ عمر کے ڈیڑھ گھنٹے پر 2 سال کم کر دو بی بی ہے۔ فرزان کے والد سے 2 سال کم کر دو بی بی کی تو تین سال سے بیروز زیادہ عمر صیب کی ہے۔ مصیب سے 3 سال بڑے عمر الدین کے بچے سال کی عمر 14 سال ہوئے موجودہ عمروں کے لحاظ سے چوتھی ترتیب میں جنہیں صحیح میں لکھو؟

- (1) بیروز (2) فرزان (3) عمر الدین (4) مصیب

41 ایک اخباراتی زبان میں اکرم اور انور کو کان کو کہا جاتا ہے اور اسی اخباراتی زبان میں پائل یہ لفظ کس طرح لکھا جائے گا؟

- (1) نیاری (2) پڈا (3) ڈپ (4) پڈے

42 صبح 6:40 بجے پہلی ہوئی بس 45 کلومیٹر فی گھنٹے کے حساب سے 375 کلومیٹر کے فاصلے پر تاج ہوئی بس کتنے بجے پہنچی؟

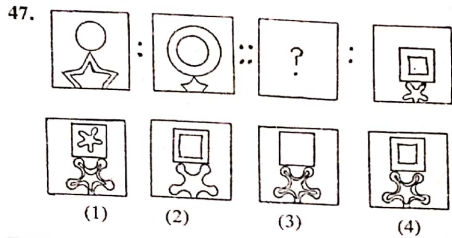
- (1) دوپہر 2:55 بجے (2) دوپہر 3 بجے
(3) دوپہر 3:05 بجے (4) دوپہر 2:50 بجے

زمین کے لیے خام

A	B	C	D	E	F	G	H	I	J	K	L	M	N	O	P	Q	R	S	T	U	V	W	X	Y
---	---	---	---	---	---	---	---	---	---	---	---	---	---	---	---	---	---	---	---	---	---	---	---	---

Q. 43 to 47 Directions- In each of the following questions, relation between 3rd and 4th term is the same as that of between the first and the second. Find the term to replace the question mark.

43. Equal : Congruent :: Characteristics : ?
(Select two correct alternatives)
- (1) Features (2) Personality (3) Properties (4) terms
44. Water : H₂O :: Salt :: ?
(1) KCl (2) NaOH (3) NaCl (4) HCl
45. 253 : 450 :: 341 : ? [Select two correct alternatives]
(1) 360 (2) 512 (3) 146 (4) 72
46. MOQ : PRU :: ? : NPS
(1) UWY (2) KMO (3) JHF (4) JLP.



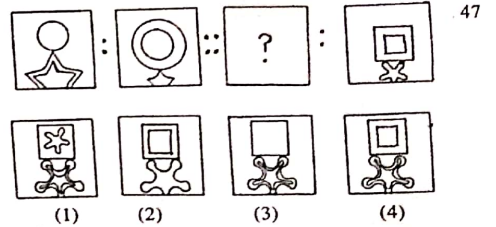
SPACE FOR ROUGH WORK

A	B	C	D	E	F	G	H	I	J	K	L	M	N	O	P	Q	R	S	T	U	V	W	X	Y
---	---	---	---	---	---	---	---	---	---	---	---	---	---	---	---	---	---	---	---	---	---	---	---	---

ہدایت: سوال نمبر 43 تا 47 کے لیے:

پہلے دو ارکان کا تعلق پہچان کر تیسرے اور چوتھے ارکان میں اسی تعلق کے لحاظ سے سوالیہ علامت کی جگہ آنے والا متبادل پہچانیے۔


43. تانبہ : تانبہ : : شونگ : ؟
[دو صحیح متبادلات منتخب کیجیے۔]
(1) شری (2) تاشونگ (3) چنگل (4) روئیز
44. پانی : H₂O :: نمک : ؟
(1) KCl (2) NaOH (3) NaCl (4) HCl
45. 253 : 450 :: 341 : ؟ [دو صحیح متبادلات منتخب کیجیے۔]
(1) 360 (2) 512 (3) 146 (4) 72
46. MOQ : PRU :: ? : NPS
(1) UWY (2) KMO (3) JHF (4) JLP.



ذہن کے لیے متالی جگہ

ABCDE	FGHIJ	KLMNO	PQRST	UVWXY
-------	-------	-------	-------	-------

Q. 48 to 50 Directions : Study the following Pyramid.



48. 20 32 26 : 31 24 14 :: 32 13 37 : ? [Select two correct alternatives]
 (1) 29 31 24 (2) 29 22 24 (3) 12 31 16 (4) 16 31 12

49. 13 27 : 19 29 :: 35 19 : ?

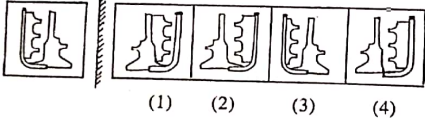
(1) 31 21 (2) 22 31 (3) 21 31 (4) 29 16

50. 18 27 37 19 34 ? ? 30

(1) 29 23 (2) 23 16 (3) 29 16 (4) 23 28

51. Identify the mirror image of the question figure when a mirror is held as shown in the diagram.

Question Figure Answer Figure




(1) (2) (3) (4)

SPACE FOR ROUGH WORK

ABCDE	FGHIJ	KLMNO	PQRST	UVWXY
-------	-------	-------	-------	-------

ہدایت: سوال نمبر 48-50 کے لیے ذیل کے اہرام کا مشاہدہ کیجیے۔



20 32 26 : 31 24 14 :: 32 13 37 : ? [Select two correct alternatives] 48
 16 31 12 (4) 12 31 16 (3) 29 31 24 (2) 29 22 24 (1)

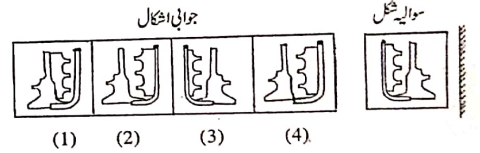
13 27 : 19 29 :: 35 19 : ? 49

29 16 (4) 21 31 (3) 22 31 (2) 31 21 (1)

18 27 37 19 34 ? ? 30 50

23 28 (4) 29 16 (3) 23 16 (2) 29 23 (1)

سوالیہ شکل کا آئینہ میں کس متبادلات میں سے منتخب کیجیے۔ 51



(1) (2) (3) (4)

ذہنی کام کے لیے خالی جگہ

A B C D E F G H I J K L M N O P Q R S T U V W X Y

Q. 58 and 59 Directions- A, B, C, D, E, F, G, H are the eight boys standing in a circle facing each other, at an equal distance. D is standing next to A to his right and E is in front of him. B is standing next to H, to his right and is in front of G. In front of C, to the south D is standing; but F is not next to D.

58. Which direction H is facing ?

- (1) North-East (2) South-West
(3) South-East (4) North-West

59. Who is standing to the East ?

- (1) C (2) B (3) G (4) H

Q. 60 and 61 Directions- In the following questions a question figure is given, Identify its water image from the given alternatives.

60. Question Figure

457

- (1) (2) (3) (4)

457 457 422 422

Answer Figure

61. Question Figure

۴۵۷

- (1) (2) (3) (4)

۴۵۷ ۴۵۷ ۴۲۲ ۴۲۲

Answer Figure

SPACE FOR ROUGH WORK

A B C D E F G H I J K L M N O P Q R S T U V W X Y

سوال نمبر 58 اور 59 کے لیے:

ایک دائرہ نما میدان کے اطراف میں الف، ب، ق، ذی، ف، گ، ح، پ یا ٹھٹھا کے یکساں فاصلے پر اندر کی جانب رخ کر کے کھڑے ہیں۔ اس میں الف کے فوراً دائیں جانب ڈ اور سائے کوڑی کھڑے ہیں۔ یہ 'ج' کے دائیں جانب ہے۔ اور وہ 'ک' کے سامنے بھی ہے۔ 'ق' کے سامنے جنوب میں ڈ اور کوڑی کھڑے ہیں۔

58 'ج' کے سامنے کون سی سمت ہے؟

- (1) شمال مشرق (2) جنوب مغرب
(3) جنوب مشرق (4) شمال مغرب

59 مشرق کی سمت کون کھڑا ہے؟

- (1) ق (2) ب (3) گ (4) ح

یاد دہانی: سوال نمبر 60 اور 61 کے لیے:

سوال شکل کا پانی میں عکس متبادلات میں سے پہچانے۔

سوال شکل

457 457 422 422

- (1) (2) (3) (4)

60 سوال شکل

سوال شکل

۴۵۷ ۴۵۷ ۴۲۲ ۴۲۲

- (1) (2) (3) (4)

سوال شکل

61

نکاح کے لیے نام لکھو

ABCDE FGHIJ KLMNO PQRST UVWXY

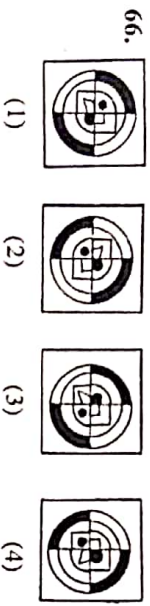
Q. 62 to 66 Directions- Find the odd term.

62. (1) Hour-our (2) Cloth-clothe
(3) There-their (4) Scen-scene

63. (1) 327 (2) 844
(3) 532 (4) 627

64. (1) Italy-Rome (2) Germany-Berlin
(3) U.S.A-New York (4) Egypt-Cairo

65. (1) ADH (2) R V Y
(3) K N R (4) F I M



67. Different Faces of a cube with symbols □, ○, △, ☆, ☒, and ⊙ are given below. Symbols on opposite faces are given in the alternatives. Which alternative shows the symbols that are not on the opposite faces.

- (1) □ and ○ (2) △ and ☆
(3) ☒ and ⊙ (4) ○ and ☒

SPACE FOR ROUGH WORK

ABCDE FGHIJ KLMNO PQRST UVWXY

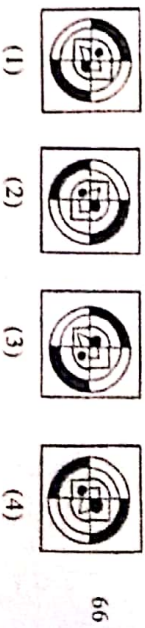
پاؤں: سوال نمبر 62-66 کے لیے۔
گروہ میں شامل نہ ہونے والا ارکان پہچانیے۔

62. (1) تہمت (2) دھیان
(3) بیجان (4) ازام

63. (1) 327 (2) 844
(3) 532 (4) 627

64. (1) اٹلی-روم (2) جرمن-برلن
(3) امریکہ-نئی یارک (4) مصر-قاہرہ

65. (1) ADH (2) R V Y
(3) K N R (4) F I M



67. ایک کعبہ کی سطحوں پر □, ○, △, ☆, ☒ اور ⊙ پر مشتمل ایک ایک سطحوں پر رکھائی گئی ہیں۔ اس میں متقابل کی سطحوں پر واقع علامتوں کی جوڑیاں متبادلات میں دی گئی ہیں۔ اس میں سے متبادل کے علامتوں کی جوڑی ایک دوسرے کے متقابل کی سطحوں پر نہیں آئے گی؟

- and ☒ (4) ☒ and ⊙ (3) △ and ☆ (2) □ and ○ (1)

تعمیر کے لیے جگہ

ABCDE FGHIJ KLMNO PQRST UVWXY

68. From the following number series, find the odd term.
12, 15, 20, 23, 28, 34, 38, 45

- (1) 34 (2) 20 (3) 28 (4) 45

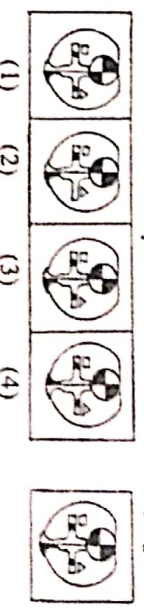
Q. 69 and 70 Directions— In a certain code language 'I eat chappati' is written as BAN, 'I sell books' is written as CNO and 'Amar reads books' is written as OBM. Then.

69. Which letter is used for the word 'sell' ?
(1) N (2) O (3) C (4) A

70. Which letter is used for the word 'I' ?
(1) B (2) C (3) O (4) N

Q. 71 and 72 Directions—Choose the correct figure from the alternatives which exactly matches with the question figure.

71. Question Figure Answer Figure



جوابی شکل



زبان کے لئے منتخب

SPACE FOR ROUGH WORK

ABCDE FGHIJ KLMNO PQRST UVWXY

68. From the following number series, find the odd term.
12, 15, 20, 23, 28, 34, 38, 45

- (1) 34 (2) 20 (3) 28 (4) 45

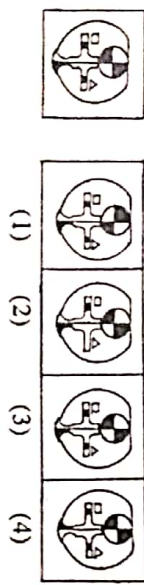
Q. 69 and 70 Directions— In a certain code language 'I eat chappati' is written as BAN, 'I sell books' is written as CNO and 'Amar reads books' is written as OBM. Then.

69. Which letter is used for the word 'sell' ?
(1) N (2) O (3) C (4) A

70. Which letter is used for the word 'I' ?
(1) B (2) C (3) O (4) N

Q. 71 and 72 Directions—Choose the correct figure from the alternatives which exactly matches with the question figure.

71. Question Figure Answer Figure



جوابی شکل

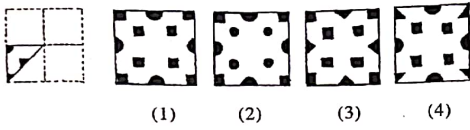


زبان کے لئے منتخب

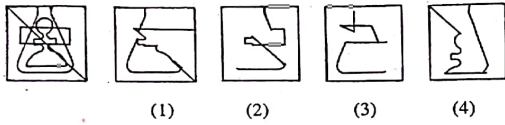
SPACE FOR ROUGH WORK

ABCDE FGHIJ KLMNO PQRST UVWXY

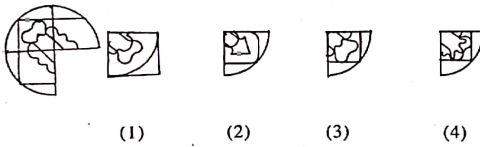
73. A square sheet of paper is folded and cut as shown in the question figure. How will the figure look like when the paper is unfolded. Choose the correct alternative.



74. Find the hidden part of the question figure from the alternatives given.



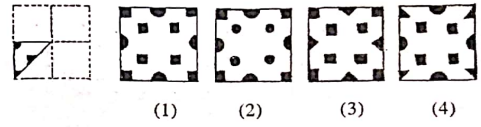
75. Choose the correct alternative to complete the question figure.



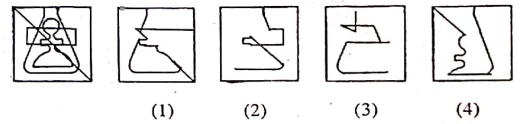
SPACE FOR ROUGH WORK

ABCDE FGHIJ KLMNO PQRST UVWXY

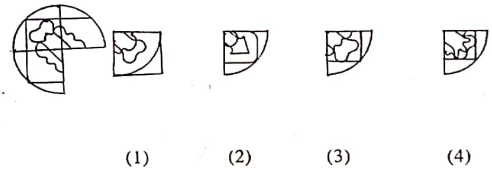
73 سوالیہ شکل میں کاغذ کو تہہ کر کے خاص جگہوں پر کاٹا گیا ہے۔ وہ کاغذ کھولنے پر کون سے متبادل شکل کی طرح نظر آئے گی؟



74 سوالیہ شکل میں پوشیدہ حصہ متبادلات سے منتخب کیجیے۔



75 دی گئی ناقص سوالیہ شکل مکمل کرنے کے لیے مناسب متبادل منتخب کیجیے۔



زنگام کے لیے نالیجہ