

पूर्व उच्च प्राथमिक शिष्यवृत्ती परीक्षा (इयत्ता 5 वी), फेब्रुवारी 2023

बैठक क्र.

--	--	--	--	--	--	--	--	--	--

संच



0 1 0 2

पेपर क्र. - II

वेळ : 02:00 ते 03:30

माध्यम : मराठी



एकूण गुण : 150

तृतीय भाषा व बुद्धिमत्ता चाचणी

पृष्ठ : 32

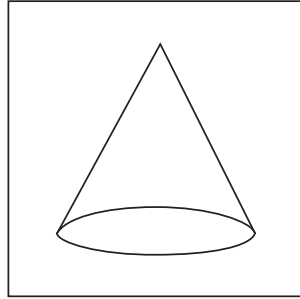
प्रश्नपत्रिका सोडविण्यापूर्वी कृपया खालील सूचना काळजीपूर्वक वाचा :

- (1) या प्रश्नपत्रिकेत दोन विभाग आहेत. त्यापैकी विभाग I मध्ये तृतीय भाषा विषयासाठी 1 ते 25 व विभाग II मध्ये बुद्धिमत्ता चाचणी विषयासाठी 26 ते 75 असे एकूण 75 प्रश्न आहेत. सर्व प्रश्न सोडविणे आवश्यक आहे.
- (2) प्रत्येक प्रश्नासाठी 2 गुण आहेत.
- (3) प्रश्नपत्रिका सोडविण्यासाठी एकूण 90 मिनिटांचा कालावधी दिला जाईल.
- (4) उत्तरे नोंदविण्यासाठी स्वतंत्र उत्तरपत्रिका दिलेली आहे. प्रत्येक प्रश्नक्रमांकासमोर चार पर्यायासाठी क्रमागत वर्तुळे दिलेली आहेत. त्यातील अचूक उत्तराचा पर्याय क्रमांक असलेले वर्तुळ पुढील उदाहरणात दाखविल्याप्रमाणे रंगवा. उदा. प्रश्न क्र. 6 च्या बरोबर उत्तराचा पर्याय क्र. 2 असेल, तर तो पुढीलप्रमाणे नोंदवावा.
प्रश्न क्र. 6 ① ● ③ ④
- (5) खालीलप्रमाणे नोंदविलेली उत्तरे ग्राह्य धरण्यात येणार नाहीत. असे उत्तर नोंदविल्यास त्या प्रश्नास 'शून्य' गुण दिले जातील. ✓ ② ● ✗
- (6) प्रत्येक प्रश्नासाठी एकापेक्षा अधिक वर्तुळात नोंदविलेली उत्तरे, खाडाखोड करून नोंदविलेली उत्तरे ग्राह्य धरण्यात येणार नाहीत.
- (7) एकदा नोंदविलेली उत्तरे पुन्हा बदलता येणार नाहीत.
- (8) पर्यायाची उत्तरे नोंदविताना फक्त काळ्या किंवा निळ्या रंगाच्या बॉलपेनचाच वापर करावा. पेन्सिलने नोंदविलेली उत्तरे ग्राह्य धरण्यात येणार नाहीत.
- (9) प्रश्नपत्रिकेत प्रत्येक पानावर खाली व शेवटच्या पानावर कच्चे काम करण्यासाठी मोकळी जागा आहे, तेथेच कच्चे काम करावे.
- (10) परीक्षेस मर्यादित वेळ असल्याने एखाद्या प्रश्नाचे उत्तर तुम्हाला येत नसल्यास पुढील प्रश्न सोडवा. शेवटी वेळ शिल्लक राहिल्यास उरलेल्या प्रश्नांसाठी पुन्हा प्रयत्न करावा.
- (11) एखाद्या प्रश्नात त्रुटी/चूक आढळल्यास त्याबाबत पर्यवेक्षक किंवा परीक्षा केंद्रसंचालक यांच्याकडे विचारणा करू नये.
- (12) प्रश्नातील त्रुटी/चूक/आक्षेपाबाबतचे निवेदन शाळेने किंवा पालकांनी गटशिक्षणाधिकारी किंवा शिक्षणाधिकारी यांच्याकडे लेखी स्वरूपात न पाठवता संबंधित शाळेच्या लॉगीन मधून ऑनलाईन पद्धतीनेच पाठवावे.
- (13) त्रुटी/चूक/आक्षेपाबाबतचे निवेदन ऑनलाईन पद्धतीने पाठविण्याची मुदत परीक्षा परिषदेच्या संकेतस्थळावर अंतरिम (तात्पुरती) उत्तरसूची प्रसिद्ध झाल्यापासून 10 (दहा) दिवसांपर्यंत राहिल.
- (14) मुद्रणदोष किंवा अन्य कारणांमुळे प्रश्न चुकीचा असल्याचे आढळल्यास तज्ञ समितीच्या अभिप्रायानुसार योग्य ती कार्यवाही केली जाईल.
- (15) मूळ माध्यमासोबत इंग्रजी भाषेतील प्रश्नपत्रिका दिलेली आहे. मूळ माध्यमातील संदिग्ध प्रश्नांबाबत इंग्रजी प्रश्न पहावेत.

SECTION - I

ENGLISH


- 01.** Select the correct option for the following sentence.
February follows _____ in the calendar year.
(1) March (2) December
(3) April (4) January
- 02.** How many mistakes of capitalization are there in the following sentence.
Raju : what ! a girl like smita, working in a shop.
(1) 3 (2) 2
(3) 1 (4) 4
- 03.** Choose the correct alternative.
My number is 20 in the row. So I am _____ in the row.
(1) twenty (2) twentieth
(3) twentieth (4) twenty-first
- 04.** Select the correct alternative to complete the following sentence.
He blinks his _____.
(1) toes (2) ears
(3) nose (4) eyes
- 05.** Identify the shape given in the picture. Choose the correct option.



- (1) Cone (2) Cube
(3) Sphere (4) Triangle

SPACE FOR ROUGH WORK

06. Observe the picture and select the correct alternative.



There is a cow _____ the tree.

- (1) above (2) over
(3) under (4) into

07. Choose the incorrect pair from the given alternative.

- (1) Will not - Won't (2) Shall not - Shalln't
(3) Let us - Let's (4) Have not - Haven't

08. Find the correct alternative for the following sentence.

They _____ garments in the _____.

- (1) sell, sail (2) sale, sail
(3) sell, sale (4) cell, sale

09. Select the correct option for the following sentence.

The sun is always in the _____ direction at 6 p.m.

- (1) East (2) West
(3) North (4) South

SPACE FOR ROUGH WORK

Instructions for Question 10 to 12.

Read the passage carefully and answer the following question.

Mother Duck was really proud of her six new ducklings. They were soft, fluffy and yellow. Such fine little ducklings! But the seventh one was very different. It was bigger and its feathers were gray and shaggy.

10. How many ducklings are mentioned in the passage?

- (1) 6 (2) 8
(3) 5 (4) 7

11. Find the ordinal number mentioned in the passage?

- (1) Six (2) Seventh
(3) One (4) Shaggy

12. Find the opposite of the word 'same' from the passage.

- (1) Fine (2) Shaggy
(3) Different (4) Fluffy

13. Choose the correct alternative to complete the following word chain of alphabetical order.

Pan → Pen → - → Pull

- (1) Part (2) Potter
(3) Punish (4) Push

SPACE FOR ROUGH WORK

14. Choose the correct alternative for the sentence given below.

Please give me _____ one rupee note.

- (1) an (2) the
(3) no article (4) a

15. Observe the picture and choose the correct option for it.



_____ the plants regularly.

- (1) Plough (2) Prune
(3) Weed (4) Water

16. Find the different sound of the letter 'C' from the following alternatives.

- (1) Cart (2) Count
(3) Centre (4) Card

17. Choose the correct alternative.

Yusuf is reading a newspaper. His brother wants to call him for the dinner. He requests _____

- (1) Please keep reading. (2) Excuse me, brother.
(3) Good afternoon brother. (4) You are welcome!

SPACE FOR ROUGH WORK

18. Find the correct word to complete the message given below.

_____ PLANTS NOT GARBAGE

S	G	Z	T
E	R	O	C
W	O	Y	U
E	W	X	T

- (1) SEW (2) CUT
(3) GROW (4) ROOTS

19. Find the sentence with the incorrect punctuation mark.

- (1) How are you! (2) How nice!
(3) What a surprise! (4) Are you crazy?

20. Select the proper option to complete the word register.

growl, cluck, buzz, squeal, _____.

- (1) blow (2) share
(3) croak (4) flow

21. Select the correct alternative.

He _____ a letter yesterday.

- (1) writes (2) wrote
(3) write (4) writing

SPACE FOR ROUGH WORK

22. Ruby meets her friend at the lunch time. How will she greet him? Choose the correct option.

- (1) Good evening. (2) Good night.
(3) Good morning. (4) Good afternoon.

23. Find the punctuation mark missing in the following sentence.

He said, "Its just a matter of practice!"

- (1) Comma (2) Exclamation mark
(3) Apostrophe (4) Full stop

24. Observe the picture and choose the correct alternative.



What is the girl doing?

- (1) Sweeping (2) Cooking
(3) Climbing (4) Singing

25. Read the riddle given below and choose the correct option.

You open your mouth to do it.

It shows you are sleepy. What is it?

- (1) Cough (2) Yawn
(3) Sneeze (4) Dream

SPACE FOR ROUGH WORK

SECTION - II

INTELLIGENCE TEST

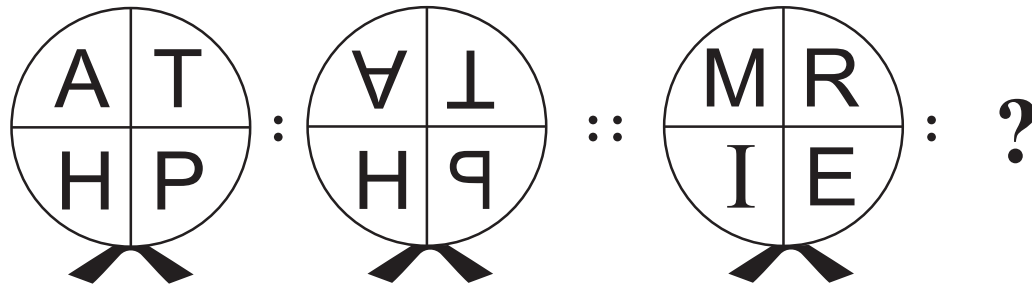
Q.26. to Q.30. Directions :

In the given questions first term has a specific relation with the second term. The same relation exists between third and fourth term. Identify the relation and select the correct option to replace the question mark.

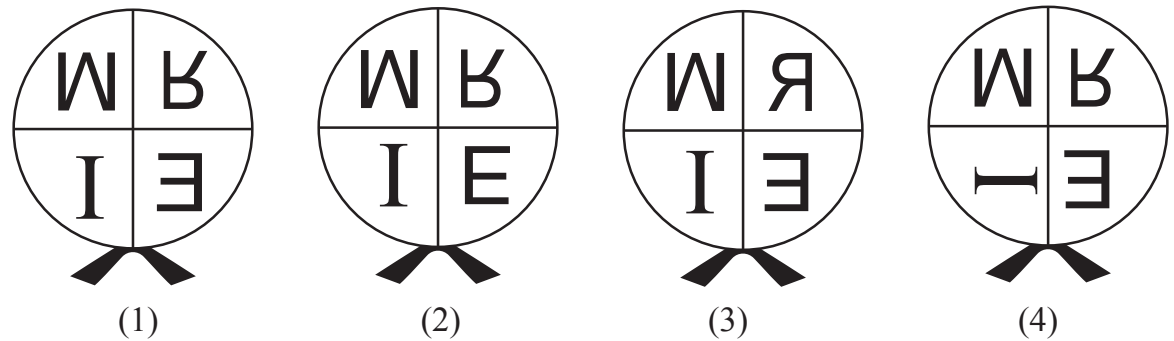
26. Karamveer : Bhaurao Patil :: ? : Birasa Munda
 (1) Lokmanya (2) Maharshi
 (3) Senanayak (4) Jananayak

27. Cow : Moo :: Monkey : ?
 (1) Hoot (2) Hiss
 (3) Chatter (4) Scream

28. Question Figures :



Answer Figures :



SPACE FOR ROUGH WORK

विभाग - II

बुद्धिमत्ता चाचणी

प्रश्न क्र. 26 ते 30 साठी सूचना -

खालील प्रश्नांत पहिल्या व दुसऱ्या पदाचा जसा संबंध आहे; अगदी तसाच संबंध तिसऱ्या व चौथ्या पदात आहे. तो संबंध शोधा व प्रश्नचिन्हाच्या जागी येण्याच्या उत्तराच्या पर्याय क्रमांकाचे वर्तुळ रंगवा.

26. कर्मवीर : भाऊराव पाटील :: ? : बिरसा मुंडा

- | | |
|--------------|------------|
| (1) लोकमान्य | (2) महर्षी |
| (3) सेनानायक | (4) जननायक |

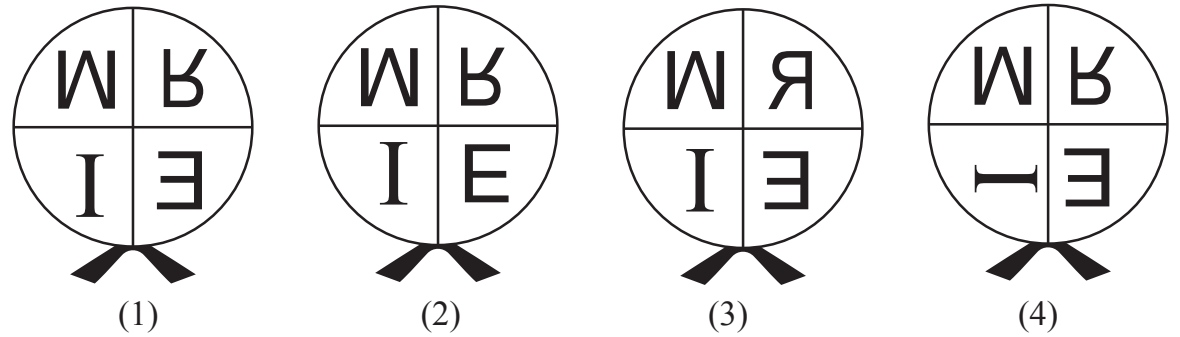
27. गाय : हंबरणे :: माकड : ?

- | | |
|--------------|-------------|
| (1) घुत्कार | (2) चित्कार |
| (3) भुभुःकार | (4) केकारव |

28. प्रश्नाकृती



उत्तर आकृती



कच्च्या कामासाठी फक्त

A	B	C	D	E	F	G	H	I	J	K	L	M	N	O	P	Q	R	S	T	U	V	W	X	Y
---	---	---	---	---	---	---	---	---	---	---	---	---	---	---	---	---	---	---	---	---	---	---	---	---

29. $42 : 10 :: 93 : ?$

- (1) 71 (2) 24
 (3) 28 (4) 33


30. $8 : 64 :: 5 : ?$

- (1) 61 (2) 26
 (3) 48 (4) 125

Q.31. and Q.32. Direction:

Select the figure which exactly matches with the question figure from the four alternative figures given below.

31. **Question Figure:**



Answer Figures:



(1)



(2)




(3)




(4)


32. **Question Figure:**




Answer Figures:




(1)



(2)



(3)



(4)

33. If Red, Yellow, Blue, Green and Pink coloured buntings are stuck in the same order repeatedly, then at which position will be the Yellow bunting get stuck?

- (1) 63 (2) 87
 (3) 39 (4) 78

SPACE FOR ROUGH WORK

A	B	C	D	E	F	G	H	I	J	K	L	M	N	O	P	Q	R	S	T	U	V	W	X	Y
---	---	---	---	---	---	---	---	---	---	---	---	---	---	---	---	---	---	---	---	---	---	---	---	---

29. 42 : 10 :: 93 : ?

- (1) 71 (2) 24
(3) 28 (4) 33

30. 8 : 64 :: 5 : ?

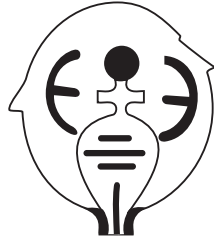
- (1) 61 (2) 26
(3) 48 (4) 125

प्रश्न क्र. 31 व 32 साठी सूचना -


खालील प्रश्नाकृतीशी तंतोतंत जुळणारी आकृती पर्यायी उत्तर आकृत्यांमधून निवडा.

31. प्रश्नाकृती

उत्तर आकृती




(1)



(2)




(3)




(4)

32. प्रश्नाकृती


उत्तर आकृती



(1)



(2)



(3)



(4)

33. लाल, पिवळा, निळा, हिरवा व गुलाबी या रंगांच्या पताका याच क्रमाने लावल्या आहेत तर पिवळ्या रंगाची पताका पुढीलपैकी कोणत्या क्रमांकावर येईल?

- (1) 63 (2) 87
(3) 39 (4) 78

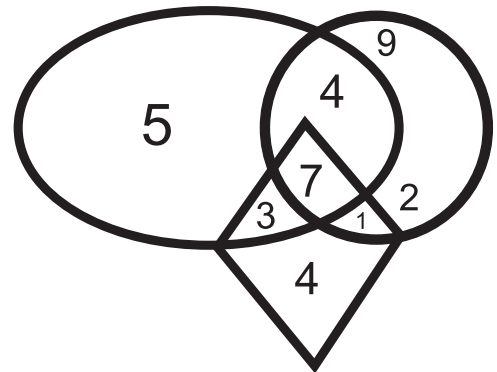
कच्च्या कामासाठी फक्त

A	B	C	D	E	F	G	H	I	J	K	L	M	N	O	P	Q	R	S	T	U	V	W	X	Y
---	---	---	---	---	---	---	---	---	---	---	---	---	---	---	---	---	---	---	---	---	---	---	---	---

34. In a row Rajendra is standing in the middle of the row. His position is 23rd in the row. If in the same row Vishwas is standing at 25th position from left side then which of the following alternatives is his position from the right side in the row?
- (1) 21st (2) 20th
(3) 22nd (4) 45th
35. When Rajnandini was returning to home from school, Sun was setting towards her left side. In the same position she turned to her right side at the right angle. Then to which direction will her right hand point?
- (1) North (2) South
(3) East (4) West
36. If Sonal's 3rd birthday was on 19th September 2004, which was Thursday, then on which day will her 12th birthday occur?
- (1) Monday (2) Sunday
(3) Saturday (4) Wednesday
37. In the year 2020, Republic Day was celebrated on Saturday, then in the same month which day will occur only four times?
- (1) Wednesday (2) Friday
(3) Thursday (4) Tuesday

38. Observe the given Venn diagram and choose the correct answer.

What is the sum of numbers which are only in one figure?



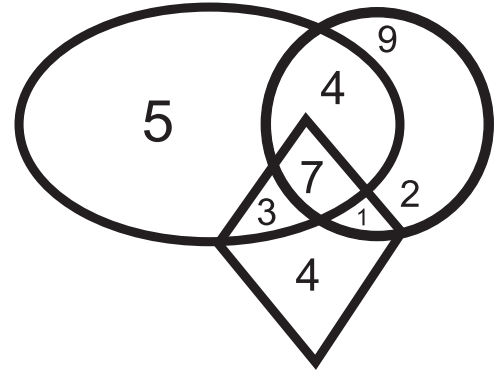
- (1) 18
(2) 16
(3) 11
(4) 20

SPACE FOR ROUGH WORK

A	B	C	D	E	F	G	H	I	J	K	L	M	N	O	P	Q	R	S	T	U	V	W	X	Y
---	---	---	---	---	---	---	---	---	---	---	---	---	---	---	---	---	---	---	---	---	---	---	---	---

34. एका रांगेत राजेंद्र मध्यभागी उभा असून त्याचा क्रमांक 23 वा आहे. याच रांगेत डावीकडून 25 व्या क्रमांकावर उभ्या असणाऱ्या विश्वासचा रांगेत उजवीकडून क्रमांक कितवा असेल?
 (1) 21 वा (2) 20 वा
 (3) 22 वा (4) 45 वा
35. शाळेतून घरी जात असताना राजनंदिनीच्या डावीकडे सूर्य मावळत होता. या स्थितीत राजनंदिनी काटकोनात एकदा उजवीकडे वळली तर तिचा उजवा हात कोणत्या दिशेला असेल?
 (1) उत्तर (2) दक्षिण
 (3) पूर्व (4) पश्चिम
36. सोनलचा 3 वा वाढदिवस 19 सप्टेंबर 2004 रोजी गुरूवारी होता तर तिच्या 12 व्या वाढदिवशी कोणता वार असेल?
 (1) सोमवार (2) रविवार
 (3) शनिवार (4) बुधवार
37. 2020 चा प्रजासत्ताक दिन शनिवारी साजरा करण्यात आला होता तर त्या महिन्यात पुढीलपैकी कोणता वार फक्त चारच वेळा येईल?
 (1) बुधवार (2) शुक्रवार
 (3) गुरूवार (4) मंगळवार

38. पुढील वेन आकृतीचे निरीक्षण करून उत्तर निवडा.
 फक्त एकाच आकृतीत असणाऱ्या अंकांची बेरीज किती आहे?



- (1) 18
 (2) 16
 (3) 11
 (4) 20

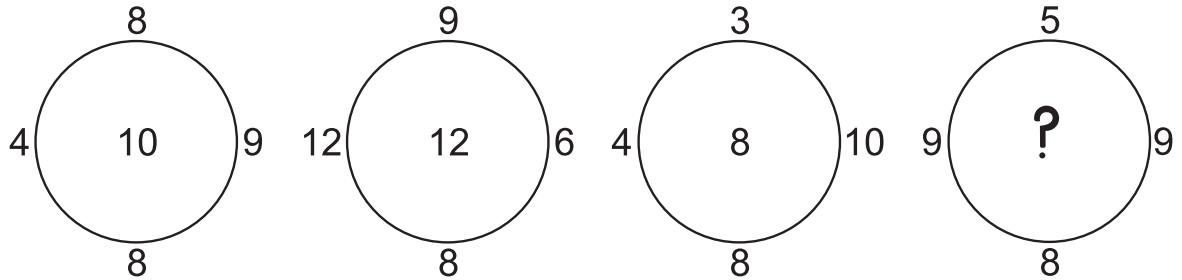
कच्च्या कामासाठी फक्त

39. In the given square pattern select the correct option to replace the question mark.

2	36	4
5	76	?
1	172	7

- (1) 6
- (2) 3
- (3) 9
- (4) 2

40. Observe the pattern in the following circles and find the correct answer to replace the question mark, from the given alternatives.



- (1) 11
- (2) 13
- (3) 7
- (4) 14

Q.41. to Q.45. Directions :

A set of terms is given at the beginning of the question. These terms have some common characteristic. Find out the term from the alternatives that matches the given set of terms.

41. Stable, Coop, Cowshed.

- (1) Web
- (2) Beehive
- (3) Cage
- (4) Anthill

42. September, April, June

- (1) January
- (2) December
- (3) March
- (4) November

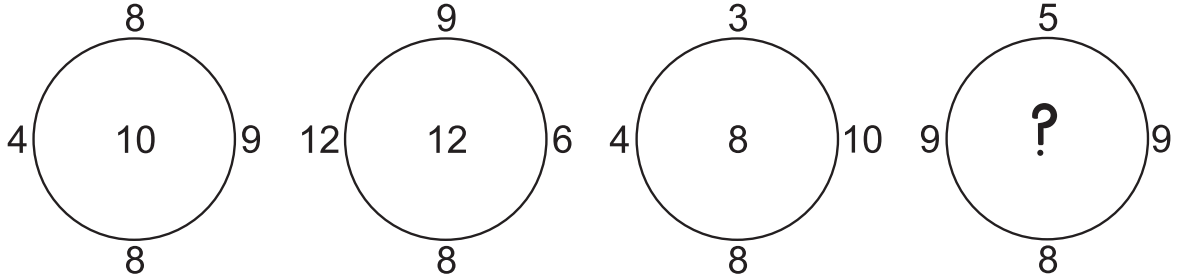
SPACE FOR ROUGH WORK

39. खालील चौकोनात प्रश्नचिन्हाच्या जागी कोणती संख्या येईल?

2	36	4
5	76	?
1	172	7

- (1) 6
(2) 3
(3) 9
(4) 2

40. खालील वर्तुळांचे निरीक्षण करा व प्रश्नचिन्हांच्या ठिकाणी कोणती संख्या येईल ते पर्यायातून निश्चित करा.



- (1) 11
(2) 13
(3) 7
(4) 14

प्रश्न क्र. 41 ते 45 साठी सूचना -

प्रश्नाच्या सुरुवातीला काही पदे दिलेली आहेत. त्यांचा एका समान वैशिष्ट्यानुसार एक गट तयार होतो. या गटात बसणारे पद दिलेल्या पर्यायांतून निवडा.

41. तबेला, खुराडे, गोठा

- (1) जाळे
(2) पोळे
(3) पागा
(4) वारूळ

42. सप्टेंबर, एप्रिल, जून

- (1) जानेवारी
(2) डिसेंबर
(3) मार्च
(4) नोव्हेंबर

कच्च्या कामासाठी फक्त

A	B	C	D	E	F	G	H	I	J	K	L	M	N	O	P	Q	R	S	T	U	V	W	X	Y
---	---	---	---	---	---	---	---	---	---	---	---	---	---	---	---	---	---	---	---	---	---	---	---	---


43. 4205, 6427, 8729

- (1) 5407 (2) 3217
(3) 3249 (4) 6245

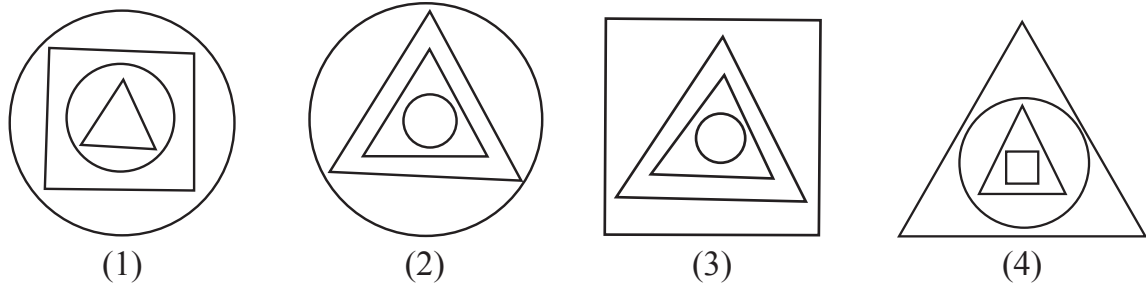
44. (512, 64), (216, 36), (27, 9)

- (1) (1, 1) (2) (16, 4)
(3) (353, 49) (4) (225, 25)

45. Question Figures :



Answer Figures :



46. In a certain code language 'COT' is written as 357, 'TOP' is written as 513, 'TAP' is written as 431 then how to write 'COAT' in the same language. (Letters and numerals are not in order.)

- (1) 1743 (2) 7543
(3) 1574 (4) 1375

47. In a certain code language 35 : 345, 48 : 4168 and 29 : 2499 then in the same code language 58 = ?

- (1) 538 (2) 5138
(3) 5258 (4) 598

SPACE FOR ROUGH WORK

A	B	C	D	E	F	G	H	I	J	K	L	M	N	O	P	Q	R	S	T	U	V	W	X	Y
---	---	---	---	---	---	---	---	---	---	---	---	---	---	---	---	---	---	---	---	---	---	---	---	---

43. 4205, 6427, 8729

(1) 5407

(2) 3217

(3) 3249

(4) 6245

44. (512, 64), (216, 36), (27, 9)

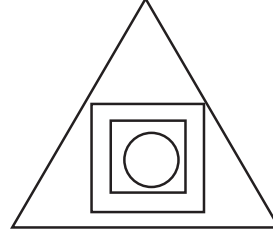

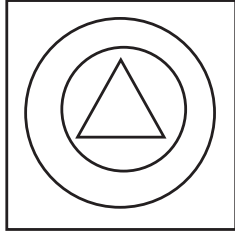
(1) (1, 1)

(2) (16, 4)

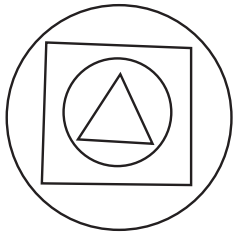
(3) (353, 49)

(4) (225, 25)


45. प्रश्नाकृती




उत्तर आकृती



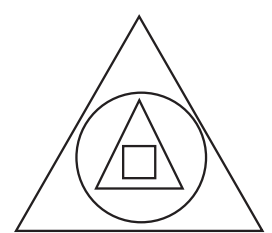
(1)



(2)



(3)



(4)

46. एका सांकेतिक भाषेत 'दगड' हा शब्द 'दरफगड', गुलाब हा शब्द 'गुरफुलाब', तर पिवळा हा शब्द 'पिरफिवळा' असा लिहितात; तर त्याच भाषेत 'नूतन' हा शब्द कसा लिहाल?

(1) नूरफतन

(2) नूरफूतन

(3) नूरफूनत

(4) नूतरफून

47. एका सांकेतिक भाषेत $35 = 345$, $48 = 4168$ व $29 = 2499$ असे लिहितात, तर याच भाषेत $58 =$ किती?

(1) 538

(2) 5138










(3) 5258

(4) 598








कच्च्या कामासाठी फक्त

A	B	C	D	E	F	G	H	I	J	K	L	M	N	O	P	Q	R	S	T	U	V	W	X	Y
---	---	---	---	---	---	---	---	---	---	---	---	---	---	---	---	---	---	---	---	---	---	---	---	---

Q.48. and Q.49. Direction :

Symbol	  	  	  
Code	5 2 6	6 8 9	3 9 2

In the above frame the sequence of symbols and digits may not necessarily be the same. Observe the code in the above frame and answer the questions.

48. In the above code language which digits will represent the symbol   
- (1) 852 (2) 956
(3) 952 (4) 928
49. $\text{⊕} + \text{⊞} \times \bullet - \star = ?$
- (1)  (2) 
(3)  (4) 
50. While climbing the ramp near the school gate your physically disabled friend slipped off. What will you do at this moment?
- (1) I will inform the Head-master of my school immediately.
(2) I will ignore him and go into the class.
(3) I will laugh at him by seeing him in this embarrassing situation.
(4) I will support him and help him to go to the classroom.
51. You and your school friends go for a school picnic at Raigad fort. Which of the below mentioned student's action is correct?
- (1) Pranjal stands on the surrounding wall of the fort and clicks selfie.
(2) Suyash has thrown the empty water bottle on the fort.
(3) Manasi climbed up and came down the fort carefully.
(4) Ayub has beautifully written school's name on the wall of the fort.

SPACE FOR ROUGH WORK

A	B	C	D	E	F	G	H	I	J	K	L	M	N	O	P	Q	R	S	T	U	V	W	X	Y
---	---	---	---	---	---	---	---	---	---	---	---	---	---	---	---	---	---	---	---	---	---	---	---	---

प्रश्न क्र. 48 व 49 साठी सूचना -

चिन्ह	⊕ ⊕ △	⊕ ★ *	★ ● ⊕
सांकेतिक रूप	5 2 6	6 8 9	3 9 2

वरील सारणीतील चिन्हे व अंक यांचा क्रम सारखाच असेल असे नाही, हे लक्षात घेऊन उत्तरे पर्यायातून निवडा.

48. वरील सांकेतिक भाषेत ★ △ ⊕ या चिन्हांसाठी कोणते अंक येतील?
- (1) 852 (2) 956
(3) 952 (4) 928
49. ⊕ + ⊕ × ● - ★ = किती ?
- (1) ⊕ (2) ●
(3) ⊕ (4) *
50. शाळेच्या प्रवेशद्वाराजवळ तुमचा दिव्यांग मित्र रॅम्प (दिव्यांगांसाठीचा चढ-उताराचा रस्ता) चढताना घसरून खाली पडला, तर त्याला पाहून तुम्ही काय कराल?
- (1) धावत जाऊन मुख्याध्यापकांना सांगाल.
(2) त्याच्याकडे दुर्लक्ष करून वर्गात निघून जाल.
(3) दिव्यांग मित्राची फजिती झाली असे समजून खूप हसाल.
(4) दिव्यांग मित्राला आधार देऊन त्याला वर्गाखोलीपर्यंत घेऊन जाल.
51. 'रायगड' पाहण्यासाठी शाळेची सहल गेली असता पुढील विद्यार्थ्यांपैकी कोणाची कृती तुम्हाला योग्य वाटते?
- (1) गडावरील कडयाजवळ उभारलेल्या कठडयावर चढून प्रांजल सेल्फी (फोटो) काढते.
(2) सुयशने पाण्याची रिकामी बाटली गडावरच फेकून दिली.
(3) मानसी गडावर सावकाश चढली व सावकाश उतरली.
(4) अयुबने गडाच्या भिंतीवर सुंदर अक्षरात शाळेचे नाव लिहिले.

कच्च्या कामासाठी फक्त

A	B	C	D	E	F	G	H	I	J	K	L	M	N	O	P	Q	R	S	T	U	V	W	X	Y
---	---	---	---	---	---	---	---	---	---	---	---	---	---	---	---	---	---	---	---	---	---	---	---	---

52. In the following sentence how many seven letter words are more or less than five letter words?

‘Shivaji Maharaj is a great Maratha King.’

- (1) More by 1 (2) Less by 1
(3) More by 2 (4) Less by 2

53. Prepare a meaningful word from the letters, ‘B, E, N, T, I, O, D, E’. Which letter will be at the third place from the right side of the meaningful word.

- (1) B (2) I
(3) O (4) E

54. In the given number series how many times is the sum of two adjacent digits is a ‘Prime Number’.

7, 8, 9, 2, 0, 1, 3, 5, 6, 8, 1, 1, 1, 2, 5

- (1) 9 (2) 8
(3) 7 (4) 10

55. ABCDE FGHIJ KLMNO PQRST UVWXY

In the given alphabetical series, which pair of letters from the following options is not at equal distance from the 14th letter from the right side in the alphabet series?

- (1) GU (2) FR
(3) BV (4) IO

SPACE FOR ROUGH WORK

A	B	C	D	E	F	G	H	I	J	K	L	M	N	O	P	Q	R	S	T	U	V	W	X	Y
---	---	---	---	---	---	---	---	---	---	---	---	---	---	---	---	---	---	---	---	---	---	---	---	---

52. शैक्षणिक क्षेत्रातील अण्णांच्या उत्तुंग कार्यामुळे त्यांना सर्वजण 'कर्मवीर' म्हणून ओळखतात. वरील वाक्यात जोडाक्षरी शब्दांची संख्या किती आहे?

- (1) 8 (2) 7
(3) 9 (4) 10

53. पुढील वाक्यात 'आकारान्त' अक्षरांची संख्या 'अकारान्त' अक्षरांच्या संख्येपेक्षा कितीने कमी अथवा जास्त आहे?

'कचरा टाकणार नाही रस्त्यावर, हा नियम बिंबवू मनावर.'

- (1) 6 ने जास्त (2) 5 ने कमी
(3) 7 ने जास्त (4) 6 ने कमी

54. पुढील संख्यामालेत क्रमाने येणाऱ्या लगतच्या दोन अंकांची बेरीज 'मूळसंख्या' येते असे किती वेळा झाले आहे?

(7, 8, 9, 2, 0, 1, 3, 5, 6, 8, 1, 1, 1, 2, 5)

- (1) 9 (2) 8
(3) 7 (4) 10

55. ABCDE FGHIJ KLMNO PQRST UVWXY

वरील इंग्रजी अक्षरमालेत उजवीकडून 14 व्या क्रमांकाच्या अक्षरापासून समान अंतरावर नसलेली अक्षरजोडी ओळखा.

- (1) GU (2) FR
(3) BV (4) IO

कच्च्या कामासाठी फक्त

Q.56. to Q.60. Directions:

Select the odd term.

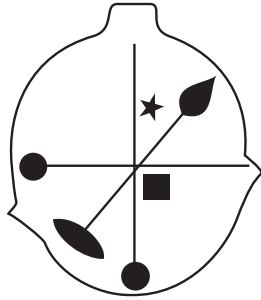
56. (1) Cow - Bull

(2) Father - Mother

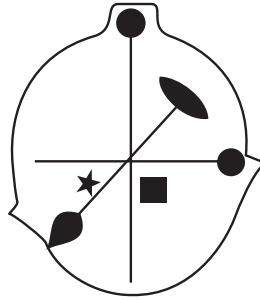
(3) Peacock - Hen

(4) Groom - Bride

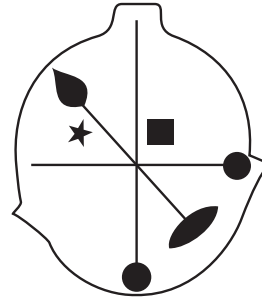
57.



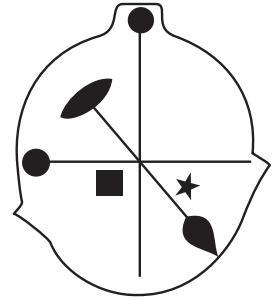
(1)



(2)

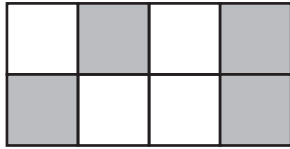


(3)

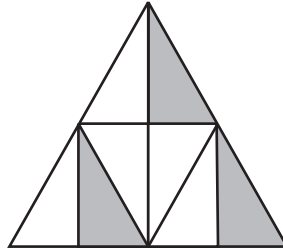


(4)

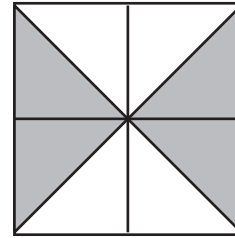
58.



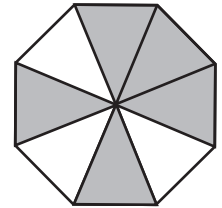
(1)



(2)



(3)



(4)

59. (1) 5668

(2) 3932

(3) 6978

(4) 6592

60. (1) 644

(2) 944

(3) 477

(4) 955

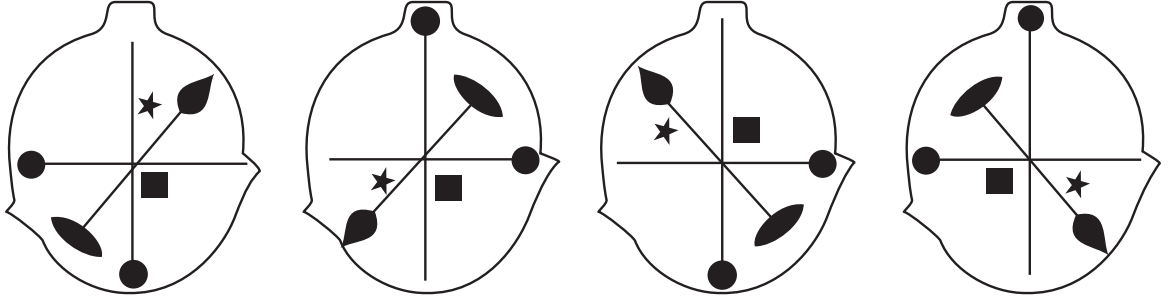
SPACE FOR ROUGH WORK

प्रश्न क्र. 56 ते 60 साठी सूचना -

गटात न बसणारे पद ओळखून त्याच्या पर्याय क्रमांकाचे वर्तुळ रंगवा.

56. (1) उंट - सांडणी (2) बाबा - आई
(3) मोर - मोरीण (4) वर - वधू

57.



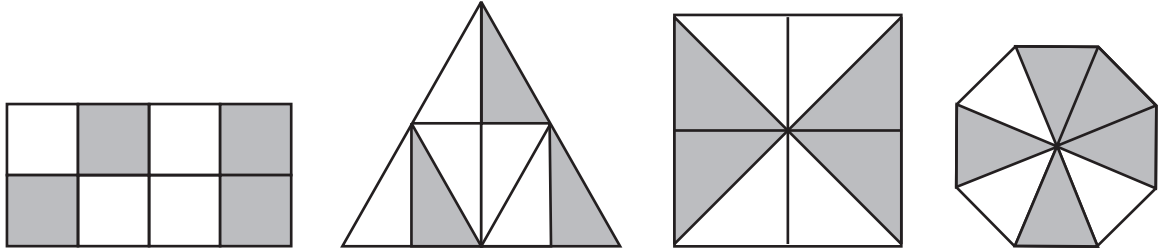
(1)

(2)

(3)

(4)

58.



(1)

(2)

(3)

(4)

59. (1) 5668 (2) 3932
(3) 6978 (4) 6592
60. (1) 644 (2) 944
(3) 477 (4) 955

कच्च्या कामासाठी फक्त

Q.61. and Q.62. Direction :

Consider the pattern in the given number series and select the correct option to replace the question mark.

61. 196, 144, 100, 64, ?

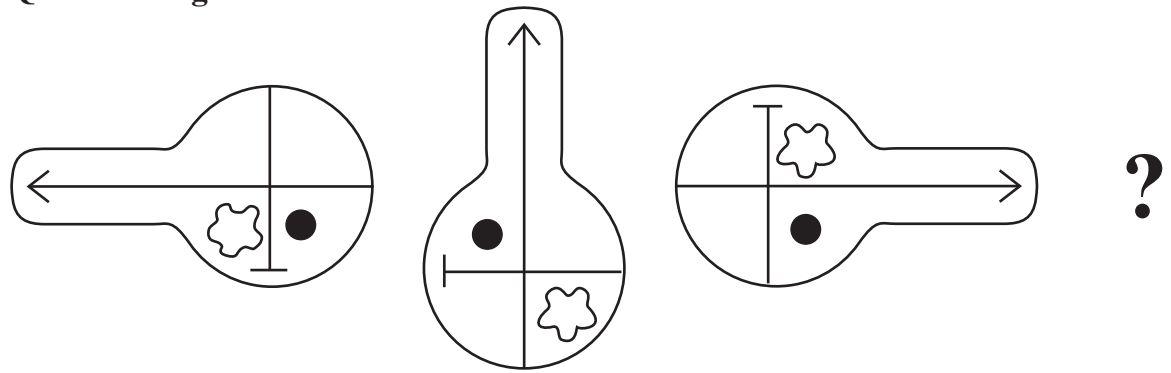
- | | |
|--------|--------|
| (1) 49 | (2) 16 |
| (3) 36 | (4) 56 |

62. 7, 8, 11, 17, 27, 42, ?

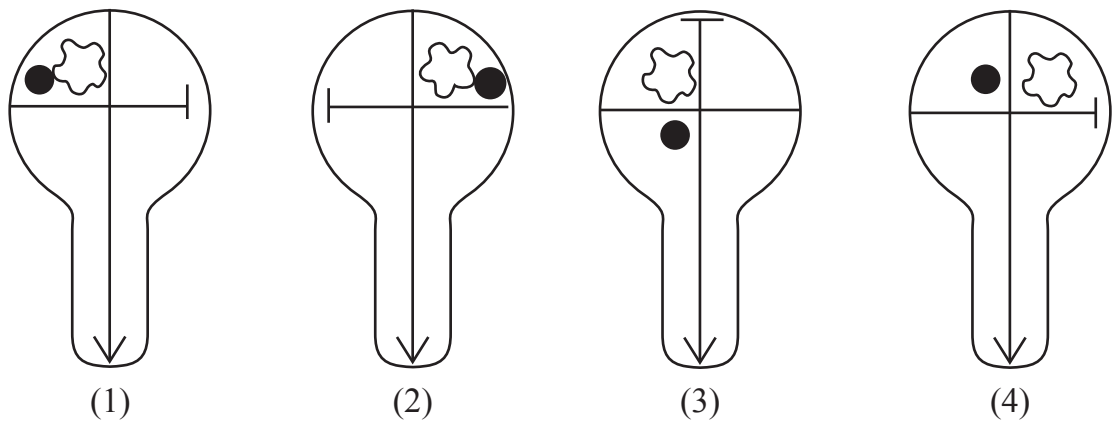
- | | |
|--------|--------|
| (1) 69 | (2) 63 |
| (3) 59 | (4) 62 |

63. Select the correct figure from the options to replace the question mark.

Question Figures :



Answer Figures :



SPACE FOR ROUGH WORK

प्रश्न क्र. 61 व 62 साठी सूचना -

मालिकेतील संख्यांच्या मांडणीतील सूत्र लक्षात घेऊन प्रश्नचिन्हांच्या जागी येणारी संख्या पर्यायातून निवडा.

61. 196, 144, 100, 64, ?

(1) 49

(2) 16

(3) 36

(4) 56

62. 7, 8, 11, 17, 27, 42, ?

(1) 69

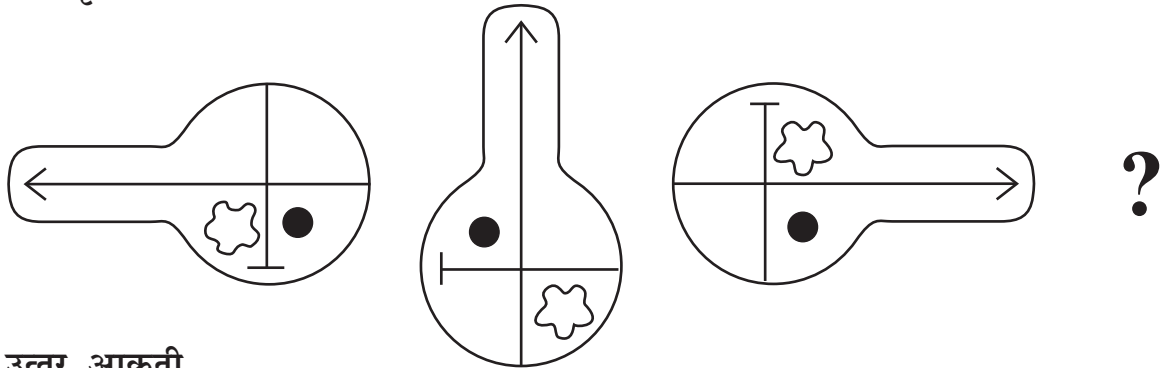
(2) 63

(3) 59

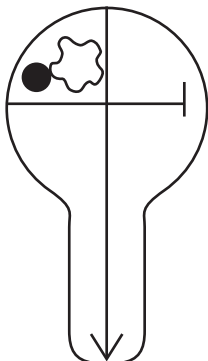
(4) 62

63. प्रश्नचिन्हांच्या जागी क्रमाने येणारी आकृती कोणती?

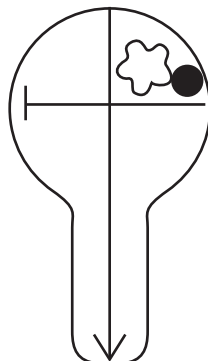
प्रश्नाकृती



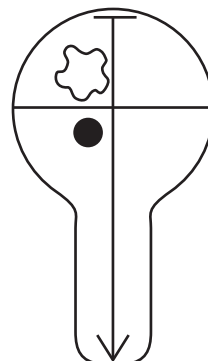
उत्तर आकृती



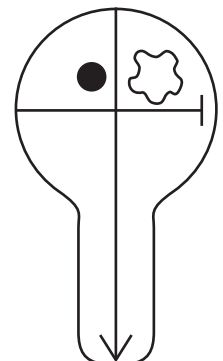
(1)



(2)



(3)



(4)

कच्च्या कामासाठी फक्त

64. In the given series of symbols select the correct group from the options to replace the question mark.



65. Select the wrong term in the given number series.

16, 22, 26, 39, 62, 74, 102

(1) 74

(2) 62

(3) 39

(4) 26

66. Seven years ago sum of ages of Kavita, Manisha and Suvarna was 45 years, then what will be the sum of their ages 5 years hence?

(1) 81

(2) 50

(3) 57

(4) 59

67. Pratik likes to play Kabaddi and Kho-Kho. Palak likes to play only Langadi. Vedant likes to play all sports. Pranjal likes to play Langadi and Chess and Roger likes to play all sports except Kabaddi, then from the options find who likes to play Kho-Kho?

(1) Pratik and Vedant

(2) Pratik, Pranjal and Roger

(3) Vedant, Roger and Palak

(4) Vedant, Pratik and Roger

68. If Honeybee is called Ant, Ant is called Cobra, Cobra is called Sparrow and Sparrow is called Hen, then who will live in the anthill?

(1) Cobra

(2) Ant

(3) Hen

(4) Honeybee

SPACE FOR ROUGH WORK

64. खालील चिन्हांच्या मालिकेत प्रश्नचिन्हांच्या जागी येणाऱ्या चिन्हांचा गट निवडा.



65. खालील संख्यामालिकेतील चुकीचे पद ओळखा.

16, 22, 26, 39, 62, 74, 102

(1) 74

(2) 62

(3) 39

(4) 26

66. 7 वर्षांपूर्वी कविता, मनिषा व सुवर्णा यांच्या वयांची बेरीज 45 वर्ष होती; तर 5 वर्षांनंतर त्यांच्या वयांची बेरीज किती वर्ष असेल?

(1) 81

(2) 50

(3) 57

(4) 59

67. प्रतिकला कबड्डी व खो-खो खेळ आवडतात, पलकला फक्त लंगडी हा खेळ आवडतो. वेदांतला सर्व खेळ आवडतात. प्रांजलला लंगडी व बुद्धिबळ हे खेळ आवडतात व रॉजरला कबड्डी सोडून सर्व खेळ आवडतात. तर खो-खो खेळ आवडणारे पुढीलपैकी कोण ते निवडा?

(1) प्रतिक व वेदांत

(2) प्रतिक, प्रांजल व रॉजर

(3) वेदांत, रॉजर व पलक

(4) वेदांत, प्रतिक व रॉजर

68. मधमाशीला मुंगी म्हटले, मुंगीला नाग म्हटले, नागाला चिमणी म्हटले व चिमणीला कोंबडी म्हटले; तर वारूळात कोण राहिल?

(1) नाग

(2) मुंगी

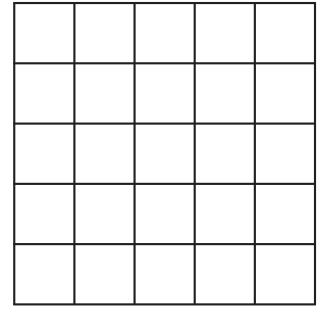
(3) कोंबडी

(4) मधमाशी

कच्च्या कामासाठी फक्त

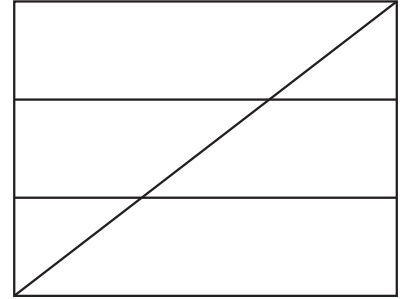
69. In the adjacent figure, how many squares are there?

- (1) 225
- (2) 55
- (3) 25
- (4) 75



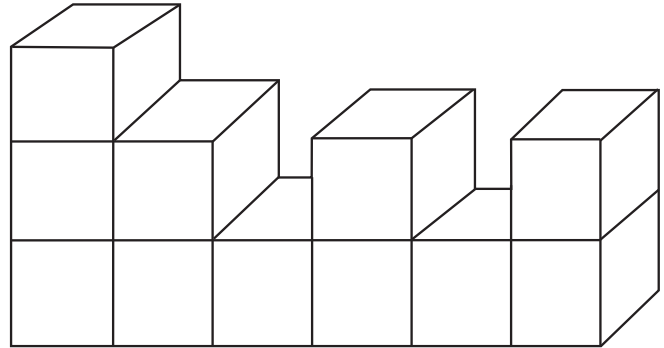
70. In the adjacent figure, how many quadrilaterals are there?

- (1) 10
- (2) 14
- (3) 12
- (4) 8




71. How many surfaces does the given figure have?


- (1) 66
- (2) 22
- (3) 17
- (4) 16




72. Which group of digits will look as it is in the mirror image. Select the correct alternative from the following alternatives.




(1)



(2)



(3)



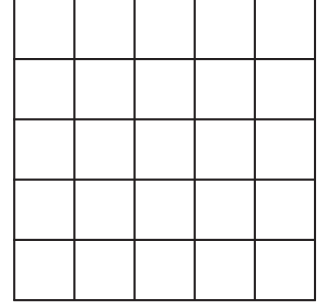
(4)

SPACE FOR ROUGH WORK

A	B	C	D	E	F	G	H	I	J	K	L	M	N	O	P	Q	R	S	T	U	V	W	X	Y
---	---	---	---	---	---	---	---	---	---	---	---	---	---	---	---	---	---	---	---	---	---	---	---	---

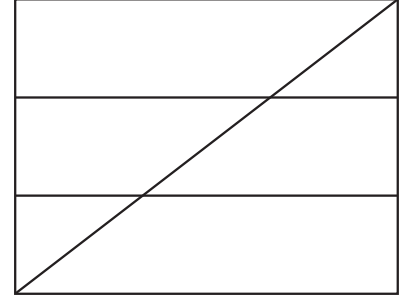
69. सोबतच्या आकृतीत चौरसांची संख्या किती आहे?

- (1) 225
- (2) 55
- (3) 25
- (4) 75



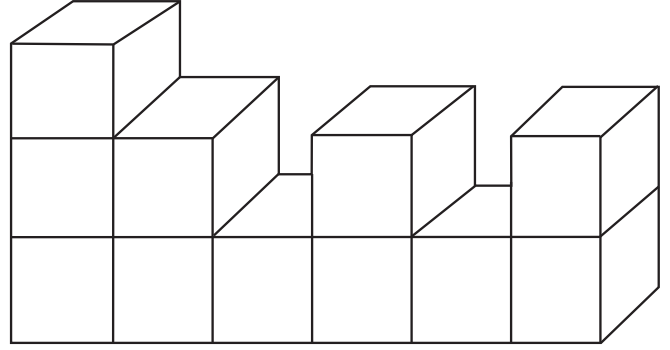
70. सोबतच्या आकृतीत चौकोनांची संख्या किती आहे?

- (1) 10
- (2) 14
- (3) 12
- (4) 8




71. पुढील आकृतीला एकूण पृष्ठे किती आहेत?


- (1) 66
- (2) 22
- (3) 17
- (4) 16




72. पुढीलपैकी कोणत्या पर्यायातील अंकांचा गट आरशातील प्रतिमेत तसाच दिसेल?




(1)



(2)



(3)

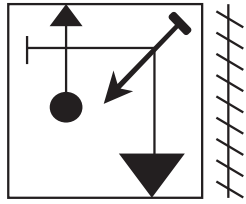


(4)

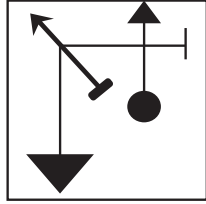
कच्च्या कामासाठी फक्त

73. Identify the mirror image of the question figure and select the correct alternative.

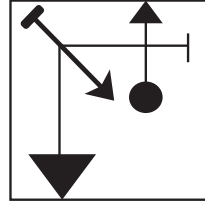
Question Figure:



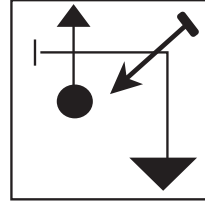
Answer Figures:



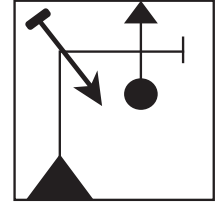
(1)



(2)



(3)




(4)

Q.74. and Q.75. Direction:

Select the correct figure that is water image of the question figure from the alternatives.

74. **Question Figure:**



Answer Figures:



(1)



(2)

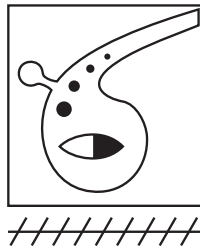


(3)

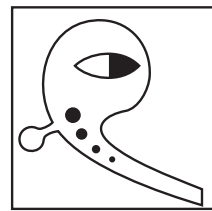


(4)


75. **Question Figure:**



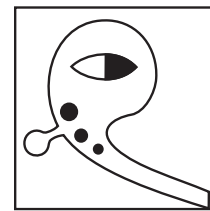
Answer Figures:



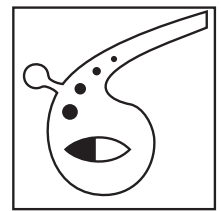
(1)



(2)



(3)

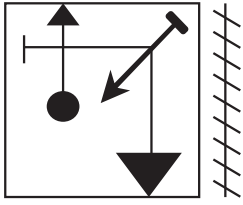


(4)

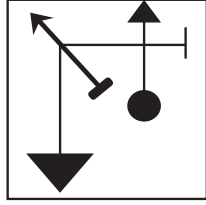
SPACE FOR ROUGH WORK

73. खालील प्रश्नाकृतीची आरशातील प्रतिमा कशी दिसेल ते पर्यायी उत्तर आकृत्यांमधून निश्चित करा व त्याचे वर्तुळ रंगवा.

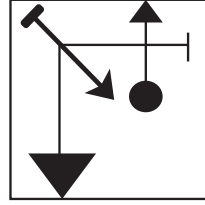
प्रश्नाकृती



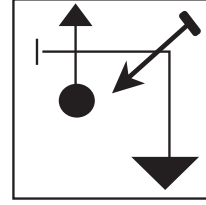
उत्तर आकृत्या



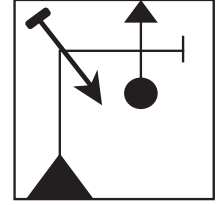
(1)



(2)



(3)




(4)

प्रश्न क्र. 74 व 75 साठी सूचना -

खालील प्रश्नाकृतीचे पाण्यातील प्रतिबिंब कसे दिसेल ते पर्यायी उत्तर आकृत्यांमधून निश्चित करा व त्याचे वर्तुळ रंगवा.

74. प्रश्नाकृती




उत्तर आकृत्या



(1)



(2)

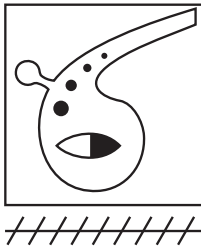


(3)

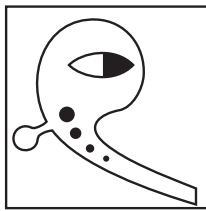


(4)


75. प्रश्नाकृती



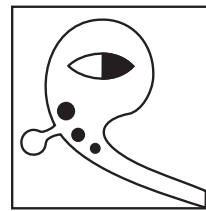
उत्तर आकृत्या



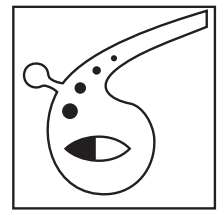
(1)



(2)



(3)



(4)

कच्च्या कामासाठी फक्त

कच्च्या कामासाठी फक्त