

# پری سیکنڈری اسکالرشپ امتحان برائے ہشتم جماعت، فروری 2023

نشست نمبر

سیٹ



0 2 2 2



پرچہ نمبر : II

میڈیم : اُردو

وقت : 02:00 سے 03:30

مضمون : زبانِ سوّم (انگریزی) اور ذہنی آزمائش

کل صفحات : 32

کل نمبرات : 150

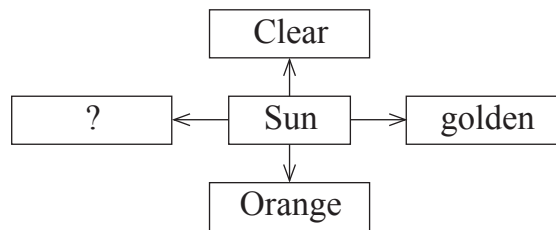
سوالیہ پرچہ حل کرنے سے پہلے دی گئی ہدایات کو غور سے پڑھیے۔

- (1) اس سوالیہ پرچہ کے دو حصے ہیں۔ حصہ ”I“ میں زبانِ سوّم (انگریزی) کے لیے 1 سے 25 اور حصہ ”II“ میں ذہنی آزمائش کے لیے 26 سے 75 ایسے کل 75 سوالات ہیں۔ تمام سوالات حل کرنا لازمی ہیں۔
- (2) ہر سوال کے لیے دو (2) نمبرات ہیں۔
- (3) سوالیہ پرچہ حل کرنے کے لیے کل 90 منٹ کا وقت دیا جائے گا۔
- (4) جواب کا اندراج کرنے کے لیے الگ سے جوابی پرچہ دیا گیا ہے۔ ہر سوال نمبر کے سامنے چار متبادلات کے لیے ترتیب وار چار دائرے دیے گئے ہیں۔ اس میں صحیح متبادل والے دائرہ کو دی گئی مثال کے مطابق رنگ بھرنا ہے۔
- مثال : سوال نمبر 6 کے صحیح جواب کا متبادل نمبر 2 ہو تو اسے اس طرح درج کریں :
- سوال نمبر 6 : ① ● ③ ④
- (5) ذیل کے مطابق درج کیے گئے جوابات قبول نہیں کیے جائیں گے۔
- ① X ② ③ ● ④ X
- (6) سوالیہ پرچہ میں زیادہ سے زیادہ 20% سوالات کے چار متبادلات میں سے دو متبادلات صحیح ہوں گے۔ وہ دونوں متبادلات درج کرنا لازمی ہے۔ ایسے سوالات کے سامنے ’دو صحیح متبادلات پہچانیے‘ اس طرح کی ہدایت دی ہوئی ہوگی۔
- (7) ’دو صحیح متبادلات پہچانیے‘ ایسی ہدایت کے علاوہ دیگر سوالات کے لیے ایک سے زائد دائرہ درج کرنے پر یا کانٹ چھاٹ کیے ہوئے جوابات ناقابل قبول ہوں گے۔
- (8) ایک بار درج کیا ہوا جواب تبدیل نہیں کیا جاسکے گا۔
- (9) متبادل دائروں کو بھرتے وقت صرف کالی یا نیلی بال پین کا استعمال کریں۔ پینسل سے بھرے گئے جوابات ناقابل قبول ہوں گے۔
- (10) سوالیہ پرچہ میں ہر ایک صفحہ کی چلی جانب اور آخری صفحے پر فام کے لیے جگہ مہیا کی گئی ہے۔ اسی جگہ پر فام کیا جائے۔
- (11) امتحان کے لیے وقت محدود ہے اس لیے اگر آپ کو کسی سوال کا جواب نہیں آتا ہو تو اگلا سوال حل کریں۔ آخر میں وقت بچنے پر بقیہ سوالات حل کرنے کی کوشش کریں۔
- (12) اگر کسی سوال میں خامی / غلطی ہو تو اس کی پوچھ تاچھ ’سپروائزر‘ یا ’سینئر انچارج‘ سے نہ کریں۔
- (13) سوال میں کوئی خامی / غلطی / اعتراض ہو تو اسکول یا سریرسٹ اس کی تحریری شکایت B. E. O. یا ایجوکیشن آفیسر کو نہ بھیجتے ہوئے براہ راست متعلقہ اسکول کے Login (لاگ ان) سے آن لائن بھیجیں۔
- (14) خامی / غلطی / اعتراض سے متعلق تحریری شکایت آن لائن روانہ کرنے کی مدت پریکٹا پریشد کی ویب سائٹ پر عارضی جوابات شائع کرنے کے دس دنوں تک رہے گی۔
- (15) طباعت کی غلطی یا دیگر وجوہات کی وجہ سے اگر سوال میں کوئی غلطی سرزد ہوگی ہو تو ماہرین کی کمیٹی کی آراء کے مطابق مناسب کارروائی کی جائے گی۔
- (16) اردو زبان کے ساتھ انگریزی زبان میں سوالیہ پرچہ دیا گیا ہے۔ اردو زبان کے مشکوک سوالات کے لیے انگریزی زبان میں دیا ہوا سوال دیکھیں۔

**Section - I**

**English**

01. Fill in the blank by using comparative form of the verb.  
My car is quite slow and I want to get a \_\_\_\_\_ (fast) one.  
(1) faster (2) fastest  
(3) more fast (4) most fast
02. Choose two correct modal auxiliaries showing possibility in the following sentence.  
Rohan \_\_\_\_\_ write in his notebook.  
(1) could (2) must  
(3) can (4) should
03. Look at the following slogan and choose the correct option for the given question.  
'Each one-teach one'  
This slogan is used for \_\_\_\_\_.  
(1) Literacy awareness programme (2) Green revolution programme  
(3) Health awareness programme (4) Addiction awareness programme
04. Read the following sentence and choose the correct alternative.  
The door \_\_\_\_\_ by the teacher.  
(1) is being shutting (2) were being shut  
(3) are being shut (4) is being shut
05. Complete the web of adjective for the word given. Choose any one correct option.



- (1) bright (2) dim  
(3) black (4) dull

**SPACE FOR ROUGH WORK**

**Instruction for Q. 06 and Q. 07 -**

Read the news and choose the correct option.

**Seminar on Diabetes**

On 29<sup>th</sup> September, on the occasion of World Heart Day, New Vision School, Mumbai organized an interactive seminar for the parents of New Vision School. Dr. Sanjay Gupta, the Senior diabetologist was the main speaker for it. Approximately 152 parents attended the seminar. This seminar was organized by Doctors' Medical Association along with school.

- 06.** Choose any one correct option for the given question.  
The seminar was organized for \_\_\_\_\_.
- (1) all (2) teachers  
(3) students (4) parents
- 07.** What kind of seminar was organized by the school?
- (1) recorded (2) vocal  
(3) interactive (4) written
- 08.** Choose the correct option from the following which shows the pronouns.  
Sun Wakang is brave and intelligent. But he is also a trickster. His body is as hard as diamond.
- (1) also, and (2) as, is  
(3) he, his (4) brave, intelligent
- 09.** Choose the correct option to identify the tense of the underlined words.  
The train has started before I reached the station.
- (1) past perfect (2) present perfect  
(3) present continuous (4) simple past
- 10.** Choose the correct alternative from the following to complete the puzzle for the meaningful words.
- |   |   |   |   |   |
|---|---|---|---|---|
| C | H | E | ? | T |
|   | ? |   |   | A |
|   | N |   |   | M |
|   |   |   |   | ? |
- (1) a (2) o  
(3) e (4) i

**SPACE FOR ROUGH WORK**

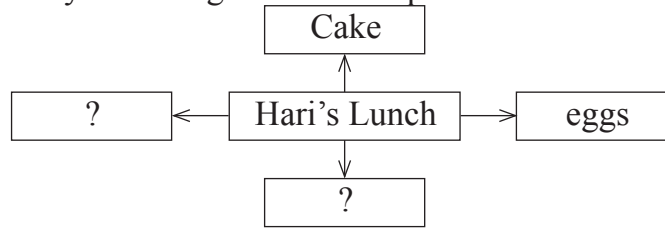
**Instruction for question no. 11 and 12.**

Read the passage and choose the correct alternative.

When they arrived at the seaside, out jumped all the children with a shout of joy. Down to the sands they raced, hand in hand - but Nobody took Hari's hand. Nobody went near him.

Hari was angry. He went to a sandy corner near a rocky pool and sat down by himself. He took out his lunch and looked at it. It was a good lunch. There were two hard-boiled eggs, six jam sandwiches, three pieces of bread and butter, a ginger cake, and a bar of chocolate. He would eat it all by himself. He wouldn't offer anything to anyone!

11. Complete the web by choosing 2 correct options.



- (1) bread and butter (2) juice  
(3) biscuits (4) bar of chocolate

12. How was the pool?

- (1) sandy (2) narrow  
(3) deep (4) rocky

13. Choose the correct option for the underlined part of the following.

Charuta wants to decorate her bungalow. For that purpose, she visited a person who is master in beautifies the inside of a house.

- (1) building contractor (2) merchant  
(3) sailor (4) interior decorator

14. Read the sentence and recognize its type by choosing the correct option.

Bind up the wound with a bandage.

- (1) Exclamatory Sentence (2) Imperative Sentence  
(3) Interrogative Sentence (4) Assertive Sentence

**SPACE FOR ROUGH WORK**

15. Fill in the blank by choosing the correct option for the correct conjunction.  
He worked hard to sell the wood in the morning \_\_\_\_\_ grains in the evening.

- (1) because (2) so  
(3) and (4) since

16. Choose the correct alternative to complete the following set of words.

- (1) decoration  
(2) relatives  
(3) crackers  
(4) cloths

D	P	T	H	L	P	S
A	I	S	C	A	T	Q
P	H	W	R	T	O	S
L	M	E	A	E	P	I
B	A	E	C	L	Y	Z
S	I	T	K	A	I	G
A	B	S	E	M	H	V
A	O	C	R	P	W	P
S	T	M	S	Q	N	P

17. Select one correct option for the underlined word to make it opposite of it.  
If you do not wake up early in the morning, you are \_\_\_\_\_ for school.

- (1) late (2) early  
(3) perfect (4) in

18. Choose the correct alternative that shows the correct meaning of the underlined words.

They received the president of the college with open arms.

- (1) with someone's presence (2) with excellent work  
(3) with fear (4) with warm welcome

**SPACE FOR ROUGH WORK**

**Instruction for Q. 19, Q. 20 and Q. 21 -**

Read the passage and choose the correct alternative.

Many years ago, at the foothills of the kaatskill (kat-skill) mountains, was a little village. In the village lived a simple, good-natured fellow named Rip Van Winkle. He was a kind neighbour, ready to help anyone. Everyone in the village liked him. The children of the village shouted with joy whenever they saw him because he played with them, he taught them to fly kites and shoot marbles and told them long stories.

The only problem with Rip was that he was very lazy. He did no work on his own farm and just idled away his time. His fences were falling to pieces. His cow was going astray. Weeds grew on his farm. Rip's constant companion was his dog, named Wolf. To avoid work, he would walk away into the forest with his dog.

**19.** What did Rip Van Winkle teach to the children? (Choose any 2 answers)

- (1) to write poems (2) to fly kites  
(3) to tell stories (4) to shoot marbles

**20.** Who was wolf ?

- (1) boy (2) wolf  
(3) dog (4) villager

**21.** Match the pairs.

**A**

**B**

- 1) fences a) going astray  
2) cow b) falling to pieces  
3) weeds c) mountains  
4) kaatskill d) grow on farms  
(1) 1-b; 2-a; 3-d; 4-c (2) 1-c; 2-d; 3-a; 4-b  
(3) 1-d; 2-a; 3-b; 4-c (4) 1-a; 2-b; 3-c; 4-d

**SPACE FOR ROUGH WORK**

22. Read the following pairs of homophones and find out a pair which is not a homophone. Choose any one correct option.

- (1) Steel - still (2) though - thought  
(3) main - mane (4) right - write

23. Observe the following website and choose the correct option for the given question.

महाराष्ट्र शासन Government of Maharashtra SKIP TO MAIN CONTENT ENGLISH

नाशिक जिल्हा  
NASHIK DISTRICT

HOME ABOUT DISTRICT CORONA VIRUS-COVID19 DIRECTORY DEPARTMENT TOURISM DOCUMENTS NOTICES MORE

HOME / DIRECTORY / PUBLIC UTILITIES / UNIVERSITIES / Maharashtra University of Health Science (MUHS)

**Maharashtra University of Health Science (MUHS)**

Maharashtra Health Science University, Mhasrul, Vani Dindori Road, Nashik-422004.

Email: registrar[at]muhs[dot]ac[dot]in  
Phone: +2532539100  
Website: https://muhs.ac.in/  
Category/Type: University

What is the above website about?

- (1) Social Science (2) Mathematical Science  
(3) Environmental Science (4) Health Science

24. Choose the correct option for the indirect speech.

The mouse shouted, "Let me go".

- (1) The mouse shouted that to let him go.  
(2) The mouse shouted to let him go.  
(3) I shouted to let mouse go.  
(4) The mouse shouted that let me go.

25. Find the meaningful word from the following jumbled letters.

EATRTHE

- (1) EARTHE (2) THROWING  
(3) THIEF (4) THEATRE

**SPACE FOR ROUGH WORK**


**SECTION - II**

**INTELLIGENCE TEST**

**Directions Q. 26 to 28.**

Identify the rhythmic arrangement of terms given below and find the correct term in place of the question mark.

26. 

(1) 

(2) 

(3) 

(4) 

27. m n n s e m ? s e n m s e n ? m ? n n s

(1) n e n

(2) n m e

(3) n n e

(4) e s n

28. 5 2 1 ? 4 1 7 4 5 ? 4 ? 2 1 7 2 1 7 4 5

(1) 7 2 5

(2) 2 7 5

(3) 5 7 2

(4) 7 5 2

29. Health is wealth means \_\_\_\_ [Choose two correct options from the following.]

(1) Good health is the real wealth.

(2) Good health is equally important as wealth.

(3) Health and wealth are dependent on each other.

(4) Good health is enjoyed only by rich people.

**SPACE FOR ROUGH WORK**



SECTION - II

ذہانت ٹیسٹ

سوال نمبر 26 تا 28 کے لیے ہدایت :

ذیل میں دیے ہوئے علامتی سلسلوں کا مشاہدہ کرو اور اس میں موجود ترتیب وار ارکان کو ذہن میں رکھ کر سوالیہ نشان کے مقام پر آنے والے گروہ کا صحیح متبادل انتخاب کرو۔

26. 

□	□	□	□	□	□	□	□	□	□
---	---	---	---	---	---	---	---	---	---

 26. 

□	□	□	□	□	□	□	□	□	□
---	---	---	---	---	---	---	---	---	---

□	□	□
---	---	---

 (2) 

□	□	□
---	---	---

 (1)

□	□	□
---	---	---

 (4) 

□	□	□
---	---	---

 (3)

27. m n n s e m ? s e n m s e n ? m ? n n s

n m e (2) n e n (1)

e s n (4) n n e (3)

28. 5 2 1 ? 4 1 7 4 5 ? 4 ? 2 1 7 2 1 7 4 5

2 7 5 (2) 7 2 5 (1)

7 5 2 (4) 5 7 2 (3)

29. ”بد نظمی کی یہاں تک نوبت پہنچی تھی کہ طلبہ درجوں سے نکل کر تمام دن لہو و لعب میں مشغول رہتے اور کوئی روکنے ٹوکنے والا نہ تھا۔“

اس جملے میں خط کشیدہ محاورے کا مطلب پہچانو۔ (دو صحیح متبادل کا انتخاب کرو۔)

(1) ہنسی مذاق

(2) تفریح

(3) ضروری کام میں مشغول ہونا۔

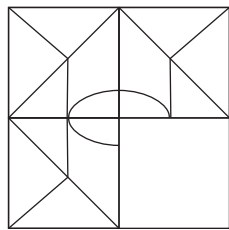
(4) اچھے کام میں مشغول ہونا۔

رف کام کے لیے خالی جگہ

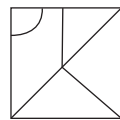
A	B	C	D	E	F	G	H	I	J	K	L	M	N	O	P	Q	R	S	T	U	V	W	X	Y
---	---	---	---	---	---	---	---	---	---	---	---	---	---	---	---	---	---	---	---	---	---	---	---	---

30. The ratio of the present ages of Aashish and Aditya is 4:7. Eight years hence, the ratio of their ages will be 2:3. Find Aditya's age five years ago.
- (1) 28 years (2) 19 years  
(3) 23 years (4) 11 years
31. Ishan told Aradhya "You are the daughter of my mother's sister-in-law." How is Aradhya related to Ishan's father?
- (1) daughter (2) cousin  
(3) niece (4) maternal aunt
32. In the following number series find the odd term.  
2, 3, 6, 10, 18, 27, 54, 81, 162
- (1) 54 (2) 10  
(3) 162 (4) 242
33. Ninad walked 5m. East. Then he walked 2.25m. North. Then he turned to his right, in right angle and walked 5m. Now what will be the minimum distance from the original position?
- (1) 10.25 m (2) 10.50 m  
(3) 9.25 m (4) 12.50 m
34. Choose the correct alternative to complete the question figure.

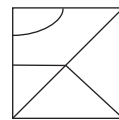
**Question Figure:**



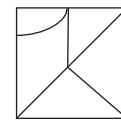
**Answer Figures:**



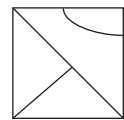
(1)



(2)



(3)



(4)

**SPACE FOR ROUGH WORK**

A	B	C	D	E	F	G	H	I	J	K	L	M	N	O	P	Q	R	S	T	U	V	W	X	Y
---	---	---	---	---	---	---	---	---	---	---	---	---	---	---	---	---	---	---	---	---	---	---	---	---

30. اسلم اور اکبر کی آج کی عمروں کا تناسب 7 : 4 ہے۔ 8 سال بعد ان کی عمروں کا تناسب 3 : 2 ہوگا تو اکبر کی پانچ برس قبل عمر کیا تھی؟

- (1) 28 سال  
(2) 19 سال  
(3) 23 سال  
(4) 11 سال

31. ارشد نے عرشہ سے کہا ”تم میری والدہ کی تندگی لڑکی ہو“ تو عرشہ کا ارشد کے والد سے کیا رشتہ ہے؟

- (1) پھوپھو  
(2) بھتیجی  
(3) بھانجی  
(4) لڑکی

32. ذیل کے عددی سلسلہ میں غلط رکن پہچانو۔

2, 3, 6, 10, 18, 27, 54, 81, 162

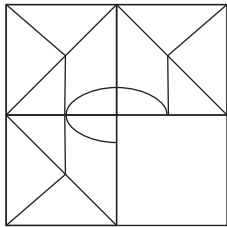
- (1) 54  
(2) 10  
(3) 162  
(4) 242

33. نعیم مشرق کی جانب 5 میٹر چلتا ہوا گیا۔ اس کے بعد دوبارہ شمال کی جانب 2.25 میٹر چلتا گیا۔ وہاں سے وہ دائیں جانب قائمہ زاویہ بناتے ہوئے مڑ کر 5 میٹر چلتا گیا تو اصل مقام سے اس نے کم از کم کتنا فاصلہ طے کیا؟

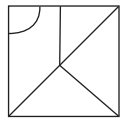
- (1) 10.25 میٹر  
(2) 10.50 میٹر  
(3) 9.25 میٹر  
(4) 12.50 میٹر

34. ذیل کی سوالیہ شکل کو مکمل کرنے کے لیے مناسب متبادل کا انتخاب کرو۔

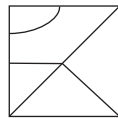
سوالیہ شکل :



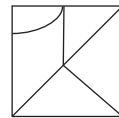
جوابی شکلیں :



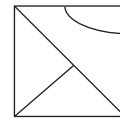
(1)



(2)



(3)



(4)

رف کام کے لیے خالی جگہ

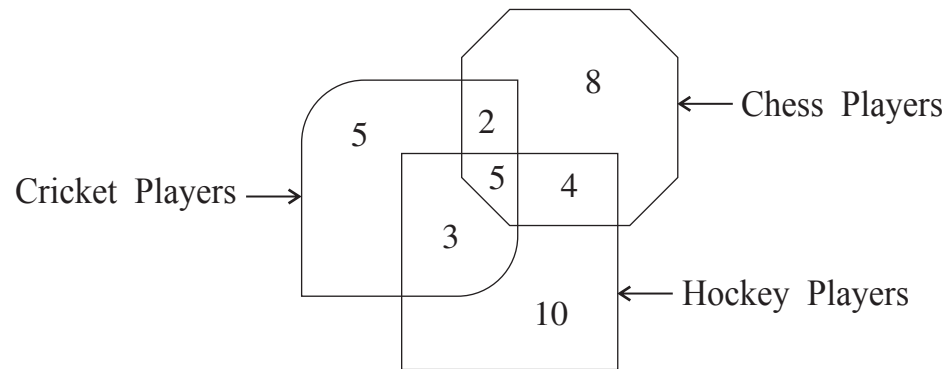
A	B	C	D	E	F	G	H	I	J	K	L	M	N	O	P	Q	R	S	T	U	V	W	X	Y
---	---	---	---	---	---	---	---	---	---	---	---	---	---	---	---	---	---	---	---	---	---	---	---	---

35. In a Zoo, no animal is having any physical disability. Total number of legs of deers and ducks together is 52 and the total number of heads taken together is 19. Find the number of ducks in the Zoo.

- (1) 7 (2) 14  
(3) 10 (4) 12

**Directions Q. 36 and 37.**

The number of players playing different games in a school are given in the following Venn diagram. Observe the figure and choose the correct alternative to answer the questions that follow.



36. How many players play indoor games?

- (1) 8 (2) 19  
(3) 18 (4) 13

37. By What percentage the number of players playing only chess is more than the number of players playing all the three games.

- (1) 60% (2) 40%  
(3) 75% (4) 160%

**SPACE FOR ROUGH WORK**

35. ایک چڑیا گھر میں تمام جانور صحیح و سلامت ہیں یعنی کوئی معذور نہیں ہے۔ ہرن اور بطخوں کے پیروں کی تعداد 52 اور سروں کی تعداد 19 ہے۔ تو اس چڑیا گھر میں بطخوں کی تعداد کتنی ہے؟

14 (2)

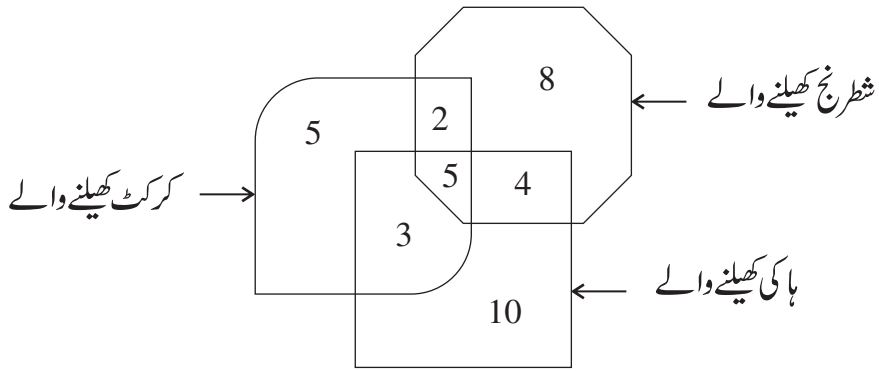
7 (1)

12 (4)

10 (3)

سوال نمبر 36 اور 37 کے لیے ہدایت :

ذیل کے وین خاکے میں ایک اسکول کے کھلاڑیوں کی تعداد دی گئی ہے۔ اس کا مشاہدہ کرو اور دیئے گئے سوالات کے جواب متبادل میں سے انتخاب کرو۔



36. ایک مقام پر بیٹھ کر کھیلنے والے کتنے کھلاڑی ہیں؟

19 (2)

8 (1)

13 (4)

18 (3)

37. صرف شطرنج کھیلنے والوں کی تعداد، یہ تینوں کھیل کھیلنے والے کھلاڑیوں کے کتنے فیصد زیادہ ہے؟

40 % (2)

60 % (1)

160 % (4)

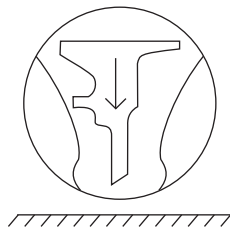
75 % (3)

رف کام کے لیے خالی جگہ

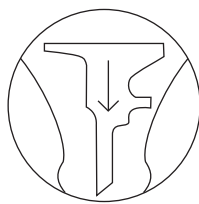
**Directions Q. 38 and 39.**

Identify the water reflection of the question figure from the given alternatives.


**38. Question Figure:**




**Answer Figures:**



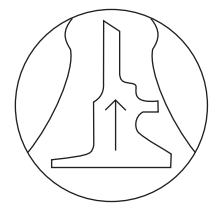
(1)



(2)

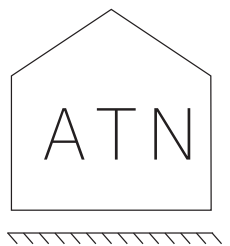


(3)



(4)

**39. Question Figure:**



**Answer Figures:**



(1)



(2)



(3)



(4)

**Directions Q. 40 to 44.**

In each of the following questions relation between the third and the fourth term is the same as that between the first and the second term. Find the term to replace the question mark.

**40.** 23 : 49 :: 41 : ? (Select two correct alternatives)

(1) 161

(2) 125

(3) 85

(4) 92

**41.** Gold : Au :: Silver : ?

(1) Ag

(2) Al

(3) Fe

(4) Cu

**SPACE FOR ROUGH WORK**

سوال نمبر 38 اور 39 کے لیے ہدایت :

ذیل کی سوالیہ شکل کا پانی میں عکس کس طرح نظر آئے گا، متبادل میں سے انتخاب کرو۔

سوالیہ شکل :




جوابی شکلیں :


38.




(1)



(2)



(3)




(4)

سوالیہ شکل :



جوابی شکلیں :

39.



(1)



(2)



(3)



(4)

سوال نمبر 40 تا 44 کے لیے ہدایت :

پہلے رکن کا جس طرح دوسرے رکن سے تعلق ہے اسی طرح کا تعلق تیسرے رکن سے چوتھے رکن کا ہے۔ اس بات کو دھیان میں رکھ کر سوالیہ نشان کے مقام پر آنے والے صحیح متبادل کا انتخاب کرو۔

40.  $23 : 49 :: 41 : ?$  (دو صحیح متبادل کا انتخاب کرو۔)

125 (2)

161 (1)

92 (4)

85 (3)

41. سونا : Au :: چاندی : ?

Al (2)

Ag (1)

Cu (4)

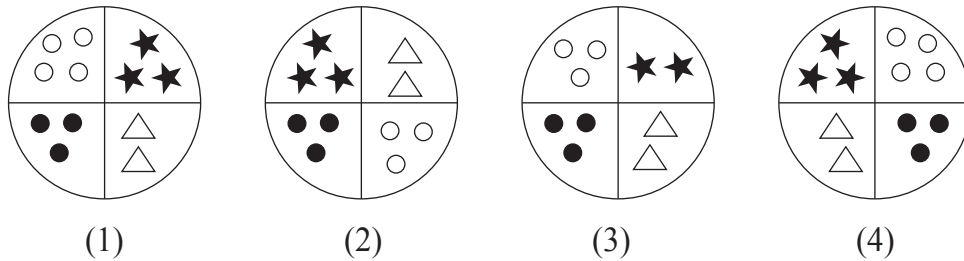
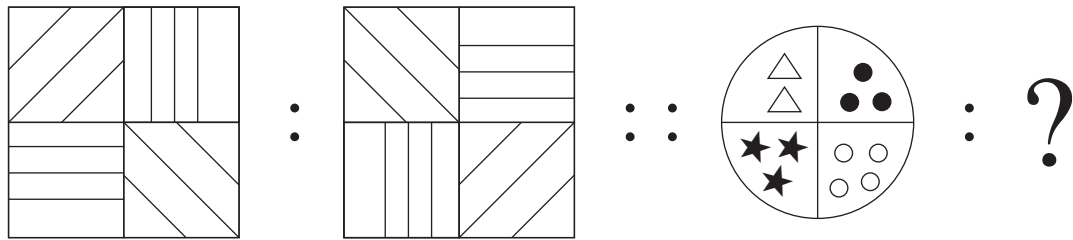
Fe (3)

رف کام کے لیے خالی جگہ

42. Mango : Fruit :: Ginger : ?

- (1) Leaf (2) Root  
 (3) Stem (4) Vegetable

43.



44. DH : N :: BF : ? (Choose two correct alternatives)

- (1) I (2) R  
 (3) W (4) J

**Directions Q. 45 and 46.**

In a certain code language the word HAD is written as 532, SHE is written as 145 and DIE is written as 391.

45. How will you write the word HIS in the same code language?

- (1) 354 (2) 294  
 (3) 594 (4) 539

46. Which of the following word will be formed by the code 4293?

- (1) DEAD (2) HEAD  
 (3) PAID (4) SAID

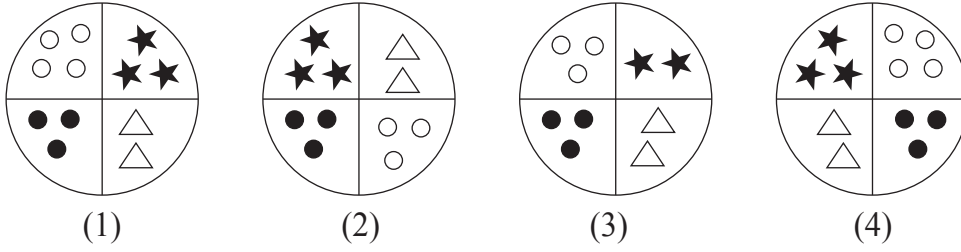
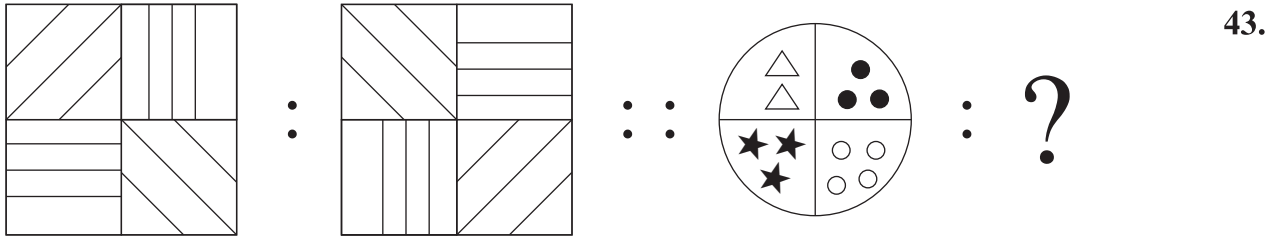
SPACE FOR ROUGH WORK



42. ? : دشمن :: عورت : خاتون

(2) پیارا  
(4) دوست

(1) مرد  
(3) عدو



44. DH : N :: BF : ? (دو صحیح متبادل کا انتخاب کرو۔)

R (2)  
J (4)

I (1)  
W (3)

سوال نمبر 45 اور 46 کے لیے ہدایت :

ایک اشاراتی زبان میں 'شکیل' یہ لفظ 6548، 'شاکر' یہ لفظ 3524 اور 'علیم' یہ لفظ کو 7689 لکھا جاتا ہے تو۔۔۔  
(لفظ کی تشکیل میں ہندسوں کا استعمال بائیں سے دائیں ہے۔)

45. 'جاہل' اس لفظ کی ضد کو ذیل کے کون سے اشاراتی ہندسوں سے ظاہر کریں گے؟

2697 (2)  
4216 (4)

9627 (1)  
7269 (3)

46. ان اشاراتی ہندسوں سے تیار ہونے والا لفظ کون سا ہے؟

(2) شامل  
(4) کامل

(1) عامل  
(3) مالک

رف کام کے لیے خالی جگہ

A	B	C	D	E	F	G	H	I	J	K	L	M	N	O	P	Q	R	S	T	U	V	W	X	Y
---	---	---	---	---	---	---	---	---	---	---	---	---	---	---	---	---	---	---	---	---	---	---	---	---

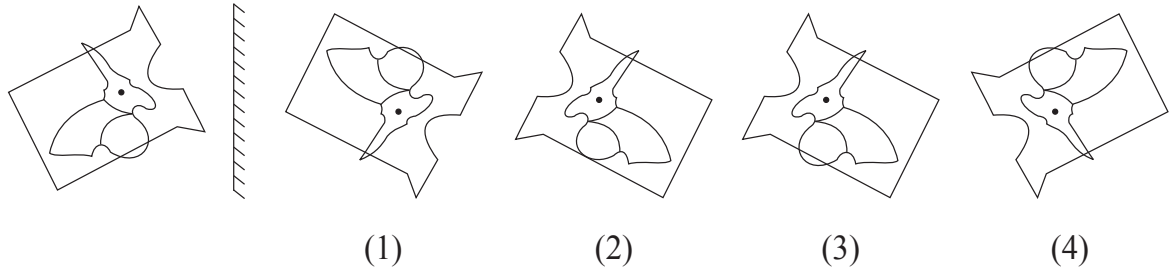
47. In a certain code language COT is written as ELV, SUN is written as URP. How will you write the word PIG in the same code language?

- (1) RFI (2) RHI  
 (3) RGI (4) QJH

48. Identify the correct mirror image of the question figure from the alternatives given.

**Question Figure:**

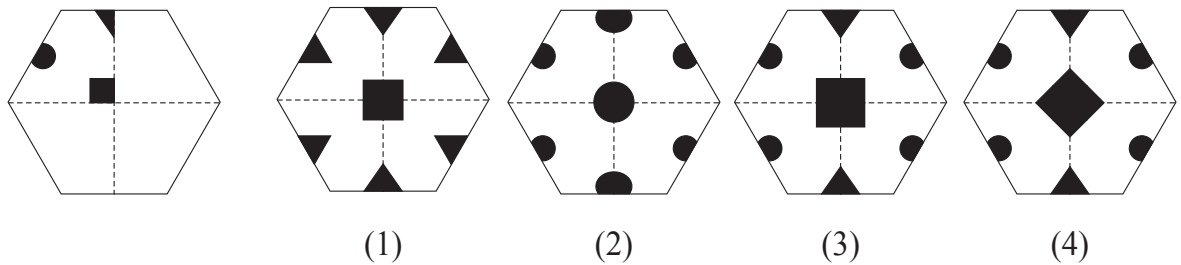
**Answer Figures:**



49. The paper as shown in the question figure is folded and shaded region is cut as shown in the question figure. How will the figure look like when the paper is unfolded. Choose the correct option.

**Question Figure:**

**Answer Figures:**



50. In a certain year, Environment Day falls on Friday. Then on which day Children's Day will fall in the same year?

- (1) Monday (2) Sunday  
 (3) Thursday (4) Saturday

SPACE FOR ROUGH WORK

47. ایک اشاراتی زبان میں COT کو ELV لکھتے ہیں، SUN کو URP لکھتے ہیں تو PIG یہ لفظ کس طرح لکھا جائے گا؟

RHI (2)

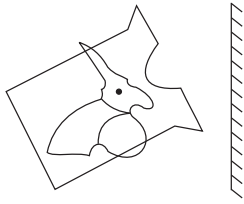
RFI (1)

QJH (4)

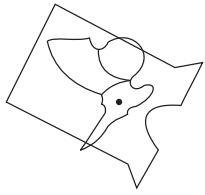
RGI (3)

48. ذیل کی سوالیہ شکل کا آئینہ میں عکس متبادل سے پہچانیے۔


سوالیہ شکل :



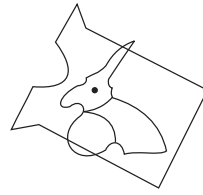
جوابی شکلیں :



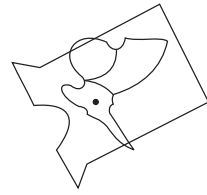
(1)



(2)



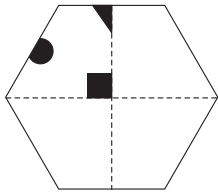
(3)



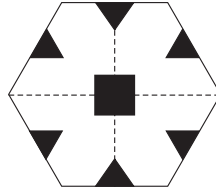
(4)

49. مندرجہ ذیل سوالیہ نشان میں کاغذ کو تہہ کر کے اسے سایہ زدہ حصے سے کاٹ لیا گیا ہے۔ تہہ کھولنے پر کاغذ کی شکل کس طرح نظر آئے گی، متبادل سے تلاش کیجیے۔

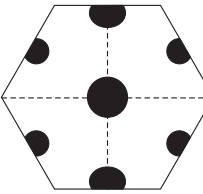
سوالیہ شکل :



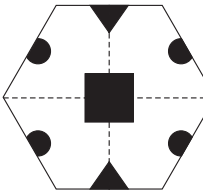
جوابی شکلیں :



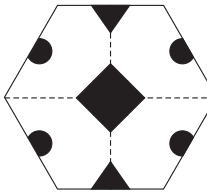
(1)



(2)



(3)



(4)

50. عالمی یوم ماحولیات جمعہ کے دن ہو تو اسی سال یوم اطفال کس دن ہوگا؟

اتوار (2)

پیر (1)

سنپنچر (4)

جمعرات (3)

رف کام کے لیے خالی جگہ

A	B	C	D	E	F	G	H	I	J	K	L	M	N	O	P	Q	R	S	T	U	V	W	X	Y
---	---	---	---	---	---	---	---	---	---	---	---	---	---	---	---	---	---	---	---	---	---	---	---	---

51. In the following number series, how many times two prime numbers follow each other consequently?

3 5 7 4 2 6 3 7 9 4 2 5 3 2 4 9 7 5 6 2 9

- (1) 8 (2) 6  
(3) 7 (4) 5

52. In the given alphabet series to get the word opposite in meaning of the word 'beautiful', which will be the correct order of numbers?

- (1) 21, 10, 25, 12 (2) 21, 7, 11, 25  
(3) 21, 7, 12, 25 (4) 12, 21, 8, 25

**Directions Q. 53 to 57.**

Find the odd term.

53. (1) talented (2) dull  
(3) intelligent (4) bright

54. (1) Potato (2) Ginger  
(3) Elephant foot (4) Sweet Potato

55. (1) 289 (2) 143  
(3) 221 (4) 187

56. (1) SUW (2) BCE  
(3) MQS (4) EGK

**SPACE FOR ROUGH WORK**

A	B	C	D	E	F	G	H	I	J	K	L	M	N	O	P	Q	R	S	T	U	V	W	X	Y
---	---	---	---	---	---	---	---	---	---	---	---	---	---	---	---	---	---	---	---	---	---	---	---	---

51. ذیل کے عددی سلسلے میں دو دو متصل مفرد اعداد ہیں۔ یہ کتنی مرتبہ آیا ہے؟

عدد سلسلہ : 3 5 7 4 2 6 3 7 9 4 2 5 3 2 4 9 7 5 6 2 9

6 (2) 8 (1)

5 (4) 7 (3)

52. کام ، کامیاب ، کب ، کس ، کیوں ، کتاب ، کتنا ان الفاظ کو حروف تہجی کے لحاظ سے ترتیب میں لکھیں تو

درمیان میں کون سا لفظ آئے گا؟

(1) کتنا (2) کب

(3) کتاب (4) کامیاب

سوال نمبر 53 تا 57 کے لیے ہدایت :

گروہ میں شامل نہ ہونے والے رکن کو پہچانو۔

53. (1) درخت (2) اکھوا

(3) شجر (4) پیڑ

54. (1) آلو (2) مولی

(3) گاجر (4) بھنڈی

55. (1) 289 (2) 143

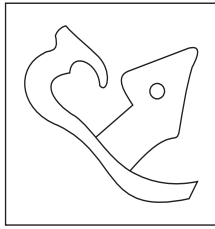
(3) 221 (4) 187

56. (1) SUW (2) BCE

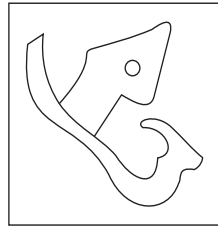
(3) MQS (4) EGK

رف کام کے لیے خالی جگہ

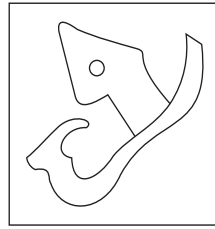
57.



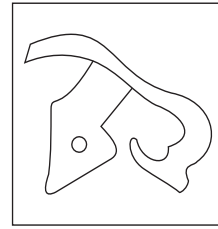
(1)



(2)

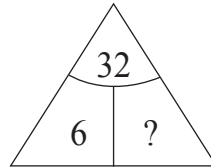
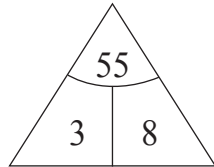
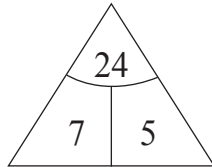


(3)



(4)

58. Find out the rule underlying the arrangement of numbers in the following question and choose the correct alternative that will replace the question mark.



(1) 4

(2) 1

(3) 3

(4) 2

59. Observe the numbers given in the following square and choose the correct alternative to replace the question mark. [Choose two correct alternatives]

35	28	13
17	?	52
62	43	22

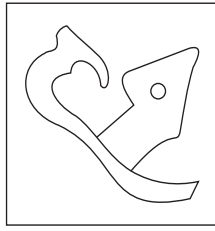
(1) 73

(2) 85

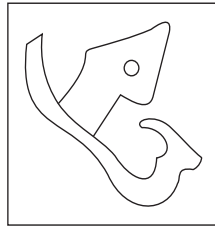
(3) 8

(4) 10

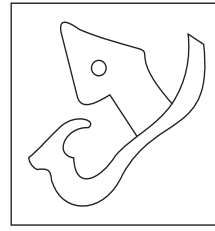
**SPACE FOR ROUGH WORK**



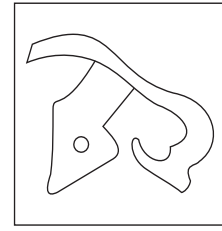
(1)



(2)



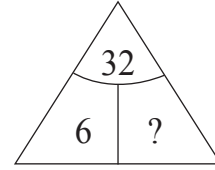
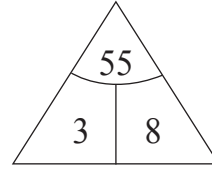
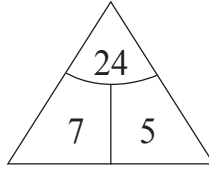
(3)



(4)

57.

58. ذیل کے سوال میں سوالیہ نشان کے مقام پر آنے والا عدد کون سا ہے؟



1 (2)

4 (1)

2 (4)

3 (3)

59. ذیل کے سوال میں سوالیہ نشان کے مقام پر کون سے اعداد ہوں گے؟ (دو صحیح متبادل کا انتخاب کرو۔)

35	28	13
17	?	52
62	43	22

85 (2)

73 (1)

10 (4)

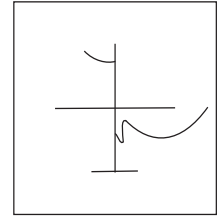
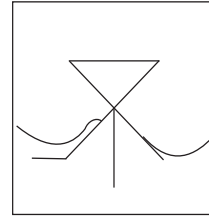
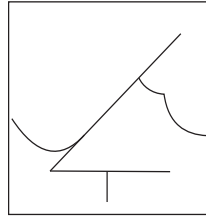
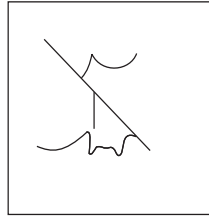
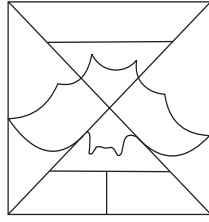
8 (3)

رف کام کے لیے خالی جگہ

60. Find the hidden part of the question figure from the alternatives given.

**Question Figure:**

**Answer Figures:**



(1)

(2)

(3)

(4)

**Directions : Q. 61 to 65.**

In the following series determine the rule underlying the series and find out the term in place of the question mark.

61. 6, 6, 9, 18, 45, ?

(1) 90

(2) 145

(3) 125

(4) 135

62. 3, 8, 15, 26, 43, 68, 103, ?

(1) 150

(2) 120

(3) 206

(4) 152

63.  $\circ \times \triangle \square +$ ,  $\times \circ \triangle \square +$ ,  $\times \triangle \circ \square +$ , ?

(1)  $\times \triangle \circ + \square$

(2)  $\times \triangle \square \circ +$

(3)  $\square + \times \triangle \circ$

(4)  $\triangle \times \circ \square +$

64. YX, WU, TQ, PL, ?

(1) KE

(2) LE

(3) JE

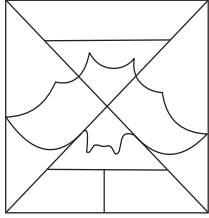
(4) KF

**SPACE FOR ROUGH WORK**

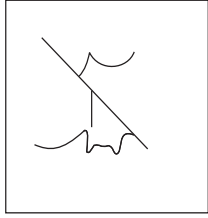


60. سوالیہ شکل میں پوشیدہ شکل کو متبادل سے منتخب کرو۔

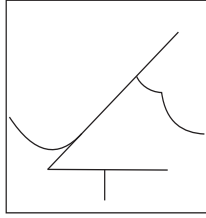
سوالیہ شکل :



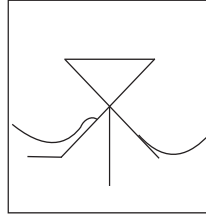
جوابی شکلیں :



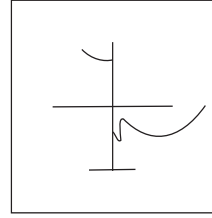
(1)



(2)



(3)



(4)

سوال نمبر 61 تا 65 کے لیے ہدایت :

ذیل کے سلسلے میں سوالیہ نشان کے مقام پر آنے والے رکن کے لیے صحیح متبادل کا انتخاب کرو۔

61. 6, 6, 9, 18, 45, ?

145 (2)

90 (1)

135 (4)

125 (3)

62. 3, 8, 15, 26, 43, 68, 103, ?

120 (2)

150 (1)

152 (4)

206 (3)

63.  $\circ \times \Delta \square +$ ,  $\times \circ \Delta \square +$ ,  $\times \Delta \circ \square +$ , ?

$\times \Delta \square \circ +$  (2)

$\times \Delta \circ + \square$  (1)

$\Delta \times \circ \square +$  (4)

$\square + \times \Delta \circ$  (3)

64. YX, WU, TQ, PL, ?

LE (2)

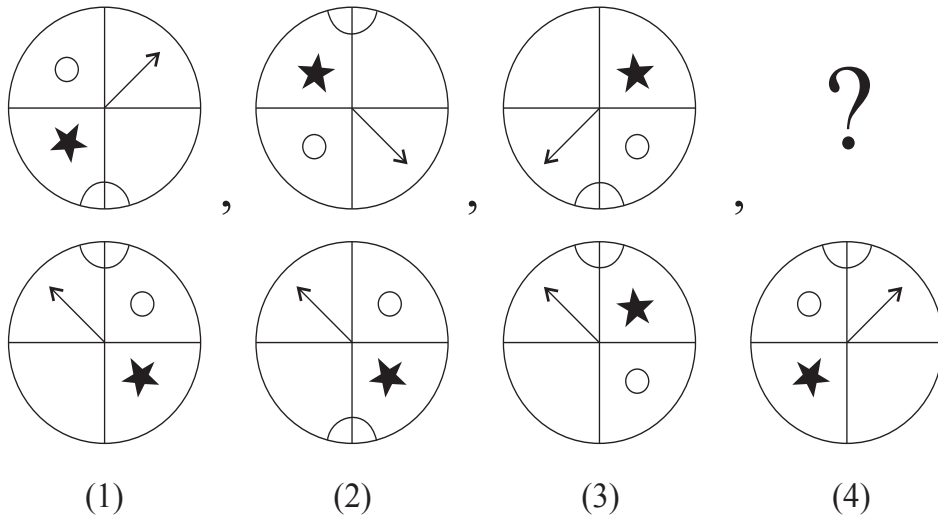
KE (1)

KF (4)

JE (3)

رف کام کے لیے خالی جگہ

65.



66. In a queue Vihan is at 23<sup>rd</sup> position from left and Sonal is at 15<sup>th</sup> position from right. There are four boys between them. Find total number of children in the queue. [Choose two correct alternatives.]

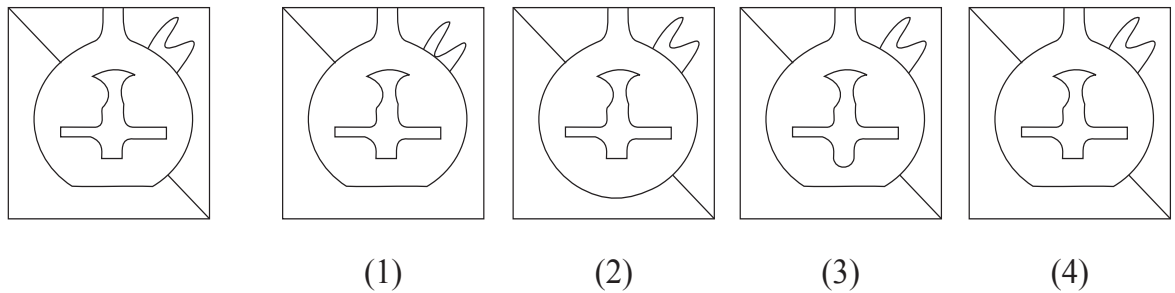
- |        |        |
|--------|--------|
| (1) 41 | (2) 31 |
| (3) 32 | (4) 42 |

**Directions: Q. 67 and 68.**

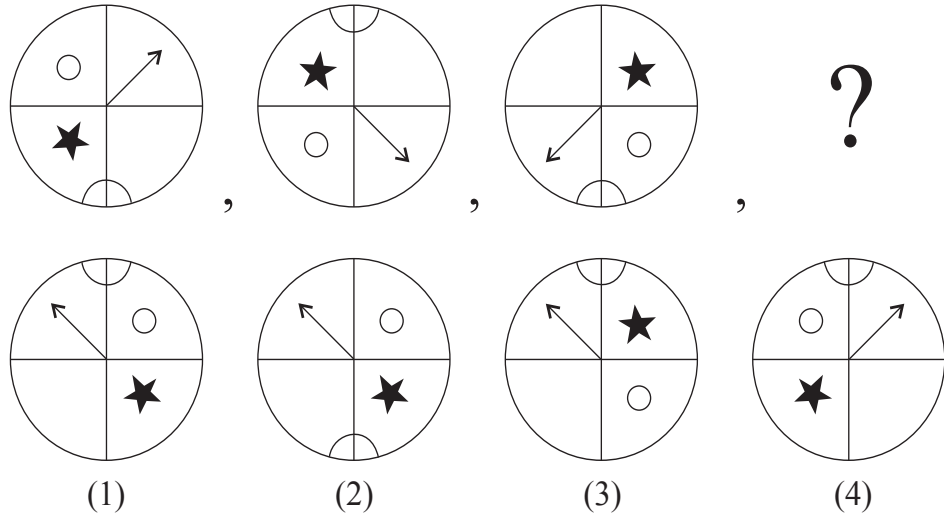
Choose the correct figure from the alternatives given that exactly matches with the question figure.

67. **Question Figure:**

**Answer Figures:**



SPACE FOR ROUGH WORK



65.

66. ایک قطار میں زید کے بائیں جانب 23 واں اور عائشہ کے دائیں جانب 15 واں نمبر ہے۔ دونوں کے درمیان چار لڑکے ہوں تو اس قطار میں کُل کتنے لڑکے ہیں؟ (دو صحیح متبادل کا انتخاب کرو۔)

31 (2)

41 (1)

42 (4)

32 (3)

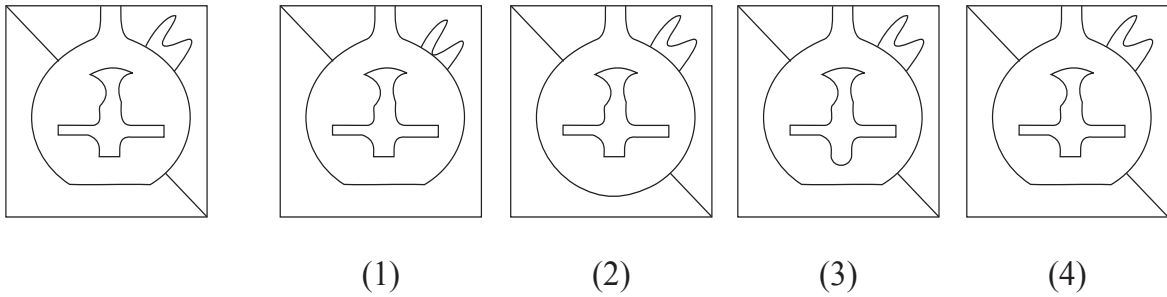
سوال نمبر 67 اور 68 کے لیے ہدایت :

ذیل کے سوالیہ نشان سے ہو بہو نظر آنے والی شکل کا انتخاب کرو۔

سوالیہ شکل :

جوابی شکلیں :

67.



(1)

(2)

(3)



(4)

رف کام کے لیے خالی جگہ

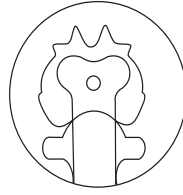
A	B	C	D	E	F	G	H	I	J	K	L	M	N	O	P	Q	R	S	T	U	V	W	X	Y
---	---	---	---	---	---	---	---	---	---	---	---	---	---	---	---	---	---	---	---	---	---	---	---	---

68. Question Figure:


Answer Figures:



(1)



(2)



(3)



(4)

69. At which position from right, will be the letter, which is at equal distance from the letters I and U; in the given alphabet series.

(1) 11<sup>th</sup> Position

(2) 12<sup>th</sup> Position

(3) 10<sup>th</sup> Position

(4) 8<sup>th</sup> Position

70. In the given alphabet series first and third groups are interchanged, similarly fifth and second groups are interchanged and a new Alphabet series is formed. Then which letter will be at the middle position between the letters Q and M in the new Alphabet series?

(1) O

(2) A

(3) X

(4) Y

Directions Q. 71 and 72.

A wooden cube is painted red on the opposite two surfaces, green on the other two opposite surfaces and blue on the remaining opposite surfaces. The wooden block is cut on all the faces thrice at equal distance. Then

71. How many cubes have only two colours red and blue?

(1) 8

(2) 12

(3) 10




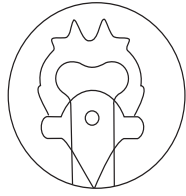

(4) 4

SPACE FOR ROUGH WORK

سوالیہ شکل :

جوابی شکلیں :

68.



(1)

(2)

(3)

(4)

69. انگریزی حروف تہجی میں I اور U ان حرفوں میں مساوی فاصلے پر موجود حرف، دائیں جانب سے کس نمبر شمار پر واقع ہے؟

(1) 11 ویں

(2) 12 ویں

(3) 10 ویں

(4) 8 ویں

70. انگریزی حرفی سلسلہ میں پہلے اور تیسرے گروہ کو ایک دوسرے سے بدل دیں۔ پانچویں اور دوسرے گروہ کو بھی ایک دوسرے سے

بدل دیں۔ اس طرح تیار ہونے والے حرفی سلسلہ میں Q اور M ان حرفوں کے درمیان آنے والا حرف کون سا ہے؟

(1) O

(2) A

(3) X

(4) Y

سوال نمبر 71 اور 72 کے لیے ہدایت :

لکڑی کے ایک مکعب نما ٹھوس کے مد مقابل سطحوں کو لال، ہرا، نیلا اس طرح تین رنگوں سے رنگا گیا۔ اس ٹھوس کو ہر جانب سے مساوی فاصلے پر تین حصوں میں کاٹا گیا تو۔۔۔۔۔

71. صرف لال اور نیلے رنگ والے کتنے مکعب تیار ہوں گے؟

(1) 8

(2) 12

(3) 10

(4) 4

رف کام کے لیے خالی جگہ


A	B	C	D	E	F	G	H	I	J	K	L	M	N	O	P	Q	R	S	T	U	V	W	X	Y
---	---	---	---	---	---	---	---	---	---	---	---	---	---	---	---	---	---	---	---	---	---	---	---	---

72. How many cubes have only one face painted?

- (1) 36 (2) 12  
(3) 24 (4) 30

**Directions Q. 73 to 75.**

Observe the following pyramid of numbers and choose the correct alternative that will replace the question mark in the questions that follow.



73. 25321237 : 33263137 :: 38182923 : ?

- (1) 24133916 (2) 24133539  
(3) 30362413 (4) 39351324

74. 28, 20, 38, 32, 37, 29, 16, 26, ?, ?

- (1) 13, 35 (2) 35, 21  
(3) 24, 30 (4) 21, 35

75. Choose two correct alternatives for the following question.

271912 : 311722 :: 281438 : ?

- (1) 322329 (2) 243621  
(3) 292332 (4) 373916

**SPACE FOR ROUGH WORK**

A	B	C	D	E	F	G	H	I	J	K	L	M	N	O	P	Q	R	S	T	U	V	W	X	Y
---	---	---	---	---	---	---	---	---	---	---	---	---	---	---	---	---	---	---	---	---	---	---	---	---

72. صرف ایک جانب رنگ زدہ کتنے مکعب تیار ہوں گے؟

12 (2)

36 (1)

30 (4)

24 (3)

سوال نمبر 73 تا 75 کے لیے ہدایت :

ذیل میں دیے گئے اہرام کا مشاہدہ کرو اور اعداد کے مقام کی ترتیب کو مدنظر رکھ کر سوالیہ نشان کے مقام پر آنے والے صحیح متبادل کا انتخاب کرو۔

				15					
				27		22			
			19		34		17		
		25		12		31		33	
	28		32		37		26		21
14		18		23		39		13	36
20	38		29		16		35	24	30

25321237 : 33263137 :: 38182923 : ? 73.

24133539 (2)

24133916 (1)

39351324 (4)

30362413 (3)

28, 20, 38, 32, 37, 29, 16, 26, ?, ? 74.

35, 21 (2)

13, 35 (1)

21, 35 (4)

24, 30 (3)

75. مذکورہ اہرام کی بنیاد پر سوالیہ نشان کے مقام پر آنے والا گروہ پہچانو۔ (دو صحیح متبادل کا انتخاب کرو۔)

271912 : 311722 :: 281438 : ?

243621 (2)

322329 (1)

373916 (4)

292332 (3)

رف کام کے لیے خالی جگہ

رف کام کے لیے خالی جگہ