

पूर्व उच्च प्राथमिक शिष्यवृत्ति परीक्षा (कक्षा 5 वीं), फरवरी 2023

बैठक क्र.

--	--	--	--	--	--	--	--	--	--

संच



0 3 0 2

पेपर क्र. - II

वेळ : 02:00 ते 03:30

माध्यम : हिन्दी



एकूण गुण : 150

तृतीय भाषा व बुद्धिमत्ता चाचणी

पृष्ठ : 32

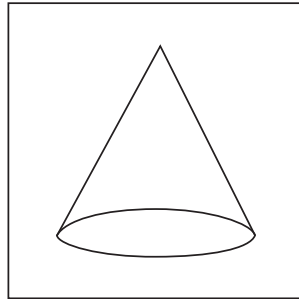
प्रश्नपत्र हल करने से पहले कृपया नीचे दिये गए निर्देशों को ध्यानपूर्वक पढ़ें :

- (1) इस प्रश्नपत्र के दो भाग हैं। जिसमें से भाग - I में तृतीय भाषा विषय से संबंधित 1 से 25 और भाग II में बुद्धिमत्ता चाचणी विषय से संबंधित 26 से 75 प्रश्न पूछे गए हैं। सभी 75 प्रश्न हल करना अनिवार्य है।
- (2) प्रत्येक प्रश्न 2 अंक के लिए है।
- (3) प्रश्नपत्र हल करने के लिए कुल 90 मिनट का समय दिया जाएगा।
- (4) उत्तर देने के लिए स्वतंत्र उत्तरपत्रिका दी जाएगी। प्रत्येक प्रश्न क्रमांक के सामने चार विकल्प के लिए क्रमानुसार दीर्घवृत्त दिए गए हैं। जिनमें से सही उत्तर - विकल्प के दीर्घवृत्त को नीचे दिए गए उदाहरणानुसार भरें।
उदा. प्रश्न क्र. 6 का सही उत्तर विकल्प क्र. 2 है, तो आगे दिए अनुसार उत्तर भरें।
प्रश्न क्र. 6 ① ② ③ ④
- (5) नीचे दिये गए उदाहरण के अनुसार अंकित किए गए उत्तर स्वीकार्य नहीं किए जायेंगे। इस प्रकार अंकित किए गए प्रश्न के उत्तर को 'शून्य' अंक दिए जायेंगे। ② ③ ④
- (6) प्रत्येक प्रश्न के लिए एक से अधिक दीर्घवृत्त में उत्तर अंकित किये गए, चिन्हांकित किये गए उत्तर का मूल्यांकन नहीं किया जाएगा।
- (7) एक बार अंकित किए गए उत्तर दोबारा बदले नहीं जा सकते।
- (8) विकल्प के उत्तर अंकित करने के लिए केवल काले और नीले रंग के बॉलपेन का ही इस्तेमाल करें। पेन्सिल से अंकित उत्तर स्वीकार्य नहीं किए जायेंगे।
- (9) प्रश्नपत्र के प्रत्येक पृष्ठ के नीचे और अंतिम पृष्ठ पर कच्चे काम (Rough work) के लिए खाली जगह है, वहीं कच्चा काम (Rough work) करें।
- (10) परीक्षा की अवधि मर्यादित होने के कारण यदि किसी प्रश्न का उत्तर आपको नहीं पता हो तो आगे के प्रश्न हल करें। अंत में समय बचने पर रह गए प्रश्नों के लिए पुनः प्रयास करें।
- (11) किसी प्रश्न में त्रुटि/गलती परिलक्षित होने पर पर्यवेक्षक या परीक्षा केंद्र संचालक से विचार विमर्श ना करें।
- (12) प्रश्न में त्रुटि/गलती/इसके संबंध में निवेदन विद्यालय अथवा अभिभावकों द्वारा समूह शिक्षणाधिकारी या शिक्षणअधिकारी के पास लिखित रूप में न भेजकर संबंधित विद्यालय के लॉगिन से ऑनलाइन पद्धति से ही भेजें।
- (13) त्रुटि/गलती/इसके संबंध में निवेदन ऑनलाइन पद्धति से भेजने की अवधि परीक्षा परिषद के निर्देश स्थान से अंतरिम (अस्थायी) उत्तर सूची के प्रेषित होने से लेकर 10 (दस) दिन तक रहेगी।
- (14) टंकण दोष या अन्य कारण से प्रश्न गलत परिलक्षित होने पर विशेषज्ञ समिति के निर्णयानुसार योग्य कार्यवाही की जायेगी।
- (15) मूल माध्यम के साथ अंग्रेजी भाषा में भी प्रश्नपत्र दिया गया है। मूल माध्यम के संदिग्ध प्रश्नों के लिए अंग्रेजी प्रश्न देखें।

SECTION - I

ENGLISH


- 01.** Select the correct option for the following sentence.
February follows _____ in the calendar year.
(1) March (2) December
(3) April (4) January
- 02.** How many mistakes of capitalization are there in the following sentence.
Raju : what ! a girl like smita, working in a shop.
(1) 3 (2) 2
(3) 1 (4) 4
- 03.** Choose the correct alternative.
My number is 20 in the row. So I am _____ in the row.
(1) twenty (2) twentieth
(3) twentieth (4) twenty-first
- 04.** Select the correct alternative to complete the following sentence.
He blinks his _____.
(1) toes (2) ears
(3) nose (4) eyes
- 05.** Identify the shape given in the picture. Choose the correct option.



- (1) Cone (2) Cube
(3) Sphere (4) Triangle

SPACE FOR ROUGH WORK

06. Observe the picture and select the correct alternative.



There is a cow _____ the tree.

- (1) above (2) over
(3) under (4) into

07. Choose the incorrect pair from the given alternative.

- (1) Will not - Won't (2) Shall not - Shalln't
(3) Let us - Let's (4) Have not - Haven't

08. Find the correct alternative for the following sentence.

They _____ garments in the _____.

- (1) sell, sail (2) sale, sail
(3) sell, sale (4) cell, sale

09. Select the correct option for the following sentence.

The sun is always in the _____ direction at 6 p.m.

- (1) East (2) West
(3) North (4) South

SPACE FOR ROUGH WORK

Instructions for Question 10 to 12.

Read the passage carefully and answer the following question.

Mother Duck was really proud of her six new ducklings. They were soft, fluffy and yellow. Such fine little ducklings! But the seventh one was very different. It was bigger and its feathers were gray and shaggy.

10. How many ducklings are mentioned in the passage?

- (1) 6 (2) 8
(3) 5 (4) 7

11. Find the ordinal number mentioned in the passage?

- (1) Six (2) Seventh
(3) One (4) Shaggy

12. Find the opposite of the word 'same' from the passage.

- (1) Fine (2) Shaggy
(3) Different (4) Fluffy

13. Choose the correct alternative to complete the following word chain of alphabetical order.

Pan → Pen → — → Pull

- (1) Part (2) Potter
(3) Punish (4) Push

SPACE FOR ROUGH WORK

14. Choose the correct alternative for the sentence given below.

Please give me _____ one rupee note.

- (1) an (2) the
(3) no article (4) a

15. Observe the picture and choose the correct option for it.



_____ the plants regularly.

- (1) Plough (2) Prune
(3) Weed (4) Water

16. Find the different sound of the letter 'C' from the following alternatives.

- (1) Cart (2) Count
(3) Centre (4) Card

17. Choose the correct alternative.

Yusuf is reading a newspaper. His brother wants to call him for the dinner. He requests _____

- (1) Please keep reading. (2) Excuse me, brother.
(3) Good afternoon brother. (4) You are welcome!

SPACE FOR ROUGH WORK

18. Find the correct word to complete the message given below.

_____ PLANTS NOT GARBAGE

S	G	Z	T
E	R	O	C
W	O	Y	U
E	W	X	T

- (1) SEW (2) CUT
(3) GROW (4) ROOTS

19. Find the sentence with the incorrect punctuation mark.

- (1) How are you! (2) How nice!
(3) What a surprise! (4) Are you crazy?

20. Select the proper option to complete the word register.

growl, cluck, buzz, squeal, _____.

- (1) blow (2) share
(3) croak (4) flow

21. Select the correct alternative.

He _____ a letter yesterday.

- (1) writes (2) wrote
(3) write (4) writing

SPACE FOR ROUGH WORK

22. Ruby meets her friend at the lunch time. How will she greet him? Choose the correct option.

- (1) Good evening. (2) Good night.
(3) Good morning. (4) Good afternoon.

23. Find the punctuation mark missing in the following sentence.

He said, "Its just a matter of practice!"

- (1) Comma (2) Exclamation mark
(3) Apostrophe (4) Full stop

24. Observe the picture and choose the correct alternative.



What is the girl doing?

- (1) Sweeping (2) Cooking
(3) Climbing (4) Singing

25. Read the riddle given below and choose the correct option.

You open your mouth to do it.

It shows you are sleepy. What is it?

- (1) Cough (2) Yawn
(3) Sneeze (4) Dream

SPACE FOR ROUGH WORK

SECTION - II

INTELLIGENCE TEST

Q.26. to Q.30. Directions :

In the given questions first term has a specific relation with the second term. The same relation exists between third and fourth term. Identify the relation and select the correct option to replace the question mark.

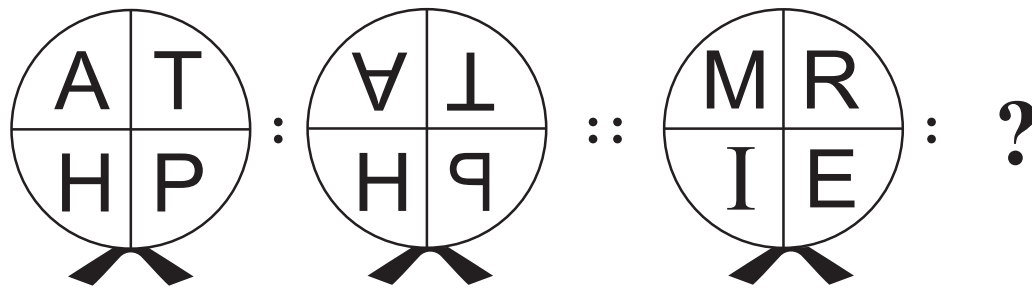
26. Karamveer : Bhaurao Patil :: ? : Birasa Munda

- | | |
|---------------|---------------|
| (1) Lokmanya | (2) Maharshi |
| (3) Senanayak | (4) Jananayak |

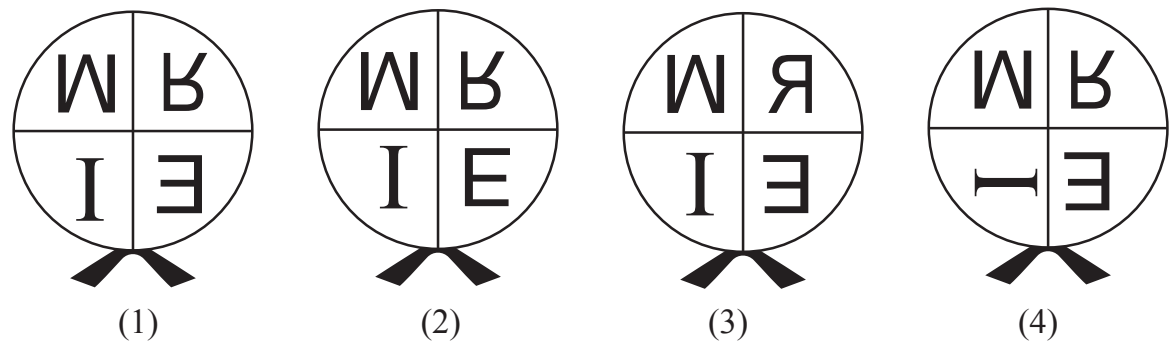
27. Cow : Moo :: Monkey : ?

- | | |
|-------------|------------|
| (1) Hoot | (2) Hiss |
| (3) Chatter | (4) Scream |

28. Question Figures :



Answer Figures :



SPACE FOR ROUGH WORK

विभाग - II

बुद्धिमत्ता चाचणी

प्रश्न क्र. 26 से 30 के लिए सूचना-

निम्नलिखित प्रश्नों में पहले व दूसरे पद में जैसा संबंध है, ठीक वैसा ही संबंध तीसरे व चौथे पद में है। वह संबंध ढूँढकर प्रश्नचिह्न के स्थान पर आनेवाले उत्तर को पर्यायों में से पहचानिए।

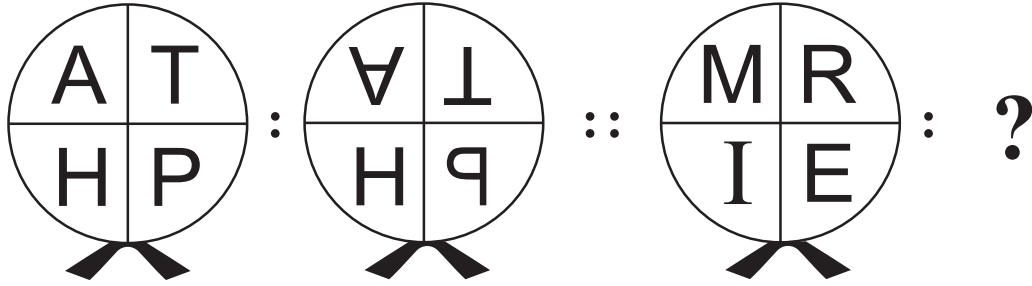
26. कर्मवीर : भाऊराव पाटील :: ? : बिरसा मुंडा

- | | |
|--------------|------------|
| (1) लोकमान्य | (2) महर्षी |
| (3) सेनानायक | (4) जननायक |

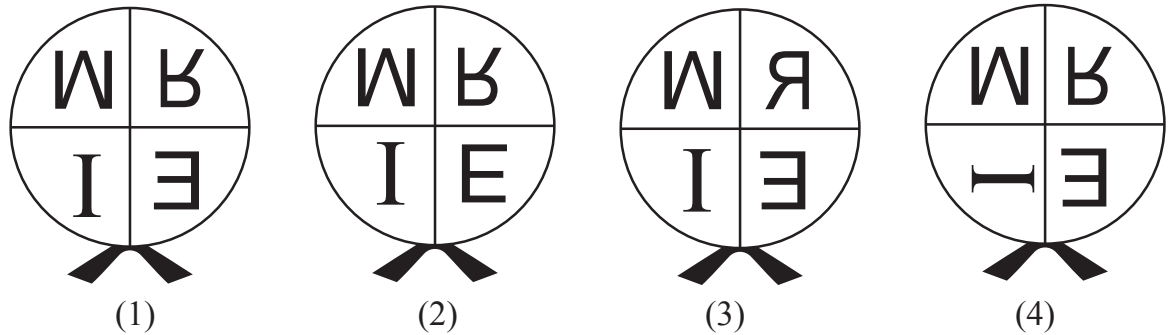
27. गाय : रँभाना :: बंदर : ?

- | | |
|--------------|--------------|
| (1) हिनहिना | (2) भौंकना |
| (3) किकियाना | (4) चिंधाडना |

28. प्रश्नाकृति



उत्तर आकृतियाँ



रफ कार्य हेतु स्थान

A	B	C	D	E	F	G	H	I	J	K	L	M	N	O	P	Q	R	S	T	U	V	W	X	Y
---	---	---	---	---	---	---	---	---	---	---	---	---	---	---	---	---	---	---	---	---	---	---	---	---

29. $42 : 10 :: 93 : ?$

- (1) 71 (2) 24
 (3) 28 (4) 33


30. $8 : 64 :: 5 : ?$

- (1) 61 (2) 26
 (3) 48 (4) 125


Q.31. and Q.32. Direction:

Select the figure which exactly matches with the question figure from the four alternative figures given below.


31. **Question Figure:**



Answer Figures:



(1)



(2)




(3)




(4)


32. **Question Figure:**




Answer Figures:




(1)



(2)



(3)



(4)

33. If Red, Yellow, Blue, Green and Pink coloured buntings are stuck in the same order repeatedly, then at which position will be the Yellow bunting get stuck?

- (1) 63 (2) 87
 (3) 39 (4) 78

SPACE FOR ROUGH WORK

A	B	C	D	E	F	G	H	I	J	K	L	M	N	O	P	Q	R	S	T	U	V	W	X	Y
---	---	---	---	---	---	---	---	---	---	---	---	---	---	---	---	---	---	---	---	---	---	---	---	---

29. 42 : 10 :: 93 : ?

- (1) 71 (2) 24
(3) 28 (4) 33

30. 8 : 64 :: 5 : ?



- (1) 61 (2) 26
(3) 48 (4) 125

प्रश्न क्र. 31 तथा 32 के लिए सुचना-


निम्नलिखित प्रश्नआकृतियों से हूबहू मिलनेवाली आकृति पर्यायी उत्तर आकृतियों में से चुनिए।

31. प्रश्नाकृति

उत्तर आकृतियाँ




(1)



(2)



(3)




(4)

32. प्रश्नाकृति


उत्तर आकृतियाँ



(1)



(2)



(3)



(4)

33. लाल, पिला, निला, हरा, गुलाबी इस रंग का तोरन इस क्रम में लगाया है, तो पिले रंग का तोरन सामने से कौन-से क्रम पर आयेगा?

- (1) 63 (2) 87
(3) 39 (4) 78

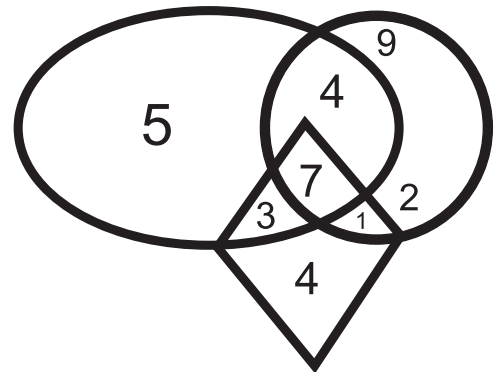
रफ कार्य हेतु स्थान

A	B	C	D	E	F	G	H	I	J	K	L	M	N	O	P	Q	R	S	T	U	V	W	X	Y
---	---	---	---	---	---	---	---	---	---	---	---	---	---	---	---	---	---	---	---	---	---	---	---	---

34. In a row Rajendra is standing in the middle of the row. His position is 23rd in the row. If in the same row Vishwas is standing at 25th position from left side then which of the following alternatives is his position from the right side in the row?
- (1) 21st (2) 20th
(3) 22nd (4) 45th
35. When Rajnandini was returning to home from school, Sun was setting towards her left side. In the same position she turned to her right side at the right angle. Then to which direction will her right hand point?
- (1) North (2) South
(3) East (4) West
36. If Sonal's 3rd birthday was on 19th September 2004, which was Thursday, then on which day will her 12th birthday occur?
- (1) Monday (2) Sunday
(3) Saturday (4) Wednesday
37. In the year 2020, Republic Day was celebrated on Saturday, then in the same month which day will occur only four times?
- (1) Wednesday (2) Friday
(3) Thursday (4) Tuesday

38. Observe the given Venn diagram and choose the correct answer.

What is the sum of numbers which are only in one figure?



- (1) 18
(2) 16
(3) 11
(4) 20

SPACE FOR ROUGH WORK

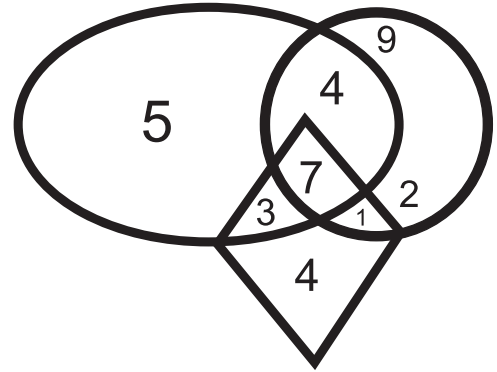
A	B	C	D	E	F	G	H	I	J	K	L	M	N	O	P	Q	R	S	T	U	V	W	X	Y
---	---	---	---	---	---	---	---	---	---	---	---	---	---	---	---	---	---	---	---	---	---	---	---	---

34. किसी कतार मे राजेद्रं बीच में खड़ा है, उसका स्थान 23वा है। उसी कतार मे दायी ओर से 25 वें स्थान पर खडा होने वाला विश्वास का कतार मे बायी ओर से कितना क्रमांक होगा?
- (1) 21 वा (2) 20 वा
(3) 22 वा (4) 45 वा
35. विद्यालय से घर जाते समय राजनंदिनी के बायी ओर सुरज ढल रहा था, इस स्थिती मे राजनंदिनी समकोण मे एक बार दायी ओर मुड़ी तो उसका दाया हाथ किस दिशा मे होगा?
- (1) उत्तर (2) दक्षिण
(3) पूर्व (4) पश्चिम
36. सोनल के तीसरे जन्मदिन पर 19 सितंबर 2004 को गुरुवार आया, तो उसके बारहवें जन्मदिन पर कौन-सा दिन होगा?
- (1) सोमवार (2) रविवार
(3) शनिवार (4) बुधवार
37. 2020 को गणतंत्र दिवस शनिवार को मनाया गया, तो उसी महिने में कौन-सा दिन चार बार आयेगा?
- (1) बुधवार (2) शुक्रवार
(3) गुरुवार (4) मंगलवार

38. निम्नलिखित वेन आकृति का निरीक्षण करके उत्तर पहचानिए?

सिर्फ एक आकृति मे आनेवाले अंको का योगफल कितना?

- (1) 18
(2) 16
(3) 11
(4) 20



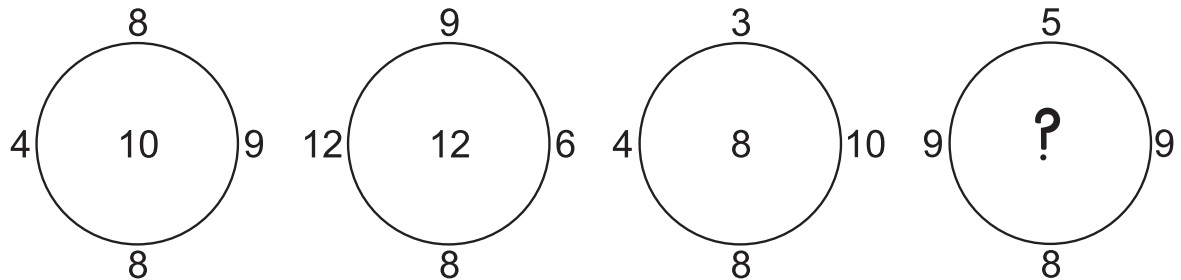
रफ कार्य हेतु स्थान

39. In the given square pattern select the correct option to replace the question mark.

2	36	4
5	76	?
1	172	7

- (1) 6
 (2) 3
 (3) 9
 (4) 2

40. Observe the pattern in the following circles and find the correct answer to replace the question mark, from the given alternatives.



- (1) 11
 (2) 13
 (3) 7
 (4) 14

Q.41. to Q.45. Directions :

A set of terms is given at the beginning of the question. These terms have some common characteristic. Find out the term from the alternatives that matches the given set of terms.

41. Stable, Coop, Cowshed.

- (1) Web
 (2) Beehive
 (3) Cage
 (4) Anthill

42. September, April, June

- (1) January
 (2) December
 (3) March
 (4) November

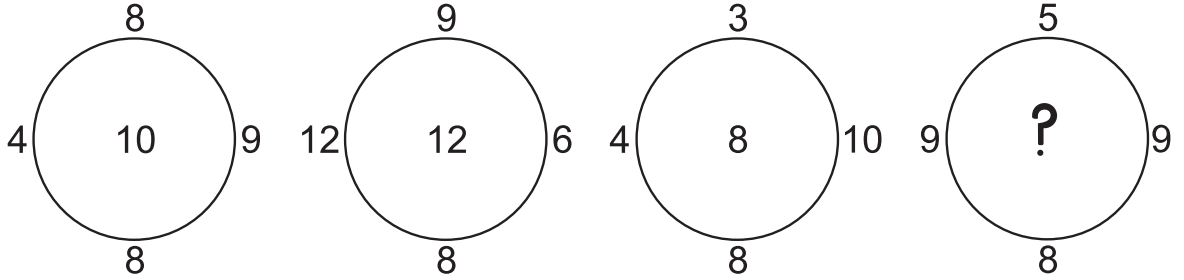
SPACE FOR ROUGH WORK

39. निम्नलिखित चर्तुभुज में प्रश्नचिह्न के स्थान पर कौन-सी संख्या होगी?

2	36	4
5	76	?
1	172	7

- (1) 6
(2) 3
(3) 9
(4) 2

40. निम्नलिखित वृत्ताकार आकृति का निरीक्षण करके प्रश्नचिह्न के स्थान पर कौन-सी संख्या आयेगी, वह पर्याय में से चुनिए।



- (1) 11
(2) 13
(3) 7
(4) 14

प्रश्न क्र. 41 से 45 के लिए सुचना-

प्रश्न के शुरू में कुछ पद दिए गए हैं। उनकी एक समान विशेषता के अनुसार एक समुह तैयार होता है। इस समुह में संगत शब्द पर्याय में से चुनिए।

41. तबेला, दडबा, गोशाला

- (1) जाला
(2) छत्ता
(3) अस्तबल
(4) बाँबी

42. सितंबर, अप्रैल, जून

- (1) जनवरी
(2) डिसंबर
(3) मार्च
(4) नवंबर

रफ कार्य हेतु स्थान

A	B	C	D	E	F	G	H	I	J	K	L	M	N	O	P	Q	R	S	T	U	V	W	X	Y
---	---	---	---	---	---	---	---	---	---	---	---	---	---	---	---	---	---	---	---	---	---	---	---	---


43. 4205, 6427, 8729

- (1) 5407 (2) 3217
(3) 3249 (4) 6245

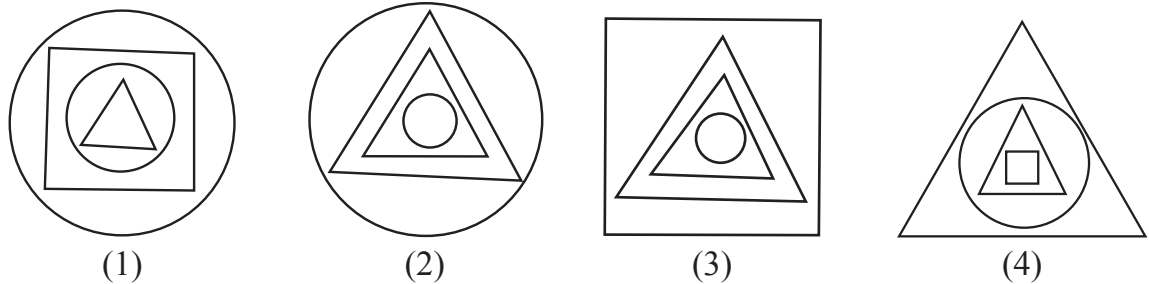
44. (512, 64), (216, 36), (27, 9)

- (1) (1, 1) (2) (16, 4)
(3) (353, 49) (4) (225, 25)

45. Question Figures :



Answer Figures :



46. In a certain code language 'COT' is written as 357, 'TOP' is written as 513, 'TAP' is written as 431 then how to write 'COAT' in the same language. (Letters and numerals are not in order.)

- (1) 1743 (2) 7543
(3) 1574 (4) 1375

47. In a certain code language 35 : 345, 48 : 4168 and 29 : 2499 then in the same code language 58 = ?

- (1) 538 (2) 5138
(3) 5258 (4) 598

SPACE FOR ROUGH WORK

A	B	C	D	E	F	G	H	I	J	K	L	M	N	O	P	Q	R	S	T	U	V	W	X	Y
---	---	---	---	---	---	---	---	---	---	---	---	---	---	---	---	---	---	---	---	---	---	---	---	---

43. 4205, 6427, 8729

(1) 5407

(2) 3217

(3) 3249

(4) 6245

44. (512, 64), (216, 36), (27, 9)

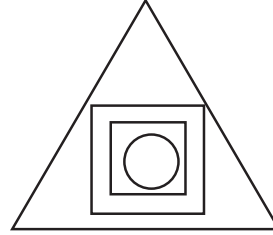

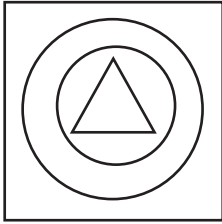
(1) (1, 1)

(2) (16, 4)

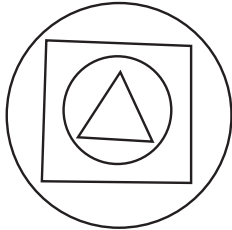
(3) (353, 49)

(4) (225, 25)


45. प्रश्नाकृति




उत्तर आकृतियाँ



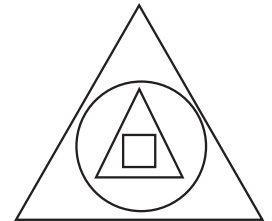
(1)



(2)



(3)



(4)

46. किसी सांकेतिक भाषा में 'दगड' इस शब्द को 'दरफगड' गुलाब इस शब्द को 'गुरफुलाब' तो 'पिवळा' को 'पिरफिवळा' ऐसा लिखते हैं, तो उसी भाषा में नूतन इस शब्द को कैसे लिखेंगे?

(1) नूरफतन

(2) नूरफूतन

(3) नूरफूनत

(4) नूतरफून

47. किसी सांकेतिक भाषा में $35 = 345$, $48 = 4168$ और $29 = 2499$ इस प्रकार लिखते हैं, तो उसी भाषा में 58 कैसे लिखेंगे?

(1) 538

(2) 5138










(3) 5258

(4) 598








रफ कार्य हेतु स्थान

A	B	C	D	E	F	G	H	I	J	K	L	M	N	O	P	Q	R	S	T	U	V	W	X	Y
---	---	---	---	---	---	---	---	---	---	---	---	---	---	---	---	---	---	---	---	---	---	---	---	---

Q.48. and Q.49. Direction :

Symbol	  	  	  
Code	5 2 6	6 8 9	3 9 2

In the above frame the sequence of symbols and digits may not necessarily be the same. Observe the code in the above frame and answer the questions.

48. In the above code language which digits will represent the symbol   
- (1) 852 (2) 956
(3) 952 (4) 928
49. $\text{circle with cross} + \text{square with cross} \times \text{circle} - \text{star} = ?$
- (1)  (2) 
(3)  (4) 
50. While climbing the ramp near the school gate your physically disabled friend slipped off. What will you do at this moment?
- (1) I will inform the Head-master of my school immediately.
(2) I will ignore him and go into the class.
(3) I will laugh at him by seeing him in this embarrassing situation.
(4) I will support him and help him to go to the classroom.
51. You and your school friends go for a school picnic at Raigad fort. Which of the below mentioned student's action is correct?
- (1) Pranjal stands on the surrounding wall of the fort and clicks selfie.
(2) Suyash has thrown the empty water bottle on the fort.
(3) Manasi climbed up and came down the fort carefully.
(4) Ayub has beautifully written school's name on the wall of the fort.

SPACE FOR ROUGH WORK

प्रश्न क्र. 48 व 49 के लिए सुचना-

शब्द	⊕ ⊕ △	⊕ ★ *	★ ● ⊕
सांकेतिक रूप	5 2 6	6 8 9	3 9 2

उपरोक्त सारणी में से चिह्नों और अंको का क्रम समान होगा ऐसा नहीं है, ये ध्यान में लेकर उचित पर्याय उत्तर में से चुनिए।

48. उपरोक्त सांकेतिक भाषा में ★ △ ⊕ इस चिह्नों के लिए कौन-से अंक आयेंगे?
- (1) 852 (2) 956
(3) 952 (4) 928
49. ⊕ + ⊕ × ● - ★ = कितना ?
- (1) ⊕ (2) ●
(3) ⊕ (4) *
50. विद्यालय के प्रवेशद्वार के पास आपका दिव्यांग मित्र रैम्प (दिव्यांगों के लिए चढ़ने-उतरने का रास्ता) चढ़ते समय फिसल कर निचे गिरा, तो उसे देखकर आप क्या करोगे?
- (1) भागते हुए जाकर मुख्याध्यापक को बताओगे।
(2) उसके तरफ अनदेखा करके कक्षा में चले जाओगे।
(3) दिव्यांग मित्र कि फजीती हो गई यह देखकर बहुत हँसोगे।
(4) दिव्यांग मित्र को सहारा देकर उसे कक्षा तक लेकर जाओगे।
51. रायगढ़ देखने के लिए विद्यालय कि पिकनिक गई थी, तो निम्न विद्यार्थियों में से किसकी कृती आपको सही लगेगी।
- (1) किले पर के कठेरे के पास बने हुए चबुतरे पर खडे होकर प्रांजल सेल्फी (फोटो) निकालती है।
(2) सुयश ने पानी की खाली बोतल किले पर ही फेंक दी।
(3) मानसी किले पर सावधानी से चढ़ी और सावधानी से उतरी।
(4) अयुब ने किले की दिवार पर सुंदर हस्ताक्षरों मे विद्यालय का नाम लिखा।

रफ कार्य हेतु स्थान

A	B	C	D	E	F	G	H	I	J	K	L	M	N	O	P	Q	R	S	T	U	V	W	X	Y
---	---	---	---	---	---	---	---	---	---	---	---	---	---	---	---	---	---	---	---	---	---	---	---	---

52. In the following sentence how many seven letter words are more or less than five letter words?

‘Shivaji Maharaj is a great Maratha King.’

- (1) More by 1 (2) Less by 1
(3) More by 2 (4) Less by 2

53. Prepare a meaningful word from the letters, ‘B, E, N, T, I, O, D, E’. Which letter will be at the third place from the right side of the meaningful word.

- (1) B (2) I
(3) O (4) E

54. In the given number series how many times is the sum of two adjacent digits is a ‘Prime Number’.

7, 8, 9, 2, 0, 1, 3, 5, 6, 8, 1, 1, 1, 2, 5

- (1) 9 (2) 8
(3) 7 (4) 10

55. ABCDE FGHIJ KLMNO PQRST UVWXY

In the given alphabetical series, which pair of letters from the following options is not at equal distance from the 14th letter from the right side in the alphabet series?

- (1) GU (2) FR
(3) BV (4) IO

SPACE FOR ROUGH WORK

A	B	C	D	E	F	G	H	I	J	K	L	M	N	O	P	Q	R	S	T	U	V	W	X	Y
---	---	---	---	---	---	---	---	---	---	---	---	---	---	---	---	---	---	---	---	---	---	---	---	---

52. शैक्षणिक क्षेत्र में अन्ना के उत्कृष्ट कार्य के लिए उन्हें सभी लोग 'कर्मवीर' नाम से जानते हैं।

उपरोक्त वाक्य में संयुक्त अक्षरों की संख्या कितनी है।

- (1) 8 (2) 7
(3) 9 (4) 10

53. निचे दिए गए वाक्य में 'आकारान्त' शब्दों की संख्या "अकारान्त" शब्दों की संख्या से कितनी कम अथवा अधिक है।

"नहीं फेंकेगे कचरा रास्ते पर यह आचरण लाएंगे अपने मन पर"

- (1) 6 से अधिक (2) 5 से कम
(3) 7 से अधिक (4) 11 से कम

54. निम्न संख्या मालिका में क्रमिक के दो अंकों का योगफल 'अभाज्य' संख्या आता है। ऐसा कितनी बार हुआ है?

(7, 8, 9, 2, 0, 1, 3, 5, 6, 8, 1, 1, 1, 2, 5)

- (1) 9 (2) 8
(3) 7 (4) 10

55. ABCDE FGHIJ KLMNO PQRST UVWXY

उपरोक्त अंग्रेजी वर्णमाला में दायी ओर से 14 वा क्रम के वर्ण से समान दूरी में नहीं होने वाली वर्ण जोड़ी पहचानो।

- (1) GU (2) FR
(3) BV (4) IO

रफ कार्य हेतु स्थान

Q.56. to Q.60. Directions:

Select the odd term.

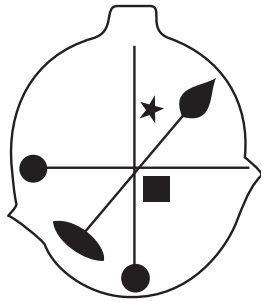
56. (1) Cow - Bull

(2) Father - Mother

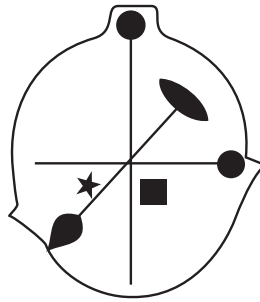
(3) Peacock - Hen

(4) Groom - Bride

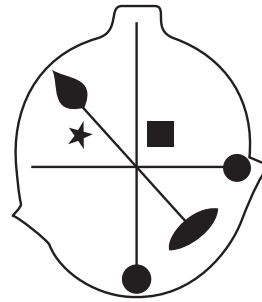
57.



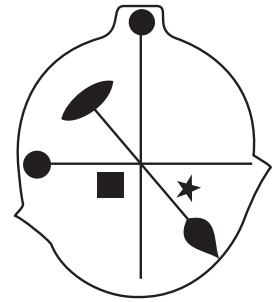
(1)



(2)

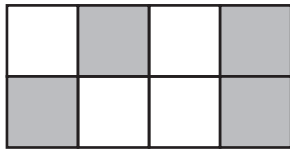


(3)

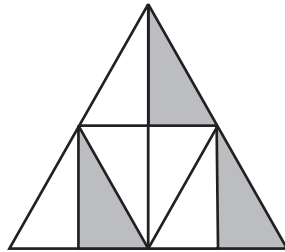


(4)

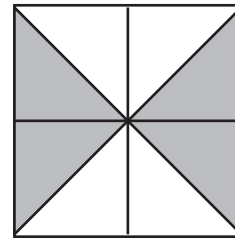
58.



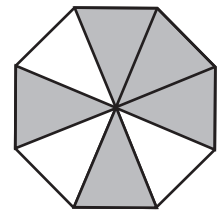
(1)



(2)



(3)



(4)

59. (1) 5668

(2) 3932

(3) 6978

(4) 6592

60. (1) 644

(2) 944

(3) 477

(4) 955

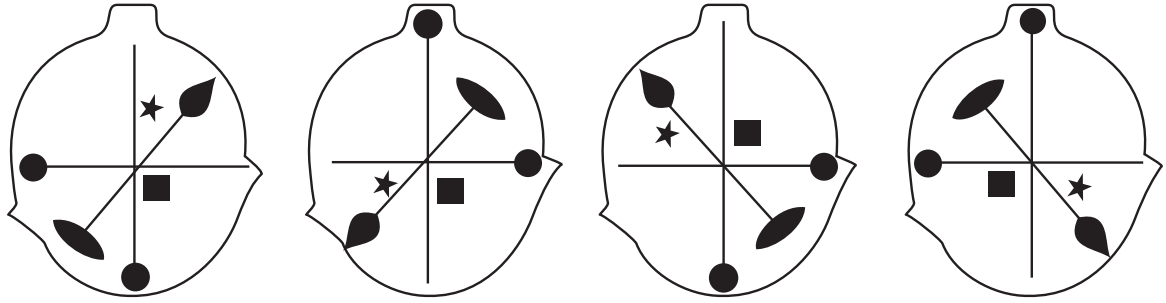
SPACE FOR ROUGH WORK

प्रश्न क्र. 56 से 60 के लिए सुचना-

समुह में न बैठनेवाले पद पहचानो।

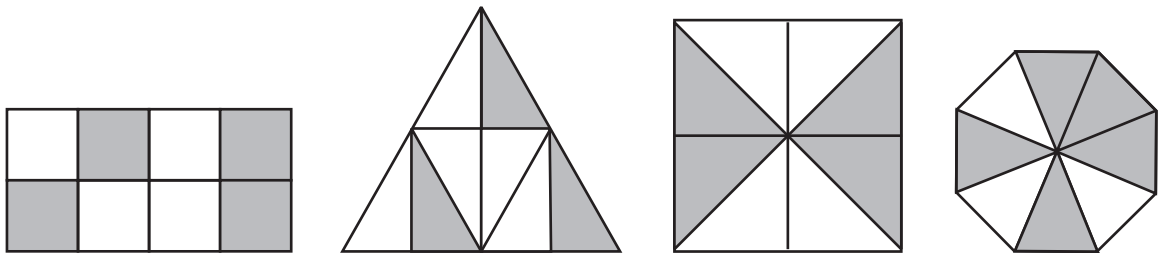
56. (1) ऊँट - सांडनी (2) माता - पिता
(3) मोर - मोरनी (4) वर - वधु

57.



- (1) (2) (3) (4)

58.



- (1) (2) (3) (4)

59. (1) 5668 (2) 3932
(3) 6978 (4) 6592

60. (1) 644 (2) 944
(3) 477 (4) 955

रफ कार्य हेतु स्थान

Q.61. and Q.62. Direction :

Consider the pattern in the given number series and select the correct option to replace the question mark.

61. 196, 144, 100, 64, ?

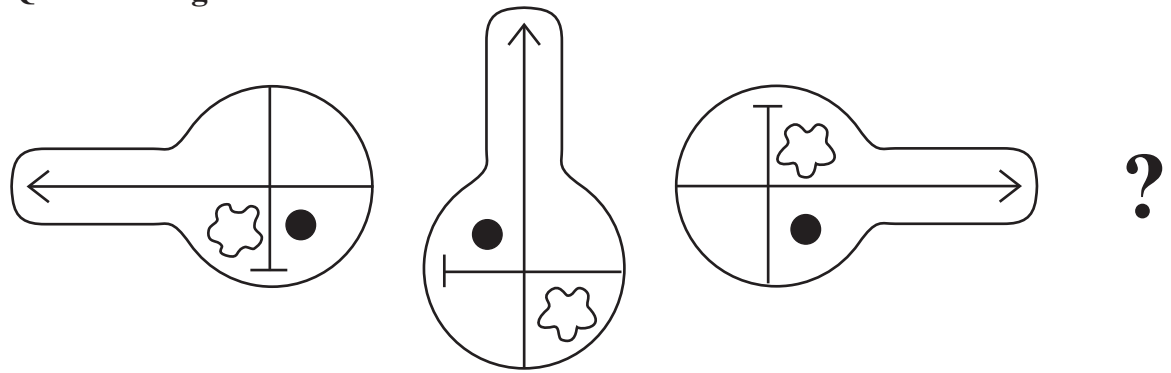
- | | |
|--------|--------|
| (1) 49 | (2) 16 |
| (3) 36 | (4) 56 |

62. 7, 8, 11, 17, 27, 42, ?

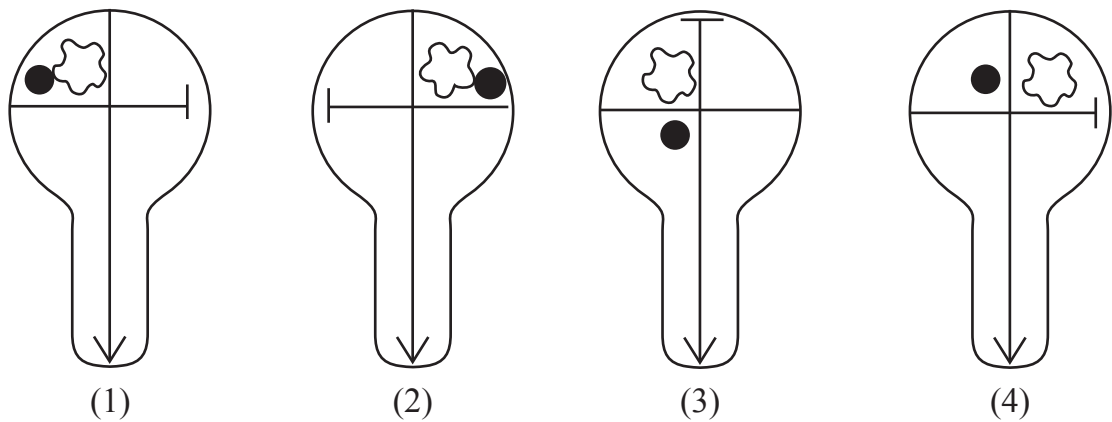
- | | |
|--------|--------|
| (1) 69 | (2) 63 |
| (3) 59 | (4) 62 |

63. Select the correct figure from the options to replace the question mark.

Question Figures :



Answer Figures :



SPACE FOR ROUGH WORK

प्रश्न क्र. 61 तथा 62 के लिए सुचना-

मालिका की संख्याओं की रचना का सूत्र ध्यान में लेकर प्रश्नचिह्न के स्थान पर आनेवाली संख्या पर्यायों में से चुनिए।

61. 196, 144, 100, 64, ?

(1) 49

(2) 16

(3) 36

(4) 56

62. 7, 8, 11, 17, 27, 42, ?

(1) 69

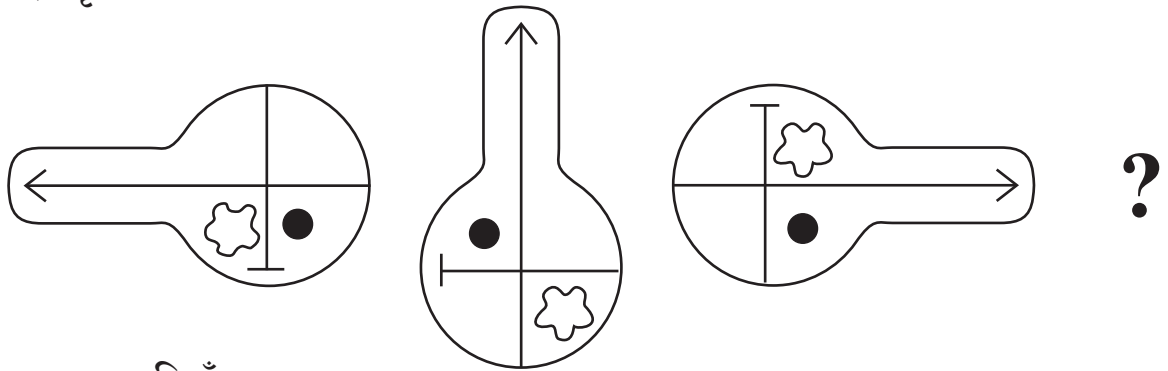
(2) 63

(3) 59

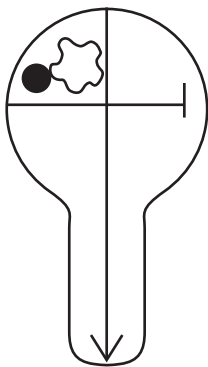
(4) 62

63. प्रश्नचिह्न के क्रम से आनेवाली आकृति कौन-सी है?

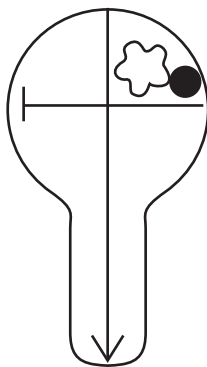
प्रश्नाकृति



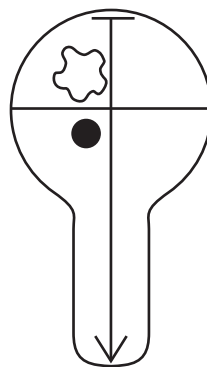
उत्तर आकृतियाँ



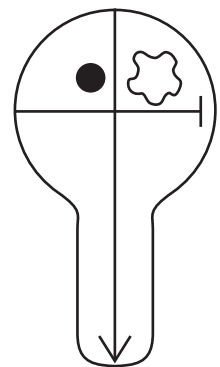
(1)



(2)



(3)



(4)

रफ कार्य हेतु स्थान

64. In the given series of symbols select the correct group from the options to replace the question mark.



65. Select the wrong term in the given number series.

16, 22, 26, 39, 62, 74, 102

(1) 74

(2) 62

(3) 39

(4) 26

66. Seven years ago sum of ages of Kavita, Manisha and Suvarna was 45 years, then what will be the sum of their ages 5 years hence?

(1) 81

(2) 50

(3) 57

(4) 59

67. Pratik likes to play Kabaddi and Kho-Kho. Palak likes to play only Langadi. Vedant likes to play all sports. Pranjal likes to play Langadi and Chess and Roger likes to play all sports except Kabaddi, then from the options find who likes to play Kho-Kho?

(1) Pratik and Vedant

(2) Pratik, Pranjal and Roger

(3) Vedant, Roger and Palak

(4) Vedant, Pratik and Roger

68. If Honeybee is called Ant, Ant is called Cobra, Cobra is called Sparrow and Sparrow is called Hen, then who will live in the anthill?

(1) Cobra

(2) Ant

(3) Hen

(4) Honeybee

SPACE FOR ROUGH WORK

64. निम्नलिखित चिह्नों की मालिका में प्रश्नचिह्नों के स्थान पर आनेवाला समूह पर्याय में से चुनिए।



65. निम्नलिखित संख्या मालिका में से गलत पद पहचानो।

16, 22, 26, 39, 62, 74, 102.

(1) 74

(2) 62

(3) 39

(4) 26

66. 7 वर्ष पूर्व रजनी, मंजु और नलिनी की आयु का योगफल 45 वर्ष था। तो पाँच वर्षों के बाद उनकी आयु का योगफल कितना होगा?

(1) 81

(2) 50

(3) 57

(4) 59

67. प्रतिक को कबड्डी और खो-खो खेल पसंद है, पलक को लंगडी सिर्फ यही खेल पसंद है, वेदांत को सभी खेल पसंद है, प्रांजल को लंगडी और चेस यह खेल पसंद है, और राज को कबड्डी छोड़कर सभी खेल पसंद है। तो निम्नलिखित में से कौन-से खो-खो खेल पसंद करने वाले हैं?

(1) प्रतिक व वेदांत

(2) प्रतिक, प्रांजल व राज

(3) वेदांत, राज व पलक

(4) वेदांत, प्रतिक व राज

68. मधुमख्खी को चिंटी कहेंगे, चिंटी को साँप कहेंगे, साँप को चिड़ीयाँ कहेंगे और चिड़ीयाँ को मुर्गी कहेंगे, तो बाँबी में कौन रहेगा?

(1) साँप

(2) चिंटी

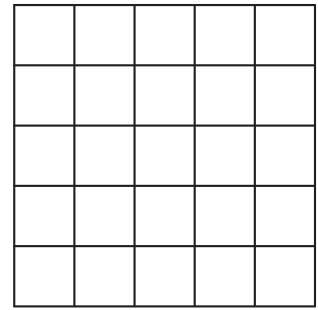
(3) चिड़ीयाँ

(4) मधुमख्खी

रफ कार्य हेतु स्थान

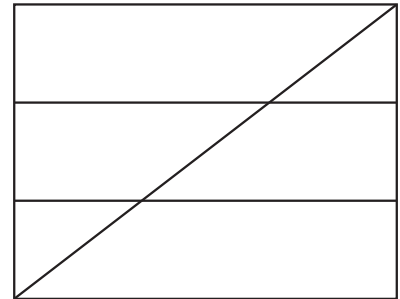
69. In the adjacent figure, how many squares are there?

- (1) 225
- (2) 55
- (3) 25
- (4) 75



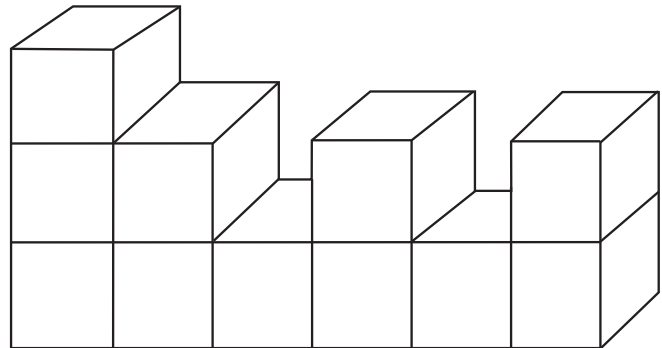
70. In the adjacent figure, how many quadrilaterals are there?

- (1) 10
- (2) 14
- (3) 12
- (4) 8




71. How many surfaces does the given figure have?


- (1) 66
- (2) 22
- (3) 17
- (4) 16




72. Which group of digits will look as it is in the mirror image. Select the correct alternative from the following alternatives.




(1)



(2)



(3)

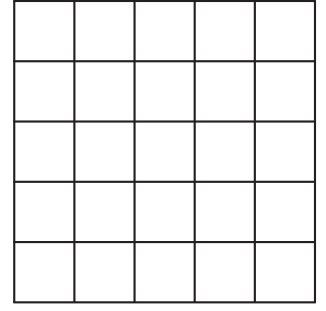


(4)

SPACE FOR ROUGH WORK

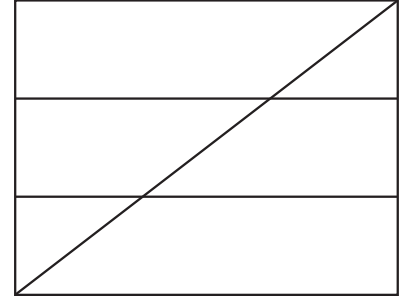
69. संलग्न आकृति में वर्गों की संख्या कितनी है?

- (1) 225
- (2) 55
- (3) 25
- (4) 75



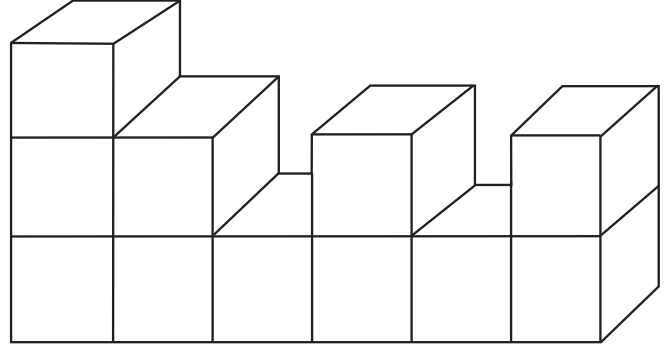
70. संलग्न आकृति में चतुर्भुजों की संख्या कितनी है?

- (1) 10
- (2) 14
- (3) 12
- (4) 8




71. संलग्न आकृति में कुल कितने पृष्ठ हैं?


- (1) 66
- (2) 22
- (3) 17
- (4) 16




72. निम्नलिखित में से किस अंको के समुह का पर्याय दर्पण प्रतिमा में वैसा ही दिखाई देगा?




(1)



(2)



(3)

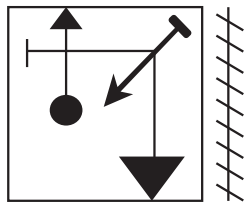


(4)

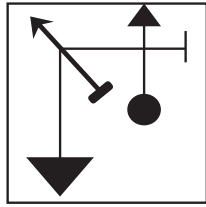
रफ कार्य हेतु स्थान

73. Identify the mirror image of the question figure and select the correct alternative.

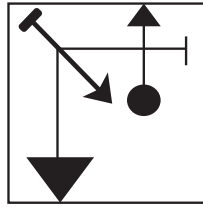
Question Figure:



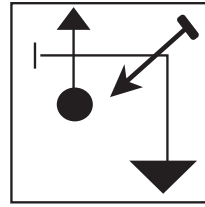
Answer Figures:



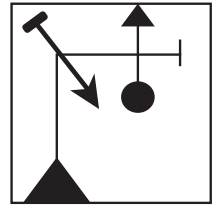
(1)



(2)



(3)




(4)

Q.74. and Q.75. Direction:

Select the correct figure that is water image of the question figure from the alternatives.


74. **Question Figure:**



Answer Figures:



(1)



(2)

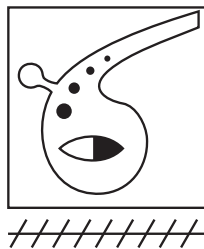


(3)

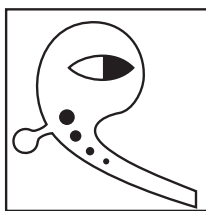


(4)

75. **Question Figure:**




Answer Figures:



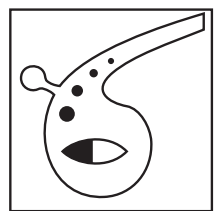
(1)



(2)



(3)



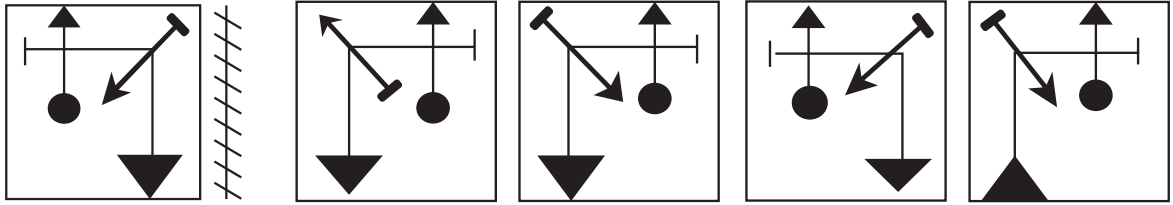
(4)

SPACE FOR ROUGH WORK

73. निम्नलिखित प्रश्न आकृति की दर्पण की प्रतिमा कैसी होगी यह पर्याय आकृतियों द्वारा पहचानिए।

प्रश्नाकृति

उत्तर आकृतियाँ



(1)

(2)

(3)


(4)

प्रश्न क्र. 74 तथा 75 के लिए सुचना-

निम्नलिखित प्रश्न आकृति का जल प्रतिबिंब कैसा होगा, यह पर्याय आकृतियों द्वारा पहचानिए।

74. प्रश्नाकृति

उत्तर आकृतियाँ



(1)

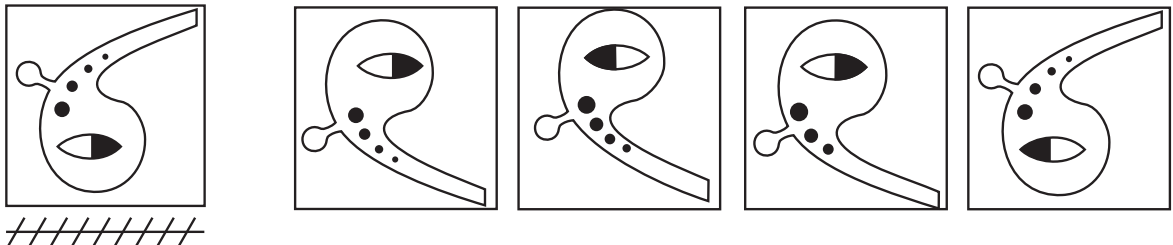
(2)

(3)

(4)

75. प्रश्नाकृति

उत्तर आकृतियाँ



(1)

(2)

(3)

(4)

रफ कार्य हेतु स्थान

रफ कार्य हेतू स्थान