

ప్రీ-అప్సర్ ప్రైమరీ స్కూల్స్ లిప్ ఎగ్జామినేషన్ (5వ తరగతి), ఫిబ్రవరి 2023

సీటు నం.

--	--	--	--	--	--	--	--	--	--

సెట్



0 7 0 2

పేపర్ నెం. II

మీడియం : తెలుగు

సమయం : 02:00 నుండి 03:30 వరకు తృతీయ భాష మరియు ఇంటెలిజెన్స్ పరీక్ష



మొత్తం మార్కులు : 150

పేజీలు : 32

ప్రశ్న పత్రిక సాధించుటకు ముందు కింది సూచనలను జాగ్రత్తగా చదవండి.

- (1) ఈ ప్రశ్న పత్రికలో రెండు విభాగములు కలవు. వాటిలో విభాగం - I లో తృతీయ భాష విషయం కొరకు 1 నుండి 25 మరియు విభాగము-II లో ఇంటెలిజెన్స్ పరీక్ష కొరకు 26 నుండి 75 ఈ విధంగా ప్రశ్న పత్రికలో 75 ప్రశ్నలు కలవు అన్ని ప్రశ్నలు సాధించుట అనివార్యము.
- (2) ప్రతి ప్రశ్న కొరకు 2 మార్కులు కలవు.
- (3) ప్రశ్న పత్రిక సాధించుట కొరకు మొత్తం 90 నిమిషాల సమయం ఇవ్వబడును.
- (4) జవాబును గుర్తించుట కొరకు స్వతంత్ర ఉత్తర ప్రతీక ఇవ్వబడినది. ప్రతి ప్రశ్న క్రమసంఖ్య ముందు నాలుగు పర్యాయముల కొరకు క్రమసంఖ్యగల వృత్తములు ఇవ్వబడినవి అందులో సరియైన జవాబు యొక్క పర్యాయ క్రమ సంఖ్యగల వృత్తాన్ని కింది ఉదాహరణలో చూపించిన విధంగా రంగరించండి.
ఉదా : ప్రశ్న సం. 6 యొక్క జవాబు క్రమసంఖ్య 2 అయితే, దానిని క్రింది విధంగా గుర్తించండి.
ప్రశ్న సం. 6 - ① ● ③ ④
- (5) క్రింది విధంగా గుర్తించిన జవాబులు పరిగణింపబడవు, ఇలా జవాబు వ్రాసినట్లయితే 'సున్న' మార్కులు ఇవ్వబడును.
ఉదా : ① ② ● ④
- (6) ఒకటికంటే ఎక్కువ వృత్తాలను గుర్తించిన జవాబులు కొట్టివేసి ఇచ్చిన జవాబులు పరిగణించబడవు.
- (7) ఒకసారి గుర్తించిన జవాబులు తిరిగి మార్పుటకు వీలుపడదు.
- (8) జవాబులు గుర్తించునపుడు నలుపు లేదా నీలి రంగు బాల్ పెన్నును మాత్రమే ఉపయోగించవలెను, పెన్సిల్ తో గుర్తించినవి పరిగణలోనికి తీసుకోబడవు.
- (9) ప్రశ్నపత్రంలో ప్రతి పేజీలో క్రింది భాగంలో మరయు చివరి పేజీలో చిత్తుపని చేసుకొనుటకు ఖాళీ స్థలం కలదు. అందులోనే చిత్తుపని చేయవలెను.
- (10) పరీక్షకు నిర్ణీత సమయము ఉన్నందున ఏదేని ప్రశ్నకు జవాబు తెలియకున్న అది వదలి దానిముందున్న ప్రశ్నలను సాధించండి. చివరకు సమయం ఉన్నచో విడిచిన ప్రశ్నలను సాధించుటకు ప్రయత్నించండి.
- (11) ఏదేని ప్రశ్నలో తప్పు కనిపించినట్లయితే దాని గురించి పర్యవేక్షకుడు లేదా ప్రరీక్ష కేంద్ర సంచాలకుని వద్దకు వెళ్ళ విచారించకూడదు.
- (12) ప్రశ్నలోని లోపం/తప్పు/అభ్యంతరాల గురించి ఫిర్యాదులకు సంబంధించిన లిఖిత పూర్వక వినతి పత్రం పాఠశాల లేక తల్లిదండ్రులు బ్లాక్ ఎడ్యుకేషన్ ఆఫీసర్ లేదా ఎడ్యుకేషన్ ఆఫీసర్ కు లిఖితపూర్వక దరఖాస్తు పంపకూడదు. ఈ లోపం/పొరపాటు/అభ్యంతర సమస్యలు సంబంధిత పాఠశాల లాగిన్ ద్వారా మాత్రమే ఆన్లైన్ లో నమోదు చేసు కొవాలి.
- (13) లోపం/తప్పు/అభ్యంతరాల గురించి లిఖిత పూర్వక వినతి పత్రం పంపవలసిన గడువు పరీక్ష పరిషద్ యొక్క సంకేత స్థలానికి (Website) తాత్కాలిక ఉత్తర (జవాబు) సూచిక విడుదల చేసిన 10 (పది) రోజుల వరకు ఉంటుంది.
- (14) ముద్రణ దోషాలు లేక ఇతర కారణాల వలన ప్రశ్న తప్పుగా ఉన్నట్లు తెలిస్తే నిపుణుల సమితి అభిప్రయం ప్రకారం తగిన చర్య తీసుకోబడును.
- (15) తెలుగు మీడియంతో పాటు ఇంగ్లీష్ భాషలోకూడా ప్రశ్న పత్రం ఇవ్వబడినది. తెలుగు మీడియంలోని సందిగ్ధ ప్రశ్నల కొరకు ఇంగ్లీష్ ప్రశ్నలు చూడండి.

SECTION - I

ENGLISH

01. Choose the correct alternative to complete the following word chain of alphabetical order.

Pan → Pen → - → Pull

- (1) Part (2) Potter
(3) Punish (4) Push

02. Choose the correct alternative for the sentence given below.

Please give me _____ one rupee note.

- (1) an (2) the
(3) no article (4) a

03. Observe the picture and choose the correct option for it.



_____ the plants regularly.

- (1) Plough (2) Prune
(3) Weed (4) Water

04. Find the different sound of the letter 'C' from the following alternatives.

- (1) Cart (2) Count
(3) Centre (4) Card

SPACE FOR ROUGH WORK

05. Choose the correct alternative.

Yusuf is reading a newspaper. His brother wants to call him for the dinner. He requests _____

- (1) Please keep reading. (2) Excuse me, brother.
(3) Good afternoon brother. (4) You are welcome!

06. Find the correct word to complete the message given below.

_____ PLANTS NOT GARBAGE

S	G	Z	T
E	R	O	C
W	O	Y	U
E	W	X	T

- (1) SEW (2) CUT
(3) GROW (4) ROOTS

07. Find the sentence with the incorrect punctuation mark.

- (1) How are you! (2) How nice!
(3) What a surprise! (4) Are you crazy?

08. Select the proper option to complete the word register.

growl, cluck, buzz, squeal, _____.

- (1) blow (2) share
(3) croak (4) flow

SPACE FOR ROUGH WORK

09. Select the correct alternative.

He _____ a letter yesterday.

- (1) writes (2) wrote
(3) write (4) writing

10. Ruby meets her friend at the lunch time. How will she greet him?
Choose the correct option.

- (1) Good evening. (2) Good night.
(3) Good morning. (4) Good afternoon.

11. Find the punctuation mark missing in the following sentence.

He said, "Its just a matter of practice!"

- (1) Comma (2) Exclamation mark
(3) Apostrophe (4) Full stop

12. Observe the picture and choose the correct alternative.



What is the girl doing?

- (1) Sweeping (2) Cooking
(3) Climbing (4) Singing

SPACE FOR ROUGH WORK

13. Read the riddle given below and choose the correct option.

You open your mouth to do it.

It shows you are sleepy. What is it?

- (1) Cough (2) Yawn
(3) Sneeze (4) Dream

14. Select the correct option for the following sentence.

February follows _____ in the calendar year.

- (1) March (2) December
(3) April (4) January

15. How many mistakes of capitalization are there in the following sentence.

Raju : what ! a girl like smita, working in a shop.

- (1) 3 (2) 2
(3) 1 (4) 4

16. Choose the correct alternative.

My number is 20 in the row. So I am _____ in the row.

- (1) twenty (2) twentieth
(3) twentieth (4) twenty-first

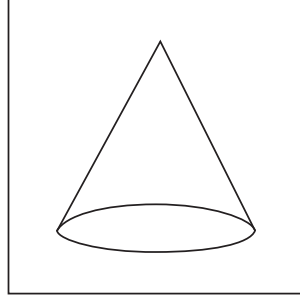
17. Select the correct alternative to complete the following sentence.

He blinks his _____.

- (1) toes (2) ears
(3) nose (4) eyes


SPACE FOR ROUGH WORK

18. Identify the shape given in the picture. Choose the correct option.



- (1) Cone (2) Cube
(3) Sphere (4) Triangle

19. Observe the picture and select the correct alternative.



There is a cow _____ the tree.

- (1) above (2) over
(3) under (4) into

20. Choose the incorrect pair from the given alternative.

- (1) Will not - Won't (2) Shall not - Shalln't
(3) Let us - Let's (4) Have not - Haven't

SPACE FOR ROUGH WORK

21. Find the correct alternative for the following sentence.

They _____ garments in the _____.

- (1) sell, sail (2) sale, sail
(3) sell, sale (4) cell, sale

22. Select the correct option for the following sentence.

The sun is always in the _____ direction at 6 p.m.

- (1) East (2) West
(3) North (4) South

Instructions for Question 23 to 25.

Read the passage carefully and answer the following question.

Mother Duck was really proud of her six new ducklings. They were soft, fluffy and yellow. Such fine little ducklings! But the seventh one was very different. It was bigger and its feathers were gray and shaggy.

23. How many ducklings are mentioned in the passage?

- (1) 6 (2) 8
(3) 5 (4) 7

24. Find the ordinal number mentioned in the passage?

- (1) Six (2) Seventh
(3) One (4) Shaggy

25. Find the opposite of the word 'same' from the passage.

- (1) Fine (2) Shaggy
(3) Different (4) Fluffy

SPACE FOR ROUGH WORK

A B C D E

F G H I J

K L M N O

P Q R S T

U V W X Y

SECTION - II**INTELLIGENCE TEST**

26. In the following sentence how many seven letter words are more or less than five letter words?

‘Shivaji Maharaj is a great Maratha King.’

- (1) More by 1 (2) Less by 1
(3) More by 2 (4) Less by 2

27. Prepare a meaningful word from the letters, ‘B, E, N, T, I, O, D, E’. Which letter will be at the third place from the right side of the meaningful word.

- (1) B (2) I
(3) O (4) E

28. In the given number series how many times is the sum of two adjacent digits is a ‘Prime Number’.

7, 8, 9, 2, 0, 1, 3, 5, 6, 8, 1, 1, 1, 2, 5

- (1) 9 (2) 8
(3) 7 (4) 10

- 29.

ABCDE FGHIJ KLMNO PQRST UVWXY

In the given alphabetical series, which pair of letters from the following options is not at equal distance from the 14th letter from the right side in the alphabet series?

- (1) GU (2) FR
(3) BV (4) IO

SPACE FOR ROUGH WORK

A	B	C	D	E	F	G	H	I	J	K	L	M	N	O	P	Q	R	S	T	U	V	W	X	Y
---	---	---	---	---	---	---	---	---	---	---	---	---	---	---	---	---	---	---	---	---	---	---	---	---

విభాగం - II

ఇంటెలిజెన్స్ పరీక్ష

26. కృష్ణుడు జన్మించిన మరుసటి రోజు బాలకృష్ణుని తలచుకొంటూ ఒక కుండలో పెరుగు, మరమరాలు వేసి గుడి ఎదుట ఉట్టిని కడతారు.

పై వాక్యంలో మొత్తం ఎన్ని ఒత్తు పదాలు గలవు?

- (1) 8 (2) 7
(3) 4 (4) 10

27. గాంధీజీ మాటలు విని మహాదేవ్ దేశాయ్ చాలా హాస్య చకితుడైనాడు.

పై వాక్యంలో మొత్తం ఎన్ని దీర్ఘఅక్షరాలు గలవు?

- (1) 6 (2) 5 (3) 4 (4) 8

28. కింద ఇచ్చిన సంఖ్యాశ్రేణిలో ప్రక్కప్రక్కనే వచ్చే సంఖ్యలను కూడడం వలన ప్రధాన సంఖ్యలు ఏర్పడుతాయి. ఇలా ఎన్ని సార్లు జరిగింది?

7, 8, 9, 2, 0, 1, 3, 5, 6, 8, 1, 1, 1, 2, 5

- (1) 9 (2) 8
(3) 7 (4) 10

29. ABCDE FGHIJ KLMNO PQRST UVWXY

పై ఇంగ్లీష్ అక్షరమాలలో, కుడివైపు నుంచి 14వ క్రమము ఉన్న అక్షరం నుంచి సమాన దూరంలో లేని అక్షరజతను గుర్తించండి.

- (1) GU (2) FR
(3) BV (4) IO

SPACE FOR ROUGH WORK

Q.30. to Q.34. Directions:

Select the odd term.

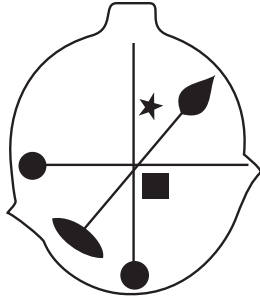
30. (1) Cow - Bull

(2) Father - Mother

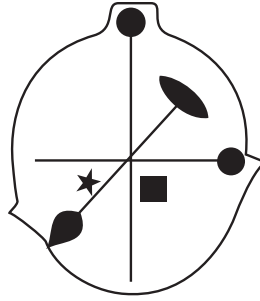
(3) Peacock - Hen

(4) Groom - Bride

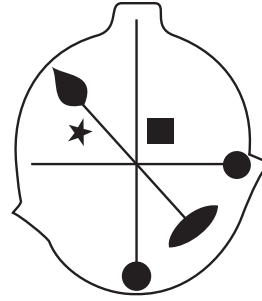
31.



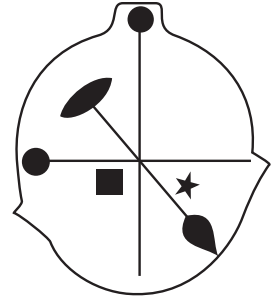
(1)



(2)

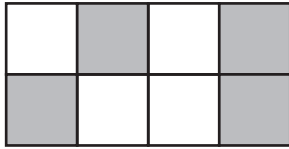


(3)

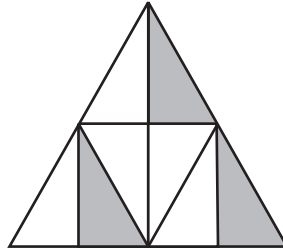


(4)

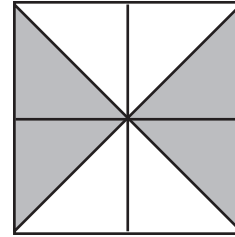
32.



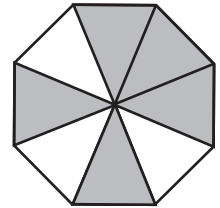
(1)



(2)



(3)



(4)

33. (1) 5668

(2) 3932

(3) 6978

(4) 6592

34. (1) 644

(2) 944

(3) 477

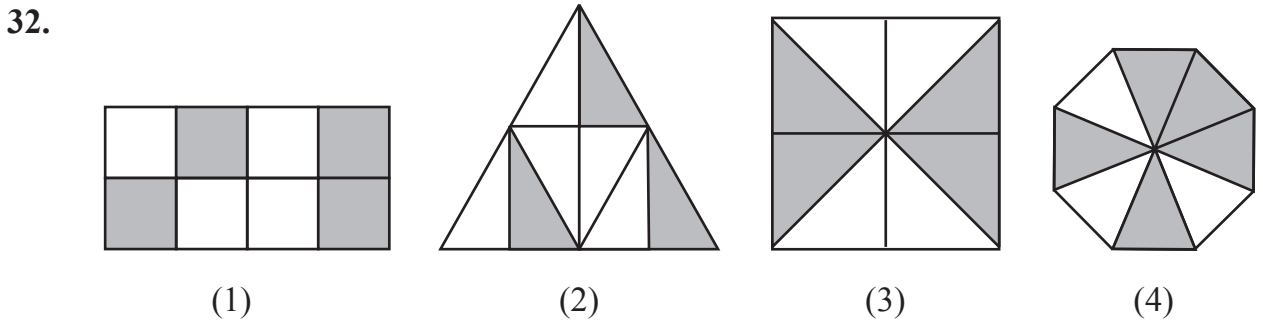
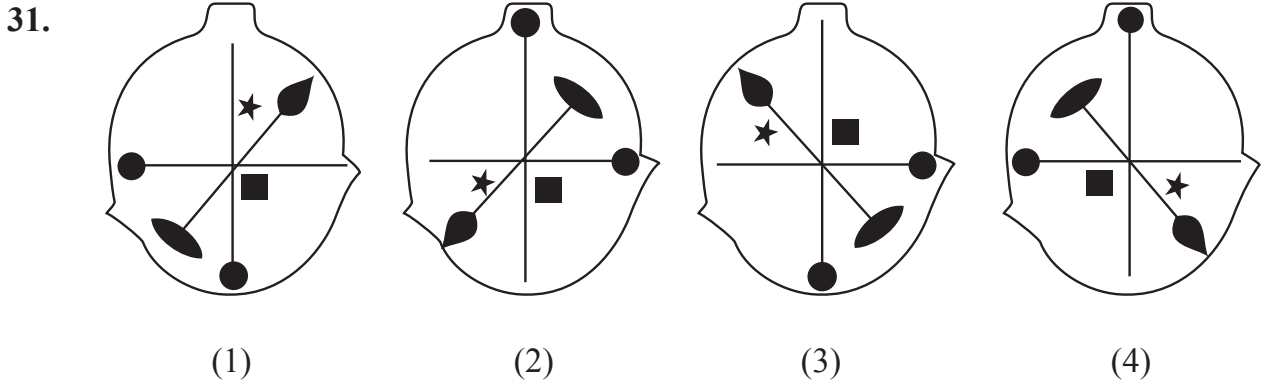
(4) 955

SPACE FOR ROUGH WORK

ప్రశ్న సం. 30 నుంచి 34 వరకు సూచన :

సమూహంకు చెందని పదంను గుర్తించి దాని పర్యాయ క్రమము వృత్తంను రంగరించండి.

30. (1) అత్త - మామ (2) తండ్రి - తల్లి
 (3) అత్త - మేనత్త (4) వరుడు - వధువు



33. (1) 5668 (2) 3932
 (3) 6978 (4) 6592
34. (1) 644 (2) 944
 (3) 477 (4) 955

SPACE FOR ROUGH WORK

Q.35. and Q.36. Direction :

Consider the pattern in the given number series and select the correct option to replace the question mark.

35. 196, 144, 100, 64, ?

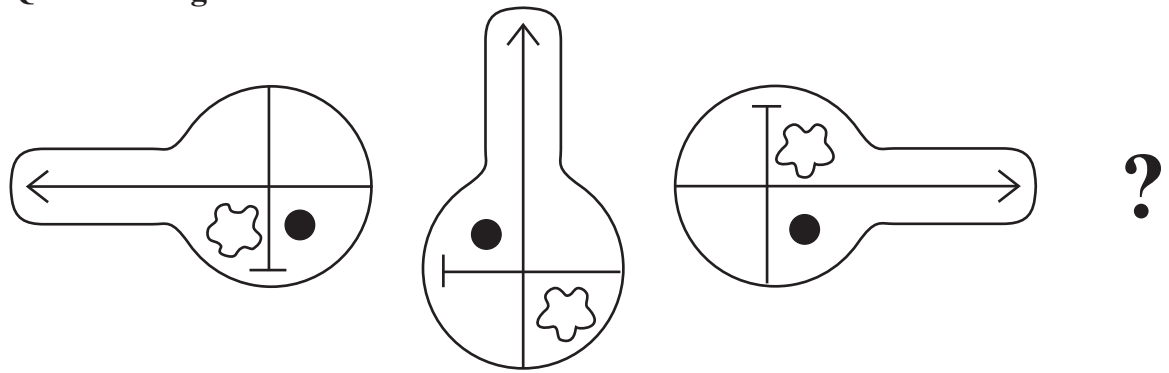
- | | |
|--------|--------|
| (1) 49 | (2) 16 |
| (3) 36 | (4) 56 |

36. 7, 8, 11, 17, 27, 42, ?

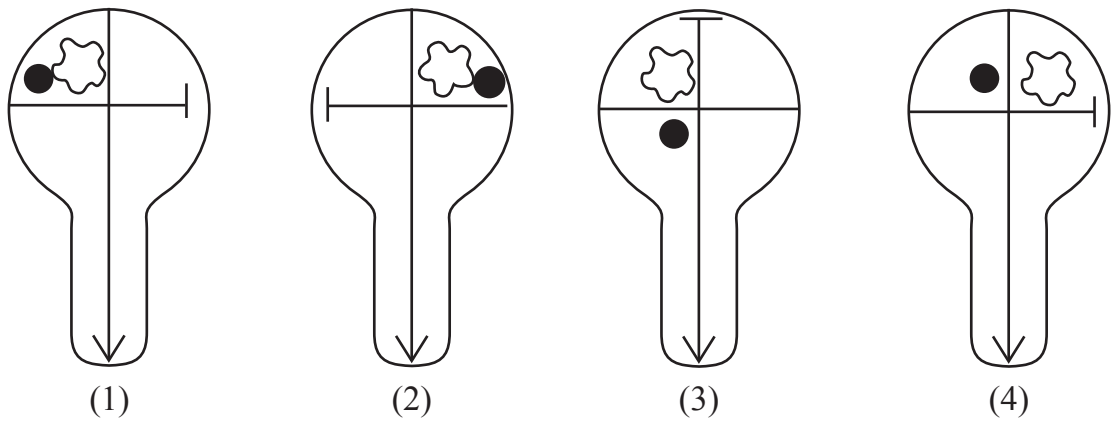
- | | |
|--------|--------|
| (1) 69 | (2) 63 |
| (3) 59 | (4) 62 |

37. Select the correct figure from the options to replace the question mark.

Question Figures :



Answer Figures :



SPACE FOR ROUGH WORK

ప్రశ్న సం. 35 మరియు 36 కొరకు సూచన :

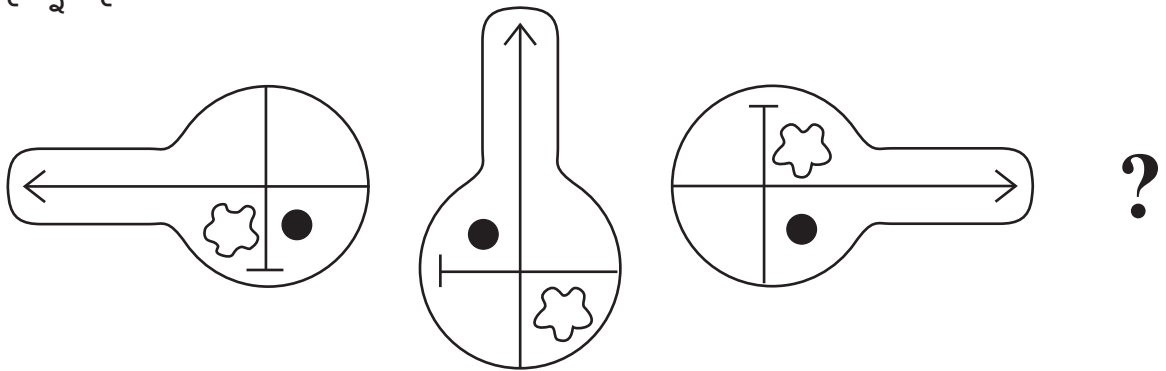
ఇచ్చిన శ్రేణిలోని సంఖ్యల అమరిక సూత్రమును గుర్తించి. ప్రశ్నచిహ్న స్థానంలో వచ్చే సంఖ్యను ప్రత్యమ్నాయంల నుంచి ఎన్నుకోండి.

35. 196, 144, 100, 64, ?
 (1) 49 (2) 16
 (3) 36 (4) 56

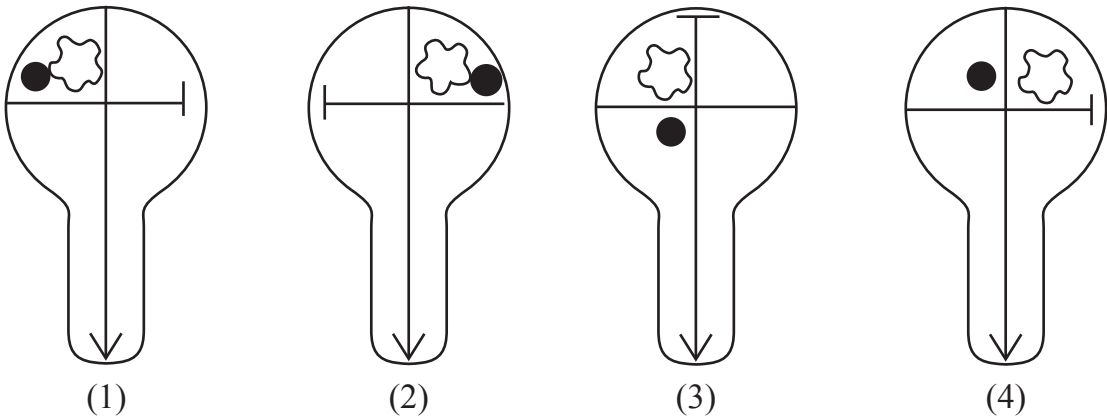
36. 7, 8, 11, 17, 27, 42, ?
 (1) 69 (2) 63
 (3) 59 (4) 62

37. ప్రశ్న చిహ్న స్థానంలో వరుసగా ఏ చిత్రం వచ్చును?

ప్రశ్న చిత్రం :



సమాధాన చిత్రాలు :



SPACE FOR ROUGH WORK

A	B	C	D	E	F	G	H	I	J	K	L	M	N	O	P	Q	R	S	T	U	V	W	X	Y
---	---	---	---	---	---	---	---	---	---	---	---	---	---	---	---	---	---	---	---	---	---	---	---	---

38. In the given series of symbols select the correct group from the options to replace the question mark.



- (1) (2)
- (3) (4)

39. Select the wrong term in the given number series.

16, 22, 26, 39, 62, 74, 102

- (1) 74 (2) 62
(3) 39 (4) 26

40. Seven years ago sum of ages of Kavita, Manisha and Suvarna was 45 years, then what will be the sum of their ages 5 years hence?

- (1) 81 (2) 50
(3) 57 (4) 59

41. Pratik likes to play Kabaddi and Kho-Kho. Palak likes to play only Langadi. Vedant likes to play all sports. Pranjal likes to play Langadi and Chess and Roger likes to play all sports except Kabaddi, then from the options find who likes to play Kho-Kho?

- (1) Pratik and Vedant (2) Pratik, Pranjal and Roger
(3) Vedant, Roger and Palak (4) Vedant, Pratik and Roger

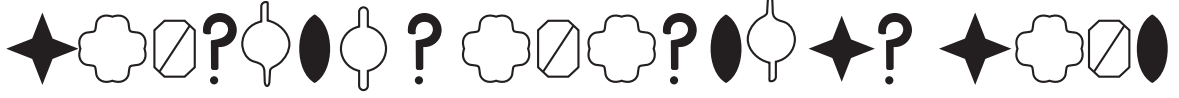
42. If Honeybee is called Ant, Ant is called Cobra, Cobra is called Sparrow and Sparrow is called Hen, then who will live in the anthill?

- (1) Cobra (2) Ant
(3) Hen (4) Honeybee

SPACE FOR ROUGH WORK

A	B	C	D	E	F	G	H	I	J	K	L	M	N	O	P	Q	R	S	T	U	V	W	X	Y
---	---	---	---	---	---	---	---	---	---	---	---	---	---	---	---	---	---	---	---	---	---	---	---	---

38. కింద ఇచ్చిన చిహ్నాల శ్రేణిలో, ప్రశ్నచిహ్న స్థానంలో వచ్చే చిహ్నాల సమూహాన్ని ఎంపికచేయండి.



39. కింద ఇచ్చిన సంఖ్యశ్రేణిలోని తప్ప, పదంను గుర్తించండి.

16, 22, 26, 39, 62, 74, 102

(1) 74

(2) 62

(3) 39

(4) 26

40. 7 సంవత్సరాల క్రితం కవిత, మనీష మరియు సువర్ణల వయసుల మొత్తం 45 సంవత్సరాలు ఉండెను. అయిన 5 సంవత్సరాల తరువాత వారి వయసుల మొత్తం ఎన్ని సంవత్సరాలు ఉండును?

(1) 81

(2) 50

(3) 57

(4) 59

41. ప్రతీక్ కు కబడ్డీ మరియు ఖో ఖో ఆటలు ఇష్టం. పలక్ కు కుంటే ఆట మాత్రమే ఇష్టం. వేదాంత్ కు అన్ని ఆటలు ఇష్టం. ప్రాంజల్ కు కుంటే ఆట మరియు చదరంగం ఆటలు ఇష్టం. రోజర్ కు మాత్రం కబడ్డీ ఆట తప్ప మిగత అన్ని ఆటలు ఇష్టం.

అయిన ఖో-ఖో ఆటను ఇష్టపడేవారు కింది వాటిలో ఎవరో దానిని ఎన్నుకొండి?

(1) ప్రతీక్ మరియు వేదాంత్

(2) ప్రతీక్, ప్రాంజల్ మరియు రోజర్

(3) వేదాంత్, రోజర్ మరియు పలక్

(4) వేదాంత్, ప్రతీక్ మరియు రోజర్

42. “తేనెటీగ”ని “చీమ” అని, “చీమ”ని “నాగుపాము” అని, “నాగుపాము”ని “పిచ్చుక” అని మరియు “పిచ్చుక”ని “కోడి” అని పిలువబడినది. అయిన పుట్టలో ఎవరు ఉంటారు?

(1) నాగుపాము

(2) చీమ

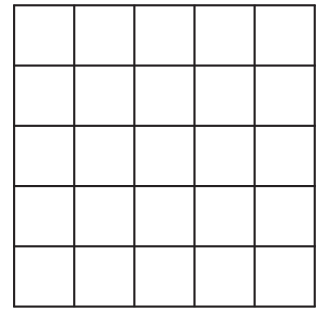
(3) కోడి

(4) తేనెటీగ

SPACE FOR ROUGH WORK

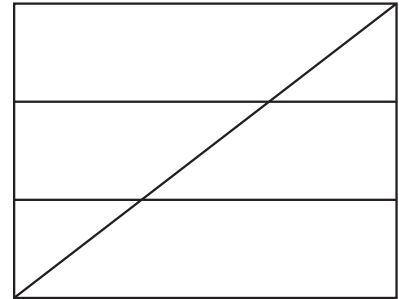
43. In the adjacent figure, how many squares are there?

- (1) 225
- (2) 55
- (3) 25
- (4) 75



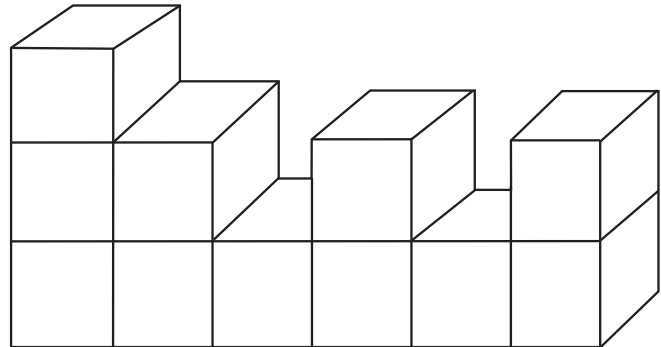
44. In the adjacent figure, how many quadrilaterals are there?

- (1) 10
- (2) 14
- (3) 12
- (4) 8




45. How many surfaces does the given figure have?


- (1) 66
- (2) 22
- (3) 17
- (4) 16




46. Which group of digits will look as it is in the mirror image. Select the correct alternative from the following alternatives.




(1)



(2)



(3)



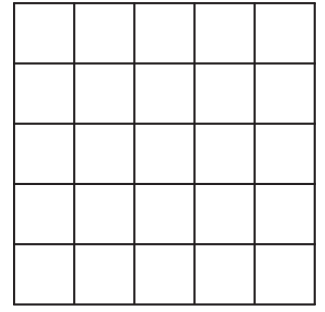
(4)

SPACE FOR ROUGH WORK

A	B	C	D	E	F	G	H	I	J	K	L	M	N	O	P	Q	R	S	T	U	V	W	X	Y
---	---	---	---	---	---	---	---	---	---	---	---	---	---	---	---	---	---	---	---	---	---	---	---	---

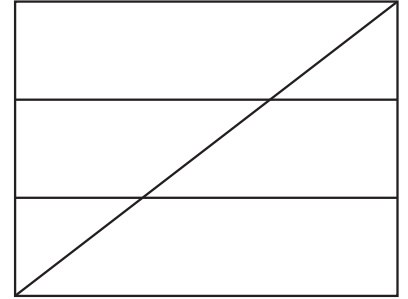
43. ప్రక్కనున్న పటంలో మొత్తం ఎన్ని చతురస్రములు గలవు?

- (1) 225
- (2) 55
- (3) 25
- (4) 75



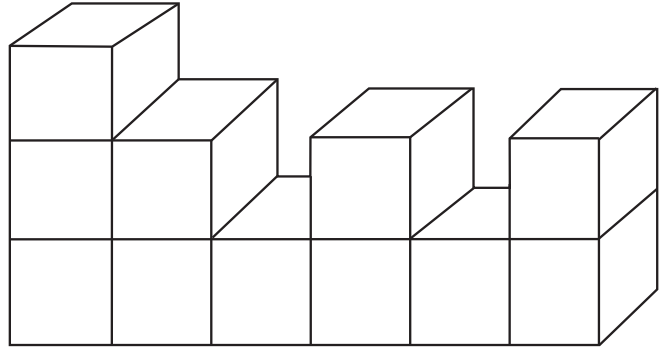
44. ప్రక్కనున్న పటంలో ఎన్ని చతుర్భుజాలు గలవు?

- (1) 10
- (2) 14
- (3) 12
- (4) 8




45. కింద ఇచ్చిన పటంలో మొత్తం ఎన్ని తలలు గలవు?


- (1) 66
- (2) 22
- (3) 17
- (4) 16




46. కింద ఇచ్చిన అంకెల సమూహాలలోని ఏ అంకెల సమూహం అద్దంలో కూడా అదే విధంగా కనబడును?




(1)



(2)



(3)

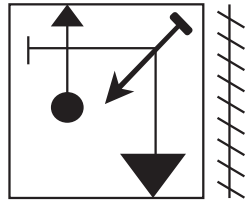


(4)

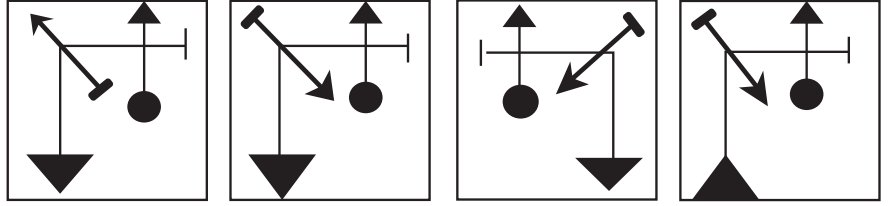
SPACE FOR ROUGH WORK

47. Identify the mirror image of the question figure and select the correct alternative.

Question Figure:



Answer Figures:




(1) (2) (3) (4)

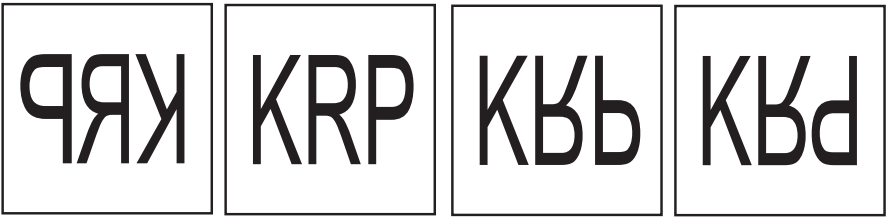
Q.48. and Q.49. Direction:

Select the correct figure that is water image of the question figure from the alternatives.

48. **Question Figure:**

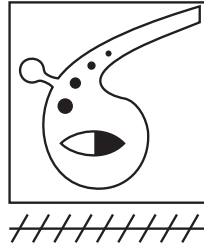


Answer Figures:

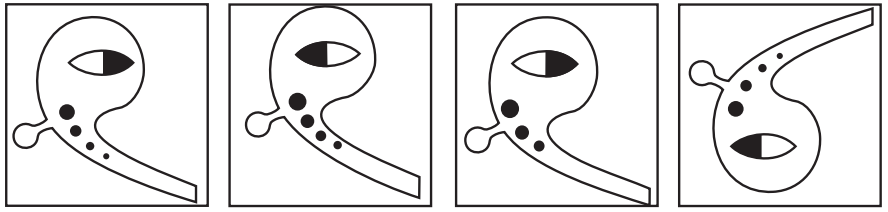


(1) (2) (3) (4)

49. **Question Figure:**



Answer Figures:

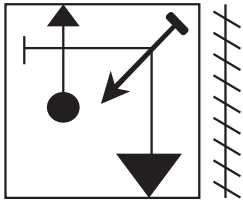


(1) (2) (3) (4)

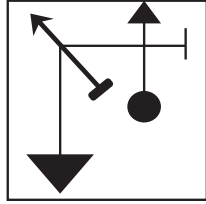
SPACE FOR ROUGH WORK

47. కింద ఇచ్చిన ప్రశ్నాకృతి యొక్క ప్రతిమ అద్దంలో ఎలా కనబడుతుందో దాని పర్యాయమును జవాబు ఆకృతుల నుంచి ఎన్నుకోండి.

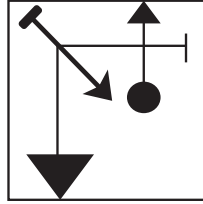
ప్రశ్నాకృతి :



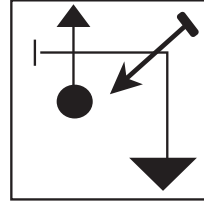
జవాబు ఆకృతులు :



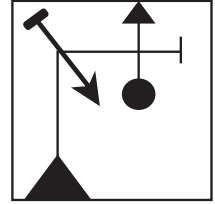
(1)



(2)



(3)




(4)

ప్రశ్న 48 మరియు 49 కొరకు సూచన :

కింద ఇచ్చిన సమస్యాత్మక చిత్రం యొక్క ప్రతిబింబం నీటిలో ఎలా కనబడుతుందో దాని ప్రత్యామ్నాయంను సమాధాన చిత్రంల నుంచి ఎంపిక చేయండి.


48. సమస్యాత్మక చిత్రం :



సమాధాన చిత్రంలు :



(1)



(2)




(3)




(4)


49. సమస్యాత్మక చిత్రం :



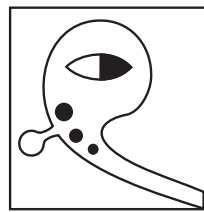
సమాధాన చిత్రంలు :



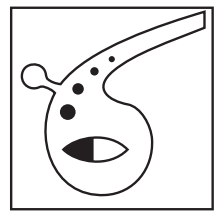
(1)



(2)



(3)



(4)

SPACE FOR ROUGH WORK

A	B	C	D	E	F	G	H	I	J	K	L	M	N	O	P	Q	R	S	T	U	V	W	X	Y
---	---	---	---	---	---	---	---	---	---	---	---	---	---	---	---	---	---	---	---	---	---	---	---	---

Q.50. to Q.54. Directions :

In the given questions first term has a specific relation with the second term. The same relation exists between third and fourth term. Identify the relation and select the correct option to replace the question mark.

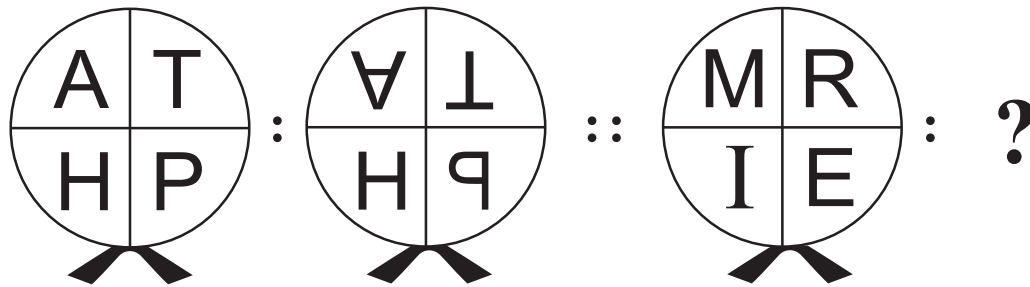
50. Karamveer : Bhaurao Patil :: ? : Birasa Munda

- | | |
|---------------|---------------|
| (1) Lokmanya | (2) Maharshi |
| (3) Senanayak | (4) Jananayak |

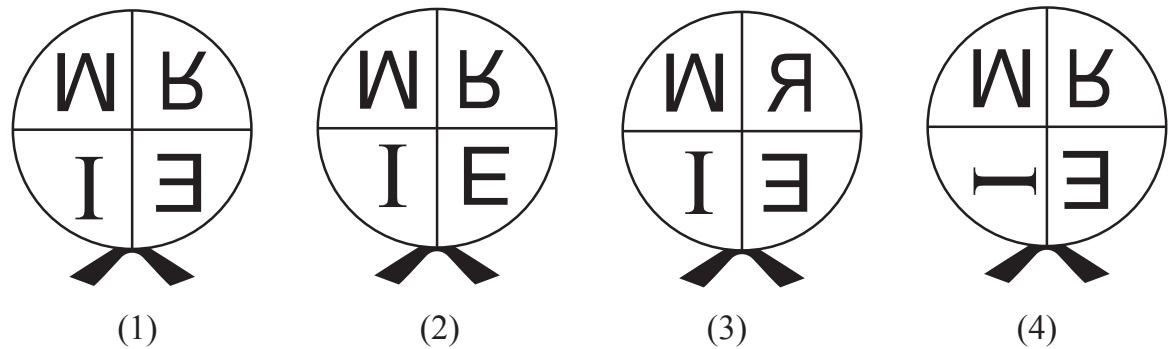
51. Cow : Moo :: Monkey : ?

- | | |
|-------------|------------|
| (1) Hoot | (2) Hiss |
| (3) Chatter | (4) Scream |

52. Question Figures :



Answer Figures :



SPACE FOR ROUGH WORK

A	B	C	D	E	F	G	H	I	J	K	L	M	N	O	P	Q	R	S	T	U	V	W	X	Y
---	---	---	---	---	---	---	---	---	---	---	---	---	---	---	---	---	---	---	---	---	---	---	---	---

ప్రశ్న సం. 50 నుంచి 54 వరకు సూచన :

కింది ప్రశ్నలోని మొదటి మరియు రెండవ పదాల మధ్య ఒక సంబంధం కల్గి ఉంది. అటువంటి సంబంధమే మూడవ మరియు నాల్గవ పదాలలో ఉంది. ఆ సంబంధమును గుర్తించి ప్రశ్న చిహ్న స్థానంలో వచ్చే పర్యాయమును ఎన్నుకోండి.

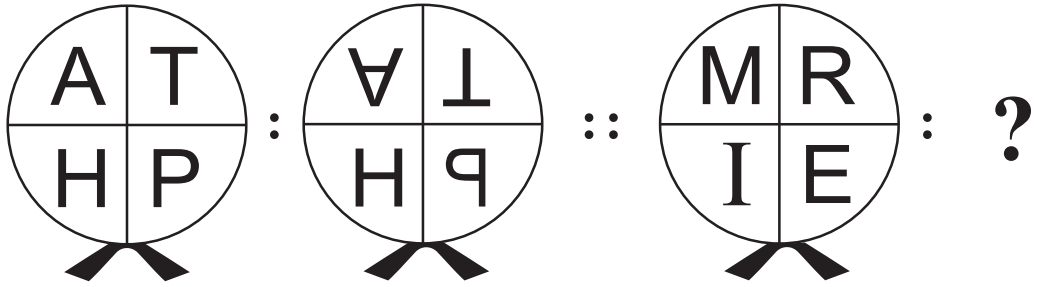
50. దేశమును ప్రేమించుమన్నా : : శ్రీ గురుజాడ అప్పారావు : : ? : శ్రీ శశికాంత్ శాత్కర్ణి

- (1) అనకు కనకు వినకు
- (2) శ్రీ దొప్పలపూడి రాధాకృష్ణమూర్తి
- (3) పచ్చని చెట్లు
- (4) ఈగ - నాలీడు

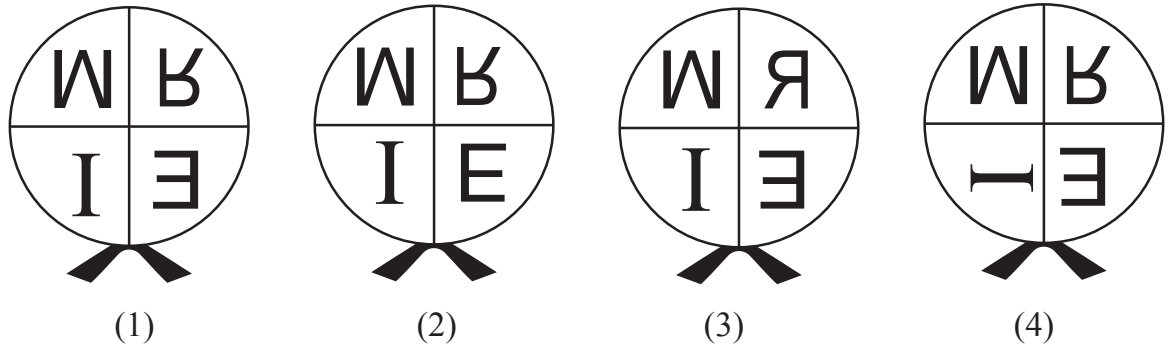
51. ఆవు : అంబా : : కోతి : ?

- (1) ఫీంకారం
- (2) నకలింపు
- (3) కిచకిచ
- (4) ఊల

52. సమస్యాత్మక చిత్రం :



సమాధాన చిత్రాలు :



SPACE FOR ROUGH WORK

A	B	C	D	E	F	G	H	I	J	K	L	M	N	O	P	Q	R	S	T	U	V	W	X	Y
---	---	---	---	---	---	---	---	---	---	---	---	---	---	---	---	---	---	---	---	---	---	---	---	---

53. 42 : 10 :: 93 : ?

- (1) 71 (2) 24
(3) 28 (4) 33


54. 8 : 64 :: 5 : ?

- (1) 61 (2) 26
(3) 48 (4) 125

Q.55. and Q.56. Direction:

Select the figure which exactly matches with the question figure from the four alternative figures given below.


55. **Question Figure:**



Answer Figures:



(1)



(2)




(3)




(4)


56. **Question Figure:**




Answer Figures:




(1)



(2)



(3)



(4)

57. If Red, Yellow, Blue, Green and Pink coloured buntings are stuck in the same order repeatedly, then at which position will be the Yellow bunting get stuck?

- (1) 63 (2) 87
(3) 39 (4) 78

SPACE FOR ROUGH WORK

A	B	C	D	E	F	G	H	I	J	K	L	M	N	O	P	Q	R	S	T	U	V	W	X	Y
---	---	---	---	---	---	---	---	---	---	---	---	---	---	---	---	---	---	---	---	---	---	---	---	---

53. 42 : 10 :: 93 : ?

- (1) 71 (2) 24
(3) 28 (4) 33

54. 8 : 64 :: 5 : ?

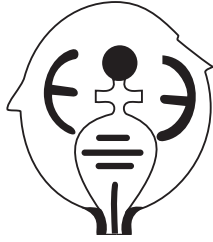

- (1) 61 (2) 26
(3) 48 (4) 125

ప్రశ్న సం. 55 మరియు 56 వరకు సూచన :


కింద ఇచ్చిన ప్రశ్నలోని సమస్యాత్మక చిత్రంలాగే ఉన్న చిత్రంను సమాధాన చిత్రంల నుంచి ఎన్నుకోండి.

55. సమస్యాత్మక చిత్రం :

సమాధాన చిత్రంలు :




(1)



(2)




(3)




(4)

56. సమస్యాత్మక చిత్రం :


సమాధాన చిత్రంలు :



(1)



(2)



(3)



(4)

57. ఎరపు, పసుపు, నీలం, ఆకుపచ్చ మరియు గులాబీ రంగు గల పతాకాలు ఇదే వరుసలో అతకించబడినవి.

అయిన పసుపు రంగు గల పతాకం ఏ స్థానంలో ఉండును?

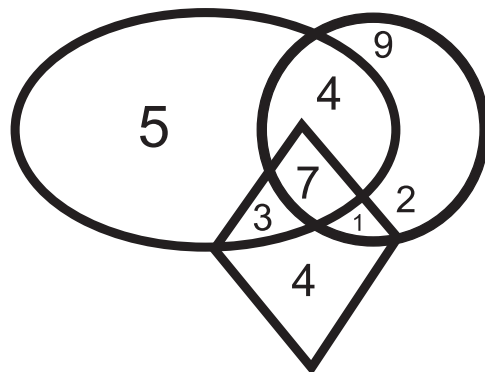
- (1) 63 (2) 87
(3) 39 (4) 78

SPACE FOR ROUGH WORK

A	B	C	D	E	F	G	H	I	J	K	L	M	N	O	P	Q	R	S	T	U	V	W	X	Y
---	---	---	---	---	---	---	---	---	---	---	---	---	---	---	---	---	---	---	---	---	---	---	---	---

58. In a row Rajendra is standing in the middle of the row. His position is 23rd in the row. If in the same row Vishwas is standing at 25th position from left side then which of the following alternatives is his position from the right side in the row?
- (1) 21st (2) 20th
(3) 22nd (4) 45th
59. When Rajnandini was returning to home from school, Sun was setting towards her left side. In the same position she turned to her right side at the right angle. Then to which direction will her right hand point?
- (1) North (2) South
(3) East (4) West
60. If Sonal's 3rd birthday was on 19th September 2004, which was Thursday, then on which day will her 12th birthday occur?
- (1) Monday (2) Sunday
(3) Saturday (4) Wednesday
61. In the year 2020, Republic Day was celebrated on Saturday, then in the same month which day will occur only four times?
- (1) Wednesday (2) Friday
(3) Thursday (4) Tuesday

62. Observe the given Venn diagram and choose the correct answer.
What is the sum of numbers which are only in one figure?



- (1) 18
(2) 16
(3) 11
(4) 20

SPACE FOR ROUGH WORK

A	B	C	D	E	F	G	H	I	J	K	L	M	N	O	P	Q	R	S	T	U	V	W	X	Y
---	---	---	---	---	---	---	---	---	---	---	---	---	---	---	---	---	---	---	---	---	---	---	---	---

58. ఒక వరుసలో రాజేంద్ర మధ్యభాగంలో 23వ స్థానంలో నిలబడి ఉన్నాడు. అదే వరుసలో ఎడమ వైపు నుంచి 25వ స్థానంలో విశ్వాస్ నిలబడి ఉన్నాడు. అయిన అదే వరుసలో కుడివైపు నుంచి విశ్వాస్ ఎన్నవ స్థానంలో ఉన్నాడు?

- (1) 21 వ (2) 20 వ
(3) 22 వ (4) 45 వ

59. పాఠశాల నుంచి ఇంటికి వెళ్తున్న రాజనందినికి ఎడమవైపు సూర్యుడు అస్తమిస్తున్నాడు. ఈ స్థితిలో రాజనందిని ఒకసారి 90° కుడివైపుకు తిరిగింది. అయిన ఆమె కుడిచేయి ఏ దిశలో ఉండును?

- (1) ఉత్తరం (2) దక్షిణం
(3) తూర్పు (4) పడమర

60. సోనల్ 3వ పుట్టినరోజు 19 సెప్టెంబర్ 2004లో గురువారము ఉండెను. అయిన ఆమె 12వ పుట్టిన రోజు ఏవారము ఉండెను?

- (1) సోమవారము (2) ఆదివారము
(3) శనివారము (4) బుధవారము

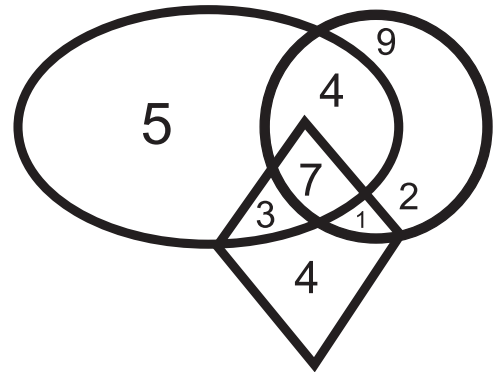
61. 2020లో గణతంత్ర దినోత్సవంను శనివారము రోజు జరుపుకొన్నారు. అయిన అదే నెలలో నాలుగు సార్లు వచ్చిన వారం ఏది?

- (1) బుధవారము (2) శుక్రవారము
(3) గురువారము (4) మంగళవారము

62. కింద ఇచ్చిన వెన్ రేఖాచిత్రంను పరిశీలించి సమాధానంను ఎన్నుకోండి.

కేవలం ఒకే పటంలోగల అంకెల మొత్తం ఎంత?

- (1) 18
(2) 16
(3) 11
(4) 20



SPACE FOR ROUGH WORK

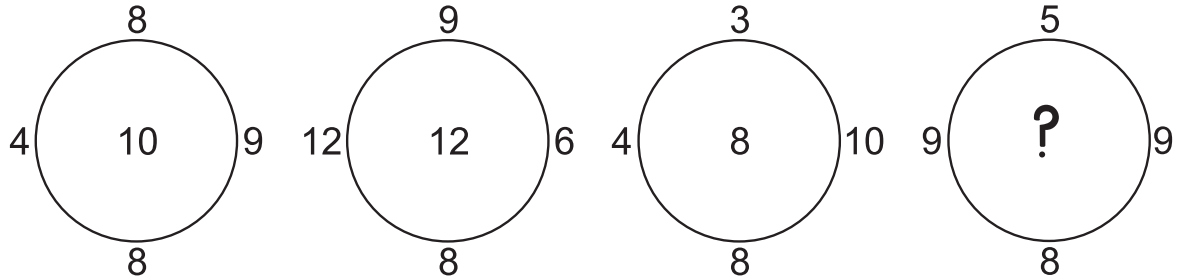
A	B	C	D	E	F	G	H	I	J	K	L	M	N	O	P	Q	R	S	T	U	V	W	X	Y
---	---	---	---	---	---	---	---	---	---	---	---	---	---	---	---	---	---	---	---	---	---	---	---	---

63. In the given square pattern select the correct option to replace the question mark.

2	36	4
5	76	?
1	172	7

- (1) 6
- (2) 3
- (3) 9
- (4) 2

64. Observe the pattern in the following circles and find the correct answer to replace the question mark, from the given alternatives.



- (1) 11
- (2) 13
- (3) 7
- (4) 14

Q.65. to Q.69. Directions :

A set of terms is given at the beginning of the question. These terms have some common characteristic. Find out the term from the alternatives that matches the given set of terms.

65. Stable, Coop, Cowshed.

- (1) Web
- (2) Beehive
- (3) Cage
- (4) Anthill

66. September, April, June

- (1) January
- (2) December
- (3) March
- (4) November

SPACE FOR ROUGH WORK

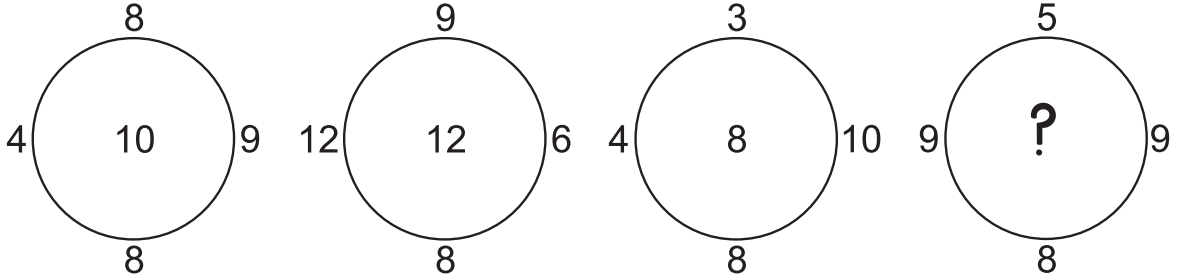
A	B	C	D	E	F	G	H	I	J	K	L	M	N	O	P	Q	R	S	T	U	V	W	X	Y
---	---	---	---	---	---	---	---	---	---	---	---	---	---	---	---	---	---	---	---	---	---	---	---	---

63. కింద ఇచ్చిన పట్టికలో ప్రశ్నగుర్తు స్థానంలో ఏ సంఖ్య వచ్చును?

2	36	4
5	76	?
1	172	7

- (1) 6
(2) 3
(3) 9
(4) 2

64. కింద ఇచ్చిన వృత్తాలను పరిశీలించండి. దానిననుసరించి ప్రశ్నచిహ్న స్థానంలో వచ్చే సంఖ్యను పర్యాయాల నుంచి ఎన్నుకోండి.



- (1) 11
(2) 13
(3) 7
(4) 14

ప్రశ్న 65 నుంచి 69 వరకు సూచన :

ప్రశ్న ప్రారంభంలో కొన్ని పదాలు ఇవ్వబడినవి. వాటి ఒక విశిష్టతల (లక్షణం) వలన ఒక సమూహం ఏర్పడుతుంది. అయిన అటువంటి సమూహంకు చెందిన పదంను ప్రత్యామ్నాయం నుంచి గుర్తించండి.

65. గొడ్డపాక, గోశాల, అశ్వశాల

- (1) సాలీడువల
(2) తేనెతెట్టె
(3) ఇల్లు
(4) పుట్ట

66. సెప్టెంబర్, ఏప్రిల్, జూన్

- (1) జనవరి
(2) డిసెంబరు
(3) మార్చి
(4) నవంబరు

SPACE FOR ROUGH WORK

A	B	C	D	E	F	G	H	I	J	K	L	M	N	O	P	Q	R	S	T	U	V	W	X	Y
---	---	---	---	---	---	---	---	---	---	---	---	---	---	---	---	---	---	---	---	---	---	---	---	---


67. 4205, 6427, 8729

- (1) 5407 (2) 3217
(3) 3249 (4) 6245

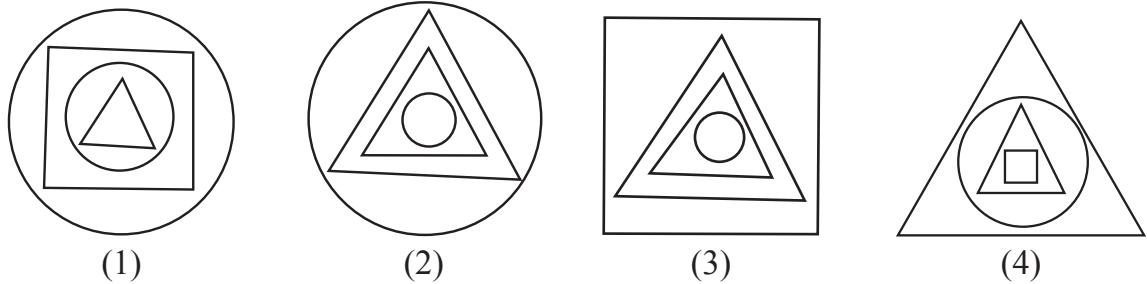
68. (512, 64), (216, 36), (27, 9)

- (1) (1, 1) (2) (16, 4)
(3) (353, 49) (4) (225, 25)

69. Question Figures :



Answer Figures :



70. In a certain code language 'COT' is written as 357, 'TOP' is written as 513, 'TAP' is written as 431 then how to write 'COAT' in the same language. (Letters and numerals are not in order.)

- (1) 1743 (2) 7543
(3) 1574 (4) 1375

71. In a certain code language 35 : 345, 48 : 4168 and 29 : 2499 then in the same code language 58 = ?

- (1) 538 (2) 5138
(3) 5258 (4) 598

SPACE FOR ROUGH WORK

A	B	C	D	E	F	G	H	I	J	K	L	M	N	O	P	Q	R	S	T	U	V	W	X	Y
---	---	---	---	---	---	---	---	---	---	---	---	---	---	---	---	---	---	---	---	---	---	---	---	---


67. 4205, 6427, 8729

- (1) 5407 (2) 3217
(3) 3249 (4) 6245

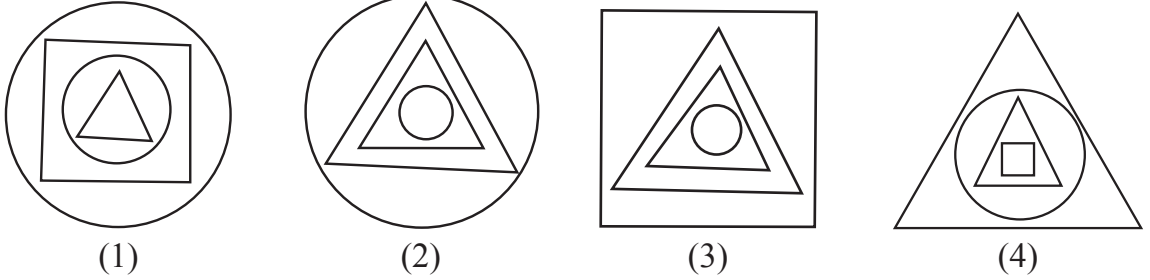
68. (512, 64), (216, 36), (27, 9)

- (1) (1, 1) (2) (16, 4)
(3) (353, 49) (4) (225, 25)

69. సమస్యాత్మక చిత్రం :



సమాధాన ఆకృతులు :



70. ఒక సంకేత (కోడ్) భాషలో 'జగడ'ను 'జరఫగడ'గా, 'గులాబ్'ను 'గురఫులాబ్'గా మరియు 'చిలకా'ను 'చిరఫిలకా'గా రాస్తారు. అయిన అదే భాషలో 'నూతన' పదంను ఎలా రాస్తారు?

- (1) నూరఫతన (2) నూరఫూతన
(3) నూరఫూనత (4) నూతరఫూన










71. ఒక సంకేత (కోడ్) భాషలో $35 = 345$, $48 = 4168$ మరియు $29 = 2499$ ఇలా రాసారు. అటువంటి భాషలో $58 =$ ఎంత?

- (1) 538 (2) 5138
(3) 5258 (4) 598








SPACE FOR ROUGH WORK

A	B	C	D	E	F	G	H	I	J	K	L	M	N	O	P	Q	R	S	T	U	V	W	X	Y
---	---	---	---	---	---	---	---	---	---	---	---	---	---	---	---	---	---	---	---	---	---	---	---	---

Q.72. and Q.73. Direction :

Symbol	  	  	  
Code	5 2 6	6 8 9	3 9 2










In the above frame the sequence of symbols and digits may not necessarily be the same. Observe the code in the above frame and answer the questions.

72. In the above code language which digits will represent the symbol   
- (1) 852 (2) 956
(3) 952 (4) 928
73. $\oplus + \boxtimes \times \bullet - \star = ?$
- (1)  (2) 
(3)  (4) 
74. While climbing the ramp near the school gate your physically disabled friend slipped off. What will you do at this moment?
- (1) I will inform the Head-master of my school immediately.
(2) I will ignore him and go into the class.
(3) I will laugh at him by seeing him in this embarrassing situation.
(4) I will support him and help him to go to the classroom.
75. You and your school friends go for a school picnic at Raigad fort. Which of the below mentioned student's action is correct?
- (1) Pranjal stands on the surrounding wall of the fort and clicks selfie.
(2) Suyash has thrown the empty water bottle on the fort.
(3) Manasi climbed up and came down the fort carefully.
(4) Ayub has beautifully written school's name on the wall of the fort.

SPACE FOR ROUGH WORK

A	B	C	D	E	F	G	H	I	J	K	L	M	N	O	P	Q	R	S	T	U	V	W	X	Y
---	---	---	---	---	---	---	---	---	---	---	---	---	---	---	---	---	---	---	---	---	---	---	---	---

ప్రశ్న 72 మరియు 73 కొరకు సూచన :

చిహ్నము									
సంకేత రూపం	5	2	6	6	8	9	3	9	2

పై పట్టికలోని చిహ్నాలు మరియు అంకెల క్రమము ఒకే విధంగా ఉంటుందని చెప్పలేము. దానిని గుర్తించి సమాధానంలను ఎన్నుకోండి.

72. పై సంకేత (కోడ్) భాషలో    చిహ్న కొరకు ఏ అంకెలు వచ్చును?

- (1) 852 (2) 956
(3) 952 (4) 928

73.  +  ×  -  = ఎంత?

- (1)  (2) 
(3)  (4) 

74. పాఠశాల ప్రవేశద్వారం దగ్గర నీ దివ్యాంగ (వికలాంగ) మిత్రుడు ర్యాంప్ (దివ్యాంగుల కొరకు వాలుగల దారి) ఎక్కేటప్పుడు కాలు జారి కింద పడెను. అప్పుడు అతనిని చూసి నీవేం చేస్తావు?

- (1) పరుగెత్తుకుంటూ వెళ్ళి ప్రధానోపాధ్యాడికి చెప్తాను.
(2) అతనిని నిర్లక్ష్యం చేసి తరగతి గదిలోకి వెళ్తాను.
(3) వికలాంగ (దివ్యాంగ) మిత్రుడికి జరిగిన ఎగతాళిని చూసి చాలా నవ్వుతాను.
(4) దివ్యాంగ మిత్రుడికి ఆధారాన్ని ఇచ్చి, అతనిని తరగతి గదివరకు తీసుకొని వెళ్తాను.

75. రాయగడ్ కోట చూడడానికి పాఠశాలలోని విద్యార్థులందరూ విహారయాత్రకు వెళ్ళారు. అయిన కింది వాటిలో విద్యార్థి యొక్క ఏకృతి సరియైనది?

- (1) కోటపై తిన్నతరువాత చెత్తను అలాగే వదిలివచ్చారు.
(2) సుయష్ నీటి ఖాళీ సీసాను కోటపైనే విసిరివేశాడు?
(3) మానసి కోటపైకి నిదానంగా ఎక్కింది మరియు కోటపై నుంచి నిదానంగా కిందికి దిగింది.
(4) ఆయుబ్ కోట గోడపై అందమైన అక్షరాలలో పాఠశాల పేరును రాశాడు.

SPACE FOR ROUGH WORK

SPACE FOR ROUGH WORK