

पूर्व उच्च प्राथमिक शिष्यवृत्ती परीक्षा (इयत्ता 5 वी), फेब्रुवारी 2024

बैठक क्र.

--	--	--	--	--	--	--	--	--	--

संच



0 1 0 2

पेपर क्र. - II

वेळ : 02:00 ते 03:30

माध्यम : मराठी



एकूण गुण : 150

तृतीय भाषा व बुद्धिमत्ता चाचणी

पृष्ठ : 32

प्रश्नपत्रिका सोडविण्यापूर्वी कृपया खालील सूचना काळजीपूर्वक वाचा :

- (1) या प्रश्नपत्रिकेत दोन विभाग आहेत. त्यापैकी विभाग I मध्ये तृतीय भाषा विषयासाठी 1 ते 25 व विभाग II मध्ये बुद्धिमत्ता चाचणी विषयासाठी 26 ते 75 असे एकूण 75 प्रश्न आहेत. सर्व प्रश्न सोडविणे आवश्यक आहे.
- (2) प्रत्येक प्रश्नासाठी 2 गुण आहेत.
- (3) प्रश्नपत्रिका सोडविण्यासाठी एकूण 90 मिनिटांचा कालावधी दिला जाईल.
- (4) उत्तरे नोंदविण्यासाठी स्वतंत्र उत्तरपत्रिका दिलेली आहे. प्रत्येक प्रश्नक्रमांकासमोर चार पर्यायासाठी क्रमागत वर्तुळे दिलेली आहेत. त्यातील अचूक उत्तराचा पर्याय क्रमांक असलेले वर्तुळ पुढील उदाहरणात दाखविल्याप्रमाणे रंगवा. उदा. प्रश्न क्र. 6 च्या बरोबर उत्तराचा पर्याय क्र. 2 असेल, तर तो पुढीलप्रमाणे नोंदवावा.
प्रश्न क्र. 6 ① ● ③ ④
- (5) खालीलप्रमाणे नोंदविलेली उत्तरे ग्राह्य धरण्यात येणार नाहीत. असे उत्तर नोंदविल्यास त्या प्रश्नास 'शून्य' गुण दिले जातील. ✓ ② ● ✗
- (6) प्रत्येक प्रश्नासाठी एकापेक्षा अधिक वर्तुळात नोंदविलेली उत्तरे, खाडाखोड करून नोंदविलेली उत्तरे ग्राह्य धरण्यात येणार नाहीत.
- (7) एकदा नोंदविलेली उत्तरे पुन्हा बदलता येणार नाहीत.
- (8) पर्यायाची उत्तरे नोंदविताना फक्त काळ्या किंवा निळ्या रंगाच्या बॉलपेनचाच वापर करावा. पेन्सिलने नोंदविलेली उत्तरे ग्राह्य धरण्यात येणार नाहीत.
- (9) प्रश्नपत्रिकेत प्रत्येक पानावर खाली व शेवटच्या पानावर कच्चे काम करण्यासाठी मोकळी जागा आहे, तेथेच कच्चे काम करावे.
- (10) परीक्षेस मर्यादित वेळ असल्याने एखाद्या प्रश्नाचे उत्तर तुम्हाला येत नसल्यास पुढील प्रश्न सोडवा. शेवटी वेळ शिल्लक राहिल्यास उरलेल्या प्रश्नांसाठी पुन्हा प्रयत्न करावा.
- (11) एखाद्या प्रश्नात त्रुटी/चूक आढळल्यास त्याबाबत पर्यवेक्षक किंवा परीक्षा केंद्रसंचालक यांच्याकडे विचारणा करू नये.
- (12) प्रश्नातील त्रुटी/चूक/आक्षेपाबाबतचे निवेदन शाळेने किंवा पालकांनी गटशिक्षणाधिकारी किंवा शिक्षणाधिकारी यांच्याकडे लेखी स्वरूपात न पाठवता संबंधित शाळेच्या लॉगीन मधून ऑनलाईन पद्धतीनेच पाठवावे.
- (13) त्रुटी/चूक/आक्षेपाबाबतचे निवेदन ऑनलाईन पद्धतीने पाठविण्याची मुदत परीक्षा परिषदेच्या संकेतस्थळावर अंतरिम (तात्पुरती) उत्तरसूची प्रसिद्ध झाल्यापासून 10 (दहा) दिवसांपर्यंत राहिल.
- (14) मुद्रणदोष किंवा अन्य कारणांमुळे प्रश्न चुकीचा असल्याचे आढळल्यास तज्ञ समितीच्या अभिप्रायानुसार योग्य ती कार्यवाही केली जाईल.
- (15) मूळ माध्यमासोबत इंग्रजी भाषेतील प्रश्नपत्रिका दिलेली आहे. मूळ माध्यमातील संदिग्ध प्रश्नांबाबत इंग्रजी प्रश्न पहावेत.

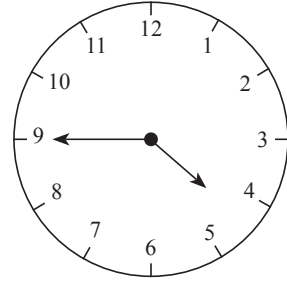
SECTION - I

ENGLISH

01. Choose the incorrect options.

The clock shows the time _____.

- (1) quarter to 5
- (2) three quarters past 4
- (3) two quarters past 5
- (4) 45 minutes past 4



02. Choose the proper punctuation mark in the end of the sentence.

'That's an excellent idea □'

- (1) ?
- (2) ,
- (3) .
- (4) !

03. Select the correct option.

We should cut our hair _____.

- (1) hardly
- (2) regularly
- (3) terribly
- (4) recently

Instructions for Q. 04 and Q. 05

Fresh Fruits
Vegetables
From Daisy's shop

▶ **healthy** ▶ **juicy** ▶ **tasty**

Fruits and Vegetables
59, Mint Street,
Trichy

SPACE FOR ROUGH WORK

04. Fill in the blank with correct option.

This advertisement is based on _____.

- (1) fruits and meat (2) vegan and diary
(3) fruits and smoothie (4) vegetables and fruits

05. Select the motto for the advertisement.

- (1) Health is Wealth (2) Truth is Gold
(3) Green and clean Earth (4) Never stop learning

06. Choose the correct alternative for the given sentence.

'hooray! teacher, we want to play kho-kho'.

- (1) Capital 'H' for hooray
(2) Capital 'T' for teacher
(3) Capital 'W' for we
(4) Capital 'H' for hooray and Capital 'T' for teacher

07. Choose the correct pair from the given alternatives.

- (1) A flock of bees (2) A flock of geese
(3) A bundle of children (4) A swarm of dogs

08. Pick out the missing colour of a 'rainbow.'

Red, Orange, Yellow, Green, Blue, _____ and violet.

- (1) Indigo (2) White
(3) Pink (4) Purple

SPACE FOR ROUGH WORK

09. Choose the correct contracted form of the underlined words in the given sentence.

'I am not interested.'

- (1) aren't (2) ain't
(3) am't (4) arent'

10. Fill in the blank.

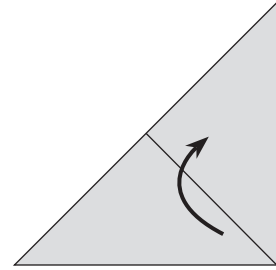
'France is _____ European country.'

- (1) an (2) the
(3) a (4) no article

11. Observe the diagram carefully and find the answer from the alternatives.

Fold the paper in the _____ direction.

- (1) South
(2) Upward
(3) South West
(4) Downward



12. Which of the following is a permission?

- (1) You are welcome (2) I drink water
(3) Please come in (4) Don't make noise

SPACE FOR ROUGH WORK

Instructions for Q. 13 to Q. 15 :

Read the passage carefully and answer the following questions.

A dictionary is a must for a student. You can begin with simple, attractive dictionaries and then learn to use the more difficult ones later. So, the next time you come across a difficult word, don't fret. Just look it up in a dictionary.

13. What is a must for a student?

- (1) A diary (2) A muster
(3) A library (4) A dictionary

14. Find the opposite word for 'Easy'.

- (1) Weak (2) Just
(3) Difficult (4) Across

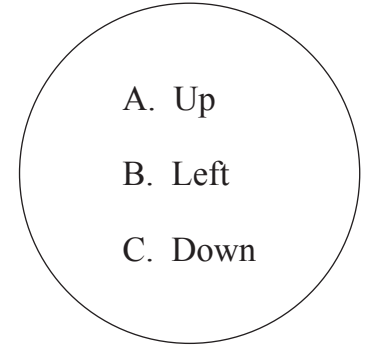
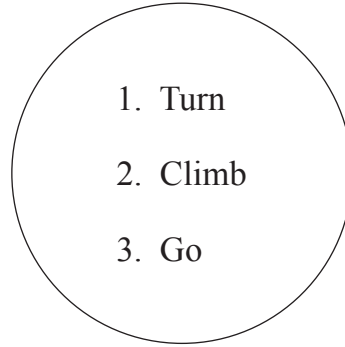
15. Fill in the blank with correct alternative.

One can begin with _____ , _____ dictionaries.

- (1) simple , attractive (2) simple , difficult
(3) must , next (4) more , fret

16. Match the correct instructions from the given alternatives.

- (1) 1-A, 2-B, 3-C
(2) 1-C, 2-A, 3-B
(3) 1-B, 2-A, 3-C
(4) 1-C, 2-B, 3-A



SPACE FOR ROUGH WORK

17. Fill in the blanks.

Joseph has a brand _____ bicycle.

- (1) knew (2) new
(3) now (4) no

18. Select the rhyming word for the correct action word from the given table.

dig	bib
tar	fin

- (1) far (2) rib
(3) fig (4) bin

19. Fill in the blank.

_____, no ! My mobile is ringing.

- (1) Alas (2) Oh
(3) Brave (4) Ouch

20. Choose the correct ordinal number for 'December'.

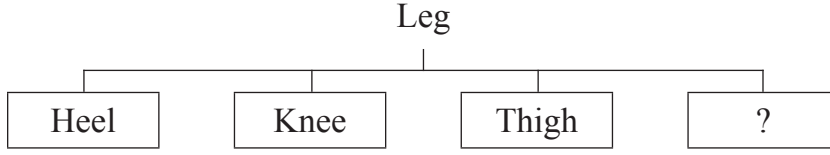
- (1) Twelfth (2) Twelvth
(3) Twelfth (4) Twelve

21. Find the shape of dice used in 'Ludo' game from the given alternatives.

- (1) cuboid (2) cube
(3) sphere (4) cone

SPACE FOR ROUGH WORK

22. Look at the chart and find the correct option.



- (1) Fist (2) Stomach
(3) Jaw (4) Toes

23. How will Salim greet Vandana on her birthday?

- (1) Happy birthday! (2) Congratulations!
(3) Best of luck! (4) Rest in peace!

24. Solve the riddle.

I can help you to heat
and cook different types of food.

Who am I?

- (1) Microwave (2) Blender
(3) Refrigerator (4) Chimney

25. Arrange the numbers to make meaningful word.

N	I	O	D	A	R	S	U
1	2	3	4	5	6	7	8

- (1) 42153687 (2) 42137586
(3) 76853124 (4) 68753421

SPACE FOR ROUGH WORK

SECTION - II

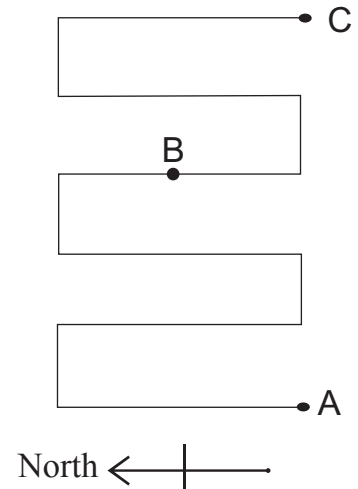
INTELLIGENCE TEST

26. In a row Sameer is at twenty third position from front and nineteenth position from back. What is the position of Raj from back, who is standing at 5th place behind the middle position boy?

- (1) 16th (2) 28th (3) 13th (4) 27th

27. In the given path while walking from 'A' to 'B' how many times will you face the north direction?

- (1) 2
(2) 3
(3) 5
(4) 6



28. Some birds are sitting on tree 'A' and some birds are sitting on tree 'B'. If one bird from tree 'A' went on tree 'B' then the number of birds on tree 'B' will be twice the number of birds on tree 'A' and if one bird from tree 'A' will go on tree 'B' then the number of birds on both the trees will be equal. Now initially how many birds were sitting on tree 'A' and 'B' respectively.

- (1) 3, 5 (2) 7, 5 (3) 5, 7 (4) 5, 3

Q. 29 to Q. 33 Direction :

In the following questions, first pair has some relationship between first two terms. The same relation holds true for the second pair. Identify the relation and select the correct alternative to replace the question mark.

SPACE FOR ROUGH WORK

विभाग - II

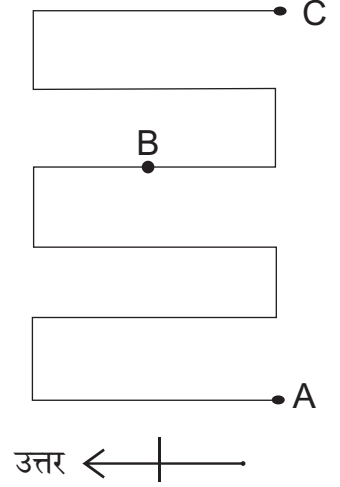
बुद्धिमत्ता चाचणी

26. एका रांगेत समीरचा सुरूवातीपासून तेवीसावा व शेवटून एकोणीसावा क्रमांक असल्यास मधल्या मुलाच्या मागे 5 व्या क्रमांकावर असणाऱ्या राजचे शेवटून कितवे स्थान असेल?

- (1) 16 वे (2) 28 वे (3) 13 वे (4) 27 वे

27. सोबतच्या मार्गावरून 'A' ठिकाणाहून 'B' ठिकाणी पोहोचताना कितीवेळा उत्तरेकडे तोंड येईल?

- (1) 2
(2) 3
(3) 5
(4) 6



28. 'A' झाडावर काही पक्षी व 'B' झाडावर काही पक्षी बसलेले आहेत. जर 'A' झाडावरील एक पक्षी 'B' झाडावरील पक्ष्यांमध्ये गेला; तर 'B' झाडावरील पक्षी दुप्पट होतील आणि 'B' झाडावरील एक पक्षी 'A' झाडावर गेल्यास दोन्ही झाडांवरील पक्षी समान होतील; तर सुरुवातीला 'A' व 'B' झाडांवर अनुक्रमे किती पक्षी होते?

- (1) 3, 5 (2) 7, 5 (3) 5, 7 (4) 5, 3

प्रश्न क्र. 29 ते 33 साठी सूचना -

पहिल्या पदाचा दुसऱ्या पदाशी जसा संबंध आहे; तसाच संबंध तिसऱ्या पदाचा चौथ्या पदाशी आहे, हे लक्षात घेऊन प्रश्नचिन्हाच्या जागी येणारे पद पर्यायांतून निवडा.

कच्च्या कामासाठी फक्त

A	B	C	D	E	F	G	H	I	J	K	L	M	N	O	P	Q	R	S	T	U	V	W	X	Y
---	---	---	---	---	---	---	---	---	---	---	---	---	---	---	---	---	---	---	---	---	---	---	---	---

29. कडू : गोड :: शीतल : ?

- (1) उष्णता (2) प्रखरता (3) सौम्य (4) उष्ण

30. श्यामची आई : सानेगुरूजी :: अग्नीपंख : ?

- (1) जयंत नारळीकर (2) डॉ. ए.पी.जे. अब्दुल कलाम
(3) प्रणव मुखर्जी (4) डॉ. होमी भाभा

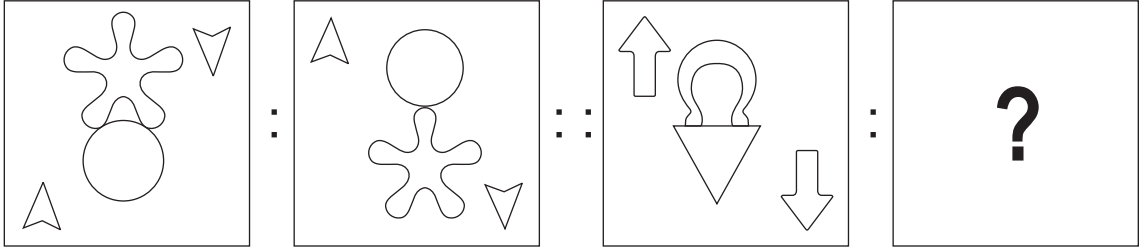
31. 37 : 40 :: 25 : ?

- (1) 19 (2) 27 (3) 21 (4) 30

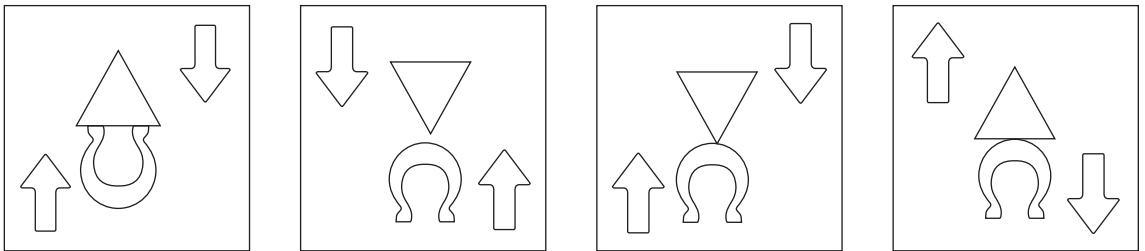
32. 14 : 15 :: 32 : ?

- (1) 35 (2) 42 (3) 31 (4) 18

33. प्रश्नाकृत्या :



उत्तर आकृत्या :



(1)

(2)

(3)

(4)

कच्च्या कामासाठी फक्त

A	B	C	D	E	F	G	H	I	J	K	L	M	N	O	P	Q	R	S	T	U	V	W	X	Y
---	---	---	---	---	---	---	---	---	---	---	---	---	---	---	---	---	---	---	---	---	---	---	---	---

34. John, who is born on 5th January 2001 Friday, is 100 days elder to Shanaya then on which day was Shanaya's first birthday?

- (1) Thursday (2) Tuesday (3) Wednesday (4) Monday

35. Select the number to replace the question mark in the given grid.

75	7	25
18	33	63
?	52	12

- (1) 46 (2) 42 (3) 35 (4) 48

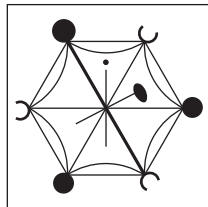
36. In a certain code language if 25 = 532, 57 = 725 and 34 = 413 then how will you write 14 in the same code language?

- (1) 314 (2) 451 (3) 431 (4) 514

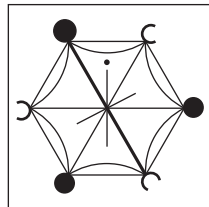
Q. 37 and Q. 38 Direction :

Identify the figure which exactly matches with the question figure from the four alternatives given below.

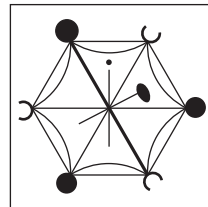
37. **Question Figure :**



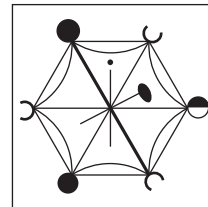
Answer Figures :



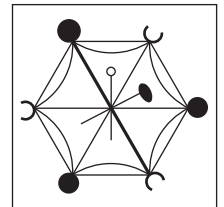
(1)



(2)



(3)



(4)

SPACE FOR ROUGH WORK

A	B	C	D	E	F	G	H	I	J	K	L	M	N	O	P	Q	R	S	T	U	V	W	X	Y
---	---	---	---	---	---	---	---	---	---	---	---	---	---	---	---	---	---	---	---	---	---	---	---	---

34. 5 जानेवारी 2001 ला शुक्रवारी जन्मलेला जॉन शनायापेक्षा 100 दिवसांनी मोठा आहे, तर शनायाचा पहिला वाढदिवस कोणत्या वारी आला असेल?

- (1) गुरुवार (2) मंगळवार (3) बुधवार (4) सोमवार

35. खालील चौकोनात प्रश्नचिन्हाच्या जागी कोणती संख्या येईल?

75	7	25
18	33	63
?	52	12

- (1) 46 (2) 42 (3) 35 (4) 48

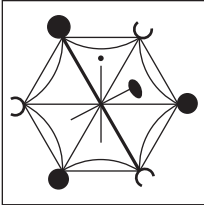
36. एका सांकेतिक भाषेत $25 = 532$, $57 = 725$ आणि $34 = 413$ असे लिहितात; तर त्याच सांकेतिक भाषेत 14 ही संख्या कशी लिहाल?

- (1) 314 (2) 451 (3) 431 (4) 514

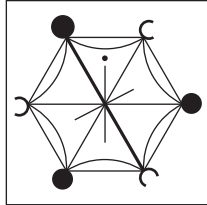
प्रश्न क्र. 37 व 38 साठी सूचना -

खालील प्रश्नाकृतीशी तंतोतंत जुळणारी आकृती पर्यायांतून शोधा.

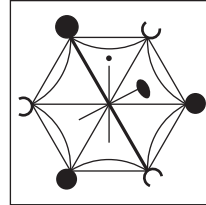
37. प्रश्नाकृती :



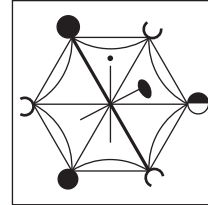
उत्तर आकृत्या :



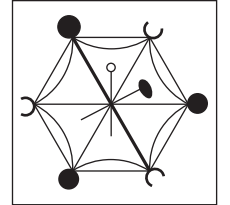
(1)



(2)



(3)








(4)

कच्च्या कामासाठी फक्त

38. प्रश्नाकृती :

उत्तर आकृत्या :



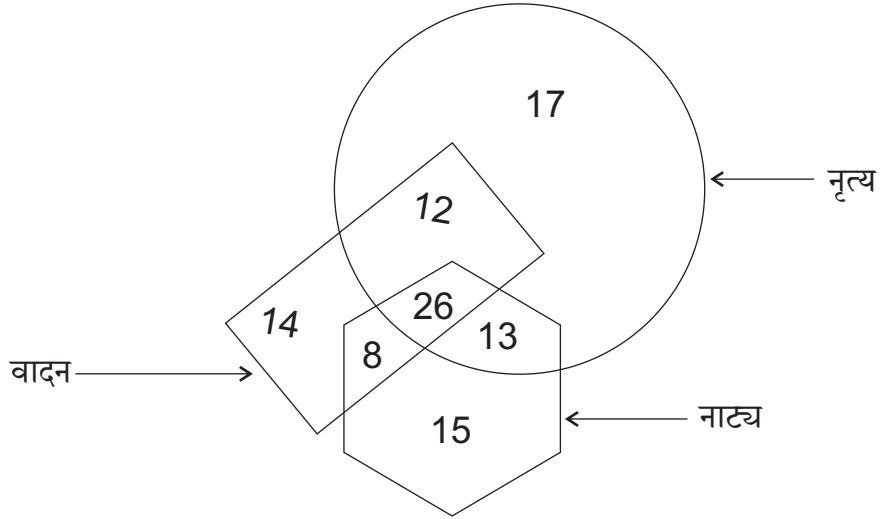
(1)

(2)

(3)

(4)

39. सोबतच्या आकृतीत एका शाळेतील नृत्य, नाट्य आणि वादन या क्षेत्रात आवड असणाऱ्यांची संख्या दर्शविली आहे. यावरून किमान दोन क्षेत्रात आवड असणाऱ्यांची संख्या किती?



(1) 59

(2) 33

(3) 46

(4) 20

प्रश्न क्र. 40 ते 44 साठी सूचना -

खालील प्रश्नांतील तीन पदांचा एका विशिष्ट वैशिष्ट्यानुसार एक गट तयार होतो. ते वैशिष्ट्य लक्षात घेऊन गटाशी जुळणारे पद पर्यायांतून निवडा.

40. वादळ, त्सुनामी, महापूर

(1) पाऊस

(2) अपघात

(3) दुष्काळ

(4) महासागर

कच्च्या कामासाठी फक्त

A	B	C	D	E	F	G	H	I	J	K	L	M	N	O	P	Q	R	S	T	U	V	W	X	Y
---	---	---	---	---	---	---	---	---	---	---	---	---	---	---	---	---	---	---	---	---	---	---	---	---

41. Potter, Carpenter, Doctor

- (1) Wood (2) Medicine (3) Study (4) Tailor


42. 9 (31) 5 , 7 (17) 4 , 8 (13) 3

- (1) 8 (26) 5 (2) 7 (23) 5 (3) 7 (17) 3 (4) 6 (20) 2

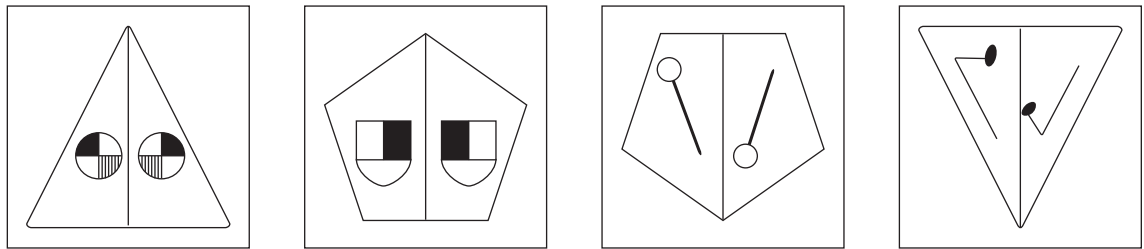
43. $\frac{18}{42}$, $\frac{27}{63}$, $\frac{36}{84}$

- (1) $\frac{24}{72}$ (2) $\frac{51}{119}$ (3) $\frac{30}{60}$ (4) $\frac{72}{120}$

44. Question Figures:



Answer Figures:



(1)

(2)

(3)

(4)

45. In a certain code language if $[3, 4] \left[\frac{2}{5} \right] = 26$, $[1, 3] \left[\frac{2}{7} \right] = 23$ and $[2, 5] \left[\frac{6}{7} \right] = 47$ then in the same code language how will you write $[2, 7] \left[\frac{5}{6} \right]$?

- (1) 52 (2) 20 (3) 42 (4) 62

SPACE FOR ROUGH WORK

A	B	C	D	E	F	G	H	I	J	K	L	M	N	O	P	Q	R	S	T	U	V	W	X	Y
---	---	---	---	---	---	---	---	---	---	---	---	---	---	---	---	---	---	---	---	---	---	---	---	---

41. दिमाख, रूबाब, डौल

- (1) श्रीमंती (2) वैभव (3) ऐक्य (4) ताठा

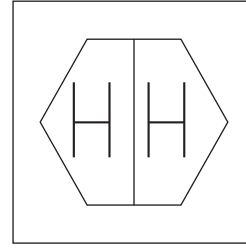
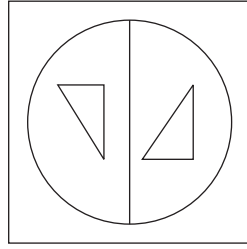
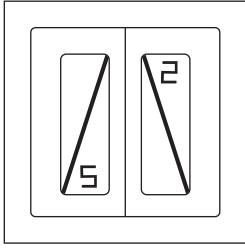
42. 9 (31) 5 , 7 (17) 4 , 8 (13) 3

- (1) 8 (26) 5 (2) 7 (23) 5 (3) 7 (17) 3 (4) 6 (20) 2

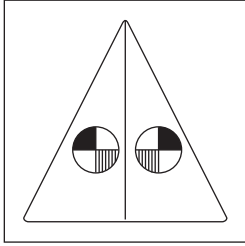
43. $\frac{18}{42}$, $\frac{27}{63}$, $\frac{36}{84}$

- (1) $\frac{24}{72}$ (2) $\frac{51}{119}$ (3) $\frac{30}{60}$ (4) $\frac{72}{120}$

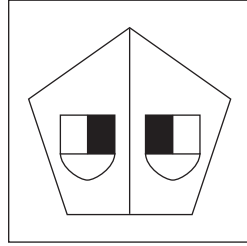
44. प्रश्नाकृत्या :



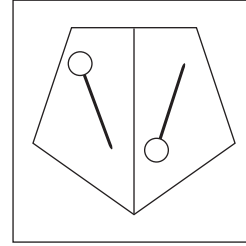
उत्तर आकृत्या :



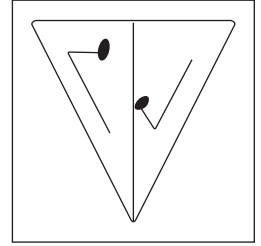
(1)



(2)



(3)



(4)

45. एका सांकेतिक भाषेत $[3, 4] \left[\frac{2}{5} \right] = 26$, $[1, 3] \left[\frac{2}{7} \right] = 23$ आणि $[2, 5] \left[\frac{6}{7} \right] = 47$

असे लिहितात; तर त्याच सांकेतिक भाषेत $[2, 7] \left[\frac{5}{6} \right]$ हे कसे लिहाल?

- (1) 52 (2) 20 (3) 42 (4) 62

कच्च्या कामासाठी फक्त

A	B	C	D	E	F	G	H	I	J	K	L	M	N	O	P	Q	R	S	T	U	V	W	X	Y
---	---	---	---	---	---	---	---	---	---	---	---	---	---	---	---	---	---	---	---	---	---	---	---	---

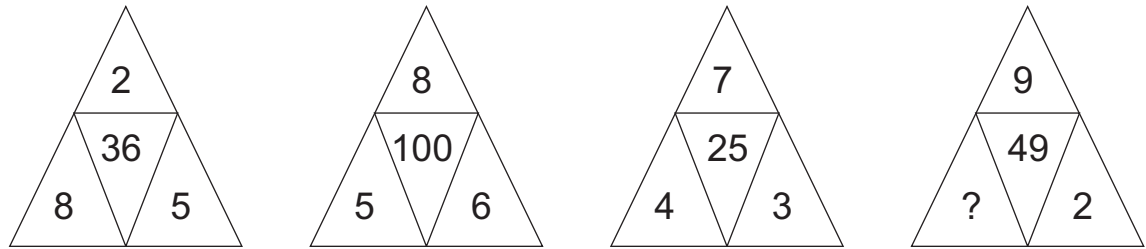
46. Statement A : Sourabh is 17 years old and he is three years younger than Seema.
Statement B : Sharayu is younger than Sharad, her age is 21 years.
Select the correct conclusion of statement A and B from the given alternatives.

- (1) Sharayu is younger than Sourabh by 4 years.
- (2) Sharad is younger than Seema.
- (3) Seema is 14 years old.
- (4) Sourabh is youngest in all of them.

47. In a certain code language if COW = 274, CAT = 684 and WET = 825 then in the same code language how will you write GOAT? [The order of letters and numbers may not be one to one.]

- (1) 4768
- (2) 7186
- (3) 8765
- (4) 1785

48. In the following question select the correct alternative to replace the question mark.



- (1) 5
- (2) 4
- (3) 3
- (4) 1

49. Observe the table of alphabets and signs and find the word opposite to 'Good'.

A	B	C	D	E	F	G
Δ	□	⊗	+	●		\

- (1) □ Δ +
- (2) ⊗ Δ +
- (3) ● □ +
- (4) □ ● ⊗

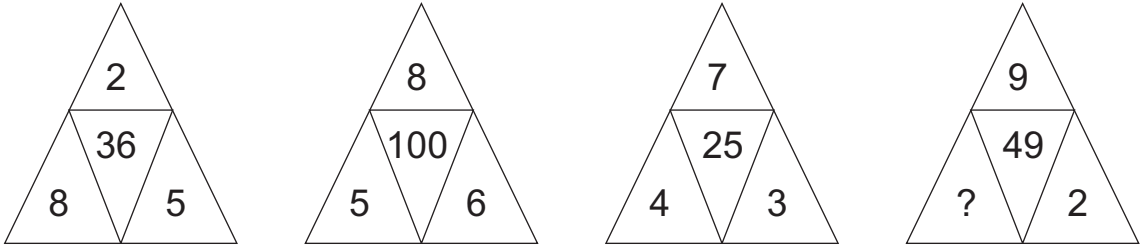
SPACE FOR ROUGH WORK

A	B	C	D	E	F	G	H	I	J	K	L	M	N	O	P	Q	R	S	T	U	V	W	X	Y
---	---	---	---	---	---	---	---	---	---	---	---	---	---	---	---	---	---	---	---	---	---	---	---	---

46. विधान : (अ) सौरभ 17 वर्षांचा असून सीमापेक्षा तीन वर्षांनी लहान आहे.
 (ब) शरयु शरदपेक्षा लहान असून तिचे वय 21 वर्षे आहे.
 यावरून खालीलपैकी कोणते अचूक अनुमान निघते ते पर्यायांवरून निश्चित करा.
- (1) शरयु सौरभपेक्षा चार वर्षांनी लहान आहे.
 - (2) शरद सीमापेक्षा लहान आहे.
 - (3) सीमाचे वय 14 वर्षे आहे.
 - (4) वयाने सर्वात लहान सौरभ आहे.

47. एका सांकेतिक भाषेत COW = 274, CAT = 684 आणि WET = 825 असे लिहितात, तर त्याच सांकेतिक भाषेत GOAT हा शब्द कसा लिहाल?
 (सूचना: अक्षरे व अंकांचा क्रम सारखा असेलच असे नाही.)
- (1) 4768
 - (2) 7186
 - (3) 8765
 - (4) 1785

48. खालील प्रश्नात प्रश्नचिन्हाच्या जागी कोणती संख्या येईल?



- (1) 5
- (2) 4
- (3) 3
- (4) 1

- 49.

म	ए	ठ	क	ब	ड	र	काना	मात्रा	अनुस्वार	वेलांटी
+	-	●	△	○	▼	□	÷	≠	@	×

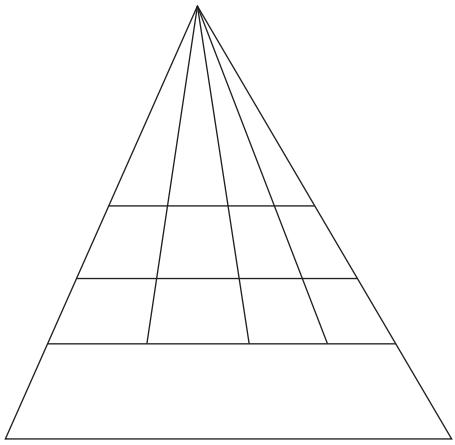
वरील तक्त्यातील अक्षरे, चिन्हे यांचा वापर करून 'एडका' या शब्दाचा विरुद्धलिंगी शब्द कसा लिहाल?

- (1) + ≠ @ ● ×
- (2) ○ △ □ ×
- (3) - ▼ △ ×
- (4) - ▼ △ ÷

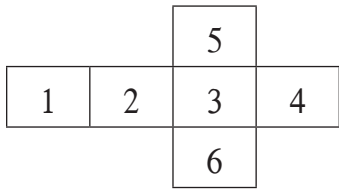
कच्च्या कामासाठी फक्त

50. How many quadrilaterals are there in the given figure.

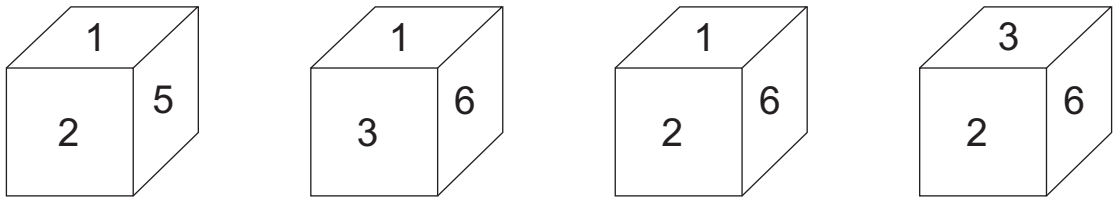
- (1) 60
- (2) 30
- (3) 33
- (4) 32



51.



Observe the given figure. When figure is folded on lines then which of the following cube is not formed?



- (1)
- (2)
- (3)
- (4)

52. In the given series, select the correct alternative to replace the question mark.

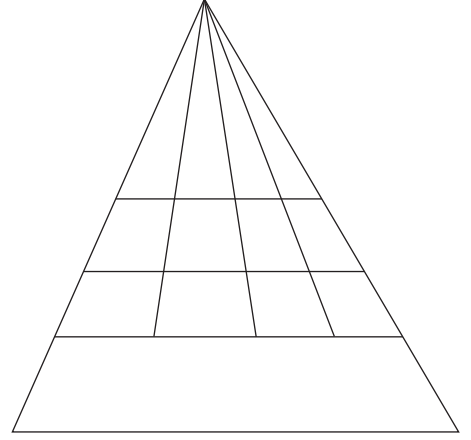


- (1) Triangle, Hexagon, Heart, Oval
- (2) Triangle, Hexagon, Oval, Heart
- (3) Hexagon, Triangle, Oval, Heart
- (4) Heart, Triangle, Hexagon, Oval

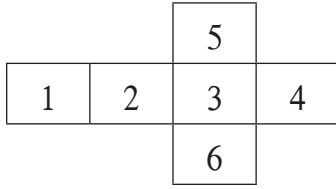
SPACE FOR ROUGH WORK

50. सोबतच्या आकृतीत चौकोनांची संख्या किती आहे?

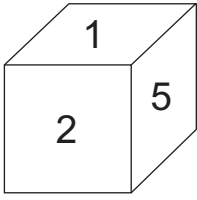
- (1) 60
- (2) 30
- (3) 33
- (4) 32



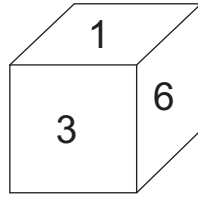
51.



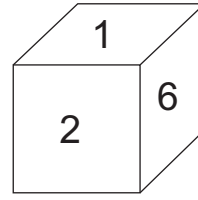
सोबतची आकृती ठळक रेषांवर दुमडून घन तयार केल्यास खालीलपैकी कोणती घनाकृती तयार होणार नाही?



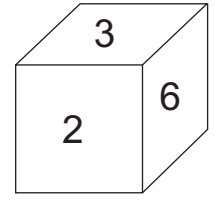
(1)



(2)



(3)



(4)

52. खालील चिन्हांच्या मालिकेत प्रश्नचिन्हाच्या जागी येणारा गट पर्यायांतून निवडा.



कच्च्या कामासाठी फक्त

A	B	C	D	E	F	G	H	I	J	K	L	M	N	O	P	Q	R	S	T	U	V	W	X	Y
---	---	---	---	---	---	---	---	---	---	---	---	---	---	---	---	---	---	---	---	---	---	---	---	---

53. Identify the pattern of numbers in the series and select the wrong term.

3, 1, 6, 7, 10, 26, 15, 63, 21

- (1) 1 (2) 7 (3) 15 (4) 21


54. Varsha was facing the setting sun, she turned at 135° twice to her right side and went straight in her house then in which direction is the door facing?

- (1) South (2) South-East (3) North (4) North-East

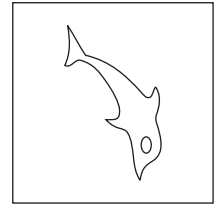
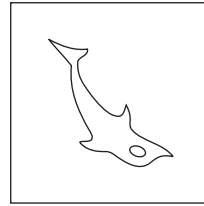


Q. 55 and Q. 56 Direction :

In each question a problem figure is held vertical above water surface. Identify its water reflection and select the correct alternative.

55. **Question Figure :**




Answer Figures :



- (1) (2) (3) (4)

56. **Question Figure :**



Answer Figures :



- (1) (2) (3) (4)

57. Which of the following is the correct example of homophone?

- (1) Seek - sick (2) Ship - sheep (3) Two - to (4) Ate - at

SPACE FOR ROUGH WORK

A	B	C	D	E	F	G	H	I	J	K	L	M	N	O	P	Q	R	S	T	U	V	W	X	Y
---	---	---	---	---	---	---	---	---	---	---	---	---	---	---	---	---	---	---	---	---	---	---	---	---

53. खालील संख्यामालिकेतील संख्या विशिष्ट क्रमाने मांडल्या आहेत. तो क्रम लक्षात घेऊन त्यातील चुकीचे पद ओळखा.

3 , 1 , 6 , 7 , 10 , 26 , 15 , 63 , 21

(1) 1 (2) 7 (3) 15 (4) 21


54. मावळत्या सूर्याला नमस्कार करणारी वर्षा 135 अंशातून दोन वेळा उजवीकडे वळून तिने सरळ घरात प्रवेश केला, तर घराचे प्रवेशद्वार कोणत्या दिशेस असेल?

(1) दक्षिण (2) आग्नेय (3) उत्तर (4) ईशान्य


प्रश्न क्र. 55 व 56 साठी सूचना -

खालील प्रश्नाकृतींचे पाण्यातील प्रतिबिंब पर्यायी उत्तर आकृत्यांमधून निवडा.


55. प्रश्नाकृती :



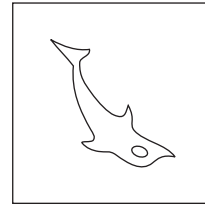
उत्तर आकृत्या :



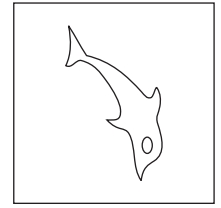
(1)



(2)



(3)



(4)

56. प्रश्नाकृती :



उत्तर आकृत्या :



(1)



(2)



(3)



(4)

57. खालीलपैकी जोडाक्षरी नसलेला शब्द कोणता?

(1) अक्षर (2) ज्ञानेश्वर (3) मृग (4) श्रेयस

कच्च्या कामासाठी फक्त

A	B	C	D	E	F	G	H	I	J	K	L	M	N	O	P	Q	R	S	T	U	V	W	X	Y
---	---	---	---	---	---	---	---	---	---	---	---	---	---	---	---	---	---	---	---	---	---	---	---	---

58. Read the poem carefully. Find out how many more or less three letter words than the 7 letter words are there in the poem.

‘Twinkle Twinkle little star,
how I wonder what you are?
up above the world so high,
like a diamond in the sky.

- (1) More by 3 (2) Less by 3 (3) Less by 2 (4) More by 4

59.

ABCDE	FGHIJ	KLMNO	PQRST	UVWXY
-------	-------	-------	-------	-------

In the above given alphabet series which of the given pair of alphabets indicate the difference $\frac{4}{3}$ times the difference between letter ‘H’ and letter ‘R’.

- (1) D - N (2) K - W (3) M - X (4) E - R

60. In the given number series the digits of every number are interchanged to form a new series. What is the addition of the prime numbers in the new series?

13	,	95	,	17	,	53	,	37	,	76	,	19	,	41
----	---	----	---	----	---	----	---	----	---	----	---	----	---	----

- (1) 180 (2) 301 (3) 300 (4) 181

Q. 61 to Q. 65 Direction :

Select the odd term.

61. (1) House (2) Planet (3) Cottage (4) Home
62. (1) 54 (2) 78 (3) 66 (4) 36
63. (1) 192 (2) 312 (3) 732 (4) 726

SPACE FOR ROUGH WORK

A	B	C	D	E	F	G	H	I	J	K	L	M	N	O	P	Q	R	S	T	U	V	W	X	Y
---	---	---	---	---	---	---	---	---	---	---	---	---	---	---	---	---	---	---	---	---	---	---	---	---

58. खालील काव्य पंक्तीत अ-कारांत शब्दांपेक्षा ई-कारांत शब्दांची संख्या कितीने कमी अगर जास्त आहे?

प्रियतम अमुची भारतमाता
आम्ही सारी तिची मुले,
रंग वेगळे गंध वेगळे
तरी येथली सर्व फुले।।

- (1) 2 ने जास्त (2) 3 ने कमी (3) 2 ने कमी (4) 3 ने जास्त

59.

ABCDE	FGHIJ	KLMNO	PQRST	UVWXY
-------	-------	-------	-------	-------

वरील अक्षरमालिकेत 'H' आणि 'R' या अक्षरांदरम्यान असणाऱ्या अक्षरांच्या संख्येपेक्षा $\frac{4}{3}$ पट अक्षरे खालीलपैकी कोणत्या जोडीत असतील?

- (1) D - N (2) K - W (3) M - X (4) E - R

60. खालील संख्यामालिकेतील प्रत्येक संख्येतील अंकांच्या स्थानांची अदलाबदल करून तयार होणाऱ्या संख्यांपैकी मूळसंख्यांची बेरीज किती येईल?

13	,	95	,	17	,	53	,	37	,	76	,	19	,	41
----	---	----	---	----	---	----	---	----	---	----	---	----	---	----

- (1) 180 (2) 301 (3) 300 (4) 181


प्रश्न क्र. 61 ते 65 साठी सूचना -

गटात न बसणारे पद ओळखून त्याच्या पर्याय क्रमांकाचे वर्तुळ रंगवा.

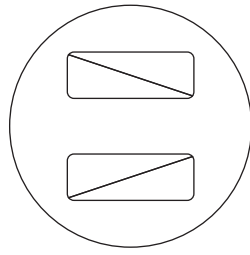
61. (1) धाम (2) ग्रह (3) आलय (4) सदन
62. (1) 54 (2) 78 (3) 66 (4) 36
63. (1) 192 (2) 312 (3) 732 (4) 726

कच्च्या कामासाठी फक्त

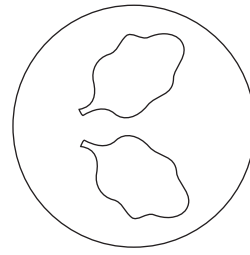
64.



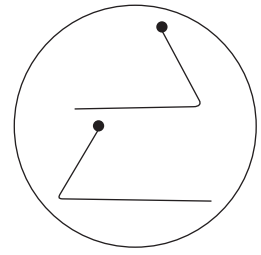
(1)



(2)

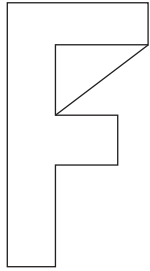


(3)

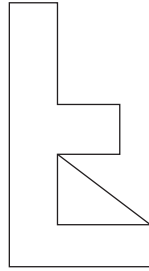


(4)

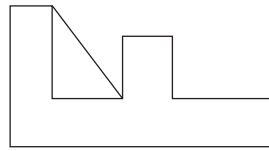
65.



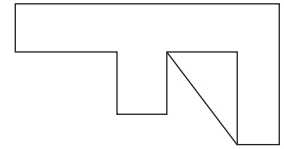
(1)



(2)



(3)



(4)

66.

Rahim's today's age is twice of Ram's today's age and $\frac{4}{3}$ times John's today's age. If three years ago Ram's age was 9 years then what is the sum of today's age of all three of them?

(1) 60

(2) 51

(3) 54

(4) 58

67.

In a certain code language if Tiger is called as Lion, Lion is called as Shekaru, Shekaru is called as Deer, Deer is called as Elephant then who of the following is called as Maharashtra's state animal?

(1) Tiger


(2) Lion

(3) Shekaru

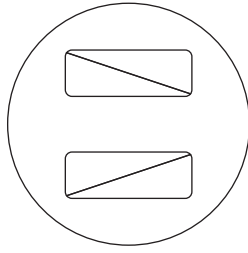
(4) Deer

SPACE FOR ROUGH WORK

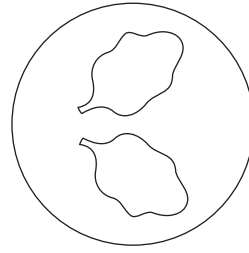
64.



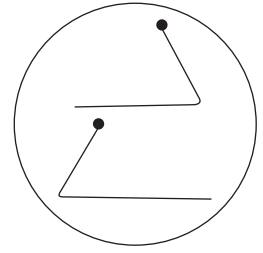
(1)



(2)




(3)

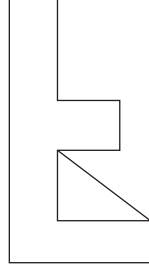


(4)

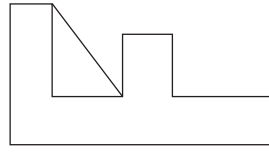
65.



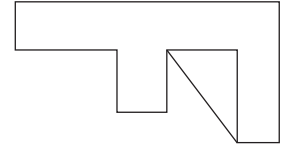
(1)



(2)



(3)



(4)

66. रहीमचे आजचे वय रामच्या आजच्या वयाच्या दुप्पट असून जॉनच्या आजच्या वयाच्या $\frac{4}{3}$ पट आहे. रामचे तीन वर्षांपूर्वीचे वय 9 वर्षे असेल; तर त्या तिघांच्या आजच्या वयांची बेरीज किती वर्षे असेल?

(1) 60

(2) 51

(3) 54

(4) 58

67. वाघाला सिंह म्हटले, सिंहाला शेकरू म्हटले, शेकरूला हरिण म्हटले, हरणाला हत्ती म्हटले; तर महाराष्ट्राचा राज्यप्राणी कोणास म्हणावे?

(1) वाघ

(2) सिंह

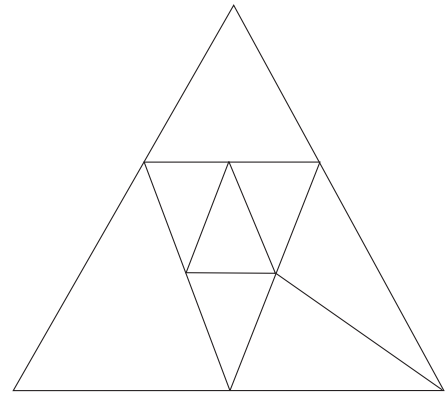
(3) शेकरू

(4) हरिण

कच्च्या कामासाठी फक्त

68. In the adjacent figure how many triangles are there?

- (1) 12
- (2) 11
- (3) 8
- (4) 9



Q. 69 to Q. 71 Direction :

Identify the sequence in the given terms / figures and select the correct alternative to replace the question mark.

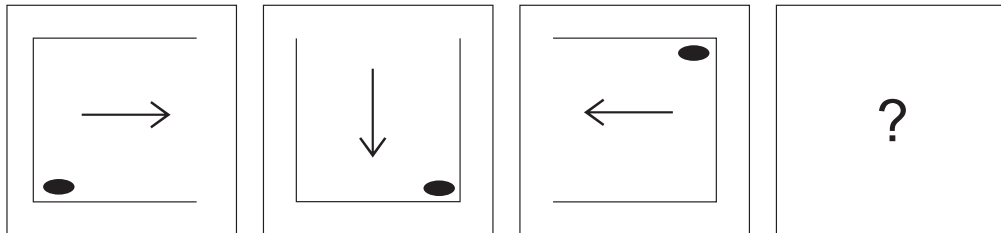
69. 841, ? , 361, 289, 169, 121

- (1) 729
- (2) 441
- (3) 625
- (4) 529

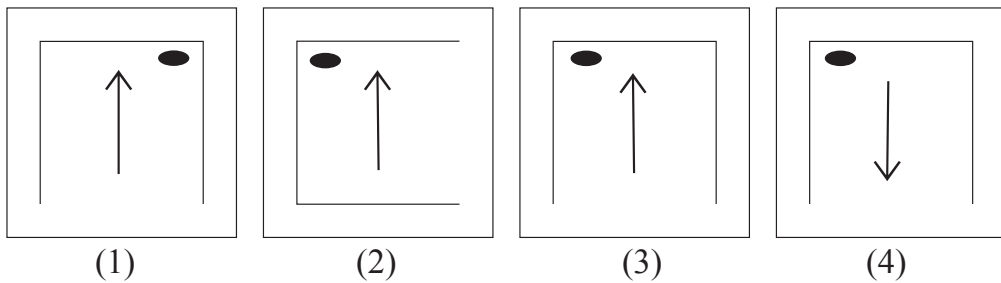
70. 91, 82, 74, 67, ? , 55, 50, 45

- (1) 61
- (2) 58
- (3) 62
- (4) 57

71. **Question Figures :**



Answer Figures :

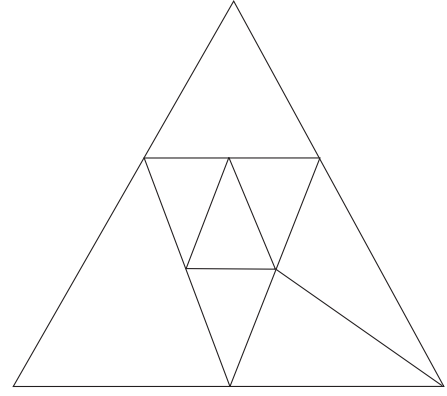


SPACE FOR ROUGH WORK

A	B	C	D	E	F	G	H	I	J	K	L	M	N	O	P	Q	R	S	T	U	V	W	X	Y
---	---	---	---	---	---	---	---	---	---	---	---	---	---	---	---	---	---	---	---	---	---	---	---	---

68. खालील आकृतीत एकूण किती त्रिकोण आहेत?

- (1) 12
(2) 11
(3) 8
(4) 9



प्रश्न क्र. 69 ते 71 साठी सूचना -

खालील पदांचा क्रम लक्षात घेऊन प्रश्नचिन्हाच्या जागी येणारे पद पर्यायांतून निवडा.

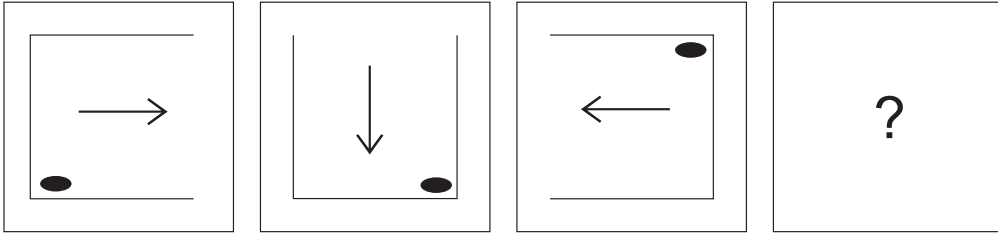
69. 841, ?, 361, 289, 169, 121

- (1) 729 (2) 441 (3) 625 (4) 529

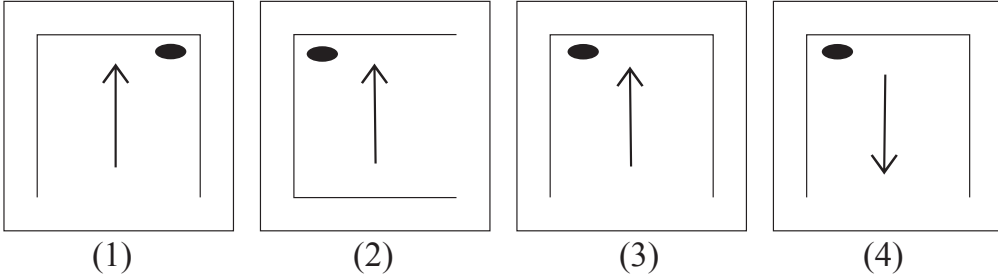
70. 91, 82, 74, 67, ?, 55, 50, 45

- (1) 61 (2) 58 (3) 62 (4) 57

71. प्रश्न आकृत्या :



उत्तर आकृत्या :

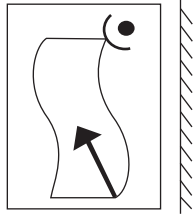


कच्च्या कामासाठी फक्त

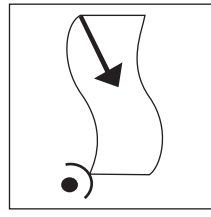
Q. 72 and Q. 73 Direction :

Find out the mirror image of each of the following question figure from the alternatives given.

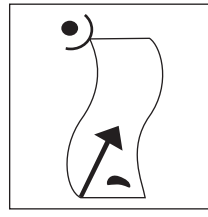
72. Question Figure :



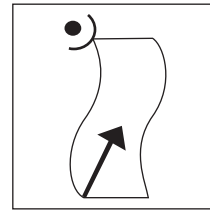
Answer Figures :



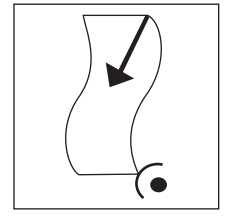
(1)



(2)




(3)



(4)


73. Question Figure :



Answer Figures :




(1)



(2)



(3)



(4)

74. If your friend misbehaves in front of everyone then what will you do?

- (1) I will beat him there itself.
- (2) I will breakup the friendship.
- (3) I will dishonour him amongst friends.
- (4) I will explain him properly about why he should not misbehave.

75. The school gives you the responsibility of the section, where you have never worked then what will you do?

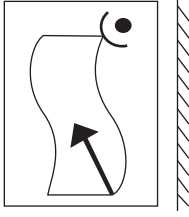
- (1) I will insist to get the work changed.
- (2) I will try to understand the method of that work and try to do it efficiently.
- (3) If my work is not changed then I will misinterpret their behaviour.
- (4) I will accept the responsibility without understanding the work.

SPACE FOR ROUGH WORK

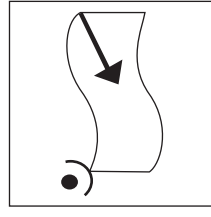
प्रश्न क्र. 72 व 73 साठी सूचना -

खालील प्रश्नाकृतीची आरशातील प्रतिमा पर्यायी उत्तर आकृत्यांमधून निवडा.

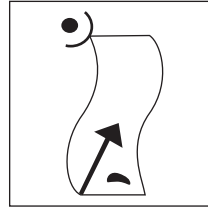
72. प्रश्नाकृती :



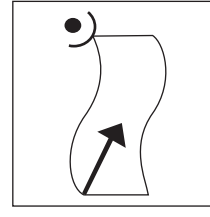
उत्तर आकृत्या :




(1)



(2)




(3)



(4)

73. प्रश्नाकृती :



उत्तर आकृत्या :




(1)



(2)



(3)



(4)

74. तुमच्या मित्राने सर्वासमोर न आवडणारे वर्तन केले; तर तुम्ही काय कराल?

- (1) तेथेच त्याला माराल.
- (2) त्याच्याशी मैत्री तोडाल.
- (3) मित्रांमध्ये त्याची बदनामी कराल.
- (4) गैरवर्तन करू नकोस असे त्याला नीट समजावून सांगाल.

75. शाळेने तुम्ही कधीही काम न केलेल्या विभागाची जबाबदारी तुमच्यावर सोपवली; तर तुम्ही काय कराल?

- (1) काम बदलून देण्याचा आग्रह धरेन.
- (2) कामाचे स्वरूप समजावून घेऊन ते काम नीट करण्याचा प्रयत्न करेन.
- (3) काम बदलून न दिल्याने गैरहजर राहीन.
- (4) कामाचे स्वरूप समजून न घेता जबाबदारी स्वीकारेन.

कच्च्या कामासाठी फक्त

कच्च्या कामासाठी फक्त