

ಪೂರ್ವ ಉಚ್ಚ ಪ್ರಾಥಮಿಕ ಶಿಷ್ಯವೃತ್ತಿ ಪರೀಕ್ಷೆ (5 ನೇ ಇಯತ್ತ್), ಫೆಬ್ರವರಿ 2024

ಆಸನ ಕ್ರಮಾಂಕ-

ಸಂಚ-



0 8 0 2

ಪೇಪರ್ ಕ್ರ - II

ಸಮಯ : 02:00 ರಿಂದ 03:30

ಒಟ್ಟು ಗುಣಗಳು : 150

ಮಾಧ್ಯಮ - ಕನ್ನಡ
ತೃತೀಯ ಭಾಷೆ ಮತ್ತು ಬುದ್ಧಿಮತ್ತೆ ಚಾಚಣಿ



ಪುಟಗಳು : 32

ಪ್ರಶ್ನೆ ಪತ್ರಿಕೆ ಬಿಡಿಸುವುದಕ್ಕಿಂತ ಮುಂಚೆ ಕೆಳಗಿನ ಸೂಚನೆಗಳು ಎಚ್ಚರಿಕೆಯಿಂದ ಓದಿರಿ.

- (1) ಈ ಪ್ರಶ್ನೆ ಪತ್ರಿಕೆಯಲ್ಲಿ ಎರಡು ವಿಭಾಗಗಳಿವೆ. ವಿಭಾಗ I ರಲ್ಲಿ ತೃತೀಯ ಭಾಷೆಯ 1 ರಿಂದ 25 ಪ್ರಶ್ನೆಗಳಿವೆ ಮತ್ತು ವಿಭಾಗ II ರಲ್ಲಿ ಬುದ್ಧಿಮತ್ತೆ ಚಾಚಣಿಯ 26 ರಿಂದ 75 ಪ್ರಶ್ನೆಗಳಿವೆ. ಹೀಗೆ 75 ಪ್ರಶ್ನೆಗಳು ಇದ್ದು ಎಲ್ಲ ಪ್ರಶ್ನೆಗಳು ಬಿಡಿಸುವುದು ಅವಶ್ಯಕವಾಗಿದೆ.
- (2) ಪ್ರತಿಯೊಂದು ಪ್ರಶ್ನೆಗೆ 2 ಗುಣಗಳಿವೆ.
- (3) ಪ್ರಶ್ನೆ ಪತ್ರಿಕೆ ಬಿಡಿಸಲು ಒಟ್ಟು 90 ನಿಮಿಷಗಳ ಕಾಲಾವಧಿ ಕೊಡಲಾಗಿದೆ.
- (4) ಉತ್ತರಗಳನ್ನು ನೊಂದಾಯಿಸುವ ಸಲುವಾಗಿ ಸ್ವತಂತ್ರ ಉತ್ತರ ಪತ್ರಿಕೆ ಕೊಡಲಾಗಿದೆ. ಪ್ರತಿಯೊಂದು ಪ್ರಶ್ನೆ ಕ್ರಮಾಂಕದ ಮುಂದೆ ನಾಲ್ಕು ಪರ್ಯಾಯವಿರುವ ವರ್ತುಗಳನ್ನು ಕೊಡಲಾಗಿದೆ. ಅದರಲ್ಲಿ ಯೋಗ್ಯ ಉತ್ತರವಿರುವ ಪರ್ಯಾಯ ಕ್ರಮಾಂಕದ ವರ್ತುಗಳನ್ನು ಉದಾಹರಣೆಯಲ್ಲಿ ತೋರಿಸಿದಂತೆ ನೊಂದಾಯಿಸಿರಿ. ಉದಾ - ಪ್ರಶ್ನೆ ಕ್ರಮಾಂಕ 6ರ ಉತ್ತರ 2 ಆದರೆ ಕೆಳಗೆ ತೋರಿಸಿದಂತೆ ವೃತ್ತವನ್ನು ಪೂರ್ಣವಾಗಿ ತುಂಬಿರಿ.
ಉದಾ. ಪ್ರಶ್ನೆ ಕ್ರ. 6 - ① ● ③ ④
- (5) ಕೆಳಗಿನಂತೆ ನೊಂದಾಯಿಸಿದ ಉತ್ತರಗಳ ಬಗ್ಗೆ ವಿಚಾರ ಮಾಡಲಾಗುವುದಿಲ್ಲ.
① ② ③ ④
- (6) ಒಂದು ಪ್ರಶ್ನೆಗೆ ಒಂದಕ್ಕಿಂತ ಹೆಚ್ಚು ವರ್ತುಗಳಲ್ಲಿ ನೊಂದಾಯಿಸಿದ ಉತ್ತರಗಳು, ತಿದ್ದುಪಡಿ ಮಾಡಿ ನೊಂದಾಯಿಸಿದ ಉತ್ತರಗಳು ಗಮನಕ್ಕೆ ತೆಗೆದುಕೊಳ್ಳಲಾಗುವುದಿಲ್ಲ.
- (7) ಒಮ್ಮೆ ನೊಂದಾಯಿಸಿದ ಉತ್ತರ ಬದಲಾಯಿಸಲು ಬರುವುದಿಲ್ಲ.
- (8) ಪರ್ಯಾಯದ ಉತ್ತರ ಕ್ರಮಾಂಕಗಳನ್ನು ಕಪ್ಪು ಅಥವಾ ನೀಲಿ ಬಾಲ್ ಪೆನ್ನಿನಿಂದ ನೊಂದಾಯಿಸಬೇಕು. ಪೆನ್ನಿನಿಂದ ನೊಂದಾಯಿಸಿದ ಉತ್ತರಗಳ ಬಗ್ಗೆ ವಿಚಾರ ಮಾಡಲಾಗುವುದಿಲ್ಲ.
- (9) ಪ್ರಶ್ನೆ ಪತ್ರಿಕೆಯ ಪ್ರತಿಯೊಂದು ಪುಟದ ಕೆಳಗೆ ಮತ್ತು ಕೊನೆಯ ಪುಟದ ಮೇಲೆ ಕಚ್ಚಾಕೆಲಸಕ್ಕಾಗಿ ಖಾಲಿ ಸ್ಥಳವನ್ನು ಬಿಡಲಾಗಿದೆ ಅಲ್ಲಿಯೇ ಕಚ್ಚಾ ಕಾರ್ಯ ಮಾಡಬೇಕು.
- (10) ಪರೀಕ್ಷೆಗೆ ಮರ್ಯಾದಿತ ವೇಳೆ ಇರುವುದರಿಂದ ಒಂದು ಪ್ರಶ್ನೆಯ ಉತ್ತರ ನಿಮಗೆ ಬರದಿದ್ದರೆ, ಮುಂದಿನ ಪ್ರಶ್ನೆ ಬಿಡಿಸಿರಿ. ಕೊನೆಗೆ ವೇಳೆ ಇದ್ದರೆ ಉಳಿದಂತೆ ಪ್ರಶ್ನೆಗಳ ಬಗ್ಗೆ ಪುನಃ ಪ್ರಯತ್ನ ಮಾಡಿರಿ.
- (11) ಯಾವುದೇ ಪ್ರಶ್ನೆಯಲ್ಲಿ ತಪ್ಪು/ ದೋಷಗಳಿದ್ದರೆ ಅದರ ಬಗ್ಗೆ ಪರ್ಯವೇಕ್ಷಕ ಅಥವಾ ಪರೀಕ್ಷೆ ಕೇಂದ್ರ ಸಂಚಾಲಕರ ಕಡೆ ವಿಚಾರಣೆ ಮಾಡಬಾರದು.
- (12) ಪ್ರಶ್ನೆಯಲ್ಲಿಯ ಯಾವುದೇ ದೋಷ/ ತಪ್ಪು/ ಅಕ್ಷೇಪಣೆ ಬಗ್ಗೆ ನಿಮ್ಮಲ್ಲಿ ಖಿತ ನಿವೇದನೆಯನ್ನು ಶಾಲೆಯವರು ಅಥವಾ ಪಾಲಕರು ಗಟಶಿಕ್ಷಣಾಧಿಕಾರಿ ಅಥವಾ ಶಿಕ್ಷಣಾಧಿಕಾರಿಯವರಿಗೆ ಕಳುಹಿಸಬಾರದು. ಆಯಾ ಶಾಲೆಯ ಲೌಗಿನ್‌ನಿಂದ ಆನ್‌ಲೈನ್ ನೊಂದಾಯಿಸಬೇಕು.
- (13) MSCE ವೆಬ್‌ಸೈಟ್‌ನಲ್ಲಿ ಮಧ್ಯಂತರ ಉತ್ತರ ಸೂಚಿ ಪ್ರಕಟಿಸಿದ 10 ದಿನಗಳಲ್ಲಿ ದೋಷ / ತಪ್ಪು / ಅಕ್ಷೇಪಣೆ / ಸಮಸ್ಯೆಗಳನ್ನು ಆನ್‌ಲೈನ್‌ನಲ್ಲಿ ನೊಂದಾಯಿಸಬೇಕು.
- (14) ಮುದ್ರಣ ದೋಷ ಅಥವಾ ಅನ್ಯ ಕಾರಣಗಳಿಂದ ಪ್ರಶ್ನೆ ತಪ್ಪು ಎಂದು ಕಂಡು ಬಂದರೆ ತಜ್ಞ ಸಮಿತಿಯ ಅಭಿಪ್ರಾಯಕ್ಕೆ ಅನುಸಾರವಾಗಿ ಅದನ್ನು ರದ್ದು ಮಾಡಲಾಗುವುದು.
- (15) ಮೂಲ ಕನ್ನಡ ಮಾಧ್ಯಮದ ಜೊತೆಗೆ ಇಂಗ್ಲೀಷ್ ಭಾಷೆಯಲ್ಲಿ ಪ್ರಶ್ನೆ ಪತ್ರಿಕೆ ಕೊಡಲಾಗಿದೆ, ಮೂಲ ಕನ್ನಡ ಮಾಧ್ಯಮದಲ್ಲಿಯ ಸಂದಿಗ್ಧ ಪ್ರಶ್ನೆಯ ಬಗ್ಗೆ ಇಂಗ್ಲೀಷ್ ಪ್ರಶ್ನೆ ನೋಡಿರಿ.

SECTION - I

ENGLISH

Instructions for Q. 01 to Q. 03 :

Read the passage carefully and answer the following questions.

A dictionary is a must for a student. You can begin with simple, attractive dictionaries and then learn to use the more difficult ones later. So, the next time you come across a difficult word, don't fret. Just look it up in a dictionary.

01. What is a must for a student?

- (1) A diary (2) A muster
(3) A library (4) A dictionary

02. Find the opposite word for 'Easy'.

- (1) Weak (2) Just
(3) Difficult (4) Across

03. Fill in the blank with correct alternative.

One can begin with _____ , _____ dictionaries.

- (1) simple , attractive (2) simple , difficult
(3) must , next (4) more , fret

04. Match the correct instructions from the given alternatives.

- (1) 1-A, 2-B, 3-C
(2) 1-C, 2-A, 3-B
(3) 1-B, 2-A, 3-C
(4) 1-C, 2-B, 3-A

1. Turn

2. Climb

3. Go

A. Up

B. Left

C. Down

SPACE FOR ROUGH WORK

05. Fill in the blanks.

Joseph has a brand _____ bicycle.

- (1) knew (2) new
(3) now (4) no

06. Select the rhyming word for the correct action word from the given table.

dig	bib
tar	fin

- (1) far (2) rib
(3) fig (4) bin

07. Fill in the blank.

_____, no ! My mobile is ringing.

- (1) Alas (2) Oh
(3) Brave (4) Ouch

08. Choose the correct ordinal number for 'December'.

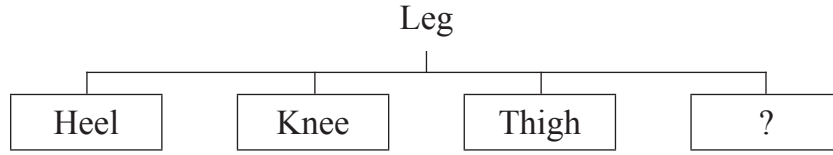
- (1) Twelfth (2) Twelvth
(3) Twelfth (4) Twelve

09. Find the shape of dice used in 'Ludo' game from the given alternatives.

- (1) cuboid (2) cube
(3) sphere (4) cone

SPACE FOR ROUGH WORK

10. Look at the chart and find the correct option.



- (1) Fist (2) Stomach
(3) Jaw (4) Toes

11. How will Salim greet Vandana on her birthday?

- (1) Happy birthday! (2) Congratulations!
(3) Best of luck! (4) Rest in peace!

12. Solve the riddle.

I can help you to heat
and cook different types of food.

Who am I?

- (1) Microwave (2) Blender
(3) Refrigerator (4) Chimney

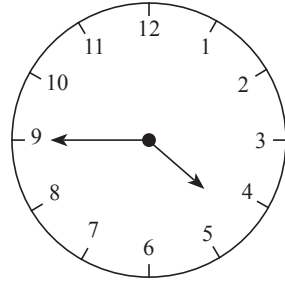
13. Arrange the numbers to make meaningful word.

N	I	O	D	A	R	S	U
1	2	3	4	5	6	7	8

- (1) 42153687 (2) 42137586
(3) 76853124 (4) 68753421

SPACE FOR ROUGH WORK

14. Choose the incorrect options.
The clock shows the time _____.
- (1) quarter to 5
 - (2) three quarters past 4
 - (3) two quarters past 5
 - (4) 45 minutes past 4



15. Choose the proper punctuation mark in the end of the sentence.
'That's an excellent idea '
- (1) ?
 - (2) ,
 - (3) .
 - (4) !



16. Select the correct option.
We should cut our hair _____.
- (1) hardly
 - (2) regularly
 - (3) terribly
 - (4) recently

Instructions for Q. 17 and Q. 18

Fresh Fruits
Vegetables
From Daisy's shop

HEALTH IS WEALTH! LOW PRICE

▶ **healthy** ▶ **juicy** ▶ **tasty**

 **Fruits and Vegetables** 
59, Mint Street,
Trichy

SPACE FOR ROUGH WORK

17. Fill in the blank with correct option.

This advertisement is based on _____.

- (1) fruits and meat (2) vegan and diary
(3) fruits and smoothie (4) vegetables and fruits

18. Select the motto for the advertisement.

- (1) Health is Wealth (2) Truth is Gold
(3) Green and clean Earth (4) Never stop learning

19. Choose the correct alternative for the given sentence.

‘hooray! teacher, we want to play kho-kho’.

- (1) Capital ‘H’ for hooray
(2) Capital ‘T’ for teacher
(3) Capital ‘W’ for we
(4) Capital ‘H’ for hooray and Capital ‘T’ for teacher

20. Choose the correct pair from the given alternatives.

- (1) A flock of bees (2) A flock of geese
(3) A bundle of children (4) A swarm of dogs

21. Pick out the missing colour of a ‘rainbow.’

Red, Orange, Yellow, Green, Blue, _____ and violet.

- (1) Indigo (2) White
(3) Pink (4) Purple

SPACE FOR ROUGH WORK

22. Choose the correct contracted form of the underlined words in the given sentence.

'I am not interested.'

- (1) aren't (2) ain't
(3) am't (4) arent'

23. Fill in the blank.

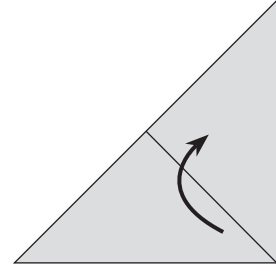
'France is _____ European country.'

- (1) an (2) the
(3) a (4) no article

24. Observe the diagram carefully and find the answer from the alternatives.

Fold the paper in the _____ direction.

- (1) South
(2) Upward
(3) South West
(4) Downward



25. Which of the following is a permission?

- (1) You are welcome (2) I drink water
(3) Please come in (4) Don't make noise

SPACE FOR ROUGH WORK

A	B	C	D	E	F	G	H	I	J	K	L	M	N	O	P	Q	R	S	T	U	V	W	X	Y
---	---	---	---	---	---	---	---	---	---	---	---	---	---	---	---	---	---	---	---	---	---	---	---	---

SECTION - II

INTELLIGENCE TEST

26. Which of the following is the correct example of homophone?
 (1) Seek - sick (2) Ship - sheep (3) Two - to (4) Ate - at
27. Read the poem carefully. Find out how many more or less three letter words than the 7 letter words are there in the poem.

‘Twinkle Twinkle little star,
 how I wonder what you are?
 up above the world so high,
 like a diamond in the sky.

- (1) More by 3 (2) Less by 3 (3) Less by 2 (4) More by 4
28.

ABCDE	FGHIJ	KLMNO	PQRST	UVWXY
-------	-------	-------	-------	-------

In the above given alphabet series which of the given pair of alphabets indicate the difference $\frac{4}{3}$ times the difference between letter ‘H’ and letter ‘R’.

- (1) D - N (2) K - W (3) M - X (4) E - R
29. In the given number series the digits of every number are interchanged to form a new series. What is the addition of the prime numbers in the new series?

13	,	95	,	17	,	53	,	37	,	76	,	19	,	41
----	---	----	---	----	---	----	---	----	---	----	---	----	---	----

- (1) 180 (2) 301 (3) 300 (4) 181

Q. 30 to Q. 34 Direction :

Select the odd term.

30. (1) House (2) Planet (3) Cottage (4) Home

SPACE FOR ROUGH WORK

A	B	C	D	E	F	G	H	I	J	K	L	M	N	O	P	Q	R	S	T	U	V	W	X	Y
---	---	---	---	---	---	---	---	---	---	---	---	---	---	---	---	---	---	---	---	---	---	---	---	---

ವಿಭಾಗ - II

ಬುದ್ಧಿಮತ್ತೆ ಪರೀಕ್ಷೆ

26. ಕೆಳಗಿನವುಗಳ ಪೈಕಿ ಒತ್ತಕ್ಷರ ಇಲ್ಲದ ಶಬ್ದ ಯಾವುದು?

- (1) ಅಕ್ಷರ (2) ಜ್ಞಾನೇಶ್ವರ (3) ಮೃಗ (4) ಶ್ರೇಯಸ

27. ಕೆಳಗಿನ ಕಾವ್ಯ ಪಂಕ್ತಿಯಲ್ಲಿ ಆ-ಕಾರ ಅಕ್ಷರಗಳಿಗಿಂತ ಉ-ಕಾರ ಅಕ್ಷರಗಳು ಎಷ್ಟರಿಂದ ಹೆಚ್ಚು ಅಥವಾ ಕಡಿಮೆ ಇವೆ?

ಗಾನವ ಬೆರೆಯಿಸಿ
ವೀಣೆಯ ದನಿಯೊಳು
ವಾಣಿಯ ನೇವುರ
ನುಡಿಸುತೆ ಕುಣಿಯಲು

- (1) 4 ರಿಂದ ಹೆಚ್ಚು (2) 3 ರಿಂದ ಹೆಚ್ಚು (3) 4 ರಿಂದ ಕಡಿಮೆ (4) 3 ರಿಂದ ಕಡಿಮೆ

28.

ABCDE FGHIJ KLMNO PQRST UVWXY

ಮೇಲಿನ ಅಕ್ಷರಮಾಲಿಕೆಯಲ್ಲಿ 'H' ಮತ್ತು 'R' ಅಕ್ಷರಗಳ ನಡುವೆ ಇರುವ ಅಕ್ಷರಗಳ ಸಂಖ್ಯೆಗಿಂತ $\frac{4}{3}$ ಪಟ್ಟು ಅಕ್ಷರಗಳು ಕೆಳಗಿನವುಗಳ ಪೈಕಿ ಯಾವ ಜೋಡಿಯಲ್ಲಿ ಇರುವವು?

- (1) D - N (2) K - W (3) M - X (4) E - R

29. ಕೆಳಗಿನ ಸಂಖ್ಯಾಮಾಲಿಕೆಯಲ್ಲಿಯ ಪ್ರತಿಯೊಂದು ಸಂಖ್ಯೆಯಲ್ಲಿಯ ಅಂಕಗಳ ಸ್ಥಾನಗಳನ್ನು ಅದಲು ಬದಲು ಮಾಡಿ ತಯಾರಿಸಿದ ಸಂಖ್ಯೆಗಳ ಪೈಕಿ ಮೂಲ ಸಂಖ್ಯೆಗಳ ಬೇರೀಜು ಎಷ್ಟು ಬರುವುದು?

13 , 95 , 17 , 53 , 37 , 76 , 19 , 41

- (1) 180 (2) 301 (3) 300 (4) 181

ಪ್ರಶ್ನೆ 30 ರಿಂದ 34 ರ ಸಲುವಾಗಿ ಸೂಚನೆ:

ಗುಂಪಿಗೆ ಸರಿಹೊಂದದ ಪದವನ್ನು ಗುರುತಿಸಿರಿ.

30. (1) ಧಾಮ (2) ಗ್ರಹ (3) ಆಲಯ (4) ಗೃಹ

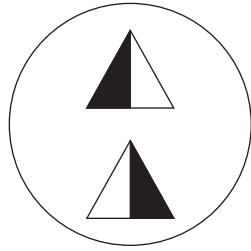
ಕೇವಲ ಕಚ್ಚಾ ಕೆಲಸಕ್ಕಾಗಿ

A	B	C	D	E	F	G	H	I	J	K	L	M	N	O	P	Q	R	S	T	U	V	W	X	Y
---	---	---	---	---	---	---	---	---	---	---	---	---	---	---	---	---	---	---	---	---	---	---	---	---

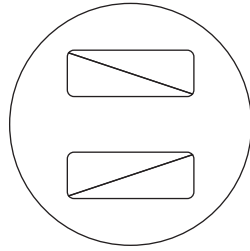
31. (1) 54 (2) 78 (3) 66 (4) 36

32. (1) 192 (2) 312 (3) 732 (4) 726

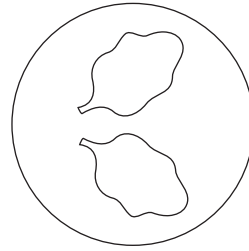
33.



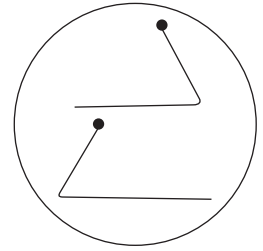
(1)



(2)

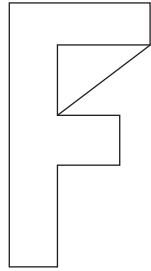


(3)

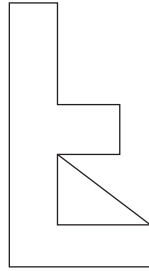


(4)

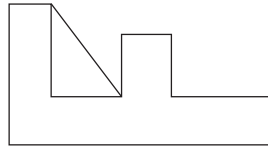
34.



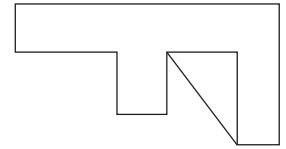
(1)



(2)



(3)



(4)

35.

Rahim's today's age is twice of Ram's today's age and $\frac{4}{3}$ times John's today's age. If three years ago Ram's age was 9 years then what is the sum of today's age of all three of them?

(1) 60

(2) 51

(3) 54

(4) 58

36.

In a certain code language if Tiger is called as Lion, Lion is called as Shekaru, Shekaru is called as Deer, Deer is called as Elephant then who of the following is called as Maharashtra's state animal?

(1) Tiger

(2) Lion

(3) Shekaru

(4) Deer

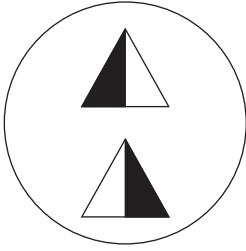
SPACE FOR ROUGH WORK

A	B	C	D	E	F	G	H	I	J	K	L	M	N	O	P	Q	R	S	T	U	V	W	X	Y
---	---	---	---	---	---	---	---	---	---	---	---	---	---	---	---	---	---	---	---	---	---	---	---	---

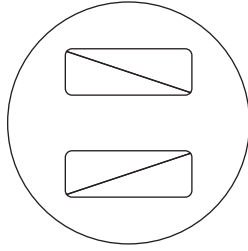
31. (1) 54 (2) 78 (3) 66 (4) 36

32. (1) 192 (2) 312 (3) 732 (4) 726

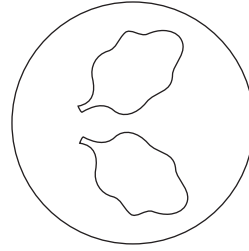
33.



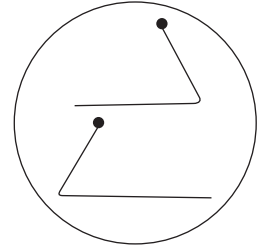
(1)



(2)

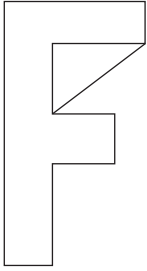


(3)

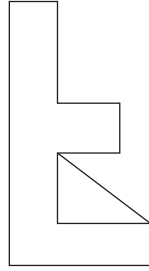


(4)

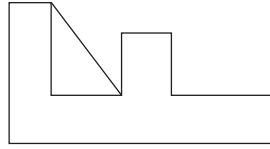
34.



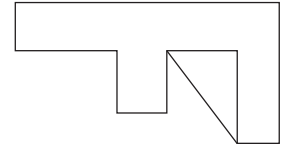
(1)



(2)



(3)



(4)

35. ರಹೀಮನ ಇಂದಿನ ವಯಸ್ಸು ರಾಮನ ಇಂದಿನ ವಯಸ್ಸಿನ ಎರಡುಪಟ್ಟು ಇದ್ದು ಜೌನನ ಇಂದಿನ ವಯಸ್ಸಿನ $\frac{4}{3}$ ಪಟ್ಟು ಇದೆ. ರಾಮನ ಮೂರು ವರ್ಷಗಳ ಮೊದಲಿನ ವಯಸ್ಸು 9 ವರ್ಷಗಳು ಇದ್ದರೆ ಆ ಮೂವರ ಇಂದಿನ ವಯಸ್ಸುಗಳ ಬೇರೀಜು ಎಷ್ಟು ವರ್ಷ ಇರುವುದು?

(1) 60

(2) 51

(3) 54

(4) 58

36. ಹುಲಿಗೆ ಸಿಂಹ ಎನ್ನುವರು, ಸಿಂಹಕ್ಕೆ ಅಳಿಲು ಎನ್ನುವರು, ಅಳಿಲಿಗೆ ಜಿಂಕೆ ಎನ್ನುವರು, ಜಿಂಕೆಗೆ ಆನೆ ಎನ್ನುವರು, ಹಾಗಾದರೆ ಮಹಾರಾಷ್ಟ್ರದ ರಾಜ್ಯ ಪ್ರಾಣಿ ಎಂದು ಯಾವುದಕ್ಕೆ ಎನ್ನಬೇಕು?

(1) ಹುಲಿ

(2) ಸಿಂಹ

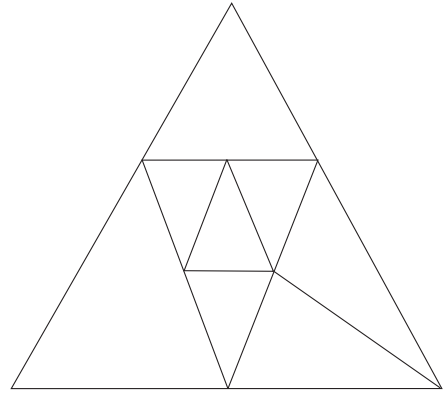
(3) ಅಳಿಲು

(4) ಜಿಂಕೆ

ಕೇವಲ ಕಚ್ಚಾ ಕೆಲಸಕ್ಕಾಗಿ

37. In the adjacent figure how many triangles are there?

- (1) 12
- (2) 11
- (3) 8
- (4) 9



Q. 38 to Q. 40 Direction :

Identify the sequence in the given terms / figures and select the correct alternative to replace the question mark.

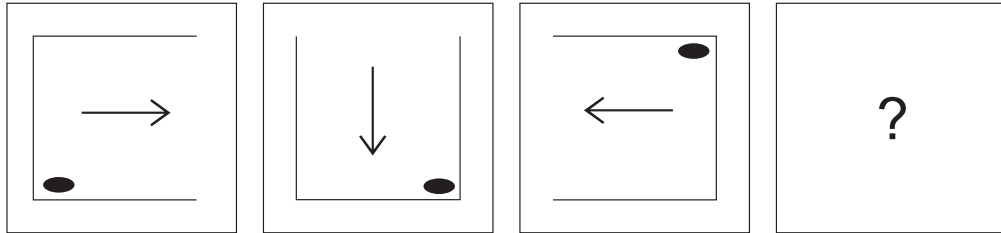
38. 841, ? , 361, 289, 169, 121

- (1) 729
- (2) 441
- (3) 625
- (4) 529


39. 91, 82, 74, 67, ? , 55, 50, 45

- (1) 61
- (2) 58
- (3) 62
- (4) 57

40. **Question Figures :**



Answer Figures :



(1)

(2)

(3)

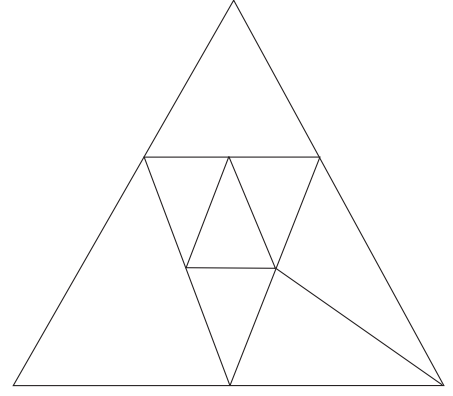
(4)

SPACE FOR ROUGH WORK

A	B	C	D	E	F	G	H	I	J	K	L	M	N	O	P	Q	R	S	T	U	V	W	X	Y
---	---	---	---	---	---	---	---	---	---	---	---	---	---	---	---	---	---	---	---	---	---	---	---	---

37. ಕೆಳಗಿನ ಆಕೃತಿಯಲ್ಲಿ ಒಟ್ಟು ಎಷ್ಟು ತ್ರಿಕೋನಗಳಿವೆ?

- (1) 12
(2) 11
(3) 8
(4) 9



ಪ್ರಶ್ನೆ 38 ರಿಂದ 40 ರ ಸಲುವಾಗಿ ಸೂಚನೆ:

ಕೆಳಗಿನ ಪದಗಳ ಕ್ರಮವನ್ನು ಗಮನದಲ್ಲಿಟ್ಟುಕೊಂಡು ಪ್ರಶ್ನೆಚಿಹ್ನೆಯ ಸ್ಥಳದಲ್ಲಿ ಬರುವ ಪದವನ್ನು ಪರ್ಯಾಯಗಳಿಂದ ಆರಿಸಿರಿ.

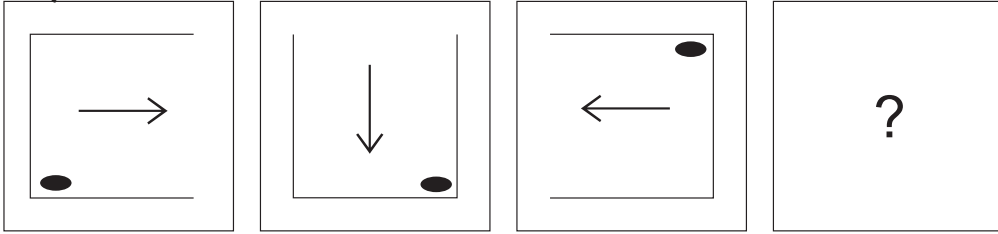
38. 841, ?, 361, 289, 169, 121

- (1) 729 (2) 441 (3) 625 (4) 529

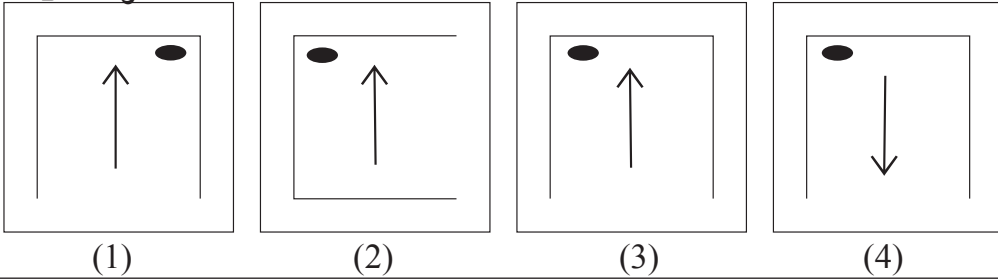
39. 91, 82, 74, 67, ?, 55, 50, 45

- (1) 61 (2) 58 (3) 62 (4) 57

40. ಪ್ರಶ್ನೆ ಆಕೃತಿಗಳು :



ಉತ್ತರ ಆಕೃತಿಗಳು :

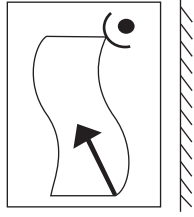


ಕೇವಲ ಕಚ್ಚಾ ಕೆಲಸಕ್ಕಾಗಿ

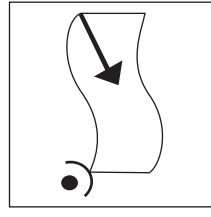
Q. 41 and Q. 42 Direction :

Find out the mirror image of each of the following question figure from the alternatives given.

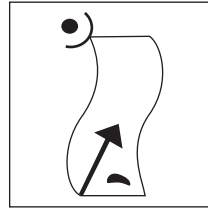
41. Question Figure :



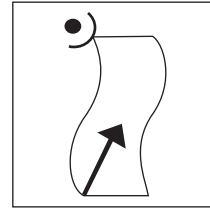
Answer Figures :



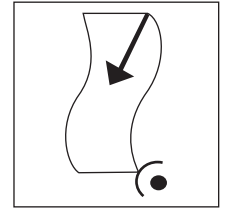
(1)



(2)




(3)




(4)

42. Question Figure :



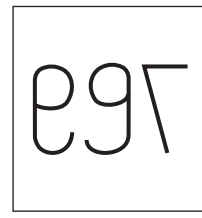
Answer Figures :




(1)



(2)



(3)



(4)

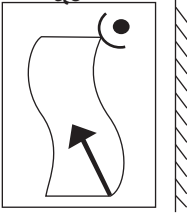
- 43.** If your friend misbehaves in front of everyone then what will you do?
- (1) I will beat him there itself.
 - (2) I will breakup the friendship.
 - (3) I will dishonour him amongst friends.
 - (4) I will explain him properly about why he should not misbehave.
- 44.** The school gives you the responsibility of the section, where you have never worked then what will you do?
- (1) I will insist to get the work changed.
 - (2) I will try to understand the method of that work and try to do it efficiently.
 - (3) If my work is not changed then I will misinterpret their behaviour.
 - (4) I will accept the responsibility without understanding the work.

SPACE FOR ROUGH WORK

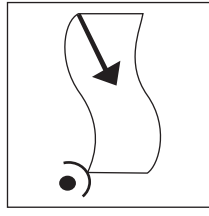
ಪ್ರಶ್ನೆ 41 ಹಾಗೂ 42 ರ ಸಲುವಾಗಿ ಸೂಚನೆ:

ಕೆಳಗಿನ ಪ್ರಶ್ನಾಕೃತಿಯ ಕನ್ನಡಿಯಲ್ಲಿಯ ಪ್ರತಿಮೆ ಪರ್ಯಾಯ ಉತ್ತರ ಆಕೃತಿಗಳಿಂದ ಆರಿಸಿರಿ.

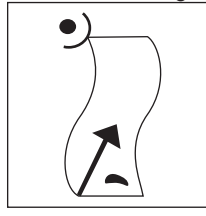
41. ಪ್ರಶ್ನಾಕೃತಿ :



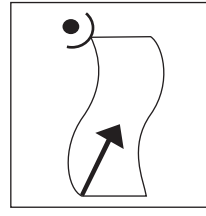
ಉತ್ತರ ಆಕೃತಿಗಳು :



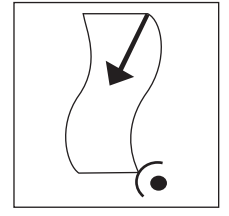
(1)



(2)




(3)




(4)

42. ಪ್ರಶ್ನಾಕೃತಿ :



ಉತ್ತರ ಆಕೃತಿಗಳು :




(1)



(2)



(3)



(4)

43. ನಿಮ್ಮ ಗೆಳೆಯನು ಎಲ್ಲರ ಎದುರಿಗೆ ಇಷ್ಟವಾಗದ ವರ್ತನೆ ಮಾಡಿದನು; ಹಾಗಾದರೆ ನೀವು ಏನು ಮಾಡುವಿರಿ?

- (1) ಅಲ್ಲಿಯೇ ಅವನಿಗೆ ಹೊಡೆಯುವಿರಿ.
- (2) ಅವನೊಂದಿಗಿನ ಗೆಳೆತನ ಮುರಿಯುವಿರಿ.
- (3) ಮಿತ್ರರಲ್ಲಿ ಅವನ ಹೆಸರು ಕೆಡುವಂತೆ ಮಾಡುವಿರಿ.
- (4) ಗೌರವವರ್ತನೆ ಮಾಡಬೇಡ ಎಂದು ಅವನಿಗೆ ಸರಿಯಾಗಿ ತಿಳಿಸಿ ಹೇಳುವಿರಿ.

44. ಶಾಲೆಯು ನೀವು ಎಂದೂ ಕೆಲಸ ಮಾಡಿರದ ವಿಭಾಗದ ಜವಾಬ್ದಾರಿಯನ್ನು ನಿಮ್ಮ ಮೇಲೆ ಒಪ್ಪಿಸಿತು, ಹಾಗಾದರೆ ನೀವು ಏನು ಮಾಡುವಿರಿ?

- (1) ಕೆಲಸ ಬದಲಿಸಿ ಕೊಡುವ ಆಗ್ರಹ ಮಾಡುವೆನು.
- (2) ಕೆಲಸದ ಸ್ವರೂಪ ತಿಳಿದುಕೊಂಡು ಆ ಕೆಲಸವನ್ನು ಸರಿಯಾಗಿ ಮಾಡುವ ಪ್ರಯತ್ನ ಮಾಡುವೆನು.
- (3) ಕೆಲಸ ಬದಲಿಸಿ ಕೊಡದೇ ಇರುವುದರಿಂದ ಗೈರು ಹಾಜರು ಇರುವೆನು.
- (4) ಕೆಲಸದ ಸ್ವರೂಪ ತಿಳಿದು ಕೊಳ್ಳದೇ ಜವಾಬ್ದಾರಿ ಸ್ವೀಕರಿಸುವೆನು.

ಕೇವಲ ಕಚ್ಚಾ ಕೆಲಸಕ್ಕಾಗಿ

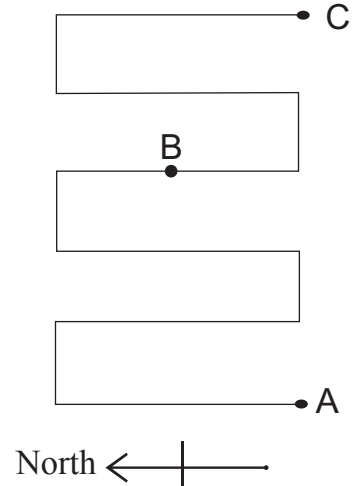
A	B	C	D	E	F	G	H	I	J	K	L	M	N	O	P	Q	R	S	T	U	V	W	X	Y
---	---	---	---	---	---	---	---	---	---	---	---	---	---	---	---	---	---	---	---	---	---	---	---	---

45. In a row Sameer is at twenty third position from front and nineteenth position from back. What is the position of Raj from back, who is standing at 5th place behind the middle position boy?

- (1) 16th (2) 28th (3) 13th (4) 27th

46. In the given path while walking from 'A' to 'B' how many times will you face the north direction?

- (1) 2
(2) 3
(3) 5
(4) 6



47. Some birds are sitting on tree 'A' and some birds are sitting on tree 'B'. If one bird from tree 'A' went on tree 'B' then the number of birds on tree 'B' will be twice the number of birds on tree 'A' and if one bird from tree 'A' will go on tree 'B' then the number of birds on both the trees will be equal. Now initially how many birds were sitting on tree 'A' and 'B' respectively.

- (1) 3, 5 (2) 7, 5 (3) 5, 7 (4) 5, 3

Q. 48 to Q. 52 Direction :

In the following questions, first pair has some relationship between first two terms. The same relation holds true for the second pair. Identify the relation and select the correct alternative to replace the question mark.

48. Cool : hot :: strong : ?

- (1) brave (2) thin (3) week (4) weak

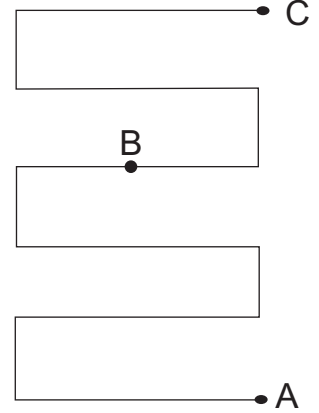
<p><u>SPACE FOR ROUGH WORK</u></p>

A	B	C	D	E	F	G	H	I	J	K	L	M	N	O	P	Q	R	S	T	U	V	W	X	Y
---	---	---	---	---	---	---	---	---	---	---	---	---	---	---	---	---	---	---	---	---	---	---	---	---

45. ಒಂದು ಸಾಲಿನಲ್ಲಿ ಸಮೀರನ ಪ್ರಾರಂಭದಿಂದ ಇಪ್ಪತ್ತೂರನೆಯ ಹಾಗೂ ಕೊನೆಯಿಂದ ಹತ್ತೊಂಬತ್ತನೆಯ ಕ್ರಮಾಂಕ ಇದ್ದರೆ ಮಧ್ಯದಲ್ಲಿರುವ ಹುಡುಗನ ಹಿಂದೆ 5ನೇ ಕ್ರಮಾಂಕದಲ್ಲಿರುವ ರಾಜನ ಕೊನೆಯಿಂದ ಎಷ್ಟನೇ ಸ್ಥಾನ ಇರುವುದು?

- (1) 16ನೇ (2) 28ನೇ (3) 13ನೇ (4) 27ನೇ

46. ಬದಿಯ ಮಾರ್ಗದ ಮೇಲಿಂದ 'A' ಸ್ಥಳದಿಂದ 'B' ಸ್ಥಳಕ್ಕೆ ಮುಟ್ಟುವಾಗ ಎಷ್ಟು ಸಲ ಉತ್ತರ ದಿಕ್ಕಿಗೆ ಮುಖ ಬರುವುದು?



- (1) 2
(2) 3
(3) 5
(4) 6

ಉತ್ತರ ← | ———→

47. 'A' ಗಿಡದ ಮೇಲೆ ಕೆಲವು ಪಕ್ಷಿಗಳು ಹಾಗೂ 'B' ಗಿಡದ ಮೇಲೆ ಕೆಲವು ಪಕ್ಷಿಗಳು ಕುಳಿತುಕೊಂಡಿವೆ. ಒಂದುವೇಳೆ 'A' ಗಿಡದ ಮೇಲಿನ ಒಂದು ಪಕ್ಷಿ 'B' ಗಿಡದ ಮೇಲಿರುವ ಪಕ್ಷಿಗಳಲ್ಲಿ ಕೂಡಿ ಕೊಂಡರೆ 'B' ಗಿಡದ ಮೇಲಿರುವ ಪಕ್ಷಿಗಳು ಎರಡು ಪಟ್ಟು ಆಗುತ್ತವೆ ಅಥವಾ 'B' ಗಿಡದ ಮೇಲಿನ ಒಂದು ಪಕ್ಷಿ 'A' ಗಿಡದ ಮೇಲೆ ಹೋದರೆ ಎರಡೂ ಗಿಡಗಳ ಮೇಲಿನ ಪಕ್ಷಿಗಳು ಸಮಾನವಾಗುತ್ತವೆ; ಹಾಗಾದರೆ ಮೊದಲಿಗೆ 'A' ಮತ್ತು 'B' ಗಿಡದ ಮೇಲೆ ಅನುಕ್ರಮವಾಗಿ ಎಷ್ಟು ಪಕ್ಷಿಗಳಿದ್ದವು?

- (1) 3, 5 (2) 7, 5 (3) 5, 7 (4) 5, 3

ಪ್ರಶ್ನೆ 48 ರಿಂದ 52 ರ ಸಲುವಾಗಿ ಸೂಚನೆ:

ಮೊದಲನೆಯ ಪದದ ಎರಡನೆಯ ಪದದೊಂದಿಗೆ ಹೇಗೆ ಸಂಬಂಧವಿದೆಯೋ ಅದೇ ರೀತಿಯ ಸಂಬಂಧ ಮೂರನೆಯ ಪದದ ನಾಲ್ಕನೆಯ ಪದದೊಂದಿಗೆ ಇದೆ; ಇದನ್ನು ಗಮನದಲ್ಲಿಟ್ಟುಕೊಂಡು ಪ್ರಶ್ನೆಚಿಹ್ನೆಯ ಸ್ಥಳದಲ್ಲಿ ಬರುವ ಪದವನ್ನು ಪರ್ಯಾಯಗಳಿಂದ ಆರಿಸಿರಿ.

48. ಕಹಿ : ಸಿಹಿ :: ಶೀತಲ : ?

- (1) ಉಷ್ಣತೆ (2) ಪ್ರಖರತೆ (3) ಸೌಮ್ಯ (4) ಉಷ್ಣ

ಕೇವಲ ಕಚ್ಚಾ ಕೆಲಸಕ್ಕಾಗಿ

A	B	C	D	E	F	G	H	I	J	K	L	M	N	O	P	Q	R	S	T	U	V	W	X	Y
---	---	---	---	---	---	---	---	---	---	---	---	---	---	---	---	---	---	---	---	---	---	---	---	---

49. Shyamchi Aai : Sane Guruji :: Wings of fire : ?

- (1) Jayant Naraliker (2) Dr. A.P.J. Abdul Kalam
 (3) Pranav Mukherji (4) Dr. Homi Bhabha

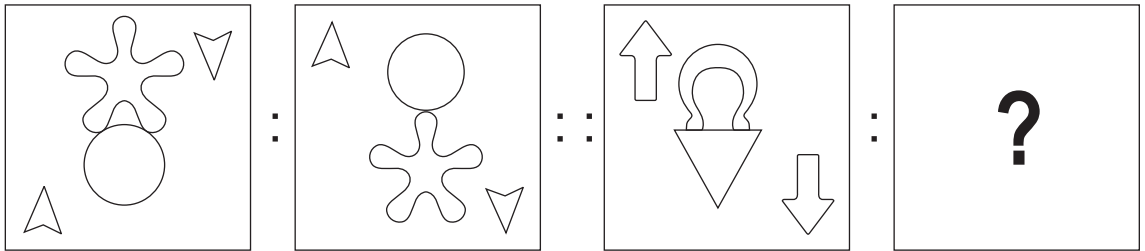
50. 37 : 40 :: 25 : ?

- (1) 19 (2) 27 (3) 21 (4) 30

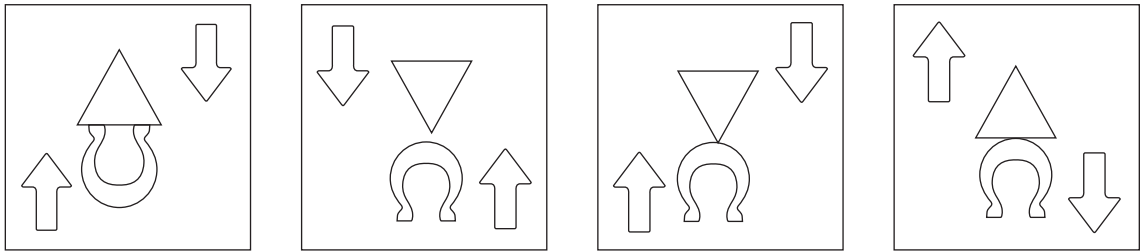
51. 14 : 15 :: 32 : ?

- (1) 35 (2) 42 (3) 31 (4) 18

52. Question Figures:



Answer Figures:



- (1) (2) (3) (4)

53. John, who is born on 5th January 2001 Friday, is 100 days elder to Shanaya then on which day was Shanaya's first birthday?

- (1) Thursday (2) Tuesday (3) Wednesday (4) Monday

SPACE FOR ROUGH WORK

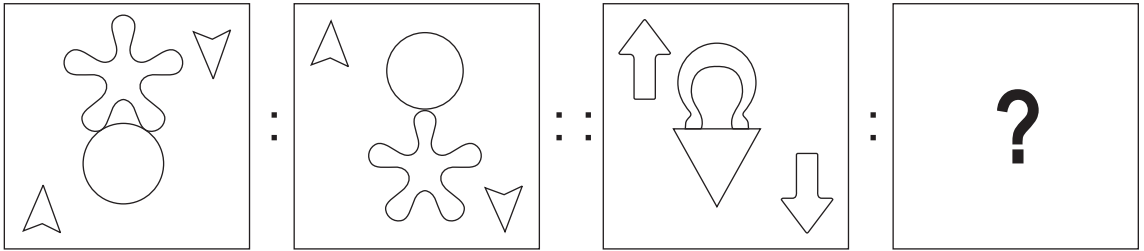
A	B	C	D	E	F	G	H	I	J	K	L	M	N	O	P	Q	R	S	T	U	V	W	X	Y
---	---	---	---	---	---	---	---	---	---	---	---	---	---	---	---	---	---	---	---	---	---	---	---	---

49. ಸರದಾರ : ವಲ್ಲಭಬಾಯಿ ಪಟೇಲ :: ರಾಷ್ಟ್ರಪಿತ : ?
- (1) ಬಾಲ ಗಂಗಾಧರ ಟಿಳಕ (2) ಮಹಾತ್ಮಾಗಾಂಧಿ
(3) ಸುಭಾಷಚಂದ್ರ ಭೋಸ (4) ಅಬ್ದುಲ್ ಕಲಾಂ

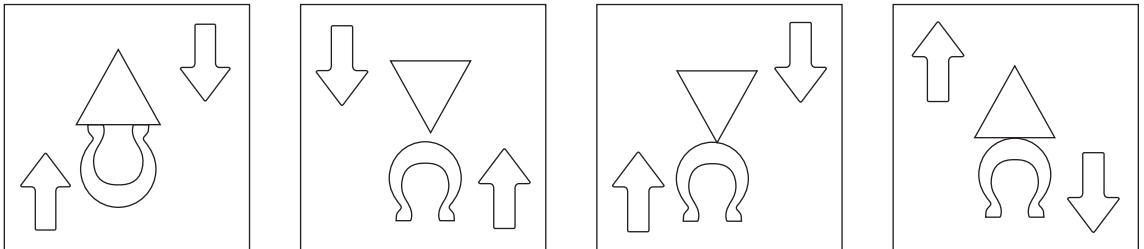
50. 37 : 40 :: 25 : ?
- (1) 19 (2) 27 (3) 21 (4) 30

51. 14 : 15 :: 32 : ?
- (1) 35 (2) 42 (3) 31 (4) 18

52. ಪಶ್ಚಾತ್ಯತಿಗಳು :



ಉತ್ತರ ಆಕೃತಿಗಳು :



(1)

(2)

(3)

(4)

53. 5 ಜನೆವರಿ 2001ಕ್ಕೆ ಶುಕ್ರವಾರ ಜನಿಸಿದ ಜೌನ ಶನಾಯಾಗಂತ 100 ದಿವಸಗಳಿಂದ ದೊಡ್ಡವನಾಗಿದ್ದಾನೆ, ಹಾಗಾದರೆ ಶನಾಯಾನ ಮೊದಲನೆಯ ಹುಟ್ಟುಹಬ್ಬ ಯಾವ ವಾರ ಬಂದಿರಬಹುದು?
- (1) ಗುರುವಾರ (2) ಮಂಗಳವಾರ (3) ಬುಧವಾರ (4) ಸೋಮವಾರ

ಕೇವಲ ಕಚ್ಚಾ ಕೆಲಸಕ್ಕಾಗಿ

54. Select the number to replace the question mark in the given grid.

75	7	25
18	33	63
?	52	12

- (1) 46 (2) 42 (3) 35 (4) 48

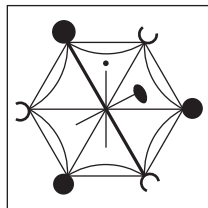
55. In a certain code language if 25 = 532, 57 = 725 and 34 = 413 then how will you write 14 in the same code language?

- (1) 314 (2) 451 (3) 431 (4) 514

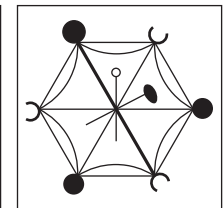
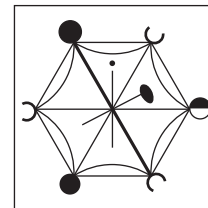
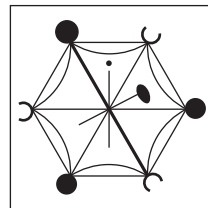
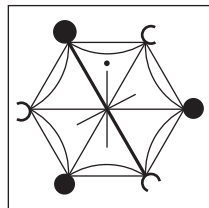
Q. 56 and Q. 57 Direction:

Identify the figure which exactly matches with the question figure from the four alternatives given below.

56. **Question Figure:**




Answer Figures:







- (1) (2) (3) (4)

57. **Question Figure:**



Answer Figures:



- (1) (2) (3) (4)

SPACE FOR ROUGH WORK

54. ಕೆಳಗಿನ ಚೌಕೋನದಲ್ಲಿ ಪ್ರಶ್ನೆಚಿಹ್ನೆಯ ಸ್ಥಳದಲ್ಲಿ ಯಾವ ಸಂಖ್ಯೆ ಬರುವುದು?

75	7	25
18	33	63
?	52	12

- (1) 46 (2) 42 (3) 35 (4) 48

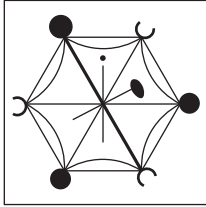
55. ಒಂದು ಸಾಂಕೇತಿಕ ಭಾಷೆಯಲ್ಲಿ 25 = 532, 57 = 725 ಮತ್ತು 34 = 413 ಹೀಗೆ ಬರೆಯುವರು. ಹಾಗಾದರೆ ಅದೇ ಸಾಂಕೇತಿಕ ಭಾಷೆಯಲ್ಲಿ 14 ಈ ಸಂಖ್ಯೆಯನ್ನು ಹೇಗೆ ಬರೆಯುವಿರಿ?

- (1) 314 (2) 451 (3) 431 (4) 514

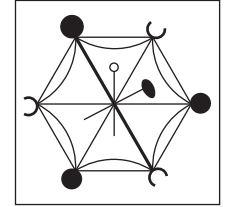
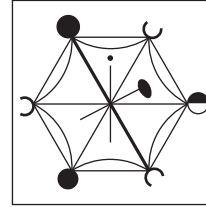
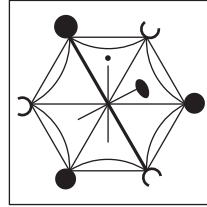
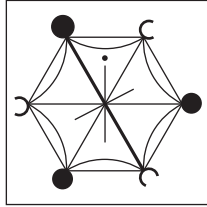
ಪ್ರಶ್ನೆ 56 ಹಾಗೂ 57 ರ ಸಲುವಾಗಿ ಸೂಚನೆ:

ಕೆಳಗಿನ ಪ್ರಶ್ನಾಕೃತಿಗೆ ಸಂಪೂರ್ಣವಾಗಿ ಹೊಂದುವ ಆಕೃತಿಯನ್ನು ಪರ್ಯಾಯಗಳಿಂದ ಆರಿಸಿರಿ.

56. ಪ್ರಶ್ನಾಕೃತಿ:



ಉತ್ತರ ಆಕೃತಿಗಳು:




(1)

(2)





(3)

(4)

57. ಪ್ರಶ್ನಾಕೃತಿ:



ಉತ್ತರ ಆಕೃತಿಗಳು:



(1)

(2)

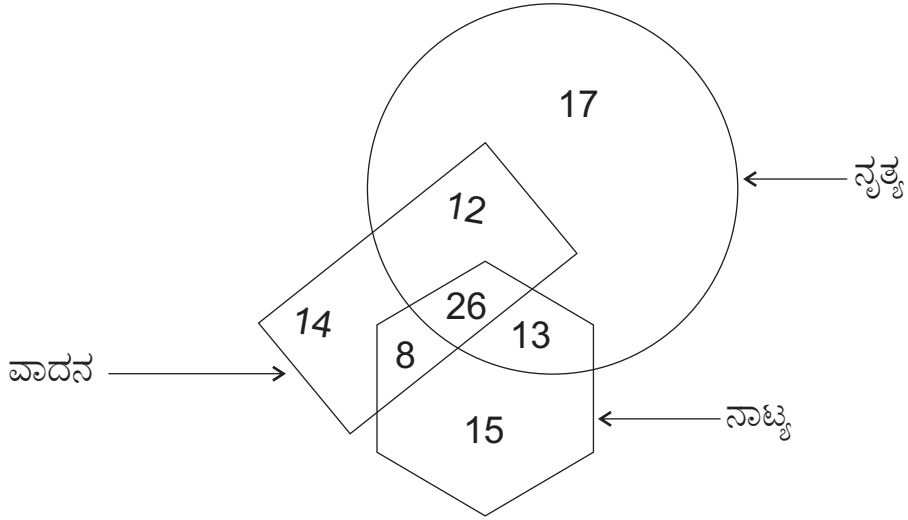
(3)

(4)

ಕೇವಲ ಕಚ್ಚಾ ಕೆಲಸಕ್ಕಾಗಿ

A	B	C	D	E	F	G	H	I	J	K	L	M	N	O	P	Q	R	S	T	U	V	W	X	Y
---	---	---	---	---	---	---	---	---	---	---	---	---	---	---	---	---	---	---	---	---	---	---	---	---

58. ಬದಿಯ ಆಕೃತಿಯಲ್ಲಿ ಒಂದು ಶಾಲೆಯಲ್ಲಿಯ ನೃತ್ಯ, ನಾಟ್ಯ ಮತ್ತು ವಾದನ ಈ ಕ್ಷೇತ್ರದಲ್ಲಿ ಅಭಿರುಚಿ ಇರುವವರ ಸಂಖ್ಯೆಯನ್ನು ದರ್ಶಿಸಲಾಗಿದೆ. ಇದರ ಮೇಲಿಂದ ಕನಿಷ್ಠ ಎರಡು ಕ್ಷೇತ್ರದಲ್ಲಿ ಅಭಿರುಚಿ ಇರುವವರ ಸಂಖ್ಯೆ ಎಷ್ಟು?



- (1) 59 (2) 33 (3) 46 (4) 20

ಪ್ರಶ್ನೆ 59 ರಿಂದ 63 ರ ಸಲುವಾಗಿ ಸೂಚನೆ:

ಕೆಳಗಿನ ಪ್ರಶ್ನೆಗಳಲ್ಲಿಯ ಮೂರು ಪದಗಳ ಒಂದು ವಿಶಿಷ್ಟ ವೈಶಿಷ್ಟ್ಯಗಳನುಸಾರವಾಗಿ ಒಂದು ಗುಂಪು ತಯಾರಾಗುತ್ತದೆ. ಆ ವೈಶಿಷ್ಟ್ಯವನ್ನು ಗಮನದಲ್ಲಿಟ್ಟುಕೊಂಡು ಗುಂಪಿಗೆ ಹೊಂದುವ ಪದವನ್ನು ಪರ್ಯಾಯಗಳಿಂದ ಆರಿಸಿರಿ.

59. ಬಿರುಗಾಳಿ, ತುನಾಮಿ, ಮಹಾಪೂರ

- (1) ಮಳೆ (2) ಅಪಘಾತ (3) ಬರಗಾಲ (4) ಮಹಾಸಾಗರ

60. ತಾಯಿ, ಜನನಿ, ಅಮ್ಮ

- (1) ಜನಕ (2) ಗುರು (3) ದೇವರು (4) ಮಾತೆ

61. 9 (31) 5 , 7 (17) 4 , 8 (13) 3

- (1) 8 (26) 5 (2) 7 (23) 5 (3) 7 (17) 3 (4) 6 (20) 2

ಕೇವಲ ಕಚ್ಚಾ ಕೆಲಸಕ್ಕಾಗಿ

A	B	C	D	E	F	G	H	I	J	K	L	M	N	O	P	Q	R	S	T	U	V	W	X	Y
---	---	---	---	---	---	---	---	---	---	---	---	---	---	---	---	---	---	---	---	---	---	---	---	---

62. $\frac{18}{42}, \frac{27}{63}, \frac{36}{84}$


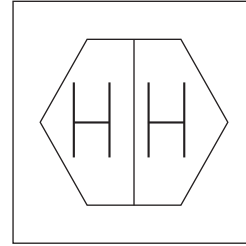
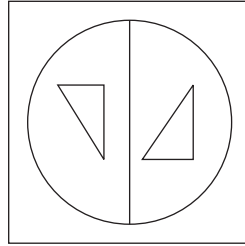
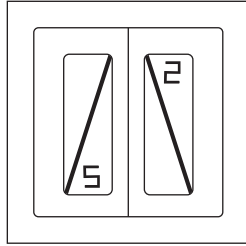
(1) $\frac{24}{72}$

(2) $\frac{51}{119}$

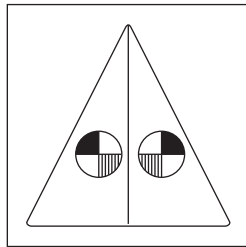
(3) $\frac{30}{60}$

(4) $\frac{72}{120}$

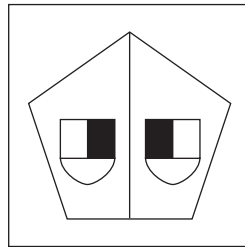
63. Question Figures:



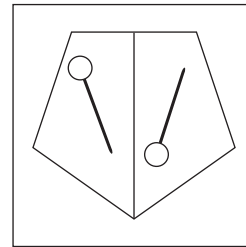
Answer Figures:



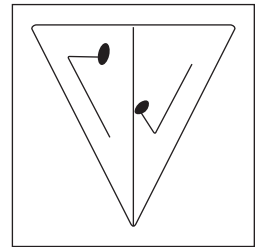
(1)



(2)



(3)



(4)

64. In a certain code language if $[3, 4] \left[\frac{2}{5} \right] = 26$, $[1, 3] \left[\frac{2}{7} \right] = 23$ and $[2, 5] \left[\frac{6}{7} \right] = 47$ then in the same code language how will you write $[2, 7] \left[\frac{5}{6} \right]$?

(1) 52

(2) 20

(3) 42

(4) 62

65. Statement A : Sourabh is 17 years old and he is three years younger than Seema.
Statement B : Sharayu is younger than Sharad, her age is 21 years.

Select the correct conclusion of statement A and B from the given alternatives.

(1) Sharayu is younger than Sourabh by 4 years.

(2) Sharad is younger than Seema.

(3) Seema is 14 years old.

(4) Sourabh is youngest in all of them.

SPACE FOR ROUGH WORK

A	B	C	D	E	F	G	H	I	J	K	L	M	N	O	P	Q	R	S	T	U	V	W	X	Y
---	---	---	---	---	---	---	---	---	---	---	---	---	---	---	---	---	---	---	---	---	---	---	---	---

62. $\frac{18}{42}, \frac{27}{63}, \frac{36}{84}$


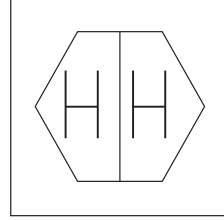
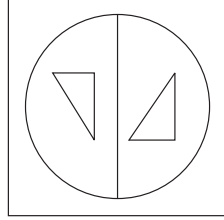
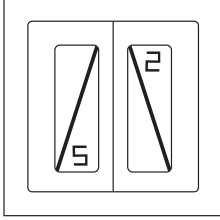
(1) $\frac{24}{72}$

(2) $\frac{51}{119}$

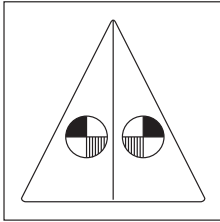
(3) $\frac{30}{60}$

(4) $\frac{72}{120}$

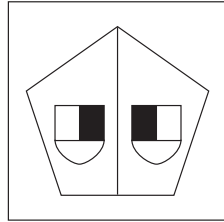
63. ಪ್ರಶ್ನಾಕೃತಿಗಳು:



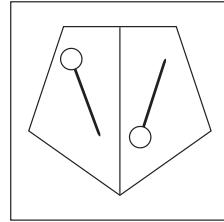
ಉತ್ತರ ಆಕೃತಿಗಳು:



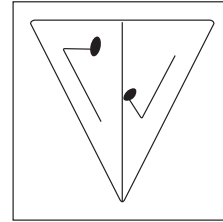
(1)



(2)



(3)



(4)

64. ಒಂದು ಸಾಂಕೇತಿಕ ಭಾಷೆಯಲ್ಲಿ $[3, 4] \left[\frac{2}{5} \right] = 26$, $[1, 3] \left[\frac{2}{7} \right] = 23$ ಮತ್ತು $[2, 5] \left[\frac{6}{7} \right] = 47$ ಹೀಗೆ ಬರೆಯುವರು; ಹಾಗಾದರೆ ಅದೇ ಸಾಂಕೇತಿಕ ಭಾಷೆಯಲ್ಲಿ $[2, 7] \left[\frac{5}{6} \right]$ ಇದನ್ನು ಹೇಗೆ ಬರೆಯುವಿರಿ?

(1) 52

(2) 20

(3) 42

(4) 62

65. ವಿಧಾನ : (ಅ) ಸೌರಭ 17 ವರ್ಷದವನಾಗಿದ್ದು ಸೀಮಾಳಿಗಿಂತ ಮೂರು ವರ್ಷಗಳಿಂದ ಚಿಕ್ಕವನಾಗಿದ್ದಾನೆ.

(ಬ) ಶರಯು ಶರದನಿಗಿಂತ ಚಿಕ್ಕವಳಾಗಿದ್ದು ಅವಳ ವಯಸ್ಸು 21 ವರ್ಷಗಳು ಇದೆ.

ಇದರ ಮೇಲಿಂದ ಕೆಳಗಿನವುಗಳ ಪೈಕಿ ಯಾವ ಸರಿಯಾದ ಅನುಮಾನ ಹೊರಡುವುದು ಎಂಬುದನ್ನು ಪರ್ಯಾಯಗಳಲ್ಲಿ ನಿಶ್ಚಯಿಸಿರಿ.

(1) ಶರಯು ಸೌರಭನಿಗಿಂತ ನಾಲ್ಕು ವರ್ಷ ಚಿಕ್ಕವಳಾಗಿದ್ದಾಳೆ.

(2) ಶರದ ಸೀಮಾಳಿಗಿಂತ ಚಿಕ್ಕವನಾಗಿದ್ದಾನೆ.

(3) ಸೀಮಾಳ ವಯಸ್ಸು 14 ವರ್ಷಗಳು ಇದೆ.

(4) ವಯಸ್ಸಿನಲ್ಲಿ ಎಲ್ಲಕ್ಕೂ ಚಿಕ್ಕವನು ಸೌರಭನಾಗಿದ್ದಾನೆ.

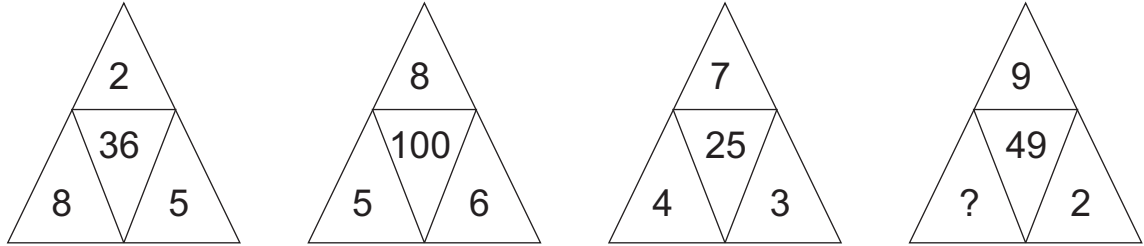
ಕೇವಲ ಕಚ್ಚಾ ಕೆಲಸಕ್ಕಾಗಿ

A	B	C	D	E	F	G	H	I	J	K	L	M	N	O	P	Q	R	S	T	U	V	W	X	Y
---	---	---	---	---	---	---	---	---	---	---	---	---	---	---	---	---	---	---	---	---	---	---	---	---

66. In a certain code language if COW = 274, CAT = 684 and WET = 825 then in the same code language how will you write GOAT? [The order of letters and numbers may not be one to one.]

- (1) 4768 (2) 7186 (3) 8765 (4) 1785

67. In the following question select the correct alternative to replace the question mark.



- (1) 5 (2) 4 (3) 3 (4) 1

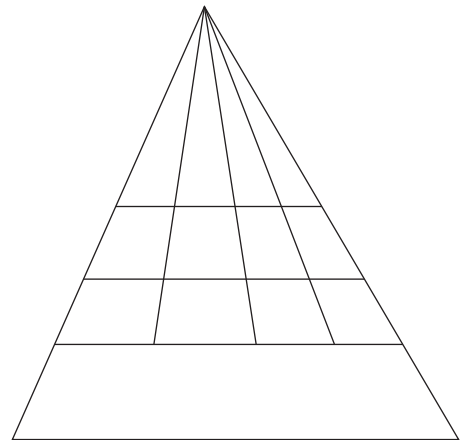
68. Observe the table of alphabets and signs and find the word opposite to 'Good'.

A	B	C	D	E	F	G
Δ	□	⊗	+	●		\

- (1) □ Δ + (2) ⊗ Δ +
(3) ● □ + (4) □ ● ⊗

69. How many quadrilaterals are there in the given figure.

- (1) 60
(2) 30
(3) 33
(4) 32

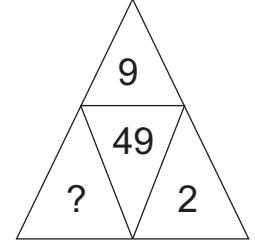
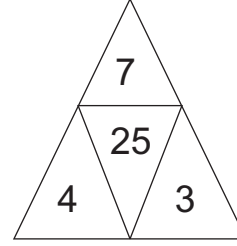
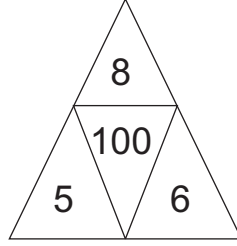
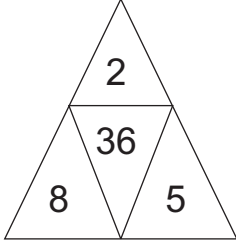


SPACE FOR ROUGH WORK

A	B	C	D	E	F	G	H	I	J	K	L	M	N	O	P	Q	R	S	T	U	V	W	X	Y
---	---	---	---	---	---	---	---	---	---	---	---	---	---	---	---	---	---	---	---	---	---	---	---	---

66. ಒಂದು ಸಾಂಕೇತಿಕ ಭಾಷೆಯಲ್ಲಿ COW = 274, CAT = 684 ಮತ್ತು WET = 825 ಹೀಗೆ ಬರೆಯುವರು; ಹಾಗಾದರೆ ಅದೇ ಸಾಂಕೇತಿಕ ಭಾಷೆಯಲ್ಲಿ GOAT ಈ ಶಬ್ದ ಹೇಗೆ ಬರೆಯುವಿರಿ? (ಸೂಚನೆ: ಅಕ್ಷರಗಳ ಮತ್ತು ಅಂಕಗಳ ಕ್ರಮ ಸಮಾನ ಇರುವುದೆಂದು ಹೇಳಲಾಗುವುದಿಲ್ಲ)
- (1) 4768 (2) 7186 (3) 8765 (4) 1785

67. ಕೆಳಗಿನ ಪ್ರಶ್ನೆಯಲ್ಲಿ ಪ್ರಶ್ನೆ ಚಿಹ್ನೆಯ ಸ್ಥಳದಲ್ಲಿ ಯಾವ ಸಂಖ್ಯೆ ಬರುವುದು?



- (1) 5 (2) 4 (3) 3 (4) 1

- 68.

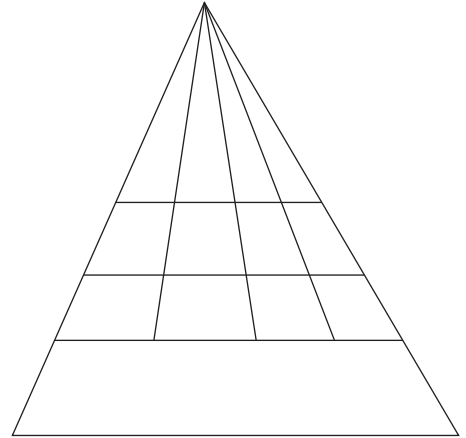
ಚ	ಶ	ತ	ಕ	ರ	ಬ	ಡ	ಮ	ಇ-ಕಾರ	ಅನುಸ್ವಾರ	ಎ-ಕಾರ
+	-	●	△	○	▼	□	÷	≠	@	×

ಮೇಲಿನ ತಖ್ತೆಯಲ್ಲಿಯ ಅಕ್ಷರಗಳ, ಚಿಹ್ನೆಗಳ ಉಪಯೋಗ ಮಾಡಿ 'ನಿಶ್ಚಿಂತೆ' ಈ ಶಬ್ದದ ವಿರುದ್ಧಾರ್ಥಕ ಶಬ್ದ ಹೇಗೆ ಬರೆಯುವಿರಿ?

- (1) + ≠ @ ● × (2) + × ● △
(3) △ ○ □ ≠ (4) △ + × ○ ≠

69. ಬದಿಯ ಆಕೃತಿಯಲ್ಲಿ ಚೌಕೋನಗಳ ಸಂಖ್ಯೆ ಎಷ್ಟು ಇದೆ?

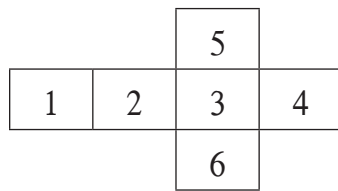
- (1) 60
(2) 30
(3) 33
(4) 32



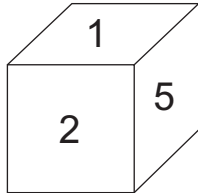
ಕೇವಲ ಕಚ್ಚಾ ಕೆಲಸಕ್ಕಾಗಿ

A	B	C	D	E	F	G	H	I	J	K	L	M	N	O	P	Q	R	S	T	U	V	W	X	Y
---	---	---	---	---	---	---	---	---	---	---	---	---	---	---	---	---	---	---	---	---	---	---	---	---

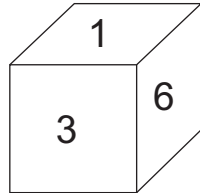
70.



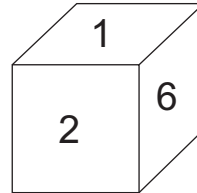
Observe the given figure. When figure is folded on lines then which of the following cube is not formed?



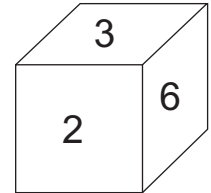
(1)



(2)

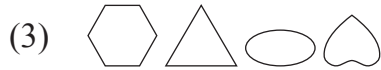


(3)



(4)

71. In the given series, select the correct alternative to replace the question mark.



72. Identify the pattern of numbers in the series and select the wrong term.

3 , 1 , 6 , 7 , 10 , 26 , 15 , 63 , 21

(1) 1

(2) 7

(3) 15

(4) 21

73. Varsha was facing the setting sun, she turned at 135° twice to her right side and went straight in her house then in which direction is the door facing?

(1) South

(2) South-East

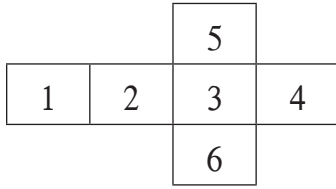
(3) North

(4) North-East

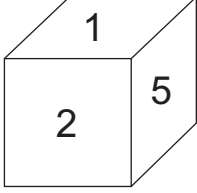
SPACE FOR ROUGH WORK

A	B	C	D	E	F	G	H	I	J	K	L	M	N	O	P	Q	R	S	T	U	V	W	X	Y
---	---	---	---	---	---	---	---	---	---	---	---	---	---	---	---	---	---	---	---	---	---	---	---	---

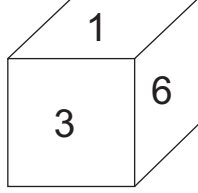
70.



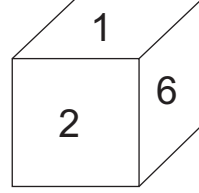
ಬದಿಯ ಆಕೃತಿಯ ರೇಷೆಗಳಲ್ಲಿ ಮಡಿಕೆ ಹಾಕಿ ಘನ ತಾಯಾರಿಸಿದರೆ ಕೆಳಗಿನವುಗಳ ಪೈಕಿ ಯಾವ ಘನಾಕೃತಿ ತಯಾರಾಗುವುದಿಲ್ಲ?



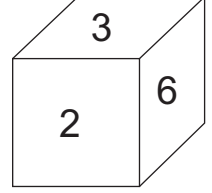
(1)



(2)



(3)



(4)

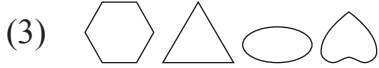
71. ಕೆಳಗಿನ ಚಿಹ್ನೆಗಳ ಮಾಲಿಕೆಯಲ್ಲಿ ಪ್ರಶ್ನೆ ಚಿಹ್ನೆಯ ಸ್ಥಳದಲ್ಲಿ ಬರುವ ಗುಂಪು ಪರ್ಯಾಯಗಳಿಂದ ಆರಿಸಿರಿ.



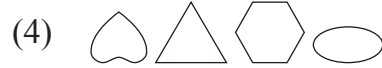
(1)



(2)



(3)



(4)

72. ಕೆಳಗಿನ ಸಂಖ್ಯಾ ಮಾಲಿಕೆಯಲ್ಲಿಯ ಸಂಖ್ಯೆಗಳನ್ನು ವಿಶಿಷ್ಟ ಕ್ರಮದಿಂದ ಮಂಡಿಸಲಾಗಿದೆ. ಆ ಕ್ರಮವನ್ನು ಗಮನಕ್ಕೆ ತೆಗೆದುಕೊಂಡು ಅವುಗಳಲ್ಲಿಯ ತಪ್ಪಾದ ಪದವನ್ನು ಗುರುತಿಸಿರಿ.

3 , 1 , 6 , 7 , 10 , 26 , 15 , 63 , 21

(1) 1

(2) 7

(3) 15

(4) 21

73. ಮುಳುಗುತ್ತಿರುವ ಸೂರ್ಯನಿಗೆ ನಮಸ್ಕಾರ ಮಾಡುತ್ತಿರುವ ವರ್ಷಾ 135 ಅಂಶಗಳಲ್ಲಿ ಎರಡು ಸಲ ಬಲಬದಿಗೆ ತಿರುಗಿ ಅವಳು ನೇರವಾಗಿ ಮನೆಯಲ್ಲಿ ಪ್ರವೇಶಿಸಿದಳು; ಹಾಗಾದರೆ ಮನೆಯ ಪ್ರವೇಶದ್ವಾರ ಯಾವ ದಿಕ್ಕಿಗೆ ಇರುವುದು?

(1) ದಕ್ಷಿಣ

(2) ಆಗ್ನೇಯ

(3) ಉತ್ತರ


(4) ಈಶಾನ್ಯ

ಕೇವಲ ಕಚ್ಚಾ ಕೆಲಸಕ್ಕಾಗಿ


Q. 74 and Q. 75 Direction:

In each question a problem figure is held vertical above water surface. Identify its water reflection and select the correct alternative.


74. Question Figure:



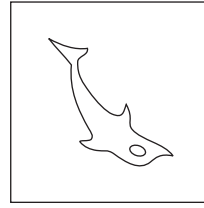
Answer Figures:



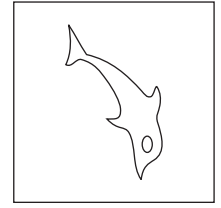
(1)



(2)




(3)



(4)

75. Question Figure:



Answer Figures:



(1)



(2)



(3)




(4)

SPACE FOR ROUGH WORK


ಪ್ರಶ್ನೆ 74 ಹಾಗೂ 75 ರ ಸಲುವಾಗಿ ಸೂಚನೆ:

ಕೆಳಗಿನ ಪ್ರಶ್ನಾಕೃತಿಯ ನೀರಿನಲ್ಲಿಯ ಪ್ರತಿಬಿಂಬ ಪರ್ಯಾಯ ಉತ್ತರ ಆಕೃತಿಗಳಿಂದ ಆರಿಸಿರಿ.


74. ಪ್ರಶ್ನಾಕೃತಿ:




ಉತ್ತರ ಆಕೃತಿಗಳು:




(1)



(2)



(3)



(4)

75. ಪ್ರಶ್ನಾಕೃತಿ:



ಉತ್ತರ ಆಕೃತಿಗಳು:



(1)



(2)



(3)



(4)

ಕೇವಲ ಕಚ್ಚಾ ಕೆಲಸಕ್ಕಾಗಿ

ಕೇವಲ ಕಚ್ಚಾ ಕೆಲಸಕ್ಕಾಗಿ