

پری اپر پرائمری اسکالرشپ امتحان برائے پنجم جماعت، جولائی 2022

--	--	--	--	--	--	--	--	--	--

نشست نمبر

سیٹ



0 2 0 2



پرچہ نمبر : II

وقت : 01:30 سے 03:00

کل نمبرات : 150

میڈیم : اُردو

مضمون : زبان سوم (انگریزی) اور ذہنی آزمائش

کل صفحات : 32

سوالیہ پرچہ حل کرنے سے پہلے دی گئی ہدایات کو غور سے پڑھیے۔

- (1) اس سوالیہ پرچہ کے دو حصے ہیں۔ حصہ "I" میں زبان سوم (انگریزی) کے لیے 1 سے 25 اور حصہ "II" میں ذہنی آزمائش کے لیے 26 سے 75 ایسے کل 75 سوالات ہیں۔ تمام سوالات حل کرنا لازمی ہیں۔
- (2) ہر سوال کے لیے دو (2) نمبرات ہیں۔
- (3) سوالیہ پرچہ حل کرنے کے لیے کل 90 منٹ کا وقت دیا جائے گا۔
- (4) جواب کا اندراج کرنے کے لیے الگ سے جوابی پرچہ دیا گیا ہے۔ ہر سوال نمبر کے سامنے چار متبادلات کے لیے ترتیب وار چار دائرے دیے گئے ہیں۔ اس میں صحیح متبادل والے دائرہ کو دی گئی مثال کے مطابق رنگ بھرنا ہے۔
- مثال : سوال نمبر 6 کے صحیح جواب کا متبادل نمبر 2 ہونے سے اس طرح درج کریں :
- سوال نمبر 6 : ① ● ③ ④
- (5) ذیل کے مطابق درج کیے گئے جوابات قبول نہیں کیے جائیں گے۔
- ① X ② ③ ● ④ X
- (6) ہر سوال کے جواب کے لیے ایک سے زیادہ رنگے ہوئے دائرے، کانٹ چھاٹ کیے ہوئے جوابات قبول نہیں کیے جائیں گے۔
- (7) ایک مرتبہ درج کیا ہوا جواب تبدیل نہیں کیا جاسکے گا۔
- (8) متبادل دائروں کو بھرتے وقت صرف کالی (سیاہ) یا نیلی بال پین کا استعمال کریں۔ پینسل سے بھرے گئے جوابات ناقابل قبول ہوں گے۔
- (9) سوالیہ پرچہ میں ہر صفحہ کی پگلی جانب اور پرچہ کے آخری صفحے پر پرف کا کام کے لیے جگہ مہیا کی گئی ہے۔ اسی جگہ پر پرف کام کیا جائے۔
- (10) امتحان کے لیے وقت محدود ہے اس لیے اگر آپ کو کسی سوال کا جواب نہیں آتا ہو تو اگلا سوال حل کریں۔ آخر میں وقت بچنے پر بقیہ سوالات حل کرنے کی کوشش کریں۔
- (11) اگر کسی سوال میں خامی / غلطی ہو تو اس کی پوچھ تاچھ 'سپروائزر' یا 'سینئر انچارج' سے نہ کریں۔
- (12) سوال میں کوئی خامی / غلطی / اعتراض ہو تو اسکول یا سرپرست اس کی تحریری شکایت B. E. O. یا ایجوکیشن آفیسر کو نہ بھیجتے ہوئے براہ راست متعلقہ اسکول کے Login (لاگ ان) سے آن لائن بھیجیں۔
- (13) خامی / غلطی / اعتراض سے متعلق تحریری شکایت آن لائن روانہ کرنے کی مدت پریکٹس پریکٹس کی ویب سائٹ پر جوابات شائع کرنے کے بعد دس دنوں تک رہے گی۔
- (14) طباعت کی غلطی یا دیگر وجوہات کی وجہ سے اگر سوال میں کوئی غلطی سرزد ہوگئی ہو تو ماہرین کی کمیٹی کی آراء کے مطابق مناسب کارروائی کی جائے گی۔
- (15) اردو زبان کے ساتھ انگریزی زبان میں سوالیہ پرچہ دیا گیا ہے۔ اردو زبان کے مشکوک سوالات کے لیے انگریزی زبان میں دیا ہوا سوال دیکھیں۔

SECTION - I

ENGLISH

Instructions for Q.01 to Q.03

Read the passage carefully and answer the following questions.

Mani is my favourite cat. Every morning mother gives her some milk. Sometimes she catches a mouse near the garbage pit. She likes climbing trees and watching the birds.

01. What does Mani catch?

- (1) A pit (2) A mouse (3) Milk (4) A bird

02. Find the odd term.

- (A) Morning (B) Climbing (C) Watching
(1) 'B' correct (2) 'C' correct
(3) 'A' correct (4) 'A', 'B', 'C' correct

03. Find the rhyming word for 'Free'.

- (1) She (2) Give (3) Like (4) Tree

04. Fill in the blank with the correct alternative.

Malhar caught a big golden fish _____ his net.

- (1) in (2) on (3) over (4) upon

05. Choose the correct comparison for as timid as _____.

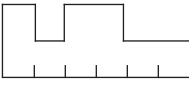
- (1) rabbit (2) elephant (3) deer (4) vulture

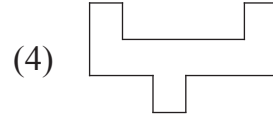
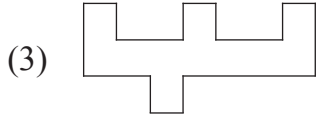
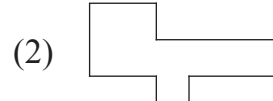
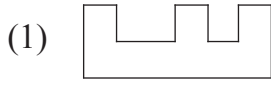
06. Look at the picture and select the correct conversation from the given options.

- (1) A : Excuse me, uncle. Is this yours?
B : Oh, yes!
(2) A : Thank you so much for this gift.
B : You are welcome.
(3) A : What's the time?
B : It's two O'clock.
(4) A : Can you please help me.
B : Sure.



SPACE FOR ROUGH WORK

07. Ladder :  :: English : ?



08. Find the smaller hidden word which indicates 'Head of the unit' from the word - Handkerchief.


- (1) Chick (2) Chief (3) Hand (4) And

09. Complete the word register.

Violin, Tabla, _____ , _____.

- (1) Erraser, Sponge (2) Scene, Museum
(3) Tambourine, Cymbals (4) Mixer, Sieve

10. Identify the game and select the correct option.



- (1) Hop-scotch
(2) Hide and seek
(3) Marbles
(4) Skipping-rope

11. Choose the correctly spelt word.

- (1) Compitition (2) Competition (3) Compitision (4) Competision

12. Identify the underlined punctuation mark in the given sentence.

Ah! At last I will have some rice.

- (1) Apostrophe (2) Comma
(3) Question mark (4) Exclamation mark

SPACE FOR ROUGH WORK

13. Select the proper option to complete the motto.

_____ is wealth.

- (1) Money (2) Health (3) Currency (4) Growth

14. Fill in the blank with correct option.

This advertisement gives offer for _____ festival.



- (1) Eid
(2) Pune
(3) Diwali
(4) Christmas

15. Select the correct alternative.

_____ work quickly.

- (1) Lets' (2) let's (3) Let's (4) 'Lets

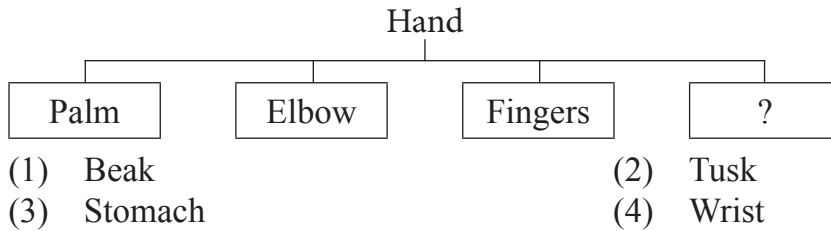
16. Find the odd man out.

- (1) Shiny star (2) Tall tree (3) Clever house (4) Old man

17. Which of the following is a request? Choose the correct option.

- (1) May I come in? (2) I don't know.
(3) What are you doing? (4) Please wait for me.

18. Look at the chart and find the correct option.



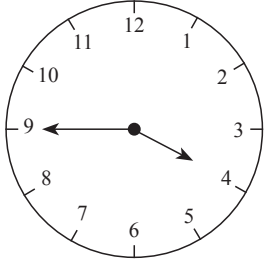
19. Select the correct option.

February is the _____ month of the year.

- (1) second (2) 2 (3) II (4) two

SPACE FOR ROUGH WORK

20. This clock shows the time _____.



- (1) quarter to four
(2) quarter past four
(3) quarter to three
(4) quarter past three

21. What will you write in the following timeline?

Present	Past	Future
↓	↓	↓
Find	?	Will find

- (1) Will find (2) Found (3) Finds (4) Was finding

22. At the time of examination, what will you say to your friend? Choose the proper greeting.

- (1) All the best. (2) All in one. (3) All is set. (4) All sit down.

23. Select the correct option.

Sunday comes after _____.

- (1) Monday (2) Thursday (3) Saturday (4) Tuesday

24. Choose the correct alternative for the given sentence.

gaurav was the captain of 'a' division's team.

- (1) Capital 'G' for gaurav
(2) Capital 'A' for 'a' division
(3) Capital 'C' for captain
(4) Capital 'G' for gaurav and capital 'A' for 'a' division.

25. Count the number of question marks in the following conversation.

A : Hello, Ira speaking. Will you come to play with me?

B : Which game?

A : Off course! Basketball.

B : When?

A : At 5 p.m.

- (1) 2 (2) 4 (3) 0 (4) 3

SPACE FOR ROUGH WORK

SECTION - II

INTELLIGENCE TEST

26. How many two letter words are more or less than the four letter words in the given sentence?

“Raju helped Ram while he was climbing Shivneri Fort.”

- | | |
|---------------|---------------|
| (1) More by 1 | (2) Less by 1 |
| (3) More by 2 | (4) Less by 2 |

27. In the given alphabet series which letters have occurred same number of times?

K P G G P K G H T P D K G P T D P

- | | |
|---------|---------|
| (1) P G | (2) K T |
| (3) T D | (4) D P |

28. In the given number series how many times does ‘3’ occur before ‘5’ but ‘4’ does not occur after ‘5’?

8 3 5 2 4 5 3 5 3 4 6 5 4 3 5 3 5 6 4 3 5 3 5 4 3 5 7

- | | |
|-------------|-------------|
| (1) 7 times | (2) 8 times |
| (3) 6 times | (4) 9 times |

Q.29 to Q.33 Direction :

Select the odd term

- | | |
|--------------------------|-------------------|
| 29. (1) to see - to look | (2) dirty - dusty |
| (3) hand - fore arm | (4) poor - weak |

SPACE FOR ROUGH WORK

SECTION - II

ذہانت ٹیسٹ

26. 'اس مرتبہ ہم نے عید الفطر بالکل الگ ڈھنگ سے منائی۔'
اس جملہ میں دو حرفی الفاظ کی تعداد پانچ حرفی الفاظ سے کتنی زیادہ یا کم ہے؟
- (1) دو زیادہ (2) ایک زیادہ
(3) دو کم (4) ایک کم
27. خ پ گ گ پ خ گ گھ ٹ پ ڈ خ گ پ ٹ ڈ پ
درج بالا حروفی سلسلے میں کون سے حروف مساوی مرتبہ آئے ہیں؟
- (1) پ گ (2) خ ٹ
(3) ٹ ڈ (4) ڈ پ
28. درج ذیل عددی سلسلے میں 5 سے پہلے 3 آیا ہوا ہے۔ لیکن 5 کے بعد 4 نہیں آیا ہوا ہے۔ ایسا کتنی مرتبہ ہوا ہے؟

8 3 5 2 4 5 3 5 3 4 6 5 4 3 5 3 5 6 4 3 5 3 5 4 3 5 7

- (1) 7 مرتبہ (2) 8 مرتبہ
(3) 6 مرتبہ (4) 9 مرتبہ

سوال نمبر 29 سے 33 کے لیے ہدایت :

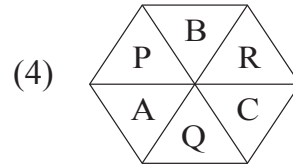

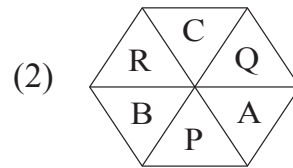

گروپ میں شامل نہ ہونے والے رکن کو متبادلات میں سے منتخب کریں۔

29. (1) آنکھ - چشم (2) سورج - خورشید
(3) آب - پانی (4) غریب - دن

رف کام کے لیے خالی جگہ

A	B	C	D	E	F	G	H	I	J	K	L	M	N	O	P	Q	R	S	T	U	V	W	X	Y
---	---	---	---	---	---	---	---	---	---	---	---	---	---	---	---	---	---	---	---	---	---	---	---	---

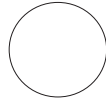
30.



31.



(1)



(2)



(3)



(4)

32.

(1) 4

(2) 17

(3) 7

(4) 12

33.

(1) 111

(2) 482

(3) 231

(4) 362

Q.34 and Q.35 Direction :

Consider the pattern in the given number series and select the correct option to replace the question mark.

34.

53, 61, 68, 82, ?, 103

(1) 92

(2) 91

(3) 89

(4) 95

35.

2, 4, 7, 12, 19, 30, ?, 60

(1) 47

(2) 43

(3) 49

(4) 45

36.

In the given series of symbols select the correct group from the options to replace the question mark.

$< + \times - , + \times - < , \times - < + , - < + \times , ?$

(1) $< \times + -$

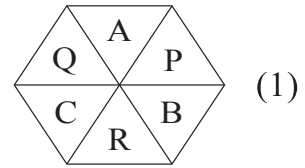
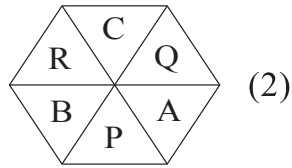
(2) $\times - < +$

(3) $< + \times -$

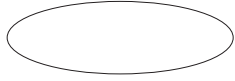
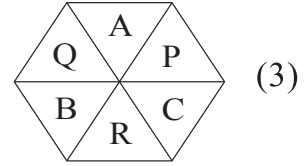
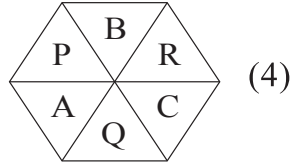
(4) $> + \times -$

SPACE FOR ROUGH WORK

A	B	C	D	E	F	G	H	I	J	K	L	M	N	O	P	Q	R	S	T	U	V	W	X	Y
---	---	---	---	---	---	---	---	---	---	---	---	---	---	---	---	---	---	---	---	---	---	---	---	---



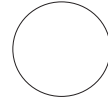
30.



(4)



(3)



(2)



(1)

31.

12 (4)

7 (3)

17 (2)

4 (1)

32.

362 (4)

231 (3)

482 (2)

111 (1)

33.

سوال نمبر 34 اور 35 کے لیے ہدایت :

عددی سلسلے کی ترتیب میں ضابطے کا دھیان رکھتے ہوئے سوالیہ علامت کی جگہ آنے والے متبادل کا انتخاب کیجئے۔

53, 61, 68, 82, ?, 103 34.

95 (4)

89 (3)

91 (2)

92 (1)

2, 4, 7, 12, 19, 30, ?, 60 35.

45 (4)

49 (3)

43 (2)

47 (1)

36. ذیل کے علامتی سلسلے میں سوالیہ علامت کی جگہ آنے والا گروہ متبادل میں سے منتخب کیجئے۔

$< + \times -$, $+ \times - <$, $\times - < +$, $- < + \times$, ?

$> + \times -$ (4)

$< + \times -$ (3)

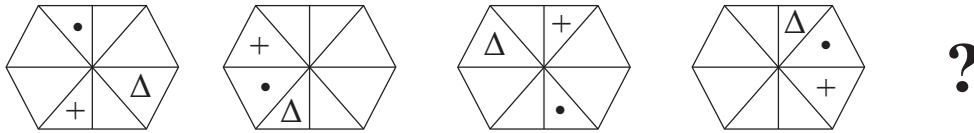
$\times - < +$ (2)

$< \times + -$ (1)

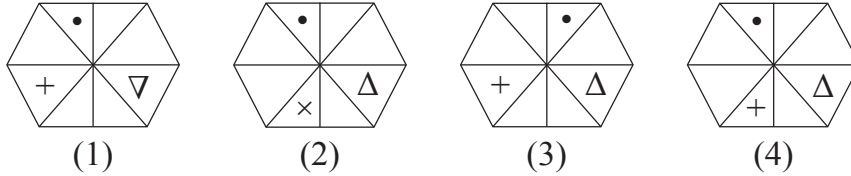
رف کام کے لیے خالی جگہ

37. Select the correct figure from the options to replace the question mark.

Question Figures



Answer Figures

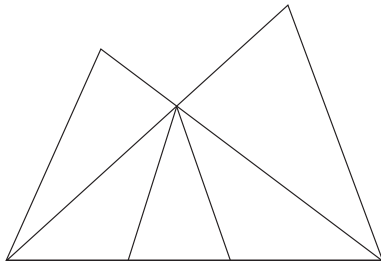


38. Select the wrong term in the given number series.

$$\frac{1}{3}, \frac{3}{6}, \frac{5}{11}, \frac{7}{17}, \frac{9}{27}, \frac{11}{38}$$

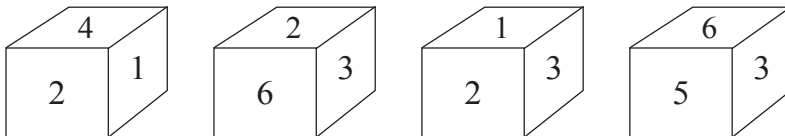
- (1) $\frac{3}{6}$ (2) $\frac{11}{38}$ (3) $\frac{7}{17}$ (4) $\frac{9}{27}$

39. In the adjacent figure how many triangles are there?



- (1) 8
(2) 10
(3) 11
(4) 5

40. In the following question various faces of a cube are shown. Study them and find the number which is on the face opposite to 5.

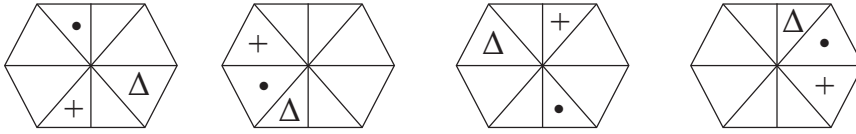


- (1) 2 (2) 6 (3) 1 (4) 4

SPACE FOR ROUGH WORK

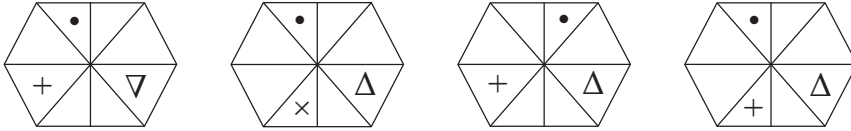
37. سوالیہ نشان کی جگہ کون سی شکل آئے گی؟

سوالیہ شکل :



?

جوابی شکلیں :



(1)

(2)

(3)

(4)

38. درج ذیل عددی سلسلے میں غلط رکن پہچانیئے۔

$$\frac{1}{3}, \frac{3}{6}, \frac{5}{11}, \frac{7}{17}, \frac{9}{27}, \frac{11}{38}$$

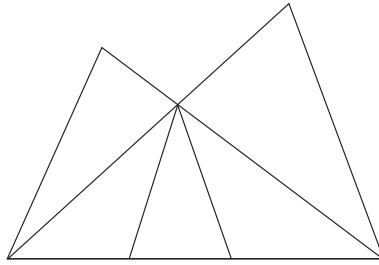
$\frac{9}{27}$ (4)

$\frac{7}{17}$ (3)

$\frac{11}{38}$ (2)

$\frac{3}{6}$ (1)

39. دی گئی شکل میں کتنے مثلث ہیں؟



8 (1)

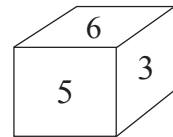
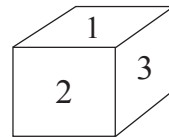
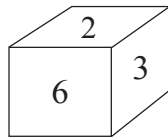
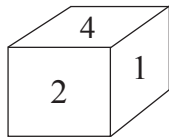
10 (2)

11 (3)

5 (4)

40. ذیل کے سوال میں بتایا گیا ہے کہ ایک ہی مکعب کی سطح مختلف صورتوں میں کیسی نظر آئے گی۔ ان شکلوں کا مشاہدہ کر کے '5' کے

عدد والی سطح کے مخالف سطح پر کون سا عدد ہوگا؟ متبادل میں سے تلاش کیجئے۔



4 (4)

1 (3)

6 (2)

2 (1)

رف کام کے لیے خالی جگہ

A	B	C	D	E	F	G	H	I	J	K	L	M	N	O	P	Q	R	S	T	U	V	W	X	Y
---	---	---	---	---	---	---	---	---	---	---	---	---	---	---	---	---	---	---	---	---	---	---	---	---

41. If Horse is called Camel, Camel is called as Zebra, Zebra is called as Donkey, then which animal is called as 'Ship of Desert'.
- (1) Horse (2) Camel
(3) Donkey (4) Zebra
42. Ajay is taller than Ramesh but shorter than Sadu. Sameedha is taller than Ajay but not as tall as Sadu. Who is the tallest?
- (1) Sadu (2) Sameedha
(3) Ajay (4) Ramesh
43. Five years ago John and Ahmed's age was $\frac{1}{3}$ and $\frac{1}{4}$ times respectively of Sharad's age at that time. If John's age was 8 yrs at that time then what is the addition of ages of all three, two years later?
- (1) 38 yrs (2) 53 yrs
(3) 59 yrs (4) 40 yrs
44. There are two married sons and three grand children in Radha's family. Find minimum number of members in Radha's family.
- (1) 12 (2) 11
(3) 10 (4) 9

Q.45 to Q.49 Direction :

In the given questions first term has a specific relation with the second term. The same relation exists between third and fourth term. Identify the relation and select the correct option to replace the question mark.

45. Maharashtra : Governor :: India : ?
- (1) Prime Minister (2) President
(3) Chief Minister (4) Vice-President

SPACE FOR ROUGH WORK

A	B	C	D	E	F	G	H	I	J	K	L	M	N	O	P	Q	R	S	T	U	V	W	X	Y
---	---	---	---	---	---	---	---	---	---	---	---	---	---	---	---	---	---	---	---	---	---	---	---	---

41. گھوڑے کو اونٹ، اونٹ کو زبیرا، زبیرے کو گدھا کہا جائے تو صحرائی جہاز کسے کہا جائے گا؟
- (1) گھوڑا
(2) اونٹ
(3) گدھا
(4) زبیرا
42. سلیم رتن کے بہ نسبت اونچا ہے لیکن یوسف کے بہ نسبت پستہ قد ہے۔ یاسمین سلیم کے بہ نسبت اونچی ہے لیکن یوسف جتنی اونچی نہیں۔ تو سب سے زیادہ اونچا کون ہے؟
- (1) یوسف
(2) یاسمین
(3) سلیم
(4) رتن
43. جان اور احمد کی 5 سال پہلے کی عمریں شرد کی اس وقت کی عمر کا بالترتیب $\frac{1}{3}$ ، $\frac{1}{4}$ گنا تھی۔ جان کی اس وقت کی عمر 8 سال تھی تو ان تینوں کی 2 سال بعد کی عمروں کا مجموعہ کتنے سال ہوگا؟
- (1) 38 سال
(2) 53 سال
(3) 59 سال
(4) 40 سال
44. چاچا، چاچی کے گھر میں 2 شادی شدہ لڑکے اور 3 پوتے پوتیاں ہیں۔ تو بتائیے ان کے گھر میں کم از کم کتنے افراد ہونگے؟
- (1) 12
(2) 11
(3) 10
(4) 9

سوال نمبر 45 سے 49 کے لیے ہدایت :

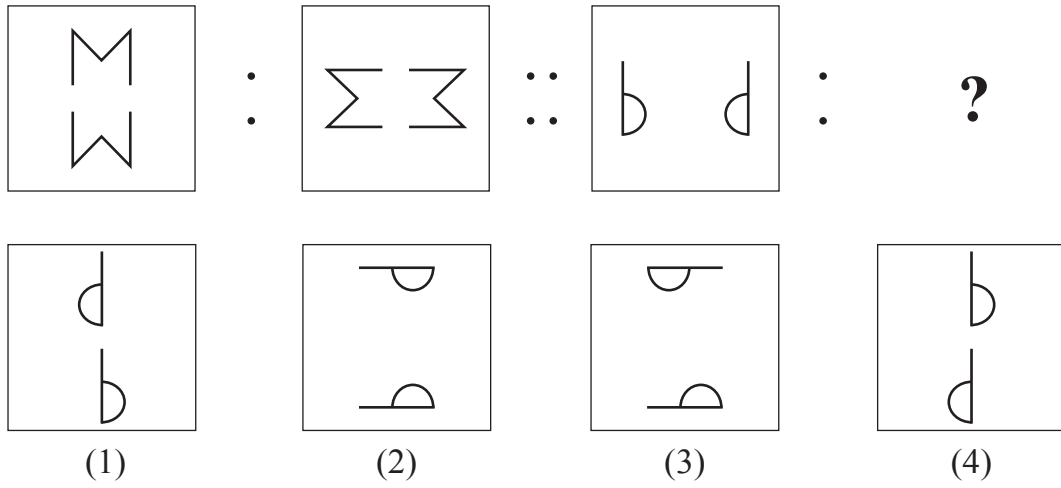
درج ذیل سوالات میں پہلے اور دوسرے رکن میں جتنا تعلق ہے بالکل ویسا ہی تعلق تیسرے اور چوتھے رکن میں ہے۔ اسے تلاش کیجئے اور سوالیہ نشان کی جگہ آنے والے جواب کو دیئے گئے متبادلات میں تلاش کریں اور دائرے میں رنگ بھرئیے۔

45. مہاراشٹر : گورنر :: بھارت : ؟

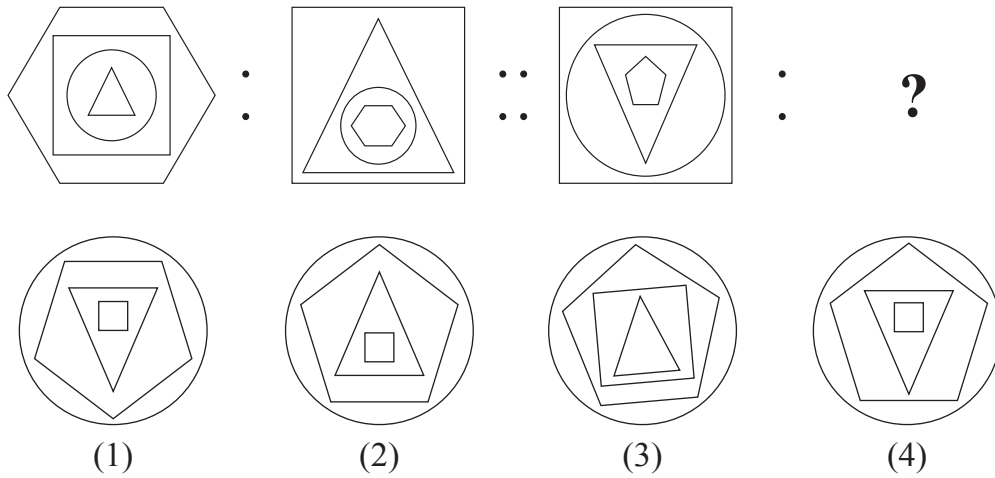
- (1) وزیراعظم
(2) صدر جمہوریہ
(3) وزیراعلیٰ
(4) نائب صدر جمہوریہ

رف کام کے لیے خالی جگہ

46.



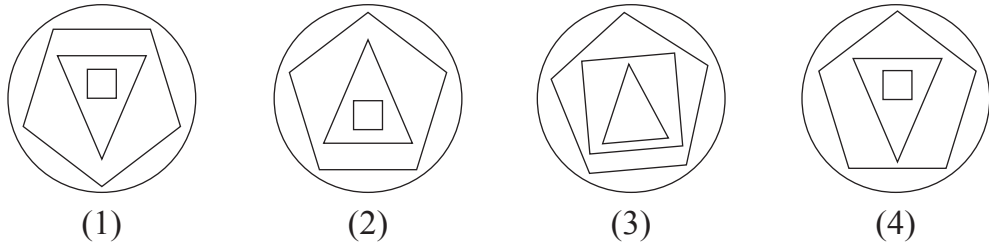
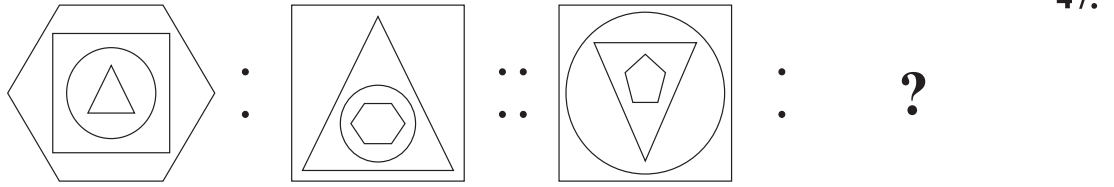
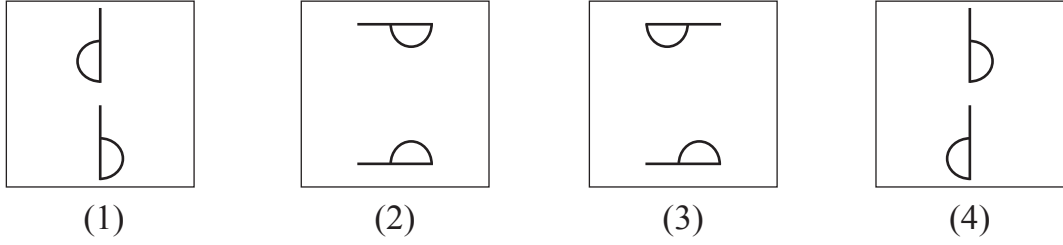
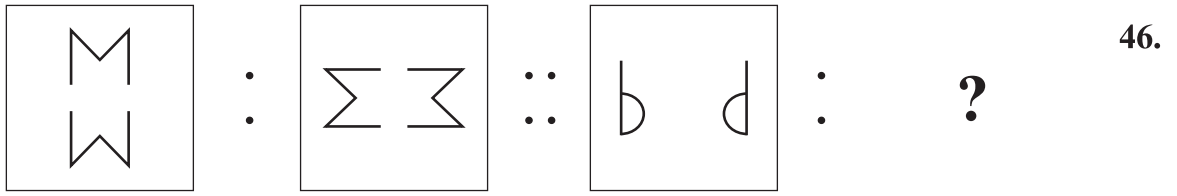
47.



48. 13 : 169 :: 15 : ?

- (A) 225 (B) 175 (C) 195
- (1) Only 'A' is correct (2) Only 'C' is correct
- (3) 'A' and 'B' both are correct (4) 'A' and 'C' both are correct

SPACE FOR ROUGH WORK



13 : 169 :: 15 : ? 48.

(A) 225 (B) 175 (C) 195

(2) صرف 'C' صحیح ہے۔
 (4) 'A' اور 'C' صحیح ہیں۔

(1) صرف 'A' صحیح ہے۔
 (3) 'A' اور 'B' صحیح ہیں۔

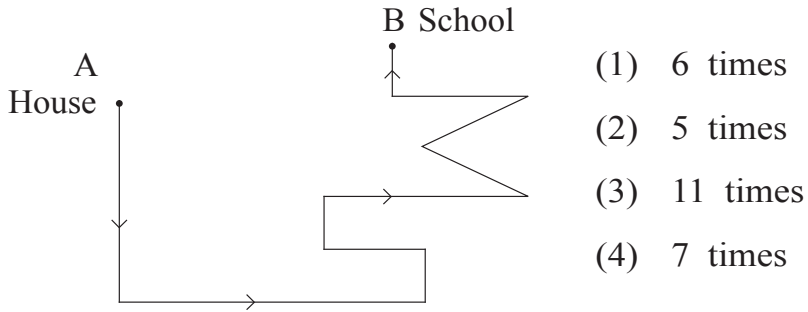
رف کام کے لیے خالی جگہ

A	B	C	D	E	F	G	H	I	J	K	L	M	N	O	P	Q	R	S	T	U	V	W	X	Y
---	---	---	---	---	---	---	---	---	---	---	---	---	---	---	---	---	---	---	---	---	---	---	---	---

49. $27 : 14 :: 18 : ?$

- (1) 13 (2) 12
(3) 15 (4) 17

50. In the adjoining figure, if one walks from 'House' (A) to 'School' (B) in the direction of the arrows, how many times has he to turn to his left?



51. Rahul says, "There are 6 boys standing in front of me in a row and Amit is at the third position behind me." Amit says, "I am standing next to the boy who is exactly at the middle place in the row." How many boys are standing in the row?

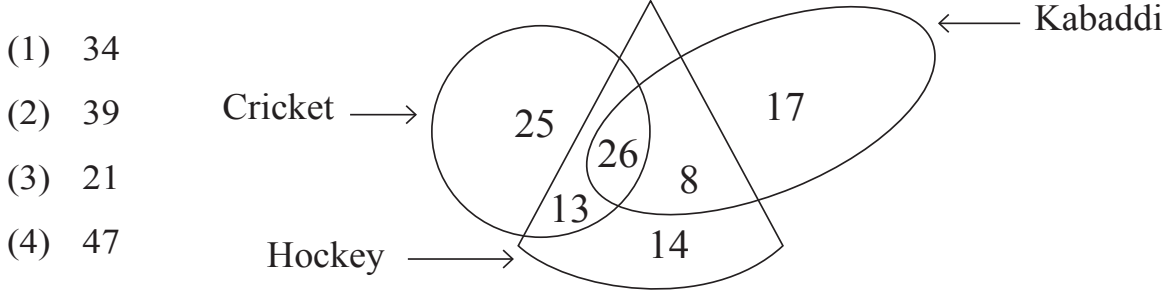
- (1) 18 (2) 19
(3) 21 (4) 23

52. In a certain year if Independence day occurs on Tuesday then in the same year which day would be the last day of the year?

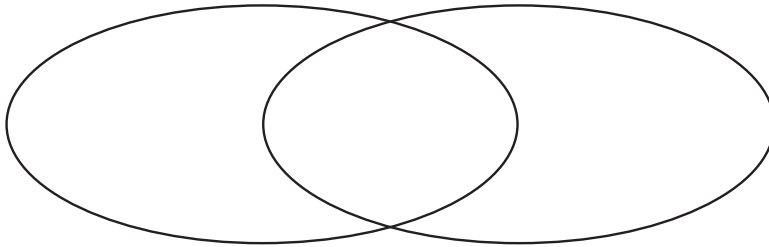
- (1) Sunday (2) Monday
(3) Tuesday (4) Wednesday

SPACE FOR ROUGH WORK

53. The adjacent figure shows the number of players playing different games. Observe the figure and find how many players play at least two games?



54. Select the correct option to describe the given venn diagram.



- (1) Male, Female, Doctors
 (2) Numbers, Even numbers, Odd numbers
 (3) Trees, Mango, Jackfruit
 (4) Country, State, District

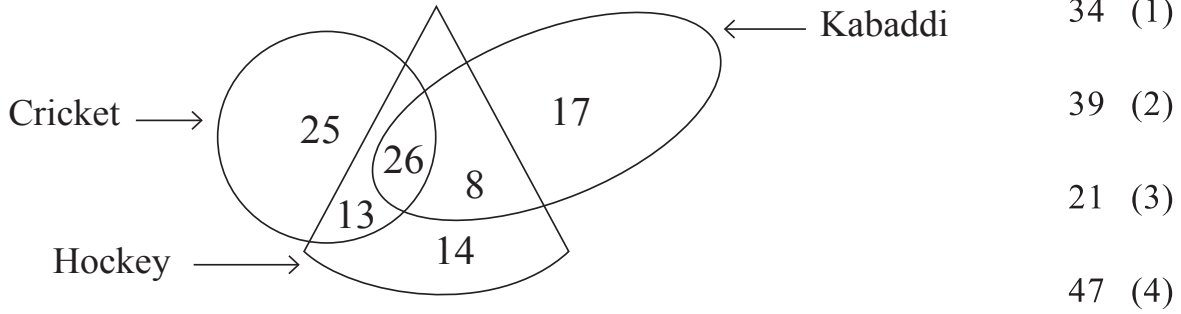
55. In the given square pattern, select the correct option to replace the question mark.

11	67	17
41	?	47
23	31	5

- (1) 73
 (2) 61
 (3) 59
 (4) 53

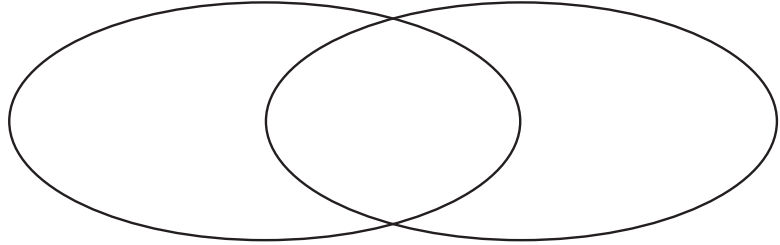
SPACE FOR ROUGH WORK

53. دی گئی شکل میں کھلاڑیوں کی تعداد بتائی گئی ہے تو بتائیے کم سے کم دو کھیل کھیلنے والے کھلاڑیوں کی تعداد کتنی ہے؟



54. ذیل میں دیئے گئے وین خاکے کی صحیح وضاحت کرنے والے متبادل کا انتخاب کریں۔

- (1) مرد - عورت - ڈاکٹر
(2) عدد - جفت عدد - طاق عدد
(3) درخت - آم - کٹھن
(4) ملک - ریاست - ضلع



55. درج ذیل خاکے میں سوالیہ نشان کی جگہ کون سا عدد آئے گا؟

- 73 (1)
61 (2)
59 (3)
53 (4)

11	67	17
41	?	47
23	31	5

رف کام کے لیے خالی جگہ

Q.56 to Q.60 Direction :

A set of terms is given at the beginning of the question. These terms have some common characteristic. Find out the term from the alternatives that matches the given set of terms.

56. Step mother, Snow white, Spring time, ?

- | | |
|-----------------|----------------|
| (1) Distrust | (2) Foot print |
| (3) Black white | (4) Day night |

57. Hard, Challenging, Testing, ?

- | | |
|----------------|---------------|
| (1) Easy | (2) Joyful |
| (3) Effortless | (4) Difficult |

58. 25, 123, 62, 6, ?

- | | |
|---------|---------|
| (1) 341 | (2) 216 |
| (3) 511 | (4) 218 |

59. 297, 135, 501, 189, ?

- | | |
|---------|---------|
| (1) 503 | (2) 355 |
| (3) 243 | (4) 781 |

SPACE FOR ROUGH WORK

سوال نمبر 56 سے 60 کے لیے ہدایت :

سوال کے شروع میں کچھ ارکان دیئے گئے ہیں۔ ان کی ایک جیسی خصوصیات کی وجہ سے ان کا ایک گروہ تیار ہوتا ہے۔ اس گروپ میں شامل ہونے والے رکن کو دیئے گئے متبادلات میں سے تلاش کیجئے۔

56. قدیل، موم پتی، شمع
- (1) اگر پتی
- (2) مشعل
- (3) جھومر
- (4) روشنی

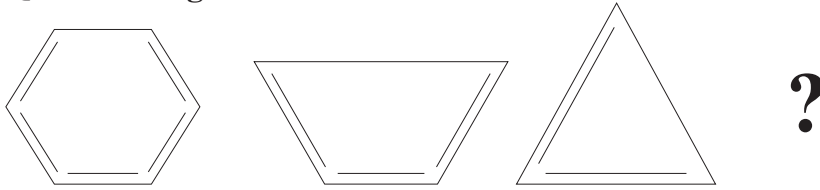
57. مرنج، زہرہ، مشتری
- (1) چاند
- (2) سورج
- (3) کہکشاں
- (4) زحل

58. 25, 123, 62, 6, ?
- (1) 341
- (2) 216
- (3) 511
- (4) 218

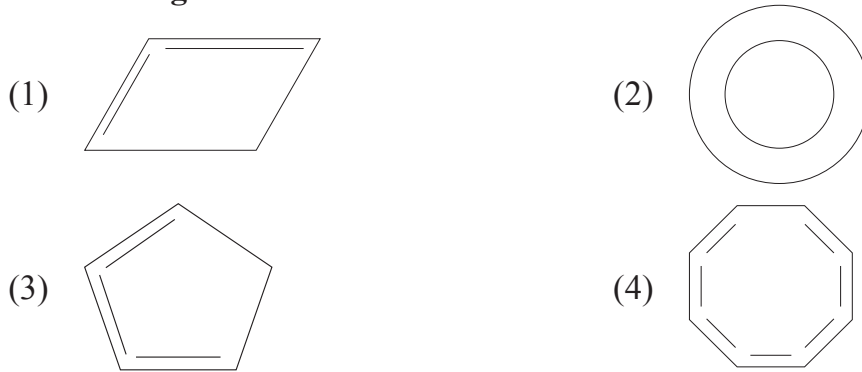
59. 297, 135, 501, 189, ?
- (1) 503
- (2) 355
- (3) 243
- (4) 781

رف کام کے لیے خالی جگہ

60. Question Figures




Answer Figures



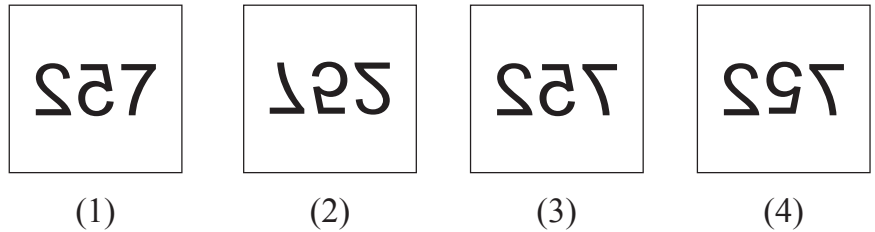
Q.61 and Q.62 Direction:

Select the mirror image of the given question figure from the options.

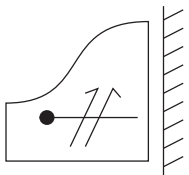
61. Question Figure



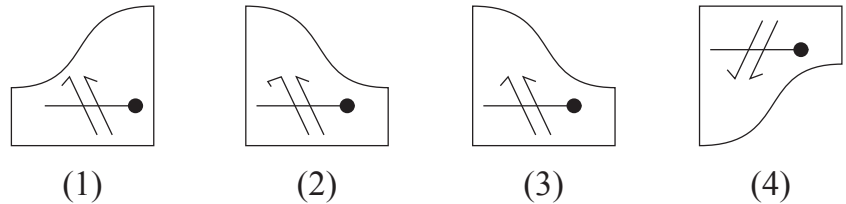
Answer Figures



62. Question Figure

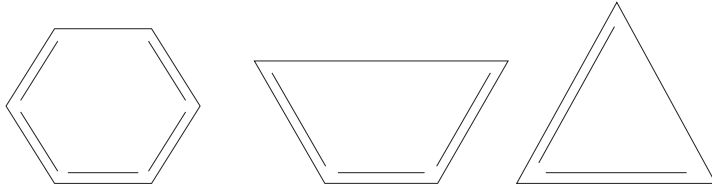


Answer Figures



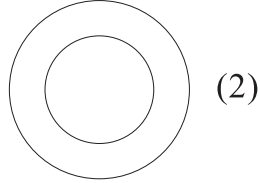
SPACE FOR ROUGH WORK

60. سوالیہ شکلیں :

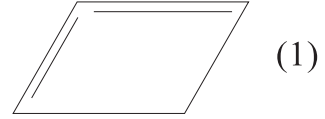


?

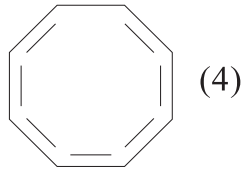
جوابی شکلیں :



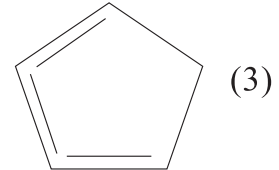
(2)



(1)



(4)




(3)

سوال نمبر 61 اور 62 کے لیے ہدایت :

درج ذیل سوالیہ شکلوں کا عکس آئینے میں کیسا نظر آئے گا۔ جواب متبادلات میں دی گئی شکلوں سے منتخب کیجئے۔

سوالیہ شکل :

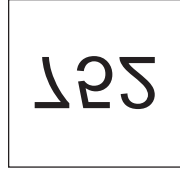


جوابی شکلیں :

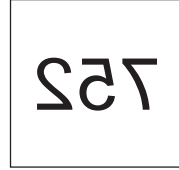
61.



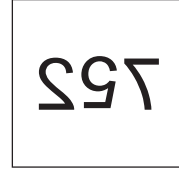
(1)



(2)

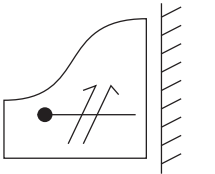


(3)



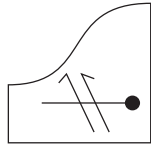
(4)

سوالیہ شکل :

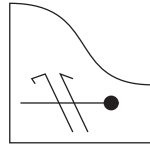


جوابی شکلیں :

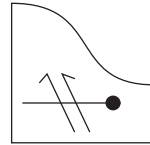
62.



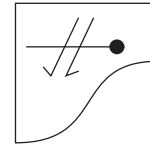
(1)



(2)



(3)



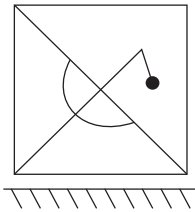
(4)

رف کام کے لیے خالی جگہ

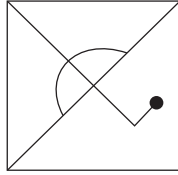
Q.63 and Q.64 Direction:

Select the water image of the given question figure from the options.

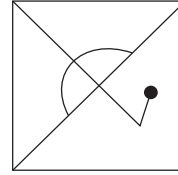
63. Question Figure



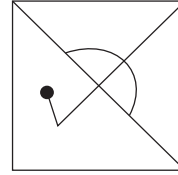
Answer Figures



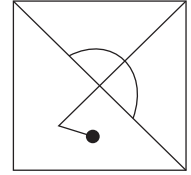
(1)



(2)



(3)



(4)

64. Question Figure



Answer Figures



(1)



(2)

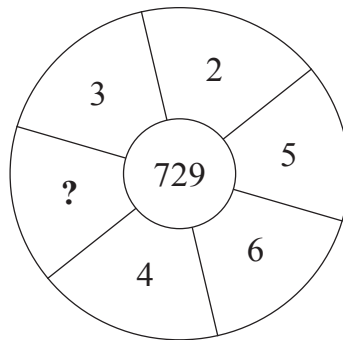


(3)



(4)

65. Identify the pattern and select the correct option to replace the question mark.



(1) 25

(2) 6

(3) 7

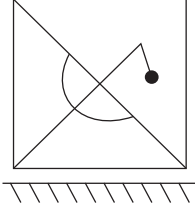
(4) 17

SPACE FOR ROUGH WORK

سوال نمبر 63 اور 64 کے لیے ہدایت :

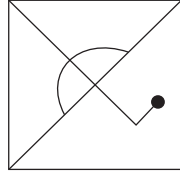
درج ذیل کی سوالیہ شکلوں کا عکس پانی میں کیسا نظر آئے گا۔ متبادل جوابی شکلوں میں سے انتخاب کیجئے۔

سوالیہ شکل :

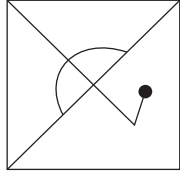


جوابی شکلیں :

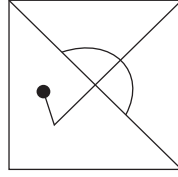
63.



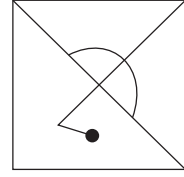
(1)



(2)



(3)



(4)

سوالیہ شکل :




جوابی شکلیں :

64.



(1)



(2)

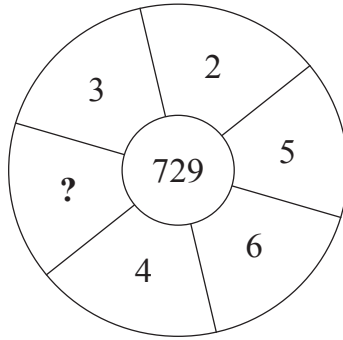


(3)



(4)

65. درج ذیل کی دائرہ نما شکل میں سوالیہ نشان کی جگہ کون سا عدد آئے گا؟ متبادلات میں سے جواب تلاش کریں۔



17 (4)

7 (3)

6 (2)

25 (1)

رف کام کے لیے خالی جگہ

A	B	C	D	E	F	G	H	I	J	K	L	M	N	O	P	Q	R	S	T	U	V	W	X	Y
---	---	---	---	---	---	---	---	---	---	---	---	---	---	---	---	---	---	---	---	---	---	---	---	---

Q.66 and Q.67 Direction :

Word	BUT	TAP	BAT
Code	△ ● □	▼ △ ☆	△ ☆ ●

In a certain code language, symbols are used for different letters. The sequence of the letters and of the symbols may not necessarily be the same. Observe the code in the above frame and answer the questions.

66. Which symbol is represented by 'U'?

- (1) △ (2) ● (3) □ (4) ☆

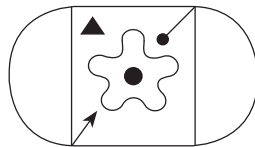
67. How is 'TOP' written in the given code language?

- (1) △ ● ▼ (2) ▼ ● □ (3) ☆ △ ▼ (4) △ □ ▼

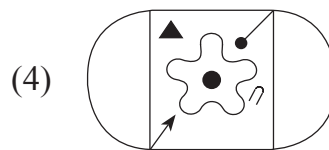
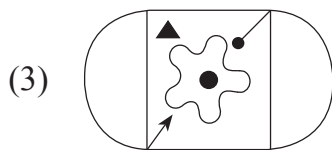
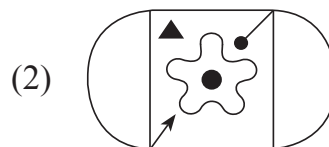
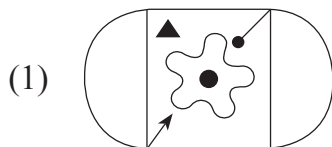
Q.68 and Q.69 Direction:

Select the identical figure to the question figure from the options.

68. Question Figure



Answer Figures



SPACE FOR ROUGH WORK

A	B	C	D	E	F	G	H	I	J	K	L	M	N	O	P	Q	R	S	T	U	V	W	X	Y
---	---	---	---	---	---	---	---	---	---	---	---	---	---	---	---	---	---	---	---	---	---	---	---	---

سوال نمبر 66 سے 67 کے لیے ہدایت :

حروف	BUT	TAP	BAT
اشاراتی علامات	△ ● □	▽ △ ☆	△ ☆ ●

اوپر دیئے گئے خاکے میں ضروری نہیں ہے کہ حروف اور علامتوں کی ترتیب یکساں ہوں۔ اس بات کو دھیان میں رکھتے ہوئے سوال نمبر 66 اور سوال نمبر 67 کے جوابات متبادلات میں سے تلاش کیجئے۔

66. 'U' حرف کے لیے کون سی علامت آئے گی؟

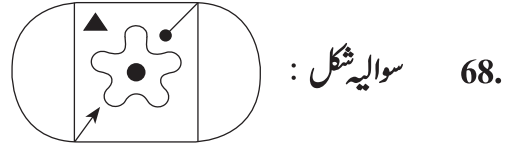
- △ (1) ● (2) □ (3) ☆ (4)

67. درج بالا اشاراتی زبان میں TOP کس طرح لکھیں گے؟

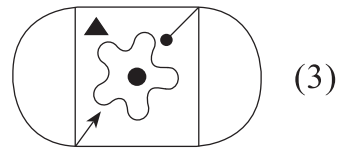
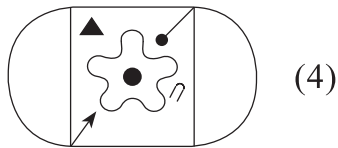
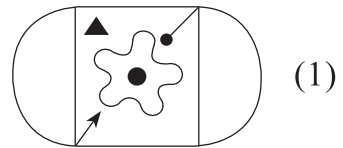
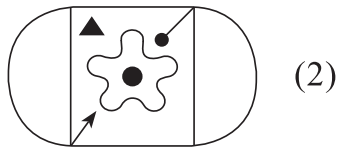
- △ ● ▽ (1) ▽ ● □ (2) ☆ △ ▽ (3) △ □ ▽ (4)

سوال نمبر 68 اور 69 کے لیے ہدایت :

دی گئی سوالیہ شکل سے ہو بہو ملنے والی شکل کو متبادلات میں سے تلاش کیجئے۔



جوابی شکلیں :







رف کام کے لیے خالی جگہ

69. Question Figure



Answer Figures



70. In a certain code language. If CAT = WYE, MEN = MUL and DOG = VKS then how will you write the word which is opposite gender of 'OX'?

- | | |
|---------|---------|
| (1) KB | (2) WOC |
| (3) WKC | (4) RBK |


71.

ABCDEF FGHIJ KLMNO PQRST UVWXY

In the given alphabet series which letter is at the sixth position on the right hand of the letter which is at fourth place to the left of the letter which is ninth from the right hand side of the series?


- | | |
|-------|-------|
| (1) R | (2) S |
| (3) G | (4) T |

SPACE FOR ROUGH WORK




69. سوالیہ شکل :


جوابی شکلیں :




(2)



(4)



(1)



(3)

70. ایک اشاراتی زبان میں CAT = WYE اور MEN = MUL ، DOG = VKS لکھا جائے تو اسی زبان میں

OX کے مخالف جنسی لفظ کس طرح لکھیں گے؟

WOC (2)

KB (1)

RBK (4)

WKC (3)

71. ABCDE FGHIJ KLMNO PQRST UVWXY

71.

درج بالا حروفی سلسلے میں دائیں جانب سے 9 ویں حرف کے بائیں طرف کے چوتھے حرف کے دائیں طرف کا چھٹا (6 واں)

حرف کون سا ہے؟

S (2)

R (1)

T (4)

G (3)

رف کام کے لیے خالی جگہ

A	B	C	D	E	F	G	H	I	J	K	L	M	N	O	P	Q	R	S	T	U	V	W	X	Y
---	---	---	---	---	---	---	---	---	---	---	---	---	---	---	---	---	---	---	---	---	---	---	---	---

72.

Letters	C	M	D	K	L	W	N	R	P
Numbers	7	8	5	4	2	9	6	0	3

Observe the given table and solve.

$$D + W \div P - (N + L) = ?$$

- (1) R (2) P
(3) L (4) N

73. Purva is facing the south-east direction and she turns to her left two times at right angle and does Shirshasan. (up side down, with head down and legs up) which direction is pointed by her right hand?

- (1) South-west (2) North-east
(3) South-east (4) North-west

74. You see an injured sparrow on your way to school. What will be your immediate action?

- (1) I will loudly call my friends.
(2) I will neglect the baby sparrow.
(3) I will inform the Head-master of my school about the incident.
(4) I will serve water from my water bottle and shift the sparrow to a safe place.

75. Whose action from the following is the most correct action?

- (1) Raju collected all the garbage from the varanda and burnt it.
(2) Sameer threw the wet garbage in the dustbin.
(3) Sameedha collected all the garbage from her house in a bag.
(4) Suresh converted wet garbage into manure.

SPACE FOR ROUGH WORK

A	B	C	D	E	F	G	H	I	J	K	L	M	N	O	P	Q	R	S	T	U	V	W	X	Y
حروف	C	M	D	K	L	W	N	R	P															
عدد	7	8	5	4	2	9	6	0	3															

72.

درج بالا خاکے کا مشاہدہ کر کے حل کیجئے۔

$$D + W \div P - (N + L) = \text{کتنا؟}$$

P (2)

R (1)

N (4)

L (3)

73. پُر و اجنوب مشرقى سمت ميں منہ کر کے کھڑی ہوئی ہے۔ وہ دو مرتبہ بائیں طرف زاویہ قائمہ بناتے ہوئے مڑی اور شپرشاسن

(یوگا کا ایک آسن) کرتی ہے۔ تو بتائیے اس کا دایاں ہاتھ کس سمت میں ہوگا؟

(2) شمال - مشرق

(1) جنوب - مغرب

(4) شمال - مغرب

(3) جنوب - مشرق

74. مدرسے کو جاتے وقت راستے میں آپ کو ایک چڑیا کا بچہ تڑپتا ہوا نظر آئے تو آپ فوری طور پر کیا کریں گے؟

(1) شور مچا کر اپنے ساتھیوں کو بلائیں گے۔

(2) چڑیا کے بچے کی طرف دھیان نہیں دیں گے۔

(3) اس واقعے کا ذکر صدر مدرس سے کریں گے۔

(4) اپنی بوتل سے اس بچے کو پانی پلا کر کسی محفوظ مقام پر رکھیں گے۔

75. درج ذیل میں کس کا کام سب سے زیادہ مناسب ہے؟

(1) راجو نے آنگن کے کچرے کو جمع کر کے جلا دیا۔

(2) سمیر نے گیلا کچرا کوڑے دان میں ڈال دیا۔

(3) صبیحہ نے گھر کا سارا کچرا ایک ہی ڈبے میں جمع کیا۔

(4) ظہیر نے گیلے کچرے سے کھا دیتا رہا۔

رف کام کے لیے خالی جگہ

رف کام کے لیے خالی جگہ