

# ప్రీ-అప్సర్ ప్రైమరీ స్కూలర్షిప్ ఎగ్జామినేషన్ (5వ తరగతి), జూలై 2022

సీటు నం.

--	--	--	--	--	--	--	--	--	--

సెట్



0 7 0 2

పేపర్ నెం. II

మీడియం : తెలుగు

సమయం : 01:30 నుండి 03:00 వరకు తృతీయ భాష మరియు ఇంటెలిజెన్స్ పరీక్ష



మొత్తం మార్కులు : 150

పేజీలు : 32

ప్రశ్న పత్రానికి సాధించుటకు ముందు కింది సూచనలను జాగ్రత్తగా చదవండి.

- (1) ఈ ప్రశ్న పత్రాకలో రెండు విభాగములు కలవు. వాటిలో విభాగం - I లో తృతీయ భాష విషయం కొరకు 1 నుండి 25 మరియు విభాగము-II లో ఇంటెలిజెన్స్ పరీక్ష కొరకు 26 నుండి 75 ఈ విధంగా ప్రశ్న పత్రాకలో 75 ప్రశ్నలు కలవు అన్ని ప్రశ్నలు సాధించుట అనివార్యము.
- (2) ప్రతి ప్రశ్న కొరకు 2 మార్కులు కలవు.
- (3) ప్రశ్న పత్రాక సాధించుట కొరకు మొత్తం 90 నిమిషాల సమయం ఇవ్వబడును.
- (4) జవాబును గుర్తించుట కొరకు స్వతంత్ర ఉత్తర ప్రతిక ఇవ్వబడినది. ప్రతి ప్రశ్న క్రమసంఖ్య ముందు నాలుగు పర్యాయముల కొరకు క్రమసంఖ్యగల వృత్తములు ఇవ్వబడినవి అందులో సరియైన జవాబు యొక్క పర్యాయ క్రమ సంఖ్యగల వృత్తాన్ని కింది ఉదాహరణలో చూపించిన విధంగా రంగరించండి.  
ఉదా : ప్రశ్న సం. 6 యొక్క జవాబు క్రమసంఖ్య 2 అయితే, దానిని క్రింది విధంగా గుర్తించండి.  
ప్రశ్న సం. 6 - ① ● ③ ④
- (5) క్రింది విధంగా గుర్తించిన జవాబులు పరిగణించబడవు, ఇలా జవాబు వ్రాసినట్లయితే 'సున్న' మార్కులు ఇవ్వబడును.  
ఉదా :  1  2  3  4
- (6) ఒకటికంటే ఎక్కువ వృత్తాలను గుర్తించిన జవాబులు కొట్టివేసి ఇచ్చిన జవాబులు పరిగణించబడవు.
- (7) ఒకసారి గుర్తించిన జవాబులు తిరిగి మార్పుటకు వీలుపడదు.
- (8) జవాబులు గుర్తించునపుడు నలుపు లేదా నీలి రంగు బాల్ పెన్నును మాత్రమే ఉపయోగించవలెను, పెన్సిల్ తో గుర్తించినవి పరిగణలోనికి తీసుకోబడవు.
- (9) ప్రశ్నపత్రంలో ప్రతి పేజీలో క్రింది భాగంలో మరియు చివరి పేజీలో చిత్తుపని చేసుకొనుటకు ఖాళీ స్థలం కలదు. అందులోనే చిత్తుపని చేయవలెను.
- (10) పరీక్షకు నిర్ణీత సమయము ఉన్నందున ఏదేని ప్రశ్నకు జవాబు తెలియకున్న అది వదలి దానిముందున్న ప్రశ్నలను సాధించండి. చివరకు సమయం ఉన్నచో విడిచిన ప్రశ్నలను సాధించుటకు ప్రయత్నించండి.
- (11) ఏదేని ప్రశ్నలో తప్పు కనిపించినట్లయితే దాని గురించి పర్యవేక్షకుడు లేదా ప్రరీక్ష కేంద్ర సంచాలకుని వద్దకు వెళ్ళ విచారించకూడదు.
- (12) ప్రశ్నలోని లోపం/తప్పు/అభ్యంతరాల గురించి ఫిర్యాదులకు సంబంధించిన లిఖిత పూర్వక వినతి పత్రం పాఠశాల లేక తల్లిదండ్రులు బ్లాక్ ఎడ్యుకేషన్ ఆఫీసర్ లేదా ఎడ్యుకేషన్ ఆఫీసర్ కు లిఖితపూర్వక దరఖాస్తు పంపకూడదు. ఈ లోపం/పొరపాటు/అభ్యంతర సమస్యలు సంబంధిత పాఠశాల లాగిన్ ద్వారా మాత్రమే ఆన్లైన్ లో నమోదు చేసు కొవాలి.
- (13) లోపం/తప్పు/అభ్యంతరాల గురించి లిఖిత పూర్వక వినతి పత్రం పంపవలసిన గడువు పరీక్ష పరిషద్ యొక్క సంకేత స్థలానికి (Website) తాత్కాలిక ఉత్తర (జవాబు) సూచిక విడుదల చేసిన 10 (పది) రోజుల వరకు ఉంటుంది.
- (14) ముద్రణ దోషాలు లేక ఇతర కారణాల వలన ప్రశ్న తప్పుగా ఉన్నట్లు తెలిస్తే నిపుణుల సమితి అభిప్రయం ప్రకారం తగిన చర్య తీసుకోబడును.
- (15) తెలుగు మీడియంతో పాటు ఇంగ్లీష్ భాషలోకూడా ప్రశ్న పత్రం ఇవ్వబడినది. తెలుగు మీడియంలోని సందిగ్ధ ప్రశ్నల కొరకు ఇంగ్లీష్ ప్రశ్నలు చూడండి.

**SECTION - I**

**ENGLISH**

**Instructions for Q.01 to Q.03**

Read the passage carefully and answer the following questions.

Mani is my favourite cat. Every morning mother gives her some milk. Sometimes she catches a mouse near the garbage pit. She likes climbing trees and watching the birds.

**01.** What does Mani catch?

- |           |             |
|-----------|-------------|
| (1) A pit | (2) A mouse |
| (3) Milk  | (4) A bird  |

**02.** Find the odd term.

- |                 |                           |              |
|-----------------|---------------------------|--------------|
| (A) Morning     | (B) Climbing              | (C) Watching |
| (1) 'B' correct | (2) 'C' correct           |              |
| (3) 'A' correct | (4) 'A', 'B', 'C' correct |              |

**03.** Find the rhyming word for 'Free'.

- |          |          |
|----------|----------|
| (1) She  | (2) Give |
| (3) Like | (4) Tree |

**04.** Fill in the blank with the correct alternative.

Malhar caught a big golden fish \_\_\_\_\_ his net.

- |          |          |
|----------|----------|
| (1) in   | (2) on   |
| (3) over | (4) upon |

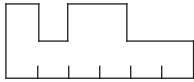
**SPACE FOR ROUGH WORK**

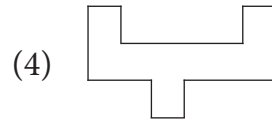
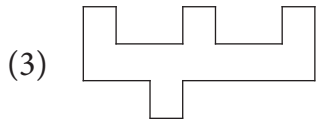
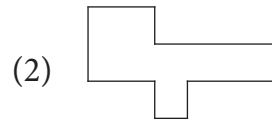
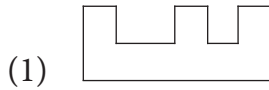
05. Choose the correct comparison for as timid as \_\_\_\_\_.
- (1) rabbit (2) elephant  
(3) deer (4) vulture

06. Look at the picture and select the correct conversation from the given options.

- (1) A : Excuse me, uncle. Is this yours?  
B : Oh, yes!
- (2) A : Thank you so much for this gift.  
B : You are welcome.
- (3) A : What's the time?  
B : It's two O'clock.
- (4) A : Can you please help me.  
B : Sure.



07. Ladder :  :: English : ?



08. Find the smaller hidden word which indicates 'Head of the unit' from the word - Handkerchief.

- (1) Chick (2) Chief  
(3) Hand (4) And


SPACE FOR ROUGH WORK

09. Complete the word register.

Violin, Tabla, \_\_\_\_\_ , \_\_\_\_\_.

- (1) Eraser, Sponge (2) Scene, Museum  
(3) Tambourine, Cymbals (4) Mixer, Sieve

10. Identify the game and select the correct option.



- (1) Hop-scotch  
(2) Hide and seek  
(3) Marbles  
(4) Skipping-rope

11. Choose the correctly spelt word.

- (1) Compitition  
(2) Competition  
(3) Compitision  
(4) Competision

12. Identify the underlined punctuation mark in the given sentence.

Ah! At last I will have some rice.

- (1) Apostrophe  
(2) Comma  
(3) Question mark  
(4) Exclamation mark

**SPACE FOR ROUGH WORK**

13. Select the proper option to complete the motto.

\_\_\_\_\_ is wealth.

- (1) Money
- (2) Health
- (3) Currency
- (4) Growth

14. Fill in the blank with correct option.

This advertisement gives offer for \_\_\_\_\_ festival.



- (1) Eid
- (2) Pune
- (3) Diwali
- (4) Christmas

15. Select the correct alternative.

\_\_\_\_\_ work quickly.

- (1) Lets'
- (2) let's
- (3) Let's
- (4) 'Lets

16. Find the odd man out.

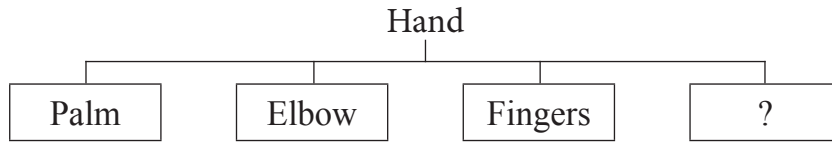
- (1) Shiny star
- (2) Tall tree
- (3) Clever house
- (4) Old man

17. Which of the following is a request? Choose the correct option.

- (1) May I come in?
- (2) I don't know.
- (3) What are you doing?
- (4) Please wait for me.

SPACE FOR ROUGH WORK

18. Look at the chart and find the correct option.



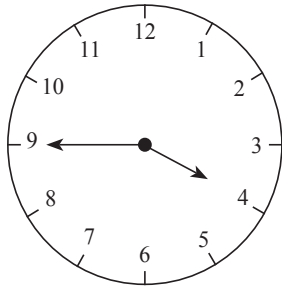
- (1) Beak (2) Tusk  
(3) Stomach (4) Wrist

19. Select the correct option.

February is the \_\_\_\_\_ month of the year.

- (1) second (2) 2  
(3) II (4) two

20. This clock shows the time \_\_\_\_\_.



- (1) quarter to four  
(2) quarter past four  
(3) quarter to three  
(4) quarter past three

21. What will you write in the following timeline?

Present	Past	Future
↓	↓	↓
Find	?	Will find

- (1) Will find (2) Found  
(3) Finds (4) Was finding

**SPACE FOR ROUGH WORK**

22. At the time of examination, what will you say to your friend? Choose the proper greeting.
- (1) All the best. (2) All in one.  
(3) All is set. (4) All sit down.
23. Select the correct option.  
Sunday comes after \_\_\_\_\_.
- (1) Monday (2) Thursday  
(3) Saturday (4) Tuesday
24. Choose the correct alternative for the given sentence.  
gaurav was the captain of 'a' division's team.
- (1) Capital 'G' for gaurav  
(2) Capital 'A' for 'a' division  
(3) Capital 'C' for captain  
(4) Capital 'G' for gaurav and capital 'A' for 'a' division.
25. Count the number of question marks in the following conversation.
- A : Hello, Ira speaking. Will you come to play with me?  
B : Which game?  
A : Off course! Basketball.  
B : When?  
A : At 5 p.m.
- (1) 2 (2) 4  
(3) 0 (4) 3

**SPACE FOR ROUGH WORK**

**SECTION - II**

**INTELLIGENCE TEST**


26. How many two letter words are more or less than the four letter words in the given sentence?  
 "Raju helped Ram while he was climbing Shivneri Fort."  
 (1) More by 1      (2) Less by 1      (3) More by 2      (4) Less by 2
27. In the given alphabet series which letters have occurred same number of times?  
 K P G G P K G H T P D K G P T D P  
 (1) P G                      (2) K T                      (3) T D                      (4) D P
28. In the given number series how many times does '3' occur before '5' but '4' does not occur after '5'?
- 8 3 5 2 4 5 3 5 3 4 6 5 4 3 5 3 5 6 4 3 5 3 5 4 3 5 7
- (1) 7 times              (2) 8 times              (3) 6 times              (4) 9 times

**Q.29 to Q.33 Direction :**

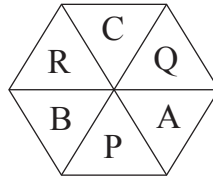
Select the odd term

29. (1) to see - to look                      (2) dirty - dusty  
 (3) hand - fore arm                      (4) poor - weak


30.



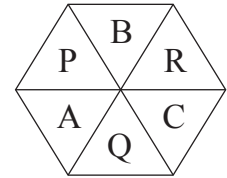
(1)



(2)



(3)



(4)

SPACE FOR ROUGH WORK



**విభాగం - II**

**ఇంటెలిజెన్స్ పరీక్ష**

26. 'కలకత్తాలో ఒక బాలికోన్నత పాఠశాలలో చరిత్ర, భూగోళము నేర్పించే ఉపాధ్యాయురాలిగా మదర్ థెరీసాను నియమించారు' ఈ వాక్యంలో ఐదు అక్షరాల పదాల కన్న మూడు అక్షరాల పదాలు ఎన్ని తక్కువ లేదా ఎన్ని ఎక్కువ గలవు?

- (1) 1 ఎక్కువ                      (2) 1 తక్కువ                      (3) 2 ఎక్కువ                      (4) 2 తక్కువ

27. ఖ ప గ గ ప ఖ గ ఘ ట ప డ ఖ గ ప ట డ ప

పై అక్షరమాలలో ఏ అక్షరాలు సమానంగా వచ్చాయి?

- (1) ప గ                      (2) ఖ ట                      (3) ట డ                      (4) డ ప

28. కింది సంఖ్యామాలికలో '5' కి ముందు '3' ఉంది. కాని '5' తర్వాత '4' లేదు, ఇలా ఎన్నిసార్లు వచ్చాయి?

8 3 5 2 4 5 3 5 3 4 6 5 4 3 5 3 5 6 4 3 5 3 5 4 3 5 7


- (1) 7 సార్లు                      (2) 8 సార్లు                      (3) 6 సార్లు                      (4) 9 సార్లు

**ప్రశ్న సం. 29 నుండి 33 కొరకు సూచన :**

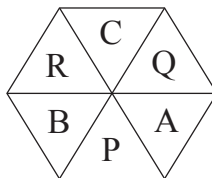
సమూహానికి చెందని పదాన్ని గుర్తించి దాని పర్యాయ క్రమము యొక్క వృత్తాని రంగరించండి.

29. (1) నందనం-తోట                      (2) వందనం-నమస్కారము  
(3) పుష్పిగ-బలంగా                      (4) తిరస్కారం-సంస్కారం

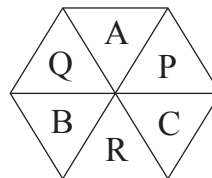
30.



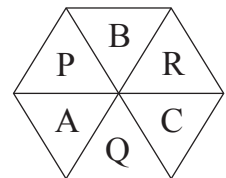
(1)



(2)






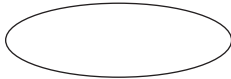
(3)



(4)

**SPACE FOR ROUGH WORK**

A	B	C	D	E	F	G	H	I	J	K	L	M	N	O	P	Q	R	S	T	U	V	W	X	Y
---	---	---	---	---	---	---	---	---	---	---	---	---	---	---	---	---	---	---	---	---	---	---	---	---

31.  (1)  (2)  (3)  (4)

32. (1) 4 (2) 17 (3) 7 (4) 12

33. (1) 111 (2) 482 (3) 231 (4) 362

**Q.34 and Q.35 Direction:**

Consider the pattern in the given number series and select the correct option to replace the question mark.

34. 53, 61, 68, 82, ?, 103  
 (1) 92 (2) 91 (3) 89 (4) 95

35. 2, 4, 7, 12, 19, 30, ?, 60  
 (1) 47 (2) 43 (3) 49 (4) 45

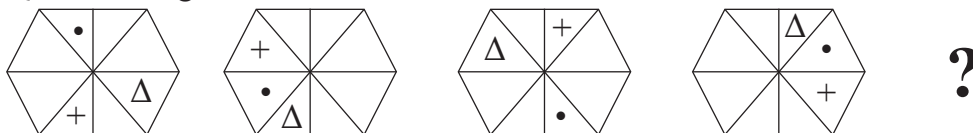
36. In the given series of symbols select the correct group from the options to replace the question mark.

$< + \times -$ ,  $+ \times - <$ ,  $\times - < +$ ,  $- < + \times$ , ?

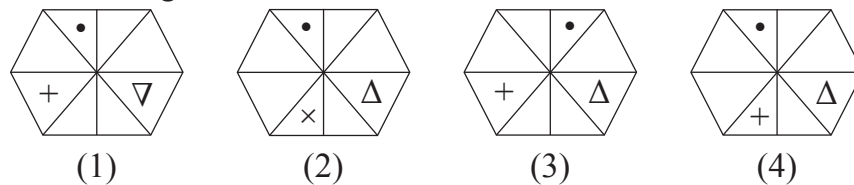
- (1)  $< \times + -$  (2)  $\times - < +$  (3)  $< + \times -$  (4)  $> + \times -$

37. Select the correct figure from the options to replace the question mark.

Question Figures :



Answer Figures :




**SPACE FOR ROUGH WORK**

A	B	C	D	E	F	G	H	I	J	K	L	M	N	O	P	Q	R	S	T	U	V	W	X	Y
---	---	---	---	---	---	---	---	---	---	---	---	---	---	---	---	---	---	---	---	---	---	---	---	---

31.



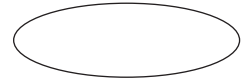
(1)



(2)



(3)



(4)

32.

(1) 4

(2) 17

(3) 7

(4) 12

33.

(1) 111

(2) 482

(3) 231

(4) 362

ప్రశ్న సం. 34 మరియు 35 కొరకు సూచన:

మాలికలోని సంఖ్యల యొక్క అమలికలోని సూత్రాన్ని గుర్తించి ప్రశ్నచిహ్నము వద్దవచ్చు సంఖ్యను పర్యాయాల నుండి గుర్తించండి.

34.

53, 61, 68, 82, ?, 103

(1) 92

(2) 91

(3) 89

(4) 95

35.

2, 4, 7, 12, 19, 30, ?, 60

(1) 47

(2) 43

(3) 49

(4) 45

36.

కింది చిహ్నాల యొక్క మాలికలో ప్రశ్న చిహ్నము వద్ద వచ్చు సమూహాన్ని గుర్తించండి.

$< + \times -$ ,  $+ \times - <$ ,  $\times - < +$ ,  $- < + \times$ , ?

(1)  $< \times + -$

(2)  $\times - < +$

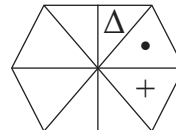
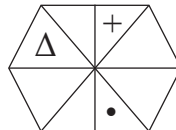
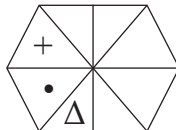
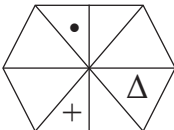
(3)  $< + \times -$

(4)  $> + \times -$

37.

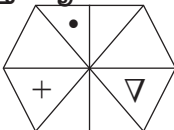
ప్రశ్న చిహ్నము వద్ద క్రమములో వచ్చు ఆకృతి ఏది?

ప్రశ్నాకృతులు

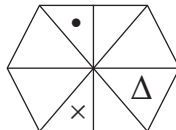


?

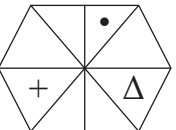
ఉత్తరాకృతులు



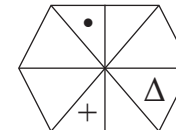
(1)



(2)



(3)



(4)

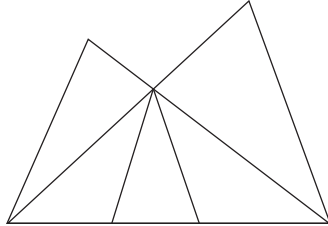
SPACE FOR ROUGH WORK

38. Select the wrong term in the given number series.

$$\frac{1}{3}, \frac{3}{6}, \frac{5}{11}, \frac{7}{17}, \frac{9}{27}, \frac{11}{38}$$

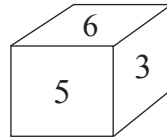
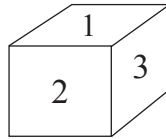
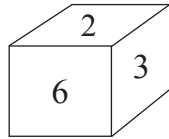
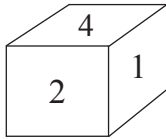
- (1)  $\frac{3}{6}$                       (2)  $\frac{11}{38}$                       (3)  $\frac{7}{17}$                       (4)  $\frac{9}{27}$

39. In the adjacent figure how many triangles are there?



- (1) 8  
(2) 10  
(3) 11  
(4) 5

40. In the following question various faces of a cube are shown. Study them and find the number which is on the face opposite to 5.



- (1) 2                      (2) 6                      (3) 1                      (4) 4

41. If Horse is called Camel, Camel is called as Zebra, Zebra is called as Donkey, then which animal is called as 'Ship of Desert'.

- (1) Horse                      (2) Camel                      (3) Donkey                      (4) Zebra

42. Ajay is taller than Ramesh but shorter than Sadu. Sameedha is taller than Ajay but not as tall as Sadu. Who is the tallest?

- (1) Sadu                      (2) Sameedha                      (3) Ajay                      (4) Ramesh

SPACE FOR ROUGH WORK

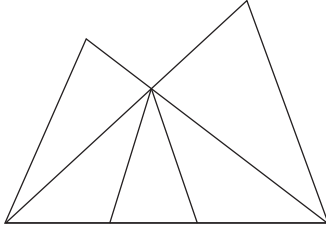
A	B	C	D	E	F	G	H	I	J	K	L	M	N	O	P	Q	R	S	T	U	V	W	X	Y
---	---	---	---	---	---	---	---	---	---	---	---	---	---	---	---	---	---	---	---	---	---	---	---	---

38. కింది సంఖ్యామాలికలోని సరికాని పదాన్ని గుర్తించండి.

$$\frac{1}{3}, \frac{3}{6}, \frac{5}{11}, \frac{7}{17}, \frac{9}{27}, \frac{11}{38}$$

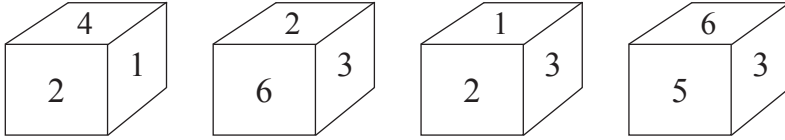
- (1)  $\frac{3}{6}$                       (2)  $\frac{11}{38}$                       (3)  $\frac{7}{17}$                       (4)  $\frac{9}{27}$

39. కింది ఆకృతిలో మొత్తం ఎన్ని త్రిభుజాలు గలవు?



- (1) 8  
(2) 10  
(3) 11  
(4) 5

40. కింది ప్రశ్నలో ఒకే ఘనం యొక్క తలాలను వేరు వేరు స్థితులలో ఎలా కనబడునో చూయించబడినది. ఈ ఆకృతులను పరిశీలించి '5' అంకె గల తలము యొక్క వ్యతిరేక తలముపైన ఏ అంకె వుండును గుర్తించండి.



- (1) 2                      (2) 6                      (3) 1                      (4) 4

41. గుర్రానికి ఒంటె, ఒంటెను జీబ్రా, జీబ్రాను గాడిద. అని అన్నట్లయితే ఎడారిలోని పడవ అని దేనిని అనాలి?

- (1) గుర్రం                      (2) ఒంటె                      (3) గాడిద                      (4) జీబ్రా

42. అజయ్ రమేష్‌కన్న పొడువు కాని సదూకన్న పొట్టివాడు. సమిధా అజయ్‌కన్న పొడువు కాని సదూవలే పొడువైనది కాదు; అయితే అందరికన్న పొడువైనది ఎవరు?

- (1) సదూ                      (2) సమిధా                      (3) అజయ్                      (4) రమేష్

**SPACE FOR ROUGH WORK**



A	B	C	D	E	F	G	H	I	J	K	L	M	N	O	P	Q	R	S	T	U	V	W	X	Y
---	---	---	---	---	---	---	---	---	---	---	---	---	---	---	---	---	---	---	---	---	---	---	---	---

43. జాన్ మరియు అహమద్ల యొక్క 5 సంవత్సరాల క్రితంగల వయస్సులు శరద్ అప్పటి వయసుకు అనుక్రమంగా  $\frac{1}{3}$ ,  $\frac{1}{4}$  రెట్లు ఉండి, జాన్ వయసు అప్పుడు 8 సంవత్సరాలున్నట్లయితే వారి ముగ్గురి వయసుల మొత్తం 2 సంవత్సరాల తర్వాత ఎంతంటుంది?

- (1) 38 సంవత్సరాలు (2) 53 సంవత్సరాలు (3) 59 సంవత్సరాలు (4) 40 సంవత్సరాలు

44. సా. రాధాపిన్ని వారింట్లో ఇద్దరు వివాహిత కుమారులు మరియు ముగ్గురు మనవళ్లు ఉన్నట్లయితే వారింట్లో తక్కువలో తక్కువ ఎంత మంది ఉండగలరు?

- (1) 12 (2) 11 (3) 10 (4) 9

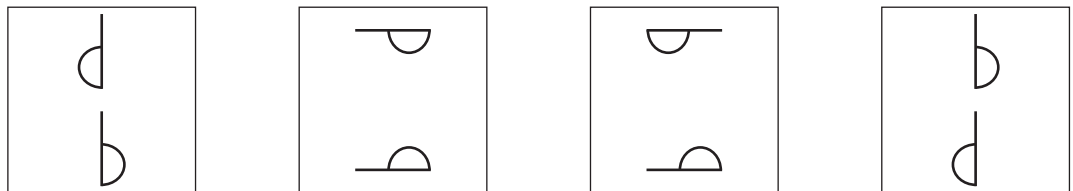
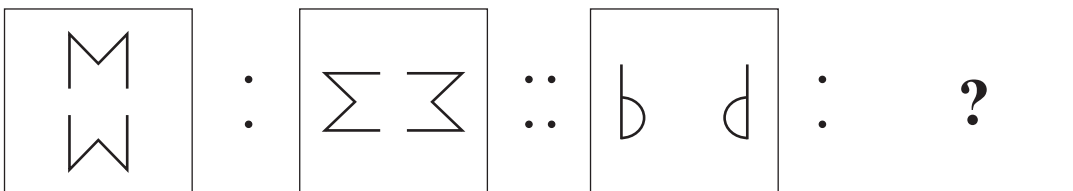
**ప్రశ్న సం. 45 నుండి 49 కొరకు సూచన :**

కింద ఇవ్వబడిన ప్రశ్నలో మొదటి పదము రెండవ పదముతో ఏ సంబంధం ఉందో, అదే సంబంధం మూడవ మరియు నాల్గవ పదంలో గలదు. అలాంటి సంబంధాన్ని గుర్తించి ప్రశ్నచిహ్నము దగ్గర వచ్చు జవాబు యొక్క పర్యాయ క్రమము యొక్క వృత్తాన్ని రంగరించండి.

45. మహారాష్ట్ర : గవర్నర్ :: భారతదేశం : ?

- (1) ప్రధానమంత్రి (2) రాష్ట్రపతి (3) ముఖ్యమంత్రి (4) ఉపరాష్ట్రపతి

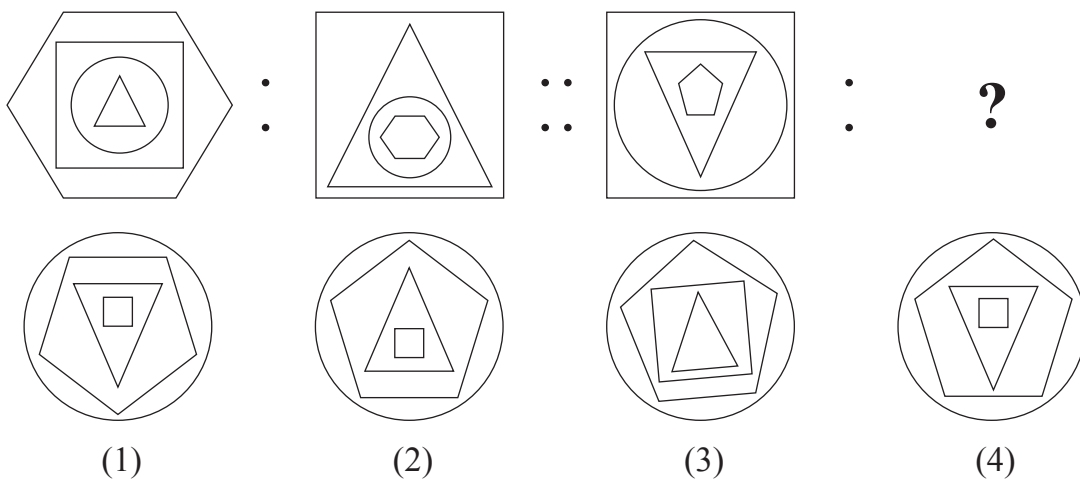
46.



- (1) (2) (3) (4)

**SPACE FOR ROUGH WORK**

47.



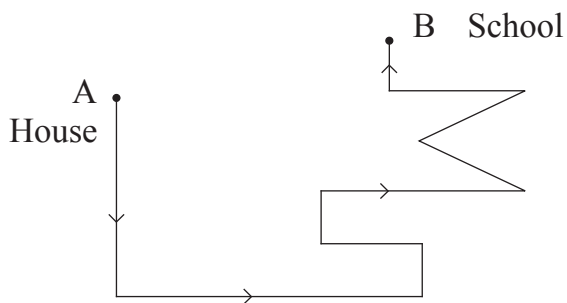
48.  $13 : 169 :: 15 : ?$

- (A) 225                      (B) 175                      (C) 195  
 (1) Only 'A' is correct                      (2) Only 'C' is correct  
 (3) 'A' and 'B' both are correct                      (4) 'A' and 'C' both are correct

49.  $27 : 14 :: 18 : ?$

- (1) 13                      (2) 12                      (3) 15                      (4) 17

50. In the adjoining figure, if one walks from 'House' (A) to 'School' (B) in the direction of the arrows, how many times has he to turn to his left?



- (1) 6 times                      (2) 5 times                      (3) 11 times                      (4) 7 times

**SPACE FOR ROUGH WORK**





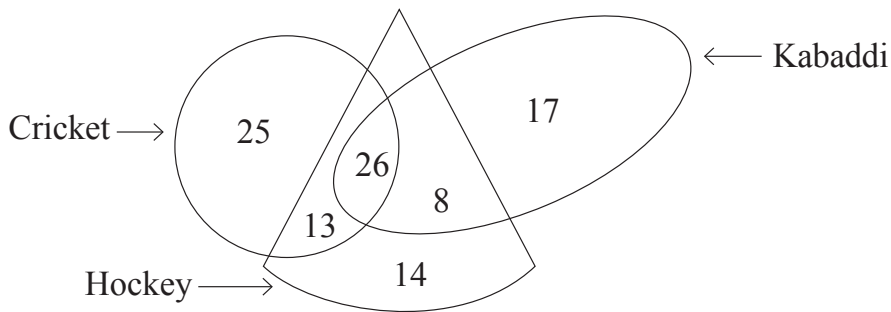
51. Rahul says, "There are 6 boys standing in front of me in a row and Amit is at the third position behind me." Amit says, "I am standing next to the boy who is exactly at the middle place in the row." How many boys are standing in the row?

- (1) 18                      (2) 19                      (3) 21                      (4) 23

52. In a certain year if Independence day occurs on Tuesday then in the same year which day would be the last day of the year?

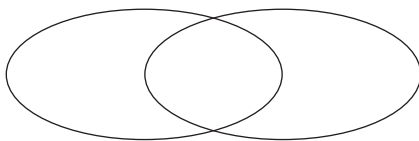
- (1) Sunday              (2) Monday              (3) Tuesday              (4) Wednesday

53. The adjacent figure shows the number of players playing different games. Observe the figure and find how many players play at least two games?



- (1) 34  
(2) 39  
(3) 21  
(4) 47

54. Select the correct option to describe the given venn diagram.



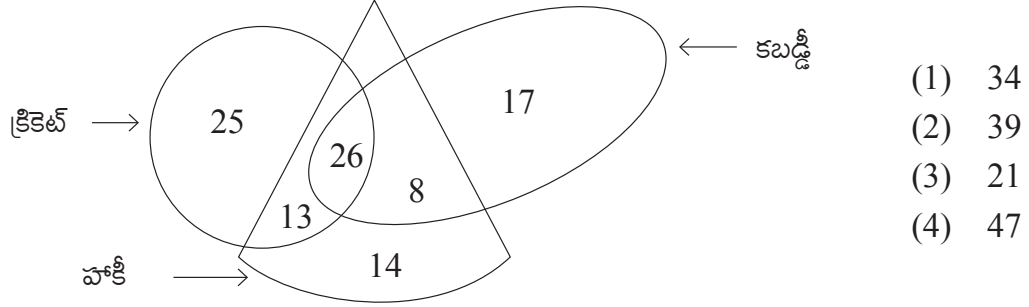
- (1) Male, Female, Doctors  
(2) Numbers, Even numbers, Odd numbers  
(3) Trees, Mango, Jackfruit  
(4) Country, State, District

**SPACE FOR ROUGH WORK**

51. రాహుల్ అంటున్నాడు, “ఒక వరుసలో నా ముందు ఆరుగురు అబ్బాయిలు నిలబడివుండి నా తర్వాత మూడవ స్థానంలో అమిత్ నిలబడి వున్నాడు.” అయితే అమిత్ అంటున్నాడు, “నేను మధ్యలోవున్న అబ్బాయి ముందు నిలబడివున్నాను” అయితే ఆ వరుసలో ఎంతమంది అబ్బాయిలుంటారు?  
 (1) 18                                      (2) 19                                      (3) 21                                      (4) 23

52. ఒక సంవత్సరంలో స్వాతంత్ర్య దినోత్సవము మంగళవారం ఉన్నట్లయితే ఆ సంవత్సరపు చివరి వారము ఏదై ఉంటుంది?  
 (1) ఆదివారము                      (2) సోమవారము                      (3) మంగళవారము                      (4) బుధవారము

53. ప్రక్క పటంలో ఆటగాళ్ళ సంఖ్య చూపబడినది. దీని ప్రకారము తక్కువలో తక్కువ రెండు ఆటలు ఆడే ఆటగాళ్ళ సంఖ్య ఎంత?



54. కింది వెన్ ఆకృతి యొక్క సరియైన వర్ణన చేయగల పర్యాయము ఏది?  
 (1) పురుషులు, స్త్రీలు, వైద్యులు  
 (2) సంఖ్యా, సమసంఖ్యా, భేసిసంఖ్యా  
 (3) వృక్షము, మామిడి, ఫణస  
 (4) దేశము, రాష్ట్రము, జిల్లా

**SPACE FOR ROUGH WORK**

55. In the given square pattern, select the correct option to replace the question mark.

11	67	17
41	?	47
23	31	5

- (1) 73  
(2) 61  
(3) 59  
(4) 53

**Q.56 to Q.60 Direction :**

A set of terms is given at the beginning of the question. These terms have some common characteristic. Find out the term from the alternatives that matches the given set of terms.

56. Step mother, Snow white, Spring time, ?

- (1) Distrust (2) Foot print  
(3) Black white (4) Day night

57. Hard, Challenging, Testing, ?

- (1) Easy (2) Joyful  
(3) Effortless (4) Difficult

58. 25, 123, 62, 6, ?

- (1) 341 (2) 216  
(3) 511 (4) 218

59. 297, 135, 501, 189, ?

- (1) 503 (2) 355  
(3) 243 (4) 781

**SPACE FOR ROUGH WORK**

A	B	C	D	E	F	G	H	I	J	K	L	M	N	O	P	Q	R	S	T	U	V	W	X	Y
---	---	---	---	---	---	---	---	---	---	---	---	---	---	---	---	---	---	---	---	---	---	---	---	---

55. కింది పట్టికలో ప్రశ్నచిహ్నము వద్ద ఏ సంఖ్య వచ్చును?

11	67	17
41	?	47
23	31	5

- (1) 73  
(2) 61  
(3) 59  
(4) 53

ప్రశ్న సం. 56 నుండి 60 కొరకు సూచన :

ప్రశ్న ప్రారంభంలో కొన్ని పదాలు ఇవ్వబడ్డాయి. వాటి ఒక సమానమైన గుణధర్మము ప్రకారము ఒక సమూహం తయారగును. ఈ సమూహంకు చెందిన పదాన్ని పర్యాయాలనుండి గుర్తించండి.

56. అమ్మ, చెల్లి, అక్క

- (1) రాము (2) సీత (3) గడియారం (4) రమేష్

57. ఆవు, కుక్క, మేక

- (1) నెమలి (2) పిట్ట  
(3) చిలుక (4) పిల్లి

58. 25, 123, 62, 6, ?

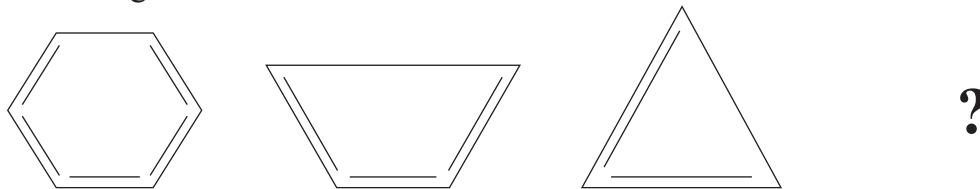
- (1) 341 (2) 216  
(3) 511 (4) 218

59. 297, 135, 501, 189, ?

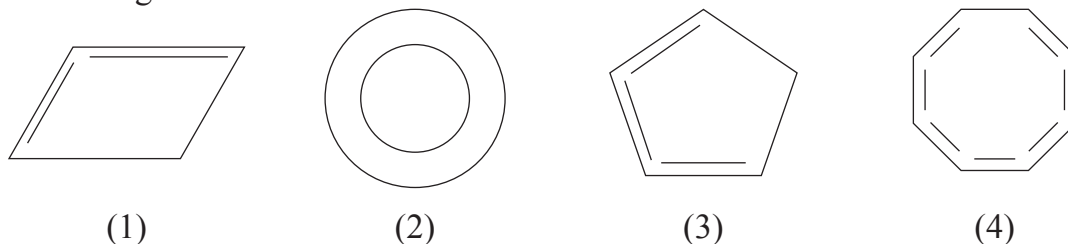
- (1) 503 (2) 355  
(3) 243 (4) 781

SPACE FOR ROUGH WORK

60. Question Figures:



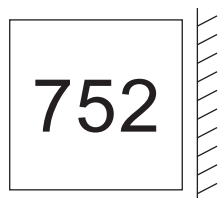
Answer Figures:



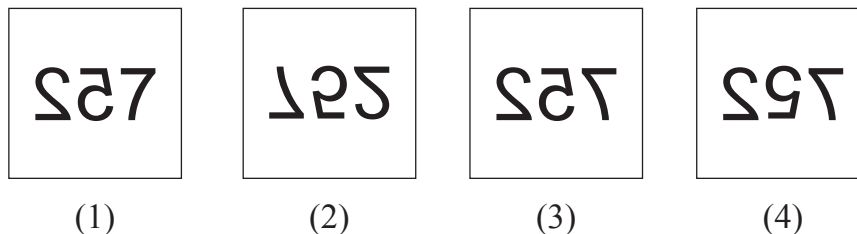
**Q.61 and Q.62 Direction:**

Select the mirror image of the given question figure from the options.

61. Question Figure:

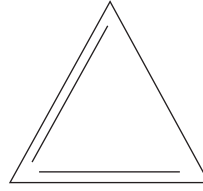
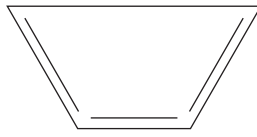
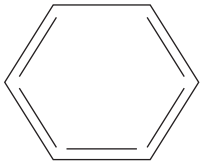


Answer Figures:



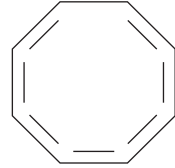
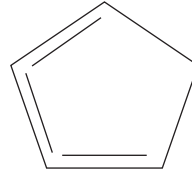
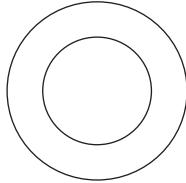
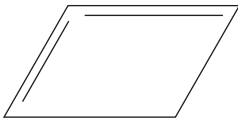
SPACE FOR ROUGH WORK

60. ప్రశ్నాకృతులు



?

ఉత్తరాకృతులు



(1)

(2)

(3)

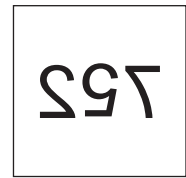
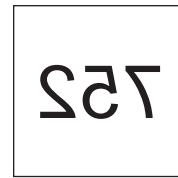
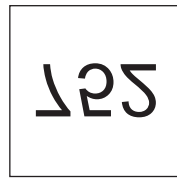
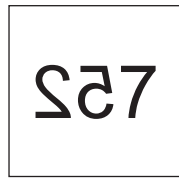

(4)

ప్రశ్న సం. 61 మరియు 62 కొరకు సూచన :

కింది ప్రశ్నాకృతి యొక్క ప్రతిమ అద్దంలో ఎలాకనబడునో పర్యాయాల నుండి గుర్తించండి.

61. ప్రశ్నాకృతి

ఉత్తరాకృతి



(1)

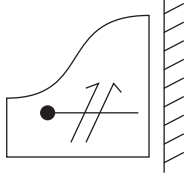
(2)

(3)

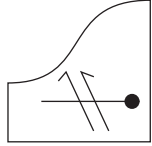
(4)

SPACE FOR ROUGH WORK

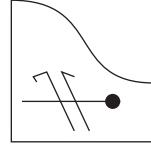
62. Question Figure:



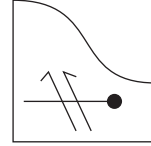
Answer Figures:



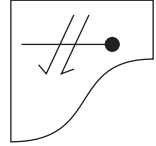
(1)



(2)



(3)

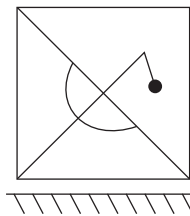


(4)

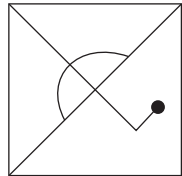
**Q.63 and Q.64 Direction:**

Select the water image of the given question figure from the options.

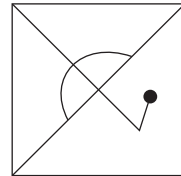
63. Question Figure:



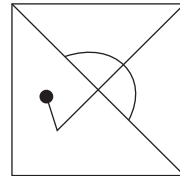
Answer Figures:



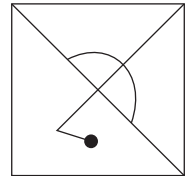
(1)



(2)



(3)



(4)

64. Question Figure:



Answer Figures:



(1)



(2)



(3)



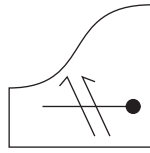
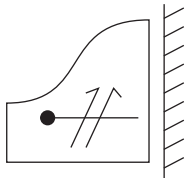
(4)

**SPACE FOR ROUGH WORK**

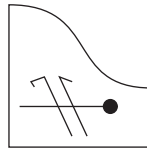


62. ప్రశ్నాకృతి

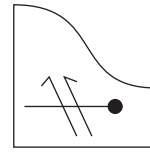
ఉత్తరాకృతులు



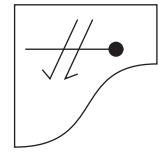
(1)



(2)



(3)



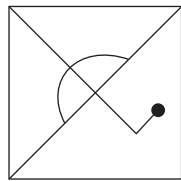
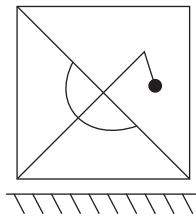
(4)

ప్రశ్న సం. 63 మరియు 64 కొరకు సూచన :

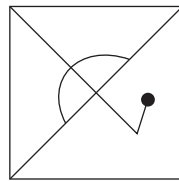
కింది ప్రశ్నాకృతి యొక్క నీటిలోని ప్రతిబింబము ఎలాకనబడునో పర్యాయాల నుండి గుర్తించండి.

63. ప్రశ్నాకృతి

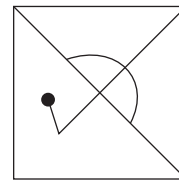
ఉత్తరాకృతులు



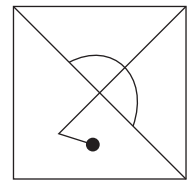
(1)



(2)



(3)



(4)

64. ప్రశ్నాకృతి

ఉత్తరాకృతులు



(1)



(2)



(3)

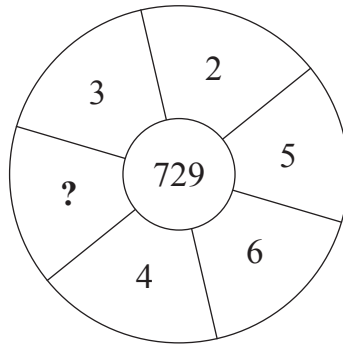


(4)

SPACE FOR ROUGH WORK

A	B	C	D	E	F	G	H	I	J	K	L	M	N	O	P	Q	R	S	T	U	V	W	X	Y
---	---	---	---	---	---	---	---	---	---	---	---	---	---	---	---	---	---	---	---	---	---	---	---	---

65. Identify the pattern and select the correct option to replace the question mark.



- (1) 25                      (2) 6                      (3) 7                      (4) 17

**Q.66 and Q.67 Direction :**

Word	BUT	TAP	BAT
Code	△ ● □	▼ △ ☆	△ ☆ ●

In a certain code language, symbols are used for different letters. The sequence of the letters and of the symbols may not necessarily be the same. Observe the code in the above frame and answer the questions.

66. Which symbol is represented by 'U'?

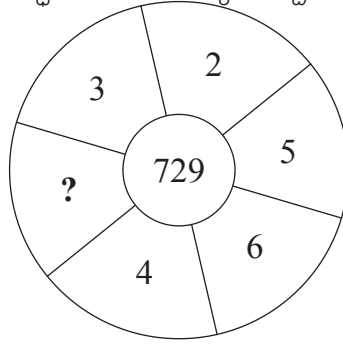
- (1) △                                      (2) ●  
 (3) □                                      (4) ☆

67. How is 'TOP' written in the given code language?

- (1) △ ● ▼                                      (2) ▼ ● □  
 (3) ☆ △ ▼                                      (4) △ □ ▼

**SPACE FOR ROUGH WORK**

65. కింది వృత్తాకృతిలోని ప్రశ్నచిహ్నముగల స్థానంలో ఏ సంఖ్య వచ్చును గుర్తించండి.



- (1) 25                      (2) 6                      (3) 7                      (4) 17

ప్రశ్న సం. 66 మరియు 67 కొరకు సూచన :

పదము	BUT	TAP	BAT
సాంకేతిక రూపం	△ ● □	▼ △ ☆	△ ☆ ●

పై పట్టికలోని పదాలలోని అక్షరాల మరియు చిహ్నాల క్రమము ఒకే విధంగా ఉంటుందని చెప్పలేము, ఇది గుర్తించి ప్రశ్న 66 మరియు 67 ల జవాబులు పర్యాయాలనుండి ఎన్నుకొనండి.

66. 'U' అక్షరం కొరకు ఏ చిహ్నము వచ్చును?

- (1) △                      (2) ●  
 (3) □                      (4) ☆

67. పై సాంకేతిక భాషలో 'TOP' పదాన్ని ఎలా వ్రాస్తారు?

- (1) △ ● ▼                      (2) ▼ ● □  
 (3) ☆ △ ▼                      (4) △ □ ▼

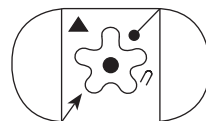
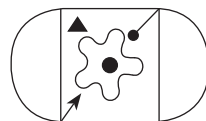
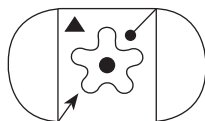
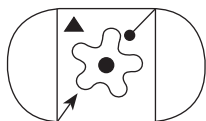
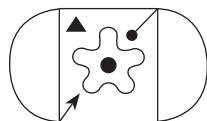
SPACE FOR ROUGH WORK

**Q.68 and Q.69 Direction :**

Select the identical figure to the question figure from the options.

68. Question Figure:

Answer Figures:



(1)


(2)

(3)

(4)

69. Question Figure:

Answer Figures:



(1)

(2)

(3)

(4)

70. In a certain code language. If CAT = WYE, MEN = MUL and DOG = VKS then how will you write the word which is opposite gender of 'OX'?

(1) KB

(2) WOC

(3) WKC

(4) RBK

71.

ABCDEF      FGHIJ      KLMNO      PQRST      UVWXY

In the given alphabet series which letter is at the sixth position on the right hand of the letter which is at fourth place to the left of the letter which is ninth from the right hand side of the series?

(1) R

(2) S

(3) G

(4) T

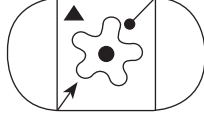
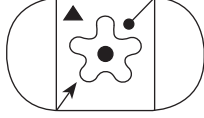
**SPACE FOR ROUGH WORK**

ప్రశ్న సం. 68 మరియు 69 కొరకు సూచన :

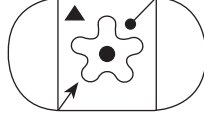
కింది ప్రశ్నాకృతిలాగే ఉన్నది ఉన్నట్లుగల ఆకృతిని పర్యాయాల నుండి గుర్తించండి.

68. ప్రశ్నాకృతి

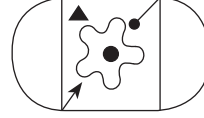
ఉత్తరాకృతులు



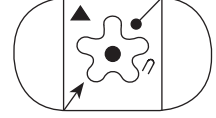
(1)



(2)



(3)



(4)

69. ప్రశ్నాకృతి

ఉత్తరాకృతులు



(1)



(2)



(3)



(4)

70. ఒక సాంకేతిక భాషలో CAT = WYE, MEN = MUL మరియు DOG = VKS ఇలా రాస్తారు అయితే అదే భాషలో 'OX' యొక్క వ్యతిరేకవాచకమైన పదాన్ని ఎలా వ్రాస్తారు?

(1) KB

(2) WOC

(3) WKC

(4) RBK

71.

A B C D E F G H I J K L M N O P Q R S T U V W X Y

పై అక్షరమాలలోని కుడివైపు నుండి తొమ్మిదవ అక్షరం యొక్క ఎడమవైపుగల నాల్గవ అక్షరం యొక్క కుడివైపుగల ఆరవ అక్షరమేది?

(1) R

(2) S

(3) G

(4) T

SPACE FOR ROUGH WORK

A	B	C	D	E	F	G	H	I	J	K	L	M	N	O	P	Q	R	S	T	U	V	W	X	Y
---	---	---	---	---	---	---	---	---	---	---	---	---	---	---	---	---	---	---	---	---	---	---	---	---

72.

Letters	C	M	D	K	L	W	N	R	P
Numbers	7	8	5	4	2	9	6	0	3

Observe the given table and solve.

$$D + W \div P - (N + L) = ?$$

- (1) R                      (2) P                      (3) L                      (4) N

73.

Purva is facing the south-east direction and she turns to her left two times at right angle and does Shirshasan. (up side down, with head down and legs up) which direction is pointed by her right hand?

- (1) South-west      (2) North-east      (3) South-east      (4) North-west

74.

You see an injured sparrow on your way to school. What will be your immediate action?

- (1) I will loudly call my friends.  
(2) I will neglect the baby sparrow.  
(3) I will inform the Head-master of my school about the incident.  
(4) I will serve water from my water bottle and shift the sparrow to a safe place.

75.

Whose action from the following is the most correct action?

- (1) Raju collected all the garbage from the varanda and burnt it.  
(2) Sameer threw the wet garbage in the dustbin.  
(3) Sameedha collected all the garbage from her house in a bag.  
(4) Suresh converted wet garbage into manure.

**SPACE FOR ROUGH WORK**

A	B	C	D	E	F	G	H	I	J	K	L	M	N	O	P	Q	R	S	T	U	V	W	X	Y
---	---	---	---	---	---	---	---	---	---	---	---	---	---	---	---	---	---	---	---	---	---	---	---	---

72.

అక్షరాలు	C	M	D	K	L	W	N	R	P
అంకాలు	7	8	5	4	2	9	6	0	3

పై పట్టిక ప్రకారంగా

$$D + W \div P - (N + L) = ?$$

- (1) R                      (2) P                      (3) L                      (4) N

73.

ఆగ్నేయ దిశవైపు ముఖముచేసి నిలబడివున్న పూర్వ రెండుసార్లు ఎడమవైపు లంబకోణంగా తిరిగి శీర్షాసనము చేసింది, అయితే ఆమె కుడిచేయి ఏ దిశవైపు ఉండును?

- (1) నైఋతి                      (2) ఈశాన్యము                      (3) ఆగ్నేయము                      (4) వాయువ్యము

74.

పాఠశాలకు వెళుతున్న దారిలో ఒక పిట్ట తల్లడిల్లుతున్నట్లుగా కనబడితే నీవు త్వరగా ఏమి చేయగలవు?

- (1) అరిచి మిత్రులను పిలుస్తాను.  
(2) పిట్టను చూసి నిర్లక్ష్యం చేస్తాను.  
(3) పై సంఘటన గురించి ఉపాధ్యాయుడితో చెబుతాను.  
(4) స్వంత నీళ్ళ సీసాలోని నీటిని పిట్టకు త్రాగించి సురక్షితమైన ప్రదేశంలో చేరవేస్తాను.

75.

కింది వాటిలో ఏ కృతి అన్నిటికన్న సరియైనది?

- (1) రాజు చుట్టుప్రక్కలలోని చెత్తను ఒకదగ్గర చేర్చి కాల్చివేశాడు.  
(2) సమీర్ తడి చెత్తను చెత్తకుండిలో వేశాడు.  
(3) సమిధ ఇంటిలోని చెత్తను ఒకే చెత్తకుండిలో జమ చేసింది.  
(4) సురేష్ తడిచెత్త నుండి ఎరువును తయారుచేశాడు.

**SPACE FOR ROUGH WORK**

**SPACE FOR ROUGH WORK**