

પૂર્વ-ઉચ્ચ પ્રાથમિક શિષ્યવૃત્તિ પરીક્ષા (ધોરણ-5), જુલાઈ-2022

બેઠક નંબર

--	--	--	--	--	--	--	--	--	--

સેટ



0 4 0 2

પેપર નંબર - II

સમય: 01:30 થી 03:00

માધ્યમ: ગુજરાતી



કુલ ગુણ: 150

તૃતીય ભાષા અને બુદ્ધિમત્તા કસોટી

પાના: 32

પ્રશ્નોના જવાબ આપતા પહેલાં નીચે આપેલી સૂચનાઓ ધ્યાનપૂર્વક વાંચો :

- (1) પ્રશ્નપત્ર બે ભાગમાં વહેંચાયેલું છે. ભાગ-I માં તૃતીય ભાષાના 1 થી 25 પ્રશ્નો છે અને ભાગ-II માં બુદ્ધિમત્તા કસોટીના 26 થી 75 પ્રશ્નો છે. તમામ 75 પ્રશ્નો ફરજિયાત છે.
- (2) તમામ પ્રશ્નના દરેકના બે ગુણ છે.
- (3) પ્રશ્નપત્ર ઉકેલવા માટે 90 મિનિટનો સમય છે.
- (4) જવાબો નોંધવા માટે અલગ ઉત્તરવહી આપેલી છે. દરેક પ્રશ્નમાં ચાર વિકલ્પો આપ્યા છે. તે ધ્યાનપૂર્વક વાંચો. સાચો વિકલ્પ પસંદ કરીને ઉદાહરણ મુજબ વર્તુળને પૂર્ણપણે રંગવાનું છે.
ઉદાહરણ તરીકે:- જો પ્રશ્ન નંબર 6 માટે સાચો વિકલ્પ 2 હોય તો નીચે પ્રમાણે તેની નોંધ કરવી.
પ્રશ્ન નંબર 6 - ① ● ③ ④
- (5) અન્ય કોઈપણ પ્રકારે આપેલા જવાબને ધ્યાનમાં લેવાશે નહીં. આવા જવાબ માટે 'શૂન્ય' ગુણ આપવામાં આવશે.
① ② ● ④
- (6) વર્તુળ રંગવા માટે વાદળી અથવા કાળી બોલપેનનો ઉપયોગ કરવો. પેન્સિલથી ઘાટા કરેલા વર્તુળના ગુણ ઉમેરાશે નહીં.
- (7) જો એકથી વધુ વર્તુળ રંગ્યા હશે અથવા છોકછાક કરીને જવાબ નોંધેલા હશે તો તે ગ્રાહ્ય ધરવામાં આવશે નહીં.
- (8) એક વખત જવાબ નોંધી દીધા પછી બદલી શકાશે નહીં.
- (9) પ્રશ્નપત્રમાં દરેક પાનામાં નીચે આપેલી જગ્યામાં અથવા છેલ્લા પાને કાચું કામ કરવું.
- (10) પરીક્ષાનો સમય મર્યાદિત છે, જો તમે કોઈ પ્રશ્ન ના ઉકેલી શકો તો, કૃપા કરીને પછીનો પ્રશ્ન ઉકેલો. જો છેલ્લે સમય બચે તો ઉકેલ્યા વગરના પ્રશ્નો ઉકેલવાનો ફરી પ્રયાસ કરો.
- (11) જો તમને કોઈ પ્રશ્ન અધૂરો અથવા ભૂલ વાળો લાગે તો, નિરીક્ષક અથવા કેન્દ્ર સંચાલક પાસે પૂછપરછ કરવી નહીં.
- (12) કોઈ ભૂલ/ખામી/વાંધો હોય તો, શાળા અથવા માતા-પિતા બ્લોક પરીક્ષા અધિકારી અથવા પરીક્ષા અધિકારીને અરજી મોકલી શકતા નથી. આ ભૂલ/ખામી/વાંધા માત્ર સંબંધિત સ્કૂલના લોગીન દ્વારા ઓનલાઈન નોંધવવા.
- (13) ભૂલ/ખામી/વાંધો MSCE ની વેબસાઈટ પર તાત્પરતી અંતિમ ઉત્તરસૂચિ પ્રસિદ્ધ થયા પછી 10 દિવસમાં ઓનલાઈન નોંધવવા.
- (14) મુદ્રણદોષ અથવા અન્ય કારણોસર પ્રશ્નમાં ભૂલ છે એમ જણાશે તો તજજ્ઞ સમિતીના અભિપ્રાય મુજબ યોગ્ય કાર્યવાહી કરવામાં આવશે.
- (15) મૂળ માધ્યમ સાથે અંગ્રેજી માધ્યમની પ્રશ્નપત્રિકા આપેલી હશે. મૂળ માધ્યમમાં ન સમજાય તેવા પ્રશ્નો માટે અંગ્રેજી પ્રશ્નોમાં જોવું.

SECTION - I

ENGLISH

Instructions for Q. 01 to Q. 03

Read the passage carefully and answer the following questions.

Mani is my favourite cat. Every morning mother gives her some milk. Sometimes she catches a mouse near the garbage pit. She likes climbing trees and watching the birds.

01. What does Mani catch?

- | | |
|-----------|-------------|
| (1) A pit | (2) A mouse |
| (3) Milk | (4) A bird |

02. Find the odd term.

- | | | |
|-----------------|---------------------------|--------------|
| (A) Morning | (B) Climbing | (C) Watching |
| (1) 'B' correct | (2) 'C' correct | |
| (3) 'A' correct | (4) 'A', 'B', 'C' correct | |

03. Find the rhyming word for 'Free'.

- | | |
|----------|----------|
| (1) She | (2) Give |
| (3) Like | (4) Tree |

04. Fill in the blank with the correct alternative.

Malhar caught a big golden fish _____ his net.

- | | |
|----------|----------|
| (1) in | (2) on |
| (3) over | (4) upon |

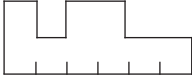
SPACE FOR ROUGH WORK


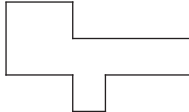
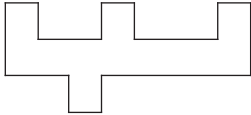
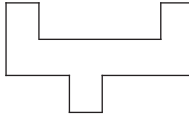
05. Choose the correct comparison for as timid as _____.
- (1) rabbit (2) elephant
(3) deer (4) vulture

06. Look at the picture and select the correct conversation from the given options.

- (1) A : Excuse me, uncle. Is this yours?
B : Oh, yes!
- (2) A : Thank you so much for this gift.
B : You are welcome.
- (3) A : What's the time?
B : It's two O'clock.
- (4) A : Can you please help me.
B : Sure.



07. Ladder :  :: English : ?

- (1) 
- (2) 
- (3) 
- (4) 

08. Find the smaller hidden word which indicates 'Head of the unit' from the word - Handkerchief.

- (1) Chick (2) Chief
(3) Hand (4) And


SPACE FOR ROUGH WORK

09. Complete the word register.

Violin, Tabla, _____ , _____.

- (1) Eraser, Sponge (2) Scene, Museum
(3) Tambourine, Cymbals (4) Mixer, Sieve

10. Identify the game and select the correct option.



- (1) Hop-scotch
(2) Hide and seek
(3) Marbles
(4) Skipping-rope

11. Choose the correctly spelt word.

- (1) Compitition
(2) Competition
(3) Compitision
(4) Competision

12. Identify the underlined punctuation mark in the given sentence.

Ah! At last I will have some rice.

- (1) Apostrophe
(2) Comma
(3) Question mark
(4) Exclamation mark

SPACE FOR ROUGH WORK

13. Select the proper option to complete the motto.

_____ is wealth.

- (1) Money (2) Health
(3) Currency (4) Growth

14. Fill in the blank with correct option.

This advertisement gives offer for _____ festival.



- (1) Eid
(2) Pune
(3) Diwali
(4) Christmas

15. Select the correct alternative.

_____ work quickly.

- (1) Lets' (2) let's
(3) Let's (4) 'Lets

16. Find the odd man out.

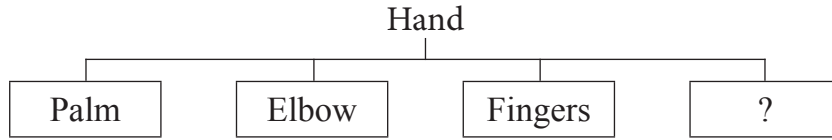
- (1) Shiny star (2) Tall tree
(3) Clever house (4) Old man

17. Which of the following is a request? Choose the correct option.

- (1) May I come in? (2) I don't know.
(3) What are you doing? (4) Please wait for me.

SPACE FOR ROUGH WORK

18. Look at the chart and find the correct option.



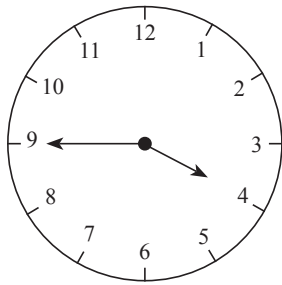
- | | |
|-------------|-----------|
| (1) Beak | (2) Tusk |
| (3) Stomach | (4) Wrist |

19. Select the correct option.

February is the _____ month of the year.

- | | |
|------------|---------|
| (1) second | (2) 2 |
| (3) II | (4) two |

20. This clock shows the time _____.



- | |
|------------------------|
| (1) quarter to four |
| (2) quarter past four |
| (3) quarter to three |
| (4) quarter past three |

21. What will you write in the following timeline?

Present	Past	Future
↓	↓	↓
Find	?	Will find

- | | |
|---------------|-----------------|
| (1) Will find | (2) Found |
| (3) Finds | (4) Was finding |

SPACE FOR ROUGH WORK

22. At the time of examination, what will you say to your friend? Choose the proper greeting.
- (1) All the best. (2) All in one.
(3) All is set. (4) All sit down.
23. Select the correct option.
Sunday comes after _____.
- (1) Monday (2) Thursday
(3) Saturday (4) Tuesday
24. Choose the correct alternative for the given sentence.
gaurav was the captain of 'a' division's team.
- (1) Capital 'G' for gaurav
(2) Capital 'A' for 'a' division
(3) Capital 'C' for captain
(4) Capital 'G' for gaurav and capital 'A' for 'a' division.
25. Count the number of question marks in the following conversation.
- A : Hello, Ira speaking. Will you come to play with me?
B : Which game?
A : Off course! Basketball.
B : When?
A : At 5 p.m.
- (1) 2 (2) 4
(3) 0 (4) 3

SPACE FOR ROUGH WORK

SECTION - II

INTELLIGENCE TEST


26. How many two letter words are more or less than the four letter words in the given sentence?
 "Raju helped Ram while he was climbing Shivneri Fort."
 (1) More by 1 (2) Less by 1 (3) More by 2 (4) Less by 2
27. In the given alphabet series which letters have occurred same number of times?
 K P G G P K G H T P D K G P T D P
 (1) P G (2) K T (3) T D (4) D P
28. In the given number series how many times does '3' occur before '5' but '4' does not occur after '5'?
- 8 3 5 2 4 5 3 5 3 4 6 5 4 3 5 3 5 6 4 3 5 3 5 4 3 5 7
- (1) 7 times (2) 8 times (3) 6 times (4) 9 times

Q. 29 to Q. 33 Direction :

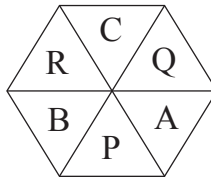
Select the odd term

29. (1) to see - to look (2) dirty - dusty
 (3) hand - fore arm (4) poor - weak


30.




(1)



(2)



(3)



(4)

SPACE FOR ROUGH WORK

A	B	C	D	E	F	G	H	I	J	K	L	M	N	O	P	Q	R	S	T	U	V	W	X	Y
---	---	---	---	---	---	---	---	---	---	---	---	---	---	---	---	---	---	---	---	---	---	---	---	---

SECTION - II

બુદ્ધિમત્તા કસોટી


26. “શિવનેરી ગઢ ચઢતી વખતે થાકેલા રાજુને રામે આધાર આપ્યો” આ વાક્યમાં ચાર અક્ષરના શબ્દ કરતાં બે અક્ષરના શબ્દ કેટલા વધારે અથવા ઓછા છે?
 (1) 1 થી વધારે (2) 1 થી ઓછા (3) 2 થી વધારે (4) 2 થી ઓછા
27. ખ પ ગ ગ પ ખ ગ ઘ ટ પ ડ ખ ગ પ ટ ડ પ આ અક્ષરમાલિકામાં કયા અક્ષરો સમાન વખત આવ્યા છે?
 (1) પ ગ (2) ખ ટ (3) ટ ડ (4) ડ પ
28. નીચેની સંખ્યા માલિકામાં ‘5’ પહેલા ‘3’ છે પણ 5 પછી 4 નથી એવું કેટલી વખત થયું છે?
 (8 3 5 2 4 5 3 5 3 4 6 5 4 3 5 3 5 6 4 3 5 3 5 4 3 5 7)
 (1) 7 વખત (2) 8 વખત (3) 6 વખત (4) 9 વખત

પ્ર. ક. 29 થી 33 માટે સૂચના -

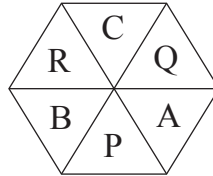
ગટમાં બંધબેસતું ન હોય તેવું પદ ઓળખી તેના પર્યાય ક્રમાંક નાં વર્તુળને રંગો.

29. (1) આંખ - નયન (2) સૂર્ય - ભાસ્કર
 (3) હસ્ત - પાણિ (4) ગરીબ - દિન


30.




(1)



(2)



(3)



(4)

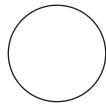
ફક્ત કાચા કાર્ય માટે

A	B	C	D	E	F	G	H	I	J	K	L	M	N	O	P	Q	R	S	T	U	V	W	X	Y
---	---	---	---	---	---	---	---	---	---	---	---	---	---	---	---	---	---	---	---	---	---	---	---	---

31.



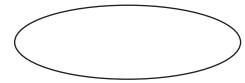
(1)



(2)



(3)



(4)

32.

(1) 4

(2) 17

(3) 7

(4) 12

33.

(1) 111

(2) 482

(3) 231

(4) 362

Q. 34 and Q. 35 Direction :

Consider the pattern in the given number series and select the correct option to replace the question mark.

34.

53, 61, 68, 82, ?, 103

(1) 92

(2) 91

(3) 89

(4) 95

35.

2, 4, 7, 12, 19, 30, ?, 60

(1) 47

(2) 43

(3) 49

(4) 45

36.

In the given series of symbols select the correct group from the options to replace the question mark.

$< + \times -$, $+ \times - <$, $\times - < +$, $- < + \times$, ?

(1) $< \times + -$

(2) $\times - < +$

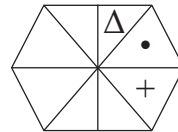
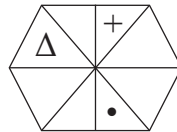
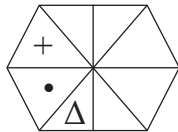
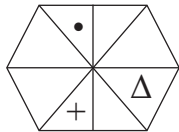
(3) $< + \times -$

(4) $> + \times -$

37.

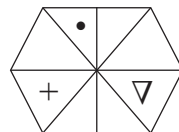
Select the correct figure from the options to replace the question mark.

Question Figures :

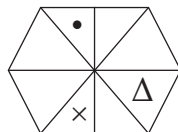


?

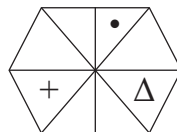
Answer Figures :



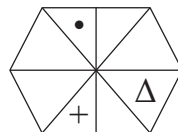
(1)



(2)



(3)



(4)

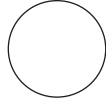
SPACE FOR ROUGH WORK

A	B	C	D	E	F	G	H	I	J	K	L	M	N	O	P	Q	R	S	T	U	V	W	X	Y
---	---	---	---	---	---	---	---	---	---	---	---	---	---	---	---	---	---	---	---	---	---	---	---	---

31.



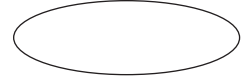
(1)



(2)



(3)



(4)

32.

(1) 4

(2) 17

(3) 7

(4) 12

33.

(1) 111

(2) 482

(3) 231

(4) 362

પ્ર. ક્ર. 34 અને 35 માટે સૂચના -

માલિકાની સંખ્યાની માંડણીમાંનું સૂત્ર ધ્યાનમાં રાખી પ્રશ્નચિહ્નની જગ્યાએ આવતી સંખ્યા પર્યાયમાંથી શોધો.

34.

53, 61, 68, 82, ?, 103

(1) 92

(2) 91

(3) 89

(4) 95

35.

2, 4, 7, 12, 19, 30, ? 60

(1) 47

(2) 43

(3) 49

(4) 45

36.

નીચેની ચિહ્ન માલિકામાં પ્રશ્નચિહ્નની જગ્યાએ આવતો ગટ પર્યાયમાંથી શોધો.

$< + \times -$, $+ \times - <$, $\times - < +$, $- < + \times$, ?

(1) $< \times + -$

(2) $\times - < +$

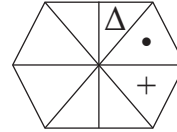
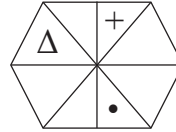
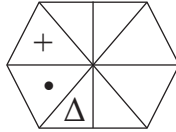
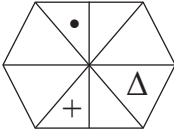
(3) $< + \times -$

(4) $> + \times -$

37.

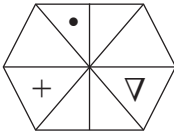
પ્રશ્ન ચિહ્નની જગ્યાએ ક્રમ પ્રમાણે આવતી આકૃતિ કઈ?

પ્રશ્ન આકૃતિઓ

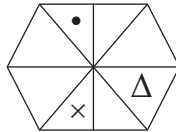


?

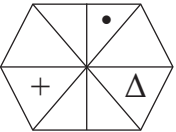
ઉત્તર આકૃતિઓ



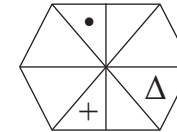
(1)



(2)



(3)



(4)

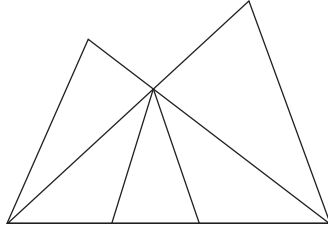
ફક્ત કાચા કાર્ય માટે

38. Select the wrong term in the given number series.

$$\frac{1}{3}, \frac{3}{6}, \frac{5}{11}, \frac{7}{17}, \frac{9}{27}, \frac{11}{38}$$

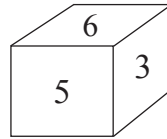
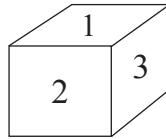
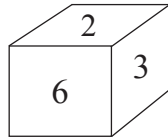
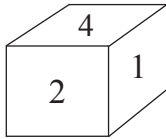
- (1) $\frac{3}{6}$ (2) $\frac{11}{38}$ (3) $\frac{7}{17}$ (4) $\frac{9}{27}$

39. In the adjacent figure how many triangles are there?



- (1) 8
(2) 10
(3) 11
(4) 5

40. In the following question various faces of a cube are shown. Study them and find the number which is on the face opposite to 5.



- (1) 2 (2) 6 (3) 1 (4) 4

41. If Horse is called Camel, Camel is called as Zebra, Zebra is called as Donkey, then which animal is called as 'Ship of Desert'.

- (1) Horse (2) Camel (3) Donkey (4) Zebra

42. Ajay is taller than Ramesh but shorter than Sadu. Sameedha is taller than Ajay but not as tall as Sadu. Who is the tallest?

- (1) Sadu (2) Sameedha (3) Ajay (4) Ramesh

SPACE FOR ROUGH WORK

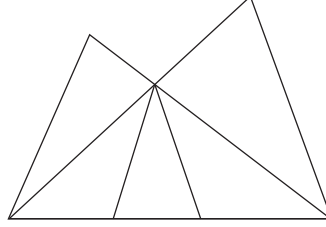
A	B	C	D	E	F	G	H	I	J	K	L	M	N	O	P	Q	R	S	T	U	V	W	X	Y
---	---	---	---	---	---	---	---	---	---	---	---	---	---	---	---	---	---	---	---	---	---	---	---	---

38. નીચેની સંખ્યામાલિકામાં ખોટું પદ ઓળખો.

$$\frac{1}{3}, \frac{3}{6}, \frac{5}{11}, \frac{7}{17}, \frac{9}{27}, \frac{11}{38}$$

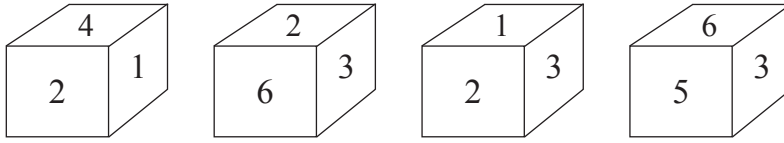
- (1) $\frac{3}{6}$ (2) $\frac{11}{38}$ (3) $\frac{7}{17}$ (4) $\frac{9}{27}$

39. બાજુની આકૃતિમાં ત્રિકોણની સંખ્યા કેટલી છે?



- (1) 8 (2) 10 (3) 11 (4) 5

40. નીચેના પ્રશ્નમાં એકજ ઘનના પૃષ્ઠ જુદી જુદી સ્થિતિમાં કેવા દેખાશે તે દર્શાવ્યું છે આ આકૃતિઓનું નિરીક્ષણ કરી '5' આ અંક હોય તેવા પૃષ્ઠના વિરુદ્ધ પૃષ્ઠ પર કયો અંક હશે તે પર્યાયમાંથી શોધો.



- (1) 2 (2) 6 (3) 1 (4) 4

41. ઘોડાને ઊંટ કહે છે, ઊંટને એબ્રા કહે છે, એબ્રાને ગધેડુ કહે છે. તો રણનું જહાજ કોને કહેવાય?

- (1) ઘોડો (2) ઊંટ (3) ગધેડું (4) એબ્રા

42. અજય રમેશ કરતાં ઊંચો પણ સદૂ કરતાં નીચો છે. સમિધા અજય કરતાં ઊંચી પણ સદૂ જેટલી ઊંચી નથી. તો સૌથી વધારે ઊંચું કોણ?

- (1) સદૂ (2) સમિધા (3) અજય (4) રમેશ

ફક્ત કાચા કાર્ય માટે

A	B	C	D	E	F	G	H	I	J	K	L	M	N	O	P	Q	R	S	T	U	V	W	X	Y
---	---	---	---	---	---	---	---	---	---	---	---	---	---	---	---	---	---	---	---	---	---	---	---	---

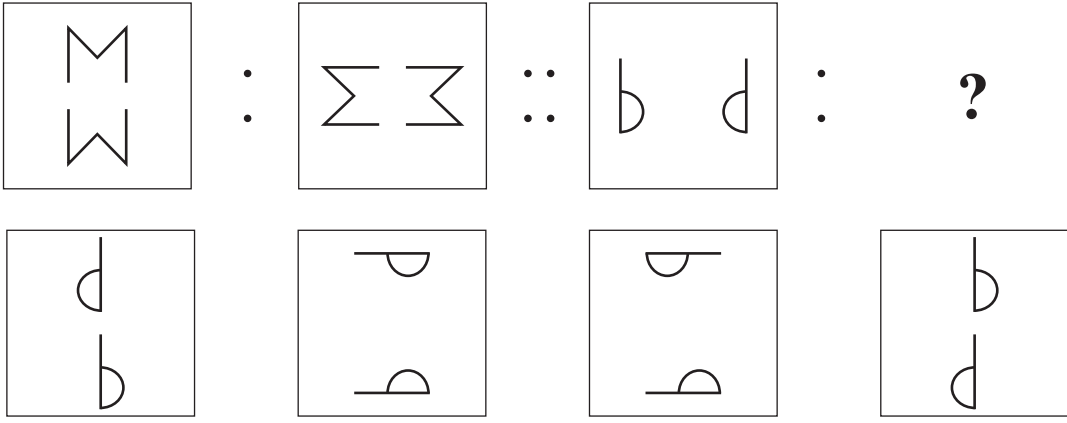
43. Five years ago John and Ahmed's age was $\frac{1}{3}$ and $\frac{1}{4}$ times respectively of Sharad's age at that time. If John's age was 8 yrs at that time then what is the addition of ages of all three, two years later?
 (1) 38 yrs (2) 53 yrs (3) 59 yrs (4) 40 yrs

44. There are two married sons and three grand children in Radha's family. Find minimum number of members in Radha's family.
 (1) 12 (2) 11 (3) 10 (4) 9

Q. 45 to Q. 49 Direction :

In the given questions first term has a specific relation with the second term. The same relation exists between third and fourth term. Identify the relation and select the correct option to replace the question mark.

45. Maharashtra : Governor :: India : ?
 (1) Prime Minister (2) President
 (3) Chief Minister (4) Vice-President

46. 

(1) (2) (3) (4)

SPACE FOR ROUGH WORK

A	B	C	D	E	F	G	H	I	J	K	L	M	N	O	P	Q	R	S	T	U	V	W	X	Y
---	---	---	---	---	---	---	---	---	---	---	---	---	---	---	---	---	---	---	---	---	---	---	---	---

43. જોન અને અહમદની પાંચ વર્ષ પૂર્વેની ઉંમર શરદની તે વખતની ઉંમરના અનુક્રમે $\frac{1}{3}$ અને $\frac{1}{4}$ ગણી છે. જોનની તે વખતની ઉંમર 8 વર્ષ હોય તો તે ત્રણેની 2 વર્ષ પછીની ઉંમરનો સરવાળો કેટલા વર્ષ હશે?

- (1) 38 વર્ષ (2) 53 વર્ષ
(3) 59 વર્ષ (4) 40 વર્ષ

44. સૌ. રાધાકાકીના ઘરે બે વિવાહિત છોકરા અને ત્રણ પૌત્ર છે તો તેમના ઘરમાં ઓછામાં ઓછા કેટલા માણસો હશે?

- (1) 12 (2) 11 (3) 10 (4) 9

પ્ર. ક. 45 થી 49 માટે સૂચના -

નીચેના પ્રશ્નમાં પહેલા અને બીજા પદનો જેવો સંબંધ છે, તેવોજ સંબંધ ત્રીજા અને ચોથા પદ વચ્ચે છે. તે સંબંધ શોધો અને પ્રશ્નચિહ્નની જગ્યાએ આવતા ઉત્તરના પર્યાય ક્રમાંકનું વર્તુળ રંગો.

45. મહારાષ્ટ્ર : રાજ્યપાલ : : ભારત : ?

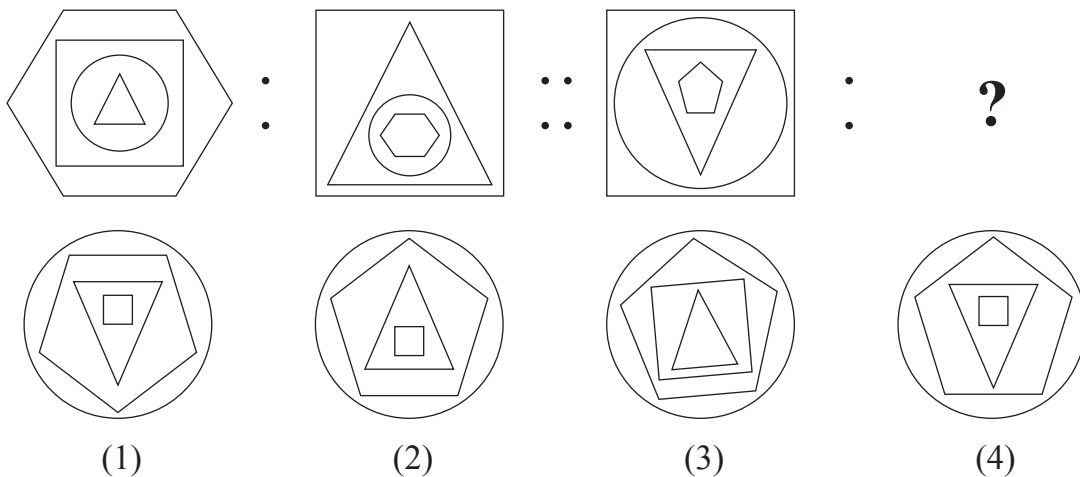
- (1) વડા પ્રધાન (2) રાષ્ટ્રપતિ
(3) મુખ્યમંત્રી (4) ઉપરાષ્ટ્રપતિ

46.

(1) (2) (3) (4)

ફક્ત કાચા કાર્ય માટે

47.



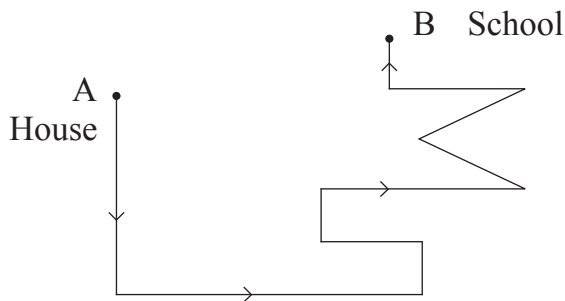
48. $13 : 169 :: 15 : ?$

- (A) 225 (B) 175 (C) 195
 (1) Only 'A' is correct (2) Only 'C' is correct
 (3) 'A' and 'B' both are correct (4) 'A' and 'C' both are correct

49. $27 : 14 :: 18 : ?$

- (1) 13 (2) 12 (3) 15 (4) 17

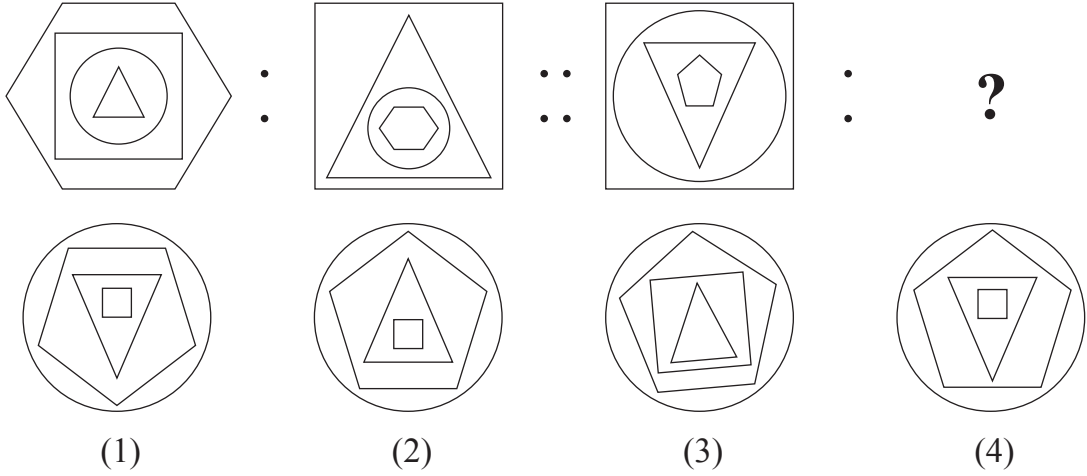
50. In the adjoining figure, if one walks from 'House' (A) to 'School' (B) in the direction of the arrows, how many times has he to turn to his left?



- (1) 6 times (2) 5 times (3) 11 times (4) 7 times

SPACE FOR ROUGH WORK

47.



48.

13 : 169 : : 15 : ?

(A) 225

(B) 175

(C) 195

(1) ફક્ત 'A' બરાબર

(2) ફક્ત 'C' બરાબર

(3) 'A' અને 'B' બરાબર

(4) 'A' અને 'C' બરાબર

49.

27 : 14 : : 18 : ?

(1) 13

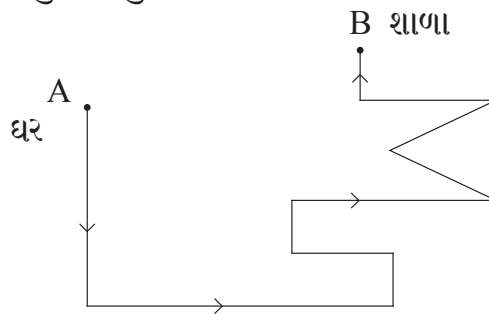
(2) 12

(3) 15

(4) 17

50.

આપેલી આકૃતિમાં ઘર (A) થી શાળા (B) નો રસ્તો બતાવ્યો છે. ઘરે થી શાળામાં પહોંચતા સુધી કેટલી વખત ડાબી બાજુ વળવું પડશે?



(1) 6 વખત

(2) 5 વખત

(3) 11 વખત

(4) 7 વખત

ફક્ત કાચા કાર્ય માટે

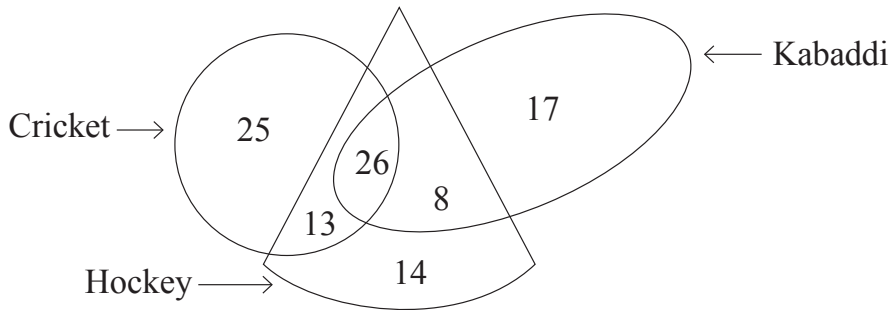
51. Rahul says, "There are 6 boys standing in front of me in a row and Amit is at the third position behind me." Amit says, "I am standing next to the boy who is exactly at the middle place in the row." How many boys are standing in the row?

- (1) 18 (2) 19 (3) 21 (4) 23

52. In a certain year if Independence day occurs on Tuesday then in the same year which day would be the last day of the year?

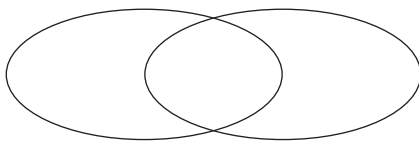
- (1) Sunday (2) Monday (3) Tuesday (4) Wednesday

53. The adjacent figure shows the number of players playing different games. Observe the figure and find how many players play at least two games?



- (1) 34
(2) 39
(3) 21
(4) 47

54. Select the correct option to describe the given venn diagram.



- (1) Male, Female, Doctors
(2) Numbers, Even numbers, Odd numbers
(3) Trees, Mango, Jackfruit
(4) Country, State, District

SPACE FOR ROUGH WORK

A	B	C	D	E	F	G	H	I	J	K	L	M	N	O	P	Q	R	S	T	U	V	W	X	Y
---	---	---	---	---	---	---	---	---	---	---	---	---	---	---	---	---	---	---	---	---	---	---	---	---

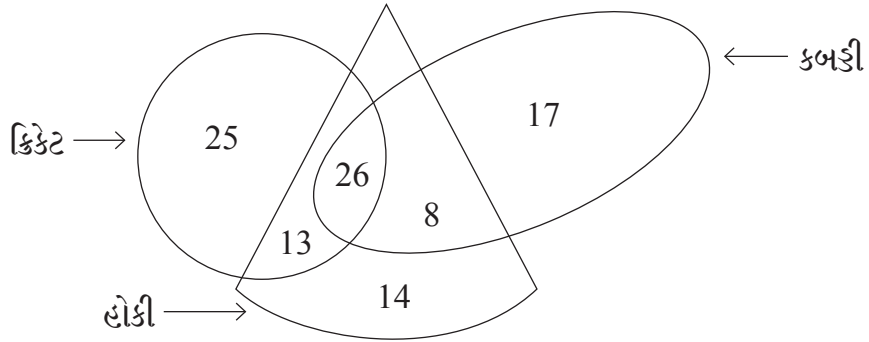
51. રાહુલ કહે છે “એક હરોળમાં મારી આગળ 6 છોકરાઓ ઊભા છે અને મારા પછી ત્રીજા સ્થાને અમીત ઊભો છે.” અને અમીત કહે છે “હું વચ્ચેના છોકરાની તરતજ આગળ ઊભો છું.” તો તે હરોળમાં કેટલા છોકરાઓ છે?

- (1) 18 (2) 19 (3) 21 (4) 23

52. એક વર્ષે ‘સ્વાતંત્ર્યદિન’ મંગળવારે આવ્યો હોય તો તે વર્ષના છેલ્લે દિવસે કયો વાર હશે?

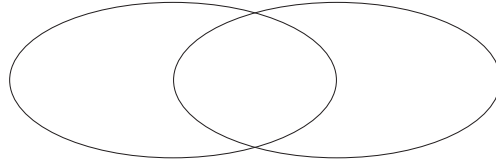
- (1) રવિવાર (2) સોમવાર
(3) મંગળવાર (4) બુધવાર

53. આપેલી આકૃતિમાં રમતવીરોની સંખ્યા બતાવી છે. આ પરથી ઓછામાં ઓછી બે રમત રમનારા રમતવીરોની સંખ્યા કેટલી?



- (1) 34 (2) 39 (3) 21 (4) 47

54. આપેલી વેન આકૃતિ નીચેના પૈકી કયો અચૂક પર્યાય દર્શાવે છે?



- (1) પુરૂષો, સ્ત્રીઓ, ડૉક્ટર (2) સંખ્યા, સમસંખ્યા, વિષમસંખ્યા
(3) વૃક્ષ, આંબો, ફણસ (4) દેશ, રાજ્ય, જિલ્લો

ફક્ત કાચા કાર્ય માટે

55. In the given square pattern, select the correct option to replace the question mark.

11	67	17
41	?	47
23	31	5

- (1) 73
(2) 61
(3) 59
(4) 53

Q. 56 to Q. 60 Direction :

A set of terms is given at the beginning of the question. These terms have some common characteristic. Find out the term from the alternatives that matches the given set of terms.

56. Step mother, Snow white, Spring time, ?

- (1) Distrust (2) Foot print
(3) Black white (4) Day night

57. Hard, Challenging, Testing, ?

- (1) Easy (2) Joyful
(3) Effortless (4) Difficult

58. 25, 123, 62, 6, ?

- (1) 341 (2) 216
(3) 511 (4) 218

59. 297, 135, 501, 189, ?

- (1) 503 (2) 355
(3) 243 (4) 781

SPACE FOR ROUGH WORK

55. નીચેના ચોકઠામાં પ્રશ્નચિહ્નની જગ્યાએ કઈ સંખ્યા આવશે

11	67	17
41	?	47
23	31	5

- (1) 73 (2) 61
(3) 59 (4) 53

પ્ર. ક. 56 થી 60 માટે સૂચના -

પ્રશ્નની શરૂઆતમા કેટલાક પદો આપેલા છે તેનું સમાન વિશેષતા ધરાવતું એક જૂથ બને છે આ જૂથમાં બંધબેસતું આવે તેવું પદ આપેલા પર્યાયમાંથી શોધો.

56. નૌકાવિહાર, લગ્નકાર્ય, ખેતીવાડી, ?

- (1) શોરબકોર (2) ઉદ્યોગધંધા
(3) કથાકાર (4) સંરચના

57. શત્રુ, દુશ્મન, વેરી, ?

- (1) દોસ્ત (2) દ્વેષ
(3) મિત્ર (4) રિપૂ

58. 25, 123, 62, 6 ?

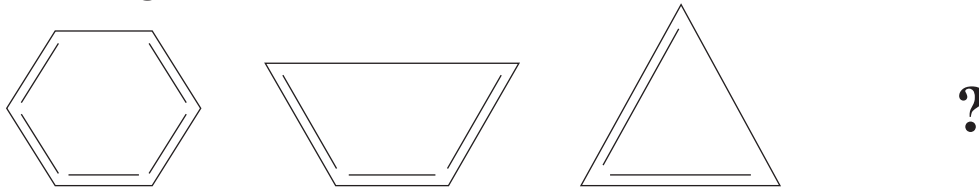
- (1) 341 (2) 216
(3) 511 (4) 218

59. 297, 135, 501, 189 ?

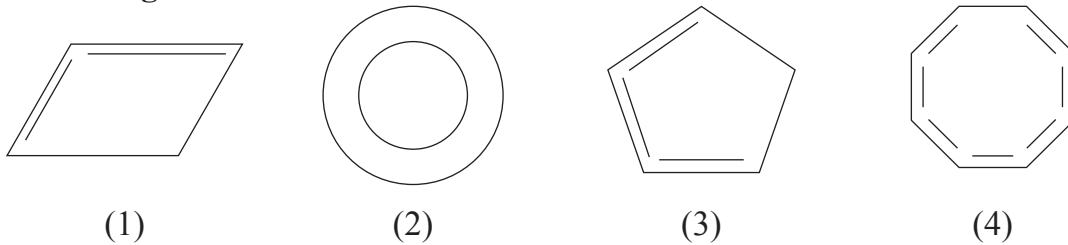
- (1) 503 (2) 355
(3) 243 (4) 781

ફક્ત કાચા કાર્ય માટે

60. Question Figures:




Answer Figures:



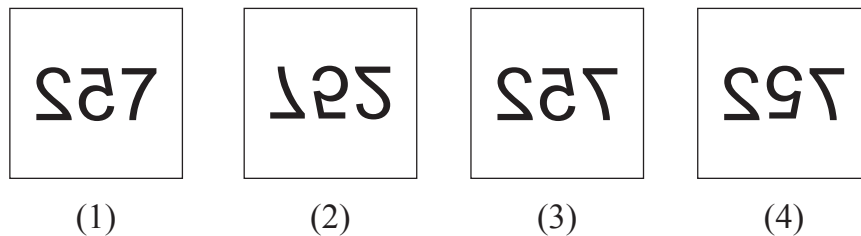
Q. 61 and Q. 62 Direction:

Select the mirror image of the given question figure from the options.

61. Question Figure:

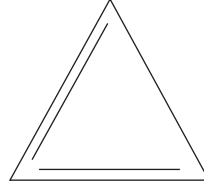
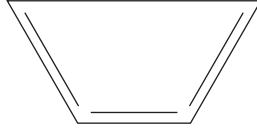
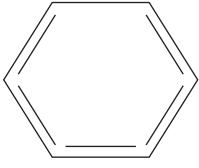


Answer Figures:



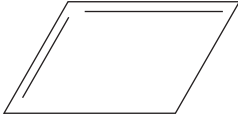
SPACE FOR ROUGH WORK

60. પ્રશ્ન આકૃતિઓ

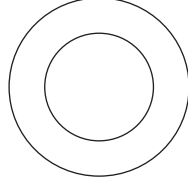


?

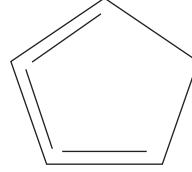
ઉત્તર આકૃતિઓ



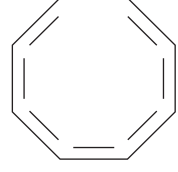
(1)



(2)



(3)



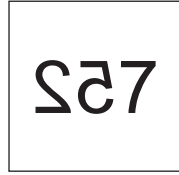

(4)

પ્ર. ક. 61 અને 62 માટે સૂચના -

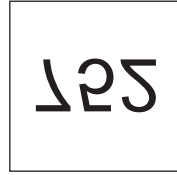
નીચેની પ્રશ્નઆકૃતિની અરિસામાં પ્રતિમા કેવી દેખાશે તે પયર્થી ઉત્તર આકૃતિઓમાંથી નક્કી કરો અને તેનું વર્તુળ રંગો.

61. પ્રશ્ન આકૃતિ

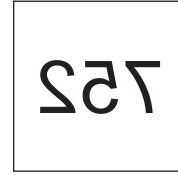
ઉત્તર આકૃતિઓ



(1)



(2)



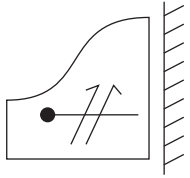
(3)



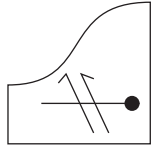
(4)

ફક્ત કાચા કાર્ય માટે

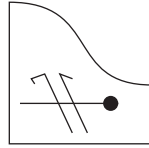
62. Question Figure:



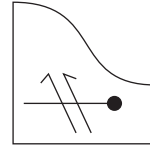
Answer Figures:



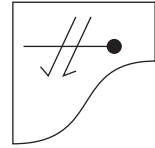
(1)



(2)



(3)

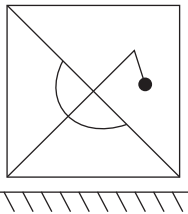


(4)

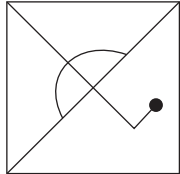
Q. 63 and Q. 64 Direction:

Select the water image of the given question figure from the options.

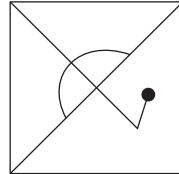
63. Question Figure:



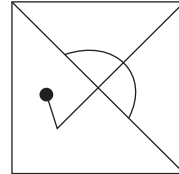
Answer Figures:



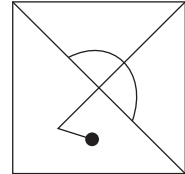
(1)



(2)



(3)



(4)

64. Question Figure:



Answer Figures:



(1)



(2)



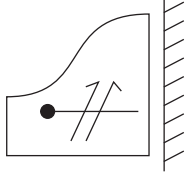
(3)



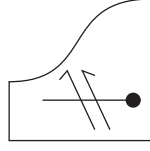
(4)

SPACE FOR ROUGH WORK

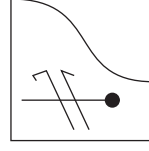
62. પ્રશ્ન આકૃતિ



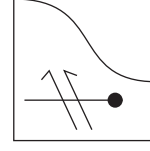
ઉત્તર આકૃતિઓ



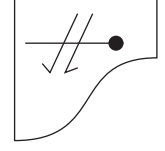
(1)



(2)



(3)

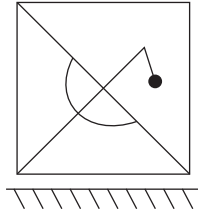


(4)

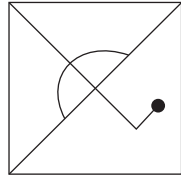
પ્ર. ક. 63 અને 64 માટે સૂચના -

નીચેની પ્રશ્ન આકૃતિનું પાણીમાં પ્રતિબિંબ કેવું દેખાશે તેનો પર્યાયી ઉત્તર આકૃતિમાંથી નક્કી કરો અને તેનું વર્તુળ રંગો.

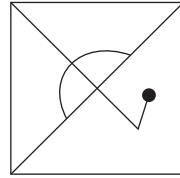
63. પ્રશ્ન આકૃતિ



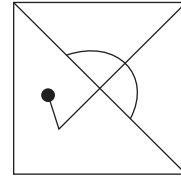
ઉત્તર આકૃતિઓ



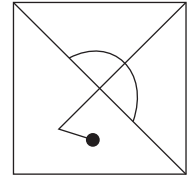
(1)



(2)



(3)



(4)

64. પ્રશ્ન આકૃતિ



ઉત્તર આકૃતિઓ



(1)



(2)



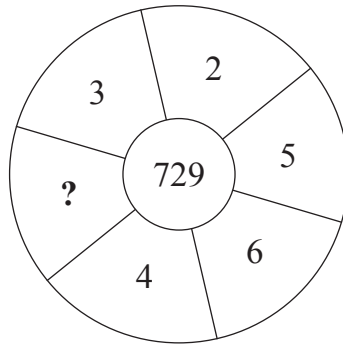
(3)



(4)

ફક્ત કાચા કાર્ય માટે

65. Identify the pattern and select the correct option to replace the question mark.



- (1) 25 (2) 6 (3) 7 (4) 17

Q. 66 and Q. 67 Direction :

Word	BUT	TAP	BAT
Code	△ ● □	▼ △ ☆	△ ☆ ●

In a certain code language, symbols are used for different letters. The sequence of the letters and of the symbols may not necessarily be the same. Observe the code in the above frame and answer the questions.

66. Which symbol is represented by 'U'?

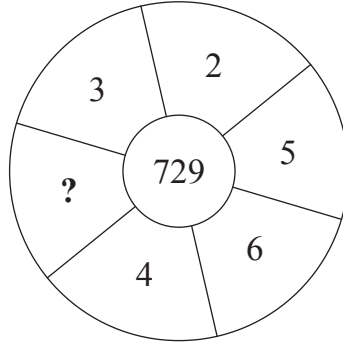
- (1) △ (2) ●
 (3) □ (4) ☆

67. How is 'TOP' written in the given code language?

- (1) △ ● ▼ (2) ▼ ● □
 (3) ☆ △ ▼ (4) △ □ ▼

SPACE FOR ROUGH WORK

65. નીચેની વર્તુળાકૃતિમાં પ્રશ્નચિહ્નની જગ્યાએ કઈ સંખ્યા આવશે તે પર્યાયમાંથી નક્કી કરો.



- (1) 25 (2) 6 (3) 7 (4) 17

પ્ર. ક. 66 અને 67 માટે સૂચના -

શબ્દ	BUT	TAP	BAT
સાંકેતિક રૂપ	△ ● □	▼ △ ☆	△ ☆ ●

ઉપરના કોઠામાં શબ્દમાંના અક્ષરો અને ચિહ્ન નો ક્રમ સરખોજ હશે તેવું નથી, એ ધ્યાનમાં રાખી પ્રશ્ન ક. 66 અને 67 ના ઉત્તરો પર્યાયમાંથી શોધો.

66. 'U' આ અક્ષર માટે કયું ચિહ્ન આવશે?

- (1) △ (2) ●
(3) □ (4) ☆

67. ઉપરની સાંકેતિક ભાષામાં 'TOP' આ શબ્દ કેવી રીતે લખશો.

- (1) △ ● ▼ (2) ▼ ● □
(3) ☆ △ ▼ (4) △ □ ▼

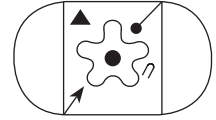
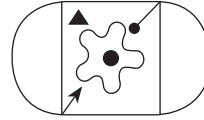
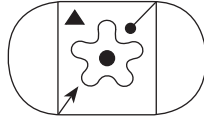
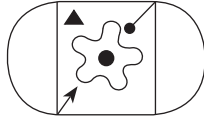
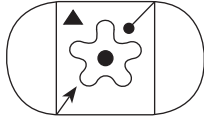
ફક્ત કાચા કાર્ય માટે

Q. 68 and Q. 69 Direction :

Select the identical figure to the question figure from the options.

68. Question Figure :

Answer Figures :



(1)



(2)

(3)

(4)

69. Question Figure :

Answer Figures :



(1)

(2)

(3)

(4)

70. In a certain code language. If CAT = WYE, MEN = MUL and DOG = VKS then how will you write the word which is opposite gender of 'OX'?

(1) KB

(2) WOC

(3) WKC

(4) RBK

71.

ABCDE FGHIJ KLMNO PQRST UVWXY

In the given alphabet series which letter is at the sixth position on the right hand of the letter which is at fourth place to the left of the letter which is ninth from the right hand side of the series?

(1) R

(2) S

(3) G

(4) T

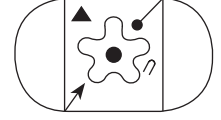
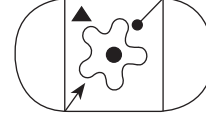
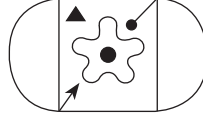
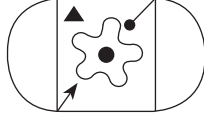
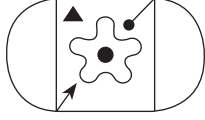
SPACE FOR ROUGH WORK

પ્ર. ક્ર. 68 અને 69 માટે સૂચના -

નીચેની પ્રશ્ન આકૃતિ સાથે બંધબેસતી આકૃતિ પર્યાયી આકૃતિઓમાંથી શોધો.

68. પ્રશ્ન આકૃતિ

ઉત્તર આકૃતિઓ



(1)




(2)

(3)

(4)

69. પ્રશ્ન આકૃતિ

ઉત્તર આકૃતિઓ



(1)

(2)

(3)

(4)

70. એક સાંકેતિક ભાષામાં CAT = WYE, MEN = MUL અને DOG = VKS એમ લખાય. તો તેજ ભાષામાં 'OX' નો વિરુદ્ધ લિંગ દર્શાવતો શબ્દ કેવી રીતે લખશો.

(1) KB

(2) WOC

(3) WKC

(4) RBK

71.

ABCDE FGHIJ KLMNO PQRST UVWXY

ઉપરની અક્ષરમાલિકામાં જમણીબાજુથી નવમા અક્ષરની ડાબી બાજુએ ચોથા અક્ષરની જમણી બાજુએ છઠો અક્ષર કયો?

(1) R

(2) S

(3) G

(4) T

ફક્ત કાચા કાર્ય માટે

A	B	C	D	E	F	G	H	I	J	K	L	M	N	O	P	Q	R	S	T	U	V	W	X	Y
---	---	---	---	---	---	---	---	---	---	---	---	---	---	---	---	---	---	---	---	---	---	---	---	---

72.

Letters	C	M	D	K	L	W	N	R	P
Numbers	7	8	5	4	2	9	6	0	3

Observe the given table and solve.

$$D + W \div P - (N + L) = ?$$

- (1) R (2) P (3) L (4) N

73. Purva is facing the south-east direction and she turns to her left two times at right angle and does Shirshasan. (up side down, with head down and legs up) which direction is pointed by her right hand?

- (1) South-west (2) North-east (3) South-east (4) North-west

74. You see an injured sparrow on your way to school. What will be your immediate action?

- (1) I will loudly call my friends.
(2) I will neglect the baby sparrow.
(3) I will inform the Head-master of my school about the incident.
(4) I will serve water from my water bottle and shift the sparrow to a safe place.

75. Whose action from the following is the most correct action?

- (1) Raju collected all the garbage from the varanda and burnt it.
(2) Sameer threw the wet garbage in the dustbin.
(3) Sameedha collected all the garbage from her house in a bag.
(4) Suresh converted wet garbage into manure.

SPACE FOR ROUGH WORK

A	B	C	D	E	F	G	H	I	J	K	L	M	N	O	P	Q	R	S	T	U	V	W	X	Y
---	---	---	---	---	---	---	---	---	---	---	---	---	---	---	---	---	---	---	---	---	---	---	---	---

72.

અક્ષરો	C	M	D	K	L	W	N	R	P
અંક	7	8	5	4	2	9	6	0	3

ઉપરના કોડાનું નિરીક્ષણ કરી

$$D + W \div P - (N + L) = \text{કેટલા ?}$$

- (1) R (2) P (3) L (4) N

73. અગ્નિ દિશામાં મોઢું કરી ઊભી રહેલી પૂર્વા બે વખત ડાબી બાજુએ કાટખૂણે વળી અને તેણીએ શીર્ષાસિન કર્યું તો તેનો જમણો હાથ કઈ દિશા તરફ હશે?

- (1) નૈઋત્ય (2) ઈશાન
(3) અગ્નિ (4) વાયવ્ય

74. તમે શાળામાં જતા હોય તે રસ્તાપર ચકલીનું બચ્ચું તરફડતું હોય તો તમે તરત શું કરશો?

- (1) બૂમો પાડીને મિત્રોને બોલાવશો
(2) બચ્ચા તરફ ધ્યાન જ નહિ આપો
(3) ઉપરની ઘટના શાળાના પ્રાચાર્યને જણાવશો
(4) પોતાની બાટલીમાનું પાણી બચ્ચાને પીવડાવી સુરક્ષિત જગ્યાએ મૂકશો.

75. નીચેનામાંથી કોની કૃતિ સૌથી વધારે યોગ્ય હશે?

- (1) રાજૂએ આંગણાંમાનો કચરો ભેગો કરી બાળી નાખ્યો.
(2) સમીરે ભીનો કચરો કચરા પેટીમાં નાખ્યો.
(3) સમિધાએ ઘરનો કચરો એકજ ડબ્બામાં ભેગો કર્યો.
(4) સુરેશે ભીના કચરામાંથી ખાતર તૈયાર કર્યું.

ફક્ત કાચા કાર્ય માટે

SPACE FOR ROUGH WORK